

تم تحميل هذا الملف من موقع المناهج العُمانية



* للحصول على أوراق عمل لجميع الصفوف وجميع المواد اضغط هنا

<https://almanahj.com/om>

* للحصول على أوراق عمل لجميع مواد الصف الثامن اضغط هنا

<https://almanahj.com/om/8>

* للحصول على جميع أوراق الصف الثامن في مادة اجتماعيات ولجميع الفصول, اضغط هنا

<https://almanahj.com/om/8social>

* للحصول على أوراق عمل لجميع مواد الصف الثامن في مادة اجتماعيات الخاصة بـ الفصل الأول اضغط هنا

<https://almanahj.com/om/8social1>

* لتحميل كتب جميع المواد في جميع الفصول للـ الصف الثامن اضغط هنا

<https://almanahj.com/om/grade8>

للتحدث إلى بوت على تلغرام: اضغط هنا

https://t.me/omcourse_bot

سلطنة عمان
وزارة التربية والتعليم
المديرية العامة للتربية والتعليم / محافظة شمال الباطنة
قسم العلوم الانسانية / وحدة الجغرافيا
مدرسة بلقيس للتعليم الأساسي (٥-٩)

اختبار تدريبي للصف الثامن
للعام الدراسي ١٤٤٠ / ١٤٤١ هـ - ٢٠١٩ / ٢٠٢٠ م
المادة: الدراسات الاجتماعية

- زمن الامتحان : ساعة ونصف ● عدد صفحات أسئلة الامتحان: (٦)
● الإجابة في الدفتر نفسه .

		اسم الطالب
الصف		المدرسة

التوقيع بالاسم		الدرجة		السؤال
المصحح الثاني	المصحح الأول	بالحروف	بالأرقام	
				١
				٢
				٣
				٤
مراجعة الجمع	جمعه			المجموع
				المجموع الكلي

أجب عن جميع الأسئلة الآتية:

السؤال الأول: ضع دائرة حول رمز الإجابة الصحيحة من بين المفردات المعطاة ..

١- الإقليم الجغرافي الذي يمتد بين دائرتي عرض ١٨-٣٠ شمال دائرة الاستواء وجنوبها:

أ- الاستوائي ب- البحر المتوسط ج- الصحراوي د- الموسمي

٢- تجمعات من بخار الماء المتكاثف في طبقات الجو العليا على شكل جزئيات صغيرة باستطاعة الهواء حملها :

أ- السحب ب- الندى ج- الضباب د- التكاثف

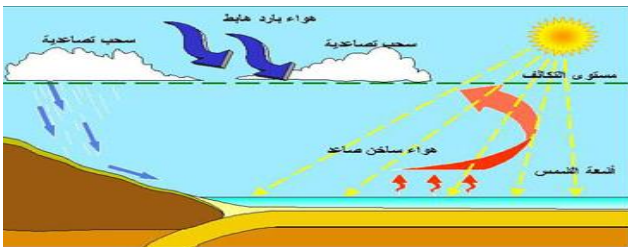
٣- المدينة التي أرسل لها الامام أحمد بن سعيد ابنه على رأس الاسطول لنجدها:

أ- دمشق ب- البصرة ج- المدينة المنورة د- بغداد

٤- أحد هؤلاء الأشخاص تم رفض قبول ترشحه لعضوية مجلس الشورى لعدم استيفاء شرط العمر (بالسنوات):

أ- أحمد ٢٩ ب- علي ٣٠ ج- محمد ٣١ د- حسن ٣٢

٥- الشكل المقابل يشير إلى طريقة تكون الأمطار :



أ- الإعصارية

ب- التصاعدية

ج- التضاريسية

د- الموسمية

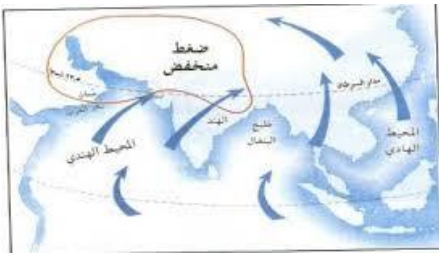
٦- ميناء فارسي استأجرته حكومة السيد سعيد بن سلطان مقابل مبلغ مالي سنوي :

أ- بندر عباس ب- بوشهر ج- لنجا د- هرمز

٧- صدر النظام الأساسي للدولة بموجب مرسوم سلطاني في العام الميلادي :

أ- ١٩٩٤ ب- ١٩٩٥ ج- ١٩٩٦ د- ١٩٩٧

٨- تمثل الخريطة المقابلة أحد أنواع الرياح :



أ-اليومية

ب-الموسمية

ج-المحلية

د-التجارية

٩- الصورة الصحيحة الدالة على الأموال العامة للدولة :



د-



ج-



ب-



أ-

١٠- قلعة اتخذها السيد سعيد بن سلطان منزلا ريفيا له :

د-الرستاق

ج-نخل

ب-بركاء

أ-بيت الفلج

١١- يرجع تاريخ بدء الرصد الجوي المنتظم في سلطنة عمان إلى العام الميلادي :

د-١٩٤٣

ج-١٩٤٢

ب-١٩٤١

أ-١٩٤٠

١٢- الرقم الصحيح الذي يشير للعاصمة الثانية للسيد سعيد بن سلطان في شرقي أفريقيا :



أ- ١

ب- ٢

ج- ٣

د- ٤

السؤال الثاني:

أجب عن الأسئلة التالية :

أ- استبدل العبارات التالية بالمفهوم/ المصطلح المناسب :

١- حركة المياه السطحية للبحار والمحيطات الناتجة عن مجموعة من العوامل مثل الرياح. ()

٢- ظواهر مناخية تحدث نتيجة انخفاض الضغط الجوي بشدة وتنشأ فوق المحيطات المدارية الدافئة ()

٣- جهاز إداري يتولى فرض الرسوم وتحصيلها على البضائع الواردة إلى موانئ الدولة ()

ب - علل ما يلي :

١- دفء محافظة مسقط شتاء.

٢- رغبة كلا من فرنسا وبريطانيا اقامة علاقات دولية مع عمان في عصر دولة البوسعيد.

٣- أهمية التعليم للدولة.

ج - دلل على ما يلي :

١- تأثير عامل الارتفاع على المناخ.

٢- وجود علاقات دولية بين عمان والولايات المتحدة الأمريكية مع مطلع القرن التاسع عشر الميلادي .



السؤال الثالث:

أ- ادرس الخريطة المقابلة جيدا ثم أجب عن الأسئلة التالية :



- ١- ما اسم الاقليم الجغرافي الذي تمثله الخريطة ؟
- ٢- ما الرقم الذي يشير إلى دولة تشيلي التي يظهر فيها هذا الاقليم ؟
- ٣- أين يتمثل مناخ هذا الاقليم في سلطنة عمان ؟

ب - (يعد عصر السيد سعيد بن سلطان الفترة الذهبية في التاريخ العماني الحديث) في ضوء هذه العبارة أجب عما يلي :

- ١- اكتب اثنين من الصفات التي اتصف بها السيد سعيد بن سلطان ،
- ٢- من المنجزات المعمارية التي شيدها السيد سعيد بن سلطان في كل من :

عمان	شرقي أفريقيا
- حصن	- قصر

ج- أجب عن الأسئلة التالية :

- ١- ضع الأعوام التالية في مكانها الصحيح في الجدول التالي : (١٨٣٩م ، ١٨٤٤م)

اتفاقية السيد سعيد بن سلطان التجارية مع بريطانيا	اتفاقية السيد سعيد بن سلطان التجارية مع فرنسا

٢- عدد اثنين فقط من أهمية التنظيم الإداري في الدولة .

.....
.....

السؤال الرابع:

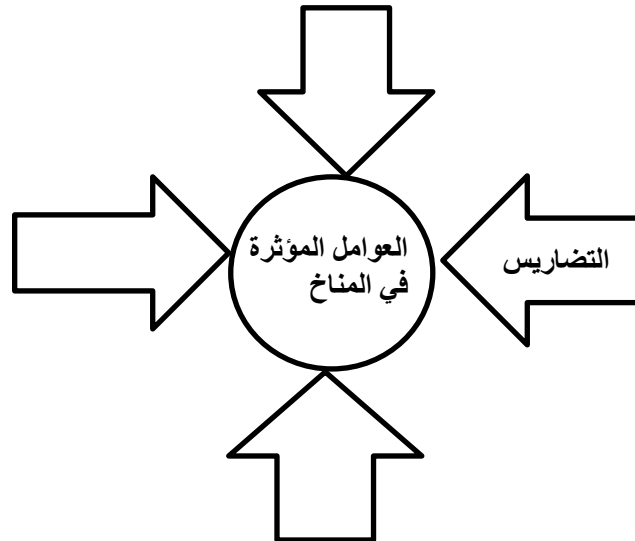
أ- أكمل جدول المقارنة التالي بين مجلس الشورى ومجلس الدولة :

مجلس الدولة	مجلس الشورى	وجه المقارنة
		سنة التأسيس
		طريقة الحصول على العضوية

ب- اكتب اثنين من التأثيرات الحضارية التي خلفها العمانيون في شرقي أفريقيا .

.....
.....

ج- أكمل المخطط الذهني التالي الذي يوضح العوامل المؤثرة في توزيع المناخ على سطح الأرض كما في المثال.



6

السؤال الخامس :

أ- اكتب ثلاثة من :

١- المبادئ الموجهة لسياسة الدولة كما نص عليها النظام الأساسي .

.....
.....
.....

٢- الأبواب التي يتكون منها النظام الأساسي للدولة .

.....
.....
.....

ب- ما المنجزات التي تنسب إلى السيد برغش بن سعيد في شرقي افريقيا في المجالات التالية :

- ١- المعماري.....
٢- الثقافي.....

ج- انسب الأجهزة التالية في الجدول المقابل إلى العنصر المناخي الذي تقيسه :

العنصر المناخي	الجهاز
	١- الباروجراف
	٢- الأنيمومتر
	٣- الترمومتر الزئبقي
	٤- آلهيجرومتر

٦

انتهت الأسئلة مع الدعاء للجميع بالتوفيق والنجاح.

إعداد المعلمة : شيخة الشبلية

سلطنة عمان

وزارة التربية والتعليم

المديرية العامة للتربية والتعليم / محافظة شمال الباطنة

نموذج اجابة اختبار تدريبي في مادة الدراسات الاجتماعية للصف الثامن ٢٠١٩/٢٠٢٠م

السؤال الأول (مجموع الدرجات ١٢ درجة):

رقم المفردة	١	٢	٣	٤	٥	٦	٧	٨	٩	١٠	١١	١٢
الاجابة	ج	أ	ب	د	ب	أ	ج	ب	ج	أ	ج	أ
الاجابة	الصحراوي	السحب	البصرة	٢٩ سنة	التصاعدية	بندر عباس	١٩٩٦	الموسمية	الطرق	بيت الفلج	١٩٤٢	رنجبار
الدرجة	١	١	١	١	١	١	١	١	١	١	١	١
الصفحة	٤٤	٣٩	٥٦	٩٦	٣٩	٧١	٨٥	٣٣	٩٠	٦٨	١٨	٦٠

السؤال الثاني

رقم المفردة	الإجابة	الدرجة	الصفحة
أ			
-١	التيارات البحرية .	١	١٦
-٢	الأعاصير.	١	٣٦
-٣	الجمرك.	١	٦٥
ب			
-١	بسبب مرور مدار السرطان عليها .	١	١٤
-٢	نظرا لرغبة هذه الدول في حماية سفنها واتخاذ مسقط مركزا للحفاظ على مصالحهما التجارية .	١	٧٢
-٣	التعليم ركن أساسي لتقدم المجتمع ويهدف إلى تلبية متطلبات الخطط الاقتصادية والاجتماعية للدولة . (بما يفيد المعنى)	١	٨٨
ج			
-١	قانون الارتفاع : كلما ارتفعنا عن سطح البحر ١٥٠ متر انخفضت درجة الحرارة درجة سيليزية واحدة .	١	١٥
-٢	الاتفاقية التجارية بين عمان والولايات المتحدة الأمريكية سنة ١٨٣٢م وكذلك رحلة السفينة العمانية سلطنة زمن السيد سعيد بن سلطان إلى الولايات المتحدة الأمريكية عام ١٨٤٠م . (يكتفى بدليل)	١	٧٦
		المجموع	٨
السؤال الثالث:			
أ			
-١	اقليم البحر المتوسط .	١	٤٨
-٢	٣	١	
-٣	الجبل الأخضر	١	
تابع /			

		السؤال الثالث:
٦٠	١	ب- ١- التواضع / اتباع الشورى في الحكم / الذكاء / ذو عقلية تجارية / دبلوماسية محنكا . (يكتفى باثنين لكل نصف درجة)
٦٩ و ٦٠	١	٢- حصن البريمي قصر المتوني أو قصر بين الساحل (لكل نصف درجة)
٧٣	١ لكل نصف	٣- اتفاقية السيد سعيد بن سلطان التجارية مع بريطانيا اتفاقية السيد سعيد بن سلطان التجارية مع فرنسا ١٨٣٩ م ١٨٤٤ م
٨٢-٨١	٢	ج- يحدد الجوانب الادارية للخدمات التي تقدمها الدولة للمواطن . يساعد على استغلال الوقت في تنفيذ الاعمال ومتابعتها . يعزز الجوانب الابداعية في العمل الجماعي المشترك . يفتح مجالات الابداع والتفكير في العمل . يمكن من وضع رؤية مستقبلية للأعمال . (يكتفى باثنين لكل درجة)
	المجموع ٨	
		السؤال الرابع:
		أ- وجه المقارنة مجلس الشورى مجلس الدولة
٩٦	٢ لكل نصف درجة	١- سنة التأسيس ١٩٩١ م ١٩٩٧ م
٧٥-٧٤	١ لكل نصف درجة	ب- ٢- طريقة الحصول على العضوية الانتخابات وترشيح المواطنين تعيين بمرسوم سلطاني
		ج- انتشار الاسلام في شرقي أفريقيا . تأثر اللغة السواحلية بالمفردات العربية انتشار بعض العادات والتقاليد العمانية مثل الزي والمجالس والسبلة . تطور الحياة السياسية والاقتصادية والثقافية لشرقي أفريقيا . (يكتفى بذكر اثنين)
١٣	٢ لكل درجة	ج- العوامل المؤثرة في المناخ:- موقع المكان بالنسبة لدوائر العرض الغطاء النباتي -التيارات البحرية -القرب أو البعد عن المسطحات المائية (يكتفى بذكر ثلاثة عوامل)
	المجموع ٦	
٨٧	١ ونصف	السؤال الخامس: أ- المبادئ السياسية . -المبادئ الاقتصادية

	لكل نصف درجة	-المبادئ الاجتماعية -المبادئ الثقافية -المبادئ الأمنية (يكتفى بذكر ثلاثة فقط لكل نصف درجة)	-١
٨٦	١ ونصف لكل نصف درجة	-الباب الأول :الدولة ونظام الحكم -الباب الثاني : المبادئ الموجهة -الباب الثالث:الحقوق والواجبات -الباب الرابع :رئيس الدولة -الباب الخامس: مجلس عمان -الباب السادس: القضاء -الباب السابع : أحكام عامة (يكتفى بذكر ثلاثة فقط لكل نصف درجة)	-٢
٦٧ و ٦٩	١ لكل نصف درجة	المجال العمراني تشييد قصر بيت العجائب . المجال الثقافي تأسيس المطبعة السلطانية .	ب -١ -٢
٢٠			-٣
٢١			
٢٥	٢ لكل نصف درجة		
٢٧			
	المجموع ٦		
	مجموع درجات الاختبار ٤٠		

١- الباروجراف	الضغط الجوي
٢- الأنيمومتر	الرياح
٣- الترمومتر الزئبقي	الحرارة
٤- الهيجرومتر	الرطوبة