

شكراً لتحميلك هذا الملف من موقع المناهج العمانية



نموذج أسئلة الاختبار الرسمي (جنوب الباطنة)

[موقع المناهج](#) ⇨ [المناهج العمانية](#) ⇨ [الصف الثامن](#) ⇨ [اجتماعيات](#) ⇨ [الفصل الأول](#) ⇨ [الملف](#)

تاريخ نشر الملف على موقع المناهج: 08:33:43 2023-01-10

التواصل الاجتماعي بحسب الصف الثامن



روابط مواد الصف الثامن على تلغرام

[الرياضيات](#)

[اللغة الانجليزية](#)

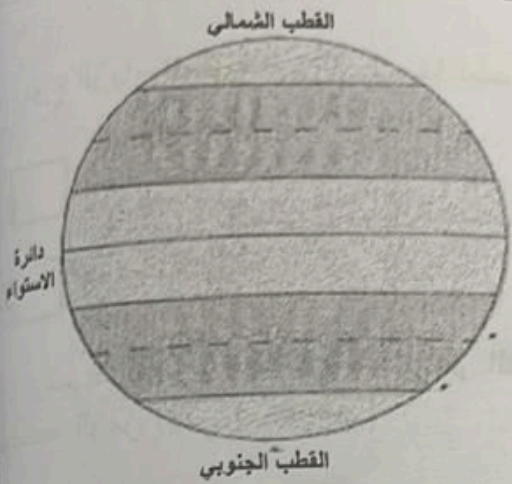
[اللغة العربية](#)

[التربية الاسلامية](#)

المزيد من الملفات بحسب الصف الثامن والمادة اجتماعيات في الفصل الأول

اختبار نهائي رسمي في محافظة جنوب الباطنة	1
اختبار نهائي رسمي في محافظة شمال الباطنة	2
اختبار نهائي رسمي في محافظات مسقط وشمال وجنوب الشرقية والداخلية ومسندم والوسطى	3
أسئلة موضوعية ومقالية لدرس المنجزات الحضارية لدولة البوسعيد مع نماذج الإجابة	4
مذكرة إثرائية سؤال وجواب في الوحدة الثالثة	5

تابع السؤال الخامس: الحرارة التآلية في مكاتها الصحيح في الشكل:



الخيار (أ) المنطقة الحارة

الخيار (ب) المنطقة المعتدلة الجنوبية

الخيار (ج) المنطقة المعتدلة الشمالية

الخيار (د) المنطقة الباردة الشمالية

ثالثاً: انبش الشخصيات العمانية حسب الانجاز الذي قامت به في الجدول الآتي:
(الإمام سلطان بن مرشد/ السيد بر غش بن سعيد / السيد سعيد بن سلطان / أحمد بن النعمان الكعبي)

العمل	الشخصية العمانية التاريخية
بنى قصر بيت العجائب في زنجبار.	١
اتخذ من زنجبار عاصمة ثانية لإمبراطوريته.	٢
قاد مقاومة العمانيين ضد الفرس في صحار.	٣
مبعوثاً للولايات المتحدة عام ١٨٤٠ م.	٤

٦

انتهت الأسئلة مع الدعاء للجميع بالتوفيق والنجاح.

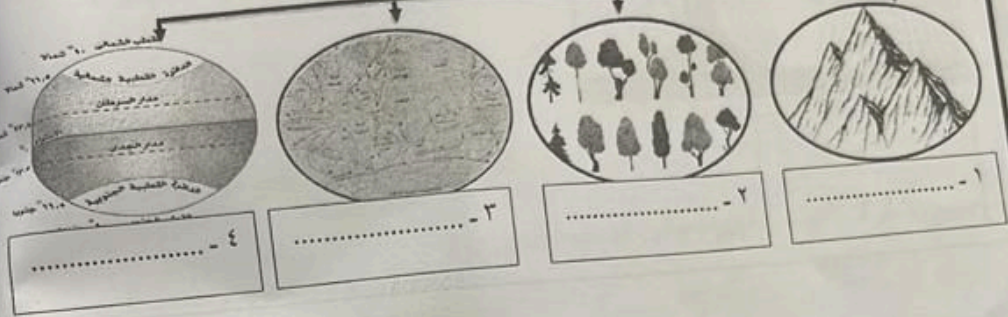
(٥)

امتحان الصف الثامن المادة: الدراسات الاجتماعية - الفصل الدراسي الأول - الدور الأول
للعام الدراسي ١٤٤٣ / ١٤٤٤ هـ - ٢٠٢٢ / ٢٠٢٣ م

تابع السؤال الثاني:

٣ - أكمل المخطط الآتي بكتابة الإجابة الصحيحة في الفراغ.

العوامل المؤثرة في الطقس و المناخ



السؤال الثالث: أجب عن الأسئلة التالية:

أولاً:

قرأ عمر المادة (١٣) من النظام الأساسي للدولة، فوجد في بنودها ما يلي:
(التعليم ركن أساسي لتقدم المجتمع، ترعاه الدولة، وتوسع لنشره وتعميمه، يهدف إلى رفع المستوى الثقافي، وتنمية التفكير العلمي ومهارة البحث، وإيجاد جيل قوي في بنيته وأخلاقه، يعتز بأتمته ووطنه وتراثه ويحافظ على إنجازاته)
١ - في أي باب من أبواب النظام الأساسي للدولة قرأ عمر هذه المادة؟

٢ - استخرج من النص أهمية التعليم للفرد.

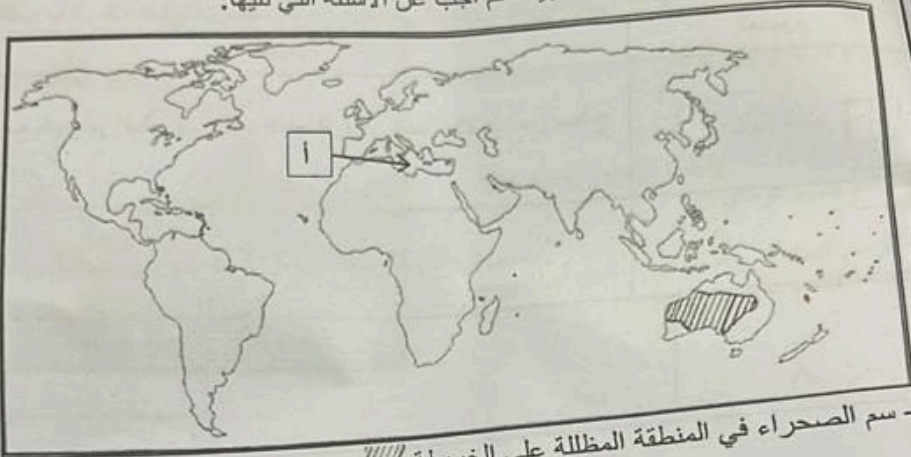
٣ - ما دورك كطالب علم في مجال التعليم؟

يتبع ٦/

(٦)
امتحان الصف الثامن المادة: الدراسات الاجتماعية - الفصل الدراسي الأول - الدور الأول
للعام الدراسي ١٤٤٣ / ١٤٤٤ هـ - ٢٠٢٢ / ٢٠٢٣ م

تابع السؤال الثالث :

ثانياً: أمامك خريطة العالم، ادرسها جيداً، ثم أجب عن الأسئلة التي تليها:



- ١ - سم الصحراء في المنطقة المظلمة على الخريطة //.....
٢- نوع الإقليم المناخي في المناطق المظلمة على المسطح المائي المشار إليه بالرمز (١)
.....

ثالثاً:

١ - صنف الصادرات والواردات الآتية (الكافور- اللؤلؤ- البخور- الأرز) المتبادلة في عهد السيد سعيد بن سلطان بين الهند وعمان:

من عمان (الصادرات)	من الهند (الواردات)
.....

(٧)

امتحان الصف الثامن المادة: الدراسات الاجتماعية - الفصل الدراسي الأول - الدور الأول
للعام الدراسي ١٤٤٣ / ١٤٤٤ هـ - ٢٠٢٢ / ٢٠٢٣ م

تابع السؤال الثالث:

تأليف السؤال الثالث:
٢ - اكتب مقابل كل عبارة من العبارات الواردة في الجدول الآتي المفهوم الدال عليها:

العبارة	المفهوم
أ- تجمع كبير من قطرات الماء المتطايرة في الجو بالقرب من سطح الأرض.	
ب- رأي الآخرين ومشورتهم في أمور تخص الدولة والمجتمع.	

٨

السؤال الرابع: أجب عن الأسئلة التالية:

أولاً:

قارن بين مجلس الشورى ومجلس الدولة من حيث:

المجلس	سنة الإنشاء	كيفية اختيار الأعضاء
مجلس الشورى
مجلس الدولة

ثانياً: فسر ما يلي:

أ- سقوط الأمطار في محافظة ظفار في فصل الصيف.

ب- ارتبطت عمان بعلاقات حسنة مع الدولة العثمانية.

يتبع

(٢)
امتحان الصف الثامن المادة: الدراسات الاجتماعية - الفصل الدراسي الأول - الدور الأول
للعام الدراسي ١٤٤٣ / ١٤٤٤ هـ - ٢٠٢٢ / ٢٠٢٣ م

تابع / السؤال الأول

٥- الجدول الصحيح الذي يوضح الأعمال الداخلية للإمام أحمد بن سعيد :

نقل العاصمة إلى مسقط
أوجد رجال الشرطة
شيد حصن البريمي

(ب)

اتخذ الرستاق عاصمة له
أوجد رجال الشرطة
شيد حصن البريمي

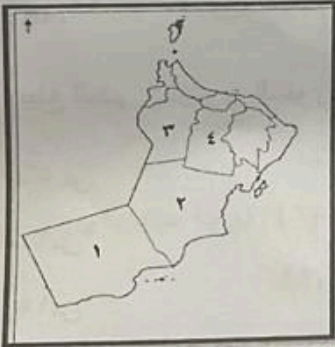
(أ)

اتخذ الرستاق عاصمة له
أوجد رجال الشرطة
أخضع جزيرتي قشم وهرمز

(د)

اتخذ الرستاق عاصمة له
أوجد رجال الشرطة
أرسى القواعد الإدارية والقضائية في البلاد

(ج)



٦ - في الخريطة المقابلة الرقم الذي يشير على المحافظة العمانية التي بدأ فيها أول رصد جوي منتظم"

ب - ٢

أ - ١

د - ٤

ج - ٣

٧ - المعلم الحضاري الذي تمثله الصورة المقابلة:

ب- بيت البركة

أ- قصر المتوني

د- قصر العلم

ج- قصر العجائب



(١)

امتحان الصف الثامن المادة: الدراسات الاجتماعية - الفصل الدراسي الأول - الدور الأول
للعام الدراسي ١٤٤٣ / ١٤٤٤ هـ - ٢٠٢٢ / ٢٠٢٣ م

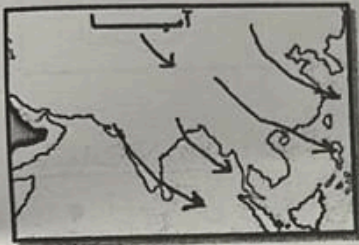
أجب عن جميع الأسئلة الآتية

السؤال الأول: ضع دائرة حول رمز الإجابة الصحيحة لكل مفردة من المفردات الآتية:

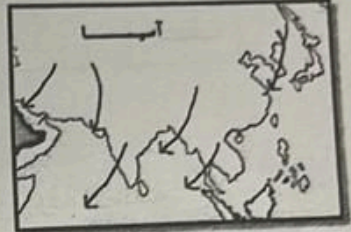
١. الإقليم المناخي الذي يتميز بسقوط أشعة الشمس عليه بصورة مائلة، واختلاف طول الليل والنهار بين الصيف والشتاء:

أ- الاستوائي ب- القطبي البارد ج- الموسمي د- البحر المتوسط


٢ - الخريطة الصحيحة التي توضح اتجاه الرياح الموسمية التي تتأثر بها قارة آسيا في فصل الشتاء:



ج-



أ-



د-



ب-

٣ - رقم الباب في النظام الأساسي للدولة الذي يتضمن نظام الحكم سلطاني قائم على أساس العدل والشورى والمساواة:

أ- الأول

ب- الثاني

ج- الثالث

د- الرابع

٤ - الدولة التي عقدت اتفاقاً مع السيد سعيد بن سلطان في العام الميلادي ١٨٣٩ م:

فرنسا

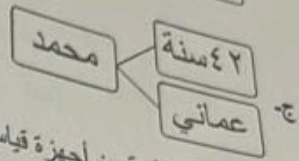
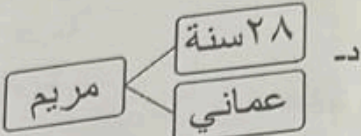
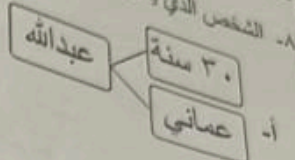
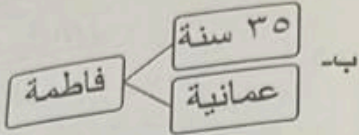
ب- بريطانيا

ج- الولايات المتحدة

د- الهند

تابع / السؤال الأول:

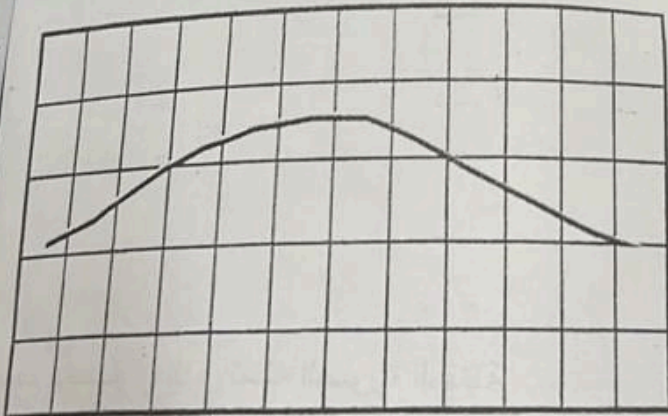
٨- الشخص الذي يحق له العضوية في مجلس الدولة:



٩- جميع الأجهزة الآتية من أجهزة قياس الضغط الجوي ما عدا:
أ- الباروجراف ب- البارومتر
ج- المايكروباروجراف د- الترمومتر

١٠- الرقم الصحيح للمرسوم السلطاني الذي صدر بموجبه النظام الأساسي للدولة:
أ- ٩٩/١٠١ ب- ٩٨/١٠١
ج- ٩٧/١٠١ د- ٩٦/١٠١

١١- يبلغ المدى الحراري السنوي في مسقط حسب الشكل المقابل:



- أ- ٥°س
- ب- ١٠°س
- ج- ١٥°س
- د- ٢٠°س

يناير فبراير مارس أبريل مايو يونيو يوليو أغسطس سبتمبر أكتوبر نوفمبر ديسمبر

امتحان الصف الثامن المادة: الدراسات الاجتماعية - الفصل الدراسي الأول - الدور الأول
للعام الدراسي ١٤٤٣ / ١٤٤٤ هـ - ٢٠٢٢ / ٢٠٢٣ م

(٨)

السؤال الرابع:
أمامك شكل لأحد أنواع الرياح اليومية، ادرسها ثم أجب عن الأسئلة الآتية:
نوع الرياح اليومية التي توضحها الصورة:



نسيم الجبل

(اختر الإجابة الصحيحة)

نسيم الوادي

٢ - ارسم اتجاه الرياح بشكل صحيح في الشكل
مستخدماً الرمز الآتي. (→)



السؤال الخامس: أجب عن الأسئلة التالية:

أولاً:

١- أمامك خريطة لشبه الجزيرة العربية، ادرسها جيداً، ثم أجب عن الأسئلة التي تليها:



أ- ارسم على الخريطة خط سير
سفينة الرحمانى لنجدة البصرة.

ب- سمى مسطحين مانين مرت بهما الحملة:

١ -

٢ -