

تجميع اختبارات نهائية لمادة الدراسات الاجتماعية



تم تحميل هذا الملف من موقع المناهج العمانية

موقع فايلاتي ← المناهج العمانية ← الصف الثامن ← اجتماعيات ← الفصل الثاني ← ملفات متنوعة ← الملف

تاريخ إضافة الملف على موقع المناهج: 2026-06-07 18:10:14

ملفات اكتب للمعلم اكتب للطالب | الاختبارات الكترونية | اختبارات | حلول | عروض بوربوينت | أوراق عمل
منهج انجليزي | ملخصات وتقارير | مذكرات وبنوك | الامتحان النهائي للمدرس

المزيد من مادة
اجتماعيات:

إعداد: خالد بن سالم الجابري

التواصل الاجتماعي بحسب الصف الثامن



صفحة المناهج
العمانية على
فيسبوك

المزيد من الملفات بحسب الصف الثامن والمادة اجتماعيات في الفصل الثاني

الوجيز في الدراسات الاجتماعية	1
ملخص دروس جغرافية مدن سلطنة عمان	2
ملخص النهضة الأوروبية	3
مقارنة بين الولايات من حيث المؤسسات في عصر النهضة حسب المجال	4
توزيع درجات مادة العلوم	5



تجميع إختبارات نهائية

العام الدراسي 2025\2026

مادة الدراسات الاجتماعية (الصف الثامن)



تجميع : خالد بن سالم الجابري

(معلم مادة العلوم 5,6 في تميز أكاديمي)

أستاذ خالد



تميز أكاديمي



أرقام التواصل

76941321 76696447 77144048



امتحان مادة الدراسات الاجتماعية للصف الثامن
الفصل الدراسي: الثاني - الدور الأول (الفترة الصباحية)
للعام الدراسي ١٤٤٦ / ١٤٤٧ هـ - ٢٠٢٤ / ٢٠٢٥ م

■ عدد صفحات أسئلة الامتحان: ٦ صفحات	■ زمن الامتحان: ساعة ونصف
■ الدرجة الكلية للامتحان: ٤٠	■ الإجابة في دفتر الأسئلة نفسه.
	■ تُكتب الإجابة بالقلم الأزرق أو الأسود.

اسم الطالب: _____ الصف: _____

التوقيع بالاسم		الدرجة		السؤال
اسم المراجع	اسم المصحح	بالحروف	بالأرقام	
				أولاً: الأسئلة الموضوعية (١ - ١٢)
				ثانياً: الأسئلة المقالية ١٣
				١٤
				١٥
				١٦
مراجعة الجمع	جمعه			المجموع
				المجموع الكلي

أولاً: الأسئلة الموضوعية:

١٢ درجة

ظلل الشكل (□) المقترن بالإجابة الصحيحة لكل مفردة من المفردات الآتية:

١- المشروع الذي نجحت حكومة سلطنة عمان في استغلاله لسد العجز المائي في محافظة الظاهرة:
 حوض رمال الشرقية حوض المسرات الحوض الجاف حوض النجد

٢- استغرق بناء قلعة نزوى:

١٢ سنة ١٣ سنة ١٤ سنة ١٥ سنة

٣- البطاقة التعريفية الصحيحة التي تصف فلج عين الحمام:

فلج غيلي	<input type="checkbox"/>
مصدره مياه الجريان السطحي	
يقع في نزوى	

فلج عيني	<input type="checkbox"/>
مصدره مياه الجريان السطحي	
يقع في قريات	

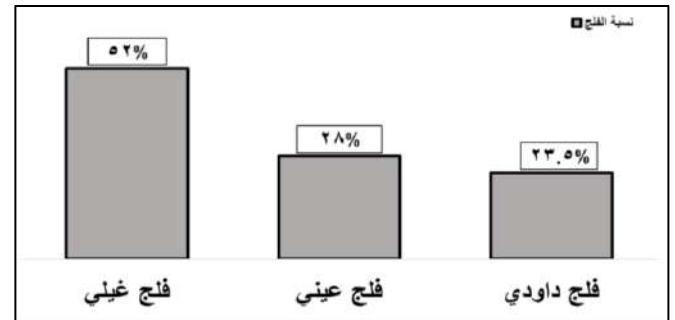

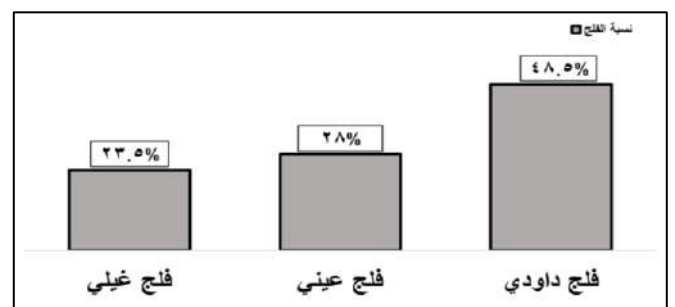
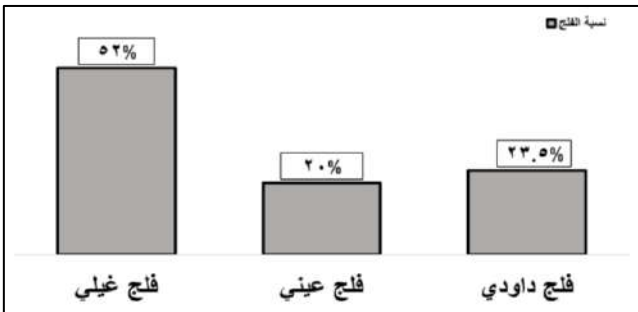
فلج عيني	<input type="checkbox"/>
مصدره مياه العيون والينابيع	
يقع في بوشر	

فلج داودي	<input type="checkbox"/>
مصدره مياه العيون والينابيع	
يقع في الرستاق	

٤- الإمام العماني الذي شيد حصن الحزم:

محمد بن عبدالله سعيد بن سلطان سلطان بن سيف أحمد بن سعيد

٥- الشكل البياني الصحيح لنسبة أنواع الأفلاج في سلطنة عمان:



يتبع ٢/

تابع أولاً: الأسئلة الموضوعية:

٦- الدولة التي بدأت فيها النهضة الأوروبية:

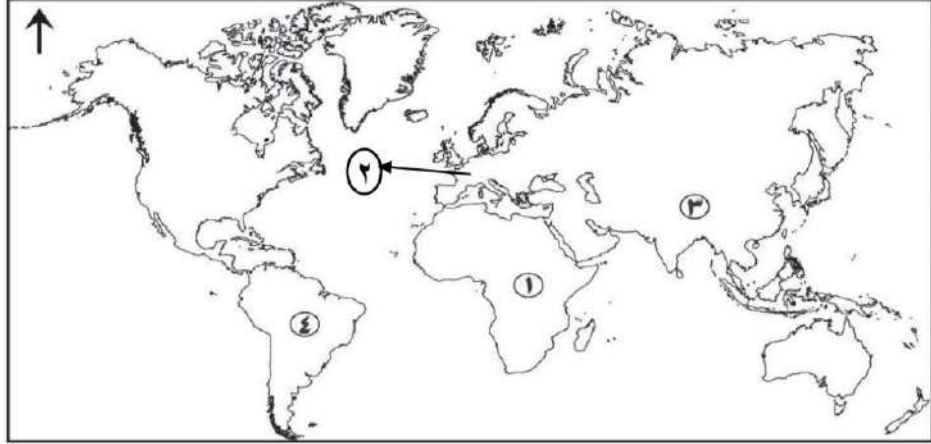
إيطاليا

بريطانيا

أسبانيا

ألمانيا

٧- الرقم الدال على القارة التي أطلق عليها ((العالم الجديد)):



٤

٣

٢

١

٨- المدينة العمانية التي وصفها ابن بطوطة بقوله (ولهذه المدينة بساتين فيها موز كثير، وهو طيب الطعم، وبها أيضاً النارجيل، وقومها أهل تجارة لا عيش لهم إلا منها):

نزوى

ظفار

الرستاق

صحار

٩- القرن الهجري لتاريخ إنشاء جامع البيضاء:

التاسع

الثامن

السابع

السادس


١٠- السفينة العمانية التي خصصت لتنفيذ رحلة بحرية لدراسة طريق الحرير البحري والتجارة القديمة:

سلطنة

صحار

فلك السلامة

الرحماني



١١- الصورة المقابلة توضح إحدى مظاهر تملح المياه:

سوء استخدام المياه

تناقص المياه الجوفية العذبة

زيادة ضخ المياه

تسرب المياه الماحلة إلى الآبار الساحلية

١٢- مخترع آلة الطباعة عام ١٤٤٥م:

جاك كارتيه

يوحنا جوتنبرغ

كريستوفر كولمبو

جيمس واط

ثانيًا: الأسئلة المقالية:

٧ درجات

١٣) ١- اكتب اسم المفهوم الصحيح مقابل كل عبارة في الجدول التالي:

م	العبارة	المفهوم
أ-	تندفع المياه إلى أعلى لعدة أمتار بفعل عاملي الضغط العالي والحرارة، وتأتي هذه المياه من أعماق بعيدة عن مستوى سطح الأرض
ب-	تحويل مادة القطن أو الكتان أو الصوف إلى خيوط
ج -	أحواض مائية داخلية محدودة المساحة محاطة باليابس من جميع الجهات.

١٣) ٢- قارن بين الصورة (١) والصورة (٢) حسب معطيات الجدول أدناه :



(٢)



(١)

الصورة (٢)	الصورة (١)	أوجه المقارنة
ب-.....	أ-.....	نوع النقل
د-.....	ج-.....	أهميته (المميزات)

يتبع/٤

تابع ثانيًا: الأسئلة المقالية:

٧ درجات

١٤(١)- ادرس خريطة أوروبا السياسية الصماء ثم أجب عن ما يليها :



-انسب الاكتشافات الجغرافية للدول الأوروبية، حسب الأرقام الموضحة في الجدول أدناه:

الاكتشاف الجغرافي	إثبات كروية الأرض	اكتشاف أجزاء من أمريكا الشمالية	اكتشاف نهر سانت لويس في كندا	الدوران حول قارة أفريقيا
رقم الدولة الدال عليه	أ-	ب-	ج-	د-

٢-قرأ سالم في مجلة قصة قصيرة عن مدينة الرستاق:

(في أحد الأيام، قرر خالد استكشاف ولاية الرستاق. بدأ جولته في سوق الرستاق، حيث أعجب بازدهار التجارة والنشاط الاقتصادي. بعدها زار المناطق الصناعية التي تضم مشاريع تسهم في تنمية الاقتصاد المحلي. مرَّ أيضًا بجامعة التقنية والعلوم التطبيقية بالرستاق والمدارس التي تعكس الاهتمام بتأهيل الأجيال لخدمة الاقتصاد. وأنهى يومه بزيارة مستشفى الرستاق، مبهورًا بالخدمات الطبية المتقدمة. غادر خالد المكان معجبًا بالتنمية الاقتصادية والحضرية للولاية).

استنادًا إلى النص، صنف المنجزات الحضارية التي تمت الإشارة إليها في القصة وفق المجال الذي تنتمي إليه في الجدول أدناه:

المجال التعليمي والثقافي	المجال الصحي	المجال الاقتصادي
أ-	ب-	ج-

يتبع/٥

٧ درجات

تابع ثانيًا: الأسئلة المقالية:

(١٥) ١- أذكر ما يأتي:

أ- أهمية واحدة للعيون المائية المعدنية الساخنة التي تتمتع بها مدينة الرستاق .

.....

ب- عامل واحد أسهم في قيام النهضة الأوربية.

.....

ج- دليل واحد على ازدهار صحار بصناعة الثياب الجيدة منذ القدم.

.....

(١٥) ٢- أمامك جدول عدد سكان كل ولاية من ولايات محافظة مسقط ادرسه جيداً ثم أجب عن الأسئلة التالية:

الولاية	مطرح	بوشر	السيب	العامرات	مسقط	قريات
عدد سكانها	١٥٠١٢٤	١٩٢٢٣٥	٣٠٢٩٩٢	٥٨٤٠٠	٢٧٢١٦	٤٤٩١١

أ- الولاية التي احتلت المرتبة الثالثة من حيث ارتفاع عدد السكان.

.....

ب- فسر النمو السكاني الكبير لسكان محافظة مسقط في السنوات الأخيرة.

.....

ج- أقل الولايات من حيث عدد السكان.

.....

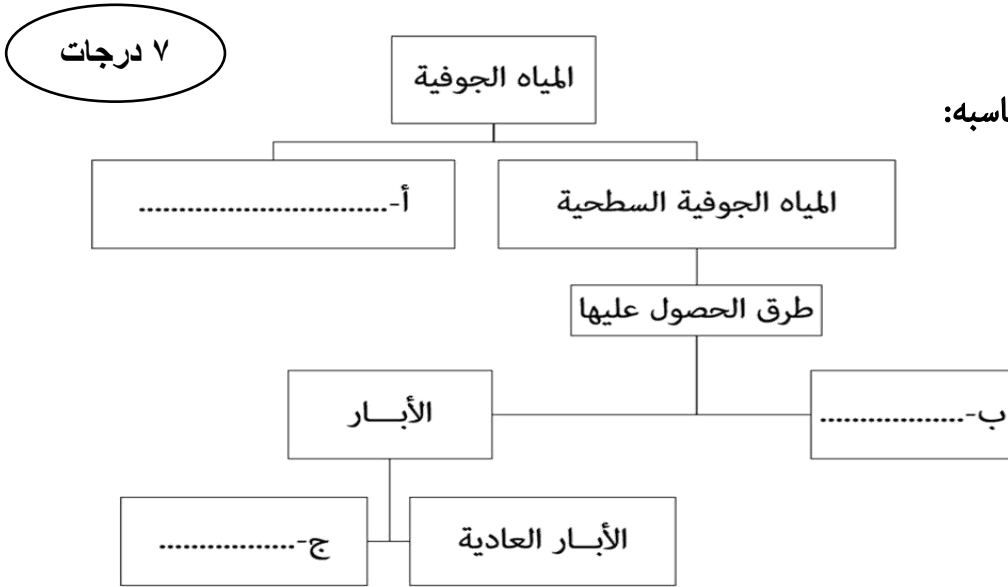
د- عدد سكان ولاية العامرات.

.....

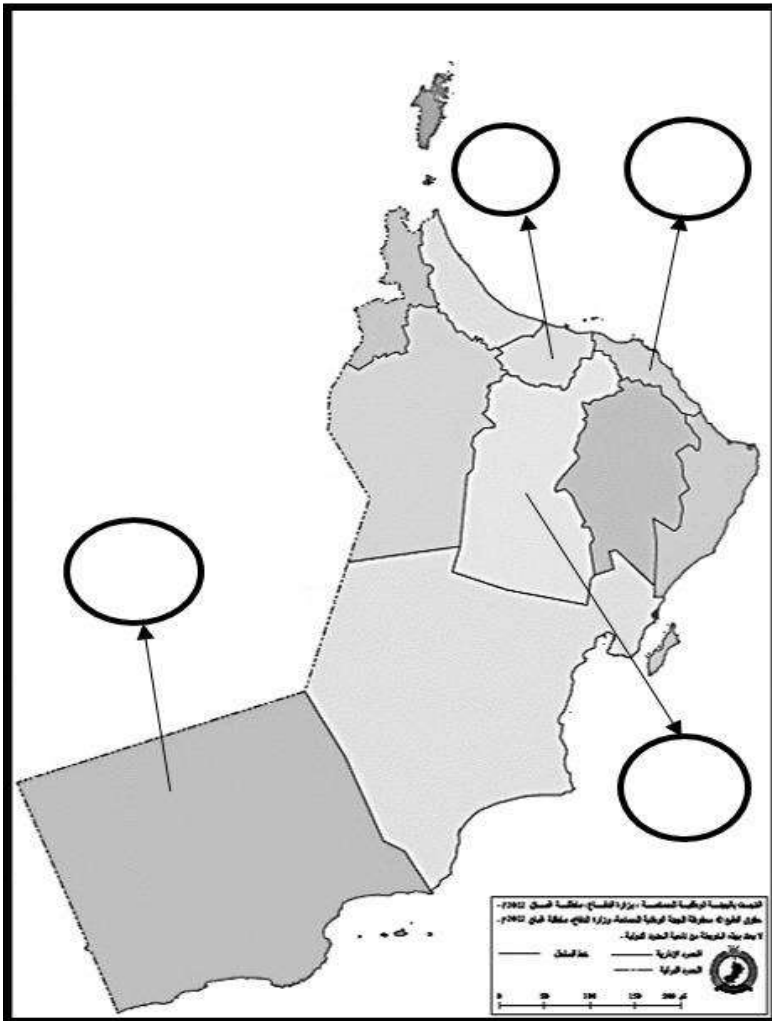
يتبع ٧

تابع ثانيًا: الأسئلة المقالية:

(١٦) ١- أكمل المخطط الآتي بما يناسبه:



(١٦) ٢- اكتب رمز كل صورة من المنجزات الحضارية داخل الدائرة التي تمثل موقعها الصحيح في محافظات سلطنة عمان على الخريطة:




أ



ب



ج



د

انتهت الأسئلة مع الدعاء للجميع بالتوفيق والنجاح



نموذج إجابة امتحان مادة الدراسات الاجتماعية للصف الثامن
الفصل الدراسي الثاني الدور الأول (الفترة الصباحية)
للعام الدراسي ١٤٤٦ / ١٤٤٧ هـ - ٢٠٢٤ / ٢٠٢٥ م

تنبيه: نموذج الإجابة في (٥) صفحات الدرجة الكلية: (٤٠) درجة

أولاً: إجابة الأسئلة الموضوعية (مجموع الدرجات ١٢ درجة)

السؤال	الإجابة	الصفحة	مفتاح التصحيح
١	مشروع حوض المسرات	٣٥	١ - ٠
٢	١٢ سنة	٨٦	١ - ٠
٣	فلج عيني مصدره مياه العيون والينابيع يقع في بوشر	٣٢	١ - ٠
٤	سلطان بن سيف	٩٦	١ - ٠
٥		٣٢	١ - ٠
٦	إيطاليا	٤٥	١ - ٠
٧	٤	٥٨	١ - ٠
٨	ظفار	١٠٩	١ - ٠
٩	السادس	٩٦	١ - ٠
١٠	فلك السلامة	٥٥	١ - ٠
١١	تسرب المياه الماحلة الى الآبار الساحلية	٤٠	١ - ٠
١٢	يوحنا جوتنبرغ	٤٧	١ - ٠

تابع - نموذج إجابة امتحان مادة الدراسات الاجتماعية للصف للثامن للعام الدراسي ٢٠٢٤/٢٠٢٥ م
الفصل الدراسي الثاني - الدور الأول (الفترة الصباحية).

ثانياً: إجابة الاسئلة المقالية: السؤال: ١٣ (مجموع الدرجات ٧ درجات)

السؤال	المفردة	الجزئية	الإجابة الصحيحة	الدرجة	الصفحة
١٣	١	أ	النافورات الحارة	١	١٦
		ب	الغزل	١	٦٤
		ج	البحيرات	١	١٥
	معيار التصحيح		-		
مفتاح التصحيح		١ - ٠			

السؤال	المفردة	الجزئية	الإجابة الصحيحة	الدرجة	الصفحة
١٣	٢	أ	النقل النهري	١	٢٢
		ب	النقل البحري	١	٢٢
		ج	الربط بين الأنهار أو بين الأنهار وروافدها / أو بينها وبين البحار والمحيطات / تشكل طرقاً للمواصلات داخل القارات.	١	٢٢
	د	١- أنه يعد من أرخص أنواع النقل والأكثر اقتصاداً بين وسائل النقل للكميات الكبيرة من العام. التي يتم نقلها من مكان لآخر في وقت واحد، كما أن خطوط الملاحة حرة ولا تحتاج إلى صيانة. ٢- أنه يعد أقل خطورة نظراً لتزود السفن بكثير من الأجهزة الحديثة كالرادار والأجهزة اللاسلكية، وتوفر العديد من الموانئ ومحطات التموين والمراقبة في معظم السواحل.	١	٢٢	
معيار التصحيح		يكتفي الطالب في الجزئية ج و د بذكر أهمية واحدة فقط			
مفتاح التصحيح		١ - ٠			

يتبع / ٣

تابع - نموذج إجابة امتحان مادة الدراسات الاجتماعية للصف للثامن للعام الدراسي ٢٠٢٤/٢٠٢٥ م
 الفصل الدراسي الثاني - الدور الأول (الفترة الصباحية).

تابع ثانيًا : إجابة الاسئلة المقالية: السؤال: ١٤ (مجموع الدرجات ٧ درجات)

الصفحة	الدرجة	الإجابة الصحيحة	الجزئية	المفردة	السؤال
٥٩	١	٣	أ	١	١٤
٥٩	١	٥	ب		
٦٠	١	٢	ج		
٥٧	١	٤	د		
-			معياري التصحيح		
١ - .			مفتاح التصحيح		

الصفحة	الدرجة	الإجابة الصحيحة	الجزئية	المفردة	السؤال
٩٧	١	جامعة التقنية والعلوم التطبيقية بالرساتاق ، المدارس	أ	٢	١٤
٩٧	١	مستشفى الرساتاق	ب		
٩٧	١	سوق رساتاق ، المناطق الصناعية	ج		
يكتفي الطالب بذكر منجز حضاري واحد			معياري التصحيح		
١ - .			مفتاح التصحيح		

تابع - نموذج إجابة امتحان مادة الدراسات الاجتماعية للصف للثامن للعام الدراسي ٢٠٢٤/٢٠٢٥ م
الفصل الدراسي الثاني - الدور الأول (الفترة الصباحية).

تابع ثانيًا : إجابة الاسئلة المقالية: السؤال: ١٥ (مجموع الدرجات ٧ درجات)

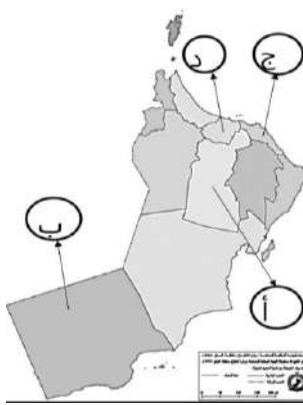
السؤال	المفردة	الجزئية	الإجابة الصحيحة	الدرجة	الصفحة
١٥	١	أ	نظرا لجودة مياه العيون تستخدم للشرب والري والاستشفاء /تشكل مناطق جذب سياحي مهم.	١	٩٨
		ب	١- ظهور المدن وازدهارها . ٢ - ظهور مجتمعات جديدة ومتطورة، شجعت الناس على استخدام قدراتهم العقلية، ٣- ظهور المفكرين والكتاب وتشجيع الملوك والأثرياء الأوروبيين لهم على الإفادة من العلم والمعرفة في الابتكار والتجديد. ٤- الاكتشافات الجغرافية .	١	٤٦
		ج	، ويدل على أهمية الأثواب الصحارية وجودتها ما ذكره ابن هشام « أن رسول الله ﷺ كُفِنَ في ثلاثة أثواب ، ثوبين صحاريين (نسبة إلى صحار)، وَبُرْدٍ حَبْرَةَ .»	١	١٠١
		معيار التصحيح		يكتفي الطالب بذكر واحد	
مفتاح التصحيح		١ - .			

السؤال	المفردة	الجزئية	الإجابة الصحيحة	الدرجة	الصفحة
١٥	٢	أ	مطرح	١	٧٧
		ب	بسب هجرة سكان المحافظات المختلفة إليها بقصد العمل في القطاعين العام والخاص .	١	٧٧
		ج	مسقط	١	٧٧
		د	٥٨٤٠٠		
		معيار التصحيح		-	
مفتاح التصحيح		١ - .			

تابع - نموذج إجابة امتحان مادة الدراسات الاجتماعية للصف للثامن للعام الدراسي ٢٠٢٤/٢٠٢٥ م
 الفصل الدراسي الثاني - الدور الأول (الفترة الصباحية).

تابع ثانيًا : إجابة الاسئلة المقالية: السؤال: ١٦ (مجموع الدرجات ٧ درجة)

الصفحة	الدرجة	الإجابة الصحيحة	الجزئية	المفردة	السؤال
٣٠	١	المياه الجوفية العميقة	أ	١	١٦
٣٠	١	الأفلاج	ب		
٣٤	١	الآبار الارتوازية	ج		
-			معيار التصحيح		
١ - ٠			مفتاح التصحيح		

الصفحة	الدرجة	الإجابة الصحيحة	الجزئية	المفردة	السؤال
٨٦	١		أ	٢	١٦
١١٠	١		ب		
٨١	١		ج		
٩٦	١		د		
-			معيار التصحيح		
١ - ٠			مفتاح التصحيح		

نهاية نموذج الإجابة



امتحان مادة الدراسات الاجتماعية للصف الثامن
الفصل الدراسي: الثاني - الدور الأول (الفترة المسائية)
للعام الدراسي ١٤٤٦ / ١٤٤٧ هـ - ٢٠٢٤ / ٢٠٢٥ م

■ عدد صفحات أسئلة الامتحان: ٨ صفحات	■ زمن الامتحان: ساعة ونصف
■ الدرجة الكلية للامتحان: ٤٠	■ الإجابة في دفتر الأسئلة نفسه.
	■ تكتب الإجابة بالقلم الأزرق أو الأسود.

اسم الطالب: _____ الصف: _____

التوقيع بالاسم		الدرجة		السؤال
اسم المراجع	اسم المصحح	بالحروف	بالأرقام	
				أولاً: الأسئلة الموضوعية (١٢.١)
				ثانياً: الأسئلة المقالية ١٣
				١٤
				١٥
				١٦
مراجعة الجمع	جمعه			المجموع
				المجموع الكلي

١٢ درجة

أولاً: الأسئلة الموضوعية:

ظلل الشكل (□) المقترن بالإجابة الصحيحة لكل مفردة من المفردات الآتية:

١- من أبرز المعالم الأثرية الشاهدة على المكانة التاريخية لمدينة صلالة:
□ رأس الحمراء □ البليد □ بات □ سلوت

٢- الصناعة التي تحتاج إلى ١٤٤٠٠٠ لتراً من الماء لإنتاج طن واحد:
□ الاسمنت □ الورق □ البلاستيك □ الأسمدة

٣- الصورة التي تمثل نظام الري الذي يسبب هدر كميات كبيرة من المياه:



□



□



□



□

٤- المنتجات الأسيوية التي اعتمد عليها الأوروبيون في حفظ اللحوم وصناعة العطور وأدوات التجميل:

□ جوز الطيب → الفلفل → القرفة □ الهيل → القرفة → الفلفل

□ الفلفل → القرفة → الزنجبيل □ الهيل → الفلفل → القرنفل

٥- الجهة التي تقع فيها محافظة مسقط من سلطنة عمان:
□ الشمال الغربي □ الشمال الشرقي □ الجنوب الغربي □ الجنوب الشرقي

يتبع/٢



تابع أولاً: الأسئلة الموضوعية:

٦- الرقم الذي يشير إلى المحافظة التي يوجد بها أقدم محطة تحلية مياه في سلطنة عمان:

١ ٢

٣ ٤

٧- مؤلف كتاب الأمير:

مايكل أنجلو دانتي ميكافيلي ليوناردو دافنشي



٨- المعلم السياحي الواضح أمامك في الشكل:

بوابة مسقط بوابة صحار

بوابة البريمي بوابة نزوى

٩- أول الدول الأوربية التي نجحت في إحداث تقدم واسع في مجال الزراعة:

المانيا بريطانيا إيطاليا فرنسا

١٠- توجد أكاديمية السلطان قابوس لعلوم الشرطة في مدينة:

مسقط صحار نزوى صور

تابع أولاً: الأسئلة الموضوعية:

١١- الشكل الذي أمامك يمثل شكلاً من أشكال المياه الجوفية في الطبيعة:

- البحيرات الينابيع
 الآبار الارتوازية النافورات الحارة



١٢- النياية التي تتبع مدينة الرستاق:

- بركة الموز الحوقين دماء والطائيين حديين

ثانياً: الأسئلة المقالية:

٧ درجات

١٣) ١- ادرس الخريطة التي أمامك، ثم اجب عن الأسئلة التي تليها:

أ- الرقم الذي يشير إلى المحافظة التي يوجد بها حوض المسرات (.....)

ب- الرقم الذي يشير إلى المحافظة التي أنشئت بها أول جامعة خاصة في سلطنة عمان (.....)



ج- ظلل على الخريطة مستخدماً رمز التظليل ////////////// موقع سهل ايتين.




يتبع/٤

تابع ثانيًا: الأسئلة المقالية:

٢- قارن بين الاختراعين اللذين يوضحهما الجدول الآتي:

		الاختراع
ب.....	أ.....	النتيجة المترتبة على اختراعه.



٣- ادرس الشكل الذي أمامك ثم أجب عن الأسئلة التي تليه:

أ- أين يقع هذا المعلم.

.....

ب- اذكر أمثلة على أهم المنتجات الحرفية والصناعات التقليدية التي تباع في هذا السوق.

.....

٧ درجات

١٤) ١- اكتب اسم المفهوم الصحيح مقابل كل عبارة في الجدول التالي:

المفهوم	العبارة	م
.....	المياه المخترزة في باطن الأرض بين مسام الصخور وطبقاته.	أ
.....	قناة اصطناعية تشق في باطن الأرض بين المنطقة الحاملة للمياه وبين المنطقة المعمورة أو المأهولة بالسكان.	ب

يتبع/٥

تابع ثانيًا: الأسئلة المقالية:

٢- ادرس الصورة التي أمامك، ثم أجب عن الأسئلة الآتية:



أ- اسم المعلم التاريخي.

.....

ب- من الإمام العماني الذي بناه؟

.....

٣- انسب المسافات الآتية إلى المدينة المناسبة حسب بعدها عن العاصمة مسقط:
(٢٣٠ كم - ١٠٢٣ كم - ١٤٠ كم)

المدينة	نزوى	صحار	صلالة
مسافة البعد عن العاصمة مسقط	أ-	ب-	ج-

٧ درجات

١٥) ١- علل لما يأتي:

أ- تشكل العيون المائية المعدنية الساخنة مناطق جذب سياحي.

.....
.....

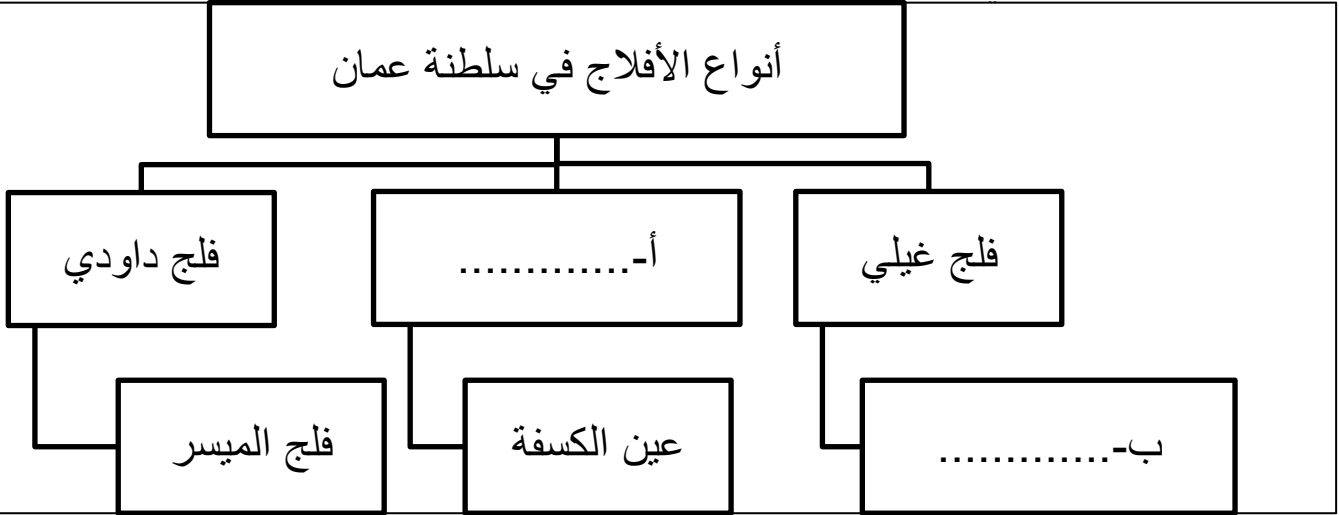
ب- يعد النقل البحري أقل خطورة من وسائل النقل الأخرى.

.....
.....

يتبع/٦

تابع ثانيًا: الأسئلة المقالية:

٢- أكمل المخطط الآتي بما يناسبه.



٣-أ-١- بين أثر الاكتشافات الجغرافية واختراع الطباعة على حياة الأوربيين.

العامل	الأثر على حياة الأوربيين.
الاكتشافات الجغرافية.	أ.....
اختراع الطباعة.	ب.....

٣-أ-٢- اذكر مصدراً واحداً لتلوث المياه.

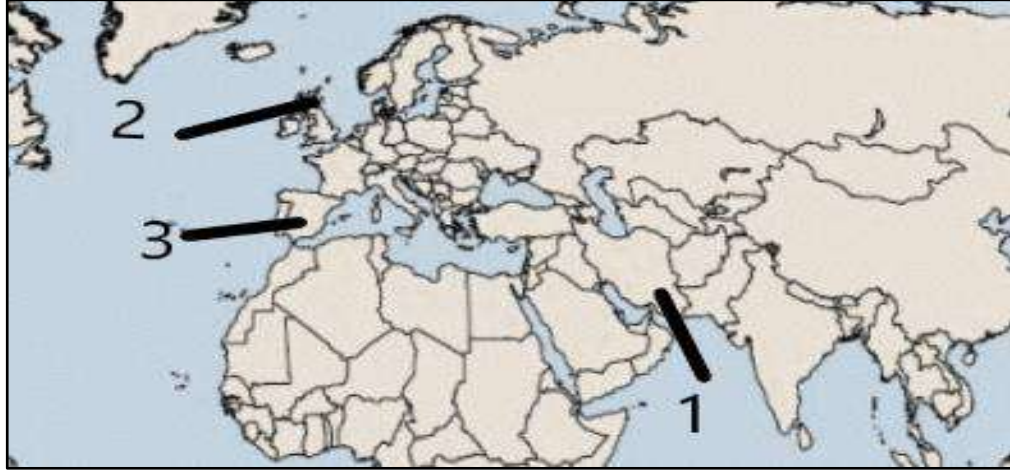
.....
.....
.....
.....

يتبع/٧

٧ درجات

تابع ثانيًا: الأسئلة المقالية:

١٦) ١- أمامك خريطة ، ادرسها جيدا ثم اجب عن الأسئلة التي تليها،
بكتابة الرقم الصحيح.



- أ- حضارة توصلت معها مسقط عبر مضيق هرمز.
(.....)
- ب- الدولة التي بدأت منها الاكتشافات الجغرافية.
(.....)

١٦) ٢- عرف المفاهيم الآتية -

أ- البحيرات



ب- المستنقعات

يتبع / ٨

تابع ثانيًا: الأسئلة المقالية:

١٦- ٣: وضح تأثير الإنجازات الحضارية الإسلامية في البلاد المفتوحة لاسيما إسبانيا وجنوبي إيطاليا.

١٦- ٤- قارن بين الشخصيتين اللتين يوضحهما الجدول الآتي:

		الشخصية وجه المقارنة
أ.....	أسباني	الجنسية.
أجزاء من أمريكا الشمالية	ب.....	المناطق المكتشفة.

انتهت الأسئلة مع الدعاء للجميع بالوفيق والنجاح

نموذج إجابة امتحان مادة الدراسات الاجتماعية للصف الثامن
الفصل الدراسي الثاني الدور الأول (الفترة المسائية)
للعام الدراسي ١٤٤٦ / ١٤٤٧ هـ - ٢٠٢٤ / ٢٠٢٥ م

تنبيه: نموذج الإجابة في (٥) صفحات الدرجة الكلية: (٤٠) درجة

أولاً: إجابة الأسئلة الموضوعية (مجموع الدرجات ١٢ درجة)

السؤال	الإجابة	الصفحة	مفتاح التصحيح
١	البليد	١٠٩	١ - ٠
٢	الورق	٢١	١ - ٠
٣		٢٥	١ - ٠
٤		٥٤	١ - ٠
٥	الشمال الشرقي	٧٠	١ - ٠
٦	١	٣٧	١ - ٠
٧	ميكافيلي	٤٧	١ - ٠
٨	بوابة صحار	١٠٥	١ - ٠
٩	بريطانيا	٦١	١ - ٠
١٠	نزوى	٩١	١ - ٠
١١	النافورات الحارة	١٦	١ - ٠
١٢	الحوقين	٩٥	١ - ٠

تابع - نموذج إجابة امتحان مادة الدراسات الاجتماعية للصف للثامن للعام الدراسي ٢٠٢٤/٢٠٢٥ م
الفصل الدراسي الثاني - الدور الأول (الفترة المسائية)

ثانياً: إجابة الاسئلة المقالية:
السؤال: ١٣ (مجموع الدرجات ٧ درجات)

الصفحة	الدرجة	الإجابة الصحيحة	الجزئية	المفردة	السؤال
٣٥	١	٣	أ	١	١٣
١٠٤	١	١	ب		
١١٤	١		ج		
التظليل يشمل مساحة سهل ايتن بشكل جزئي تقريبي أول كلي.			معيار التصحيح		
١ - ٠			مفتاح التصحيح		
الصفحة	الدرجة	الإجابة الصحيحة	الجزئية	المفردة	السؤال
٦٥	١	تطورت عملية الإنتاج - أصبح العمل أسرع - أكثر إنتاجية- الاستغناء عن الآلات التي تدار بواسطة المساقط المائية	أ	٢	١٣
٦٦	١	مكنت الناس من السفر - نقل البضائع والآلات بسهولة ويسر براً وبحراً.	ب		
الجزئية أ و ب يكتفي الطالب بذكر أي واحد منهما وما يفيد المعنى.			معيار التصحيح		
١ - ٠			مفتاح التصحيح		
الصفحة	الدرجة	الإجابة الصحيحة	الجزئية	المفردة	السؤال
٧٦	١	محافظة مسقط	أ	٣	١٣
٧٦	١	الحلي - أدوات الزينة - الأدوات المنزلية - الفخاريات - المشغولات الفضية والنحاسية - المنسوجات.	ب		
في الجزئية أ في حالة كتابة الطالب مسقط أو محافظة مسقط أو مطرح يعطى الدرجة كاملة. في الجزئية ب يكتفي الطالب بذكر أي واحد منهما وما يفيد المعنى.			معيار التصحيح		
١ - ٠			مفتاح التصحيح		

تابع - نموذج إجابة امتحان مادة الدراسات الاجتماعية للصف للثامن للعام الدراسي ٢٠٢٤/٢٠٢٥ م
الفصل الدراسي الثاني - الدور الأول (الفترة المسائية)

تابع ثانيًا: إجابة الاسئلة المقالية: السؤال: ١٤ (مجموع الدرجات ٧ درجات)

السؤال	المفردة	الجزئية	الإجابة الصحيحة	الدرجة	الصفحة
١٤	١	أ	المياه الجوفية	١	٣٠
			الفلج	١	٣٠
	معيار التصحيح		-		
	مفتاح التصحيح		١ - ٠		

السؤال	المفردة	الجزئية	الإجابة الصحيحة	الدرجة	الصفحة
١٤	٢	أ	قلعة نزوى	١	٨٦
		ب	الإمام سلطان بن سيف الأول	١	٨٦
	معيار التصحيح		-		
	مفتاح التصحيح		١ - ٠		

السؤال	المفردة	الجزئية	الإجابة الصحيحة	الدرجة	الصفحة
١٤	٣	أ	١٤٠ كم	١	٨٣
		ب	٢٣٠ كم	١	٩٩
		ج	١٠٢٣ كم	١	١٠٧
	معيار التصحيح		-		
مفتاح التصحيح		١ - ٠			

يتبع / ٤

تابع - نموذج إجابة امتحان مادة الدراسات الاجتماعية للصف للثامن للعام الدراسي ٢٠٢٤/٢٠٢٥ م
الفصل الدراسي الثاني - الدور الأول (الفترة المسائية)

تابع ثانيًا: إجابة الاسئلة المقالية: السؤال: ١٥ (مجموع الدرجات ٧ درجات)

السؤال	المفردة	الجزئية	الإجابة الصحيحة	الدرجة	الصفحة
١٥	١	أ	يستخدمها الزوار للاستحمام، والاستشفاء، والنزهة	١	٩٨
		ب	لتزود السفن بكثير من الأجهزة الحديثة كالرادار والأجهزة اللاسلكية -وتوفر الموانئ ومحطات التموين المراقبة في معظم السواحل.	١	٢٢
	معياري التصحيح		في الجزئية أ و ب يكتفي الطالب بذكر أي واحد منهما وما يفيد المعنى.		
مفتاح التصحيح			١ - .		

السؤال	المفردة	الجزئية	الإجابة الصحيحة	الدرجة	الصفحة
١٥	٢	أ	عيني	١	٣٢
		ب	فلج المزارع - فلج المعيدن	١	٣٢
	معياري التصحيح		في الجزئية ب يكتفي بذكر واحد منهما، أو أي إجابة صحيحة من بيئة الطالب.		
مفتاح التصحيح			١ - .		

السؤال	المفردة	الجزئية	الإجابة الصحيحة	الدرجة	الصفحة
١٥	١-٣	أ	وسعت معرفة الناس بالأقاليم الأخرى - إثبات كروية الأرض - اكتشاف العالم الجديد.	١	٤٧
		ب	تطور في طباعة الكتب المتعلقة بالعلوم والآداب والفنون - سهل على الكثيرين الاطلاع على العلوم المختلفة وقراءتها ونشرها.	١	٤٧
	٢-٣		الأمطار الحمضية - النباتات والحشائش - المبيدات الحشرية - فضلات المصانع.	١	٢٤
معياري التصحيح		يكتفي الطالب بذكر أي واحد منهما وما يفيد المعنى.			
مفتاح التصحيح			١ - .		

تابع - نموذج إجابة امتحان مادة الدراسات الاجتماعية للصف للثامن للعام الدراسي ٢٠٢٤/٢٠٢٥ م
الفصل الدراسي الثاني - الدور الأول (الفترة المسائية)

تابع ثانيًا: إجابة الاسئلة المقالية: السؤال: ١٦ (مجموع الدرجات ٧ درجة)

السؤال	المفردة	الجزئية	الإجابة الصحيحة	الدرجة	الصفحة
١٦	١	أ	١	١	٧٠
		ب	٣	١	٥٧
	معيار التصحيح		-		
	مفتاح التصحيح		١ - ٠		

السؤال	المفردة	الجزئية	الإجابة الصحيحة	الدرجة	الصفحة
١٦	٢	أ	أحواض مائية داخلية محدودة المساحة محاطة باليابسة من جميع الجهات، ساعد على تكوينها القيعان العميقة المكونة من الصخور الصماء	١	١٥
		ب	مسطحات مائية ضحلة تظهر بصورة دائمة أو مؤقتة تنمو فيها النباتات المائية المتنوعة	١	١٥
	٣	أ	-وفد المفكرين والأدباء والمترجمين من كافة أنحاء أوروبا للعلم والاطلاع من بدائع الكتب والمؤلفات الأدبية والعلمية . -فتح المجال الاهتمام بالدراسات الشرقية في أوروبا ، وانعكس ذلك على اللغات الأوروبية التي دخلتها العديد من المفردات العربية في أسماء بعض الطيور والحيوانات ، وما يرتبط بعلم الفلك والكيمياء والمنسوجات والطب والموسيقى...	١	٤٨
			معيار التصحيح		-
مفتاح التصحيح		١ - ٠			

السؤال	المفردة	الجزئية	الإجابة الصحيحة	الدرجة	الصفحة
١٦	٤	أ	انجليزي	١	٥٩
		ب	ساحل أمريكا الجنوبية	١	٥٨
	معيار التصحيح		يكتفي بما يفيد المعنى		
	مفتاح التصحيح		١ - ٠		

نهاية نموذج الإجابة



امتحان مادة الدراسات الاجتماعية للصف الثامن
الفصل الدراسي: الثاني - الدور الثاني
للعام الدراسي ١٤٤٦/١٤٤٧ هـ - ٢٠٢٤/٢٠٢٥ م

▪ عدد صفحات أسئلة الامتحان: ٧ صفحة	▪ زمن الامتحان: ساعة ونصف
▪ الدرجة الكلية للامتحان: ٤٠ درجة	▪ الإجابة في دفتر الأسئلة نفسه.
	▪ تُكتب الإجابة بالقلم الأزرق أو الأسود.


اسم الطالب: _____ الصف: _____

التوقيع بالاسم		الدرجة		السؤال
اسم المراجع	اسم المصحح	بالحروف	بالأرقام	
				أولاً: الأسئلة الموضوعية (١٢.١)
				ثانياً: الأسئلة المقالية ١٣
				١٤
				١٥
				١٦
مراجعة الجمع	جمعه			المجموع
				المجموع الكلي

١٢ درجة

أولاً: الأسئلة الموضوعية:

ظل الشكل () المقترن بالإجابة الصحيحة لكل مفردة من المفردات الآتية:
الشكل الصحيح الذي يمثل نسبة المئوية للمياه من إجمالي مساحة سطح الأرض:



٢) من خلال خريطة النقل البحري التي أمامك يظهر لنا أن أكثر طرق النقل ازدحاماً

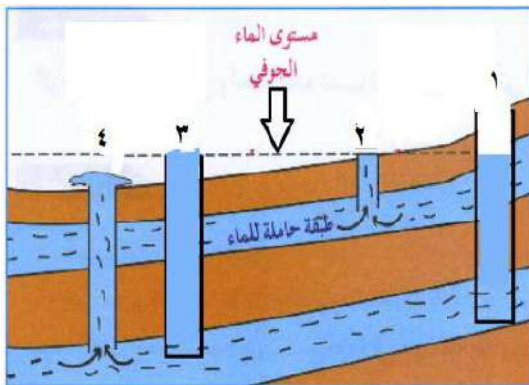


- بالعالم هو طريق:
- المحيط الهندي
 - المحيط الأطلسي
 - قناة بنما
 - المحيط الهادي

٣) الخاصية التي لا يمكن من خلالها التعرف على المياه الملوثة:

- اللون
- الطعم
- الرائحة
- الحجم

٤) الرقم الذي يشير إلى بئر ارتوازي طبيعي يرتفع فيه الماء تلقائياً



- ١
- ٢
- ٣
- ٤

يتبع / ٢

تابع أولاً: الأسئلة الموضوعية:

٥) الجدول الذي يوضح صفات المولدون:

<input type="checkbox"/>
أمهاتهم غير عربيات
لم يعتنقوا الإسلام
تعلموا اللغة العربية

<input type="checkbox"/>
أمهاتهم عربيات
لم يعتنقوا الإسلام
لم يتعلموا اللغة العربية

<input type="checkbox"/>
أمهاتهم غير عربيات
اعتنقوا الإسلام
تعلموا اللغة العربية

<input type="checkbox"/>
أمهاتهم عربيات
اعتنقوا الإسلام
تعلموا اللغة العربية

٦) الجدول الزمني الذي يشير إلى التسلسل الزمني الصحيح للأحداث المرتبطة للكشوفات الجغرافية:

<input type="checkbox"/>	الرحال	كريستوفر كولومبوس	فاسكودي جاما	ماجلان
	سنة الرحلة	١٤٩٢ م	١٤٩٧ م	١٥١٩ م

<input type="checkbox"/>	الرحال	كريستوفر كولومبوس	فاسكودي جاما	ماجلان
	سنة الرحلة	١٤٩٧ م	١٤٩٢ م	١٥١٩ م

<input type="checkbox"/>	الرحال	كريستوفر كولومبوس	فاسكودي جاما	ماجلان
	سنة الرحلة	١٥١٩ م	١٤٩٧ م	١٤٩٢ م

<input type="checkbox"/>	الرحال	كريستوفر كولومبوس	فاسكودي جاما	ماجلان
	سنة الرحلة	١٤٩٢ م	١٥١٩ م	١٤٩٧ م

٧) أدت الثورة الصناعية إلى هجرة أعداد كبيرة من سكان الريف إلى المدينة للعمل في:

الموانئ المزارع المصانع المدارس

يتبع ٣/

تابع أولاً: الأسئلة الموضوعية

٨) أصبحت مدينة مسقط عاصمةً لسلطنة عُمان في العام الميلادي:

- ١٧٨٢ م ١٧٨٤ م ١٧٨٦ م ١٧٨٨ م

٩) الرقمان اللذان يشيران في الجدول الذي أمامك إلى المعلومات الصحيحة عن مدينة نزوى:

م	المعلومات
١	تقع في محافظة الداخلية
٢	تطل على بحر العرب
٣	يوجد بها المتحف الوطني
٤	أطلق عليها تخت العرب

(٣ - ١)

(٤ - ٢)

(٤ - ١)

(٤ - ٣)

١٠) الولاية التي يوجد بها القلعة التي تشير إليها الصورة المقابلة:



نزوى

مسقط

صحار

الرستاق

١١) يروى أن النبي ﷺ كفن في ثلاثة أثواب اثنان منها ينسبان إلى مدينة عُمانية:

صحار

نزوى

الرستاق

مسقط

١٢) الرقم الذي يشير إلى محافظة ظفار في الخريطة الصماء التي أمامك:



١

٢

٣

٤

يتبع/٤

ثانياً: الأسئلة المقالية:

٧ درجات

١٣) ١- قارن بين الثلج والجليد في الجدول الآتي:

المقارنة	الثلج	الجليد
حالة المادة	أ.....	ب.....

٢- اذكر واحداً لكل مما يأتي:

أ- مميزات النقل البحري.

.....

ب- مصادر تلوث المياه.

.....

٣- أ: علل مما يأتي:

١- تسمية مدينة نزوى ببيضة الإسلام في عهد الإمام غسان بن عبد الله.

.....

٢- كثرة القلاع والحصون والأبراج في مدينة مسقط.

.....

٣- ب: صف محافظة ظفار كما وصفها الرحالة ابن بطوطة في مقولته التاريخية.

.....

.....

يتبع / ٥

تابع ثانيًا: الأسئلة المقالية:

٧ درجات

- ١٤) ١- رتب الأحداث التالية من الأقدم إلى الأحدث:
(.....) اكتشاف نهر سانت لويس في كندا من قبل الفرنسي جاك كارتييه.
(.....) غزو الفرنجة لبلدان المشرق الإسلامي (تركيا وبلاد الشام ومصر).
(.....) اختراع أول آلة طباعة تعمل باليد.

٢- اذكر مثلاً واحداً لكل نوع من أنواع السدود المائية التالية:

نوع السد	مثال عليه
التغذية الجوفية	أ-.....
الحماية	ب-.....

٣- أمامك صورة لإحدى سفن الشراعية العُمانية، انظر إليها جيداً ثم اجب عن الأسئلة الآتية:



أ- اسم السفينة التي توضحها الصورة.

.....

ب- بين الغرض من بناء هذه السفينة.

.....

تابع ثانيًا: الأسئلة المقالية:

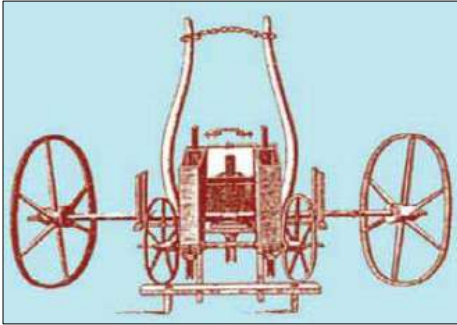
٧ درجات

١- انسب المعالم الحضارية والسياحية الآتية حسب المدينة التي تقع فيها:

(قلعة الجلاي - جبل الأخضر - جبل أتين - حصن الحزم)

المدينة	مسقط	الرستاق	صلالة
المعلم السياحي	أ.....	ب.....	ج.....

٢- ادرس الصورة التي أمامك جيداً، ثم اجب عن الأسئلة الآتية:

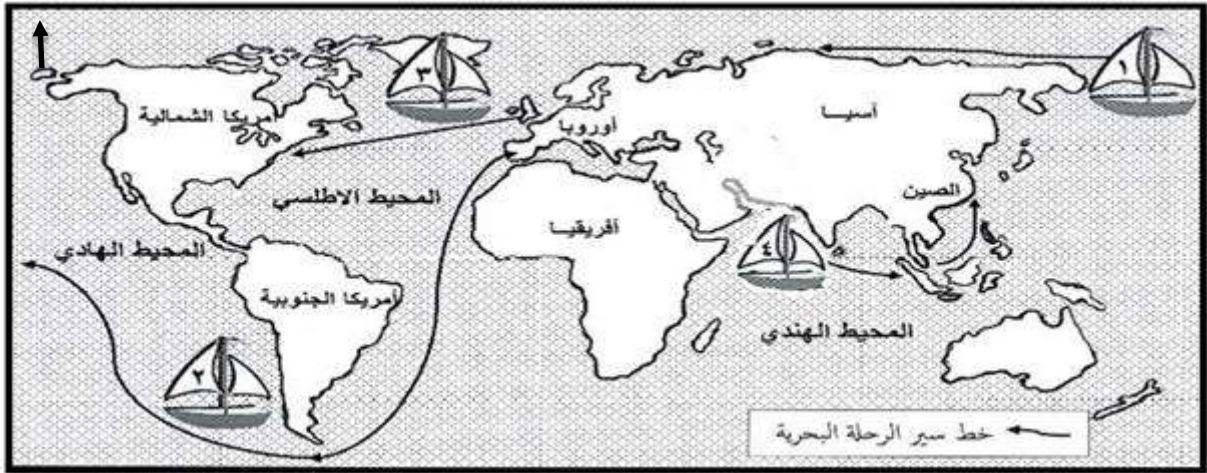


أ- في أي سنة تم اختراع هذه الآلة.....

ب- ما الهدف من اختراع هذه الآلة.

.....
.....

٣- أمامك خريطة العالم ادرسها جيداً، ثم اجب عن الاسئلة التي تليها:



أ- ارسم على الخريطة خط سير رحلة استكشاف فاسكو دي جاما إلى قارة آسيا.

ب- ضع أسفل صورة المستكشف رقم السفينة التي أبحر بها في حركة الكشوفات الجغرافية.



(.....)

يتبع/٧

تابع ثانيًا: الأسئلة المقالية:

٧ درجات

١٦) ١- ادرس الخريطة التي أمامك جيداً، ثم اجب عن الأسئلة الآتية:
أ- ما اسم الحوض المائي الذي يوجد في المحافظة المشار إليها بالرقم (١).



ب- اذكر إحدى الولايات التي يغذيها الحوض الذي يوجد في المحافظة المشار إليها بالرقم (٢).

ج- كيف يتم الكشف عن موقع الأحواض المائية في باطن الأرض.

٢- أكمل البطاقة التعريفية التالية:

المحافظه التي يقع فيها	اسم المعلم	المعالم السياحية
ب.....	أ.....	
د.....	ج.....	

انتهت الأسئلة مع الدعاء للجميع بالتوفيق والنجاح

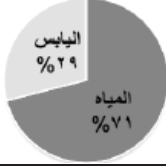
نموذج إجابة امتحان مادة الدراسات الاجتماعية للصف الثامن

الفصل الدراسي الثاني - الدور الثاني

للعام الدراسي ١٤٤٦ / ١٤٤٧ هـ - ٢٠٢٤ / ٢٠٢٥ م

تنبیه: نموذج الإجابة في (٥) صفحات الدرجة الكلية: (٤٠) درجة

أولاً: إجابة الأسئلة الموضوعية (مجموع الدرجات ١٢ درجة)

السؤال	الإجابة	الصفحة	مفتاح التصحيح								
١		١٠	١ - .								
٢	المحيط الأطلسي	٢٣	١ - .								
٣	الحجم	٢٤	١ - .								
٤	٤	٣٤	١ - .								
٥	<table border="1" style="margin: auto; text-align: left;"> <tr> <td>أمهاتهم غير عربيات</td> </tr> <tr> <td>اعتنقوا الإسلام</td> </tr> <tr> <td>تعلموا اللغة العربية</td> </tr> </table>	أمهاتهم غير عربيات	اعتنقوا الإسلام	تعلموا اللغة العربية	٤٨	١ - .					
أمهاتهم غير عربيات											
اعتنقوا الإسلام											
تعلموا اللغة العربية											
٦	<table border="1" style="margin: auto; text-align: center;"> <tr> <td>الرجال</td> <td>كريستوفر كولومبوس</td> <td>فاسكودي جاما</td> <td>ماجلان</td> </tr> <tr> <td>سنة الرحلة</td> <td>١٤٩٢م</td> <td>١٤٩٧م</td> <td>١٥١٩م</td> </tr> </table>	الرجال	كريستوفر كولومبوس	فاسكودي جاما	ماجلان	سنة الرحلة	١٤٩٢م	١٤٩٧م	١٥١٩م	٥٩-٥٧	١ - .
الرجال	كريستوفر كولومبوس	فاسكودي جاما	ماجلان								
سنة الرحلة	١٤٩٢م	١٤٩٧م	١٥١٩م								
٧	المصانع	٦٥	١ - .								
٨	١٧٨٤م	٧٣	١ - .								
٩	(١ - ٤)	٨٣ - ٨٥	١ - .								
١٠	الرستاق	٩٦	١ - .								
١١	صحار	١٠١	١ - .								
١٢	٤	١٠٨	١ - .								

ثانياً: إجابة الاسئلة المقالية:

السؤال: ١٣ (مجموع الدرجات ٧ درجات)

الصفحة	الدرجة	الإجابة الصحيحة	الجزئية	المفردة	السؤال						
١٤	٢	<table border="1"> <tr> <td>المقارنة</td> <td>الثلج</td> <td>الجليد</td> </tr> <tr> <td>حالة المادة</td> <td>أ- هو حالة الماء</td> <td>ب- ثلج متراكم فوق بعضه البعض يتميز بصلابته نتيجة انضغاطه</td> </tr> </table>	المقارنة	الثلج	الجليد	حالة المادة	أ- هو حالة الماء	ب- ثلج متراكم فوق بعضه البعض يتميز بصلابته نتيجة انضغاطه	أ ب	١	
المقارنة	الثلج	الجليد									
حالة المادة	أ- هو حالة الماء	ب- ثلج متراكم فوق بعضه البعض يتميز بصلابته نتيجة انضغاطه									
٢٢	١	يعد من أرخص أنواع النقل والأكثر اقتصاداً بين وسائل النقل - أقل خطورة لتزود السفن بالأجهزة الحديثة كالرادار والأجهزة اللاسلكية - خطوط الملاحة حرة ولا تحتاج إلى صيانة - توفر العديد من الموانئ ومحطات التموين والمراقبة.	أ/٢ ب/٢	٢	١٣						
٢٤	١	المياه الأمطار الحمضية - النباتات والحشائش - المبيدات الحشرية - ما تطرحه المصانع من فضلات.									
يكتفي بما يفيد المعنى في الجزئية ب/١ ويكتفي الطالب بذكر واحد في الجزئية ب/٢			معيار التصحيح								
١ - .			مفتاح التصحيح								
الصفحة	الدرجة	الإجابة الصحيحة	الجزئية	المفردة	السؤال						
٨٥	١	لكثرة دور العلم والعلماء فيها.	١	أ/٣	١٣						
٧٤	١	بهدف حماية المدينة وحراستها.	٢								
١٠٩	١	بها بساتين وموز كثير بها أشجار النارجيل قومها أهل تجارة	ب								
يكتفي بما يفيد المعنى أو بصفة واحدة .			معيار التصحيح								
١ - .			مفتاح التصحيح								

تابع ثانيًا : إجابة الاسئلة المقالية: السؤال: ١٤ (مجموع الدرجات ٧ درجات)

الصفحة	الدرجة	الإجابة الصحيحة	الجزئية	المفردة	السؤال				
٦٠ ٤٨ ٤٧	١ ١ ١	(٣) اكتشاف نهر سانت لويس في كندا من قبل الفرنسي جاك كارتييه. (١) غزو الفرنجة لبلدان المشرق الإسلامي (تركيا وبلاد الشام ومصر). (٢) اختراع أول آلة طباعة تعمل باليد.	١	١	١٤				
٣٠- ٢٩	٢	<table border="1"> <tr> <td>التغذية الجوفية</td> <td>سد وادي تنوف - سد وادي الحواسنة - سد وادي غول - سد وادي الخوض.</td> </tr> <tr> <td>الحماية</td> <td>سد وادي الجزى - سد وادي الفليج - سد وادي الأنصب.</td> </tr> </table>	التغذية الجوفية	سد وادي تنوف - سد وادي الحواسنة - سد وادي غول - سد وادي الخوض.	الحماية	سد وادي الجزى - سد وادي الفليج - سد وادي الأنصب.	أ/٢ ب/٢	٢	
التغذية الجوفية	سد وادي تنوف - سد وادي الحواسنة - سد وادي غول - سد وادي الخوض.								
الحماية	سد وادي الجزى - سد وادي الفليج - سد وادي الأنصب.								
يكتفي بذكر واحد في الجزئية ب			معيار التصحيح						
١ - .			مفتاح التصحيح						

الصفحة	الدرجة	الإجابة الصحيحة	الجزئية	المفردة	السؤال
١٠٣	١	سفينة صحار.	أ		
١٠٣	١	للإبحار بها إلى ميناء كانتون لتكون رحلة مشابهة لرحلات العُمانيين في القرون الماضية.	ب	٣	١٤
يكتفي بما يفيد المعنى في الجزئية ٢			معيار التصحيح		
١ - .			مفتاح التصحيح		

تابع - نموذج إجابة امتحان مادة الدراسات الاجتماعية للصف للثامن للعام الدراسي ٢٠٢٤/٢٠٢٥ م
الفصل الدراسي الثاني - الدور الثاني

تابع ثانيًا : إجابة الاسئلة المقالية: السؤال: ١٦ (مجموع الدرجات ٧ درجة)

الصفحة	الدرجة	الإجابة الصحيحة	الجزئية	المفردة	السؤال
٣٥	١	حوض رمال الشرقية.	أ	١	١٦
	١	ولاية عبري - ضنك - ينقل.	ب		
	١	عن طريقة وسائل التكنولوجيا الحديثة (الأقمار الصناعية).	ج		
يكتفي بذكر واحد في الجزئية ب			معيار التصحيح		
١ - ٠			مفتاح التصحيح		

الصفحة	الدرجة	الإجابة الصحيحة	الجزئية	المفردة	السؤال
٨٦ ٧٥	٤ لكل جزئية درجة واحدة	اسم المعلم	أ/٢	٢	١٦
		المحافظة التي يقع فيها	ب/٢		
		الداخلية	ج/٢		
		مسقط	د/٢		
-			معيار التصحيح		
١ - ٠			مفتاح التصحيح		

نهاية نموذج الإجابة



امتحان مادة: الدراسات الاجتماعية
للصف: الثامن

للعام الدراسي ١٤٤٥ هـ - ٢٠٢٣/٢٠٢٤ م
الدور الأول - الفصل الدراسي الثاني

- زمن الامتحان: (ساعة ونصف) ● عدد صفحات أسئلة الامتحان: (٦) صفحات.
- الإجابة في الدفتر نفسه.

اسم الطالب	
الصف	المدرسة

التوقيع بالاسم		الدرجة		السؤال
المصحح الثاني	المصحح الأول	بالأرقام	بالحروف	
				١
				٢
				٣
				٤
				٥
مراجعة الجمع	جمعه			المجموع
				المجموع الكلي

أجب عن جميع الأسئلة الآتية

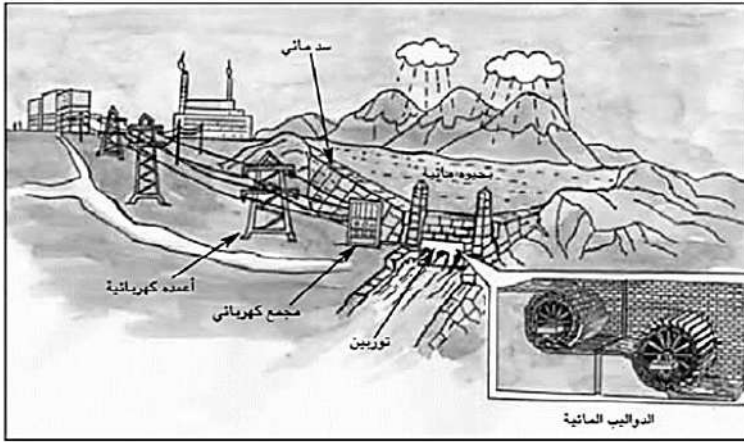
السؤال الأول: ضع دائرة حول رمز الإجابة الصحيحة لكل مفردة من المفردات الآتية:

١٢

١- النسبة المئوية التي تشكلها المياه من سطح الأرض:

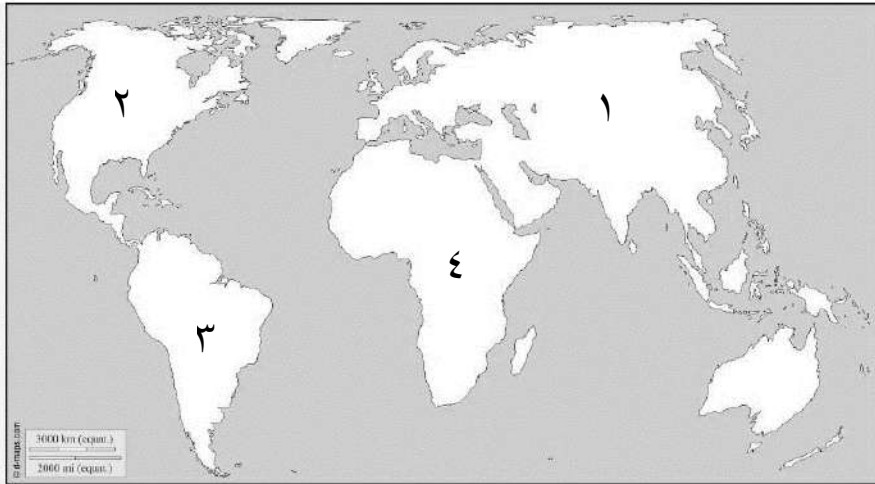
- أ- ٥١ ب- ٦١ ج- ٧١ د- ٨١

٢- مصدر المياه الذي يُستغل لتوليد الطاقة الكهربائية الموضّح في الشكل المقابل:



- أ- الأنهار.
ب- الأفلاج.
ج- البحار.
د- العيون.

٣- الرقم الذي يشير إلى القارة التي ستواجه فيها ٢٥ دولة عجزًا مائيا بحلول عام ٢٠٢٥ م حسب إحصاءات الأمم المتحدة، في الخريطة المقابلة:



- أ- ١
ب- ٢
ج- ٣
د- ٤

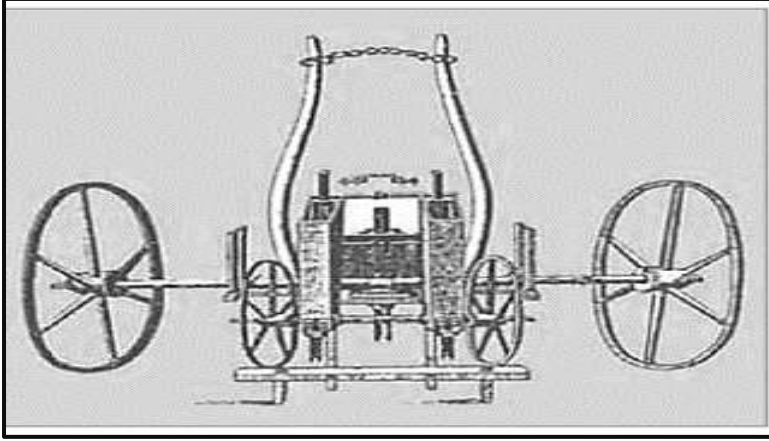
٤- الولاية العمانية التي يوجد بها وادي ضيقة:

- أ- العامرات. ب- الرستاق. ج- نزوى. د- قريات.
٥- العالم المسلم الذي ترجم كتابه القانون وانتشر في معظم المؤسسات العلمية الأوروبية:
أ- ابن سينا. ب- الزهراوي. ج- ابن رشد. د- الرازي.

تابع/السؤال الأول:

- ٦- الدولة التي ينسب إلى أحد أقاليمها مفهوم الآبار الإرتوازية:
أ- إيطاليا. ب- ألمانيا. ج- فرنسا. د- بريطانيا.

٧- الغرض من اختراع الآلة في الشكل المقابل:




- أ- بذر الحبوب.
ب- نسج الملابس.
ج- حصاد القمح.
د- توليد الكهرباء.

٨- السيد الذي اتخذ مسقط عاصمة لعمان عام ١٧٨٤م:

- أ- حمد بن سعيد البوسعيدي.
ب- سعيد بن سلطان البوسعيدي.
ج- سعيد بن أحمد البوسعيدي.
د- سلطان بن أحمد البوسعيدي.

٩- المعلم الأثري العماني الموضح في الصورة المقابلة:



- أ- حصن جبرين.
ب- قلعة بهلا.
ج- حصن الحزم.
د- قلعة نزوى.

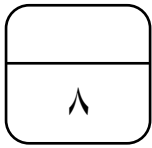
١٠- الجامع الذي بني داخل قلعة الرستاق في القرن السادس الهجري:

- أ- الشوادنة. ب- البيضاء. ج- اليعاربة. د- النصر.

يتبع/٣

تابع/السؤال الأول:

- ١١- الولاية التي تعد المركز الإقليمي لمحافظة شمال الباطنة:
أ- السويق. ب- صحار. ج- صحم. د- شناص.
١٢- المدينة العمانية التي وصف ابن بطوطة سكانها بعبارة " وقومها أهل تجارة لا عيش لهم الا منها":
أ- نزوى. ب- الرستاق. ج- صلالة. د- مسقط.



السؤال الثاني: أولاً: عرف ما يأتي:

١- الغطاءات الجليدية:

.....

٢- طريق الحرير البحري:

.....

ثانياً: اكتب نتيجة واحدة لكل مما يأتي:

١- تملح المياه الجوفية في ساحل الباطنة.

.....

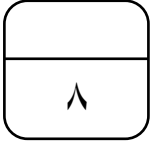
٢- تلوث المياه.

.....

ثالثاً: قارن بين شكلي الأفلاج العمانية حسب الجدول الآتي:

شكل الفلج	وجه المقارنة
	فترة جريانه
	النسبة المئوية من مجموع أفلاج سلطنة عمان

السؤال الثالث:



أولاً: اكتب المفهوم الدال على العبارات الآتية:

م	العبرة	المفهوم
١	قناة اصطناعية تشق في الأرض بين المنطقة الحاملة للمياه والمنطقة المأهولة بالسكان.	
٢	أحواض مائية داخلية محدودة المساحة محاطة باليابسة من جميع الجهات.	
٣	إنشاءات هندسية لتخزين مياه الأودية.	

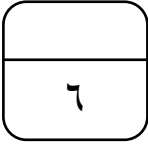
ثانياً: رتب الأحداث التاريخية الآتية من الأقدم إلى الأحدث باستخدام الأرقام (١-٢-٣-٤):

اكتشاف الإنجليز أجزاء من أمريكا الشمالية.
وصول أول مجموعة أوروبية إلى أمريكا الجنوبية.
دوران ماجلان حول أمريكا الجنوبية.
إنشاء البرتغاليين مدرسة للبحارة وبناء السفن.

ثالثاً: انسب الشخصيات بين القوسين إلى الإنجازات التي قامت بها وفق المعطيات في الجدول التالي:

(ماجلان – جاك كارتية – فاسكودي جاما)

م	الإنجازات	الشخصية
١	الوصول إلى الهند.	
٢	إثبات كروية الأرض.	
٣	اكتشاف نهر سانت لويس في كندا.	



السؤال الرابع:


أولاً: اكتب واحداً لكل مما يأتي:

١- عوامل قيام النهضة الأوروبية.

.....

٢- المعالم الحضارية الحديثة في المجال الاقتصادي في ولاية صلالة.

.....



ثانياً: ادرس الصورة المقابلة ثم أجب عن الأسئلة الآتية

١- ما اسم السفينة الموضحة في الصورة؟

.....

٢- اكتب اسم السلطان الذي تم في عهده بناء السفينة.

.....

٣- القوة المحركة لهذه السفينة:

الرياح	البترول	الكهرباء

(اختر الإجابة بوضع إشارة (√) تحت الإجابة الصحيحة)

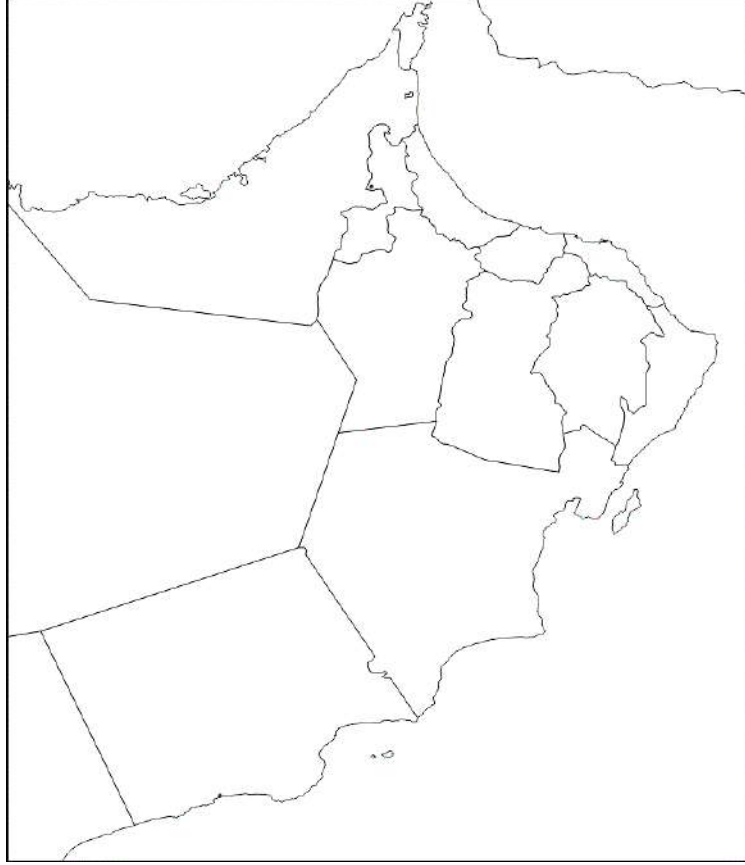
٤- أكمل بيانات هذه السفينة حسب الجدول الآتي:

صحر	المدينة التي أبحرت منها.
	المدينة التي أبحرت إليها.
	المدة التي استغرقتها الرحلة.

السؤال الخامس:

٦

أولاً: ادرس خريطة سلطنة عمان الآتية، ثم أجب عن الأسئلة التي تليها:



- ١- ظلل المحافظة التي توجد بها ولاية نزوى.
- ٢- اكتب على الخريطة بحر عمان وبحر العرب في موقعهما الجغرافي الصحيح.

ثانياً: علل ما يلي:

١- تسمية مدينة نزوى ببيضة الإسلام في عهد الأمام غسان بن عبد الله.

٢- تميز مدينة صلالة بمناخ استثنائي في فصل الصيف.

ثالثاً: دلل على ما يلي:

١- قدم تاريخ مسقط وحضارتها.

٢- تمتع ولاية الرستاق بالعديد من المقومات السياحية.

انتهت الأسئلة وتمنياتنا لكم بالتوفيق والنجاح



نموذج إجابة امتحان الصف الثامن
للعام الدراسي ١٤٤٥ هـ - ٢٠٢٣/٢٠٢٤ م
الدور الأول- الفصل الدراسي الثاني

المادة: الدراسات الاجتماعية الدرجة الكلية: (٤٠) درجة.
تنبيه: نموذج الإجابة في (٦) صفحات.

أولاً: إجابة السؤال الموضوعي:

إجابة السؤال الأول						الدرجة الكلية: (١٢) درجة	
المفردة	البديل الصحيح	الإجابة	الدرجة	الصفحة	المخرج التعليمي	المستوى المعرفي	
١	ج	٧١%	١	١٠			
٢	أ	الأنهار	١	٢١			
٣	د	٤	١	٢٥			
٤	د	قريات	١	٢٩			
٥	أ	ابن سينا	١	٤٩			
٦	ج	فرنسا	١	٣٤			
٧	أ	بذر الحبوب	١	٦٣			
٨	أ	حمد بن سعيد البوسعيدي	١	٧٣			
٩	د	قلعة نزوى	١	٨٦			
١٠	ب	البياضة	١	٩٦			
١١	ب	صحار	١	٩٩			
١٢	ج	صلالة	١	١٠٩			
المجموع							

تابع نموذج إجابة امتحان الصف الثامن
للعام الدراسي ١٤٤٥ هـ - ٢٠٢٣/٢٠٢٤ م
الدور الأول- الفصل الدراسي الثاني
المادة: الدراسات الاجتماعية

ثانيا: إجابة الأسئلة المقالية:

الدرجة الكلية: (٨) درجة				إجابة السؤال الثاني								
المستوى المعرفي	المخرج التعليمي	الصفحة	الدرجة	الإجابة الصحيحة	المفردة	الجزئية						
		١٤	١	مساحات واسعة يغطيها الجليد الصلب.	١	أولا						
		٥٤	١	طريق يمتد من أوروبا عبر البحر المتوسط والبحر الأحمر فالمحيط الهندي إلى مناطق جنوب شرق آسيا (بما يفيد المعنى)	٢							
		٣٩	١	موت بعض الأشجار مثل النخيل وغيرها/ انخفاض إنتاجية المزروعات /عدم صلاحية المياه للاستخدامات البشرية.	١	ثانيا						
		٢٥	١	انتشار الامراض والأوبئة التي تسبب الوفاة (المalaria، الاسهال، فقر الدم الحاد، البلهارسيا / تدهور الإنتاج الزراعي نتيجة تلوث التربة المروية بالمياه الملوثة.	٢							
		٣٢	٤ درجات لكل مفردة درجة واحدة	<div style="display: flex; justify-content: space-around;"> <div style="text-align: center;">  <p>أ</p> </div> <div style="text-align: center;">  <p>ب</p> </div> </div> <p>شكل الفلج وجه المقارنة</p> <table border="1" style="width: 100%; border-collapse: collapse;"> <tr> <td style="width: 33%;">فترة جريانه</td> <td style="width: 33%;">ينقطع جريانه في فترات الجفاف</td> <td style="width: 33%;">دائم الجريان وتقل مياهه وقت الجفاف</td> </tr> <tr> <td>النسبة المئوية من مجموع أفلاج سلطنة عمان</td> <td>٤٨,٥%</td> <td>٢٨%</td> </tr> </table>	فترة جريانه	ينقطع جريانه في فترات الجفاف	دائم الجريان وتقل مياهه وقت الجفاف	النسبة المئوية من مجموع أفلاج سلطنة عمان	٤٨,٥%	٢٨%		ثالثا
فترة جريانه	ينقطع جريانه في فترات الجفاف	دائم الجريان وتقل مياهه وقت الجفاف										
النسبة المئوية من مجموع أفلاج سلطنة عمان	٤٨,٥%	٢٨%										

تابع نموذج إجابة امتحان الصف الثامن
للعام الدراسي ١٤٤٥ هـ - ٢٠٢٣/٢٠٢٤ م
الدور الأول- الفصل الدراسي الثاني
المادة: الدراسات الاجتماعية

تابع ثانيا: إجابة الأسئلة المقالية:

الدرجة الكلية: (٨) درجة				إجابة السؤال الثالث										
المستوى المعرفي	المخرج التعليمي	الصفحة	الدرجة	الإجابة الصحيحة	المفردة	الجزئية								
		٣٠	١	الفلج	١	اولا								
		١٥	١	البحيرات	٢									
		٢٩	١	السد	٣									
		٥٩-٥٧	٢ لكل نصف درجة	<table border="1"> <tr> <td>٣</td> <td>اكتشاف الإنجليز أجزاء من أمريكا الشمالية.</td> </tr> <tr> <td>٢</td> <td>وصول أول مجموعة أوروبية إلى أمريكا الجنوبية.</td> </tr> <tr> <td>٤</td> <td>دوران ماجلان حول أمريكا الجنوبية.</td> </tr> <tr> <td>١</td> <td>انشاء البرتغاليين مدرسة للبحارة وبناء السفن.</td> </tr> </table>		٣	اكتشاف الإنجليز أجزاء من أمريكا الشمالية.	٢	وصول أول مجموعة أوروبية إلى أمريكا الجنوبية.	٤	دوران ماجلان حول أمريكا الجنوبية.	١	انشاء البرتغاليين مدرسة للبحارة وبناء السفن.	ثانيا
٣	اكتشاف الإنجليز أجزاء من أمريكا الشمالية.													
٢	وصول أول مجموعة أوروبية إلى أمريكا الجنوبية.													
٤	دوران ماجلان حول أمريكا الجنوبية.													
١	انشاء البرتغاليين مدرسة للبحارة وبناء السفن.													
		٦٠-٥٧	٣ درجات لكل جزئية درجة واحدة	<table border="1"> <tr> <td>الوصول إلى الهند</td> <td>فاسكودي جاما</td> </tr> <tr> <td>إثبات كروية الأرض</td> <td>ماجلان</td> </tr> <tr> <td>اكتشاف نهر سانت لويس في كندا</td> <td>جاك كارتيه</td> </tr> </table>		الوصول إلى الهند	فاسكودي جاما	إثبات كروية الأرض	ماجلان	اكتشاف نهر سانت لويس في كندا	جاك كارتيه	ثالثا		
الوصول إلى الهند	فاسكودي جاما													
إثبات كروية الأرض	ماجلان													
اكتشاف نهر سانت لويس في كندا	جاك كارتيه													

تابع نموذج إجابة امتحان الصف الثامن
للعام الدراسي ١٤٤٥ هـ - ٢٠٢٣/٢٠٢٤ م
الدور الأول- الفصل الدراسي الثاني
المادة: الدراسات الاجتماعية

إجابة السؤال الرابع						الدرجة الكلية: (٦) درجة		
المستوى المعرفي	المخرج التعليمي	الصفحة	الدرجة	الإجابة الصحيحة			المفردة	الجزئية
		٤٦ - ٤٧	١	ظهور المدن وازدهارها/ ظهور مجتمعات جديدة ومتطورة/ ظهور المفكرين والكتاب وتشجيع الملوك والأثرياء لهم / الاكتشافات الجغرافية / اختراع الطباعة. (بما يفيد المعنى)			١	أولا
		١١٢	١	محطة البحوث الزراعية ومراكز الإرشاد الزراعي في سهل صلالة وقيرون حيرتي/ المنطقة الصناعية في ريسوت التي تضم العديد من المصانع الإنتاجية منها مصنع الاسمنت ومصنع الأدوية والصناعات الغذائية/ ميناء صلالة والذي يعد أكبر الموانئ لاستقبال سفن الحاويات.			٢	
		١٠٣	١	السفينة صحار.			١	ثانيا
		١٠٣	١	السلطان قابوس بن سعيد (طيب الله ثراه).			٢	
		١٠٣	١	الكهرباء	البتترول	الرياح	٣	
						√		
		١٠٣	١ لكل نصف درجة	كانتون	المدينة التي أبحرت إليها		٤	
				عام كاملا	المدة التي استغرقتها الرحلة			

تابع نموذج إجابة امتحان الصف الثامن
للعام الدراسي ١٤٤٥ هـ - ٢٠٢٣/٢٠٢٤ م
الدور الأول- الفصل الدراسي الثاني
المادة: الدراسات الاجتماعية

ثانيا: إجابة الأسئلة المقالية:

الدرجة الكلية: (٦) درجة				إجابة السؤال الخامس		
المستوى المعرفي	المخرج التعليمي	الصفحة	الدرجة	الإجابة الصحيحة	المفردة	الجزئية
		٨٤	١	 <p>يظل على محافظة الداخلية</p> <p>يكتب الطالب بحر عمان وبحر العرب في موقعهما الصحيح على الخريطة</p>	١	أولا
		٨٤	١ نص درجة لكل بحر		٢	
		٨٥	١	لكثرة دور العلم والعلماء فيها.	١	ثانيا
		١١٣	١	بسبب تعرضها لهبوب الرياح الموسمية الصيفية الجنوبية الغربية وسقوط الامطار الموسمية على جبالها وبالتالي انخفاض درجات الحرارة عن معدلها السنوي. (بما يفيد المعنى).	٢	
		٧٢	١	دلت الآثار المكتشفة بحي الوطية عام ١٩٨١م على أن الإنسان عاش في هذه المنطقة منذ العصر الحجري الأول/ الأدوات والأواني المكتشفة في عام ٢٠٠٣م بولاية بوشر ترجع إلى الالف الثالثة والثانية قبل الميلاد/ تشير الآثار المكتشفة في رأس الحمراء أن الانسان العماني مارس مهنة الصيد منذ الألف الثالثة قبل الميلاد. / (يكتفى بدليل واحد).	١	ثالثا
		٩٨	١	/المعالم التراثية كالقلاع والحصون/ المعالم الطبيعية كالأودية والعيون والينابيع المائية/ العيون المائية الساخنة، مثل: عين الكسفة، وعين الخضراء، وعين الصائغي / وجود الاستراحات السياحية.	٢	

نهاية نموذج الإجابة



امتحان مادة : الدراسات الاجتماعية

للسف : الثامن

للعام الدراسي ١٤٤٥هـ - ٢٠٢٣م/٢٠٢٤م

الدور : الأول - الفصل الدراسي : الثاني

(الفترة الصباحية)

الفترة الصباحية

- زمن الامتحان : (ساعة ونصف) ● عدد صفحات أسئلة الامتحان: (٧) صفحات.
- الإجابة في الدفتر نفسه .

		اسم الطالب
الصف		المدرسة

التوقيع بالاسم		الدرجة		السؤال
المصحح الثاني	المصحح الأول	بالحروف	بالأرقام	
				١
				٢
				٣
				٤
				٥
مراجعة الجمع	جمعه			المجموع
				المجموع الكلي

أجب عن جميع الأسئلة الآتية

السؤال الأول: ضع دائرة حول رمز الإجابة الصحيحة لكل مفردة من المفردات الآتية:

١ - تقع محافظة مسقط بالنسبة للسلطنة في جهة :

أ - الشمال الشرقي

ب - الجنوب الشرقي

ج - الشمال الغربي

د - الجنوب الغربي

الدرجة: _____

١٢


٢ - المَعْلَم الحضاري الواضح في الصورة يوجد في مدينة :

أ - الرستاق

ب - صحار

ج - مسقط

د - صلالة



٣ - أكبر المحيطات مساحة على سطح الأرض هو المحيط :

أ - الهندي

ب - الهادي

ج - الأطلسي

د - المحيط المتجمد الشمالي

٤ - تشير المنطقة المظللة بالخريطة المقابلة لمحافظة :

أ - الشرقية

ب - الداخلية

ج - الظاهرة

د - الوسطى



٥ - المنطقة التي وصل اليها المكتشفون البرتغاليون علم ١٤٩٧ ميلادي :

أ - كندا

ب - جزر المحيط الهادي

ج - الهند

د - سواحل أمريكا الشمالية

(٢)

المادة : الدراسات الاجتماعية - الصف : الثامن - الدور الأول - الفصل الدراسي الثاني - العام الدراسي ٢٠٢٣/٢٠٢٤م

تابع السؤال الأول:



٦ - الرقم (٤) في الخريطة المقابلة يشير إلى دولة:

- أ - إيطاليا
ب - فرنسا
ج - إسبانيا
د - ألمانيا


٧ - أقدم الوسائل التي استخدمها الإنسان في النقل :



ب -



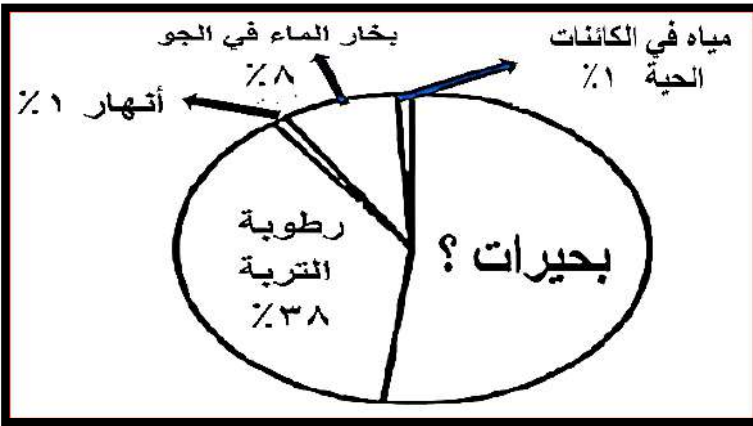
أ -



د -



ج -




٨ - كم تبلغ نسبة مياه البحيرات من نسبة

المياه السطحية العذبة في الشكل المقابل ؟

- أ - ٧٢ %
ب - ٦٢ %
ج - ٥٢ %
د - ٤٢ %

٩ - المحافظة العمانية التي تشتهر بتكون الظاهرة المائية الناتجة عن تساقط الأمطار التي



تسببها الرياح الموسمية في الشكل المقابل:

- أ - مسقط
ب - الظاهرة
ج - الوسطى
د - ظفار

يتبع ٣/

(٣)

المادة : الدراسات الاجتماعية - الصف : الثامن - الدور الأول - الفصل الدراسي الثاني - العام الدراسي ٢٠٢٣/٢٠٢٤م

تابع السؤال الأول:

١٠- أرقام مواقع المعالم السياحية التي سيختارها

السياح عند زيارتهم لمحافظة مسقط من خلال

الإعلان المقابل :

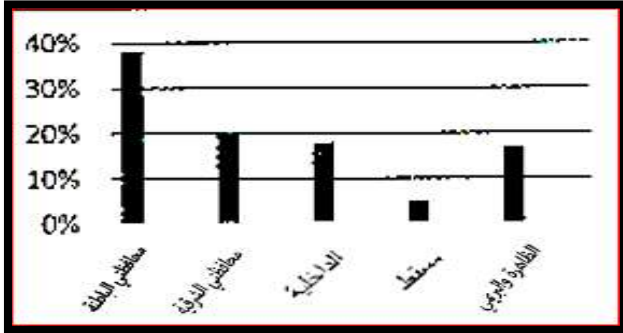
أ	٤،٣،٢،١
ب	٨،٤،٣،٢
ج	٥،٤،٣،١
د	٨،٦،٤،٢

- ١ - حديقة اليوبيل الفضي
٢ - حديقة القرم الطبيعية
٣ - قصر العلم
٤ - سوق مطرح القديم
٥ - حصن جبرين
٦ - فلج دارس
٧ - وادي السحتن
٨ - المتحف الوطني

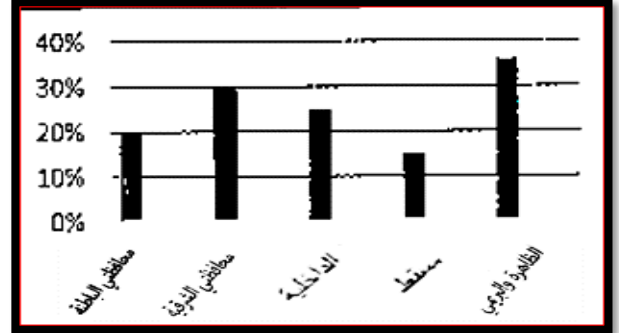
١١ - عاصمة عمان في عهد الرسول (صلى الله عليه وسلم) :

أ - صحار ب - نزوى ج - مسقط د - الرستاق


١٢ - الشكل البياني الذي يوضح نسبة الأفلاج في محافظتي الباطنة :




(ب)



(أ)



(د)



(ج)

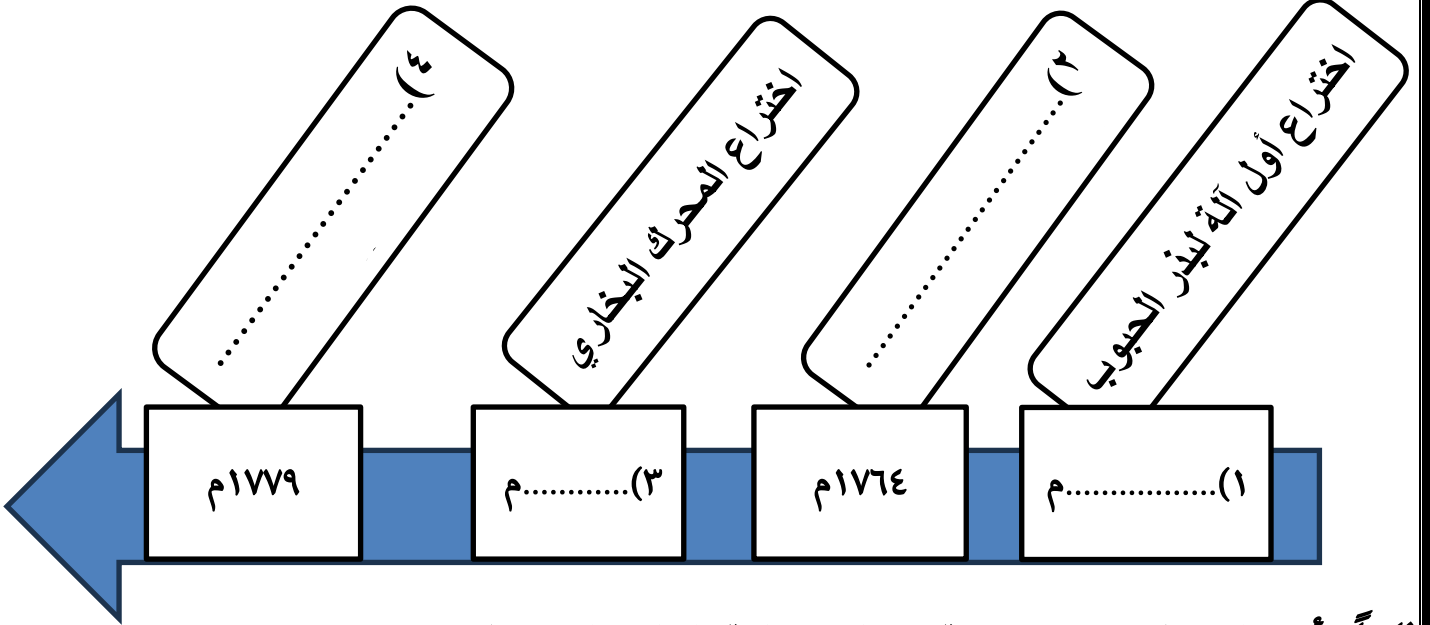
يتبع / ٤

السؤال الثاني : أولاً: أ - عرف ما يلي :-

١ - الأفلاج الحية

٢ - المستشرقون :

ب- أكمل المسطرة الزمنية التالية التي توضح منجزات الثورة الصناعية التي شهدتها أوروبا .



ثانياً: أ - ددل : (اشتهرت مدينة صحار بصناعة الثياب الجيدة).

ب - علل : سُميت نزوى قديماً ببيضة الإسلام .

ثالثاً: " يُعتبر النقل البحري أرخص أنواع النقل "

(ظلل الصواب)

خطأ

صح

فسر اجابتك :

السؤال الثالث : أولاً : رتب المدن الآتية حسب قربها من العاصمة مسقط من الأقرب إلى الأبعد بكتابة الرقم الصحيح بين القوسين :

() الرستاق

() نزوى

() صلالة

() صحار

ثانياً : العبارة الأولى " تعددت مجالات الثورة الصناعية التي ظهرت في أوروبا "

العبارة الثانية " وعلى الرغم من الدور السلبي للوجود الأوروبي في السيطرة على خيارات الأمة إلا أنه شكّل نوعاً من الاتصال " من خلال العبارتين الأولى والثانية السابقتين أجب عن الآتي :
أ - اذكر أول مجالين طورتهما الثورة الصناعية .

ب - ما هي أبرز وسائل الاتصال بين أوروبا والوطن العربي ؟

ثالثاً: أ - أكمل بيانات الجدول التالي باختيار المناسب لكل محافظة من المعالم الحضارية السياحية التالية: (منتزه البليد الأثري - حديقة اليوبيل الفضي)

اسم المحافظة	مركزها الإقليمي	المعالم الحضارية / السياحية
شمال الباطنة
ظفار

ب - ظلّل على الخريطة كما هو موضح حسب النموذج:



١ - محافظة شمال الباطنة



٢ - محافظة ظفار



السؤال الرابع:

أولاً: أ - أكمل المخطط:

الدرجة: _____
٦

أنواع السدود

/١ /.....

سدود الحماية من
الفيضان

/٢ /.....

مثال /٤ /.....

مثال /٣ /.....

مثال / سد وادي
تنوف

ب- " لو قُدِّرَ لك مستقبلاً أن تكون مسؤولاً حكومياً في وزارة الثروة الزراعية والسمكية وموارد المياه". ما التدابير التي ستأخذها لترشيد استهلاك المياه في سلطنة عمان ؟

ثانياً: أ - فسر: - بدأت النهضة في إيطاليا قبل غيرها من الدول الأوروبية.

ب - أكمل الفراغات أمام الصورة:

١- نوع الفلج:

٢ - مصدره:

ثالثاً: من خلال الشكل وضح طريقة إنتاج الطاقة

الكهربائية. /

.....

.....

.....

.....

.....

.....



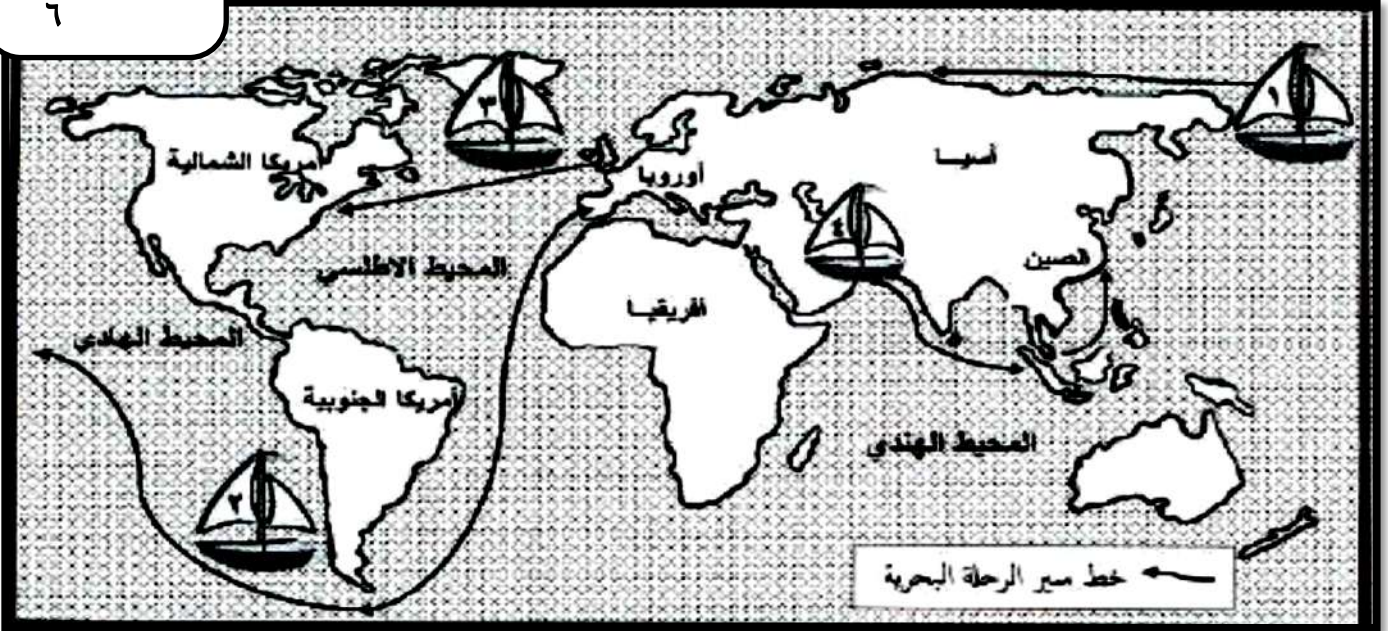
يتبع /٧

السؤال الخامس: أولاً: أَمَامَكَ خَرِيْطَةُ الْعَالَمِ ادرسها جيداً ثم أجب

عن جميع الأسئلة التي تليها :

الدرجة: _____

٦



أ - ارسم على الخريطة خط سير رحلة استكشاف فاسكو دي جاما مستخدماً الأسهم .

ب - ما اسم المضيق الذي عبرته السفينة رقم (٢) ؟ (.....)



ج - رقم السفينة التي قامت برحلة بحرية لدراسة طريق

الحرير البحري والتجارة القديمة (.....)

د - ضع أسفل صورة المستكشف المقابلة رقم السفينة

التي أبحر بها في حركة الكشوف الجغرافية : السفينة رقم (.....)

ثانياً: أكتب أمام كل عبارة المدينة العمانية التي تدل عليها :

أ - (مدينة عريقة عُرِفَتْ بتخت العرب) (.....)

ب - (أبرز بيوتها الأثرية بيت جريزة وبيت الزواوي) (.....)

ج - (يوجد بها جامع البياضة وتقع بها عين الكسفة) (.....)

د - (يوجد بها فلج الملكي) (.....)

(انتهت الأسئلة مع الدعاء للجميع بالتوفيق والنجاح)

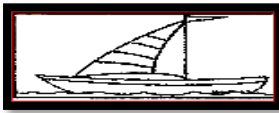
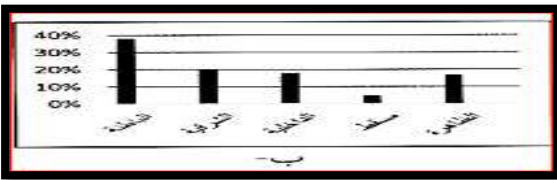
الفترة الصباحية



نموذج إجابة امتحان الصف : الثامن
للعام الدراسي ١٤٤٥ هـ - ٢٠٢٣م/٢٠٢٤م
الدور : الأول - الفصل الدراسي : الثاني (فترة صباحية)

المادة : الدراسات الاجتماعية
الدرجة الكلية: (٤٠) درجة.
تنبيهه: نموذج الإجابة في (٥) صفحات.

أولاً: إجابة السؤال الموضوعي: الدرجة (١٢)

المستوى المعرفي	الصفحة	الدرجة	الإجابة	البديل الصحيح	المفردة
تذكر	٧٠	١	الشمال الشرقي	أ	١
فهم وتطبيق	١١٤	١	صلاة	د	٢
تذكر	١٧+١٤	١	الهادي	ب	٣
فهم وتطبيق	٨٤	١	الداخلية	ب	٤
تذكر	٥٧	١	الهند	ج	٥
فهم وتطبيق	٥١÷٤٤	١	إسبانيا	ج	٦
فهم وتطبيق	٢٢	١		أ	٧
فهم وتطبيق	١٣	١	٥٢%	ج	٨
فهم وتطبيق	١١٣	١	ظفار	د	٩
قدرات عليا	٧٥/٧٨ ٨١/٧٦	١	٨،٤،٣،٢	ب	١٠
تذكر	١٠٢	١	صحار	أ	١١
فهم وتطبيق	٣١	١		ب	١٢
			المجموع		

(٢)

تابع نموذج إجابة امتحان الصف : الثامن
للعام الدراسي ١٤٤٥ هـ - ٢٠٢٣م / ٢٠٢٤م
الدور : الأول / الفصل الدراسي : الثاني / الفترة الصباحية
المادة : : دراسات اجتماعية

ثانيا: إجابة الأسئلة المقالية:

الدرجة الكلية للسؤال (٨) درجات				إجابة السؤال الثاني	
المستوى المعرفي	الصفحة	الدرجة	الإجابة الصحيحة	المفردة	الجزئية
تذكر	٣١	١	١ - الأفلاج الحية : هي التي ما زالت تجري فيها المياه وتروي المزارع والمنازل .	أ	أولاً
تذكر	٥٠	١	٢ - المستشرقون : فئة من الباحثين الغربيين تخصصوا في دراسة التراث العربي لغةً وتاريخاً وواقعاً وقاموا بتحقيق الكثير من المخطوطات العربية النفيسة ونشرها ، وكانت لهم دوافع شتى في دراساتهم ، منها سياسية وثقافية، وتجارية، وفكرية، وعلمية .		
قدرات عليا	٦٣ ٦٤ ٦٥ ٦٤	٢ لكل نقطة نصف درجة	١ - اختراع أول آلة لبذر الحبوب ١٧٠١م ٢ - صنع آلة غزل يدوية تغزل ثمانية خيوط ١٧٦٤م ٣ - اختراع المحرك البخاري ١٧٦٩م ٤ - اختراع المغزل الآلي ١٧٧٩م .	ب	
فهم وتطبيق	١٠١	١	ذكر ابن هشام : أن رسول الله صلى الله عليه وسلم كُفِّن في ثلاث أثواب ثوبين صحاريين (نسبة إلى صحار) وبُرِدَ حَبْرَة .	أ	ثانياً
فهم وتطبيق	٨٥	١	سُمِّيت بيضة الإسلام في عهد الإمام غسان بن عبد الله لكثرة دور العلم والعلماء فيها .	ب	
قدرات عليا	٢٢	٢ التظليل درجة والتفسير درجة	صح نظراً للكميات الكبيرة من البضائع التي يتم نقلها من مكان لآخر في وقت واحد كما أن خطوط الملاحة حرة ولا تحتاج إلى صيانة .		ثالثاً

(٣)

تابع نموذج إجابة امتحان الصف : الثامن
 للعام الدراسي ١٤٤٥ هـ - ٢٠٢٣م / ٢٠٢٤م
 الدور : الأول / الفصل الدراسي : الثاني / الفترة الصباحية
 المادة : : دراسات اجتماعية

تابع ثانياً: إجابة الأسئلة المقالية:

اجابة السؤال الثالث :					الدرجة الكلية للسؤال (٨) درجات				
الجزئية	المفردة	الإجابة الصحيحة	الدرجة	الصفحة	المستوى المعرفي				
أولاً		(٢) الرستاق	٢	٩٣	قدرات عليا				
		(١) نزوى	لكل	٨٣					
		(٤) صلاله	جزئية	١٠٧					
		(٣) صحار	نصف درجة	٩٩					
ثانياً	١	- الزراعة	١	٦٣	تذكر				
		- اختراع الآلات الصناعية / الصناعة	لكل نصف درجة						
ثانياً	ب	١- البعثات العلمية للطلبة العرب إلى دول أوروبا للدراسة والاطلاع على آخر التطورات العلمية .	١	٦٧	تذكر				
		٢- الرحلات التي قام بها الرحالة العرب وما سجلوه من وصف للمناطق التي زاروها . . (يكتفي بذكر واحد فقط)							
ثالثاً	أ	اسم المحافظة	٢	٩٩	تذكر				
		مركزها الإقليمي							
		المعالم الحضارية / السياحية							
		شمال الباطنة	لكل	١٠٥					
		صحار	جزئية	١٠٧					
		ظفار	نصف	١١١					
		صلالة	درجة						
ب/١	ب/٢		٢	١٠٠	فهم وتطبيق				
			لكل جزئية درجة	١٠٨					

يتبع / ٤

(٤)

تابع نموذج إجابة امتحان الصف : الثامن
 للعام الدراسي ١٤٤٥ هـ - ٢٠٢٣م / ٢٠٢٤م
 الدور : الأول / الفصل الدراسي : الثاني / الفترة الصباحية
 المادة : : دراسات اجتماعية


تابع ثانيا: إجابة الأسئلة المقالية:

اجابة السؤال الرابع :					الدرجة الكلية للسؤال (٦) درجات																
الجزئية	المفردة	الإجابة الصحيحة	الدرجة	الصفحة	المستوى المعرفي	الجزئية	المفردة	الإجابة الصحيحة	الدرجة	الصفحة	المستوى المعرفي										
أولاً	أ	١ - سدود التغذية الجوفية . ٢ - سدود التخزين ٣ - مثال / سد وادي الجزبي / سد وادي الفليج / سد وادي الأنصب (يكتفي بذكر واحد) . ٤ - مثال / ٤ سدود الجبل الأخضر	٢	٢٩ ٢٩ ٣٠ ٢٩	تذكر	ثانياً	أ	- موقعها التجاري بين أوروبا وقارتي آسيا وأفريقيا . - تحول الكنيسة في أفكارها نحو التجديد والانفتاح . - ظهور طبقة من الأغنياء الذين أسهموا بأموالهم في تشجيع العلوم، والآداب، والفنون، والترجمة . (يكتفي بواحد فقط)	١	٤٥	فهم وتطبيق										
	ب	- استخدام التقانات الحديثة في ترشيد استهلاك المياه . - عدم السماح بحفر الآبار عشوائيا دون وجود دراسات مسحية تحدد كمية المياه الجوفية الموجودة ومستوى وكمية التغذية السنوية للمستودعات . - ادخال مواضيع دراسية تحث على ترشيد استهلاك المياه في المناهج ولمختلف المراحل الدراسية. - البحث عن وسائل جديدة غير مكلفة وغير ملوثة للحصول على الموارد المائية الآمنة والدائمة مثل استخدام الطاقة الشمسية في تحلية مياه البحار والمحيطات.(ما يفيد المعنى)	١	٤٢	قدرات عليا		ثالثاً	أ	١ - نوع الفليج : غيلي ٢ - مصدره : مياه الجريان السطحي في الأودية (الغيل)	١	٣٢	فهم وتطبيق	ثالثاً	ب	يتم احتجاز المياه خلف السدود ومن ثم إطلاقها لتحرك توربينات كبيرة تولد الكهرباء	١	٢١	فهم وتطبيق	ب		
ثالثاً	أ	١ - نوع الفليج : غيلي ٢ - مصدره : مياه الجريان السطحي في الأودية (الغيل)	١	٣٢	فهم وتطبيق	ثالثاً		ب	يتم احتجاز المياه خلف السدود ومن ثم إطلاقها لتحرك توربينات كبيرة تولد الكهرباء	١	٢١	فهم وتطبيق									
	ب																				

(٥)

تابع نموذج إجابة امتحان الصف : الثامن
للعام الدراسي ١٤٤٥ هـ - ٢٠٢٣/٢٠٢٤ م
الدور : الأول / الفصل الدراسي : الثاني / الفترة الصباحية
المادة : : دراسات اجتماعية

تابع ثانيا: إجابة الأسئلة المقالية:

اجابة السؤال الخامس :		الدرجة الكلية للسؤال (٦) درجات				
الجزئية	المفردة	الإجابة الصحيحة	الدرجة	الصفحة		
أولاً		 <p>أ - خط سير رحلة فاسكو دي جاما . (يراعى الطالب عند تتبعه لسير الرحلة)</p> <p>ب - مضيق ماجلان</p> <p>ج - رقم السفينة ٤</p> <p>د -</p>  <p>السفينة رقم (٣)</p>	٢ لكل جزئية تصف درجة	٥٧/٥٣ ٥٩/٥٣ ٥٥ ١٥٣ ٥٩		
			٤ (لكل جزئية درجة)	٨٥ ٧٥ ٩٨/٩٦ ٣٢		
			ثانياً		أ - نزوى ب - مسقط ج - الرستاق د - إزكي	تذكر

نهاية نموذج الإجابة



المديرية العامة للتربية والتعليم لمحافظة الظاهرة
امتحان الصف الثامن

للعام الدراسي 1446/1445 هـ - 2024/2023 م
الدور الأول - الفصل الدراسي الثاني

- المادة: الدراسات الاجتماعية ● عدد صفحات أسئلة الامتحان: (7) صفحات
- زمن الإجابة: ساعة ونصف ● الإجابة في الدفتر نفسه .

اسم الطالب	
الصف	المدرسة

التوقيع بالاسم		الدرجة		الدرجة
المصحح الثاني	المصحح الأول	بالحروف	بالأرقام	
				1
				2
				3
				4
				5
مراجعة الجمع	جمعه			المجموع
				المجموع الكلي

(1)

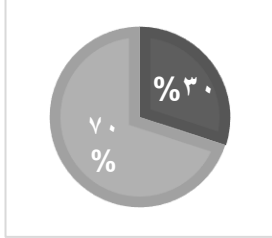
المادة: الدراسات الاجتماعية الصف الثامن الدور الأول – الفصل الدراسي الثاني العام الدراسي 2024/2023 م

أجب عن جميع الأسئلة الآتية

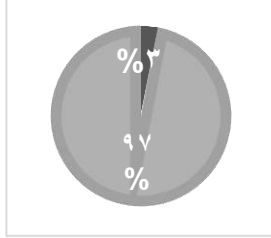
السؤال الأول: ضع دوائر حول رمز الإجابة الصحيحة لكل مفردة من المفردات:

12

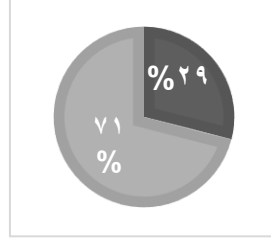
1- الشكل الصحيح الذي يمثل نسبة المياه العذبة إلى المياه المالحة في العالم:



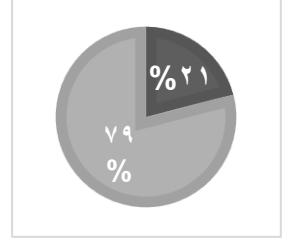
د-



ج-



ب-



أ-

2- جميع ما يلي من مميزات النقل البحري، ما عدا:

ب- أقل خطورة

أ- أكثر اقتصادا

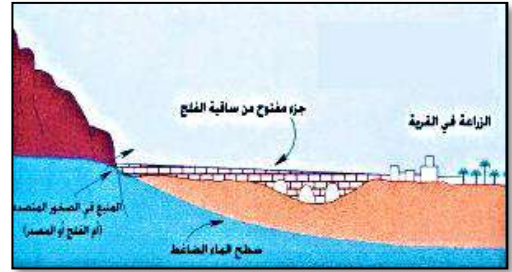
د- نقل كميات كبيرة من البضائع

ج- يحتاج إلى صيانة

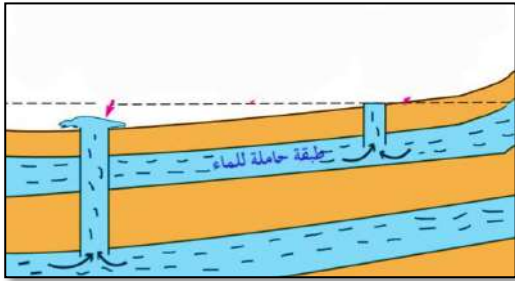
3- الشكل الصحيح الذي يمثل الفلج الغيلي في سلطنة عمان:



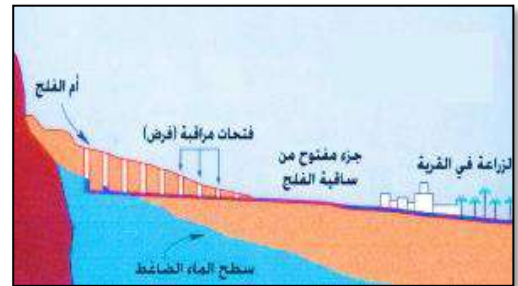
ب



أ

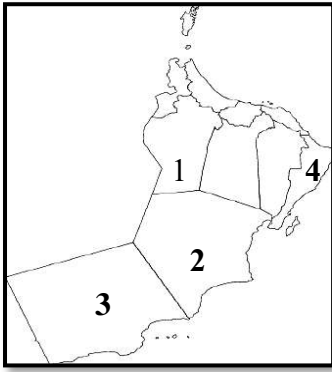


د



ج

يتبع / 2



4- الرقم الصحيح الذي يشير للمحافظة التي يوجد فيها مشروع حوض رمال الشرقية:

- أ- (1) ب- (2) ج- (3) د- (4)

5- الخريطة التي تمثل الدولة التي بدأت فيها النهضة الأوروبية قبل غيرها:



د



ج




ب



أ

6- الرحالة الذي استطاع إثبات كروية الأرض بعد ثلاث سنوات من الإبحار:

- أ- ماجلان ب- جون كابوت ج- كولمبوس د- جاك كارتية



7- مخترع الآلة الواضحة في الصورة:

- أ- كوبرنكس ب- جيمس واط

- ج- يوحنا جوتن برغ د- دانتي

8- يوجد المعلم العمراني الموضح في الصورة المقابلة في محافظة:



- أ- مسقط ب- الباطنة شمال

- ج- الشرقية جنوب د- الداخلية

9- الولاية التي يوجد فيها فلج دارس:

أ- أزكي ب- سمائل ج- بهلا د- نزوى

10- تعد من أشهر المناطق الأثرية في مدينة صلالة:

أ- بات ب- البليد ج- رأس الحمراء د- حي الوطية

11- أهم سلعة كانت مدينة صحار تقوم بتصديرها قبل 4 آلاف سنة:

أ- النحاس ب- الفضة ج- الذهب د- الحديد

12- من العيون المائية الموجودة في ولاية الرستاق:

أ- حمران ب- جرزيز ج- الكسفة د- صحنوت

السؤال الثاني: أجب عن الأسئلة التالية:

8

أولا/ اكتب بين القوسين المصطلح أو المفهوم الصحيح لكل عبارة مما يأتي:

المصطلح	العبارة
	أ- مسطحات مائية ضحلة تظهر بصورة دائمة أو مؤقتة تنمو فيها النباتات المائية المتنوعة
	ب- فئة من الباحثين الغربيين، تخصصوا في دراسة التراث العربي، لغة وتاريخا وواقعا.
	ج- حياكة الخيوط وتحويلها إلى قماش

(4)

المادة: الدراسات الاجتماعية الصف الثامن الدور الأول – الفصل الدراسي الثاني العام الدراسي 2023/2024م

ثانيا/ أكتب في الجدول أدناه المعالم التالية حسب المدينة التي توجد فيها:
(وادي تنوف/ سهل أتين / حصن الحزم /حديقة القرم)

المدينة	صلالة	نزوى	مسقط	الرسحاق
المعلم السياحي

ثالثا: فسر العبارات التالية :

أ - ثبات مستوى المياه في البحار والمحيطات.

.....

ب - تناقص المياه الجوفية العذبة.

.....

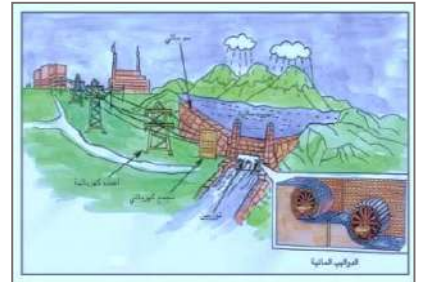
ج - بدء الثورة الصناعية في بريطانيا قبل غيرها من الدول الأوروبية.

.....

السؤال الثالث:

أولا: أكتب أسفل كل صورة استخدامات المياه المناسبة:

8

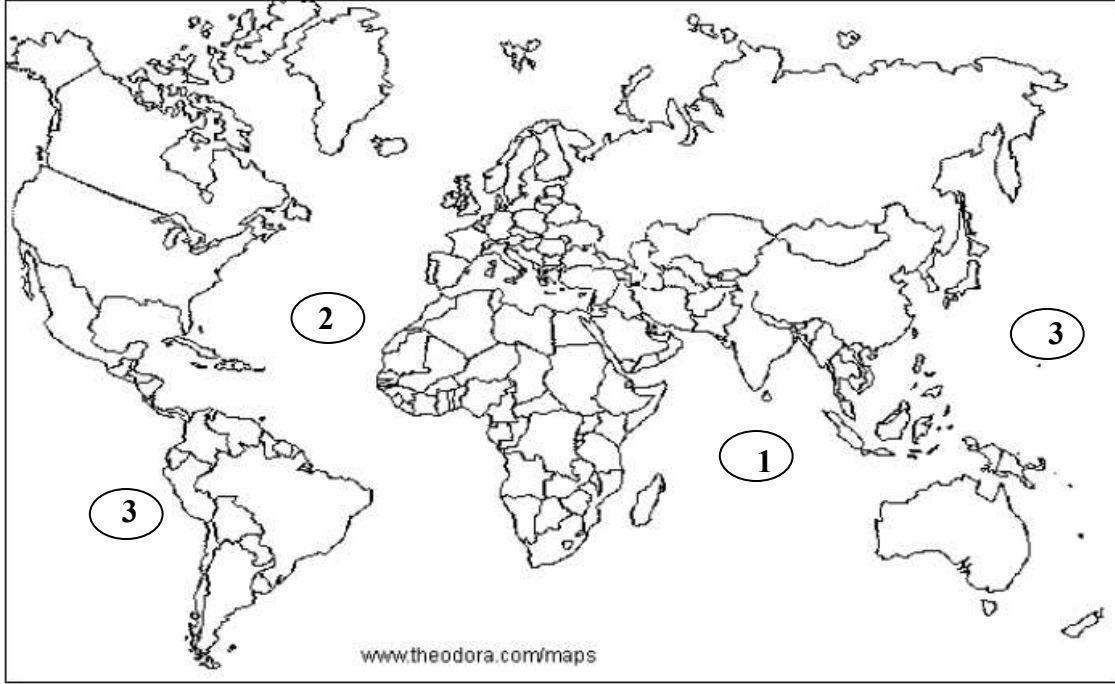


ج-.....

ب-.....

أ-.....

ثانيا: بالاستعانة بخريطة العالم الصماء أجب عن الأسئلة الآتية:



أ - الرقم الذي يشير للمحيط الذي عبرته معظم الرحلات الجغرافية الأوروبية

.....

ب - حدد على الخريطة موقع مضيق ماجلان بوضع دائرة في المكان الصحيح.

ج - ارسم مسار رحلة فاسكو دي غاما.

ثالثا: اذكر نتيجة واحدة لكل من :

أ - تلوث المياه في بعض دول العالم.

.....
.....
.....

ب - اختراع الأوروبيين للطباعة.

.....
.....

6

السؤال الرابع :
أولاً: صنف الصور التالية لمعالم (أثرية / طبيعية / خدمات سياحية)



ج-

ب-

أ-

ثانياً: انظر إلى الصورة المقابلة، ثم أجب عن الأسئلة الآتية:
أ - ما اسم السفينة الظاهرة في الصورة؟



ب - المكان الذي اتجهت إليه السفينة في رحلتها

ج - ما القيمة الحضارية للرحلة البحرية التي قامت بها السفينة؟

(7)

المادة: الدراسات الاجتماعية الصف الثامن الدور الأول – الفصل الدراسي الثاني العام الدراسي 2024/2023 م

6

السؤال الخامس:

أولاً: " تظهر مشكلة تملح المياه في سلطنة عمان وبعض قرى ولاية جعلان في جنوب الشرقية، ويؤدي تملح المياه الجوفية إلى عدم صلاحيتها للاستهلاك البشري وللكتير من المحاصيل الزراعية" في ضوء العبارة أجب عن الأسئلة التالية:

أ - أعط سبب واحد لتملح المياه في سلطنة عمان.

ب - ما النتائج المترتبة على مشكلة التملح في سلطنة عمان.

ثانياً: بالاستعانة بالجدول المقابل أجب عن الأسئلة التالية:
أ - ما أكبر ولاية في محافظة مسقط من حيث عدد السكان؟

الولاية	عدد السكان
مطرح	150124
بوشر	192235
السيب	302992
العامرات	58400
مسقط	27216
قريات	44911




ب - رتب الولايات تصاعدياً من حيث عدد السكان

ثالثاً: تزخر سلطنة عمان بالعديد من المعالم الحضارية والثقافية والطبيعية والسياحية والترفيهية، ما واجبك تجاه هذه المعالم.

انتهت الأسئلة مع تمنياتنا بالتوفيق للجميع

المديرية العامة لمحافظة الظاهرة
نموذج إجابة امتحان الصف الثامن الدور الأول - الفصل الدراسي الثاني
للعام الدراسي / ١٤٤٥ هـ - ٢٠٢٣ / ٢٠٢٤ م

المادة: الدراسات الاجتماعية
تنبيه: نموذج الإجابة في (٥) صفحات
أولاً: إجابة السؤال الموضوعي:

المستوى المعرفي	الصفحة	الدرجة	الإجابة	البديل الصحيح	المفردة
تطبيق	١٣	١		ج	١-
معرفة	١٢	١	يحتاج على صيانة	ج	2
تطبيق	٣٢	١		ب	3
تطبيق	٣٥	١	(٤)	د	4
تطبيق	٤٥	١		ب	5
معرفة	٥٩	١	ماجلان	أ	6
تطبيق	٦٥	١	جيمس واط	ب	7
تطبيق	٧٥	١	مسقط	أ	8
معرفة	٨٤	١	نزوى	د	9
معرفة	١١٠	١	البليد	ب	10
معرفة	١٠١	١	النحاس	أ	11
معرفة	٩٨	١	الكسفة	ج	12

(٢)

المديرية العامة لمحافظة الظاهرة

نموذج إجابة امتحان الصف الثامن الدور الأول - الفصل الدراسي الثاني

للعام الدراسي / ١٤٤٥ هـ - ٢٠٢٣ / ٢٠٢٤ م

ثانيا: إجابة الأسئلة المقالية: السؤال الثاني الدرجة الكلية (٨) درجات

المستوى المعرفي	الصفحة	الدرجة	الإجابة الصحيحة	المفردة	الجزئية												
معرفة	١٥ ٥٠ ٦٤	ثلاث درجات لكل مفردة درجة	المستنقع	أ	أولا												
			المستشرقين	ب													
			النسيج	ج													
قدرات عليا	١١٤ ٩١ ٨١ ٩٦	درجتان لكل مفردة نصف درجة	<table border="1"> <tr> <td>الرسحاق</td> <td>مسقط</td> <td>نزوى</td> <td>صلالة</td> </tr> <tr> <td>حصن</td> <td>حديقة</td> <td>وادي</td> <td>سهل أتين</td> </tr> <tr> <td>الحزم</td> <td>القرم</td> <td>تنوف</td> <td></td> </tr> </table>	الرسحاق	مسقط	نزوى	صلالة	حصن	حديقة	وادي	سهل أتين	الحزم	القرم	تنوف			ثانيا
			الرسحاق	مسقط	نزوى	صلالة											
حصن	حديقة	وادي	سهل أتين														
الحزم	القرم	تنوف															
فهم وتطبيق	١٢	درجة	بسبب الدورة المائية في الطبيعة. أو ما يفيد المعنى	أ													
			بسبب انخفاض منسوب المياه الجوفية، ودخول مياه البحر عليها، ومن ثم تملحها. أو ما يفيد المعنى	ب													
فهم وتطبيق	٣٩	درجة	١- كثرة عدد السكان فيها، وارتفاع عدد المفكرين والعلماء، وتوافر الأيدي العاملة القادرة على العمل في المصانع والمزارع ٢- توافر المادة الخام والموارد الطبيعية اللازمة، لاسيما معدن الحديد الذي أتاح صناعة الآلات من المعدن. ٣- بُعد بريطانيا عن الحروب والتوترات السياسية التي شهدتها بقية الدول الأوروبية وهو ما أسهم في استقرارها، وتوفير جو من الاستثمار والاختراع. ٤- وفرة رؤوس الأموال اللازمة للصناعة، ووجود نظام مصرفي متكامل شجع الأثرياء على توفير الأموال واستثمارها. ٥- إسهام الموانئ والسفن البريطانية وقدرتها على الاتصال مع مناطق نفوذها في توفير المواد الخام والأيدي العاملة. (يكتفي بذكر واحدة)	ج	ثالثا												

(٣) يتبع

(٣)

المديرية العامة لمحافظة الظاهرة

نموذج إجابة امتحان الصف الثامن الدور الأول - الفصل الدراسي الثاني

للعام الدراسي / ١٤٤٥ هـ - ٢٠٢٣ / ٢٠٢٤ م

الدرجة الكلية (٨) درجات

إجابة السؤال الثالث

المستوى المعرفي	الصفحة	الدرجة	الإجابة الصحيحة	المفردة	الجزئية
تطبيق	21	درجة واحدة فقط	توليد الطاقة	أ	أولا
تطبيق	٢٢	درجة واحدة فقط	النقل	ب	
تطبيق	٢١	درجة واحدة فقط	الصناعة	ج	
قدرات عليا	٥٧	درجة واحدة	(٢)	أ	ثانيا
		درجتان لكل مفردة درجة واحدة فقط		ب	
				ج	
معرفة	٢٥	درجة واحدة فقط	١- انتشار الأمراض والأوبئة التي تسبب الوفاة مثل (الملاريا، الإسهال، فقر الدم، البلهارسيا). ٢- تدهور الإنتاج الزراعي نتيجة تلوث التربة المروية بالمياه الملوثة. (يكتفي بذكر واحدة)	أ	ثالثا
معرفة	٤٧ ٤٩	درجة واحدة فقط	أحدثت تطورا كبيرا في طباعة الكتب المتعلقة بالعلوم والأدب، ازدادت معرفة الأوروبيين بالحضارة العربية الإسلامية، ساهم في ظهور النهضة الأوروبية. (يكتفي بذكر واحدة)	ب	

يتبع (٤)

(٤)

المديرية العامة لمحافظة الظاهرة
نموذج إجابة امتحان الصف الثامن الدور الأول - الفصل الدراسي الثاني
للعام الدراسي / ١٤٤٥ هـ - ٢٠٢٣ / ٢٠٢٤ م

الدرجة الكلية (٦) درجات

إجابة السؤال الرابع

المستوى المعرفي	الصفحة	الدرجة	الإجابة الصحيحة	المفردة	الجزئية
تطبيق	٩٦ - ١١٣	درجة واحدة فقط	خدمات سياحية	أ-	أولاً
تطبيق		درجة واحدة فقط	تراثية	ب-	
تطبيق		درجة واحدة فقط	طبيعية	ج-	
تطبيق	١٠٣	درجة واحدة فقط	السفينة صحار	أ	ثانياً
معرفة		درجة واحدة فقط	مدينة كانتون بالصين	ب	
قدرات عليا		درجة واحدة فقط	تقديرًا للدور البارز الذي قام به العمانيون في الملاحة البحرية من حيث التجارة البحرية وبناء السفن، فقد أمر السلطان قابوس -طيب الله ثراه- بتسيير رحلة بحرية مشابهة لرحلات العمانيين في القرون الماضية. (أو ما يفيد المعنى)	ج	

يتبع (٥)

(٥)

المديرية العامة لمحافظة الظاهرة
نموذج إجابة امتحان الصف الثامن الدور الأول - الفصل الدراسي الثاني
للعام الدراسي / ١٤٤٥ هـ - ٢٠٢٣ / ٢٠٢٤ م

الدرجة الكلية (٦) درجات

إجابة السؤال الخامس

المستوى المعرفي	الصفحة	الدرجة	الإجابة الصحيحة	المفردة	الجزئية
فهم وتطبيق	٣٨	درجة واحدة فقط	- استخدام المضخات الحديثة في سحب المياه الجوفية من الآبار وهو ما أدى إلى زيادة السحب. - تزايد أعداد السكان واحتياجاتهم المائية - سوء استخدام المياه في الري (يكتفي بذكر واحدة)	أ	أولا
فهم وتطبيق	٣٩	درجة واحدة فقط	- موت الأشجار مثل النخيل وغيرها. - انخفاض إنتاجية المزروعات - عدم صلاحية المياه للاستخدام البشري (يكتفي بذكر واحدة)	ب	
فهم وتطبيق	٧٧	درجة واحدة فقط	السيب	أ	ثانيا
فهم وتطبيق		درجة واحدة فقط	مسقط، قريات، العامرات، مطرح، بوشر، السيب	ب	
قدرات عليا	٧٠- ١١٥	درجتان	من واجبي كمواطن على هذه الأرض أن أحافظ على كل ممتلكات بلادي من معالم حضارية وطبيعية وترفيهية، وأن نستخدمها الاستخدام الأمثل وعدم العبث بها، وهذا يتطلب تكاتف جهودنا معا، لتبقى عمان جميلة على الدوام. (الإجابة حسب فهم الطالب أو ما يفيد المعنى)		ثالثا

نهاية نموذج الإجابة



سلطنة عُمان
وزارة التربية والتعليم

امتحان الصف الثامن الأساسي

للعام الدراسي 1444-1445 هـ - 2023/2024 م

الدور الاول - الفصل الدراسي الثاني

- المادة : الدراسات الاجتماعية.
- عدد صفحات أسئلة الامتحان : (5) صفحات.
- زمن الإجابة : ساعة ونصف.
- الإجابة في الورقة نفسها.

اسم الطالب	
الصف	المدرسة

التوقيع بالاسم		الدرجة		السؤال
المصحح الثاني	المصحح الأول	بالحروف	بالأرقام	
				1
				2
				3
				4
مراجعة الجمع	جمعه			المجموع
				المجموع الكلي

للعام الدراسي 1444 / 1445 هـ - 2023 / 2024 م

أجب عن جميع الأسئلة الآتية

السؤال الأول: ضع دائرة حول رمز الإجابة الصحيحة لكل مفردة من المفردات الآتية:-

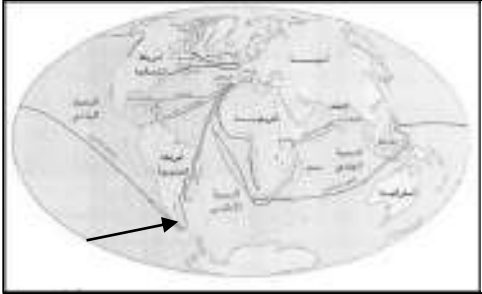


١. يوجد المعلم الأثري الموضح في الصورة المقابلة في محافظة :

- أ- الداخلية
ب - مسقط
ج - البريمي
د - ظفار

2. النسبة المئوية التي تغطيها المياه من سطح الارض:

- أ - 70%
ب- 72%
ج - 71%
د- 73%




3. اسم المضيق المشار إليه بالسهم على الخريطة المقابلة :

- أ- جبل طارق
ب - ماجلان
ج- البسفور
د- هرمز

4. تقع محافظة مسقط بالنسبة للسلطنة في جهة :

- أ- الشمال الشرقي
ب - الجنوب الشرقي
ج - الشمال الغربي
د - الجنوب الغربي



5. مخترع الآلة الموضحة في الصورة المقابلة:

- أ - كوبرنيكس
ب - يوحنا جوتنبرج
ج - جيمس واط
د- دانتي

للعام الدراسي 1444 / 1445 هـ - 2024 / 2023 م

تابع: السؤال الأول :



٦. اسم الفلج الموضح في الصورة المقابلة:

١ - المعين ب - الميسر

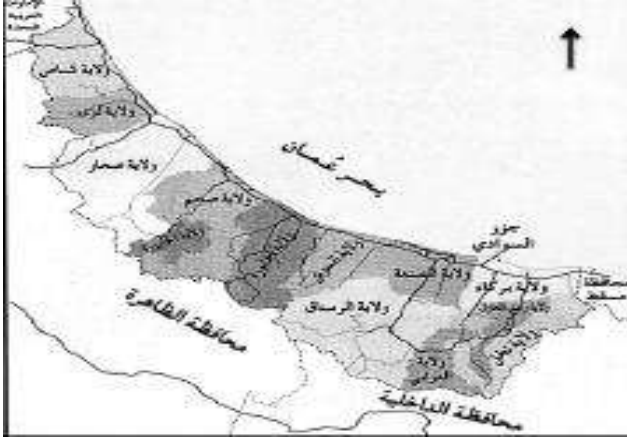
ج - المزارع د - دارس

٧. أصبحت مدينة مسقط عاصمة لعُمان عام 1784 في عهد السيد:

أ- سلطان بن احمد ب- حمد بن سعيد

ج - سعيد بن سلطان د- ثويني بن سعيد

٨. الترتيب الصحيح للولايات الآتية من الشمال إلى الجنوب من خلال الخريطة المقابلة:



أ	صحار	صحم	شناص	لوى
---	------	-----	------	-----

ب	صحم	صحار	لوى	شناص
---	-----	------	-----	------

ج	لوى	شناص	صحم	صحار
---	-----	------	-----	------

د	شناص	لوى	صحار	صحم
---	------	-----	------	-----

السؤال الثاني : أجب عن الأسئلة الآتية:

أولاً : اكتب بين القوسين المصطلح أو المفهوم الصحيح لكل عبارة مما يأتي :

١. احواض مائية داخلية محددة المساحة محاطة باليابسة من جميع الجهات (.....).
٢. باحثون غربيون تخصصوا في دراسة التراث العربي وقامو بتحقيق الكثير من المخطوطات العربية النفيسة ونشرها (.....).
٣. ثانياً : ١ - صنف السدود الآتية في الجدول أدناه:
(سد وادي غول - سد الجبل الأخضر).

سدود التخزين	سدود التغذية الجوفية

للعام الدراسي 1444 / 1445 هـ - 2023 / 2024 م

تابع: السؤال الثاني

2. أمامك صورة لإحدى الموارد المائية في السلطنة . أنظر إليها ثم أجب عن الأسئلة الآتية :



أ. ما اسم المورد المائي الذي توضحه الصورة
المقابلة؟

ب في أي ولاية يقع هذا المورد المائي؟

ج. وضح استخدامات هذا النوع من الموارد المائية

ثالثاً: "يعتبر النقل البحري أرخص أنواع النقل" صح خطأ (اختر الصواب)
فسر إجابتك.

السؤال الثالث

أولاً : ادرس الخريطة التي أمامك، ثم أجب عن الأسئلة الآتية:



1 - ما اسم المحافظة المظللة على الخريطة؟

2- ارسم الرموز الآتية على الخريطة حسب

موقعها الصحيح

▲ المحافظة التي يوجد بها جبل أتين.

■ المحافظة التي توجد بها قلعة الشهباء.

3- اكتب أسماء البحار الآتية في موقعها الصحيح على

الخريطة (بحر عمان - بحر العرب)

تابع : السؤال الثالث :

ثانياً: " هيا الموقع الجغرافي لمدينة مسقط عبر التاريخ تواملا مع ثلاثة أقاليم مهمة، فتأثرت بالنشاط الحضاري الذي كان سائدا في تلك الاقاليم" في ضوء العبارة اجب عن الاسئلة الآتية.

1- ما الجهة الجغرافية التي تقع فيها مدينة مسقط بالنسبة لبحر عمان؟

.....

2- اذكر اثنين من الاقاليم التي تواملت معها مدينة مسقط عبر تاريخها.

.....

.....

3- ما النتيجة المترتبة على مسقط من تواملها الحضاري مع الاقاليم الاخرى؟

.....

.....

السؤال الرابع:

أولاً: ضع علامة (√) أسفل المعالم التي تنتمي لمدينة صحار :



السؤال الرابع:

ثانياً : ١ - رتب المدن الآتية حسب قربها من العاصمة مسقط من الأقرب إلى الأبعد بكتابة الرقم الصحيح بين القوسين

() الرستاق.

() نزوى.

() صلالة.

() صحار.


٢ - أنظر إلى الشكل الذي أمامك ثم أجب عن الأسئلة الآتية:

أ- اكتب ما يلي في مكانه الصحيح :

(الدواليب المائية / توربين)

ب بالاستعانة بالشكل اشرح طريقة توليد

الطاقة الكهربائية.



.....

.....

.....

.....

ثالثاً:

1- علل : تسمية نزوى قديماً بيضة الاسلام.

.....

.....

2- فسر كثرة القلاع والحصون والابراج في المدن العمانية؟

.....

.....

انتهت الأسئلة مع الدعاء للجميع بالتوفيق والنجاح



سلطنة عُمان
وزارة التربية والتعليم

نموذج إجابة امتحان الصف الثامن الأساسي

للعام الدراسي 1444 / 1445 هـ - 2023 / 2024 م

الفصل الدراسي الثاني - الدور الثاني

الدرجة الكلية : (٤٠) درجة

المادة الدراسات الاجتماعية

تنبيه : نموذج الإجابة في (٤) صفحات

أولاً : إجابة السؤال الموضوعي : -

الدرجة الكلية : (١٦) درجة			إجابة السؤال الأول		
ملاحظات	الصفحة	الدرجة	الإجابة	البديل الصحيح	المفردة
	١١٠	2	ظفار	د	1
	١0	2	71%	ج	2
	٥٣	2	ماجلان	ب	3
	٧٠	2	الشمال الشرقي	أ	4
	65	2	جيمس واط	ج	5
	32	2	دارس	د	6
	88	2	السيد حمد بن سعيد	ب	7
	38	2	د شناس لوى صحرار صحم	د	8
					9
١٦ درجة			المجموع		

(2)

تابع نموذج إجابة امتحان الصف الثامن

للعام الدراسي 1444 / 1445 هـ - 2023 / 2024 م

الفصل الدراسي الثاني - الدور الثاني

المادة : الدراسات الاجتماعية

ثانياً: إجابة الأسئلة المقالية:-

الدرجة الكلية : (٨) درجة			إجابة السؤال الثاني			
ملاحظات	الصفحة	الدرجة	الإجابة الصحيحة		المفردة	الجزئية
	١٦	1	البحيرة		1	أولا
	64	1	المستشرقون		2	
	29	درجتين (لكل جزئية درجة)	سدود التخزين	سدود التغذية الجوفية	1	ثانيا
		درجة	سد وادي غول	سد الجبل الأخضر		
		درجة	أ- عين الكسفة.		2	
		درجة	ب الرستاق.			
		درجة	ج- استخدمت منذ القدم للشرب والري والاستشفاء ، كما تشكل هذه العيون حالياً مناطق جذب سياحي مهم ، إذ يستخدمها العديد من الزوار للاستحمام ، والاستشفاء ، والنزهة			
	22	درجة	(√) صح			
	22	واحدة	نظراً للكميات الكبيرة من البضائع التي يتم نقلها من مكان لآخر في وقت واحد كما أن خطوط الملاحة حرة درجة ولا تحتاج إلى صيانة.		-	
8 درجات			المجموع			

(3)

تابع نموذج إجابة امتحان الصف الثامن

الدرجة الكلية : (٨) درجة			إجابة السؤال الثالث		
ملاحظات	الصفحة	الدرجة	الإجابة الصحيحة	المفردة	الجزئية
	71	1	محافظة مسقط	1	أولاً
	114	درجتان (لكل جزئية درجة واحدة)		2	
	91	درجتان (لكل جزئية درجة)		3	
	70	درجة	الجنوب الشرقي	1	ثانياً
	70	1	دول الخليج العربية وايران/ اليمن وشرقي أفريقيا/ الهند وجنوب شرقي آسيا (يكتفي بذكر اثنين)	2	
	44 44	1	ازدهارها اقتصاديا/ اصبحت مركز جذب واستقرار بشري. (بما يفيد المعنى)	3	
8 درجات			المجموع		

(4)

تابع نموذج إجابة امتحان الصف الثامن

للعام الدراسي 1444 / 1445 هـ - 2023 / 2024 م

الفصل الدراسي الثاني - الدور الثاني

المادة : الدراسات الاجتماعية

تابع ثانياً: إجابة الأسئلة المقالية:-

الدرجة الكلية : (٨) درجة			إجابة السؤال الرابع		
ملاحظات	الصفحة	الدرجة	الإجابة الصحيحة	المفردة	الجزئية
	101 105	درجتان (لكل جزئية درجة واحدة)			أولاً
	93 83 107 99	درجتان (لكل جزئية نصف درجة)	(٢) الرستاق. (١) نزوى. (٤) صلالة. (٣) صحار.	1	ثانياً
	21	درجة واحدة جزئية نصف درجة)		أ -	2
	21	1	ب - يتم احتجاز المياه خلف السدود ومن ثم إطلاقها لتحرك توربينات كبيرة تولد الكهرباء مثل السد العالي في مصر.		

	85	1- لكثرة دور العلم العلماء فيها.		ثالثا
	86/47	2- بهدف حماية المدن وحراستها . بما يفيد المعنى	-	
8 درجات		المجموع		

((نهاية نموذج الإجابة))



مِنَاطِلُهُ حَمَّانٌ
وَأَوَّلُ الرِّبْرِ وَالْعَلَمِ

امتحان مادة : الدراسات الاجتماعية

للسف : الثامن

للعام الدراسي ١٤٤٥هـ - ٢٠٢٣م / ٢٠٢٤م

الدور : الأول - الفصل الدراسي : الثاني

(الفترة المسائية)

الفترة المسائية

- زمن الامتحان : (ساعة ونصف)
- عدد صفحات أسئلة الامتحان : (٧) صفحات.
- الإجابة في الدفتر نفسه .

		اسم الطالب
الصف		المدرسة

التوقيع بالاسم		الدرجة		السؤال
المصحح الثاني	المصحح الأول	بالحروف	بالأرقام	
				١
				٢
				٣
				٤
				٥
مراجعة الجمع	جمعه			المجموع
				المجموع الكلي

أجب عن جميع الأسئلة الآتية

السؤال الأول: ضع دائرة حول رمز الإجابة الصحيحة لكل مفردة من المفردات الآتية:

١- القطاع الذي يستهلك أكثر من ثلثي امياه مقارنة مع الاستخدامات المختلفة :

أ - الصناعة

ب - التجارة

ج - الزراعة

د - الاستخدام المنزلي

الدرجة: _____

١٢

٢ - يشير الرقم (١) في الشكل المقابل إلى إحدى مراحل الدورة المائية :



أ - التكاثف

ب - التبخر

ج - النتح

د - التساقط

٣ - العام الميلادي الذي تمكن فيه البريطانيون من صناعة آلة الغزل اليدوية :

أ - ١٧٦٤

ب - ١٧٦٥

ج - ١٧٦٦

د - ١٧٦٧

٤ - المحافظة التي توجد بها الولاية الواضحة على الخريطة:



أ - الوسطى

ب - ظفار

ج - الداخلية

د - الظاهرة

٥ - أصبحت مدينة مسقط عاصمة لعمان عام (١٧٨٤م) في عهد السيد :

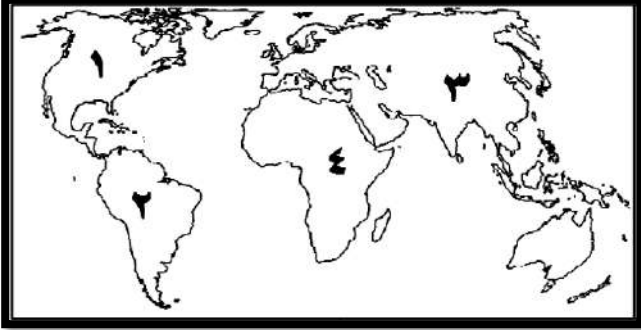
١ - سلطان بن احمد ب - سعيد بن سلطان ج - حمد بن سعيد د - ثوين بن سعيد

٦ - يبلغ أقصى ارتفاع للجبل الأخضر عن مستوى سطح البحر حوالي :

أ - ١٠٠٠ متر ب - ٢٠٠٠ متر ج - ٣٠٠٠ متر د - ٤٠٠٠ متر

تابع السؤال الأول:

٧- الرقم الذي يشير إلى القارة التي ستواجه فيها (٢٥) دولة خطر العجز المائي بحلول عام ٢٠٢٥ م



حسب إحصائيات الأمم المتحدة في الشكل المقابل :

أ - (١) ب - (٢)

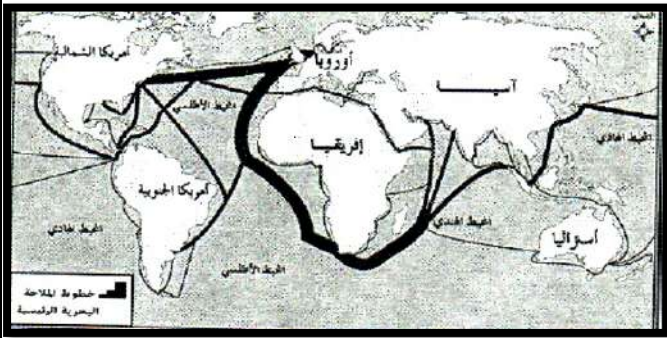
ج - (٢) د - (٤)

٨ - الطريق البحري الذي يتميز بأعلى كثافة حركة

ملاحة بحرية في الخريطة الآتية :

أ - البحر المتوسط ب - البحر الأحمر

ج - المحيط الهادي د - المحيط الأطلسي



٩ - الخريطة التي تحدد المسار الصحيح للرحلة الاستكشافية للملاح جاك كارتيه :



ب -



أ -



د -

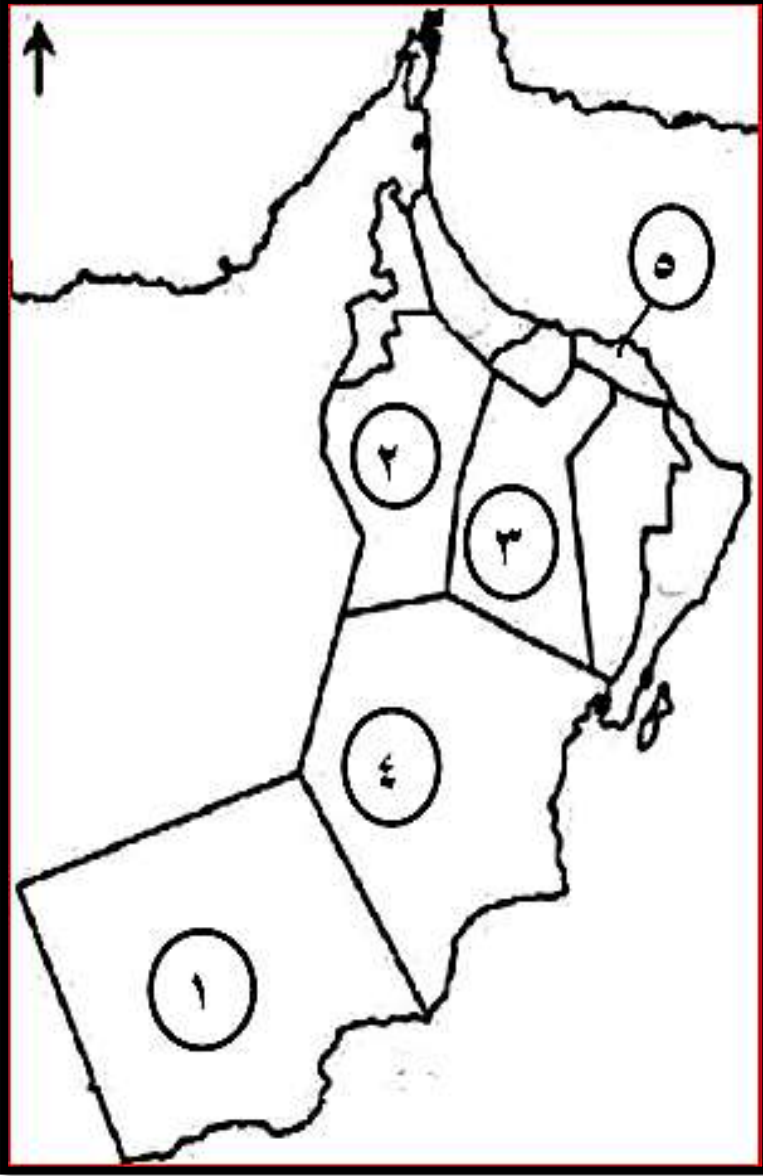


ج -

تابع السؤال الأول:

١٠ - الجدول الصحيح الذي يمثل محافظتي مسقط والداخلية حسب الموقع من خلال خريطة

سلطنة عمان التي أمامك :



المحافظة	الرقم الدال عليها
مسقط	٥
الداخلية	٣

أ -

المحافظة	الرقم الدال عليها
مسقط	٤
الداخلية	٢

ب -

المحافظة	الرقم الدال عليها
مسقط	٥
الداخلية	٢

ج -

المحافظة	الرقم الدال عليها
مسقط	١
الداخلية	٤

د -

١١- مؤلف كتاب (الأمير) الذي ضمّنه كل أفكاره عن أصول الحكم وفن السياسة:

أ - دانتي ب - مايكل أنجلو ج - كوبرنيكس د - ميكافيلي

١٢ - النسبة المئوية التي تغطيها المياه من سطح الأرض :

أ - ٧٠ ب - ٧١ ج - ٧٢ د - ٧٣

(٤)

المادة : الدراسات الاجتماعية - الصف : الثامن - الدور الأول - الفصل الدراسي الثاني - العام الدراسي ٢٠٢٣/٢٠٢٤ م

السؤال الثاني :

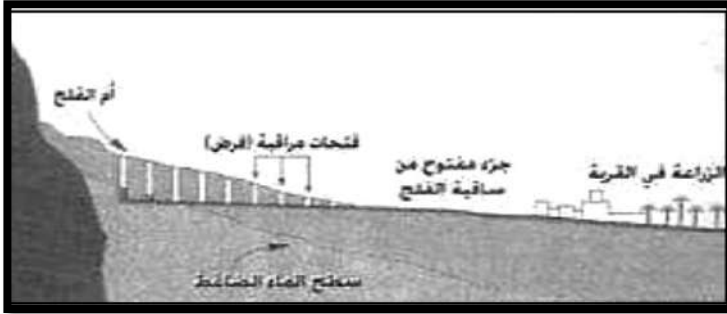
الدرجة: _____

٨

أولاً- أ - أكتب اسم المصطلح أو المفهوم الدال على العبارات التالية :

المصطلح / المفهوم	العبرة
.....	١ - مسطحات مائية ضحلة تظهر بصورة دائمة أو مؤقتة تنمو فيها النباتات المائية المتنوعة.
.....	٢ - تحويل مادة القطن أو الكتان أو الصوف إلى خيوط

ب - من خلال الشكل المقابل أكمل الفراغات التالية :



١ - نوع الفلج :

٢ - مصدره :

.....

ثانياً: أذكر واحداً مما يأتي : أ - مميزات النقل البحري .

ب - مصادر تلوث المياه .

ثالثاً: أ - فسر ما يلي : تنوع الحاصلات والمنتجات الزراعية في نزوى .

ب - أذكر سبباً واحداً من أسباب قيام حركة الاكتشافات الجغرافية .

ج - دلل "تقدير جلالة السلطان قابوس (طيب الله ثراه) للدور العماني في الملاحة البحرية"

السؤال الثالث :

أولاً: ادرس الخريطة التي أمامك ثم أجب عن الأسئلة التالية :

الدرجة: _____

٨



أ - ما اسم المحافظة المظللة على الخريطة.

ب - ارسم الرموز الآتية على الخريطة

حسب موقعها الصحيح :

المحافظة التي يوجد بها جبل آتين . ▲


المحافظة التي يوجد بها أكاديمية ●

السلطان قابوس لعلوم الشرطة .

ثانياً: أذكر نتيجة واحدة ترتبت على :

أ - بُعد بريطانيا عن الحروب والتوترات التي شهدتها أوروبا .

ب - اختراع الطباعة في القرن الخامس عشر الميلادي .



ثالثاً: أ - من هو مخترع الآلة الموضحة في الصورة المقابلة .

ب - " تتمتع مدينة الرستاق بالعديد من المقومات السياحية تتمثل في المعالم التراثية والأودية

والعيون والينابيع المائية " في ضوء هذه العبارة أجب عن الأسئلة الآتية :

١ - أذكر مثلاً واحداً عن العيون المائية المعدنية الساخنة في مدينة الرستاق .

٢ - ما الهدف من زيارة السياح للعيون المائية في سلطنة عمان .

السؤال الرابع: أولاً: قارن في الجدول الآتي بين سدود التخزين

الدرجة: _____

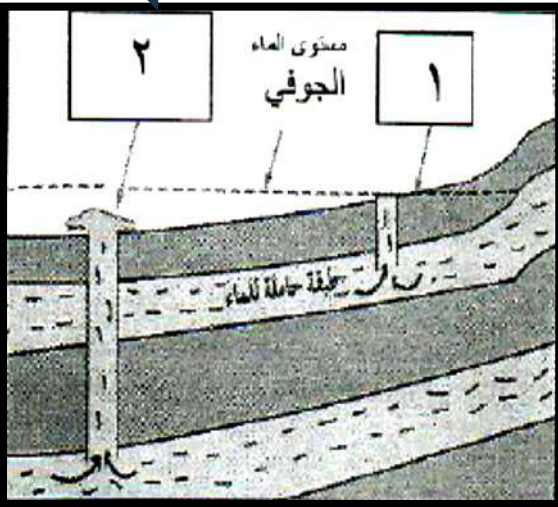
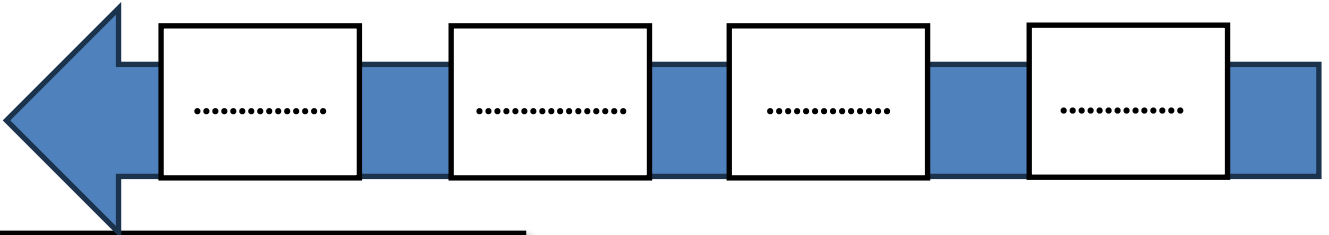
٦

(الهدف من انشائها / مثال عليها)

سدود الحماية	سدود التخزين	المقارنة
.....	الهدف من انشائها
.....	مثال عليها

ثانياً: أكمل الخط الزمني بكتابة الرقم الدال على الأحداث من الأقدم إلى الأحدث:

- ١ - اكتشاف العالم الجديد (أمريكا الجنوبية) .
- ٢ - اختراع أول آلة لبذر الحبوب في بريطانيا .
- ٣ - غزو الفرنجة لبلدان المشرق الإسلامي (تركيا وبلاد الشام ومصر) .
- ٤ - فتح المسلمون لمدينة القسطنطينية .

**ثالثاً: ادرس الشكل المقابل ثم أجب عن الآتي :-**

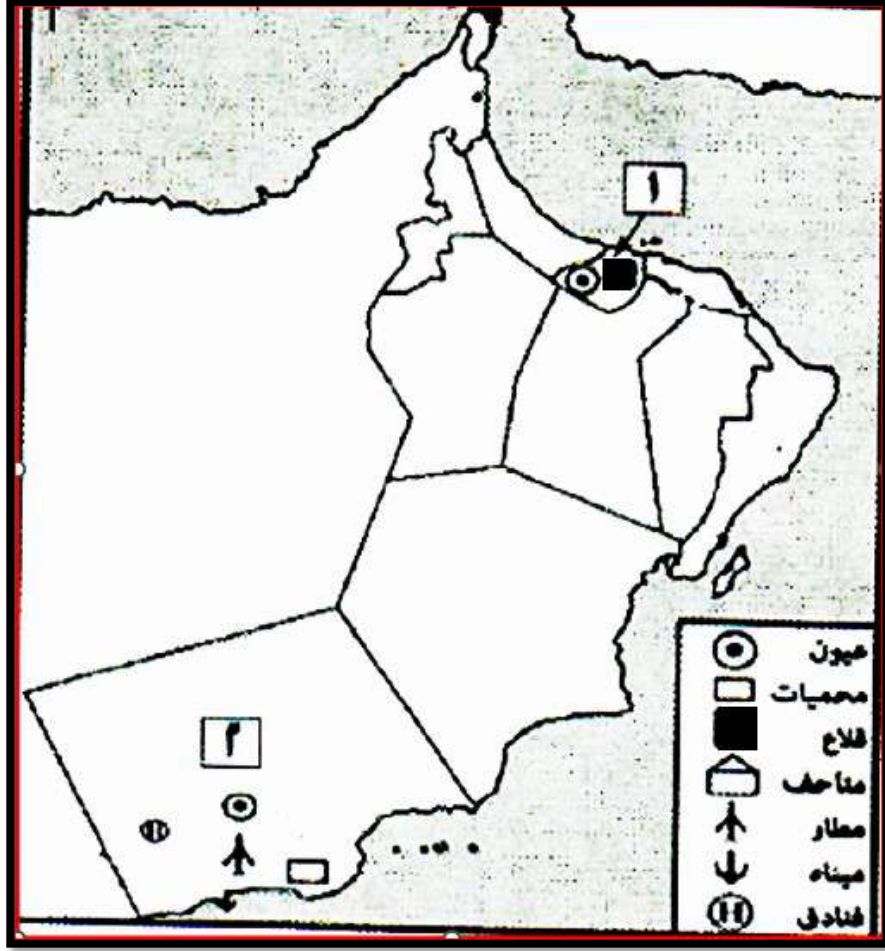
أي الآبار في الشكل يعد بئراً ارتوازيّاً طبيعياً يرتفع فيه الماء تلقائياً (١) - (٢) (ضع دائرة حول الإجابة)

فسر إجابتك

.....

.....

السؤال الخامس : أولاً :- ادرس خريطة سلطنة عمان، ثم قارن بين المحافظة المشار إليها بالرقم (١) والمحافظة المشار إليها بالرقم (٢) حسب الجدول التالي:



الدرجة: _____
٦

خريطة المعالم الطبيعية والحضارية في سلطنة عمان

وجه المقارنة	المعالم الطبيعية	المعالم الحضارية	المسطح المائي الذي تطل عليه
رقم (١)
رقم (٢)

ثانياً: عدد أبرز المؤسسات والمنشآت الاقتصادية التي تتميز بها مدينة مسقط .

أ - ب -

ثالثاً: أذكر واحداً من السهول الفسيحة في مدينة صلالة .

.....

(انتهت الأسئلة مع الدعاء للجميع بالتوفيق والنجاح)

الفترة المسائية



نموذج إجابة امتحان الصف : الثامن
للعام الدراسي ١٤٤٥ هـ - ٢٠٢٣م/٢٠٢٤
الدور : الأول - الفصل الدراسي : الثاني (فترة مسائية)

المادة : الدراسات الاجتماعية
الدرجة الكلية: (٤٠) درجة.
تنبيهه: نموذج الإجابة في (٥) صفحات.

أولاً: إجابة السؤال الموضوعي: الدرجة (١٢)

المفردة	البديل الصحيح	الإجابة	الدرجة	الصفحة	المستوى المعرفي
١	ج	الزراعة	١	١٩	تذكر
٢	د	التساقط	١	١٢	فهم وتطبيق
٣	أ	١٧٦٤	١	٦٤	تذكر
٤	ب	ظفار	١	١٠٨	فهم وتطبيق
٥	ج	حمد بن سعيد	١	٧٣	تذكر
٦	ج	٣٠٠٠ متر	١	٨٨	تذكر
٧	د	٤	١	٢٦+٢٥	فهم وتطبيق
٨	د	المحيط الأطلسي	١	٢٣	قدرات عليا
٩	ج		١	٦٠+٥٣	فهم وتطبيق
١٠	أ	المحافظة الرقم الدال عليها مسقط الداخلية	١	٨٤+٧١	فهم وتطبيق
١١	د	ميكافيلي	١	٤٧	تذكر
١٢	ب	٧١	١	١٠	تذكر
المجموع					

(٢)

تابع نموذج إجابة امتحان الصف : الثامن

للعام الدراسي ١٤٤٥ هـ - ٢٠٢٣م/٢٠٢٤م

الدور : الأول / الفصل الدراسي : الثاني / الفترة المسائية

المادة : : دراسات اجتماعية

ثانياً: إجابة الأسئلة المقالية:

الدرجة الكلية للسؤال (٨) درجات				إجابة السؤال الثاني	
المستوى المعرفي	الصفحة	الدرجة	الإجابة الصحيحة	المفردة	الجزئية
تذكر	١٥	١	١ - المستنقعات	أ	أولاً
تذكر	٦٤	١	٢ - الغزل		
فهم وتطبيق	٣٢	١ لكل جزئية نصف درجة	١ - نوع الفلج : داودي ٢ - مصدره : المياه الجوفية عند سفوح الجبل	ب	
تذكر	٢٢	١	أرخص أنواع النقل / أقل خطورة / الأكثر اقتصاداً (يكتفي بواحد)	أ	ثانياً
تذكر	٢٤	١	١ - مياه الأمطار الحمضية التي تحتوي على نسبة عالية من أكاسيد الكبريت والنترجين . ٢ - النباتات والحشائش التي تعيق حركة المياه فتكثر القواقع والطفيليات . ٣ - استخدام المبيدات الحشرية في رش المحاصيل الزراعية والأسمدة الكيماوية لتسميد التربة. ٤ - ما تطرحه المصانع من فضلات سامة ومياه عادمة. (يكتفي بواحد)	ب	
فهم وتطبيق	٨٣	١	مناخها المتميز الذي يجمع بين المناخ شبه الجاف في السهول والأودية والمناخ المعتدل في الجبل الأخضر .	أ	ثالثاً
تذكر	٥٥	١	١ - البحث عن طرق تجارية جديدة تعطي الأوروبيين حرية التجارة وتوفر لهم السلع التي يحتاجونها دون وسيط تجاري ٢- نشر الديانة المسيحية في الأراض المكتشفة . ٣ - الرغبة في الثراء السريع بالبحث عن مواطن الذهب ومصادره . ٤ - التنافس بين الدول الأوروبية لزيادة ممتلكاتها من الأراضي (يكتفي بذكر واحد)	ب	
فهم وتطبيق	١٠٣	١	-حيث أمر جلالة السلطان قابوس (طيب الله ثراه) بتسيير رحلة بحرية مشابهة لرحلات العمانيين في القرون الماضية وتم بناء سفينة شراعية أطلق عليها (السفينة صحار) حيث أبحرت من مدينة صحار في عام ١٩٨٠م إلى مدينة كانتون بالصين ، واستغرقت الرحلة عاما كاملاً .	ج	

(٣)

تابع نموذج إجابة امتحان الصف : الثامن
 للعام الدراسي ١٤٤٥ هـ - ٢٠٢٣م / ٢٠٢٤م
 الدور : الأول / الفصل الدراسي : الثاني / الفترة المسائية
 المادة : : دراسات اجتماعية

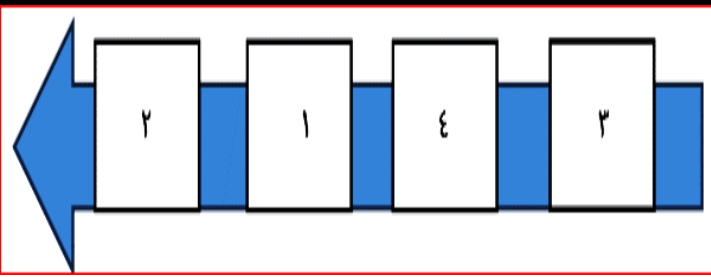
تابع ثانيا: إجابة الأسئلة المقالية:

اجابة السؤال الثالث :				
الدرجة الكلية للسؤال (٨) درجات				
الجزئية	المفردة	الإجابة الصحيحة	الدرجة	الصفحة
أولاً	أ	محافظة مسقط	١	٧١
	ب		٢ لكل جزئية درجة واحدة	١١٤ ٩١
ثانياً	١	-ساهم في استقرارها وتوفير جو من الاستثمار والاختراع .	١	٦٢
	ب	- أحدث تطوراً كبيراً في طباعة الكتب المتعلقة بالعلوم والآداب والفنون . - سهل على الكثيرين الاطلاع على العلوم المختلفة وقراءتها ونشرها . (يكتفي بذكر واحد في سياق المعنى)	١	٤٧
ثالثاً	أ	جيمس واط	١	٦٥
	ب	١ - عين الكسفة / عين الخضراء / عين الصائغي (يكتفي بواحدة) ٢ - الاستحمام / الاستشفاء / النظهة . (يكتفي بواحدة)	١	٩٨ ٩٨

(٤)

تابع نموذج إجابة امتحان الصف : الثامن
للعام الدراسي ١٤٤٥ هـ - ٢٠٢٣م / ٢٠٢٤م
الدور : الأول / الفصل الدراسي : الثاني / الفترة المسائية
المادة : : دراسات اجتماعية

تابع ثانياً: إجابة الأسئلة المقالية:

اجابة السؤال الرابع :		الدرجة الكلية للسؤال (٦) درجات					
المستوى المعرفي	الصفحة	الدرجة	الإجابة الصحيحة			المفردة	الجزئية
فهم وتطبيق	٢٩ ٣٠	٢ لكل جزئية نصف درجة	سدود الحماية	سدود التخزين	المقارنة		أولاً
			حماية المناطق المجاورة من أخطار فيضانات الأودية	تخزين المياه والإفادة منها وقت الجفاف	الهدف من انشائها		
			سد وادي الجزبي / سد وادي الفليج / سد وادي الأنصب (واحد فقط)	سدود الجبل الأخضر	أمثلة عليها		
قدرات عليا	٤٨ ٤٦ ٥٨ ٦٣	٢ لكل جزئية نصف درجة					ثانياً
قدرات عليا	٣٤	٢ لكل جزئية درجة واحدة	<p>٢</p> <p>- يصل فيها منسوب المياه الجوفية إلى سطح الأرض أو قريباً منه . / لأن مستوى الماء الجوفي أعلى من مستوى فتحة البئر / زيادة ضغط الماء عند فتحة البئر رقم (٢) / لا يتطلب رفع الماء جهداً كبيراً</p> <p>(ما يفيد في سياق المعنى)</p>				ثالثاً

(٥)

تابع نموذج إجابة امتحان الصف : الثامن
للعام الدراسي ١٤٤٥ هـ - ٢٠٢٣م / ٢٠٢٤م
الدور : الأول / الفصل الدراسي : الثاني / الفترة المسائية
المادة : : دراسات اجتماعية

تابع ثانياً: إجابة الأسئلة المقالية:

اجابة السؤال الخامس :		الدرجة الكلية للسؤال (٦) درجات			
الجزئية	المفردة	الإجابة الصحيحة	الدرجة	الصفحة	المستوى المعرفي
أولاً		وجه المقارنة	المعالم الطبيعية	المعالم الحضارية	المسطح
		المحافظة			المائي الذي تطل عليه
		رقم (١)	عيون	قلاع	بحر عمان
		رقم (٢)	عيون /	مطار / ميناء / فنادق	بحر
			محميات	(يكتفي بذكر واحد)	العرب
ثانياً		البنوك المتخصصة - سوق مسقط - ميناء السلطان قابوس - ميناء الفحل لتصدير البترول - مصفاة النفط - محطة الغبرة لتحلية المياه وتوليد الطاقة الكهربائية - منطقة الرسيل الصناعية . (يكتفي باثنين فقط)	٢	٨١	تذكر
ثالثاً		سهل أتين - سهل صحنوت . (يكتفي بذكر واحد)	١	١١٤	تذكر

نهاية نموذج الإجابة



امتحان مادة: الدراسات الاجتماعية

للف: الثامن

للعام الدراسي ١٤٤٥ هـ - ٢٠٢٣/٢٠٢٤ م
الدور الأول (مساوي) - الفصل الدراسي الثاني

- زمن الامتحان: (ساعة ونصف) • عدد صفحات أسئلة الامتحان: (٦) صفحات.
- الإجابة في الدفتر نفسه.

اسم الطالب	
الصف	المدرسة

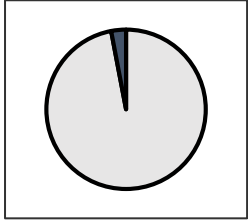
التوقيع بالاسم		الدرجة		السؤال
المصحح الثاني	المصحح الأول	بالأرقام	بالحروف	
				١
				٢
				٣
				٤
				٥
مراجعة الجمع	جمعه			المجموع
				المجموع الكلي

أجب عن جميع الأسئلة الآتية


السؤال الأول: ضع دائرة حول رمز الإجابة الصحيحة لكل مفردة من المفردات الآتية:

١٢


١- الشكل البياني الذي يمثّل توزيع المياه العذبة والمياه المالحة على سطح الأرض




د-



ج-

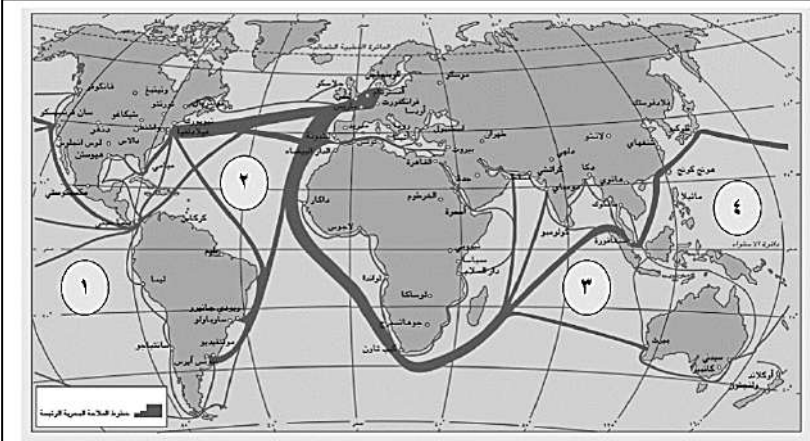


ب-



أ-

٢- الرقم الذي يشير إلى طريق النقل البحري الأكثر ازدحاماً في العالم والموضح في الخريطة المقابلة:



أ- ١

ب- ٢

ج- ٣

د- ٤

٣- الوصف الصحيح للعجز المائي في سلطنة عمان:

أ- قليل. ب- نادر. ج- متوسط. د- كبير.

٤- النسبة المئوية للأفلاج العينية من إجمالي الأفلاج في سلطنة عمان:

أ- ١٨% ب- ٢٨% ج- ٣٨% د- ٤٨%

٥- الحضارة التي كان لها الأثر العظيم في النهضة الأوروبية:


أ- الصينية ب- الفينيقية ج- الإسلامية د- الفرعونية.

٦- السبب الذي ليس له علاقة بقيام الاكتشافات الجغرافية الأوروبية:

أ- نشر السلام. ب- البحث عن الذهب. ج- نشر المسيحية. د- البحث عن أراض جديدة.

تابع/السؤال الأول:

٧- القوة المحركة لآلة الظاهرة في الصورة المقابلة:



أ- البخار.

ب- الكهرباء.

ج- الماء.

د- الرياح.

٨- المعلم الأثري العماني الموضح في الصورة المقابلة:



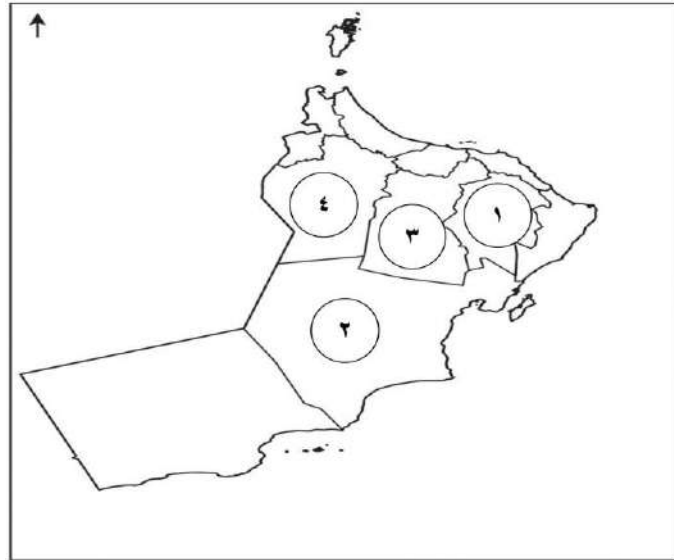
أ- قلعة نزوى.

ب- قلعة الجلاي.

ج- حصن جبرين.

د- حصن الحزم.

٩- الرقم الذي يشير الى المحافظة العمانية التي توجد بها مدينة نزوى:



أ- ١.

ب- ٢.

ج- ٣.

د- ٤.

١٠- جميع العيون المائية الآتية توجد في ولاية الرستاق ماعدا:

د- الثوارة.

ج- الصانغي.

ب- الكسفة.

أ- الخضراء.

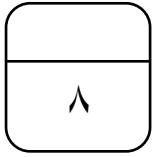
يتبع/٣

تابع/السؤال الأول:

- ١١- المدينة العمانية التي كان لها شرف استقبال رسالة الرسول- صلى الله عليه وسلم- إلى ملكي عمان عبد وجيفر ابني الجلندي:
أ- صحار. ب- نزوى. ج- الرستاق. د- مسقط.
- ١٢- عدد الولايات التي تضمها محافظة ظفار:
أ- ٥ ب- ١٠ ج- ١٥ د- ٢٠

السؤال الثاني:

أولاً: اكتب تعريفا لكل مما يأتي:



١- الجليد:

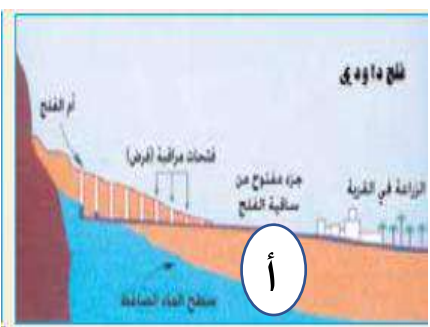
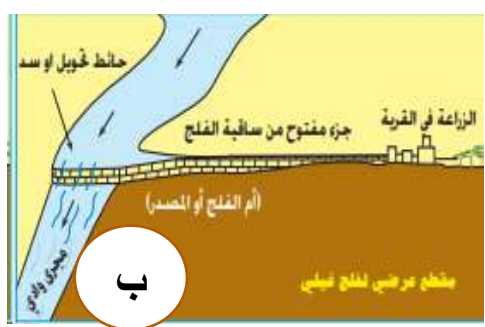
٢- السدود:

ثانياً: اكتب سبباً واحداً لكل مما يأتي:

١- تملح المياه الجوفية في ساحل الباطنة.

٢- مشكلة استنزاف المياه.

ثالثاً: قارن بين شكلي الأفلاج العمانية حسب الجدول الآتي:

أشكال الفلج		وجه المقارنة
		
		فترة جريانه
		النسبة المئوية من مجموع أفلاج سلطنة عمان

يتبع/٤

السؤال الثالث:

أولاً: أكتب المفهوم الدال على العبارات في الجدول الآتي:

م	العبرة	المفهوم
١	المياه المختزنة في باطن الأرض بين مسام الصخور وطبقاته.	
٢	مسطحات مائية ضحلة تظهر بصورة دائمة أو مؤقتة تنمو فيها النباتات المائية المتنوعة.	
٣	أحد أنواع الآبار تنبثق مياهها تلقائياً دون الحاجة إلى عملية الرفع.	

ثانياً: رتب مظاهر الثورة الصناعية من الأقدم إلى الأحدث باستخدام الأرقام (١-٢-٣-٤):

- () اختراع آلة جديدة للحصاد تجر بواسطة الخيول.
- () اختراع أول آلة لبذر الحبوب.
- () اختراع المغزل الآلي.
- () صناعة آلة الغزل اليدوية.

ثالثاً: انسب الشخصيات بين القوسين إلى الإنجازات التي قامت بها وفق المعطيات في الجدول الآتي:

(جون كابوت - فاسكو دي جاما - كريستوفر كولمبوس)

الشخصية	الإنجازات
	قاد رحلة برتغالية بحرية مكونة من ٤ سفن عالم ١٤٩٧ م تمكنت من الوصول إلى الهند.
	اكتشف أجزاء من أمريكا الشمالية.
	وصل إلى أمريكا الجنوبية وأطلق عليها اسم العالم الجديد.



٦

السؤال الرابع:

أولاً: اذكر واحدا لكل مما يلي:
١- ملامح العصور الوسطى في أوروبا.

٢- العيون المائية الجاذبة للسياحة في مدينة صلالة.

ثانياً: - أكمل بيانات البطاقة التعريفية للمعالم السياحية والتاريخية وفق الجدول الآتي:

		صورة المعالم
		اسم المعلم
		المحافظة التي يوجد بها

٦

السؤال الخامس:

أولاً: ادرس خريطة سلطنة عمان المقابلة ثم أجب عن الأسئلة الآتية:



- ١ - ظلل المحافظة التي توجد بها ولاية صلالة.
- ٢ - أكتب على الخريطة كل من بحر عمان وبحر العرب في موقعهما الجغرافي الصحيح.

يتبع/٦





المادة: الدراسات الاجتماعية الصف: الثامن
الدور الأول - الفصل الدراسي الثاني - العام الدراسي ٢٠٢٣ / ٢٠٢٤ م

ثانيا: فسر ما يلي:

١- تسمية مدينة نزوى بهذا الاسم.

٢- تزخر شواطئ صلالة بثروة سمكية هائلة.

ثالثا: صنف المعالم الحضارية الموضحة في الصور إلى نوعها (قصر - متحف - قلعة - بوابة).

				صورة المعلم
				نوع المعلم

انتهت الأسئلة وتمنياتنا لكم بالتوفيق والنجاح



نموذج إجابة امتحان الصف الثامن
للعام الدراسي ١٤٤٥ هـ - ٢٠٢٣/٢٠٢٤ م
الدور الأول (مساوي) - الفصل الدراسي الثاني

المادة: الدراسات الاجتماعية
الدرجة الكلية: (٤٠) درجة.
تنبيه: نموذج الإجابة في (٦) صفحات.

أولاً: إجابة السؤال الموضوعي:

الدرجة الكلية: (١٢) درجة				إجابة السؤال الأول			
المستوى المعرفي	المخرج التعليمي	الصفحة	الدرجة	الإجابة		البديل الصحيح	المفردة
		١٣	١			د	١
		٢٣	١	٢		ب	٢
		٢٦	١	كبير		د	٣
		٣٢	١	٢٨%		ب	٤
		٥٠	١	الاسلامية		ج	٥
		٥٥	١	نشر السلام		أ	٦
		٦٥	١	البخار		أ	٧
		٧٥	١	قلعة الجلاي		ب	٨
		٨٣	١	٣		ج	٩
		٩٨	١	الثوارة		د	١٠
		١٠٢	١	صحار		أ	١١
		١٠٧	١	١٠		ب	١٢
				المجموع			

يتبع/٢

تابع نموذج إجابة امتحان الصف الثامن
للعام الدراسي ١٤٤٥ هـ - ٢٠٢٣/٢٠٢٤ م
الدور الأول- الفصل الدراسي الثاني
المادة : الدراسات الاجتماعية

ثانيا: إجابة الأسئلة المقالية:

الدرجة الكلية: (٨) درجة				إجابة السؤال الثاني														
المستوى المعرفي	المخرج التعليمي	الصفحة	الدرجة	الإجابة الصحيحة	المفردة	الجزئية												
		١٤	١	ثلج متراكم فوق بعضه يتميز بصلابته نتيجة انضغاطه.	١	أولا												
		٢٩	١	إنشاءات هندسية لتخزين المياه.	٢													
		٣٨	١	استخدام المضخات الحديثة في سحب المياه الجوفية وبالتالي زيادة السحب / تزايد عدد السكان واحتياجاتهم المائية. / سوء استخدام المياه في الري.	١													
		٢٥	١	الاستخدام العشوائي للمياه والري بالغمر يؤدي إلى هدر واسع لكميات كبيرة من المياه/ سوء شبكات توزيع المياه لا سيما في المدن الكبيرة، وهو ما يؤدي إلى فقدان كميات كبيرة من المياه قبل وصولها للمنازل/ ازدياد سحب الماء نتيجة استخدام أجهزة السحب الكهربائي التي تتعمق الى مسافات بعيدة من المياه الجوفية/ ضعف إدارة الموارد المائية في كثير من مناطق العالم حيث تذهب كميات كبيرة من المياه السطحية ومياه الأمطار الى البحار والمحيطات.	٢	ثانيا												
		٣٢	٤ لكل درجة	<table border="1"> <tr> <td></td> <td></td> <td>أشكال الفلج</td> </tr> <tr> <td>ينقطع جريانه في فترات الجفاف</td> <td>دائم الجريان وتقل مياهه وقت الجفاف</td> <td>وجه المقارنة</td> </tr> <tr> <td>٤٨,٥%</td> <td>٢٣,٥%</td> <td>فترة جريانه</td> </tr> <tr> <td></td> <td></td> <td>النسبة المئوية من مجموع أفلاج سلطنة عمان</td> </tr> </table>			أشكال الفلج	ينقطع جريانه في فترات الجفاف	دائم الجريان وتقل مياهه وقت الجفاف	وجه المقارنة	٤٨,٥%	٢٣,٥%	فترة جريانه			النسبة المئوية من مجموع أفلاج سلطنة عمان		ثالثا
		أشكال الفلج																
ينقطع جريانه في فترات الجفاف	دائم الجريان وتقل مياهه وقت الجفاف	وجه المقارنة																
٤٨,٥%	٢٣,٥%	فترة جريانه																
		النسبة المئوية من مجموع أفلاج سلطنة عمان																

تابع نموذج إجابة امتحان الصف الثامن
للعام الدراسي ١٤٤٥ هـ - ٢٠٢٣/٢٠٢٤ م
الدور الأول- الفصل الدراسي الثاني
المادة : الدراسات الاجتماعية

الدرجة الكلية: (٨) درجة				إجابة السؤال الثالث										
المستوى المعرفي	المخرج التعليمي	الصفحة	الدرجة	الإجابة الصحيحة	المفردة	الجزئية								
		٣٠	١	المياه الجوفية	١	اولا								
		١٥	١	المستنقعات	٢									
		٣٤	١	الآبار الارتوازية	٣									
		٦٤ - ٦٣	٢ لكل ترتيب صحيح نصف درجة	(٤) اختراع آلة جديدة للحصاد تجر بواسطة الخيول (١) اختراع أول آلة لبذر الحبوب. (٣) اختراع المغزل الآلي. (٢) صناعة آلة الغزل اليدوية.		ثانيا								
		٥٧ ٥٩ ٥٨	٣ لكل درجة واحدة	<table border="1"> <thead> <tr> <th>الانجازات</th> <th>الشخصية</th> </tr> </thead> <tbody> <tr> <td>قاد رحلة برتغالية بحرية مكونة من ٤ سفن عالم ١٤٩٧ م تمكنت من الوصول الى الهند.</td> <td>فاسكو دي جاما</td> </tr> <tr> <td>اكتشف أجزاء من أمريكا الشمالية.</td> <td>جون كابوت</td> </tr> <tr> <td>وصل الى أمريكا الجنوبية وأطلق عليها اسم العالم الجديد.</td> <td>كريستوفر كولمبوس</td> </tr> </tbody> </table>	الانجازات	الشخصية	قاد رحلة برتغالية بحرية مكونة من ٤ سفن عالم ١٤٩٧ م تمكنت من الوصول الى الهند.	فاسكو دي جاما	اكتشف أجزاء من أمريكا الشمالية.	جون كابوت	وصل الى أمريكا الجنوبية وأطلق عليها اسم العالم الجديد.	كريستوفر كولمبوس		ثالثا
الانجازات	الشخصية													
قاد رحلة برتغالية بحرية مكونة من ٤ سفن عالم ١٤٩٧ م تمكنت من الوصول الى الهند.	فاسكو دي جاما													
اكتشف أجزاء من أمريكا الشمالية.	جون كابوت													
وصل الى أمريكا الجنوبية وأطلق عليها اسم العالم الجديد.	كريستوفر كولمبوس													

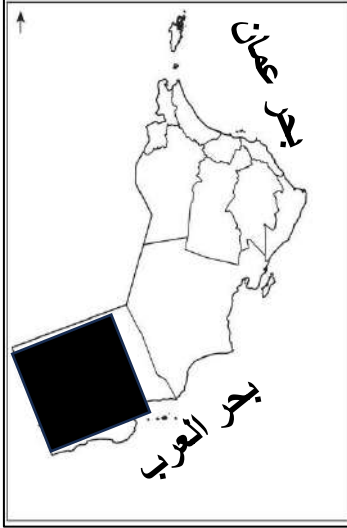
تابع نموذج إجابة امتحان الصف الثامن
للعام الدراسي ١٤٤٥ هـ - ٢٠٢٣/٢٠٢٤ م
الدور الاول- الفصل الدراسي الثاني
المادة : الدراسات الاجتماعية

ثانيا: إجابة الأسئلة المقالية:

الدرجة الكلية: (٦) درجة						إجابة السؤال الرابع	
المستوى المعرفي	المخرج التعليمي	الصفحة	الدرجة	الإجابة الصحيحة		المفردة	الجزئية
		٤٦	١	سيطرة الكنيسة الكاثوليكية / قيام النظام الإقطاعي أساسا للحياة الاقتصادية والاجتماعية في أوروبا.		١	أولا
		١١٤	١	عين حمران/ عين جريز/ عين صحنوت.		٢	
		٩٨ - ١٠١	٤ لكل درجة واحدة			صور المعالم	
				قلعة صحار	عين الكسفة	اسم المعلم	
				شمال الباطنة	جنوب الباطنة	المحافظة التي يوجد بها	

تابع نموذج إجابة امتحان الصف الثامن
للعام الدراسي ١٤٤٥ هـ - ٢٠٢٣/٢٠٢٤ م
الدور الاول- الفصل الدراسي الثاني
المادة : الدراسات الاجتماعية

ثانيا: إجابة الأسئلة المقالية:

الدرجة الكلية: (٦) درجة				إجابة السؤال الخامس		
المستوى المعرفي	المخرج التعليمي	الصفحة	الدرجة	الإجابة الصحيحة	المفردة	الجزئية
		٨٤	١	 <p>يظل على محافظة ظفار</p> <p>يكتب الطالب بحر عمان والبحر العربي في موقعهما الصحيح على الخريطة</p>	١	أولا
		٨٤	١		٢	
		٨٥	١	نسبة إلى عين ماء شمالي القلعة تسيل في وادي كلبوه / نسبة الى جبل في غربي البلدة (يكتفى بواحدة)	١	ثانيا
		١١٢	١	نظرا لسعة شواطئها المطلة على المحيط الهندي.	٢	
		٧٤ ٧٥ ٨١	٢ لكل نصف درجة	 <p>متحف بوابة قلعة قصر</p>	١	ثالثا

نهاية نموذج الإجابة



امتحان مادة: الدراسات الاجتماعية
للصف: الثامن
للعام الدراسي 1445/1444 هـ - 2024/2023 م
الدور الثاني - الفصل الدراسي الثاني

- زمن الامتحان: (ساعة ونصف) ● عدد صفحات أسئلة الامتحان: (6) صفحات.
- الإجابة في الدفتر نفسه.

اسم الطالب	
الصف	المدرسة

التوقيع بالاسم		الدرجة		الدرجة
المصحح الثاني	المصحح الأول	بالأرقام	بالحروف	
				1
				2
				3
				4
				5
مراجعة الجمع	جمعه			المجموع
				المجموع الكلي

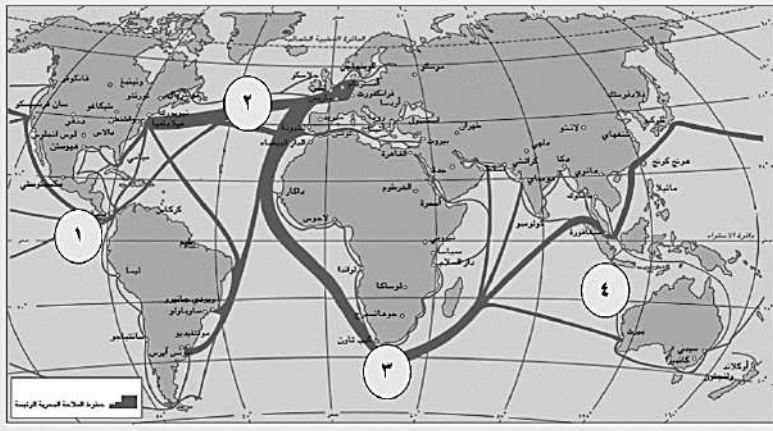
أجب عن جميع الأسئلة الآتية

السؤال الأول: ضع دائرة حول رمز الإجابة الصحيحة لكل مفردة من المفردات الآتية:

1- النسبة المئوية للمياه العذبة من إجمالي حجم المياه على سطح الأرض:

- أ- 3% . ب- 6% . ج- 9% . د- 12% .

2- الرقم الذي يشير الى طريق رأس الرجاء الصالح في الخريطة المقابلة:



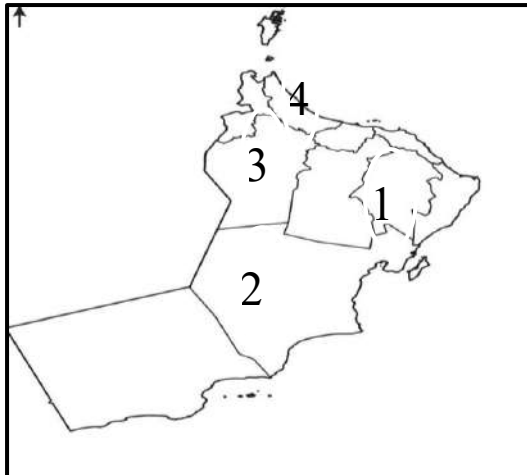
أ- 1

ب- 2

ج- 3

د- 4

3- الرقم الذي يشير الى المحافظة العمانية التي تظهر فيها مشكلة تملح المياه الجوفية بوضوح:



أ- 1

ب- 2

ج- 3

د- 4

4- القارة التي ستواجه 25 دولة منها عجزا مائيا بحلول عام 2025م حسب إحصاءات الأمم المتحدة:

- أ- أفريقيا. ب- أوروبا. ج- آسيا. د- أستراليا.

يتبع/2

المادة : الدراسات الاجتماعية الصف: الثامن
الدور الثاني - الفصل الدراسي الثاني - العام الدراسي 2023 / 2024م

5- العام الميلادي الذي تم فيه فتح القسطنطينية:

أ- 1451. ب- 1452. ج- 1453. د- 1454.

6- الدولة التي تنتمي إليها حضارة الأزتك:

أ- المكسيك. ب- جواتيمالا. ج- البيرو. د- البرازيل.

7- المصطلح الذي يطلق على عملية فصل البذور عن المادة القطنية:

أ- الغزل. ب- النسج. ج- الحلج. د- الحياكة.

8- المحافظة العمانية التي تتكون من ستة ولايات:

أ- الداخلية. ب- ظفار. ج- مسقط. د- البريمي.

9- الجدول الصحيح الذي يتضمن المعالم السياحية في ولاية نزوى:

وادي المعيدن	وادي السحتن	وادي المعيدن	وادي المعيدن
وادي عاهن	وادي تنوف	وادي الفرعي	وادي تنوف
فلج الميسر	فلج المالكي	فلج دارس	فلج دارس
برج القرن	برج القرن	برج القرن	برج القرن
(د)	(ج)	(ب)	(أ)

10- القريتان اللتان تضمهما ولاية الرستاق:

أ- جما / فرق. ب- الحزم / كرشا. ج- جما / الحزم. د- كرشا / فرق.

11- المدينة التي كانت عاصمة لعمان في عهد النبي صلى الله عليه وسلم:

أ- صحار. ب- نزوى. ج- الرستاق. د- مسقط.

12- المسطح المائي الذي تشرف عليه سواحل محافظة ظفار:

أ- البحر الأحمر. ب- بحر العرب. ج- بحر عمان. د- الخليج العربي.

السؤال الثاني:

أولاً: عرف كل مما يلي:

1- الثلج:

.....

2- الفلج:

.....

ثانياً: اكتب نتيجة واحدة لكل مما يلي:

1- تملح المياه الجوفية.

.....

2- الاستخدام العشوائي للمياه والري بالغمر.

.....

ثالثاً: قارن بين أنواع السدود في سلطنة عمان وفق الجدول الآتي:

نوع السد	سدود التغذية الجوفية	سدود التخزين
الهدف من إنشائه		
مثال عليه		

السؤال الثالث:

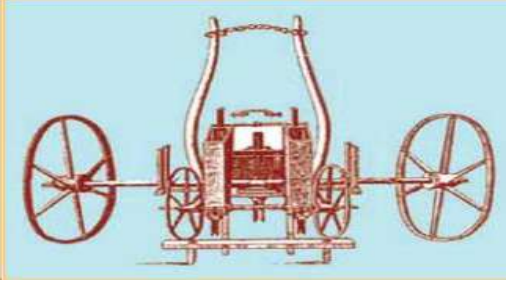

أولاً: أكتب المفهوم الدال على العبارات الآتية:

1	مياه مختزنة في باطن الأرض بين مسام الصخر وطبقاته.
2	مجاري مائية تنتقل فيها المياه من المنابع في المناطق المرتفعة إلى المصببات في البحار والمحيطات.
3	الاسم الذي يطلق محلياً على البئر

يتبع/4

المادة : الدراسات الاجتماعية الصف: الثامن
الدور الثاني - الفصل الدراسي الثاني - العام الدراسي 2023 / 2024م

ثانيا: قارن بين أشكال الآلات حسب معطيات الجدول الآتي:

		شكل الآلة
		وجه المقارنة
		اسم الآلة
		نتيجة واحدة ترتبت على اختراعها

ثالثا: انسب الأعمال بين القوسين الى الشخصيات التي قامت بها وفق المعطيات في الجدول الآتي: (اثبت كروية الأرض - اكتشف نهر سانت لويس في كندا - أول المستكشفين الذين وصلوا إلى الهند) .

الشخصية	العمل الذي ينسب إليه
فاسكو دي جاما	
ماجلان	
جاك كارتية	

السؤال الرابع:

أولا: اذكر واحدا لكل مما يلي:

1- أسباب قيام النهضة في إيطاليا قبل غيرها من الدول الغربية.

.....

2- أهم صادرات مدينة صلالة الى الأسواق العالمية القديمة.

.....

يتبع/5

المادة : الدراسات الاجتماعية الصف: الثامن
الدور الثاني - الفصل الدراسي الثاني - العام الدراسي 2023 / 2024م



ثانياً: - ادرس الصورة المقابلة ثم أجب عن الأسئلة الآتية:
أ- ما اسم السفينة الظاهرة في الصورة؟

ب- الجزء المسؤول عن تحريك هذه السفينة:

المجاديف	المحرك الآلي	الشرع

(اختر الإجابة بوضع إشارة ✓ تحت الخيار الصحيح)

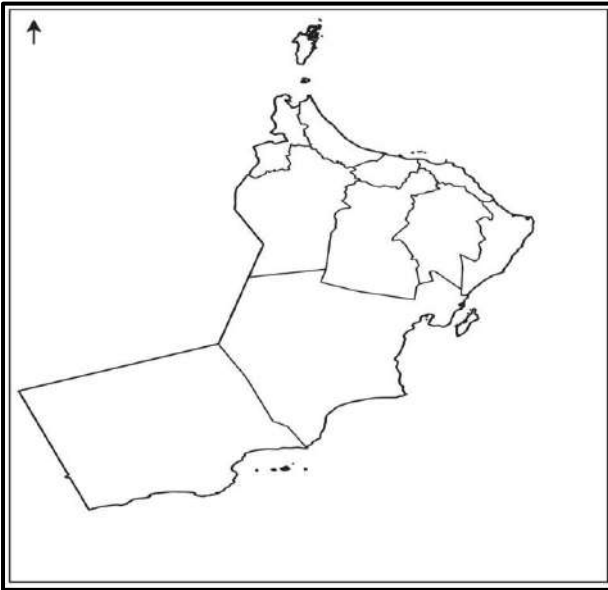
ج- اكتب اسم السلطان الذي أمر ببنائها.

د- أكمل بيانات هذه السفينة حسب الجدول الآتي:

	الدولة التي وصلت إليها
صحار	المدينة التي أبحرت منها
	العام الميلادي التي أبحرت فيه

السؤال الخامس:

أولاً: ادرس خريطة سلطنة عمان المقابلة ثم أجب عن الأسئلة الآتية:



1- ظلل المحافظة التي يوجد بها فوج دارس.

2- اكتب على الخريطة كل من: (بحر عمان /

بحر العرب) في موقعهما الجغرافي الصحيح.

المادة : الدراسات الاجتماعية الصف: الثامن
الدور الثاني - الفصل الدراسي الثاني - العام الدراسي 2023 / 2024م

ثانيا: علل ما يلي:

1- فوز سوق نزوى بجائزة المدن العربية.

2- اكتساب مدينة صحار عبر التاريخ أهمية حضارية واقتصادية كبيرة.

ثالثا: دلل على ما يلي:

1- وجود العديد من المؤسسات التعليمية والثقافية الحديثة بمدينة مسقط.

2- وجود العديد من المعالم الأثرية في مدينة الرستاق.

انتهت الأسئلة وتمنياتنا لكم بالتوفيق والنجاح



نموذج إجابة امتحان الصف الثامن
للعام الدراسي ١٤٤٥ هـ - ٢٠٢٣/٢٠٢٤ م
الدور الثاني - الفصل الدراسي الثاني

المادة: الدراسات الاجتماعية الدرجة الكلية: (٤٠) درجة.
تنبيه: نموذج الإجابة في (٦) صفحات.

أولاً: إجابة السؤال الموضوعي:

الدرجة الكلية: (١٢) درجة				إجابة السؤال الأول		
المستوى المعرفي	المخرج التعليمي	الصفحة	الدرجة	الإجابة	البديل الصحيح	المفردة
		١٠	١	٣%	أ	١
		٢٣	١	٣	ب	٢
		٣٨	١	٤	د	٣
		٢٥	١	أفريقيا	أ	٤
		٤٦	١	١٤٥٣	ج	٥
		٥٦	١	المكسيك	أ	٦
		٦٤	١	الحلج	ج	٧
		٧٠	١	مسقط	ج	٨
		٩+٨٦ ١	١	وادي المعيدن وادي تنوف فلج دارس برج القرن أ	أ	٩
		٩٥	١	جما/ الحزم	ج	١٠
		١٠٢	١	صحار	أ	١١
		١٠٧	١	بحر العرب	ب	١٢
						المجموع

تابع نموذج إجابة امتحان الصف الثامن
للعام الدراسي ١٤٤٥ هـ - ٢٠٢٣/٢٠٢٤ م
الدور الثاني - الفصل الدراسي الثاني
المادة : الدراسات الاجتماعية

ثانيا: إجابة الأسئلة المقالية:

إجابة السؤال الثاني															
الدرجة الكلية: (٨) درجة															
المستوى المعرفي	المخرج التعليمي	الصفحة	الدرجة	الإجابة الصحيحة	المفردة	الجزئية									
		١٤	١	حالة الماء الجامدة الصلبة، يتساقط على شكل بلورات نتيجة انخفاض درجة الحرارة إلى ما دون الصفر السيليزي.	١	أولا									
		٣٠	١	قناة اصطناعية تشق في باطن الأرض بين المنطقة الحاملة للمياه عند سفوح الجبال أو المناطق المرتفعة، وبين المناطق المعمورة أو المأهولة بالسكان.	٢										
		٣٩	١	موت بعض الأشجار مثل النخيل وغيرها/ انخفاض إنتاجية المزروعات/عدم صلاحية المياه للاستخدامات البشرية. (يكتفى بواحدة).	١	ثانيا									
		٢٥	١	هدر واسع لكميات كبيرة من المياه. (بما يفيد المعنى).	٢										
		٢٩	٤ درجات لكل مفردة درجة واحدة	<table border="1"> <thead> <tr> <th>سدود التخزين</th> <th>سدود التغذية الجوفية</th> <th>نوع السد</th> </tr> </thead> <tbody> <tr> <td>تخزين المياه والإفادة منها وقت الجفاف</td> <td>زيادة مخزون المياه الجوفية</td> <td>الهدف من إنشائه</td> </tr> <tr> <td>سدود الجبل الأخضر</td> <td>سد وادس تنوف / سد وادي الحواسنة / سد وادي غول/ سد وادي الخوض</td> <td>مثال عليه</td> </tr> </tbody> </table>	سدود التخزين	سدود التغذية الجوفية	نوع السد	تخزين المياه والإفادة منها وقت الجفاف	زيادة مخزون المياه الجوفية	الهدف من إنشائه	سدود الجبل الأخضر	سد وادس تنوف / سد وادي الحواسنة / سد وادي غول/ سد وادي الخوض	مثال عليه		ثالثا
سدود التخزين	سدود التغذية الجوفية			نوع السد											
تخزين المياه والإفادة منها وقت الجفاف	زيادة مخزون المياه الجوفية			الهدف من إنشائه											
سدود الجبل الأخضر	سد وادس تنوف / سد وادي الحواسنة / سد وادي غول/ سد وادي الخوض	مثال عليه													
				(يكتفى بمثال واحد لكل نوع)											

تابع نموذج إجابة امتحان الصف الثامن
للعام الدراسي ١٤٤٥ هـ - ٢٠٢٣/٢٠٢٤ م
الدور الثاني - الفصل الدراسي الثاني
المادة : الدراسات الاجتماعية

تابع ثانيا: إجابة الأسئلة المقالية:

الدرجة الكلية: (٨) درجة				إجابة السؤال الثالث			
المستوى المعرفي	المخرج التعليمي	الصفحة	الدرجة	الإجابة الصحيحة		المفردة	الجزئية
		٣٠	١	المياه الجوفية		١	اولا
		١٥	١	الأنهار		٢	
		٣٣	١	الآبار العادية		٣	
		٦٥-٦٣	٢ لكل نصف درجة	آلة لبذر الحبوب	المحرك البخاري	اسم الآلة	ثانيا
				إدخال البذور في التربة لحمايتها من التلف/ ضمان انتاج وفير/ اتساع الأراضي الزراعية/ تحسن نوعية الإنتاج.	تطور عملية الإنتاج/ أصبح العمل أسرع/ كثرة الإنتاج/ الاستغناء عن الآلات التي تدار بواسطة مساقط مائية.	نتيجة واحدة ترتبت على اختراعها	
		٦٠-٥٧	٣ درجات لكل جزئية درجة واحدة	أول المستكشفين الذين وصلوا إلى الهند		فاسكو دي جاما	ثالثا
				اثبت كروية الأرض		ماجلان	
				اكتشف نهر سانت لويس في كندا		جاك كارتيه	

تابع نموذج إجابة امتحان الصف الثامن
للعام الدراسي ١٤٤٥ هـ - ٢٠٢٣/٢٠٢٤ م
الدور الثاني - الفصل الدراسي الثاني
المادة : الدراسات الاجتماعية

ثانيا: إجابة الأسئلة المقالية:

الدرجة الكلية: (٦) درجة				إجابة السؤال الرابع								
المستوى المعرفي	المخرج التعليمي	الصفحة	الدرجة	الإجابة الصحيحة	المفردة	الجزئية						
		٤٥	١	موقعها التجاري بين أوروبا وقارتي آسيا وأفريقيا/ تحول الكنيسة في أفكارها نحو التجديد والانفتاح / ظهور طبقة الأغنياء الذين أسهموا بأموالهم في تشجيع العلوم والآداب والفنون والترجمة.	١	أولا						
		١٠٩	١	اللبنان / الخيول العربية الأصيلة / بعض التوابل والمنتجات الزراعية.	٢							
		١٠٣	١	السفينة صحار	أ	ثانيا						
			١	<table border="1"> <tr> <td>المجاديف</td> <td>المحرك الآلي</td> <td>الشراع</td> </tr> <tr> <td></td> <td></td> <td>√</td> </tr> </table>	المجاديف		المحرك الآلي	الشراع			√	ب
المجاديف	المحرك الآلي		الشراع									
			√									
		١	السلطان قابوس بن سعيد (طيب الله ثراه)	ج								
		١ لكل نصف درجة	<table border="1"> <tr> <td>الدولة التي وصلت إليها</td> <td>الصين</td> </tr> <tr> <td>المدينة التي أبحرت منها</td> <td>صحار</td> </tr> <tr> <td>العام الميلادي التي أبحرت فيه</td> <td>١٩٨٠</td> </tr> </table>	الدولة التي وصلت إليها	الصين	المدينة التي أبحرت منها	صحار	العام الميلادي التي أبحرت فيه	١٩٨٠	د		
الدولة التي وصلت إليها	الصين											
المدينة التي أبحرت منها	صحار											
العام الميلادي التي أبحرت فيه	١٩٨٠											

تابع نموذج إجابة امتحان الصف الثامن
للعام الدراسي ١٤٤٥ هـ - ٢٠٢٣/٢٠٢٤ م
الدور الثاني - الفصل الدراسي الثاني
المادة : الدراسات الاجتماعية

ثانيا: إجابة الأسئلة المقالية:

الدرجة الكلية: (٦) درجة				إجابة السؤال الخامس		
المستوى المعرفي	المخرج التعليمي	الصفحة	الدرجة	الإجابة الصحيحة	المفردة	الجزئية
		٨٤	١	 <p>يظل على محافظة الداخلية .</p> <p>يكتب الطالب بحر عمان والبحر العربي في موقعهما الصحيح على الخريطة .</p>	١	أولا
		٨٤	١		٢	
		٨٩	١	لما يتميز به من فن معماري إسلامي امتزجت فيه الأصالة مع المعاصرة .	أ	ثانيا
		٩٩	١	بفضل موقعها الساحلي، فكانت مركزا تجاريا متميزا لحركة التجارة مع كل من الهند والصين وشرقي أفريقيا، ومنطقة الخليج العربي. (بما يفيد المعنى).	ب	
		٨٠	١	جامعة السلطان قابوس / الكليات المتخصصة / المدارس/ المعاهد / المكتبات العامة والخاصة / المتاحف.	١	ثالثا
		٩٦	١	قلعة الرستاق/ حصن الحزم/ عدد كبير من المساجد والجوامع/ ١٠ جوامع أثرية/ جامع البيضاء.	٢	

انتهى نموذج الإجابة



امتحان مادة : الدراسات الاجتماعية

للف : الثامن

للعام الدراسي ١٤٤٥ هـ - ٢٠٢٣/٢٠٢٤ م

الدور الثاني الفصل الدراسي : الثاني

- زمن الامتحان: (ساعة ونصف) ● عدد صفحات أسئلة الامتحان: (٦) صفحات.
- الإجابة في الدفتر نفسه.

اسم الطالب	
الصف	المدرسة

التوقيع بالاسم		الدرجة		السؤال
المصحح الثاني	المصحح الأول	بالحروف	بالأرقام	
				١
				٢
				٣
				٤
				٥
مراجعة الجمع	جمعه			المجموع
				المجموع الكلي

(١)

المادة : الدراسات الاجتماعية الصف : الثامن الدور الثاني - الفصل الدراسي الثاني - العام
الدراسي ٢٠٢٣/٢٠٢٤ م

أجب عن جميع الأسئلة الآتية

السؤال الأول: ضع دائرة حول رمز الإجابة الصحيحة لكل مفردة من
المفردات الآتية: (١٢ درجة)

١٣

١- يكون الماء من وزن جسم الإنسان حوالي .

أ- ٥٥% ب- ٦٠% ج- ٦٥% د- ٧٠%

٢- يعتبر سوق مطرح من الأسواق التقليدية ويقع في محافظة .

أ- الداخلية ب- مسقط ج- الباطنة شمال د- الظاهرة

٣- الرحالة الذي قال (إن اللبان كان ضمن السلع المستوردة من ظفار) .

أ- تشان جوركوا ب- ابن بطوطة ج- المقدسي د- ماركو بولو

٤- اسم فارسي معناه المنطقة القوية والمحصنة .

أ- الرستاق ب- صلالة ج- مسقط د- صحار

٥- من أشهر مؤلفات ميكا فيلي كتاب .

أ- الأمير ب- الكوميديا الإلهية ج- القانون د- أطر العقل

٦- شيد الإمام سلطان بن سيف بن سلطان اليعربي حصن .

أ- الخندق ب- الحزم ج- جبرين د- الرديدة

٧- اسم السد الموضح بالصورة المقابلة

أ- سد وادي تنوف ب- سد وادي الحواسنة

ج- سد وادي الخوض د- سد وادي غول



يتبع ٢

(٢)

المادة : الدراسات الاجتماعية الصف : الثامن الدور الثاني - الفصل الدراسي الثاني - العام الدراسي ٢٠٢٣ / ٢٠٢٤ م



٨- الصورة التي أمامك تشير الي أحد الأثار المكتشفة في ولاية .

د- بوشر

ج - مسقط

ب- العامرات

أ- قريات

٩- قامت حضارة المايا في دولة

د - البرازيل

ج - جواتيمالا


أ - البيرو ب - المكسيك

١٠- ابحرت السفينة العمانية صحار عام ١٩٨٠ الي مدينة كانتون في

د - اندونيسيا

ج - اليابان

أ - الهند ب - الصين



١١- الآلة التي تظهر في الصورة

ب- آلة الغزل

أ- آلة بذر الحبوب

د- آلة المحرك البخاري

ج - آلة الطباعة

١٢- الجدول الصحيح الذي يشير الي شكل المياه الجوفية .

الينابيع
النافورات الحارة
الأنهار

د

الينابيع
النافورات الحارة
الآبار الأرتوازية

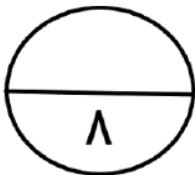
ج

المستنقعات
البحيرات
الأنهار

ب

المستنقعات
الينابيع
الأنهار

أ



السؤال الثاني : أجب عن الأسئلة الآتية (٨) درجات:-

أولاً : أ- ما المقصود بكل من :

• البحيرات :

.....

• الغطاءات الجليدية :

.....

.....

(٣)

المادة : الدراسات الاجتماعية الصف : الثامن الدور الثاني - الفصل الدراسي الثاني - العام
الدراسي ٢٠٢٣/٢٠٢٤ م

ثانياً - أ- أمامك خريطة لسلطنة عمان أدرسها جيداً ثم أجب عن الأسئلة الآتية



- ١- ما اسم المحافظة المشار إليها بالرقم (١)
- ٢- ظلل المحافظة التي توجد بها ولاية صحار .
- ٣- اكتب الموقع الصحيح لبحر عمان على الخريطة
- ٤- ضع الرمز ▲ على المحافظة التي يوجد بها مسجد الشيخ

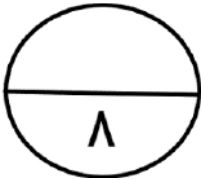
(ب) اذكر أثنين من ولايات محافظة ظفار.

.....
.....

ج- صنف الأفلاج الآتية الى أفلاج عينية وغيلية :
(فلج المزارع - فلج عين الكسفة - فلج عين الحمام - فلج المعيدن)

أفلاج غيلية	أفلاج عينية
.....
.....

السؤال الثالث :- أولاً : أجب عن الأسئلة الآتية (٨) درجات:



أ- وضح أهمية موقع مدينة الرستاق .

.....
.....

(٤)

المادة : الدراسات الاجتماعية الصف : الثامن الدور الثاني - الفصل الدراسي الثاني - العام
الدراسي ٢٠٢٣ / ٢٠٢٤ م

ب - عدد مصادر تلوث المياه .

.....
.....

ج - ما نتائج الاكتشافات الجغرافية .

.....
.....

ثانياً - اربط الاكتشافات الآتية إلى المكتشفين الأوروبين التالية أسمائهم
(كريستوفر كولمبوس / فيردناند ماجلان / جون كابوت / فاسكو دي جاما)

المكتشف	الاكتشاف
.....	• الدوران حول أفريقيا والوصول إلى الهند
.....	• النزول على ساحل أمريكا الجنوبية
.....	• الدوران حول الأرض وإثبات كرويتها
.....	• التعرف على أجزاء من أمريكا الشمالية

يتبع / ٥

(٥)

المادة : الدراسات الاجتماعية الصف : الثامن الدور الثاني - الفصل الدراسي الثاني - العام
الدراسي ٢٠٢٣ / ٢٠٢٤ م

٦

السؤال الرابع :- أجب عن الأسئلة الآتية (٦) درجات
أولاً : أمامك صورة لأحدى الموارد المائية في السلطنة .



١- ما اسم المورد المائي الظاهر في الصورة .

.....

٢- في أي ولاية يقع هذا المورد .

.....

٣- وضح استخدامات هذا النوع من المورد .

.....

٤- من وجهة نظرك كيف يمكن تطوير هذا المورد اقتصادياً .

.....

.....

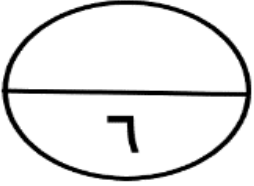
ثانياً : أكمل البطاقة التعريفية التالية :

	
١ - اسم المعلم الواضح بالصورة	١ - اسم المعلم الواضح بالصورة
٢ - يوجد في محافظة	٢ - يوجد في محافظة

ثالثاً : ارتبطت صحار بعلاقات تجارية مع العالم الخارجي منذ القدم حيث كانت تصدر
النحاس للحضارات . (اذكر هذه الحضارات)

(٦)

المادة : الدراسات الاجتماعية الصف : الثامن الدور الثاني - الفصل الدراسي الثاني - العام الدراسي ٢٠٢٣/٢٠٢٤ م



السؤال الخامس :- أجب عن الأسئلة الآتية (٦) درجات :

أولاً : ادرس خريطة قارة أوروبا الصماء وأجب عما يليها من أسئلة:

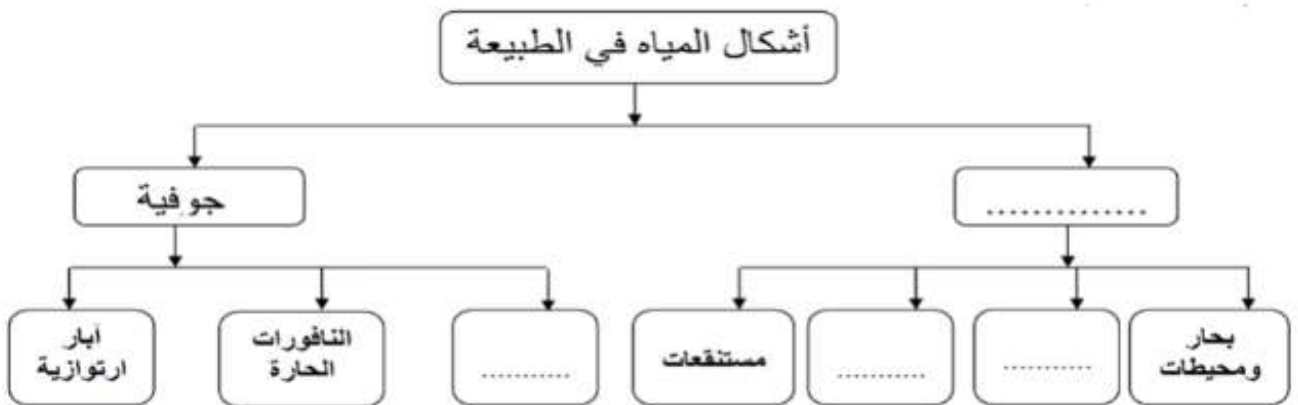


- ١- رقم الدولة التي ينتمي اليها البحار جون كابوت ()
- ٢- ظل الدولة التي بدأت فيها النهضة الأوروبية عن غيرها على الخريطة .
- ٣- الدولة التي انطلقت منها رحلة فيردناند ماجلان عام ١٥١٩ م مشار اليها بالرقم ()

٤- عدد اثنين من نتائج الاكتشافات الجغرافية

.....
.....

ثانياً أكمل الشكل التالي :



" انتهت الأسئلة مع الدعاء للجميع بالتوفيق "



نموذج إجابة امتحان الصف الثامن
للعام الدراسي ١٤٤٥ هـ - ٢٠٢٣/٢٠٢٤ م
الدور الثاني - الفصل الدراسي الثاني

المادة: الدراسات الاجتماعية
الدرجة الكلية: (٤٠) درجة.
تنبيهه: نموذج الإجابة في (٥) صفحات.

أولاً: إجابة السؤال الموضوعي : السؤال الأول ١٢ درجة

المستوى المعرفي	الصفحة	الدرجة	الإجابة	البديل الصحيح	المفردة				
معرفي	١١	١	٦٥٪	ج	١				
معرفي	٧٦	١	مسقط	ب	٢				
معرفي	١٠٩	١	تشان جوركوا	أ	٣				
معرفي	٩٧	١	الريستاق	أ	٤				
معرفي	٤٧	١	الأمير	أ	٥				
معرفي	٩٦	١	الحزم	ب	٦				
فهم وتطبيق	٢٩	١	تنوف	أ	٧				
فهم وتطبيق	٧٢	١	بوشر	د	٨				
معرفي	٥٨	١	جواتيمالا	ج	٩				
معرفي	١٠٣	١	الصين	ب	١٠				
فهم وتطبيق	٦٥	١	آلة المحرك البخاري	د	١١				
فهم وتطبيق	١٦	١	<table border="1"><tr><td>البنابيع</td></tr><tr><td>النافورات الحارة</td></tr><tr><td>الآبار الأرتوازية</td></tr><tr><td>→</td></tr></table>	البنابيع	النافورات الحارة	الآبار الأرتوازية	→	ج	١٢
البنابيع									
النافورات الحارة									
الآبار الأرتوازية									
→									
١٢ درجة			المجموع						

(٢)

تابع نموذج إجابة امتحان الصف الثامن
للعام الدراسي ١٤٤٥ هـ - ٢٠٢٣/٢٠٢٤

الدور الثاني - الفصل الدراسي الثاني

المادة : الدراسات الاجتماعية

ثانياً: إجابة الأسئلة المقالية: السؤال الثاني (٨ درجات)

المستوى المعرفي	الصفحة	الدرجة	الإجابة الصحيحة	المفردة	الجزئية				
معرفي	١٥ ١٤	درجتان لكل جزئية درجة	- البحيرات : أحواض مائية داخلية محدودة المساحة محاطة باليابس من جميع الجهات - الغطاءات الجليدية : مساحات واسعة يغطيها الجليد الصلب	أ	أولاً				
فهم وتطبيق مستويات عليا	١٠٠ ٧٨	درجتان لكل جزئية نصف درجة	١-الوسطى ٢-يظل محافظة صحار على الخريطة ٣-كتابة بحر عمان ٤-يضع الرمز علي محافظة الداخلية 	أ	ثانياً				
معرفي	١٠٧	درجتان لكل درجة	صلالة - ثمرية - طاقة - مرباط - سدح - رخيوت - ضلكوت - مقشن - شليم وجزر الحلاتيات -المزيونة (يكتفي باثنين)	ب					
مستويات عليا	٢٢	درجتان لكل جزئية نصف درجة	<table border="1"><thead><tr><th>أفلاج غيلية</th><th>أفلاج عينية</th></tr></thead><tbody><tr><td>فلج المزارع فلج المعيدن</td><td>فلج عين الكسفة فلج عين الحمام</td></tr></tbody></table>	أفلاج غيلية	أفلاج عينية	فلج المزارع فلج المعيدن	فلج عين الكسفة فلج عين الحمام	ج	
أفلاج غيلية	أفلاج عينية								
فلج المزارع فلج المعيدن	فلج عين الكسفة فلج عين الحمام								
٨ درجات			المجموع						

(٣)

نموذج إجابة امتحان الصف الثامن
للعام الدراسي ١٤٤٥ هـ - ٢٠٢٣/٢٠٢٤ م
الدور الثاني - الفصل الدراسي الثاني
المادة : الدراسات الاجتماعية
تابع ثانياً: إجابة الأسئلة المقالية: السؤال الثالث (٨ درجات)

المستوى المعرفي	الصفحة	الدرجة	الإجابة الصحيحة	المفردة	الجزئية										
معرفي	٩٣	درجتان	تقع ولاية الرستاق في جبال الحجر الغربي وتتمتع ولاية الرستاق بموقع استراتيجي حيث تربط بين محافظة الداخلية وساحل الباطنة ومحافظة الظاهرة وتعتبر كذلك مركزا اقتصاديا وسوقا رائجا لحاصلاتها الزراعية ومنتجاتها الحيوانية وصناعاتها المختلفة وما يصل إليها من منتجات الجبل الأخضر . (يعطي الدرجة كاملة أو ما يفيد المعنى)	أ	أولاً										
معرفي	٢٤	درجتان	١- الأمطار الحمضية . ٢- النباتات والحشائش التي تعيق حركة المياه فتكثر القواقع والطفيليات . ٣- استخدام المبيدات الحشرية والأسمدة الكيماوية . ٤- ما تطرحه المصانع من فضلات سامة ومياه عادمة	ب											
فهم وتطبيق	٦٠	درجتان	-التطور في صناعة السفن والمعدات البحرية - للإبحار مسافات بعيدة ولمدة طويلة - إثبات كروية الأرض بعدما كان الأوروبيون يعتقدون بأنها مسطحة اطلع الأوروبيون على ثقافات حضارات أخرى كانت قائمة في العالم الجديد	ج											
قدرات عليا	٥٧/٥٨ ٥٩	درجتان	<table border="1"> <thead> <tr> <th>المكتشف</th> <th>الاكتشاف</th> </tr> </thead> <tbody> <tr> <td>فاسكو دي جاما</td> <td>● الدوران حول أفريقيا والوصول إلى الهند</td> </tr> <tr> <td>كريستوفر كولمبوس</td> <td>● النزول على ساحل أمريكا الجنوبية</td> </tr> <tr> <td>فيردناند ماجلان</td> <td>● الدوران حول الأرض وإثبات كرويتها</td> </tr> <tr> <td>جون كابوت</td> <td>● التعرف على أجزاء من أمريكا الشمالية</td> </tr> </tbody> </table>	المكتشف	الاكتشاف	فاسكو دي جاما	● الدوران حول أفريقيا والوصول إلى الهند	كريستوفر كولمبوس	● النزول على ساحل أمريكا الجنوبية	فيردناند ماجلان	● الدوران حول الأرض وإثبات كرويتها	جون كابوت	● التعرف على أجزاء من أمريكا الشمالية		ثانياً
المكتشف	الاكتشاف														
فاسكو دي جاما	● الدوران حول أفريقيا والوصول إلى الهند														
كريستوفر كولمبوس	● النزول على ساحل أمريكا الجنوبية														
فيردناند ماجلان	● الدوران حول الأرض وإثبات كرويتها														
جون كابوت	● التعرف على أجزاء من أمريكا الشمالية														
٨ درجات			المجموع												

(٤)

تابع نموذج إجابة امتحان الصف الثامن

للعام الدراسي ١٤٤٥ هـ - ٢٠٢٣/٢٠٢٤

الدور الثاني - الفصل الدراسي الثاني

المادة : الدراسات الاجتماعية


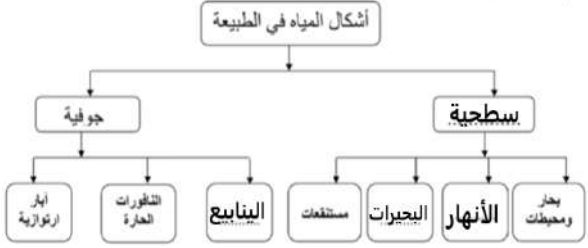
تابع ثانياً: إجابة الأسئلة المقالية: السؤال الرابع (٦ درجات)

الجزئية	المفردة	الإجابة الصحيحة	الدرجة	الصفحة	المستوى المعرفي								
أولاً		١- عين الكسفة ٢- الرستاق ٣- الشرب - الري - الاستشفاء ٤- يحترم رأي الطالب في ضوء اهتمام الحكومة بالعين وجذب السياح من خلال الترويج لها سياحياً .	ثلاث درجات نصف درجة لكل من (٢١) و (٣) درجة و٤ درجة	٩٨	فهم وتطبيق معرفي مستويات عليا								
ثانياً		 <table border="1" style="width: 100%; text-align: center;"> <tr> <td>١ اسم المعلم الواضح بالصورة</td> <td>١ اسم المعلم الواضح بالصورة</td> </tr> <tr> <td>..... آثار البليد</td> <td>..... قصر العلم</td> </tr> <tr> <td>٢- يوجد في محافظة</td> <td>٢- يوجد في محافظة</td> </tr> <tr> <td>..... ظفار</td> <td>..... مسقط</td> </tr> </table>	١ اسم المعلم الواضح بالصورة	١ اسم المعلم الواضح بالصورة آثار البليد قصر العلم	٢- يوجد في محافظة	٢- يوجد في محافظة ظفار مسقط	درجتان لكل جزئية نصف درجة	٧٥ ١١٠	فهم وتطبيق معرفي
١ اسم المعلم الواضح بالصورة	١ اسم المعلم الواضح بالصورة												
..... آثار البليد قصر العلم												
٢- يوجد في محافظة	٢- يوجد في محافظة												
..... ظفار مسقط												
ثالثاً		الصين وإيران (بلاد فارس) والعراق (بلاد الرافدين) يكتفي باثنين	درجة	١٠١	معرفي								
		المجموع	٦ درجات										

(٥)

تابع نموذج إجابة امتحان الصف الثامن
للعام الدراسي ١٤٤٥ هـ - ٢٠٢٣/٢٠٢٤ م
الدور الثاني - الفصل الدراسي الثاني
المادة : الدراسات الاجتماعية

تابع ثانياً: إجابة الأسئلة المقالية: السؤال الخامس (٦ درجات)

الجزئية	المفردة	الإجابة الصحيحة	الدرجة	الصفحة	المستوى المعرفي
أولاً	-١	(١)	درجة	٤٤ ٥٩	فهم وتطبيق مستويات عليا
	-٢	يظل إيطاليا	درجة		
	-٣	(٤)	درجة		
					
		٤-التطور في صناعة السفن والمعدات البحرية للإبحار مسافات بعيدة ولمدة طويلة - إثبات كروية الأرض - اطلع الأوروبيون علي ثقافات حضارات أخرى - (يكتفي باثنين)	درجة	٦٠	معرفي
ثانياً			درجتان لكل جزئية نصف درجة	١٥ ١٦	فهم وتطبيق
المجموع		٦ درجات			

نهاية نموذج الإجابة



المديرية العامة للتربية والتعليم لمحافظة الظاهرة
امتحان مادة الدراسات الاجتماعية
الصف: الثامن
للعام الدراسي ١٤٤٥ هـ - ٢٠٢٣ / ٢٠٢٤ م
الدور الثاني □ الفصل الدراسي الثاني

- زمن الاجابة: ساعة ونصف
- عدد صفحات اسئلة الامتحان: (٧) صفحات .
- الإجابة في الدفتر نفسه.

		اسم الطالب
الصف		المدرسة

التوقيع بالاسم		الدرجة		السؤال
المصحح الثاني	المصحح الأول	بالحروف	بالأرقام	
				1
				2
				3
				4
				5
مراجعة الجمع	جمعه			المجموع
			40	المجموع الكلي

١٢

أجب عن جميع الأسئلة الآتية

السؤال الأول: ضع دائرة حول رمز الإجابة الصحيحة:

- ١- من المواقع الأثرية العمانية القديمة آثار البليد التي تقع في مدينة :
أ- صحار ب- مسقط ج- نزوى د- صلالة
- ٢- من أجزاء الفلج التي تستخدم للحصول على مياه الشرب:
أ- الفرضة ب- القناه ج- الشريعة د- أم الفلج
- ٣- من عوامل قيام النهضة الأوروبية والذي ساهم في معرفة الأوروبيين بالأقاليم الأخرى:
أ- اختراع الطباعة ب- ظهور طبقة من المفكرين والكتاب
ج- حركة الاكتشافات الجغرافية د- ظهور المدن وازدهارها
- ٤- استمرت رحلة فاسكو دي جاما نحو الهند بالسنوات:
أ- ٢ ب- ٣ ج- ٤ د- ٥
- ٥- الصورة التي أمامك توضح أحد الآثار المكتشفة عام ٢٠٠٣ م في ولاية:



- أ- السيب ب- العامرات
ج- بوشر د- قريات

٦- الشكل الصحيح الذي يوضح النسبة المئوية لليابس والماء على سطح الأرض :



(د)



(ج)



(ب)



(أ)



٧- انطلق الملاح الواضح في الصورة المقابلة في رحلاته الاكتشافية عام:

- أ- ١٥٢٢ م
ب- ١٥٢١ م
ج- ١٥٢٠ م
د- ١٥١٩ م

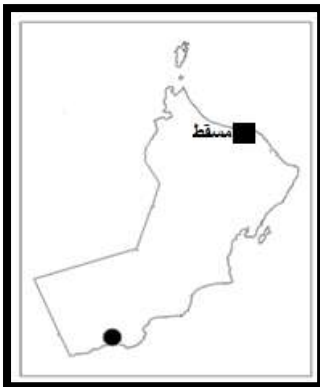
٨- تبلغ نسبة الافلاج الغيلية من مجمل افلاج السلطنة:

- أ- ٣٠,٥ %
ب- ٢٩,٥ %
ج- ٢٨,٥ %
د- ٤٨,٥ %

٩- أصبحت مدينة مسقط عاصمة لعُمان في عهد السيد:

- أ- احمد بن سعيد
ب- حمد بن سعيد
ج- سلطان بن احمد
د- سعيد بن سلطان

١٠- تبعد المدينة المحدده بالرمز (●) في الخريطة المقابلة عن ولاية مسقط حوالي:

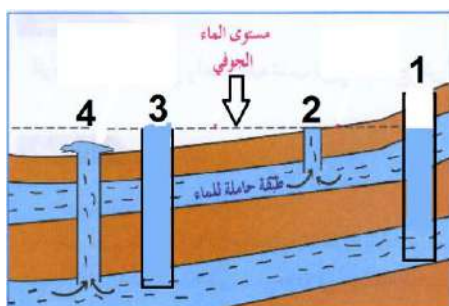


- أ- ١٠٢٠ كم
ب- ١٠٢١ كم
ج- ١٠٢٢ كم
د- ١٠٢٣ كم

١١- تقع القرى (فرق - ردة البوسعيد) في ولاية:

- أ- نزوى
ب- بهلاء
ج- الحمراء
د- ادم

١٢- الرقم الذي يشير إلى الآبار العادية التي قام الإنسان بحفرها للوصول إلى المياه الجوفية:



- أ- ١
ب- ٢
ج- ٣
د- ٤

السؤال الثاني: أجب عن جميع الأسئلة التالية :

٨

أولا: انظر إلى الخريطة التالية ثم أجب عن الأسئلة التي تليها:

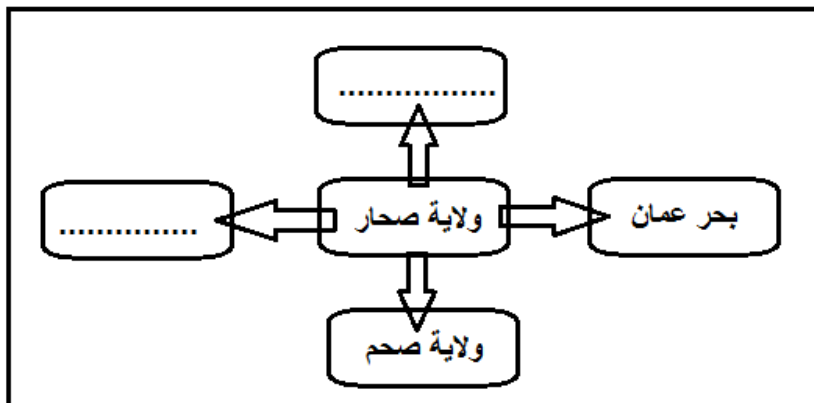


- أ- اكتب مضيق ماجلان في مكانه الصحيح على الخريطة .
ب- ارسم خط سير المكتشف جاك كارتية لاكتشاف العالم الجديد .
ج- استخرج من الخريطة مايلي :
• رقم الدولة التي بدأت فيها النهضة الأوروبية قبل غيرها ()
• رقم الدولة التي ينتمي إليها الملاح جون كابوت ()

ثانيا: اذكر اثنين من المعالم السياحية التي تمتاز بها مدينة صلالة .

...../١

..... /٢



ثالثا: أكمل الشكل التالي الذي يوضح حدود ولاية صحار حسب الاتجاهات الجغرافية.

السؤال الثالث : أجب عن جميع الأسئلة الآتية:-

٨

أولا : انظر إلى الصورة المقابلة ثم أكمل البطاقة التعريفية التالية :



.....	الاسم
.....	الجنسية
.....	أهم الاكتشافات

ثانيا : أمامك صورة لأحد الموارد المائية في السلطنة ، أنظر إليها ثم أجب عن الأسئلة الآتية:-



١- اسم المورد المائي الواضح في الصورة المقابلة.

.....

٢- في أي ولاية يقع هذا المورد المائي ؟

.....

٣- ما واجبنا تجاه هذا النوع من المياه ؟

.....


ثالثا : صنف السدود التالية حسب نوعها في الجدول التالي :
(وادي الخوض - وادي الجزي)

.....	الحماية
.....	التغذية الجوفية

السؤال الرابع : أجب عن جميع الأسئلة الآتية:

٦

أولاً: أمامك صورة لأحد السفن الشراعية العمانية ، أنظر إليها ثم أجب عن الأسئلة الآتية :



١- اسم السفينة التي توضحها الصورة.

.....

٢- بين الغرض من بناء هذه السفينة.

.....

٣- استغرقت رحلة هذه السفينة نحو الصين

عام عامين (ظل الإجابة الصحيحة)

ثانياً : ١- دلل بآية قرآنية تتحدث عن أهمية المياه.

.....

٢- عدد أنواع البحيرات حسب نوع المياه

أ/

ب/

٦

السؤال الخامس : أجب عن جميع الأسئلة التالية

أولاً: انسب المعالم الحضارية والسياحية الآتية حسب المدينة التي تقع فيها:

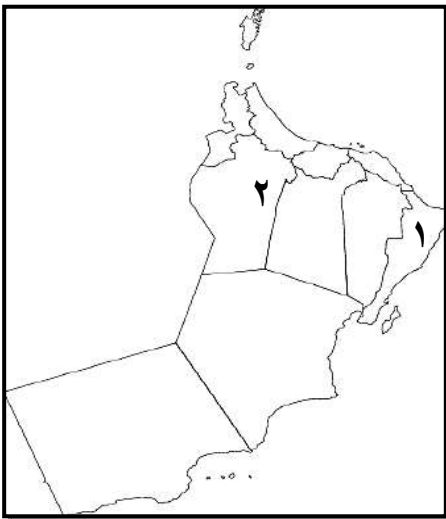
(سوق الحرفيين - شلالات وادي تنوف - قلعة الميراني - وادي السحتن)

المدينة	مسقط	صحار	الرستاق	نزوى
المعلم السياحي

ثانياً :

فسر سبب تسمية نزوى بهذا الاسم .

.....



ثالثاً: انظر إلى الخريطة التالية ثم أجب عن الأسئلة التي تليها :

١- ما اسم الحوض المائي المشار له بالرقم ١

.....

٢- استنتج أحد الولايات التي يغذيها الحوض المشار له بالرقم ٢ .

.....

٣- كيف يتم الكشف عن موقع الأحواض المائية في باطن الأرض؟

.....

.....

انتهت الأسئلة مع تمنياتنا لجميع الطلاب بدوام التميز والنجاح



نموذج اجابة اختبار نهاية الفصل الدراسي الثاني - الدور الثاني - العام الدراسي ٢٠٢٣ / ٢٠٢٤ م

الصف : الثامن	المادة : الدراسات الاجتماعية	الزمن: ساعة ونصف	الدرجة : ٤٠ درجة
---------------	------------------------------	------------------	------------------

اجابة السؤال الاول :						
(١٢ درجة)						
المفردة	البديل الصحيح	الاجابة	الدرجة	الصفحة	المخرج التعليمي	المستوى المعرفي
١	د	صلالة	١	١٠٩		معرفة
٢	ج	الشريعة	١	٣١		معرفة
٣	ج	حركة الاكتشافات الجغرافية	١	٤٧		معرفة
٤	أ	٢	١	٥٧		معرفة
٥	ج	بوشر	١	٧٢		فهم
٦	أ	 <p>(١)</p>	١	١٠		فهم
٧	د	١٥١٩م	١	٥٩		فهم
٨	د	٤٨,٥%	١	٣٢		معرفة
٩	ب	حمد بن سعيد	١	٧٣		معرفة
١٠	د	١٠٢٣ كم	١	١٠٧		فهم
١١	أ	نزوى	١	٨٣		معرفة
١٢	أ	١	١	٣٤		قدرات عليا

(٨ درجات)

اجابة السؤال الثاني

المستوى المعرفي	المخرج التعليمي	الصفحة	الدرجة	الاجابة الصحيحة	المفردة	الجزئية
قدرات عليا		٥٣	١		أ + ب	أولا
فهم وتطبيق		٥٣	١			
قدرات عليا		٤٥ ٥٩	١ ١	٢ ١	ج	
معرفة		-١٠٧ ١١٥	٢ لكل مفردة درجة	آثار البليد - العيون المائية - الأودية - الاكتشافات الأثرية - الشواطئ البحرية - السهول - الجبال الخضراء (يكتفي بذكر اثنين)		ثانيا
قدرات عليا		٩٩	٢ لكل مفردة درجة			ثالثا

		اجابة السؤال الثالث			(٨ درجات)	
المستوى المعرفي	المخرج التعليمي	الصفحة	الدرجة	الاجابة الصحيحة	المفردة	الجزئية
فهم وتطبيق		٤٨	١ ١ ١	كريستوفر كولمبوس إسباني قارة أمريكا الجنوبية (العالم الجديد)		أولا
فهم		٩٨	١	عين الكسفة	١	ثانيا
فهم		٩٨	١	ولاية الرستاق	٢	
قدرات عليا		٢٤	١	المحافظة عليها من التلوث والاستنزاف	٣	
فهم		٣٠ ٢٩	١ ١	الحماية : وادي الجزي التغذية الجوفية : وادي الخوض		ثالثا

(٦ درجات)

اجابة السؤال الرابع

المستوى المعرفي	المخرج التعليمي	الصفحة	الدرجة	الاجابة الصحيحة	المفردة	الجزئية
قدرات عليا		١٠٣	١	صحار	١	أولا
فهم وتطبيق		١٠٣	١	تقديرًا للدور البارز الذي قام به العمانيون في الملاحة البحرية في العصور التاريخية	٢	
معرفة		١٠٣	١	عاما كاملا	٣	
فهم وتطبيق		١٠	١	قال تعالى (وجعلنا من الماء كل شيء حي)	١	ثانيا
معرفة		١٥	٢ لكل مفردة درجة	مالحة - عذبة	٢	

		اجابة السؤال الخامس		(٦ درجات)		
المستوى المعرفي	المخرج التعليمي	الصفحة	الدرجة	الاجابة الصحيحة	المفردة	الجزئية
فهم		٧٥ ١٠٤ ٩٣ ٩١	٠,٥ ٠,٥ ٠,٥ ٠,٥	مسقط : قلعة الميراني صحار : سوق الحرفيين الرستاق : وادي السحتن نزوى : شلالات وادي تنوف		أولا
معرفة		٨٥	١	- عين ماء شمال القلعة - جبل غربي البلدة (يكتفى بإجابة واحدة فقط)		ثانيا
قدرات عليا		٣٥	١	حوض رمال الشرقية	١	ثالثا
قدرات عليا		٣٥	١	عبري - ينقل - ضنك (يكتفى بإجابة واحدة فقط)	٢	
معرفة		٣٥	١	عن طريق وسائل التكنولوجيا الحديثة مثل الأقمار الاصطناعية	٣	