


شكراً لتحميلك هذا الملف من موقع المناهج العمانية



اختبار قصير أول

[موقع المناهج](#) ⇨ [المناهج العمانية](#) ⇨ [الصف الثامن](#) ⇨ [علوم](#) ⇨ [الفصل الثاني](#) ⇨ [الملف](#)

التواصل الاجتماعي بحسب الصف الثامن



روابط مواد الصف الثامن على تلغرام

[الرياضيات](#)

[اللغة الانجليزية](#)

[اللغة العربية](#)

[التربية الاسلامية](#)

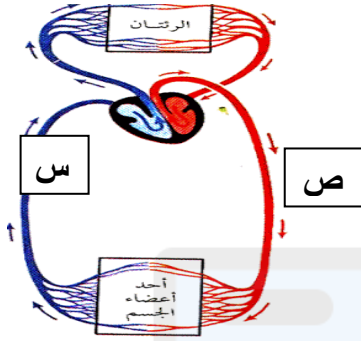
المزيد من الملفات بحسب الصف الثامن والمادة علوم في الفصل الثاني

نموذج إجابة الامتحان الرسمي النهائي بمحافظة مسقط والداخلية وشمال الشرقية وجنوب الشرقية	1
الامتحان الرسمي النهائي بمحافظة ظفار	2
الامتحان الرسمي النهائي بمحافظة شمال الباطنة	3
الامتحان الرسمي النهائي بمحافظة مسقط والداخلية وشمال الشرقية وجنوب الشرقية	4
نموذج إجابة الامتحان النهائي الدور الأول بمحافظة شمال الباطنة	5

اختبار قصير (1) في مادة العلوم للصف الثامن

اسم العبقريّة : الصف : 8/.....

1- يوضح الشكل المقابل الجهاز الدوري للإنسان ادرسه ثم أجب عما يلي:



أ- مضخة الدم في جسم الإنسان. (أكمل) (1)

- يسمح بمرور الدم في اتجاه واحد..... (أكمل) (1)

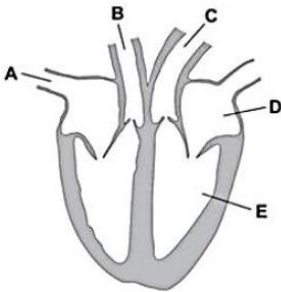
ب- ضع علامة صح في مكانها الصحيح: (1)

العبارة	صواب	خطأ
أ - الوعاء ص يسمى شريان و الوعاء س يسمى وريد		
ب - يحمل الوعاء ص دما غير مؤكسجا و يحمل الوعاء س دما مؤكسجا		

ج- الجزء السائل من الدم يتكون من الماء بنسبة كبيرة والمواد المذابة هو: (ظلل الاجابة الصحيحة) (1)

كريات الدم الحمراء ☐كريات الدم البيضاء ☐البلازما ☐الصفائح الدموية ☐

د- ظلل الحجرة العلوية اليسرى من القلب على المخطط التالي: (1)

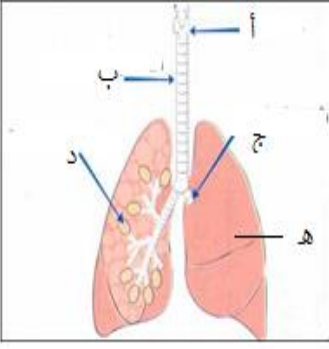


هـ- المسار الصحيح لحركة الدم غير المؤكسج عند رجوعه من اجزاء الجسم الى القلب : (1)


C ← E ← D ☐D ← E ← C ☐B ← F ← A ☐A ← F ← B ☐

2- يمثل الشكل المقابل أحد أجهزة جسم الإنسان. ادرسه ثم أجب عما يلي:

- أ- رمز العضو الرئيسي في هذا الجهاز يوجد على هيئة زوج هو (أكمل) (1)
ب- رمز العضو الذي يمر به الهواء قبل أن يصل إلى الشعب الهوائية هو..... (أكمل) (1)



ج- درست سعاد سرعة التبادل الغازي في عينتين مختلفتين من الحويصلات الرئوية وكانت النتائج كالتالي:



الحويصلات الرئوية
من العينة (٢)



الحويصلات الرئوية
من العينة (١)

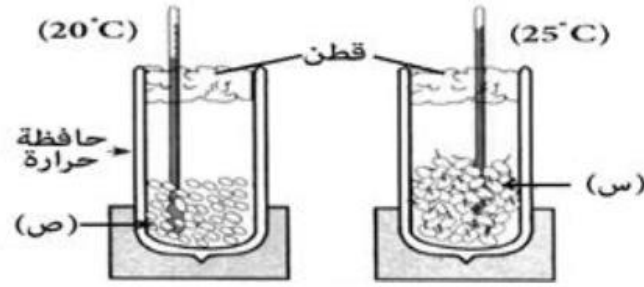
- 1- رمز المخطط المناسب للعينة (1) هو..... (1).
فسر اجابتك.....
(1)

د- يوضح الشكل التبادل الغازي أحد الحويصلات المحاطة بالوعاء الدموي، الخطأ الموجود على الرسم (ظل الاجابة الصحيحة) (1):



- ☐ اتجاه أسهم التبادل الغازي خاطئ
☐ أسماء الغازات خاطئة يجب ان تكون نيتروجين وأكسجين
☐ اتجاه مرور الدم خاطئ
☐ التبادل لا يتم مع الدم بل مع الماء

3- أجرى احد الطلاب تجربة عملية من أجل اثبات انطلاق الحرارة اثناء عملية التنفس فوضع بذور ميتة وبذور حية عددها 50 بذرة من الفاصوليا في حافظتين ثم سجلت درجة الحرارة في نهاية التجربة كما هو موضح بالشكل



□ س أم □ ص

أ- البذور النامية ستكون في الحافطة: (ظلل الاجابة) (1)

ب- حدد عامل من العوامل التي تجعل التجربة السابقة عادلة (1)

□ صح أم □ خطأ

ج- عند زيادة كمية الفاصوليا في الحافطة س فان درجة الحرارة ستقل: (ظلل الاجابة) (1)

د- ضع علامة صح في مكانها الصحيح: (1)

العبارة	صواب	خطأ
تحصل خلايا الجسم على الطاقة من اتحاد الجلوكوز بالأكسجين		
يعتبر ثاني أكسيد الكربون والماء والطاقة نواتجا للتنفس الخلوي		

طالبتي الرائعة اقرئي فكري ثم أجيبني ،،، دمتي في تألق دائم