

شكراً لتحميلك هذا الملف من موقع المناهج العمانية



امتحان نهاية الدور الأول نسخة جديدة

[موقع المناهج](#) ← [المناهج العمانية](#) ← [الصف الثامن](#) ← [اجتماعيات](#) ← [الفصل الأول](#) ← [الملف](#)

التواصل الاجتماعي بحسب الصف الثامن



روابط مواد الصف الثامن على تلغرام

[الرياضيات](#)

[اللغة الانجليزية](#)

[اللغة العربية](#)

[التربية الاسلامية](#)

المزيد من الملفات بحسب الصف الثامن والمادة اجتماعيات في الفصل الأول

نموذج أسئلة الاختبار الرسمي لمحافظة (ظفار)	1
نموذج أسئلة الاختبار الرسمي (جنوب الباطنة)	2
نموذج إحابة الاختبار الرسمي (جنوب الباطنة)	3
نموذج أسئلة الاختبار الرسمي (جنوب الباطنة)	4
أسئلة الاختبار الرسمي شمال الشرقية	5



الامتحان النهائي للصف الثامن
للفصل الدراسي الأول - الدور الأول
للعام الدراسي ١٤٤٣ هـ / ١٤٤٤ هـ - ٢٠٢٢ / ٢٠٢٣ م
مدرسة روضة عمان للتعليم الأساسي ١ - ١٢

- المادة: الدراسات الاجتماعية
- زمن الإجابة: ساعة ونصف
- عدد صفحات أسئلة الامتحان: (٥) صفحات.
- الإجابة في الورقة نفسها.

اسم الطالب	الصف

تعليمات الامتحان:

- أجب عن جميع الأسئلة في الفراغ المخصص في ورقة الأسئلة.
- تأكد من اكتمال صفحات أسئلة الامتحان وفق العدد الموضح أعلاه.

السؤال	الدرجة		التوقيع بالاسم	
	بالأرقام	بالحروف	المصحح الأول	المصحح الثاني
١				
٢				
٣				
٤				
٥				
المجموع			جمعه	مراجعة الجمع
المجموع الكلي				

(١)

امتحان الصف الثامن المادة الدراسات الاجتماعية الفصل الدراسي الأول
الدور: الأول للعام الدراسي ١٤٤٣ هـ / ١٤٤٤ هـ - ٢٠٢٢ / ٢٠٢٣ م

أجب عن جميع الأسئلة الآتية

السؤال الأول: ضع دائرة حول رمز الإجابة الصحيحة لكل مفردة من المفردات الآتية:

١- العبارة الصحيحة التي تناسب درجة الحرارة مع الارتفاع عن سطح البحر:

(أ) كلما ارتفعنا بمقدار (١٥٠ متراً) تنخفض الحرارة بمقدار (١ درجة سيليزية).

(ب) كلما انخفضنا بمقدار (١٥٠ متراً) ترتفع الحرارة بمقدار (١ درجة سيليزية).

(ج) كلما ارتفعنا بمقدار (١٥٠ متراً) تنخفض الحرارة بمقدار (٢ درجة سيليزية).

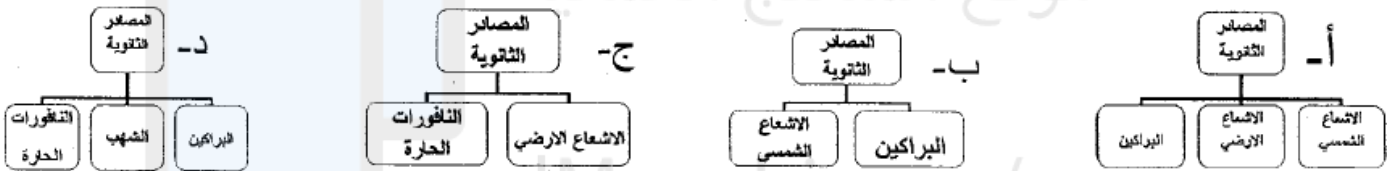
(د) كلما انخفضنا بمقدار (١٥٠ متراً) ترتفع الحرارة بمقدار (٢ درجة سيليزية).

٢- المدينة التي شهدت بدء الرصد الجوي المنتظم في سلطنة عمان عام ١٩٣٢ م:

(د) صحار

(ب) صلالة (ج) نزوى

٣- خريطة المفاهيم التي تبين المصادر الثانوية للحرارة على سطح الأرض:



٤- تنشأ الرياح نتيجة اختلاف:

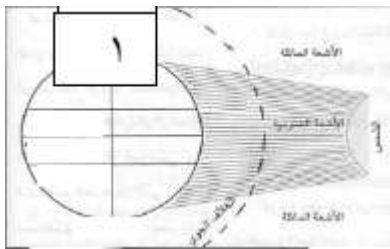
(د) الضغط الجوي

(ج) الامطار

(ب) الرطوبة

(أ) الحرارة

٥- من خلال الشكل الذي امامك، المناخ السائد في المنطقة (١) هو:



(أ) الاستوائي

(ب) المتوسطي

(ج) الصحراوي

(د) القطبي

٦- من خصائص الإقليم الاستوائي :

(د) الجفاف

(ج) أشعة الشمس مائلة

(ب) قلة الامطار

(أ) الغابات الكثيفة

٧- المدينة التي اتخذها السيد سعيد بن سلطان عاصمة له في شرقي افريقيا:

(د) مقديشو

(ج) صور

(ب) زنجبار

(أ) كلوه

٨- ميناء مارسيليا من الموانئ الأوروبية التي زارتها السفن العمانية يقع في :

(د) كندا

(ج) فرنسا

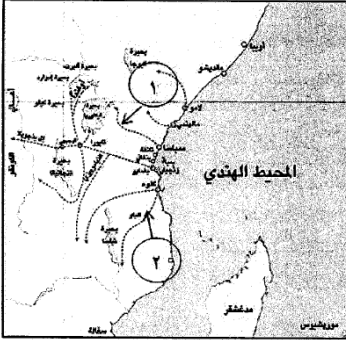
(ب) بريطانيا

(أ) اسبانيا

(٢)

امتحان الصف الثامن المادة الدراسات الاجتماعية الفصل الدراسي الأول
الدور: الأول للعام الدراسي ١٤٤٣ هـ / ١٤٤٤ هـ - ٢٠٢٢ / ٢٠٢٣ م

تابع السؤال الأول:



٩- يشير الرقم ٢ في الخريطة إلى أحد طرق القوافل البرية العمانية في شرقي أفريقيا:

(أ) الشمالي

(ب) الأوسط

(ج) الجنوبي

(د) الغربي

١٠- العام الميلادي الذي صدر فيه المرسوم السلطاني الخاص بالنظام الأساسي للدولة:

(د) ١٩٩٩

(ج) ١٩٩٨

(ب) ١٩٩٧

(أ) ١٩٩٦

١١- الصورة التالية تشير إلى احد المبادئ الموجهة لسياسة الدولة وهي:



(أ) السياسية

(ب) الاجتماعية

(ج) الاقتصادية

(د) الثقافية

١٢- يشترط في عضوية مجلس الشورى أن لا يقل سن المترشح عن:

(د) ٥٠ سنة

(ج) ٤٠ سنة

(ب) ٣٠ سنة

(أ) ٢٠ سنة

السؤال الثاني: أجب عن الأسئلة الآتية (٨ درجات)

(١) أكتب مقابل كل عبارة من العبارات الواردة في الجدول الآتي المفهوم الدال عليها:

المفهوم	العبارة
.....	أ- تحول بخار الماء الموجود في الهواء من الحالة الغازية إلى الحالة السائلة.
.....	ب- اخذ رأي الآخرين ومشاورتهم في أمور تخص الدولة والمجتمع.

(٢) أ- أكتب أسفل كل صورة من الصور الآتية العامل المؤثر في الطقس والمناخ:



.....

.....

(٣)

امتحان الصف الثامن المادة الدراسات الاجتماعية الفصل الدراسي الأول
الدور: الأول للعام الدراسي ١٤٤٣ هـ / ١٤٤٤ هـ - ٢٠٢٢ / ٢٠٢٣ م

تابع السؤال الثاني:

ج) صنف المباني العمرانية الآتية حسب الشخصية التي بنتها:
(قلعة بيت الفلج ، حصن البريمي ، قصر المتوني ، قلعة بركاء)

الامام أحمد بن سعيد	السيد سعيد بن سلطان
.....
.....

السؤال الثالث : أجب عن الأسئلة الآتية (٨ درجات)

١) أذكر اثنين لكل مما يأتي:

أ- أمثلة على الرياح المحلية. موقع المناهج العمانية

ب- مكونات مجلس عمان.

٢) انظر إلى الخريطة المجاورة ثم أجب عن الأسئلة التالية:

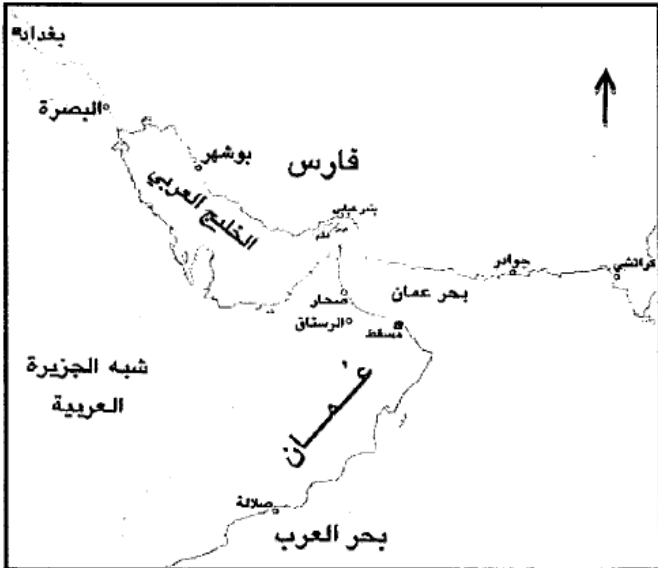
أ) ارسم على الخريطة خط سير السفينة الرحماني
لنجدة البصرة.

ب) استخرج من الخريطة أحد الموانئ التي اخضعها
السيد سلطان بن أحمد لسيطرته؟

ج) تقع فارس بالنسبة لعمان في جهة

د) ضع دائرة على المدينة العمانية التي اتخذها

احمد بن سعيد عاصمة له.



(٤)

امتحان الصف الثامن المادة الدراسات الاجتماعية الفصل الدراسي الأول
الدور: الأول للعام الدراسي ١٤٤٣ هـ / ١٤٤٤ هـ - ٢٠٢٢ / ٢٠٢٣ م

السؤال الرابع: أجب عن الأسئلة الآتية (٦ درجات)

١) دلل على ما يأتي:

أ) العلاقات الطيبة بين حاكم بنجلور (سيبوا صاحب) والامام أحمد بن سعيد.

.....
.....

ب) اهتمام دولة البوسعيد بالمجال الثقافي في شرقي افريقيا.

.....
.....

٢) استنتج من الصورة المقابلة ما يأتي:



أ) إحدى تطبيقات الشورى في المجتمع العماني.

ب) القيم التي تعبر عنها الصورة. (يكتفى بواحدة)

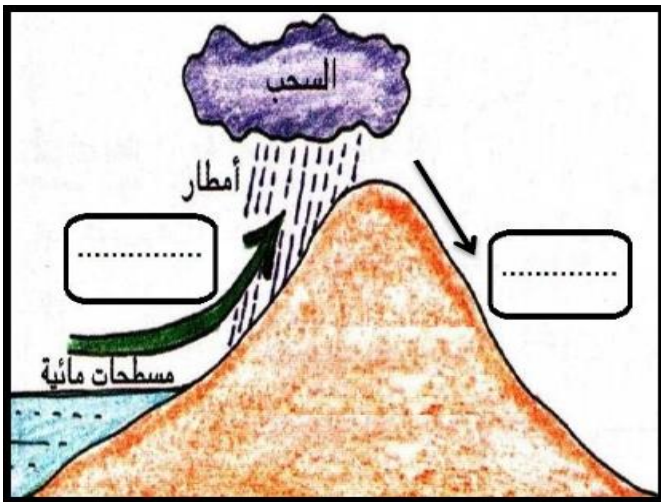
.....
.....

٣) ادرس الشكل المقابل ثم أجب عما يأتي:

١- اكتب البيانات الآتية في موقعها الصحيح في الشكل
(الهواء الجاف - الهواء الرطب)

٢- استنتج نوع الامطار الواضحة في الشكل.

.....
.....



(٥)

امتحان الصف الثامن المادة الدراسات الاجتماعية الفصل الدراسي الأول
الدور: الأول للعام الدراسي ١٤٤٣ هـ / ١٤٤٤ هـ - ٢٠٢٢ / ٢٠٢٣ م

السؤال الخامس: أجب عن الأسئلة الآتية (٦ درجات)

(١) صنف العبارات الواردة في الجدول حسب الباب الذي تندرج ضمنه من أبواب النظام الأساسي (المبادئ الموجهة / الدولة ونظام الحكم / رئيس الدولة)

العبارة	الباب
التعاقد والتراحم صلة وثقى بين المواطنين	
السلطان رمز الوحدة الوطنية والساخر على حمايتها	
دين الدولة الإسلام ولغتها الرسمية اللغة العربية	

(٢) ادرس الخريطة التي امامك تم أجب عن الأسئلة التي تليها:



أ) اذكر مثال واحد على سلعة تجارية تستوردها عمان في عهد دولة البوسعيد من الدولة المشار إليها بالرمز ★

.....

ب) كم يبلغ معدل التساقط السنوي في المنطقة المظللة على الخريطة.

.....

ج) وقع على الخريطة المحيط الهندي في موقعه الصحيح.

انتهت الأسئلة مع الدعاء للجميع بالتوفيق والنجاح.