

تم تحميل هذا الملف من موقع المناهج العمانية



أسئلة اختبارات قصيرة ونهاية للوحدة الأولى مع الإجابة

[موقع المناهج](#) ← [المناهج العمانية](#) ← [الصف التاسع](#) ← [اجتماعيات](#) ← [الفصل الأول](#) ← [الملف](#)

تاريخ إضافة الملف على موقع المناهج: 20:06:06 2023-01-08

إعداد: علي بن محمد الحسان

التواصل الاجتماعي بحسب الصف التاسع



اضغط هنا للحصول على جميع روابط "الصف التاسع"

روابط مواد الصف التاسع على تلغرام

[الرياضيات](#)

[اللغة الانجليزية](#)

[اللغة العربية](#)

[التربية الاسلامية](#)

المزيد من الملفات بحسب الصف التاسع والمادة اجتماعيات في الفصل الأول

[اختبار نهائي رسمي في محافظة شمال الباطنة](#)

1

[الامتحان النهائي الدور الأول الفترة الصباحية لمحافظة مسقط](#)

2

[مواصفات الورقة الامتحانية](#)


3

[اختبار قصير ثاني](#)

4

[أنشطة فردية في الوحدة الثانية](#)

5



الدراسات الاجتماعية

الصف التاسع الأساسي

٢٠٢٣ / ٢٠٢٢

أسئلة واجوبة

الفصل الدراسي الأول

الوحدة الأولى

(درس : البيانات السكانية ومصادرها)

علي بن محمد الحسان

99493923

Ali 47536@moe.om

درس (البيانات السكانية ومصادرها)**السؤال الأول : ضع علامة (✓) أو (X) أمام العبارة الصحيحة مع تصحيح ما تحته خط إذا كانت العبارة خطأ**

- ١- (X) من فوائد المسح بالعينة سرعة التنفيذ وكثرة النفقات . (قلة)
- ٢- (✓) تشكل البيانات السكانية المرجع الأساسي في التعرف على الاتجاهات السكانية حاضرًا ومستقبلاً .
- ٣- (X) تعتبر المسوحات بالعينة أدق في البيانات من التعداد السكاني . أقل دقة
- ٤- (✓) من ضمن أهمية التعداد السكاني أنه يساعد الباحثين وطلبة العلم في معالجة البيانات ودراستها .

السؤال الثاني : أكمل ما يلي بكلمات مناسبة من عندك :

- ١- تفيد معرفة العدد الفعلي للسكان حسب فئات الأعمار في التخطيط لبناء المدارس وإقامة المستشفيات وشبكة المواصلات .
- ٢- يتمثل النمو السكاني في المواليد والوفيات والهجرة .

السؤال الثالث : أكمل المربعات بكلمات مناسبة من عندك :

- ١- من المسوحات التي تقوم بها المؤسسات الحكومية والأهلية لمعرفة الخصائص السكانية ...

مسح الخصوبة	مسح العمالة	مسح الباحثين عن العمل	التركيب النوعي
-------------	-------------	-----------------------	----------------

- ٢- يستفاد من سجل الأحوال المدنية في توفير الوثائق الرسمية مثل ...

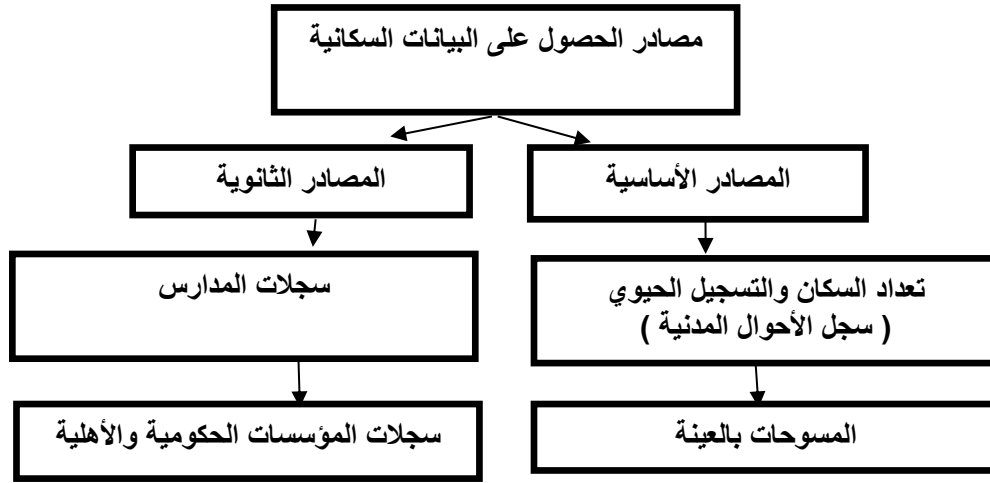
شهادة الميلاد	شهادة الوفاة	عقد الزواج	وثيقة الطلاق
---------------	--------------	------------	--------------

السؤال الرابع : ظلل العبارة الصحيحة من بين البدائل المعطاه :

- ١- علم جغرافية السكان أحد فروع علم
 الجغرافيا الطبيعية التاريخ الجغرافيا البشرية
- ٢- يعد أهم المصادر الرئيسية لدراسة الخصائص والتغيرات السكانية في أي مجتمع
 المسوحات بالعينة التسجيل الحيوي التعداد السكاني

السؤال الخامس : صل بخط بين العمود الأول وما يناسبه من العمود الثاني

وظيفته	المصطلح
يتناول كل الأحداث الحيوية التي تطرأ على الإنسان منذ ولادته وحتى وفاته	التعداد
عملية جمع البيانات عن عينة ممثلة للمجتمع	المسوحات بالعينة
جمع البيانات والمعلومات بكل تفاصيلها المتعلقة بجميع مفردات مجتمع معين في وقت محدد	التسجيل الحيوي

السؤال السادس : أكمل الجدول التالي**السؤال السابع : أجب عن الأسئلة التالية :**

س ١ : عرف مفهوم جغرافية السكان مع ذكر أهميتها ؟

ج ١ : جغرافية السكان أحد فروع علم الجغرافيا البشرية وهي تشكل القاعدة الأساسية لمعرفة بنية السكان وخصائصهم .
أهميتها :

- أنها تشكل العلم الذي يهتم بدراسة حجم السكان وخصائصهم من حيث البنى العمرية والنوعية والاقتصادية والاجتماعية

- التعرف على النمو السكاني والمتمثل في المواليد والوفيات والهجرة .


- يدرس كثافة السكان وعلاقتهم بالموارد .

س ٢ : ماذا يقصد بالتعداد السكاني ؟

ج ٢ : التعداد بمعنى العد أو الإحصاء ويقصد به جمع البيانات والمعلومات بكل تفاصيلها المتعلقة بجميع مفردات مجتمع معين في وقت محدد " الإسناد الزمني " .

س ٣ : ما أهمية دراسة التعداد السكاني لأي مجتمع ؟

ج ٣ : أنه يوفر مخزوناً كبيراً من البيانات والمعلومات عن السكان خلال فترة زمنية تساعد أصحاب القرار في مؤسسات الدولة على وضع الخطط التنموية المستقبلية اللازمة في ضوء المتغيرات السكانية حسب المناطق التي يتوزع فيها السكان .



الدراسات الاجتماعية

الصف التاسع الأساسي

٢٠٢٣ / ٢٠٢٢

أسئلة

الفصل الدراسي الأول

الوحدة الأولى

(درس : البيانات السكانية ومصادرها)

علي بن محمد الحسان

99493923

Ali 47536@moe.om

درس (البيانات السكانية ومصادرها)**السؤال الأول : ضع علامة (✓) أو (X) أمام العبارة الصحيحة مع تصحيح ما تحته خط إذا كانت العبارة خطأ**

- ١- () من فوائد المسح بالعينة سرعة التنفيذ وكثرة النفقات .
- ٢- () تشكل البيانات السكانية المرجع الأساسي في التعرف على الاتجاهات السكانية حاضرًا ومستقبلاً .
- ٣- () تعتبر المسوحات بالعينة أدق في البيانات من التعداد السكاني .
- ٤- () من ضمن أهمية التعداد السكاني أنه يساعد الباحثين وطلبة العلم في معالجة البيانات ودراستها .

السؤال الثاني : أكمل ما يلي بكلمات مناسبة من عندك :

- ١- تفيد معرفة العدد الفعلي للسكان حسب فئات الأعمار في التخطيط لبناء المدارس و
- و
- ٢- يتمثل النمو السكاني في المواليد و و

السؤال الثالث : أكمل المربعات بكلمات مناسبة من عندك :

- ١- من المسوحات التي تقوم بها المؤسسات الحكومية والأهلية لمعرفة الخصائص السكانية ...

مسح	مسح	التركيب
-----------	-----------	---------------

- ٢- يستفاد من سجل الأحوال المدنية في توفير الوثائق الرسمية مثل ...

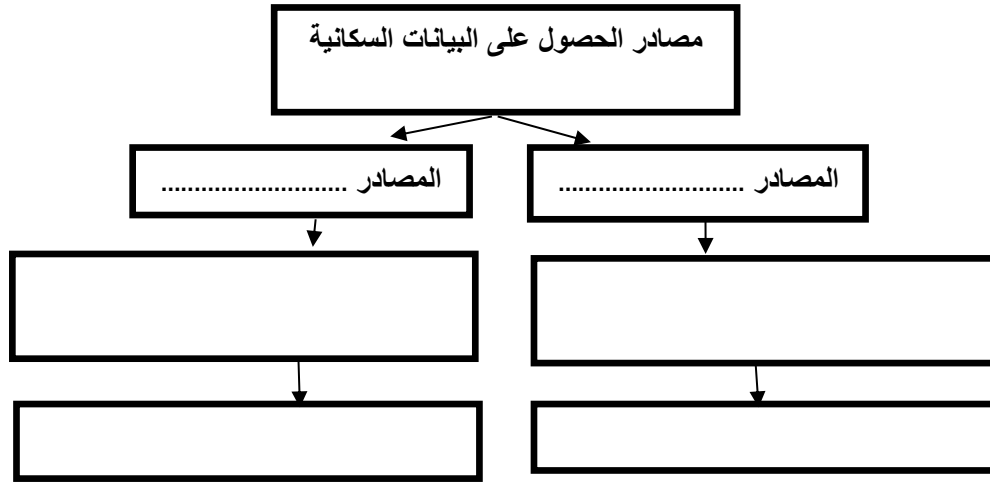
شهادة	شهادة	عقد	وثيقة
-------------	-------------	-----------	-------------

السؤال الرابع : ظلل العبارة الصحيحة من بين البدائل المعطاه :

- ١- علم جغرافية السكان أحد فروع علم
- الجغرافيا الطبيعية ○ التاريخ ○ الجغرافيا البشرية
- ٢- يعد أهم المصادر الرئيسية لدراسة الخصائص والتغيرات السكانية في أي مجتمع
- المسوحات بالعينة ○ التسجيل الحيوي ○ التعداد السكاني

السؤال الخامس : صل بخط بين العمود الأول وما يناسبه من العمود الثاني

وظيفته	المصطلح
يتناول كل الأحداث الحيوية التي تطرأ على الإنسان منذ ولادته وحتى وفاته	التعداد
عملية جمع البيانات عن عينة ممثلة للمجتمع	المسوحات بالعينة
جمع البيانات والمعلومات بكل تفاصيلها المتعلقة بجميع مفردات مجتمع معين في وقت محدد	التسجيل الحيوي

السؤال السادس : أكمل الجدول التالي**السؤال السابع : أجب عن الأسئلة التالية :**

س ١ : عرف مفهوم جغرافية السكان مع ذكر أهميتها ؟

ج ١ :

س ٢ : ماذا يقصد بالتعداد السكاني ؟

ج ٢ :

س ٣ : ما أهمية دراسة التعداد السكاني لأي مجتمع ؟

ج ٣ :