

تم تحميل هذا الملف من موقع المناهج العمانية

الملف امتحان تجريبي فصل أول

[موقع المناهج](#) ⇨ [المناهج العمانية](#) ⇨ [الصف التاسع](#) ⇨ [اجتماعيات](#) ⇨ [الفصل الأول](#)

روابط مواقع التواصل الاجتماعي بحسب الصف التاسع

--	--	--	--

روابط مواد الصف التاسع على تلغرام

التربية الاسلامية	اللغة العربية	اللغة الانجليزية	الرياضيات
-----------------------------------	-------------------------------	----------------------------------	---------------------------

المزيد من الملفات بحسب الصف التاسع والمادة اجتماعيات في الفصل الأول

امتحان وإجابة الأسئلة الرسمية للفصل الدراسي الأول الدور الأول 20162017	1
تحميل كتاب الطالب	2
تجميع أسئلة سنوات سابقة	3
أسئلة للمراجعة على الوحدة الثانية	4
ملخص من أحلك مع اختبارات قصيرة	5

امتحان تجريبي في مادة الدراسات الاجتماعية للصف التاسع

السؤال الأول : اختر الإجابة الصحيحة من بين البدائل المعطاة فيما يلي :

١- البديل الصحيح الذي يشير إلى المصادر الأساسية والمصادر الثانوية هو :

<u>المصادر الأساسية</u>	<u>المصادر الثانوية</u>
أ- التسجيل الحيوي	المسوحات بالعينة
ب- سجلات المؤسسات الأهلية	التسجيل الحيوي
ج- التعداد السكاني	سجلات المدارس
د- سجلات المدارس	التعداد السكاني

٢- في منطقة ما بلغ عدد الإناث ١٣٠,٢٥٩ وكانت نسبة النوع تساوي ١٢٢,٤ فإن عدد الذكور يساوي :

أ- ١٠٦,٢٤٠ ب- ١٥٩,٤٣٧ ج- ٩٣,٩٦٦ د- ١٤٠,٢٩٣

٣- الجدول التالي يوضح الزيادة الطبيعية لدول مختلفة من العالم في عام ٢٠٠٠ م :

الدولة	الزيادة الطبيعية
سلطنة عُمان	٣٨
الصين	٢
فرنسا	١-
المملكة العربية السعودية	٣٠
ألمانيا	١-

- العبارة الصحيحة التي يمكن استنتاجها من الجدول السابق هي :

أ- معدل المواليد في ألمانيا أكثر من معدل الوفيات .

ب- تحتاج فرنسا إلى الأيدي العاملة أكثر من الآلات .

ج- تعتبر الصين من المجتمعات الزراعية أكثر من كونها من المجتمعات الصناعية .

د- معدل المواليد في سلطنة عُمان أقل من معدل الوفيات .

٤- الشكل التالي يوضح أسماء شخصيات عُمانية وأهم ما تميزوا به في عهد السيد سعيد :

الشخصية العمانية	المميزات
س	كان يعينه السيد سعيد وصيا على الحكم عندما كان يذهب إلى عُمان .
ص	قام برحلة إلى فرنسا .
ع	يعتبر أحد المستشارين المقربين للسيد سعيد وابنه السيد ماجد .

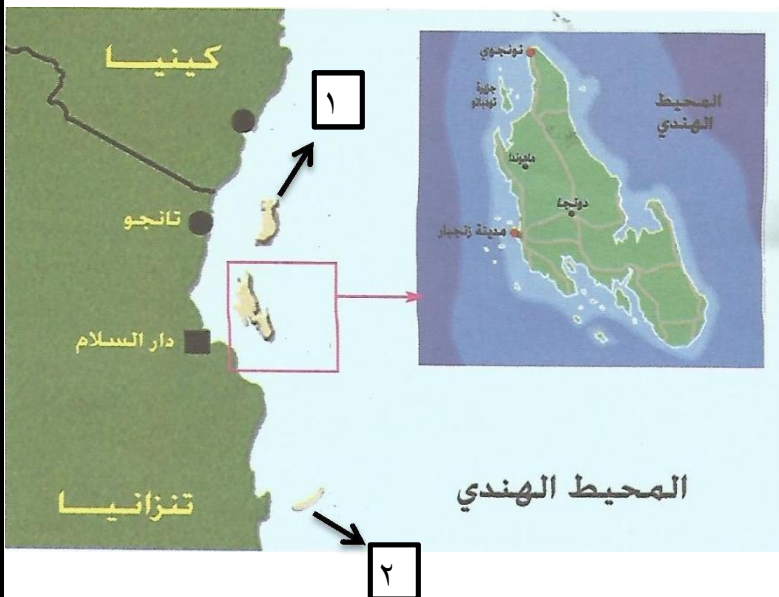
- الرموز (س - ص - ع) تشير إلى :

	س	ص	ع
أ-	الشيخ محي الدين القحطاني	السيد سليمان بن حمد	الشيخ أحمد بن النعمان الكعبي
ب-	السيد سليمان بن حمد	الشيخ أحمد بن النعمان الكعبي	الشيخ محي الدين القحطاني
ج-	السيد سليمان بن حمد	الشيخ محي الدين القحطاني	الشيخ أحمد بن النعمان الكعبي
د-	الشيخ أحمد بن النعمان الكعبي	السيد سليمان بن حمد	الشيخ محي الدين القحطاني

٥- نسبة الضرائب المفروضة على الواردات الآتية إلى الموانئ الأفريقية لا تتجاوز :

أ- ٥% ب- ٦% ج- ٧% د- ٨%

٦- الجزيرتان المشار إليهما بالأرقام (١-٢) في الخريطة المجاورة :



	١	٢
أ-	بمبا	مافيا
ب-	مافيا	بمبا
ج-	ممباسا	مافيا
د-	بمبا	ممباسا

٧- مقرر كلاً من مجمع الفقه الإسلامي و الإيسيسكو – على التوالي - :

أ- مكة المكرمة - المدينة المنورة

ب- مكة المكرمة - الرباط

ج- الرباط - مكة المكرمة

د- المدينة المنورة - الرباط

٨- جميع الدول التالية تنتمي إلى رابطة الدول المطلة على المحيط الهندي ما عدا :

أ- سنغافورة ب- كينيا ج- أستراليا د- مصر

السؤال الثاني :

(أ) عرف كلاً من :

١- أمد الحياة :

.....

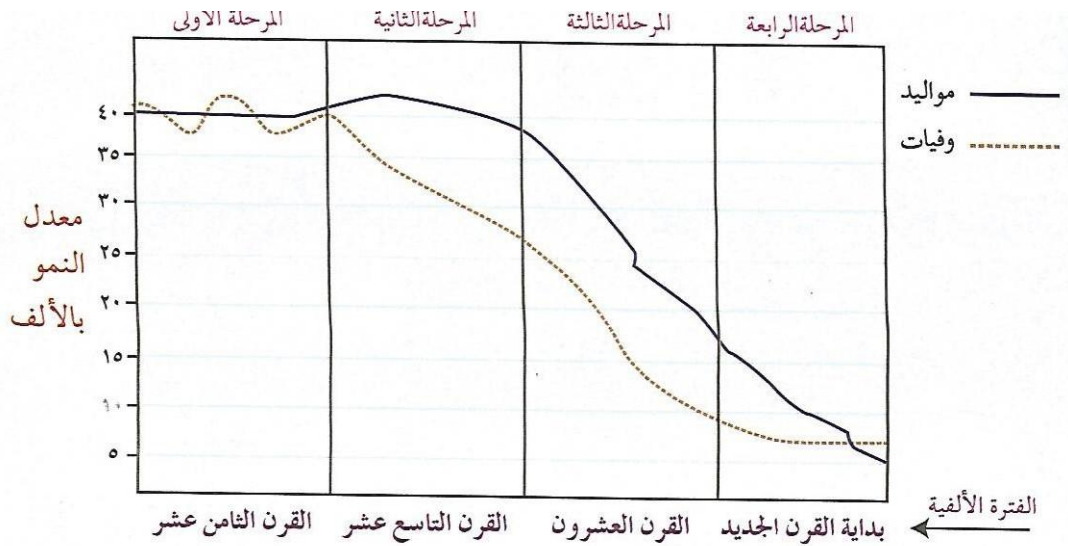
.....

٢- صافي الهجرة :

.....

.....

(ب) الشكل التالي يوضح مراحل الانتقال السكاني ، ادرسه جيداً ثم أجب عن الأسئلة التي تليه :



١- أي من المراحل الأربعة تتميز بارتفاع في أمد الحياة ؟

.....

٢- علل : الإنخفاض النسبي للسكان في المرحلة الأولى .

.....

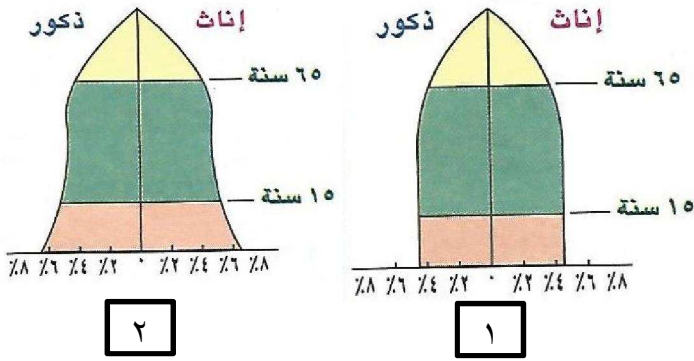
.....

٣- أيهما أعلى في الزيادة الطبيعية المرحلة الثانية أم المرحلة الثالثة ؟ فسر إجابتك .

.....

.....

(ج) أمامك نوعان من الأهرام السكانية ، ادرسها ثم أجب عن الأسئلة التي تليها :



١- عرف الهرم السكاني :

.....

.....

٢- اذكر اثنين من المتغيرات التي تؤثر على شكل الهرم السكاني .

.....

.....

٣- أي الهرمين يمثل المجتمع المسن ؟

.....

السؤال الثالث :

(أ) ١- إذا كانت مساحة بلد ما ٣١٥٢٥ كم مربع ، وكان عدد السكان ٢٧٥٢٠٠٣ نسمة ، احسب الكثافة السكانية (الحسابية) ؟

.....

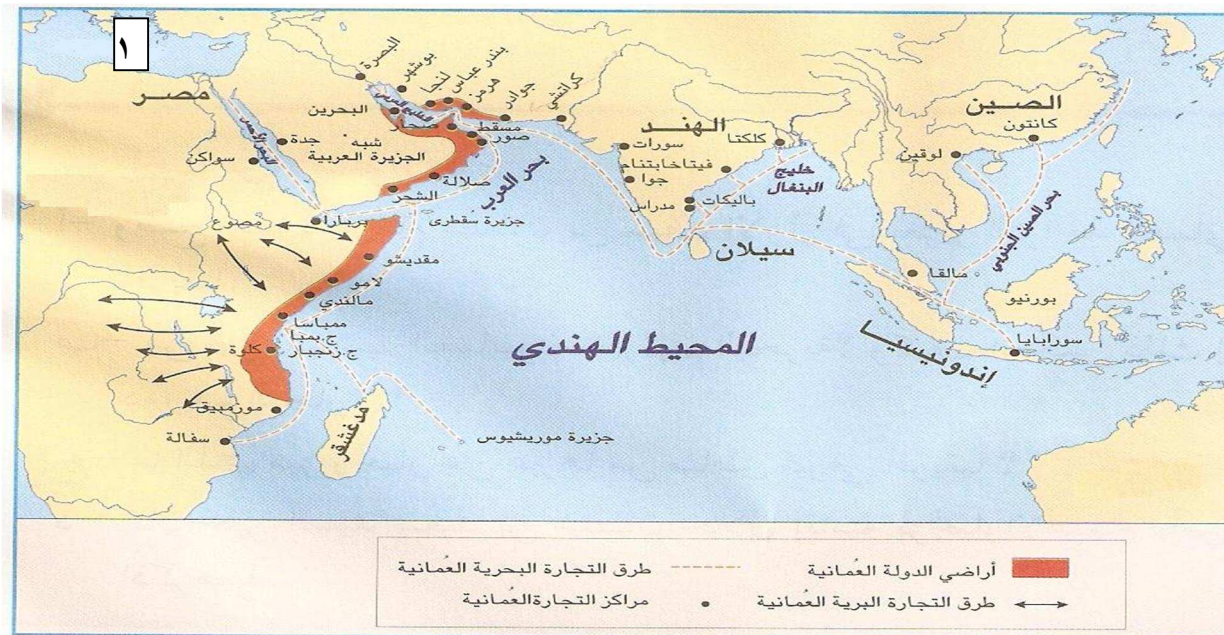
.....

٢- إذا كانت مساحة المنطقة المستثمرة في تلك البلاد ٢٩٦٢٢ كم مربع ، احسب الكثافة الوظيفية؟

.....

.....

(ب) انظر إلى الخريطة التالية ، ثم أجب عن الأسئلة التي تليها :



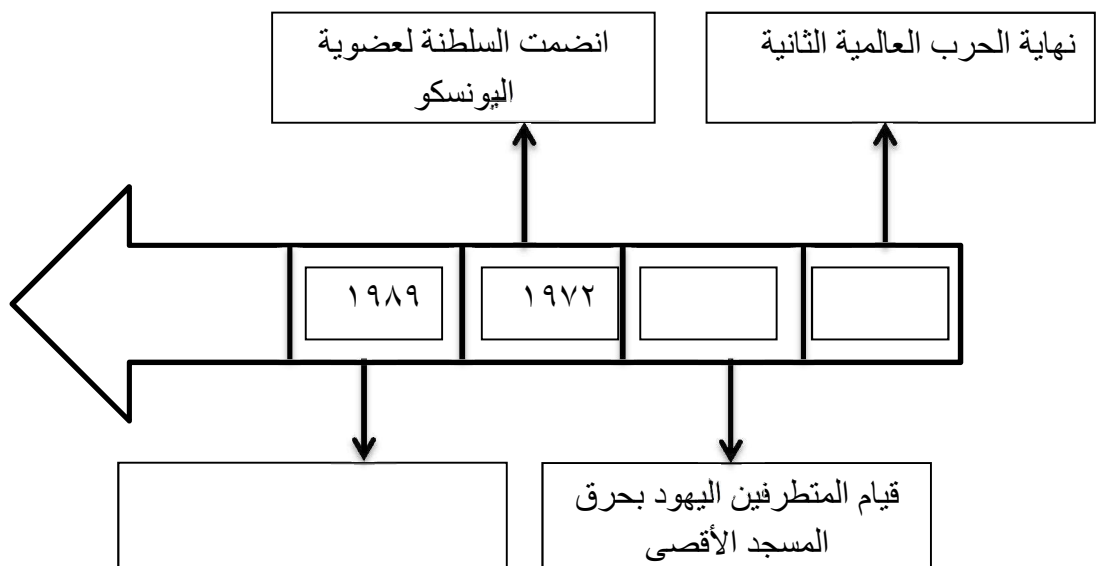
١- سم المسطح المائي المشار إليه بالرقم (١) :

٢- اذكر اثنين من مراكز التجارة العمانية في الهند .

٣- علل : أصبحت زنجبار الدعامة الكبرى لمشروعات السيد سعيد بن سلطان في أفريقيا .

..... (سبب واحد فقط) .

(ج) أكمل المسطرة الزمنية التالية بكتابة التاريخ أو الحدث :



السؤال الرابع :

(أ) أكمل الجدول التالي الذي يوضح المجالس واللجان التي تشارك فيها السلطنة من خلال اليونسكو ، والمؤسسات المتمثلة بها في السلطنة :

المجالس واللجان	المؤسسة المتمثلة بها في عُمان
مجلس إدارة معهد اليونسكو للإحصاء	
المجلس الدولي الحكومي لبرنامج إدارة التحولات الإجتماعية " موست "	
	وزارة التراث والثقافة

(ب) علل كلاً مما يلي :

١- يعتبر الطريق الشمالي لتجارة القوافل العربية طريقاً محفوفاً بالمخاطر :

.....

.....

٢- اختص كل والي بقيادة الحيش في ولايته والإشراف على الحاميات والحصون فيها :

.....

.....

٣- تأسيس منظمة المؤتمر الإسلامي :

.....

.....

(ج) رتب الأحداث التالية من الأقدم إلى الأحدث بوضع الرقم المناسب بين القوسين :

- تأسيس المطبعة السلطانية في زنجبار . ()
- أصبحت زنجبار عاصمة ثانية لعُمان . ()
- طرد البرتغاليين من عُمان . ()
- رحلة الشيخ أحمد بن النعمان الكعبي إلى نيويورك . ()

انتهت الأسئلة مع تمنياتنا للجميع بالتوفيق والنجاح