

## تجميع اختبارات نهائية لمادة الدراسات الاجتماعية



### تم تحميل هذا الملف من موقع المناهج العمانية

موقع فايلاتي ← المناهج العمانية ← الصف التاسع ← اجتماعيات ← الفصل الثاني ← ملفات متنوعة ← الملف

تاريخ إضافة الملف على موقع المناهج: 18:29:26 2026-06-07

ملفات اكتب للمعلم اكتب للطالب الاختبارات الكترونية الاختبارات حلول عروض بوربوينت أوراق عمل منهج انجليزي ملخصات وتقارير مذكرات وبنوك الامتحان النهائي للمدرس

المزيد من مادة اجتماعيات:

إعداد: خالد بن سالم الجابري

### التواصل الاجتماعي بحسب الصف التاسع



صفحة المناهج العمانية على فيسبوك

### المزيد من الملفات بحسب الصف التاسع والمادة اجتماعيات في الفصل الثاني

ملخص أبرز المصطلحات والشخصيات والموائى التاريخية

1

ملخص درس الإنفجار السكاني الآثار والحلول

2

سلسلة من الأنشطة والاختبارات والملخصات من أجلك طالبتي

3

الانفجار السكاني مفهوم وتداعيات مختصرة

4

الملف الشامل للمنهج يحتوي ملخصات واختبارات وحل أنشطة

5



# تجميع إختبارات نهائية

العام الدراسي 2025\2026

## مادة الدراسات الاجتماعية (الصف التاسع)



تجميع : خالد بن سالم الجابري

(معلم مادة العلوم 5,6 في تميز أكاديمي)

أستاذ خالد



تميز أكاديمي



أرقام التواصل

76941321 76696447 77144048



امتحان مادة الدراسات الاجتماعية للصف التاسع  
الفصل الدراسي: الثاني - الدور الأول (الفترة الصباحية)  
للعام الدراسي ١٤٤٦/١٤٤٧ هـ - ٢٠٢٤/٢٠٢٥ م

▪ عدد صفحات أسئلة الامتحان: ١٠ صفحات.	▪ زمن الامتحان: ساعة ونصف.
▪ الدرجة الكلية للامتحان: ٤٠ درجة.	▪ الإجابة في دفتر الأسئلة نفسه.
	▪ تُكتب الإجابة بالقلم الأزرق أو الأسود.

اسم الطالب: \_\_\_\_\_ الصف: \_\_\_\_\_

التوقيع بالاسم		الدرجة		السؤال
اسم المراجع	اسم المصحح	بالحروف	بالأرقام	
				أولاً: الأسئلة الموضوعية (١ - ١٢)
				ثانياً: الأسئلة المقالية ١٣
				١٤
				١٥
				١٦
مراجعة الجمع	جمعه			المجموع
				المجموع الكلي

أولاً: الأسئلة الموضوعية:

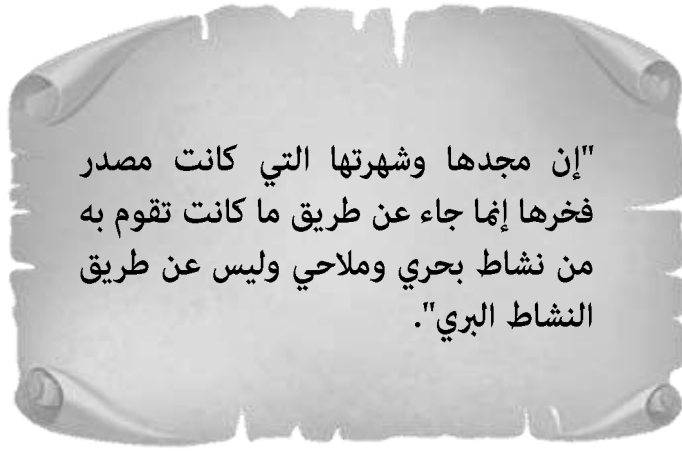
ظل الشكل ( ) المقترن بالإجابة الصحيحة لكل مفردة من المفردات الآتية:

١٢ درجة

١- الدولة التي يقع فيها ميناء الزيتون:

تونس  المغرب  الهند  الصين

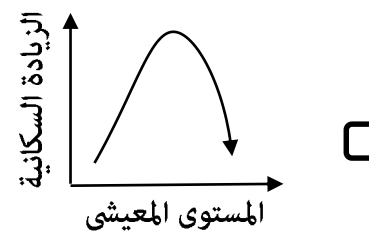
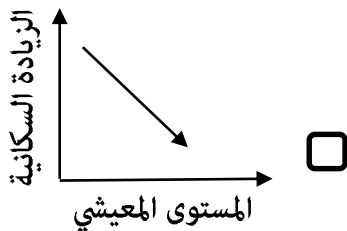
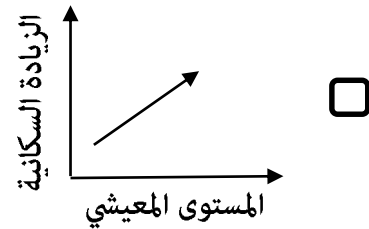
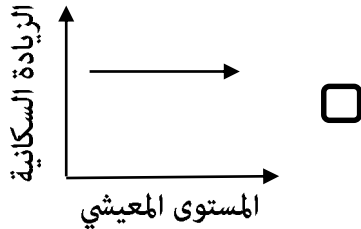
٢- قائل العبارة المقابلة عن عُمان:

 سقراط بطليموس أرسطو أفلاطون

٣- الصحراء التي تشكل القسم الأكبر من المناطق الشمالية للصين:

تار  اتكاما  جوبي  بتجونيا

٤- الشكل البياني الصحيح الذي يوضح العلاقة بين الزيادة السكانية والمستوى المعيشي في الدول النامية:



## تابع أولاً: الأسئلة الموضوعية:

٥- المعادلة الرياضية المستخدمة لحساب حجم الباحثين عن العمل في دولة ما:

- مجموع قوة العمل + مجموع العاملين فعلا.
- مجموع قوة العمل - مجموع العاملين فعلا.
- مجموع قوة العمل + مجموع العاملين فعلا X ١٠٠.
- مجموع العاملين فعلا - مجموع العاملين فعلا X ١٠٠.

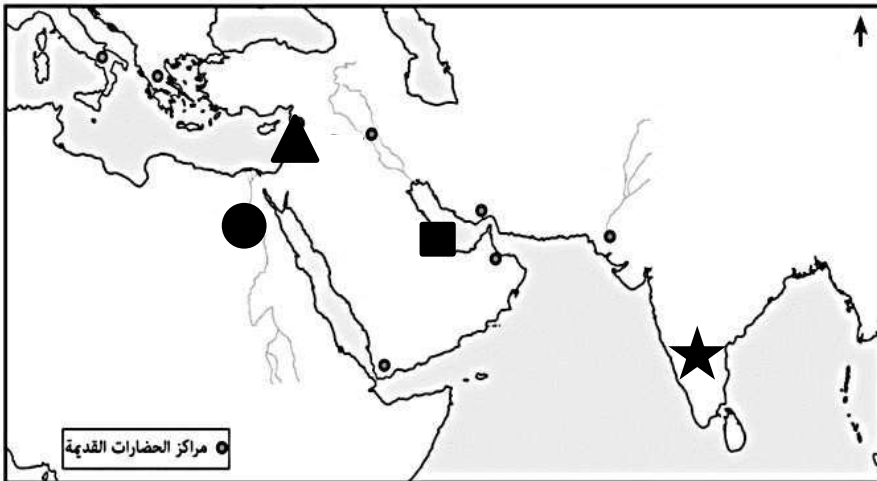
مستعيناً بالنص الآتي، أجب عن المفردتين (٧،٦):

"وقوع عُمان بين مناطق متباينة مناخياً وصلاحية الساحل العُماني لإقامة الموانئ ساعد على توجه العُمانيين نحو البحر والتجارة والملاحة، ويؤكد العديد من المؤرخين إلى علاقة عُمان مع الحضارات القديمة كحضارة بلاد الشام، كما كانت السواحل العُمانية بعيدة عن الصراعات والاضطرابات التي تحدث في غيرها من المناطق، وحرصت على تأمين الملاحة البحرية وحمايتها من القرصنة".

٦- العوامل التي أشار إليها النص وأدّت إلى تطور الملاحة البحرية العُمانية:

- الطبيعية - التاريخية - السياسية.  الطبيعية - التاريخية - الأمنية.
- الطبيعية - السياسية - الأمنية.  التاريخية - الأمنية - السياسية.

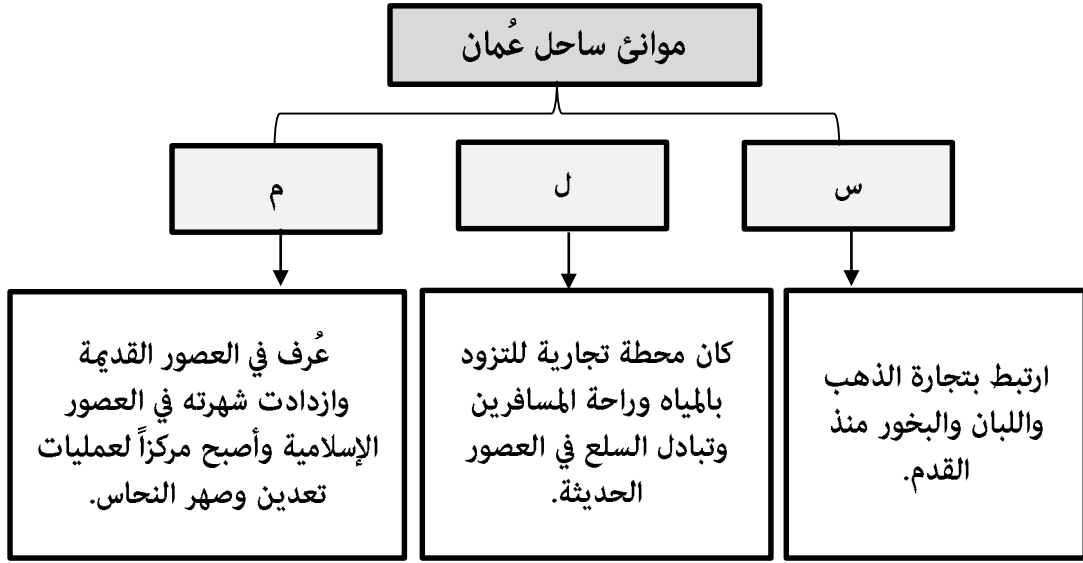
٧- الرمز الذي يشير إلى الموقع الصحيح للحضارة التي تحتها خط في النص السابق:



- 
- 
- 
-

## تابع أولاً: الأسئلة الموضوعية:

٨- الجدول الصحيح الذي يعبر عن موانئ ساحل عُمان الموضحة في المخطط الذي أمامك:



س	صحار
ل	مسقط
م	ظفار

س	ظفار
ل	مسقط
م	صحار

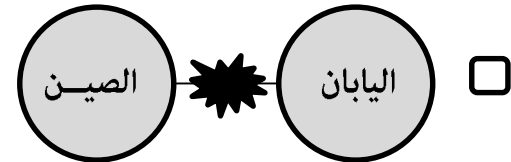
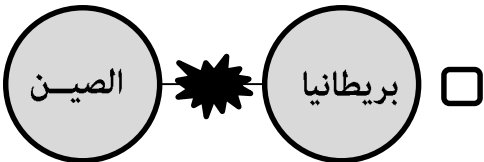

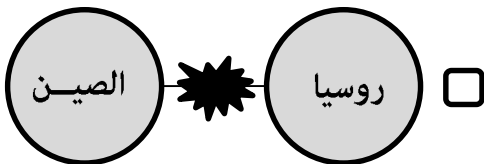
س	مسقط
ل	صحار
م	ظفار

س	ظفار
ل	صحار
م	مسقط

٩- القرن الميلادي الذي استخدم فيه اسم (إيران) رسمياً:

٢١ ٢٠ ١٩ ١٨ 

١٠- الشكل الصحيح الذي يعبر عن طرفي الصراع في حرب الأفيون التي نشبت في القرن التاسع عشر الميلادي:

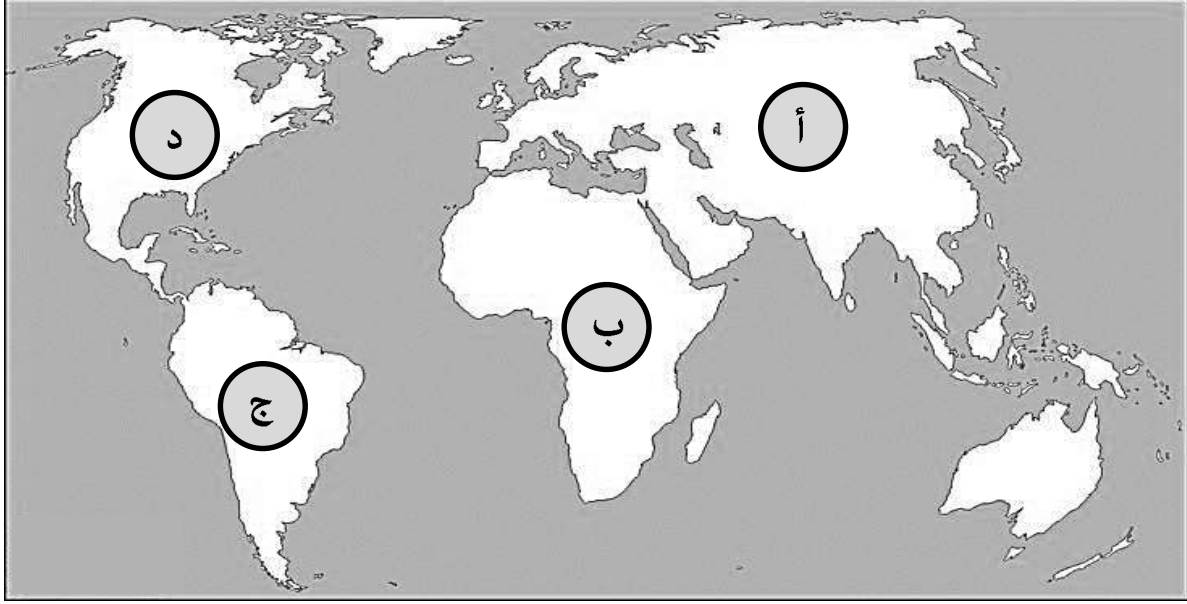


(٤)

المادة: الدراسات الاجتماعية - الصف: التاسع- الفصل الدراسي الثاني- الدور الأول (الفترة الصباحية) - العام الدراسي ٢٠٢٤/٢٠٢٥م

تابع أولاً: الأسئلة الموضوعية:

١١- الرمز الصحيح للقارة التي يتركز فيها (٢٠%) من الطلب العالمي على الوقود والغاز في الخريطة التي أمامك:



د

ج

ب

أ

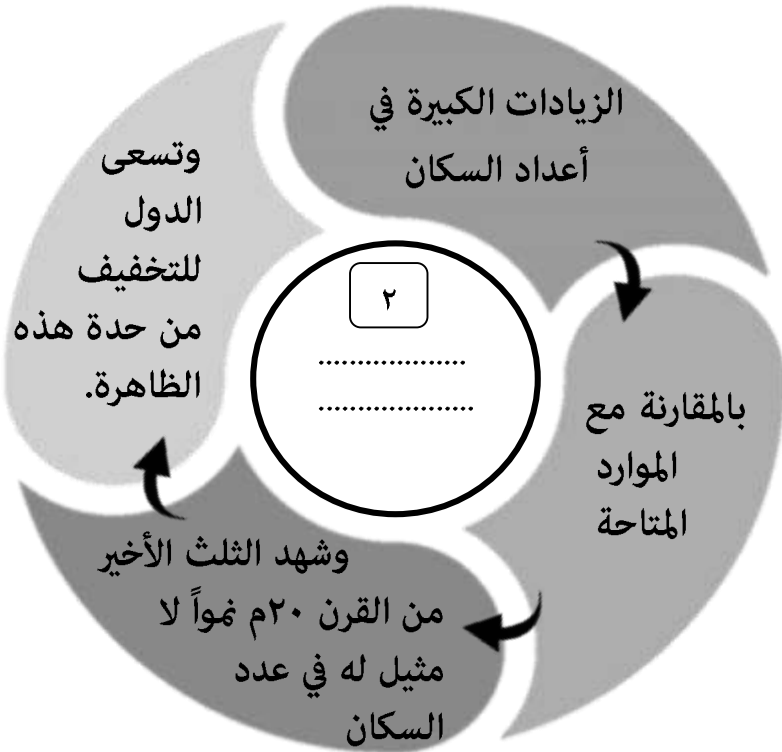
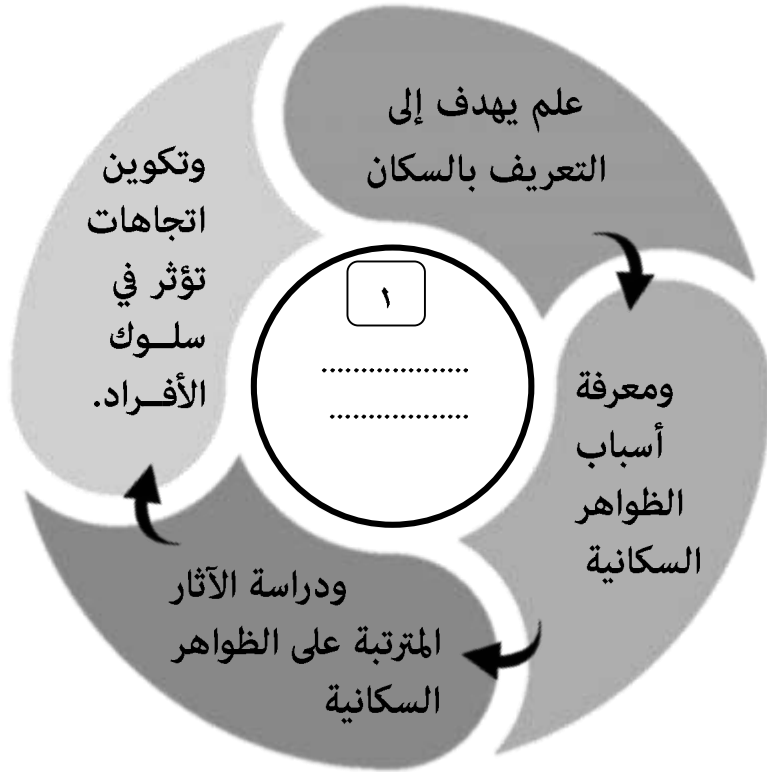
١٢- التسلسل الصحيح لأسماء العواصم اليابانية بعد تسلم الإمبراطور هينو العرش:

- كوتو ← إيدو ← طوكيو
- كوتو ← طوكيو ← إيدو
- طوكيو ← كوتو ← إيدو
- إيدو ← كوتو ← طوكيو

## ثانياً: الأسئلة المقالية:

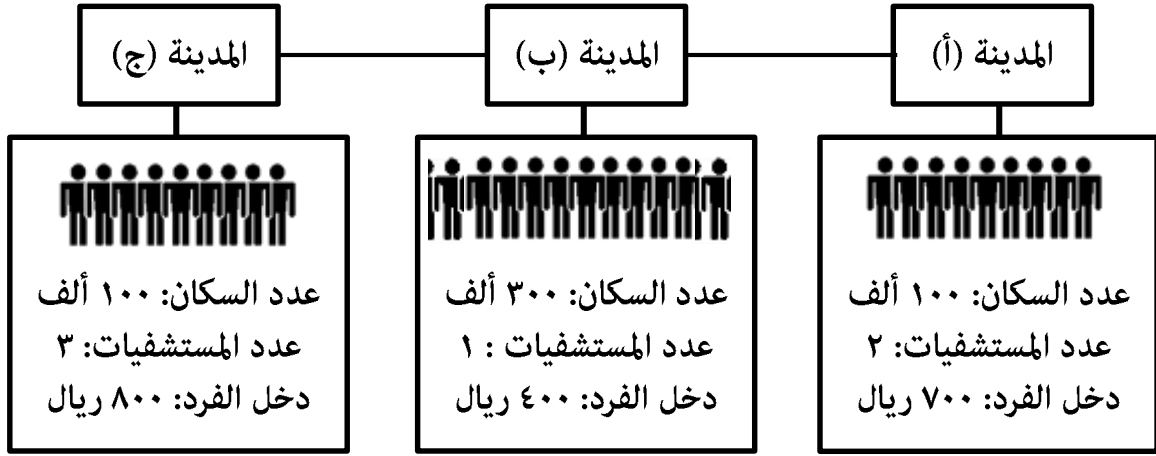
١٣- أ . اكتب المصطلح المناسب في المخططات التي تعبر عنه المعطيات الآتية:

٧ درجات

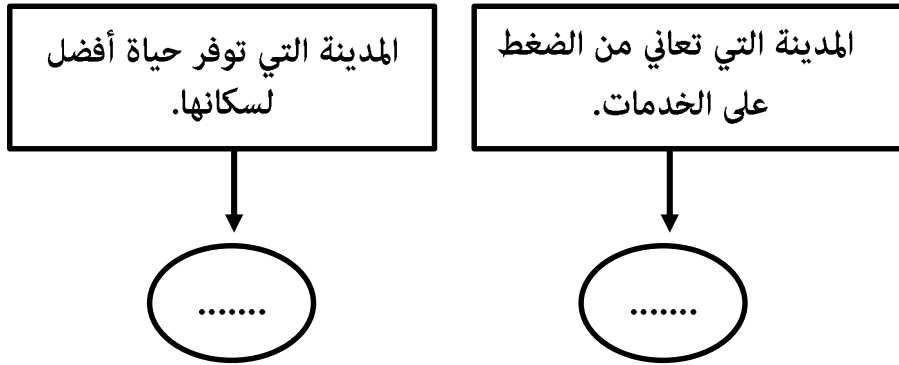


## تابع ثانياً: الأسئلة المقالية:

١٣ - ب. ادرس المخطط الذي يوضح الخدمات الأساسية في بعض المدن جيداً، ثم أجب عن الأسئلة الآتية:



١. اكتب رمز المدينة في المكان المناسب وفقاً للمعطيات الآتية:



٢. وضح العلاقة بين زيادة عدد السكان والضغط على الخدمات في المدن (أ) و(ب) و(ج).

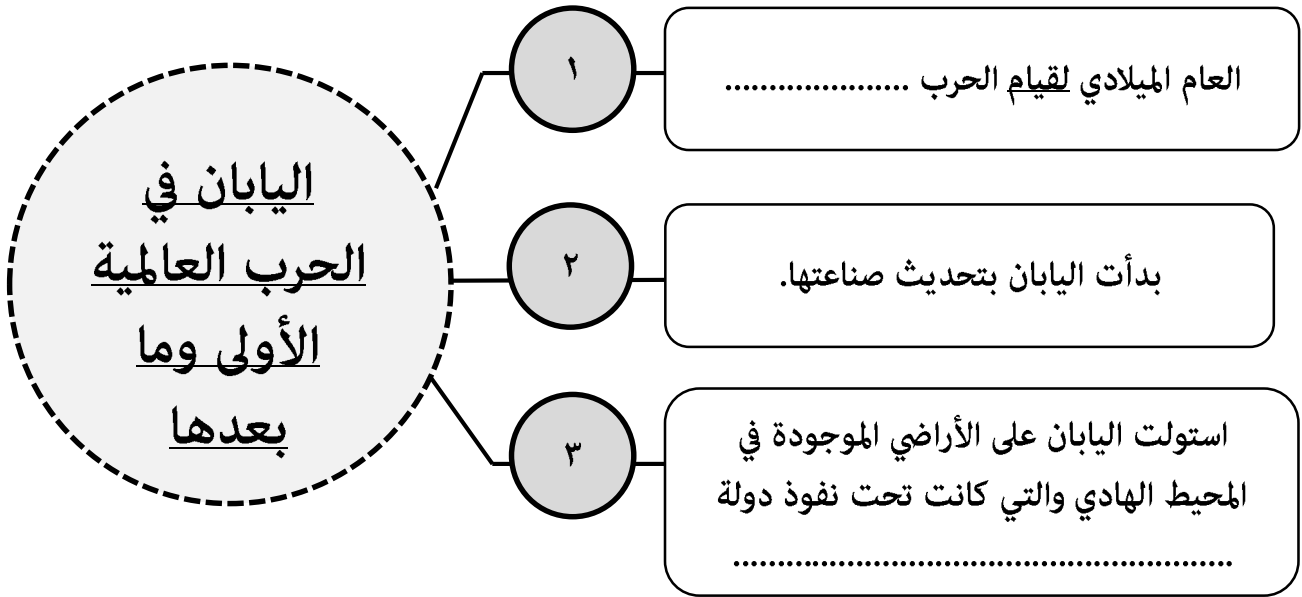
.....

.....

.....

## تابع ثانياً: الأسئلة المقالية:

١٣ - ج. أكمل المخطط الآتي بما يناسبه:



١٤ - أ. انسب الأحداث التاريخية في المخططات الآتية إلى العصر الذي تنتمي إليه:

(العصر القديم - عصر الدولة الإسلامية - اليعاربة - البوسعيد)

٧ درجات

١ ارسال السفينة (سلطانة) إلى ميناء نيويورك عام ١٨٤٠م بقيادة أحمد بن النعمان.

٢ محاولة الإنسان العماني الإبحار باستخدام الصاري والشرع سعياً للتبادل التجاري.

٣ إعداد قوة بحرية استطاعت تعقب البرتغاليين في الخليج العربي والمحيط الهندي.

١٤ - ب. برهن بدليل واحد على أن الفترة بين (١٦٥٠- ١٦٥٢م) شهدت نشاطاً بحرياً عمانياً أقلق الانجليز والهولنديين.

.....  
.....

## تابع ثانياً: الأسئلة المقالية:

١٤ - ج. الخريطة المقابلة تمثل موانئ الساحل الأفريقي الشرقي ادرسها جيداً، ثم أجب عن الأسئلة الآتية:



١. ضع دائرة حول الميناء الذي يعد من أهم مراكز تجارة المحيط الهندي والعالم زمن الدولة البوسعيدية.


٢. سم الميناء المشار له بالرمز ( ▲ ) في الخريطة المقابلة.

.....


٣. اكتب على الخريطة في الموقع الصحيح اسم الميناء الذي أصبح مملكة بحرية مع نهاية العصر العباسي وبداية العصور الحديثة.

١٥- أ. رتب الأحداث الآتية وفق تسلسلها التاريخي من الأقدم إلى الأحدث بوضع الأرقام من (١-٣):


٧ درجات



تولى الشاه محمد رضا بهلوي السلطة في إيران وبدأ في اصلاحات اجتماعية واقتصادية.



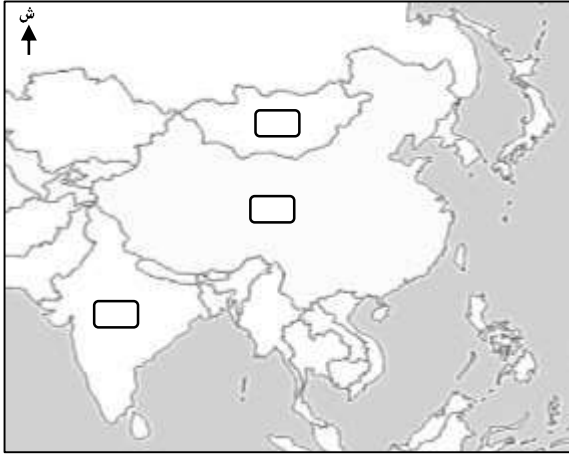
قيام الجمهورية الإسلامية الإيرانية.



تعرضت إيران لغزو المغول الذين دمروا قسماً كبيراً من مراكزها الحضارية.

## تابع ثانياً: الأسئلة المقالية:

١٥ - ب. ادرس الصورة والخريطة جيداً، ثم أجب عن الأسئلة الآتية:



١. اكتب اسم المَعلم الحضاري الواضح في الصورة.

.....

٢. ظلل على الخريطة المربع الذي يشير للدولة التي يقع فيها هذا المَعلم.

٣. اذكر سبباً واحداً جعل الإمبراطور (شيه هوانج) يصدر أمراً لإتمام بناء المَعلم الواضح في الصورة.

.....

٧ درجات

١٦- أ. اعطِ نتيجة واحدة ترتبت على الآتي:

١. اختراع الصينيون للورق وابتكارهم لأسلوب الكتابة الخاص بهم.

.....

٢. تنوع ثروات المحيط الهندي وشدة الطلب عليها في العصور التاريخية.

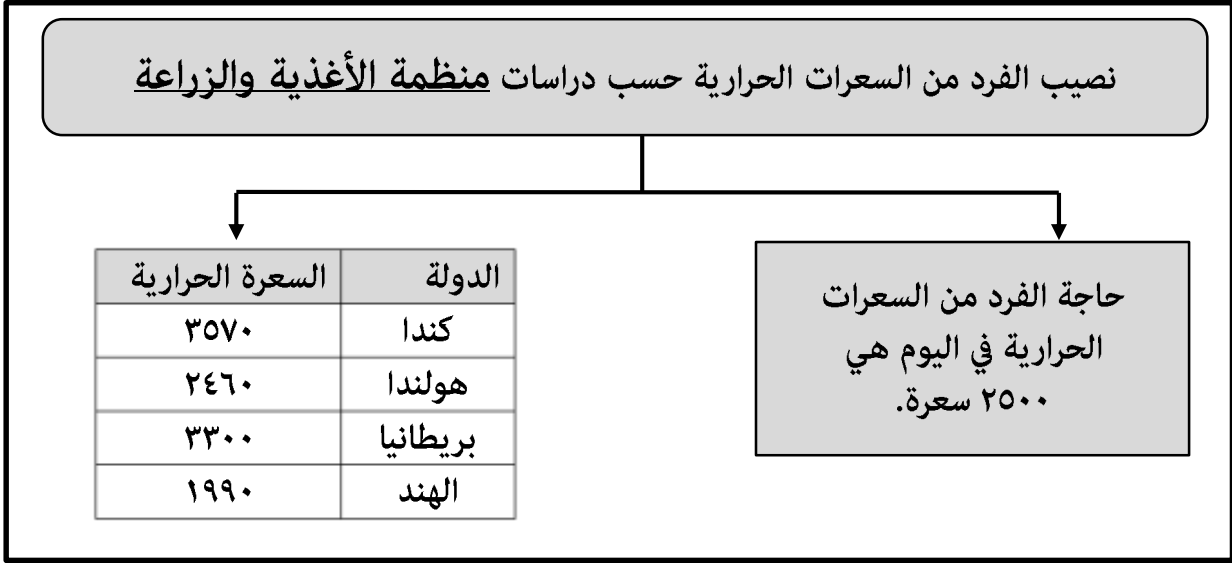
.....

٣. حركة التيارات البحرية والرياح الموسمية على الملاحة البحرية العمانية.

.....

## تابع ثانيًا: الأسئلة المقالية:

١٦ - ب. ادرس المخطط الذي أمامك جيدًا، ثم أجب عن الأسئلة الآتية:



١- اذكر الاسم المختصر للمنظمة التي تحتها خط.

.....

٢- اكتب رقم المعادلة الصحيحة التي تصف نصيب الفرد من السعرات الحرارية بين بريطانيا والهند.

٣- بريطانيا &lt; الهند

٢- بريطانيا = الهند

١- بريطانيا &gt; الهند

رقم المعادلة الصحيحة: ○

今日头条  
今日頭條

١٦ - ج. ادرس الصورة التي أمامك جيدًا، ثم أجب عن الأسئلة الآتية:

١. استنتج من الصورة التأثير الحضاري للصينيين على الحضارة اليابانية.

.....

٢. نوع المجال الذي يندرج تحته هذا التأثير الحضاري:

[ظل الإجابة الصحيحة]

الاقتصادي الأدبي الديني 

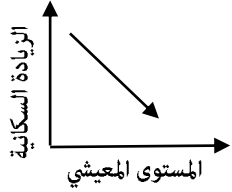
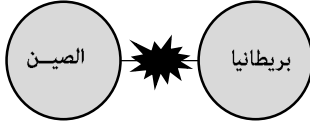

انتهت الأسئلة مع الدعاء للجميع بالتوفيق والنجاح

نموذج إجابة امتحان مادة الدراسات الاجتماعية للصف التاسع  
 الفصل الدراسي الثاني الدور الأول ( الفترة الصباحية )  
 للعام الدراسي ١٤٤٦ / ١٤٤٧ هـ - ٢٠٢٤ / ٢٠٢٥ م

الدرجة الكلية: ( ٤٠ ) درجة

تنبيه: نموذج الإجابة في (٦) صفحات

أولا : إجابة الأسئلة الموضوعية ( مجموع الدرجات ١٢ درجة )

السؤال	الإجابة	الصفحة	مفتاح التصحيح						
١	الصين	٥٥	١ - ٠						
٢	بطليموس	٤٥	١ - ٠						
٣	جوبي	٨٥	١ - ٠						
٤		١٤	١ - ٠						
٥	مجموع قوة العمل - مجموع العاملين فعلا.	١٦	١ - ٠						
٦	الطبيعية - التاريخية - الأمنية	٤٣-٤١	١ - ٠						
٧	▲	٤٢	١ - ٠						
٨	<table border="1" style="margin-left: auto; margin-right: auto;"> <tr> <td>س</td> <td>ظفار</td> </tr> <tr> <td>ل</td> <td>مسقط</td> </tr> <tr> <td>م</td> <td>صحار</td> </tr> </table>	س	ظفار	ل	مسقط	م	صحار	٥٢-٥١	١ - ٠
س	ظفار								
ل	مسقط								
م	صحار								
٩	٢٠	٧٢	١ - ٠						
١٠		٩١	١ - ٠						
١١	أ	١٨	١ - ٠						
١٢		٩٧-٩٦	١ - ٠						

ثانياً : إجابة الاسئلة المقالية: السؤال: ١٣ ( مجموع الدرجات ٧ درجات )

السؤال	المفردة	الجزئية	الإجابة الصحيحة	الدرجة	الصفحة
١٣	أ	١	التربية السكانية	١	٩
		٢	الانفجار السكاني	١	٨
			-		
			٢-١-٠		
		معيار التصحيح			
		مفتاح التصحيح			

السؤال	المفردة	الجزئية	الإجابة الصحيحة	الدرجة	الصفحة
١٣	ب	١	المدينة التي تعاني من الضغط على الخدمات	١	١٤
			المدينة التي توفر حياة أفضل لسكانها	١	١٧
			علاقة طردية / تؤدي الزيادة السكانية إلى الضغط على الخدمات والمرافق العامة / كلما زاد عدد السكان زاد الضغط على الخدمات والمرافق العامة .	٢	١٦
			تراعى إجابة الطالب بما يفيد المعنى.		
		معيار التصحيح			
		مفتاح التصحيح			
			٣-٢-١-٠		



السؤال	المفردة	الجزئية	الإجابة الصحيحة	الدرجة	الصفحة
١٣	ج	١	العام الميلادي لقيام الحرب ١٩١٤ م.	١	٩٧
			بدأت اليابان بتحديث صناعتها.	٢	
			استولت اليابان على الأراضي الموجودة في المحيط الهادي والتي كانت تحت نفوذ دولة ألمانيا.	٣	
			-		
		معيار التصحيح			
		مفتاح التصحيح			
			٢-١-٠		

تابع ثانياً : إجابة الاسئلة المقالية: السؤال: ١٤ ( مجموع الدرجات ٧ درجات )

السؤال	المفردة	الجزئية	الإجابة الصحيحة	الدرجة	الصفحة
١٤	أ	١	عصر البوسعيد	١	٤٨
		٢	العصر القديم	١	٤٥
		٣	عصر اليعاربة	١	٤٦
		معيار التصحيح	-		
	مفتاح التصحيح		٣-٢-١-٠		

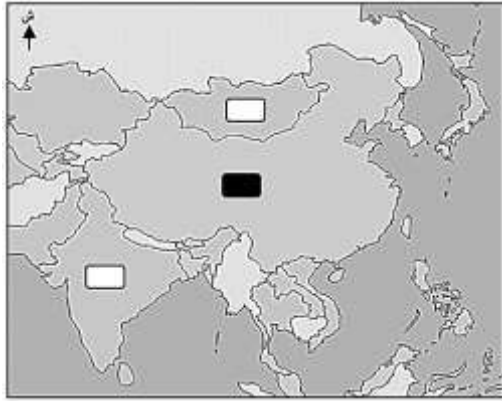
السؤال	المفردة	الجزئية	الإجابة الصحيحة	الدرجة	الصفحة
١٤	ب	-	<ul style="list-style-type: none"> <li>تمكن الإمام سلطان بن سيف من الاعتماد الكامل على السفن الحديثة التي بني بعضها في الهند وبعضها تم شراؤه من الهولنديين.</li> <li>الإفادة من السفن التي وقعت في أيدي العُثمانيين بعد طردهم للبرتغاليين.</li> <li>استخدام المدافع المتطورة التي كانت بكفاءة المدافع الأوروبية نفسها.</li> </ul>	١	٤٦
			معيار التصحيح	يكتفي بواحد - بما يفيد المعنى.	
		مفتاح التصحيح		١-٠	

تابع ثانياً : إجابة الاسئلة المقالية: السؤال: ١٤ ( مجموع الدرجات ٧ درجات )

الصفحة	الدرجة	الإجابة الصحيحة	الجزئية	المفردة	السؤال
٥٤-٥٣	١	 <p>يضع الطالب دائرة حول ( زنجبار )</p>	١		
يشترط وضع دائرة على زنجبار			معيار التصحيح		
٥٤	١	مدغشقر	٢	ج	
٥٦-٥٥	١	 <p>يكتب الطالب ميناء هرمز في الموقع الصحيح على الخريطة</p>	٣		١٤
يشترط كتابة ( هرمز ) في الموقع الصحيح على الخريطة			معيار التصحيح		
٣-٢-١-٠			مفتاح التصحيح		

تابع ثانياً : إجابة الاسئلة المقالية: السؤال: ١٥ ( مجموع الدرجات ٧ درجات )

الصفحة	الدرجة	الإجابة الصحيحة	الجزئية	المفردة	السؤال
٧٤	١	٢			١٥
	١	٣	١	أ	
	١	١			
-			معيار التصحيح		
٣-١-٠			مفتاح التصحيح		

الصفحة	الدرجة	الإجابة الصحيحة	الجزئية	المفردة	السؤال
٨٨	١	سور الصين العظيم	١		١٥
٨٦-٨٥ ٨٨	١	 يظل الطالب المربع الموجود على ( الصين )	٢	ب	
٨٨	٢	نظرا لتعرض الصين لهجمات القبائل المتكررة يراعى تفسير الطالب بما يفيد المعنى.	٣		
٤-٣-٢-١-٠			معيار التصحيح		
٤-٣-٢-١-٠			مفتاح التصحيح		

تابع ثانياً : إجابة الاسئلة المقالية: السؤال: ١٦ ( مجموع الدرجات ٧ درجات )

السؤال	المفردة	الجزئية	الإجابة الصحيحة	الدرجة	الصفحة
١٦	أ	١	تطور الجهاز الإداري / انتشار التعليم.	١	٨٩
		٢	كثرت وتعددت الطرق والموانئ التجارية البحرية في تلك المنطقة منذ العصور التاريخية القديمة.	١	٥١
		٣	ساعدت العمانيين على ركوب البحر / تخدم حركة السفن عند اقلاعها من الموانئ العمانية وعودتها إليها في نهاية الموسم الملاحي.	١	٤١
معياري التصحيح			يكتفي بواحد - تراعى إجابة الطالب بما يفيد المعنى		
مفتاح التصحيح			٣-٢-١-٠		

السؤال	المفردة	الجزئية	الإجابة الصحيحة	الدرجة	الصفحة
١٦	ب	١	الفاو / FAO.	١	١٣
		٢	رقم المعادلة الصحيحة : (٣)	١	١٣
	معياري التصحيح			-	
مفتاح التصحيح			٢-١-٠		

السؤال	المفردة	الجزئية	الإجابة الصحيحة	الدرجة	الصفحة	
١٦	ج	١	استخدم اليابانيون الحروف الصينية في الكتابة / كتبوا قوانين مؤخوذة كليا عن القوانين الصينية.	١	٩٦	
		معياري التصحيح			تراعى إجابة الطالب بما يفيد المعنى.	
	ج	٢	الأدي	١	٩٦	
		معياري التصحيح			يظل الطالب المجال ( الأدي ) .	
مفتاح التصحيح			٢-١-٠			

نهاية نموذج الاجابة



امتحان مادة الدراسات الاجتماعية للصف التاسع  
الفصل الدراسي: الثاني - الدور الأول (الفترة المسائية)  
للعام الدراسي ١٤٤٦ / ١٤٤٧ هـ - ٢٠٢٤ / ٢٠٢٥ م

▪ عدد صفحات أسئلة الامتحان: ٩ صفحات.	▪ زمن الامتحان: ساعة ونصف.
▪ الدرجة الكلية للامتحان: ٤٠ درجة.	▪ الإجابة في دفتر الأسئلة نفسه.
	▪ تُكتب الإجابة بالقلم الأزرق أو الأسود.

اسم الطالب: \_\_\_\_\_ الصف: \_\_\_\_\_

التوقيع بالاسم		الدرجة		السؤال
اسم المراجع	اسم المصحح	بالحروف	بالأرقام	
				أولاً: الأسئلة الموضوعية (١ - ١٢)
				ثانياً: الأسئلة المقالية ١٣
				١٤
				١٥
				١٦
مراجعة الجمع	جمعه			المجموع
				المجموع الكلي

أولاً: الأسئلة الموضوعية:

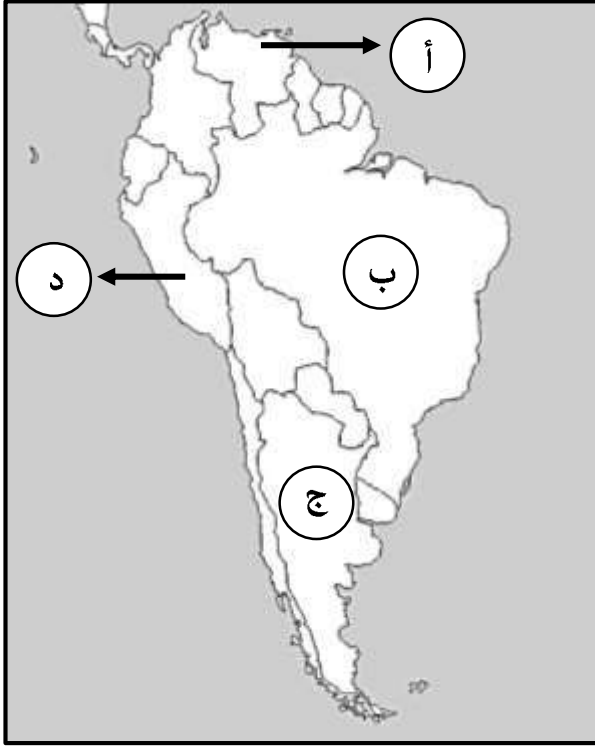
ظل الشكل ( ) المقترن بالإجابة الصحيحة لكل مفردة من المفردات الآتية:

١٢ درجة

١- المضيق الذي يفصل بين الجمهورية الإسلامية الإيرانية وسلطنة عُمان:

 باب المندب       جبل طارق       هرمز       البوسفور

٢- الدولة التي يقع فيها نهر (يانجتسي):

 الصين       اليابان       الهند       ماليزيا


٣- الرمز الصحيح للدولة التي بلغت فيها نسبة الباحثين عن العمل (٢٠%) من جملة عدد سكانها عام ٢٠٠٢م:

 أ  
 ب  
 ج  
 د
٤- العبارة الصحيحة التي تصف العوامل الأمنية التي ساعدت على تطور الملاحة العُمانية:
 حرصت عُمان على إقامة علاقات حضارية جيدة مع الحضارات المجاورة.

 يسود الجفاف معظم أراضي سلطنة عُمان.

 صلاحية الساحل العُماني في كثير من المناطق لإقامة الموانئ.

 حرصت عُمان على تأمين الملاحة البحرية وحمايتها من القرصنة.

## تابع أولاً: الأسئلة الموضوعية:

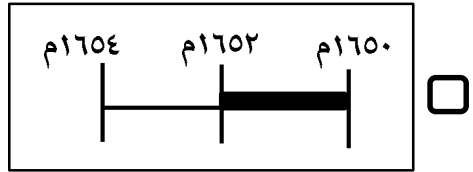
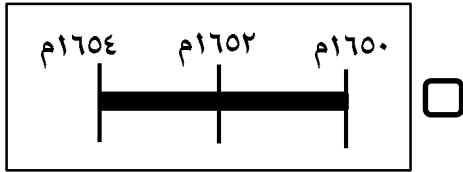
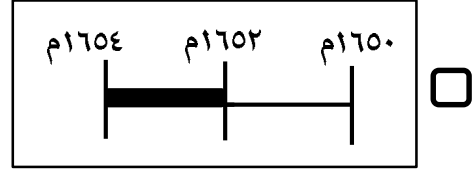
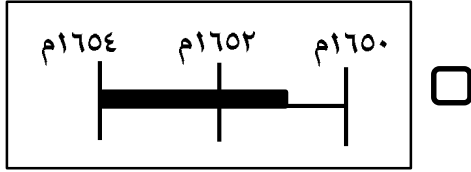
مستعيناً بالنص الآتي، أجب عن المفردتين (٥، ٦):

" ولقد نجحوا في إعداد قوة بحرية استطاعت تعقب البرتغاليين في الخليج العربي والمحيط الهندي، ولم يكتفوا بخبرتهم المحلية بل طوروا سفنهم مستفيدين من التقدم الكبير الذي طرأ على صناعة السفن الأوروبية، وشهدت هذه المرحلة نشاطاً بحرياً عُمانياً ألقى الانجليز والهولنديين".

٥- العصر الذي أشار إليه النص السابق:

- الدولة الإسلامية  النباهنة  اليعاربة  البوسعيد

٦- التظليل الصحيح الذي يعبر عن الفترة الزمنية للحدث الذي تحته خط في النص السابق:

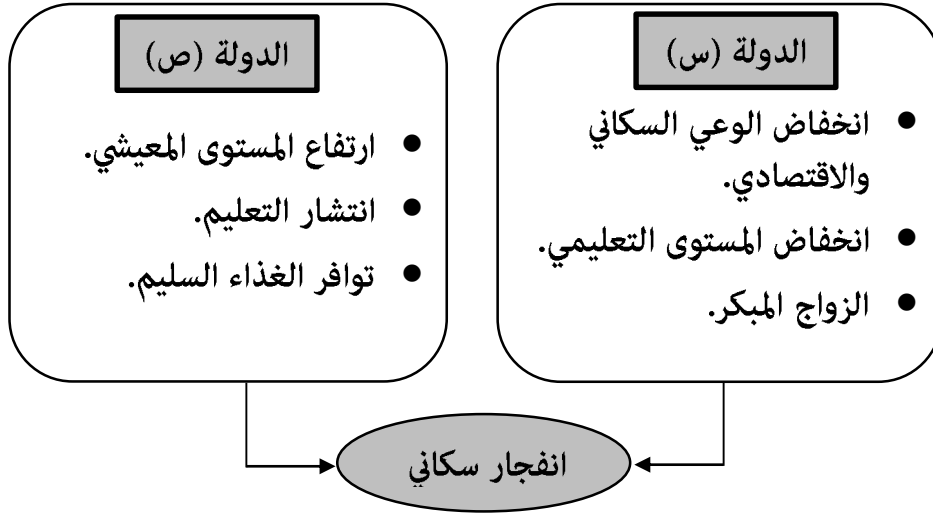


٧- البطاقة التعريفية الصحيحة لليابان:



## تابع أولاً: الأسئلة الموضوعية:

٨- العوامل المسببة للانفجار السكاني في الدولتين (س) و (ص) حسب المؤشرات في المخطط الآتي:



الدولة (س)	انخفاض معدل المواليد.
الدولة (ص)	انخفاض معدل الوفيات.

الدولة (س)	ارتفاع معدل المواليد.
الدولة (ص)	انخفاض معدل الوفيات.

الدولة (س)	انخفاض معدل المواليد.
الدولة (ص)	ارتفاع معدل الوفيات.

الدولة (س)	ارتفاع معدل المواليد.
الدولة (ص)	ارتفاع معدل الوفيات.

٩- الصناعة التي احتفظ الصينيون بسر صناعتها لسنوات طويلة:

الأطباق الحريير الخزف المزهريات 

١٠- المعادلة التي تصف نصيب الفرد من السعرات الحرارية حسب دراسات منظمة (الفاو - FAO):

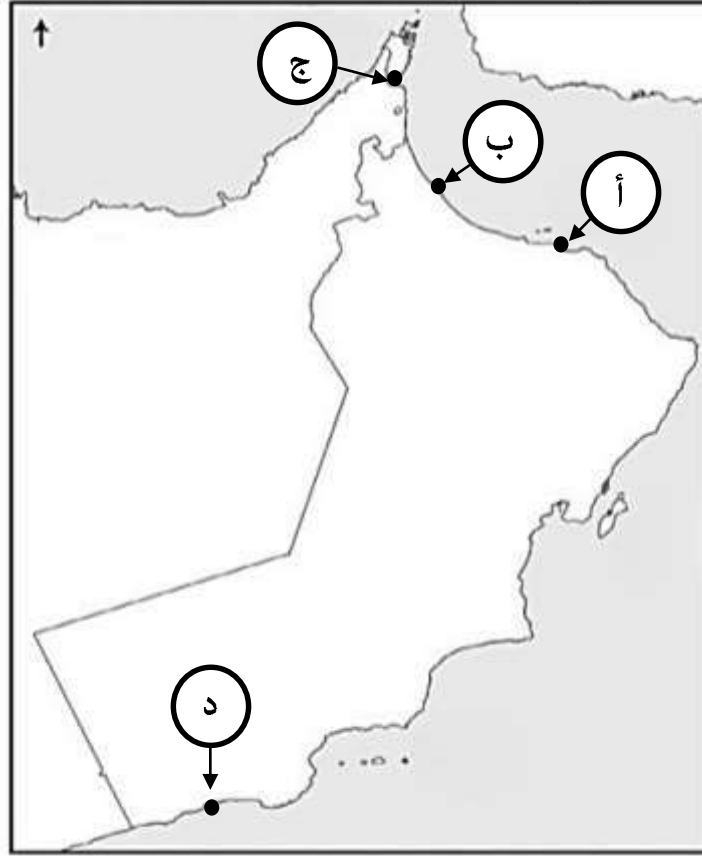
بريطانيا < الهند بريطانيا > الهند بريطانيا ≥ الهند بريطانيا = الهند

(٤)

المادة: الدراسات الاجتماعية - الصف: التاسع- الفصل الدراسي الثاني- الدور الأول (الفترة المسائية) - العام الدراسي ٢٠٢٤/٢٠٢٥ م

تابع أولاً: الأسئلة الموضوعية:

١١- الرمز الصحيح الذي يشير للميناء العُماني الذي أصبح خزانة تجارة المحيط الهندي والخليج وعمان في العصور الإسلامية:



د

ج

ب

أ

١٢- جميع ما يلي من المؤثرات الحضارية التي حملتها السفن العُمانية في رحلاتها الملاحية، معدا:

وجود مصطلحات عربية في اللغتين السواحلية والأوردية.

الاتجار بالمنتجات المعدنية والزراعية.

نشر الدعوة الإسلامية في المحيط الهندي.

نقل مؤثرات في الطب والعلوم والرياضيات.

## ثانياً: الأسئلة المقالية:

٧ درجات

١٣- أ . اقرأ النص جيداً، ثم أجب عن الأسئلة الآتية:

"يعود ظهور إيران كقوة سياسية إلى حوالي ٥٤٩ ق . م عندما تم توحيد القبائل الفارسية وتأسيس امبراطورية واسعة، وقد نظم ملوك الفرس دولتهم وقدموا للعالم حضارة غنية ومتقدمة، وتأثروا بحضارات الشعوب التي عاصرتهم كالمصريون واليونانيون والفينيقيون، واهتموا بالزراعة والصناعة والتجارة، حيث كانت للفرس علاقات تجارية برية وبحرية مع كل من الصين وأواسط آسيا وبلاد العرب وشرقي أفريقيا فقد استورد الفرس التوابل والبهارات من الهند".

١. سم الشخصية التاريخية التي قامت بالدور الذي تحته خط في النص السابق.

.....

٢. استخراج من النص اسم الحضارة التي اقتبس منها الفرس فن العمارة.

.....

٣. أعط مثالا واحداً على السلع التي استوردها الفرس من الهند من النص السابق.

.....

١٣ - ب . اذكر اثنين للآتي:

١. طرق وصول وانتشار الإسلام في الصين.

..... ●

..... ●

٢. الآثار التدميرية التي يحدثها فيضان النهر الأصفر في الصين.

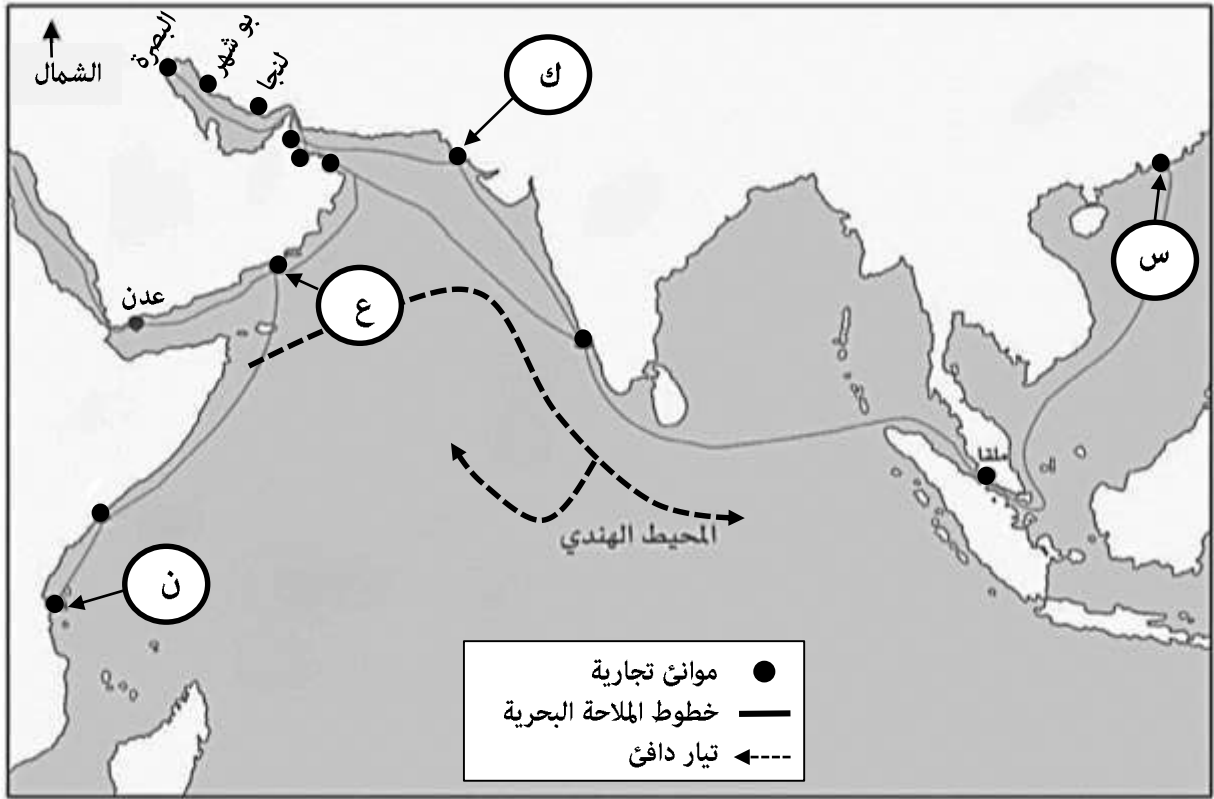
..... ●

..... ●

## تابع ثانيًا: الأسئلة المقالية:

٧ درجات

١٤- ادرس خريطة موانئ المحيط الهندي جيداً، ثم أجب عن الأسئلة الآتية:



أ. ضع علامة (✓) أمام رمز الميناء المقترن بالعبارة التي تناسبه في الجدول الآتي:

م	العبارة	س	ك	ع	ن
١	محطة مهمة لاستيراد الخيول العربية.				
٢	اشتهر بتجارة العاج والجلود.				
٣	ارتبط بتجارة اللبان والبخور.				
٤	اختص بتصدير الحرير.				

ب. استخرج من الخريطة الآتي:

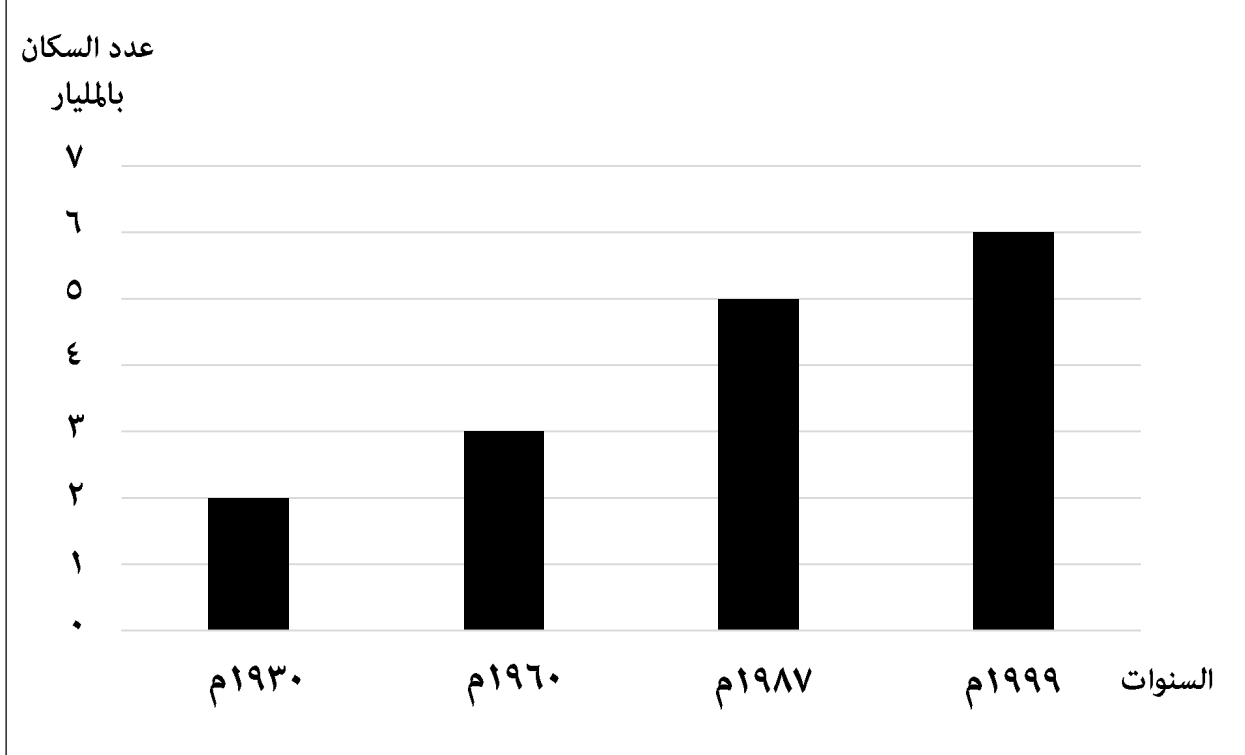
١. دلالة الرمز: ————— .

٢. اثنين من القواعد الرئيسية للأسطول العُماني على الساحل الشرقي للخليج العربي في عهد السيد سعيد بن سلطان.

- .....
- .....

٧ درجات

١٥- أ. أمامك مخطط بياني يوضح مراحل النمو السكاني في العالم ادرسه جيداً، ثم أجب عن الآتي:



١. المؤشر الذي ينطبق على مراحل النمو السكاني في العالم حسب المخطط الذي أمامك:

[ ظلل الإجابة الصحيحة ]

انخفاض. ارتفاع. 

٢. احسب الفارق في عدد سكان العالم بين عامي (١٩٣٠ - ١٩٩٩ م).

.....

٣. سمّ المفهوم الذي ينطبق على المخطط والذي يمثل الزيادات الكبيرة في أعداد السكان بالمقارنة مع الموارد المتاحة.

.....

## تابع ثانياً: الأسئلة المقالية:

١٥ - ب . ادرس الجدول الذي أمامك جيداً ثم أجب عن الأسئلة الآتية:

الدولة	عدد السكان بالمليون	عدد المدارس	عدد المستشفيات	الدخل بالمليار
س	٢	٢٤	٧	٦
ع	٦	٢٠	٤	٦
و	٦	٢٤	٥	٣

اكتب في الجدول رمز الدولة المناسب لكل عبارة:

رمز الدولة	العبارة
	الدولة التي ستقدم مستوى معيشي <u>أقل</u> لسكانها.
	الدولة التي ستقدم حياة <u>أفضل</u> لسكانها.
	الدولة التي تعاني من مشكلة الضغط على <u>الخدمات الصحية</u> .

ج. اقترح حلاً واحداً للتقليل من مشكلة الضغط المتزايد على مصادر الطاقة.

.....

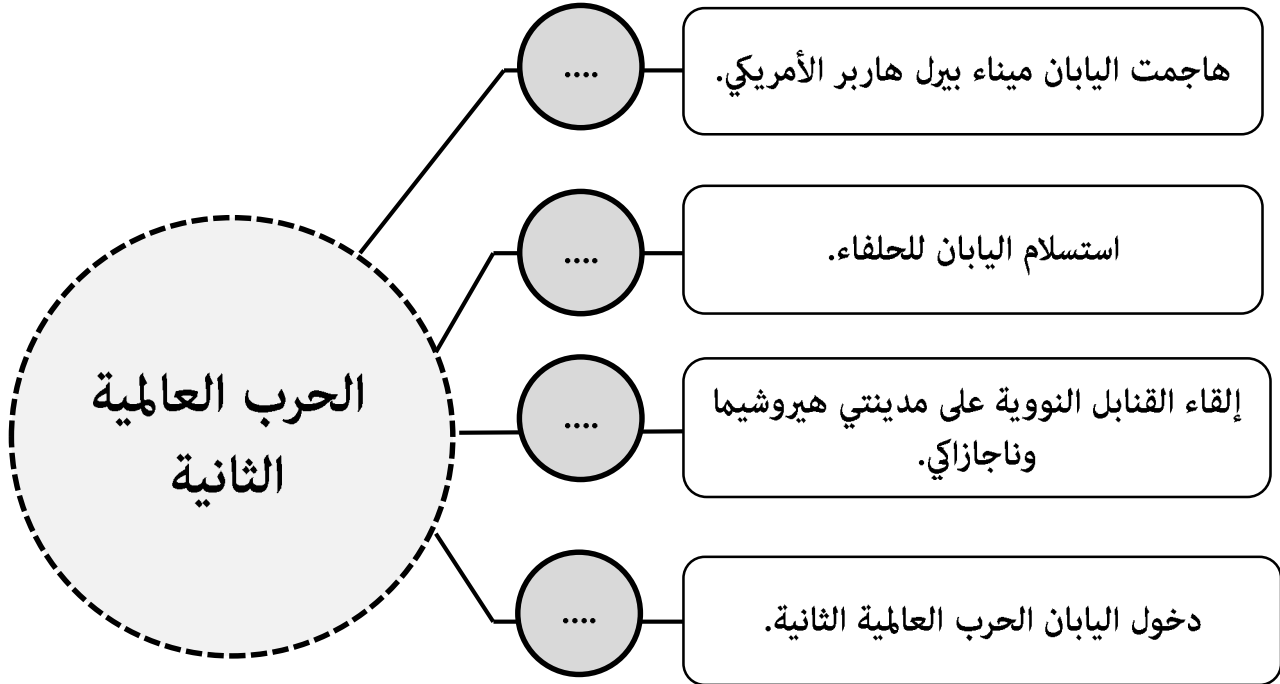
.....

## تابع ثانيًا: الأسئلة المقالية:

١٦- أ. رتب الأحداث الآتية في المخطط وفق تسلسلها التاريخي من الأقدم إلى الأحدث

بوضع الأرقام من (١-٤):

٧ درجات



١٦- ب . ظلل البيانات المقترنة بالعبارة الصحيحة في الجدول الآتي:

البيانات	العبارة	م
<input type="checkbox"/> صحار <input type="checkbox"/> سلطنة	السفينة العُمانية التي أرسلت إلى ميناء نيويورك عام ١٨٤٠م بقيادة السفير أحمد بن النعمان.	١
<input type="checkbox"/> الفينيقية <input type="checkbox"/> بلاد السند	حضارة تاريخية كان الساحل العُماني المهده الأول لظهور خبراتهم الملاحية فيها.	٢
<input type="checkbox"/> السياحة العالمية <input type="checkbox"/> التجارة العالمية	منظمة عالمية انضمت لها الصين عام ٢٠٠١م.	٣

انتهت الأسئلة مع الدعاء للجميع بالتوفيق والنجاح

نموذج إجابة امتحان مادة الدراسات الاجتماعية للصف التاسع  
 الفصل الدراسي الثاني الدور الأول (الفترة المسائية)  
 للعام الدراسي ١٤٤٦/١٤٤٧ هـ - ٢٠٢٤ / ٢٠٢٥ م

تنبيه: نموذج الإجابة في (٥) صفحات. الدرجة الكلية: (٤٠) درجة.

أولاً: إجابة الأسئلة الموضوعية ( مجموع الدرجات ١٢ درجة )

السؤال	الإجابة	الصفحة	مفتاح التصحيح				
١	هرمز	٧٢	١ - ٠				
٢	الصين	٨٥	١ - ٠				
٣	ج	١٥	١ - ٠				
٤	حرصت عُمان على تأمين الملاحة البحرية وحمايتها من القرصنة	٤٣	١ - ٠				
٥	اليعاربة	٤٦	١ - ٠				
٦		٤٦	١ - ٠				
٧		٩٥	١ - ٠				
٨	<table border="1" style="width: 100%;"> <tr> <td>الدولة (س)</td> <td>ارتفاع معدل المواليد</td> </tr> <tr> <td>الدولة (ص)</td> <td>انخفاض معدل الوفيات</td> </tr> </table>	الدولة (س)	ارتفاع معدل المواليد	الدولة (ص)	انخفاض معدل الوفيات	١١	١ - ٠
الدولة (س)	ارتفاع معدل المواليد						
الدولة (ص)	انخفاض معدل الوفيات						
٩	الحرير	٨٩	١ - ٠				
١٠	بريطانيا < الهند	١٣	١ - ٠				
١١	ب	٥٢	١ - ٠				
١٢	الاتجار بالمنتجات المعدنية والزراعية.	٥٧	١ - ٠				

تابع - نموذج إجابة امتحان مادة الدراسات الاجتماعية للصف (التاسع) للعام الدراسي ٢٠٢٤/٢٠٢٥م  
الفصل الدراسي الثاني - الدور الأول (الفترة المسائية)

ثانياً : إجابة الاسئلة المقالية: السؤال: ١٣ ( مجموع الدرجات ٧ درجات )

الصفحة	الدرجة	الإجابة الصحيحة	الجزئية	المفردة	السؤال
٧٢	١	كورش	١	أ	١٣
٧٣	١	المصريون / الحضارة المصرية	٢		
٧٣	١	البهارات / التوابل	٣		
يكتفي بوحدة / يشترط كتابة السلع المذكورة في النص.			معيار التصحيح		
٣-٢-١-٠			مفتاح التصحيح		

الصفحة	الدرجة	الإجابة الصحيحة	الجزئية	المفردة	السؤال
٩٠	١	<ul style="list-style-type: none"> <li>• التجار</li> <li>• الدعاة</li> </ul>	١	ب	١٣
	١				
٨٦	١	<ul style="list-style-type: none"> <li>• تضرر الأراضي الزراعية</li> <li>• تهدم المدن والقرى</li> </ul>	٢		
	١				
- يكتفي باثنين - يراعى أسلوب الطالب في الإجابة			معيار التصحيح		
٤-٣-٢-١-٠			مفتاح التصحيح		


تابع - نموذج إجابة امتحان مادة الدراسات الاجتماعية للصف (التاسع) للعام الدراسي ٢٠٢٤/٢٠٢٥م  
الفصل الدراسي الثاني - الدور الأول (الفترة المسائية)

تابع ثانياً : إجابة الاسئلة المقالية: السؤال: ١٤ ( مجموع الدرجات ٧ درجات )

الصفحة	الدرجة	الإجابة الصحيحة					الجزئية	المفردة	السؤال
٥٤	١	ن	ع	ك	س	العبرة	٣	أ	١٤
٥٤				✓		محطة مهمة لاستيراد الخيول العربية.	١		
٥١		✓				اشتهر بتجارة العاج والجلود.	٢		
٥٥			✓			ارتبط بتجارة اللبان والبخور.	٣		
					✓	اختص بتصدير الحرير.	٤		
يشترط وضع العلامة في مقابل الرمز الصحيح-							معيار التصحيح		
٤-٣-٢-١-٠							مفتاح التصحيح		

الصفحة	الدرجة	الإجابة الصحيحة					الجزئية	المفردة	السؤال
٤٨	١	خطوط الملاحة البحرية					١	ب	١٤
يشترط كتابة الاجابة صحيحة.						معيار التصحيح			
١-٠						مفتاح التصحيح			
٤٨	١	<ul style="list-style-type: none"> <li>• بوشهر</li> <li>• لنجا</li> </ul>					٢	ب	
يشترط إلتزام الطالب بذكر القواعد الواردة في الخريطة.						معيار التصحيح			
٢-١-٠						مفتاح التصحيح			

تابع ثانياً : إجابة الاسئلة المقالية: السؤال: ١٥ ( مجموع الدرجات ٧ درجات )

السؤال	المفردة	الجزئية	الإجابة الصحيحة	الدرجة	الصفحة
١٥	أ	١	ارتفاع 	١	٩
		٢	٤ مليار نسمة / ٤ / أربعة	١	٩
		٣	الانفجار السكاني	١	٨
			معيار التصحيح		
			مفتاح التصحيح	٣-٢-١-٠	

السؤال	المفردة	الجزئية	الإجابة الصحيحة	الدرجة	الصفحة								
١٥	ب	١	<table border="1"> <thead> <tr> <th>رمز الدولة</th> <th>العبرة</th> </tr> </thead> <tbody> <tr> <td>و</td> <td>الدولة التي ستقدم مستوى معيشي أقل لسكانها.</td> </tr> <tr> <td>س</td> <td>الدولة التي ستقدم حياة أفضل لسكانها.</td> </tr> <tr> <td>ع</td> <td>الدولة التي تعاني من مشكلة الضغط على الخدمات الصحية.</td> </tr> </tbody> </table>	رمز الدولة	العبرة	و	الدولة التي ستقدم مستوى معيشي أقل لسكانها.	س	الدولة التي ستقدم حياة أفضل لسكانها.	ع	الدولة التي تعاني من مشكلة الضغط على الخدمات الصحية.	١	١٧
			رمز الدولة	العبرة									
			و	الدولة التي ستقدم مستوى معيشي أقل لسكانها.									
س	الدولة التي ستقدم حياة أفضل لسكانها.												
ع	الدولة التي تعاني من مشكلة الضغط على الخدمات الصحية.												
			يراعى أسلوب الطالب في الإجابة										
			مفتاح التصحيح	٣-٢-١-٠									

السؤال	المفردة	الجزئية	الإجابة الصحيحة	الدرجة	الصفحة			
١٥	ج	ج	<ul style="list-style-type: none"> <li>● استخدام بدائل لمصادر الطاقة الحالية.</li> <li>● استخدام مصادر الطاقة المتجددة.</li> <li>● استخدام الطاقة الشمسية.</li> <li>● استخدام مصادر طاقة غير قابلة للنفاد وغير مكلفة اقتصادياً.</li> </ul>	١	١٧			
						يراعى أسلوب الطالب في الإجابة		
						مفتاح التصحيح	١-٠	

تابع ثانياً: إجابة الاسئلة المقالية: السؤال: ١٦ ( مجموع الدرجات ٧ درجات )

الصفحة	الدرجة	الإجابة الصحيحة	الجزئية	المفردة	السؤال
٩٨-٩٧	١ ١ ١ ١			أ	١٦
		-		معيار التصحيح	
		٤-٣-٢-١-٠		مفتاح التصحيح	

الصفحة	الدرجة	الإجابة الصحيحة	الجزئية	المفردة	السؤال
٤٨	١	سلطنة	١	ب	١٦
٤٢	١	الفينيقية	٢		
٩٢	١	التجارة العالمية	٣		
		-		معيار التصحيح	
		٣-٢-١-٠		مفتاح التصحيح	

نهاية نموذج الاجابة



امتحان مادة الدراسات الاجتماعية للصف التاسع  
الفصل الدراسي: الثاني - الدور الثاني  
للعام الدراسي ١٤٤٦/١٤٤٧ هـ - ٢٠٢٤/٢٠٢٥ م

▪ عدد صفحات أسئلة الامتحان: ٩ صفحات.	▪ زمن الامتحان: ساعة ونصف.
▪ الدرجة الكلية للامتحان: ٤٠ درجة.	▪ الإجابة في دفتر الأسئلة نفسه.
	▪ تُكتب الإجابة بالقلم الأزرق أو الأسود.

اسم الطالب: \_\_\_\_\_ الصف: \_\_\_\_\_

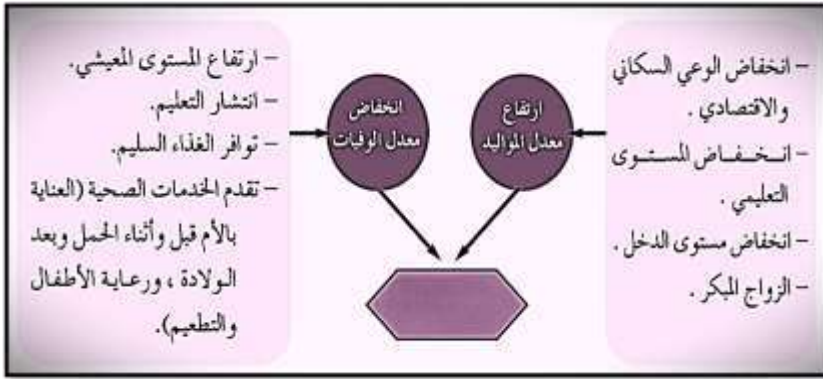
التوقيع بالاسم		الدرجة		السؤال
اسم المراجع	اسم المصحح	بالحروف	بالأرقام	
				أولاً: الأسئلة الموضوعية (١ - ١٢)
				ثانياً: الأسئلة المقالية ١٣
				١٤
				١٥
				١٦
مراجعة الجمع	جمعه			المجموع
				المجموع الكلي

أولاً: الأسئلة الموضوعية:

ظل الشكل ( ) المقترون بالإجابة الصحيحة لكل مفردة من المفردات الآتية:

١٢ درجة

١- المصادر التي وصفت أهل عُمان برواد الملاحة البحرية:

 البابلية       الآشورية       السومرية       الفينيقية


٢- الشكل المقابل يعبر عن أسباب:

 الانفجار السكاني  
 النمو السكاني  
 الكثافة السكانية  
 البنية السكانية

٣- السلالة الحاكمة التي ظهر في عهدها الحكيم الصيني كونفوشيوس:

 تشين       تجو       فينج       هان

٤- الرقم الصحيح الذي يشير للدولة التي أصبحت جزءاً من الدولة العربية الإسلامية في القرن السابع الميلادي:


 ١  
 ٢  
 ٣  
 ٤

تابع أولاً: الأسئلة الموضوعية:

٥- الصورة التي تعبر عن التجارة التي ارتبط بها ميناء ممباسا الواقع على الساحل الأفريقي الشرقي:





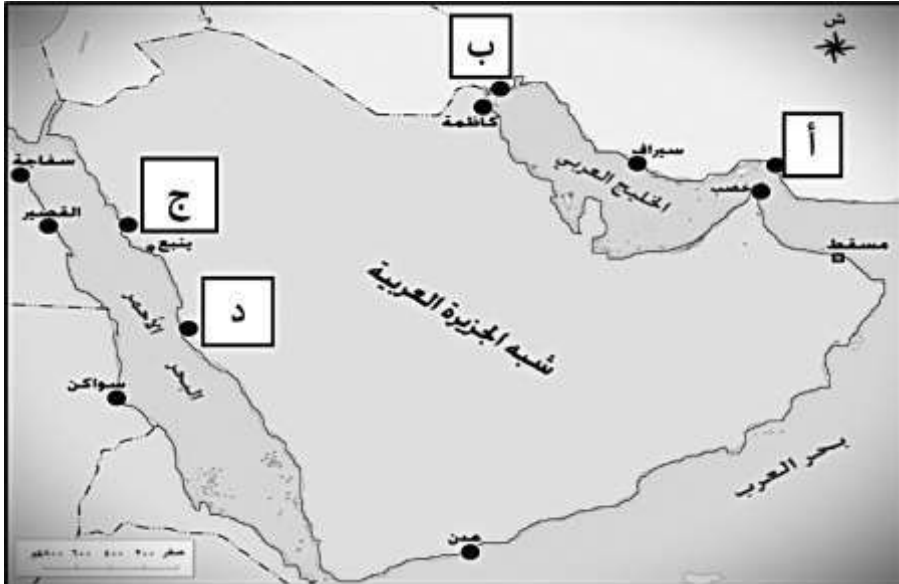





٦- الميناء الذي استقبل السفينة سلطنة في عام ١٨٤٠م:

نيويورك مرسيليا واشنطن جنوة 

٧- الرمز الصحيح الذي يشير إلى موقع ميناء أمّالج في الخريطة المقابلة:

أ ب ج د

## تابع أولاً: الأسئلة الموضوعية:

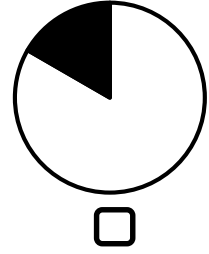
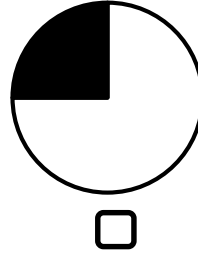
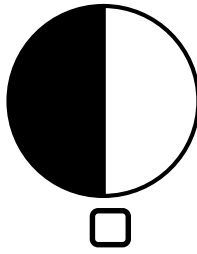
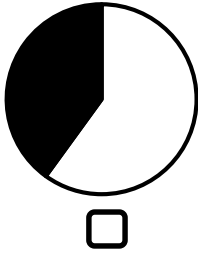
٨- أهم محطات تواجد السفن العمانية في الصين:

- الزيتون  هرمز  سيراف  سواكن

٩- سالم موظف في هيئة حكومية يتقاضى مرتبا شهريا يبلغ (٤٠٠) ريال عماني، الدخل السنوي لسالم:

- ٤٠٠٠  ٤٥٠٠  ٤٨٠٠  ٥٠٠٠

١٠- الشكل المظلل الصحيح الذي يوضح النسبة المئوية التي تشكلها السهول الضيقة في اليابان:



١١- امتد حكم السيد سعيد بن سلطان لعمان بالسنوات من خلال العبارة المقابلة :

"في عهد السيد سعيد بن سلطان  
(١٨٠٦ - ١٨٥٦ م) كان الأسطول  
العماني يأتي في المرتبة الثانية بعد  
الأسطول البريطاني في قوته وعدته".

- ٢٠  
 ٣٠  
 ٤٠  
 ٥٠



١٢- الجهة التي تقع فيها الهند بالنسبة للصين في الخريطة المقابلة:

- الشمال الغربي  
 الشمال الشرقي  
 الجنوب الشرقي  
 الجنوب الغربي

## ثانياً: الأسئلة المقالية:

٧ درجات

١٣- أ: ادرس الجدول الذي يوضح معدلات المواليد والوفيات والزيادة الطبيعية في العالم جيداً، ثم أجب عن الأسئلة الآتية:

الزيادة الطبيعية (بالألف)	معدل الوفيات (بالألف)	معدل المواليد (بالألف)	عدد السكان (بالمليون)	القارات
٢٤	١٤	٣٨	٨٣٢	أفريقيا
١	١١	١٠	٧٢٧	أوروبا
؟	٩	١٤	٣٢٢	أمريكا الشمالية

١- سم القارة التي تأتي في المرتبة الأولى من حيث معدل المواليد. ....

٢- احسب الآتي:

أ- الفرق في عدد السكان بين قارتي أوروبا وأمريكا الشمالية.

.....  
.....

ب - معدل الزيادة الطبيعية في قارة أمريكا الشمالية.

.....  
.....

## تابع ثانياً: الأسئلة المقالية:

١٣ - ب: ادرس خريطة موانئ المحيط الهندي جيداً، ثم أجب عن الأسئلة الآتية:



١- اكتب جزيرة مدغشقر في موقعها الصحيح على الخريطة.

٢- ظلل المربع الذي يشير إلى موقع ميناء خانفو.

٣- استخراج من الخريطة:

أ- الرمز الذي يشير إلى الميناء الذي كان منفذاً لسلع الدكن ومحطة مهمة لاستيراد الخيول

العربية. ( .....

ب- اسم الدولة التي اختصت محطاتها التجارية بتصدير الصناعات الدقيقة والمعادن.

(.....)

٧ درجات

١٤- أ: استبدل العبارات الآتية بالمفهوم أو المصطلح الدال عليها:

المفهوم / المصطلح	العبارات
.....	١- الزيادات الكبيرة في أعداد السكان بالمقارنة بالموارد المتاحة.
.....	٢- سفينة حربية صغيرة الحجم سريعة تستخدم للمناورة.

ب: أكمل الجدول الآتي بما يناسبه:

الإنجاز الحضاري في الصين.	النتيجة التي ترتبت عليه.
.....	أصبح مصدرا أساسيا في ثروة الصين.
صناعة العربات التي تجرها الخيول.	.....
.....، ابتكار أسلوب الكتابة.	ساعد على تطور الجهاز الإداري وانتشار التعليم.

ج: برهن بمثال واحد على الآتي:

أ- قوة الأسطول العماني في عهد السيد سعيد بن سلطان.

.....

.....

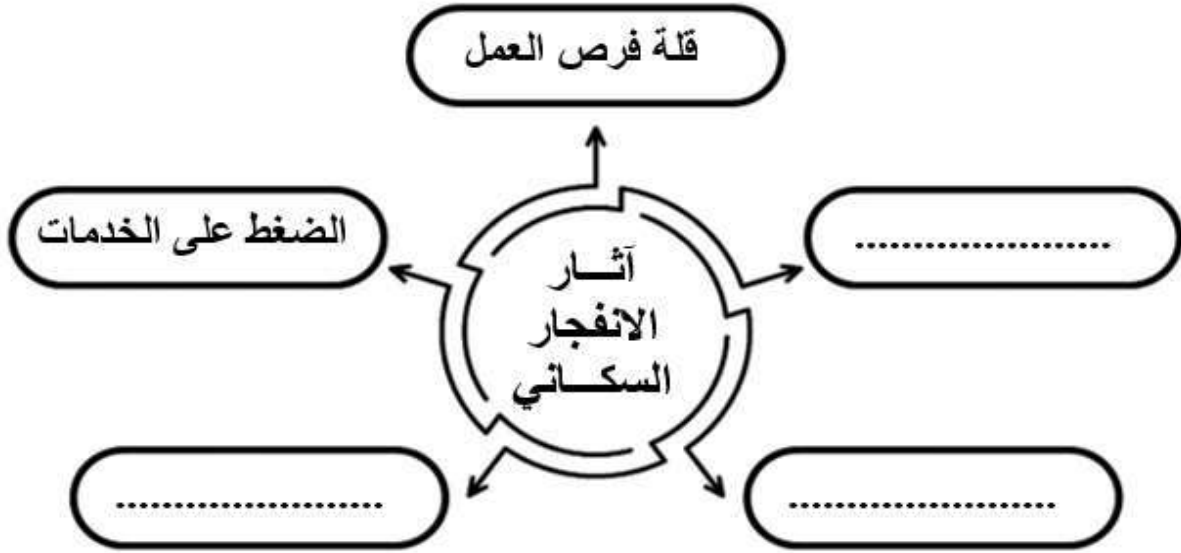
ب- البحرية السلطانية العمانية تمثل اليوم امتدادا للملاحة البحرية العمانية.

.....

.....

٧ درجات

١٥- أ: أكمل المخطط الآتي بما يناسبه:



ب: رتب الأحداث التاريخية للجمهورية الإسلامية الإيرانية الآتية من الأقدم إلى الأحدث بوضع الأرقام من (٣-١):

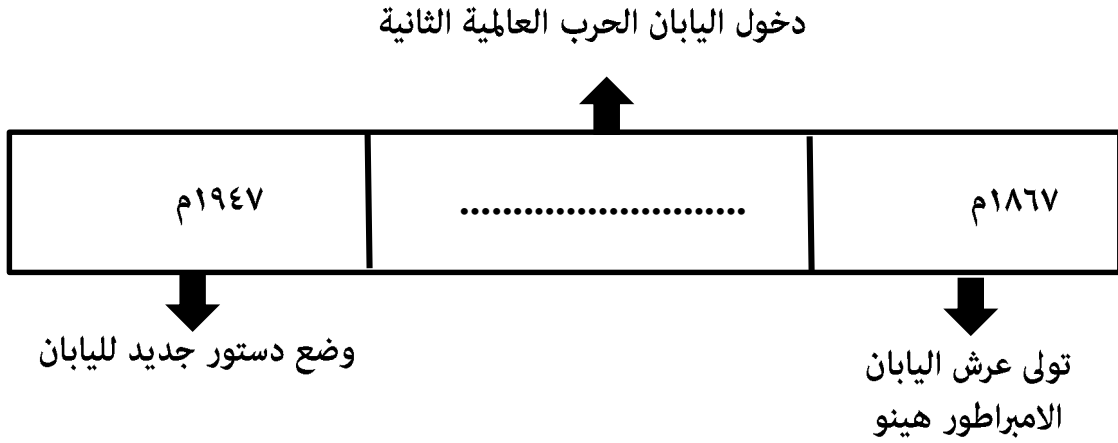
تعرض إيران لغزو المغول.

قيام الدولة الساسانية.

غزو الإسكندر المقدوني لإيران.

## تابع ثانياً: الأسئلة المقالية:

ج: أكمل المسطرة الزمنية الآتية بما يناسبها:



٧ درجات

١٦- أ: عدد اثنين فقط للآتي:

١- العوامل الأمنية التي ساعدت في تطور الملاحة العمانية.

- .....
- .....

٢- مظاهر علاقات التعاون المتبادلة بين سلطنة عُمان وجمهورية الصين الشعبية.

- .....
- .....

## تابع ثانياً: الأسئلة المقالية:

ب : مستعيناً بالنص، أجب عن الأسئلة الآتية:

(تمكنت اليابان من بناء قوة اقتصادية عملاقة في ظل ظروف طبيعية قاسية: فسهولها الزراعية ضيقة، ومواردها المعدنية ومصادر الطاقة فيها محدودة جداً، وغالباً ما تتعرض للكثير من البراكين والهزات الأرضية، وهو ما يجعلها مهددة بصورة دائمة بالكوارث والأزمات، ويختلف المناخ في اليابان من منطقة لأخرى، وقد بدأت اليابان بعد سنوات الحرب، بإعادة البناء والتحديث، محققة تقدماً اقتصادياً كبيراً).

١- فسر / اختلاف المناخ في اليابان من منطقة لأخرى.

.....  
 .....

٢- استخرج من النص أحد الظروف الطبيعية القاسية التي تعاني منها اليابان.

.....  
 .....

٣- استنتج من العبارة التي تحتها خط في النص السابق المسمى الذي أطلق على اليابان في تلك المرحلة التاريخية؟

.....  
 .....


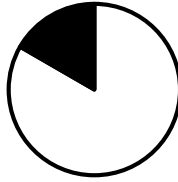


نموذج إجابة امتحان مادة الدراسات الاجتماعية للصف التاسع  
الفصل الدراسي الثاني - الدور الثاني.  
للعام الدراسي ١٤٤٦/١٤٤٧ هـ - ٢٠٢٤ / ٢٠٢٥ م

الدرجة الكلية: (٤٠) درجة



تنبيه: نموذج الإجابة في (٥) صفحات

أولاً: إجابة الأسئلة الموضوعية (مجموع الدرجات ١٢ درجة).

السؤال	الإجابة	الصفحة	مفتاح التصحيح
١	السومرية	٤٥	١ - ٠
٢	الانفجار السكاني	١١	١ - ٠
٣	تجو	٨٧	١ - ٠
٤	٣	٧٤-٧٢	١ - ٠
٥		٥٣	١ - ٠
٦	نيويورك	٤٨	١ - ٠
٧	ج	٥٦	١ - ٠
٨	الزيتون	٥٥	١ - ٠
٩	٤٨٠٠	١٤	١ - ٠
١٠		٩٦	١ - ٠
١١	٥٠	٤٨	١ - ٠
١٢	الجنوب الغربي	٨٦-٨٥	١ - ٠
المجموع		١٢ درجة	

ثانياً: إجابة الاسئلة المقالية: السؤال: ١٣ (مجموع الدرجات ٧ درجات)

الصفحة	الدرجة	الإجابة الصحيحة	الجزئية	المفردة	السؤال
١١	١	أفريقيا	١	أ	١٣
١١	١	٤٠٥ مليون نسمة / أربعة مئة وخمسة مليون نسمة.	٢ - أ		
إذا كتب الطالب ٤٠٥ بدون مليون نسمة تعتبر الإجابة صحيحة			معيار التصحيح		
١١	١	٥ بالألف / خمسة بالألف	٢ - ب	أ	
إذا كتب الطالب رقم ٥ فقط تعتبر الإجابة صحيحة			معيار التصحيح		
٣-٢-١-٠			مفتاح التصحيح		

الصفحة	الدرجة	الإجابة الصحيحة	الجزئية	المفردة	السؤال
٥١	١		١	ب	١٣
يشترط كتابة الطالب للموقع بدقة على الخريطة			معيار التصحيح		
٥١	١		٢	ب	
يشترط تظليل المربع الموجود على دولة الصين			معيار التصحيح		
٥٤-٥١	١	ب	٣- أ	ب	
٥٥	١	الصين	٣- ب		
٤-٣-٢-١-٠			مفتاح التصحيح		

تابع ثانياً : إجابة الاسئلة المقالية: السؤال: ١٤ (مجموع الدرجات ٧ درجات)

السؤال	المفردة	الجزئية	الإجابة الصحيحة	الدرجة	الصفحة
١٤	أ	١	الانفجار السكاني.	١	٨
		٢	الفرقاطة.	١	٤٩
	معيار التصحيح				
	مفتاح التصحيح		١ - ٠		

السؤال	المفردة	الجزئية	الإجابة الصحيحة	الدرجة	الصفحة								
١٤	ب		<table border="1"> <tr> <td>الإنجاز الحضاري في الصين.</td> <td>النتيجة التي ترتبت عليه.</td> </tr> <tr> <td>صناعة الحرير.</td> <td>-أصبح مصدرا أساسيا في ثروة الصين.</td> </tr> <tr> <td>صناعة العربات التي تجرها الخيول.</td> <td>إزداد اتصال الصين بالعالم الخارجي.</td> </tr> <tr> <td>إختراع الورق، ابتكار أسلوب الكتابة.</td> <td>ساعد على تطور الجهاز الإداري وانتشار التعليم.</td> </tr> </table>	الإنجاز الحضاري في الصين.	النتيجة التي ترتبت عليه.	صناعة الحرير.	-أصبح مصدرا أساسيا في ثروة الصين.	صناعة العربات التي تجرها الخيول.	إزداد اتصال الصين بالعالم الخارجي.	إختراع الورق، ابتكار أسلوب الكتابة.	ساعد على تطور الجهاز الإداري وانتشار التعليم.	١	٨٩
		الإنجاز الحضاري في الصين.	النتيجة التي ترتبت عليه.										
		صناعة الحرير.	-أصبح مصدرا أساسيا في ثروة الصين.										
	صناعة العربات التي تجرها الخيول.	إزداد اتصال الصين بالعالم الخارجي.											
إختراع الورق، ابتكار أسلوب الكتابة.	ساعد على تطور الجهاز الإداري وانتشار التعليم.												
		١											
		١											
معيار التصحيح		-											
مفتاح التصحيح		٣-٢-١-٠											

السؤال	المفردة	الجزئية	الإجابة الصحيحة	الدرجة	الصفحة
١٤	ج	أ	- احتل الأسطول العماني المرتبة الثانية بعد الأسطول البريطاني في المحيط الهندي من حيث القوة والعتاد. - كانت للأسطول العماني قواعد رئيسية على الساحل الشرقي للخليج العربي والساحل العماني والأفريقي. - كانت الموانئ العمانية مهيأة لاستقبال أكبر السفن من مختلف الدول.	١	٤٨
		ب	تمتلك أسطولا من السفن الحديثة يضم مجموعة من الفرقاطات والزوارق وسفن المدفعية والإسناد والمسح البحري للشواطئ كما يتوفر لها عدد من القواعد البحرية التي تشمل خدمات لوجستية وهندسية وإدارية وقوة بشرية مؤهلة ومدربة.	١	٤٩
	معيار التصحيح		يكتفى بذكر دليل واحد فقط / وتراعى إجابة الطالب بما يفيد المعنى		
مفتاح التصحيح		٢-١-٠			

تابع ثانياً : إجابة الاسئلة المقالية: السؤال: ١٥ (مجموع الدرجات ٧ درجات)

السؤال	المفردة	الجزئية	الإجابة الصحيحة	الدرجة	الصفحة
١٥	أ			١ ١ ١	١٧-١٣
			لا يشترط الترتيب		
			٣-٢-١-٠		
			معيار التصحيح		
			مفتاح التصحيح		

السؤال	المفردة	الجزئية	الإجابة الصحيحة	الدرجة	الصفحة
١٥	ب	-	<p>٣ تعرض إيران لغزو المغول.</p> <p>٢ قيام الدولة الساسانية.</p> <p>١ غزو الإسكندر المقدوني لإيران.</p>	١	٧٤
			-		
			١ - ٠		
			معيار التصحيح		
			مفتاح التصحيح		

السؤال	المفردة	الجزئية	الإجابة الصحيحة	الدرجة	الصفحة
١٥	ج	-	<p>دخول اليابان الحرب العالمية الثانية</p>	١	٩٧
			-		
			١-٠		
			معيار التصحيح		
			مفتاح التصحيح		

تابع ثانياً : إجابة الاسئلة المقالية: السؤال: ١٦ (مجموع الدرجات ٧ درجات)

الصفحة	الدرجة	الإجابة الصحيحة	الجزئية	المفردة	السؤال
٤٣	١	- بعد السواحل العمانية عن الصراعات والاضطرابات التي تحدث في غيرها من المناطق. - حرص الدولة على تأمين الملاحة البحرية. - حماية الدولة للموانئ من القرصنة.	١	أ	١٦
٩٤-٩٣	١	-التعاون بين السلطنة وجمهورية الصين الشعبية في مجالات الطاقة وسوق الاستثمار والعلاقات التجارية. - تنفيذ الشركات الصينية مشاريع البنية التحتية في سلطنة عمان كالكهرباء والماء. - التعاون الثقافي بين البلدين وتوقيع اتفاقية تعاون إعلامي بين وكالة الأنباء العمانية ونظيرتها الصينية. - قيام شركات النفط الصينية الوطنية باستثمارات ضخمة في سلطنة عمان - التعاون بين البلدين في المجال السياحي وتشجيع الاستثمار في قطاع الفنادق والمنشآت السياحية العمانية.	٢		
يكتفى بذكر عاملين فقط / تراعي إجابة الطالب بما يفيد المعنى			معيار التصحيح		
٤-٣-١-٠			مفتاح التصحيح		

الصفحة	الدرجة	الإجابة الصحيحة	الجزئية	المفردة	السؤال
٩٦	١	- بسبب امتدادها من الشمال إلى الجنوب. - بسبب الامتداد.	١	ب	١٦
٩٦	١	- السهول الزراعية الضيقة. - الموارد المعدنية ومصادر الطاقة محدودة جدا. - تتعرض غالبا للكثير من الهزات الأرضية والبراكين. - الكوارث والأزمات.	٢		
٩٩	١	الأعجوبة اليابانية.	٣		
يكتفى بذكر مثال واحد فقط			معيار التصحيح		
٣-٢-١-٠			مفتاح التصحيح		

نهاية نموذج الإجابة



امتحان مادة: الدراسات الاجتماعية  
للف: التاسع الأساسي (الفترة الصباحية)  
للعام الدراسي: ١٤٤٥هـ - ٢٠٢٣ / ٢٠٢٤م  
الدور الأول - الفصل الدراسي الثاني

- زمن الامتحان : ساعة ونصف
- الإجابة في الدفتر نفسه .
- عدد صفحات أسئلة الامتحان ( ٨ ) صفحات.

اسم الطالب	
الصف	المدرسة

السؤال	الدرجة		التوقيع بالاسم	
	بالأرقام	بالحروف	المصحح الأول	المصحح الثاني
١				
٢				
٣				
٤				
٥				
المجموع			جمعه	مراجعة الجمع
المجموع الكلي				

## أجب عن جميع الأسئلة الآتية

السؤال الأول: ضع دائرة حول رمز الإجابة الصحيحة لكل مفردة من المفردات الآتية :



١- الدولة التي يوجد بها المَعْلَم المعماري الظاهر في الصورة المقابلة :

أ ( إيران

ب) الهند

ج ( الصين

د ( اليابان

٢- اسم السفينة العمانية الحربية التي أرسلت إلى ميناء نيويورك بقيادة أحمد بن النعمان الكعبي عام ١٨٤٠م :

د ( ليفربول

ج ( الفُلك

ب) فكتوريا

أ ( سلطنة

٣- الرقم الذي يُشير إلى الميناء العماني الذي ارتبط بتجارة الذهب

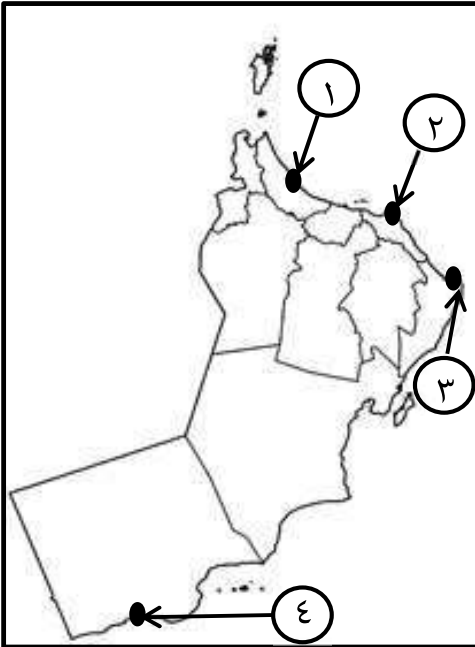
واللبان والبخور منذ القدم في الخريطة المقابلة :

أ ( ١

ب) ٢

ج ( ٣

د ( ٤



٤- يبلغ متوسط عدد الذين يموتون جوعاً يومياً على المستوى العالمي بالآلاف نسمة :

د ( ٤٠

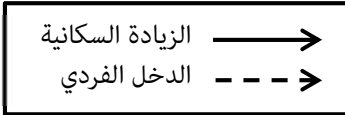
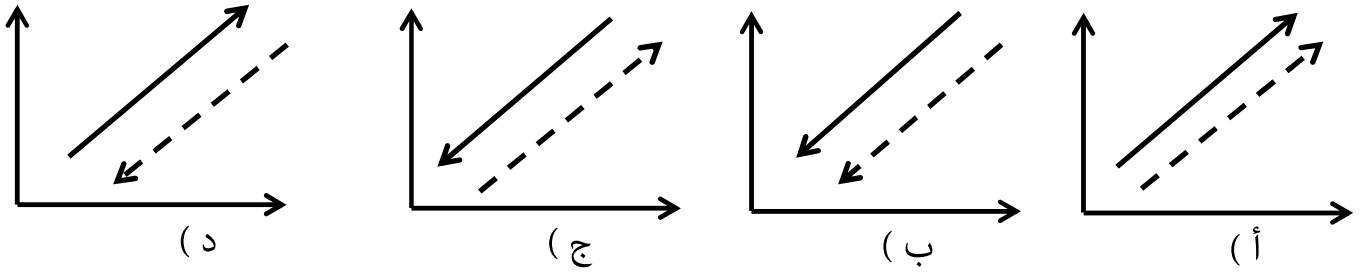
ج ( ٣٠

ب) ٢٠

أ ( ١٠

## تابع- السؤال الأول :

٥- التمثيل البياني الصحيح الذي يوضح العلاقة بين الزيادة السكانية المضطردة والدخل الفردي :



٦- العام الميلادي الذي زارت فيه السفينة صحار مدينة قوانتشو :


(د) ١٩٨٣

(ج) ١٩٨٢

(ب) ١٩٨١

(أ) ١٩٨٠

٧- الصورة التي تدل على المجال الذي تأثرت به الحضارة الفارسية بالحضارة اليونانية التي عاصرتها :




(د)



(ج)



(ب)



(أ)

( تتمتع عُمان بسواحل طويلة مطلة على المحيط الهندي، مما جعلها تعمل على تأمين السواحل من الغزو الخارجي للمحافظة على استقرارها ، فانعكس بشكل إيجابي على تكوين علاقات جيدة مع الدول، وقيام الجماعات البشرية على سواحلها والدليل على ذلك وجود الكثير من المكتشفات على الساحل العماني ).

٨- الرمز الصحيح الذي يُمثل العوامل التي أدت إلى أهمية دور عُمان في مجال الملاحة حسب تسلسلها

في النص السابق :

←				
( أ )	الطبيعية	الأمنية	السياسية	الأثرية
( ب )	الأثرية	السياسية	الطبيعية	الأمنية
( ج )	الأمنية	الطبيعية	الأثرية	السياسية
( د )	السياسية	الاثريه	الأمنية	الطبيعية

## تابع - السؤال الأول:

٩- الجدول الصحيح الذي يُمثل أسباب ارتفاع معدل المواليد كأحد العوامل المؤدية للانفجار السكاني :

م	أسباب ارتفاع معدل المواليد
١	توافر الغذاء السليم
٢	انخفاض المستوى التعليمي
٣	ارتفاع المستوى المعيشي

( ب )

م	أسباب ارتفاع معدل المواليد
١	انخفاض مستوى الدخل
٢	انتشار التعليم
٣	الزواج المبكر

( أ )

م	أسباب ارتفاع معدل المواليد
١	ارتفاع المستوى المعيشي
٢	انخفاض الوعي السكاني
٣	انتشار التعليم

( د )

م	أسباب ارتفاع معدل المواليد
١	الزواج المبكر
٢	انخفاض المستوى التعليمي
٣	انخفاض مستوى الدخل

( ج )

١٠- المنتج الزراعي الذي حملته السفن التجارية العمانية من أقاليم المحيط الهندي إلى مناطق الاستهلاك :

( د ) الياقوت

( ج ) العنبر

( ب ) الذهب

( أ ) القرنفل

١١- الرمز الذي يُشير إلى موقع الجزيرة التي توجد بها العاصمة

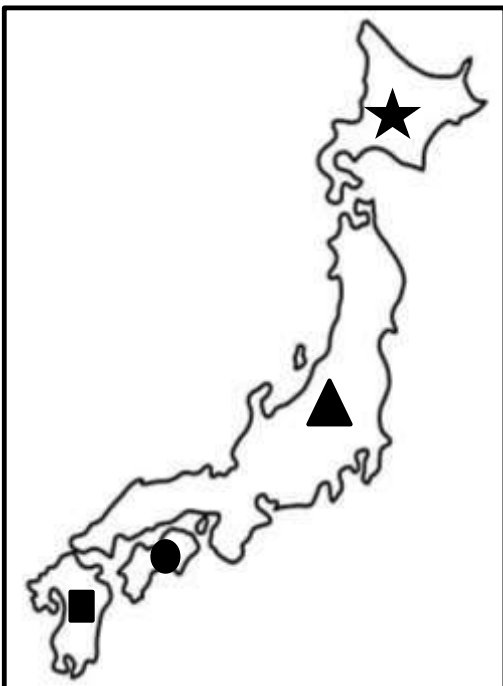
اليابانية في الخريطة المقابلة :

( أ ) ★

( ب ) ▲

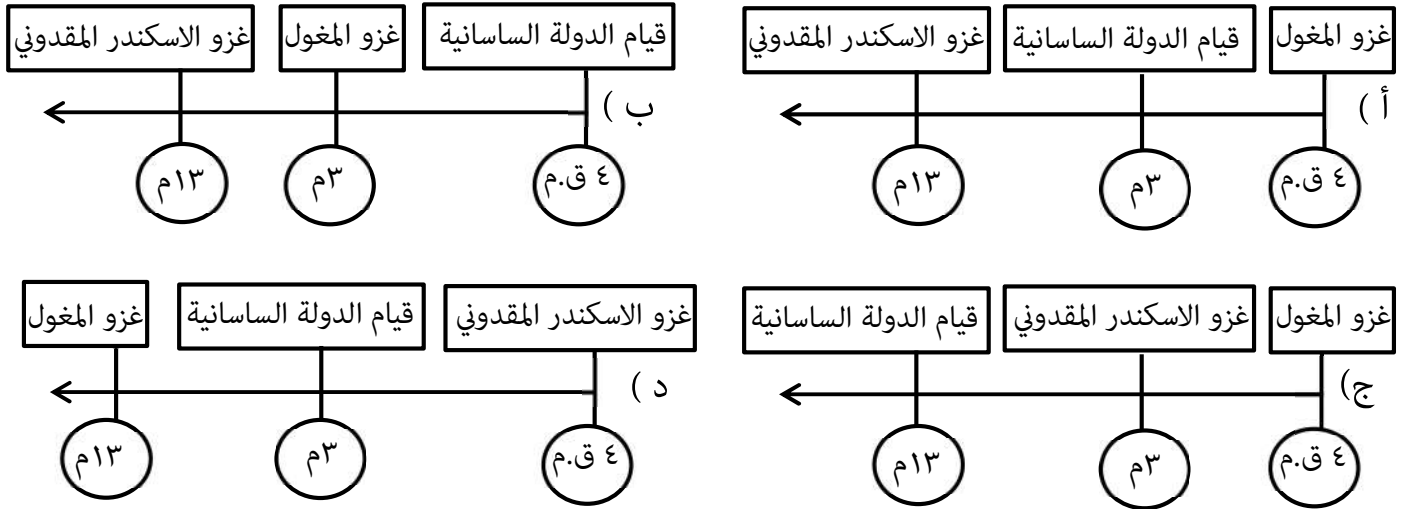
( ج ) ●

( د ) ■



## تابع - السؤال الأول :

١٢- المسطرة الزمنية التي تُشير إلى التسلسل الصحيح للأحداث التاريخية التي شهدتها إيران عبر التاريخ :



## السؤال الثاني: أجب عن الأسئلة الآتية :

أولاً: اكتب المصطلح / المفهوم مقابل العبارتين في الجدول الآتي :

م	العبارة	المصطلح / المفهوم
١	سفينة حربية صغيرة الحجم سريعة تستخدم للمناورة .	.....
٢	الزيادات الكبيرة في أعداد السكان بما يفوق الموارد المتاحة .	.....

ثانياً :

أ- اذكر دليلاً واحداً لكل من :

١- التأثير الصيني على الجوانب السياسية لليابانيين .

.....

٢- كان البلاط الساساني حريصاً على إظهار العظمة والأبهة للملك .

.....

ب- ( تتميز التضاريس في اليابان بأنها وعرة وجبلية إذ تغطي الجبال والتلال نحو ٧٠% من مساحتها الكلية ، وتقع اليابان على جزء مستقر من سطح الكرة الأرضية ).

١- العبارة التي تحتها خط في الفقرة السابقة :

○ صحيحة      ○ غير صحيحة      ( ظلل الإجابة )

٢- أثبت صحة إجابتك :

## تابع - السؤال الثاني :

ثالثاً: قارن بين ميناءي ديو و ممباسا من حيث موقع الميناء والأهمية البحرية .

م	اسم الميناء	موقع الميناء	الأهمية البحرية
١	ديو	.....	.....
٢	ممباسا	.....	.....

٨

## السؤال الثالث : أجب عن الأسئلة الآتية :

أولاً:

١- أحسب حجم الباحثين عن العمل وفق المعطيات الواردة في الشكل المقابل .

القانون :

التطبيق :

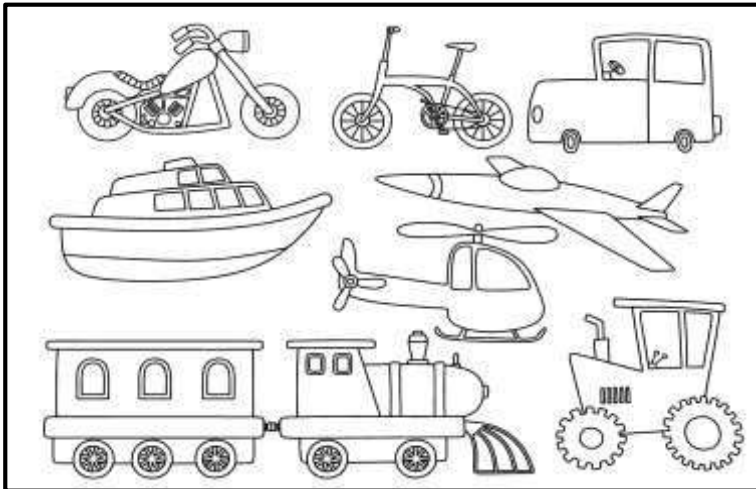
النتاج :



٢- ادرس الصورة المقابلة جيداً، ثم أجب

عن السؤال الآتي :

- استنتج اسم القطاع الاقتصادي الواضح في الصورة المقابلة مع كتابة معدل استهلاكه للطاقة.



## تابع - السؤال الثالث :

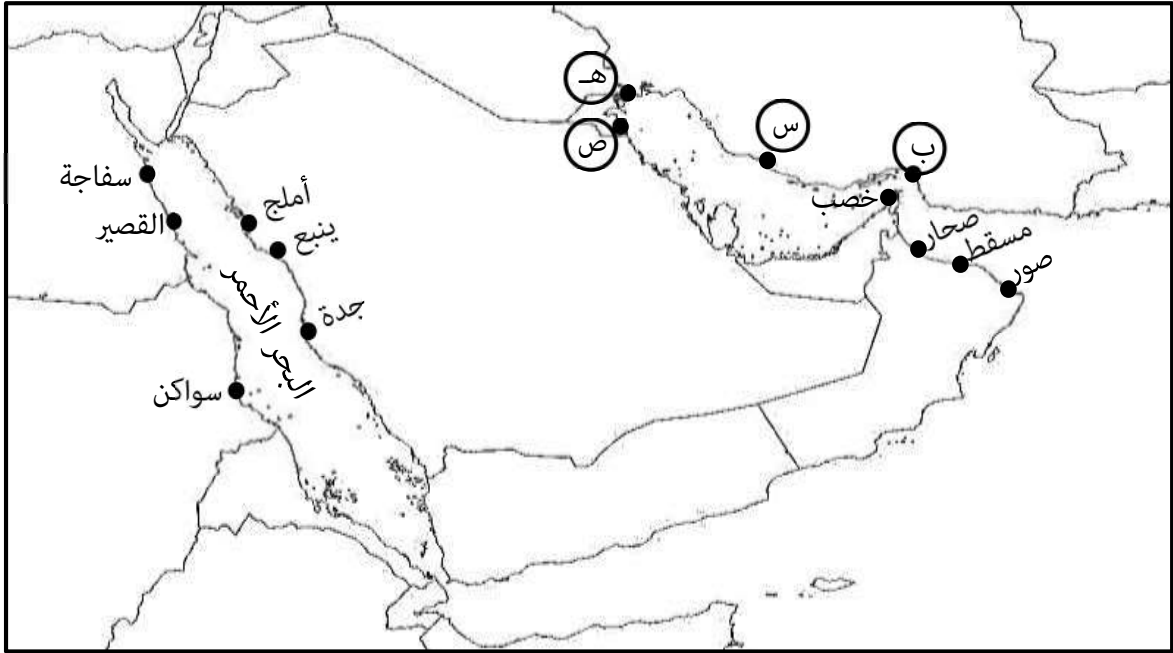
ثانياً: أقرأ النص الآتي ، ثم أجب عن الأسئلة التي تليه :

( زار أحد الباحثين قرية في إحدى الدول النامية لدراسة مدى توفير الحكومة الخدمات الأساسية لمواطنيها في القرية ، وبعد الدراسة لاحظ أن أعداد السكان كبير وأن الخدمات المقدمة لا تتناسب مع عدد السكان لا سيما أن خدمة التيار الكهربائي يحدث لها انقطاع لساعات طويلة في اليوم الواحد ، وفي بعض الأيام لا يوجد تيار كهربائي ، مما جعل السكان يبحثون عن بدائل لاستخدامها في الإنارة ) .

١- استخراج المشكلة التي يعاني منها السكان في القرية .

٢- اقترح حلاً واحداً لهذه المشكلة .

ثالثاً: أدرس خريطة موانئ الخليج العربي والبحر الأحمر جيداً ، ثم أجب عن الأسئلة التي تليها :



أ- استخراج من الخريطة كلا من :

١- الرمز الذي يُشير إلى الميناء الذي أصبح مملكة بحرية نهاية العصر العباسي وبداية العصور الحديثة. (.....)

٢- ميناء يقع على الساحل الشرقي للبحر الأحمر . ( ..... )

ب- ضع دائرة حول الميناء العُماني الذي يُمثل عقدة المواصلات البحرية في العصور القديمة والإسلامية .

ج- وقع على الخريطة الموقع الصحيح للمسطح المائي ( الخليج العربي ) .

**السؤال الرابع : أجب عن الأسئلة الآتية :**

أولاً: اذكر نتيجة واحدة ترتبت على كلا من :

١- اختراع الصينيون الورق وابتكار أسلوب الكتابة الخاص بهم .

.....

٢- الزيادة السكانية وتباطؤ عمليات التنمية .

.....

**ثانياً :**

١- دلل: كان للعمانيين دوراً في نشر اللغة العربية في منطقة المحيط الهندي .

.....

٢- ( تطورت الصين في كافة المجالات خلال السنوات الأخيرة من القرن العشرين ودخلت ما عُرف بمرحلة الإصلاح والانفتاح حيث عملت على تطوير الزراعة على الرغم من قلة الأراضي الزراعية مقارنة بعدد السكان ، وتوجهت نحو الاستفادة من التقدم التكنولوجي وتحرير اقتصاد الدولة ) .

- اكتب ما يدل على أن الصين دخلت مرحلة الانفتاح والإصلاح لم يذكره في الفقرة السابقة .

.....

**ثالثاً :**

ما رأيك : ( تمثل البحرية السلطانية العمانية حالياً امتداداً للملاحة البحرية العمانية ) ؟

١-  أوافق  لا أوافق " ظلل الإجابة "

٢- وضح إجابتك :

٦

.....

.....

**السؤال الخامس : أجب عن الأسئلة الآتية :**

أولاً: عدد اثنين من الأعمال التي قام بها ( الإمبراطور هينو ) بعد توليه العرش في اليابان عام ١٨٦٧ م .

.....

.....

## تابع - السؤال الخامس :

ثانياً: صنف الدول حسب العبارات الواردة في الجدول الآتي بوضع علامة ( √ ) في المكان المناسب :

م	التصنيف العالمي للدول في المجالات المختلفة	الدول		
		اليابان	الصين	إيران
١	الثاني في احتياطي الغاز .			
٢	الثاني في القوة الاقتصادية .			
٣	الثالث في عالم الفضاء .			

ثالثاً: ادرس خريطة الصين القديمة جيداً ، ثم أجب عن الأسئلة التي تليها :



١- استخراج من الخريطة كلا من :

أ- الدولة التي تحدها الصين من جهة الجنوب الغربي . ( .....

ب- النهر الذي يعرف في الصين باسم النهر الأصفر . ( .....

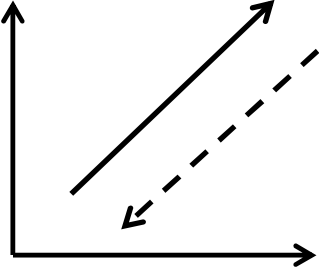

٢- الجهة التي يقع فيها سور الصين العظيم . ( .....

٣- ضع دائرة حول عاصمة الصين .

نموذج إجابة امتحان الصف التاسع / الأساسي  
 للعام الدراسي ١٤٤٥ هـ - ٢٠٢٣/٢٠٢٤ م  
 الدور الأول- الفصل الدراسي : الثاني ( الفترة الصباحية )  
 المادة : الدراسات الاجتماعية

المادة: الدراسات الاجتماعية      الدرجة الكلية: ( ٤٠ ) درجة.  
 تنبيه: نموذج الإجابة في ( ٦ ) صفحات.

أولاً: إجابة السؤال الموضوعي:

إجابة السؤال الأول						
المستوى المعرفي	المخرج التعليمي	الصفحة	الدرجة	الإجابة	البديل الصحيح	المفردة
فهم وتطبيق		٨٧	١	الصين	ج	١
معرفة		٤٨	١	سلطنة	أ	٢
فهم وتطبيق		٥١	١	٤	د	٣
معرفة		١٣	١	٢٠	ب	٤
فهم وتطبيق		١٤	١		د	٥
معرفة		٩٤	١	١٩٨١	ب	٦
فهم وتطبيق		٧٣	١		ج	٧

( ٢ )

تابع نموذج إجابة امتحان الصف التاسع الأساسي  
للعام الدراسي ١٤٤٥ هـ - ٢٠٢٣/٢٠٢٤ م  
الدور الأول - الفصل الدراسي الثاني ( الفترة الصباحية )  
المادة : الدراسات الاجتماعية  
أولاً: تابع/ إجابة السؤال الموضوعي

تابع/ إجابة السؤال الأول														
المستوى المعرفي	المخرج التعليمي	الصفحة	الدرجة	الإجابة	البديل الصحيح	المفردة								
قدرات عليا		٤٠- ٤٣	١	(الطبيعية - الأمنية - السياسية - الاثرية)	أ	٨								
معرفة		١١	١	<table border="1"> <tr> <td>م</td> <td>أسباب ارتفاع معدل المواليد</td> </tr> <tr> <td>١</td> <td>الزواج المبكر</td> </tr> <tr> <td>٢</td> <td>انخفاض المستوى التعليمي</td> </tr> <tr> <td>٣</td> <td>انخفاض مستوى الدخل</td> </tr> </table>	م	أسباب ارتفاع معدل المواليد	١	الزواج المبكر	٢	انخفاض المستوى التعليمي	٣	انخفاض مستوى الدخل	ج	٩
م	أسباب ارتفاع معدل المواليد													
١	الزواج المبكر													
٢	انخفاض المستوى التعليمي													
٣	انخفاض مستوى الدخل													
معرفة		٥٧	١	القرنفل	أ	١٠								
فهم وتطبيق		٩٥	١	▲	ب	١١								
معرفة		٧٤	١	<table border="1"> <tr> <td>غزو المغول</td> <td>قيام الدولة الساسانية</td> <td>غزو الإسكندر المقدوني</td> </tr> <tr> <td>م ١٣</td> <td>م ٣</td> <td>م.ق ٤</td> </tr> </table>	غزو المغول	قيام الدولة الساسانية	غزو الإسكندر المقدوني	م ١٣	م ٣	م.ق ٤	د	١٢		
غزو المغول	قيام الدولة الساسانية	غزو الإسكندر المقدوني												
م ١٣	م ٣	م.ق ٤												
		١٢ درجة		المجموع										

تابع نموذج إجابة امتحان الصف التاسع الأساسي  
للعام الدراسي ١٤٤٥ هـ - ٢٠٢٣/٢٠٢٤ م  
الدور الأول - الفصل الدراسي الثاني ( الفترة الصباحية )  
المادة : الدراسات الاجتماعية  
ثانيا: إجابة الأسئلة المقالية

ثانيا: إجابة الأسئلة المقالية

الدرجة الكلية: ( ٨ ) درجة				إجابة السؤال الثاني														
المستوى المعرفي	المخرج التعليمي	الصفحة	الدرجة	الإجابة الصحيحة	المفردة	الجزئية												
معرفة		٤٩	١	الفرقطة	١	أولا												
معرفة		٨	١	الانفجار السكاني	٢													
معرفة		٩٦	١	- بناء العاصمة (نارا) وفقا لنماذج الابطرة الصينيين. - كتابة القوانين المأخوذة كليا عن القوانين الصينية. يكتفى بذكر دليل واحد فقط	١	ثانيا (أ)												
معرفة		٧٣	١	- لم يسمح للناس العاديين من الرعية المثل بين يدي الملك إلا من وراء حجاب. - كبار الموظفين والوزراء يسجدون أمامه تعظيما له . يكتفى بذكر دليل واحد فقط	٢													
قدرات عليا		٩٦	١	غير صحيحة	١	ثانيا (ب)												
قدرات عليا			١	تتعرض للكثير من البراكين والهزات الأرضية وهو ما يجعلها مهددة بصورة دائمة بالكوارث والأزمات .	٢													
معرفة		٥٤- ٥٣	درجتان لكل جزئية نصف درجة	<table border="1"> <thead> <tr> <th>م</th> <th>اسم الميناء</th> <th>موقع الميناء</th> <th>الأهمية البحرية</th> </tr> </thead> <tbody> <tr> <td>١</td> <td>ديو</td> <td>الساحل الهندي</td> <td>تركزت به تجارة التوابل</td> </tr> <tr> <td>٢</td> <td>ممباسا</td> <td>الساحل الافريقي الشرقي</td> <td>ارتبط بتجارة الذهب والعاج</td> </tr> </tbody> </table>	م	اسم الميناء	موقع الميناء	الأهمية البحرية	١	ديو	الساحل الهندي	تركزت به تجارة التوابل	٢	ممباسا	الساحل الافريقي الشرقي	ارتبط بتجارة الذهب والعاج		ثالثا
م	اسم الميناء	موقع الميناء	الأهمية البحرية															
١	ديو	الساحل الهندي	تركزت به تجارة التوابل															
٢	ممباسا	الساحل الافريقي الشرقي	ارتبط بتجارة الذهب والعاج															

(٤)

تابع نموذج إجابة امتحان الصف التاسع الأساسي  
للعام الدراسي ١٤٤٥ هـ - ٢٠٢٣/٢٠٢٤ م  
الدور الأول - الفصل الدراسي الثاني ( الفترة الصباحية )  
المادة : الدراسات الاجتماعية  
تابع ثانيا: إجابة الأسئلة المقالية

إجابة السؤال الثالث					الدرجة الكلية: ( ٨ ) درجة	
الجزئية	المفردة	الإجابة الصحيحة	الدرجة	الصفحة	المخرج التعليمي	المستوى المعرفي
أولا	١	القانون : مجموعة قوة العمل - مجموع العاملين فعلا ملاحظة: مجموع العاملين = $1.093.919 = 273919 + 820000$ التطبيق : $1093919 - 1100000$ الناتج : 6.081 نسمة	(درجتان) القانون: درجة التطبيق: نصف الناتج: نصف	١٦		فهم وتطبيق
	٢	قطاع النقل - وسائل النقل - المواصلات يستهلك ٩٥ %	درجة لكل جزئية نصف درجة	١٨		فهم وتطبيق
ثانيا	١	الضغط على مصادر الطاقة - انقطاع التيار الكهربائي	١	١٧		قدرات عليا
	٢	استخدام بدائل لمصادر الطاقة تكون غير قابلة للنفاد وغير مكلفة اقتصاديا وتأتي الطاقة الشمسية في مقدمة هذه المصادر.	١			قدرات عليا
ثالثا	( أ ) ( ١ )	( ب )	نصف درجة	٥٥		فهم وتطبيق
	( أ ) ( ٢ )	أملج - ينبع - جدة يكتفى بذكر واحد فقط	نصف درجة	٥٥		فهم وتطبيق
	ب	يضع دائرة حول ميناء ( صور )	١	٥٢		فهم وتطبيق
	ج	يكتب الخليج العربي في موقعه الصحيح على الخريطة	١	٥٦		فهم وتطبيق

(٥)

تابع نموذج إجابة امتحان الصف التاسع الأساسي  
للعام الدراسي ١٤٤٥ هـ - ٢٠٢٣/٢٠٢٤ م  
الدور الأول - الفصل الدراسي الثاني ( الفترة الصباحية )  
المادة : الدراسات الاجتماعية  
تابع ثانيا: إجابة الأسئلة المقالية

الدرجة الكلية: ( ٦ ) درجة					إجابة السؤال الرابع	
المستوى المعرفي	المخرج التعليمي	الصفحة	الدرجة	الإجابة الصحيحة	المفردة	الجزئية
معرفة		٨٩	١	- تطور الجهاز الإداري . - انتشار التعليم . يكتفى بذكر نتيجة واحدة فقط	١	أولا
معرفة		١٥	١	قلة فرص العمل.	٢	
فهم وتطبيق		٥٧	١	- وجود مصطلحات عربية في اللغتين السواحلية على البر الافريقي والأوردية على البر الهندي. - دخول مفردات عربية عديدة إلى لغات شعوب المحيط الهندي . - حملت السفن أنواع عديدة من السلع والمنتجات بأسمائها المحلية . يكتفى بذكر دليل واحد فقط	١	ثانيا
قدرات عليا		٩٢	١	زيادة حجم المنتجات الصناعية	٢	
قدرات عليا		٤٩	١	يظل الطالب على كلمة (أوافق)	١	ثالثا
قدرات عليا		٤٩	١	تمتلك أسطولا من : -السفن الحديثة تضم مجموعة من الفرقاطات والزوارق وسفن المدفعية والاسناد والمسح البحري للشواطئ. -تتوفر عدد من القواعد البحرية التي تشمل خدمات لوجستية وهندسية و إدارية . - القوة البشرية المدربة والمؤهلة . " يكتفى بذكر واحد فقط "	٢	

(٦)

تابع نموذج إجابة امتحان الصف التاسع الأساسي  
للعام الدراسي ١٤٤٥ هـ - ٢٠٢٣/٢٠٢٤ م  
الدور الأول - الفصل الدراسي الثاني ( الفترة الصباحية )  
المادة : الدراسات الاجتماعية  
تابع ثانيا: إجابة الأسئلة المقالية

إجابة السؤال الخامس																									
الدرجة الكلية: ( ٦ ) درجة																									
المستوى المعرفي	المخرج التعليمي	الصفحة	الدرجة	الإجابة الصحيحة	المفردة	الجزئية																			
معرفة		٩٧	٢	- الغاء الحكومة العسكرية. - وضع دستوراً للبلاد. - إنشاء مجلس نيابياً . - نقل العاصمة من كوتو إلى إيدو التي سميت فيما بعد ( طوكيو ) <u>يكتفى بذكر اثنين فقط</u>		أولاً																			
فهم وتطبيق		٧٥ ٩٩ ٩٢	درجة ونصف لكل جزئية نصف درجة	<table border="1"> <thead> <tr> <th colspan="3">الدول</th> <th rowspan="2">التصنيف العالمي للدول في المجالات المختلفة</th> </tr> <tr> <th>إيران</th> <th>الصين</th> <th>اليابان</th> </tr> </thead> <tbody> <tr> <td>✓</td> <td></td> <td></td> <td>الثاني عالمياً في احتياطي الغاز .</td> </tr> <tr> <td></td> <td></td> <td>✓</td> <td>الثاني عالمياً في القوة الاقتصادية.</td> </tr> <tr> <td></td> <td>✓</td> <td></td> <td>الثالث في عالم الفضاء</td> </tr> </tbody> </table>	الدول			التصنيف العالمي للدول في المجالات المختلفة	إيران	الصين	اليابان	✓			الثاني عالمياً في احتياطي الغاز .			✓	الثاني عالمياً في القوة الاقتصادية.		✓		الثالث في عالم الفضاء		ثانياً
الدول			التصنيف العالمي للدول في المجالات المختلفة																						
إيران	الصين	اليابان																							
✓			الثاني عالمياً في احتياطي الغاز .																						
		✓	الثاني عالمياً في القوة الاقتصادية.																						
	✓		الثالث في عالم الفضاء																						
فهم وتطبيق		٨٦	نصف درجة	الهند	(١) (أ)	ثالثاً																			
فهم وتطبيق		٨٦	نصف درجة	هوانج هو	(١) (ب)																				
فهم وتطبيق		٨٦	نصف درجة	الشمالية	٢																				
فهم وتطبيق		٨٦	١	يضع الطالب دائرة حول ( بكين )	٣																				

نهاية نموذج الإجابة



امتحان مادة: الدراسات الاجتماعية  
للف: التاسع (الفترة المسائية)  
للعام الدراسي ١٤٤٥هـ - ٢٠٢٣/٢٠٢٤م  
الدور الأول - الفصل الدراسي الثاني

- زمن الامتحان: (ساعة ونصف)
- عدد صفحات أسئلة الامتحان: (٧) صفحات.
- الإجابة في الدفتر نفسه.

		اسم الطالب
الصف		المدرسة

التوقيع بالاسم		الدرجة		السؤال
المصحح الثاني	المصحح الأول	بالحروف	بالأرقام	
				١
				٢
				٣
				٤
				٥
مراجعة الجمع	جمعه			المجموع
				المجموع الكلي

## أجب عن جميع الأسئلة الآتية

١٢

السؤال الأول: ضع دائرة حول رمز الإجابة الصحيحة لكل مفردة من المفردات الآتية:


١- يبلغ عدد سكان العالم الذين لا ينتفعون بالخدمات الحديثة للطاقة بالمليار نسمة ما يقارب:

أ- ١ ب- ٢ ج- ٣ د- ٤

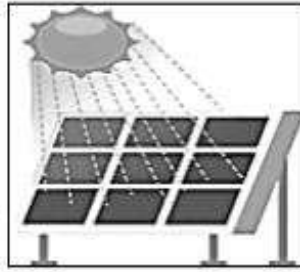
٢- الصورة التي توضح الطاقة البديلة التي تأتي في مقدمة المصادر غير القابلة للنفاد وغير مكلفة اقتصادياً:



د-



ج-



ب-



أ-

٣- المصادر التاريخية القديمة التي وصفت أهل عُمان (برواد الملاحه البحرية):

أ- الفرعونية ب- الرومانية ج- الفارسية د- السومرية

٤- الترتيب الصحيح للإحداث التي شهدتها اليابان خلال الفترة (١٩٣٩م- ١٩٥٢م) من الأقدم إلى الأحدث:

١	دخول اليابان الحرب العالمية الثانية
٢	وضع دستور جديد لليابان
٣	توقيع معاهدة السلام مع دول الحلفاء

ج-

١	وضع دستور جديد لليابان
٢	دخول اليابان الحرب العالمية الثانية
٣	توقيع معاهدة السلام مع دول الحلفاء

أ-

١	دخول اليابان الحرب العالمية الثانية
٢	توقيع معاهدة السلام مع دول الحلفاء
٣	وضع دستور جديد لليابان

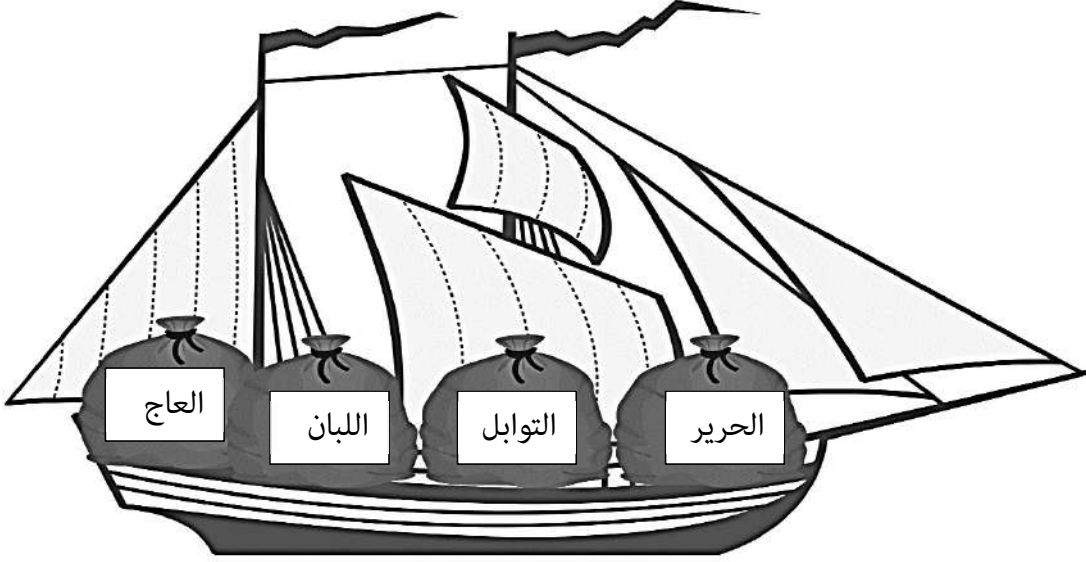
د-

١	توقيع معاهدة السلام مع دول الحلفاء
٢	وضع دستور جديد لليابان
٣	دخول اليابان الحرب العالمية الثانية

ب-

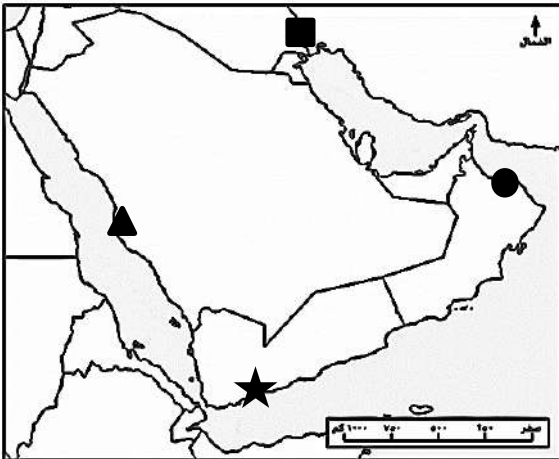
## تابع السؤال الأول:

٥- الترتيب الصحيح للموانئ التي ستمر بها السفن التجارية بدءاً من سواحل الصين متجهاً إلى موانئ الساحل الأفريقي الشرقي مستعينا بالبيانات الواردة في الشكل الذي أمامك:



- أ- ديو ← خانفو ← صحار ← كجرات
- ب- خانفو ← ديو ← ظفار ← ممباسا
- ج- هينان ← هرمز ← ظفار ← ماليندي
- د- كجرات ← هينان ← ديو ← هرمز

٦- الرمز الذي يشير في الخريطة المقابلة إلى موقع الميناء الذي لعب دوراً تجارياً باعتباره منفذاً للعراق:



- أ- ★
- ب- ●
- ج- ▲
- د- ■

## تابع السؤال الأول:

٧- الشعب الذي اقتبس منه الفرس فن العمارة قديمًا:

أ- اليوناني ب- الإغريقي ج- المصري د- الهندي

٨- السفير العماني الذي وصل إلى ميناء نيويورك عام ١٨٤٠م:

أ- أحمد بن النعمان ب- سلطان بن أحمد

ج- أحمد بن سعيد د- سلطان بن سيف

٩- المدينة التي تقدم خدمات صحية أفضل من غيرها من خلال المعطيات في الجدول الآتي:

الدخل بالمليون	عدد المستشفيات	عدد السكان	
٢	٢٩	٢٠٠٠٠٠	المدينة (أ)
٥	٣٠	٤٠٠٠٠٠	المدينة (ب)
٣	٢٦	١٥٠٠٠٠	المدينة (ج)
١	٢٨	٢٥٠٠٠٠	المدينة (د)

أ- المدينة (أ)

ب- المدينة (ب)

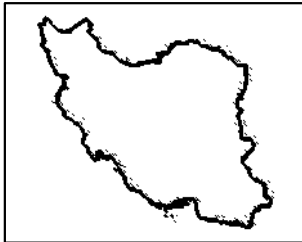
ج- المدينة (ج)

د- المدينة (د)

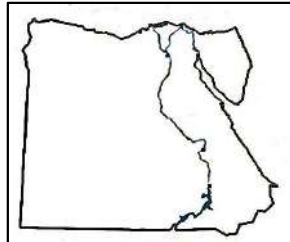
١٠- المقاطعة التي استردتها الصين من بريطانيا في العام الميلادي ١٩٩٧م:

أ- تايوان ب- مكاو ج- هونج كونج د- منشوريا

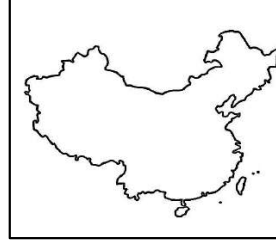
١١- الخريطة التي تمثل الدولة التي عُرفت عبر التاريخ ببلاد فارس:



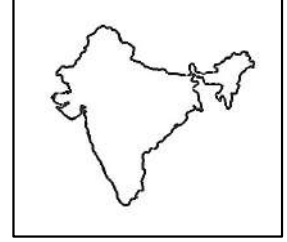
د-



ج-



ب-

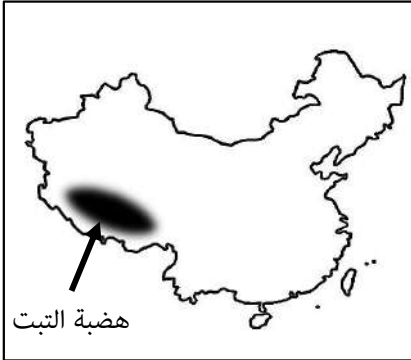


أ-

(٤)

المادة: الدراسات الاجتماعية الصف: التاسع الدور الأول - الفصل الدراسي الثاني - العام الدراسي ٢٠٢٣/٢٠٢٤م

تابع السؤال الأول:



١٢-الجهة الفرعية التي تقع فيها هضبة التبت بالنسبة للصين:

- أ- الجنوب الشرقي
- ب- الجنوب الغربي
- ج- الشمال الشرقي
- د- الشمال الغربي

هضبة التبت

السؤال الثاني: أجب عن الأسئلة الآتية:


١- أذكر اثنين مما يلي:

أ- المقومات الأمنية التي أدت إلى شهرة العمانيين في الملاحة البحرية.

.....  
.....

ب- الآثار الاقتصادية والاجتماعية للانفجار السكاني.

.....  
.....



٢- ادرس الصورة الآتية ثم أجب عما يلي:

أ- سم المشكلة الواضحة في الصورة المقابلة.

.....

ب- اذكر آثار هذه المشكلة.

.....  
.....

٣- رتب الأحداث التاريخية الآتية من الأقدم إلى الأحدث بكتابة الأرقام من (١-٤):

تعرضت إيران لغزو الاسكندر المقدوني.

أصبحت إيران جزء من الدولة الإسلامية.

قيام الدولة الساسانية.

تعرضت إيران لغزو المغول.

## السؤال الثالث: أجب عن الأسئلة الآتية:

٨

١- أكمل المخطط التعريفي لدولة اليابان.

العاصمة	العملة	اللغة	نظام الحكم
.....	.....	.....	.....

٢- دولة يبلغ عدد سكانها (٤,٠٠٠,٠٠٠) نسمة، وتبلغ قوة العمل بها حوالي (٢,٢٠٠,٠٠٠) نسمة، إلا أن عدد العاملين فعلاً منهم حوالي (٨٢٠,٠٠٠) نسمة، في ضوء ذلك أجب عما يأتي:

كم يبلغ حجم الباحثين عن العمل في هذه الدولة؟

القانون

الخطوات

٣- اذكر نتيجة واحدة لكل حدث من الأحداث الآتية:

أ- دخول المغول المسلمون الصين في القرن الرابع عشر الميلادي.

.....

ب- تسلم الإمبراطور هينو العرش في اليابان.

.....

ج- اختراع الصينيون الورق.

.....

## السؤال الرابع: أجب عن الأسئلة الآتية:

١- أدرس خريطة مؤاني الساحل العماني والساحل الأفريقي الشرقي المقابلة، ثم أجب عن الأسئلة الآتية:



أ- استخرج العامل الطبيعي الذي ساهم في تطور الملاحة والتجارة العمانية مع الساحل الشرقي الأفريقي.

ب- "إذا أردت السفر من عُمان لأحد مؤاني الساحل الأفريقي

الشرقي في الوقت الحاضر "

أ- أي الموانئ تفضل للسياحة؟

ماليندي

ممباسا

ظلل الإجابة الصحيحة

- فسر إجابتك:

٢- علل ما يلي:

أ- كثرة وتعدد الموانئ التجارية البحرية في منطقة المحيط الهندي.

ب- قيام المظاهرات ضد الشاه محمد رضا بهلوي من قبل معارضييه عام ١٩٧٨م.

٣- " تطورت الصين في السنوات الأخيرة من القرن العشرين ولا زالت تتقدم في جميع المجالات كافة، حيث أزداد حجم منتجاتها الصناعية وعملت على تطوير الزراعة رغم الوضع السكاني الذي تشهده الصين من زيادة عدد سكانها مقارنة بالموارد المتاحة في الدولة " في ضوء العبارة السابقة.

أ- استنتج المصطلح الذي يمثل الوضع السكاني في الصين.

ب- أذكر أبرز الإنجازات التي حققتها الصين في مجال الفضاء.

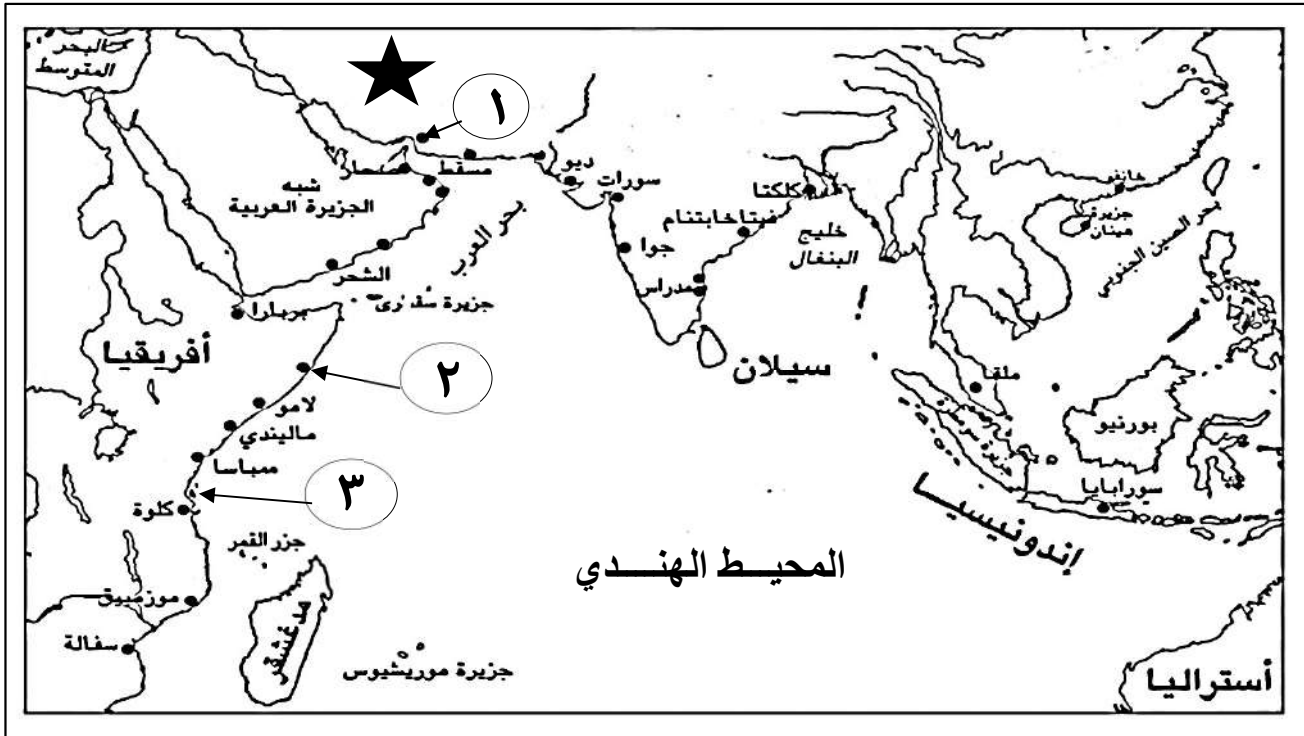
## السؤال الخامس: أجب عن الأسئلة الآتية:

٦

١- اكتب المصطلح المناسب أمام العبارات الآتية:

أ-..... العلم الذي يهدف إلى التعريف بالسكان والظواهر السكانية من حيث أسبابها والعوامل التي تتحكم فيها والآثار المترتبة عليها.	
ب-..... سفينة حربية صغيرة الحجم سريعة تستخدم للمناورة.	

٢- ادرس خريطة موانئ المحيط الهندي التي أمامك جيدا ثم أجب عن الأسئلة التي تليها:



أ- اكتب على الخريطة البحر الأحمر في مكانه الصحيح.

ب- استخرج من الخريطة الرقم الدال على المواقع في الجدول الآتي:

١-..... مركز تجاري زمن الدولة البوسعيدية اتخذه السيد سعيد بن سلطان مركزاً لحكمه.	
٢-..... مملكة بحرية مع نهاية العصر العباسي وبداية العصور الحديثة.	

ج- ما نظام الحكم قديماً في الدولة المشار إليها بالرمز ★ ؟

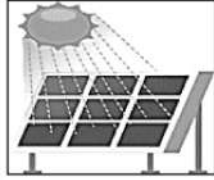
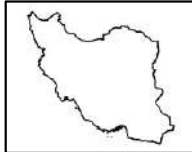
.....

انتهت الأسئلة مع الدعاء للجميع بالتوفيق والنجاح.

نموذج إجابة امتحان الصف التاسع الأساسي (الفترة المسائية)  
 للعام الدراسي ١٤٤٥ هـ - ٢٠٢٣/٢٠٢٤ م  
 الدور الأول - الفصل الدراسي الثاني

المادة: دراسات اجتماعية  
 تنبيهه: نموذج الإجابة في ( ٥ ) صفحات.  
 الدرجة الكلية: ( ٤٠ ) درجة.

أولاً: إجابة السؤال الموضوعي:

المستوى المعرفي	الصفحة	الدرجة	الإجابة	البديل الصحيح	المفردة						
معرفة	١٦	١	١	أ	١						
فهم وتطبيق	١٧	١		ب	٢						
معرفة	٤٥	١	السومرية	د	٣						
قدرات عليا	٩٩-٩٧	١	<table border="1" style="width: 100%;"> <tr> <td>١</td> <td>دخول اليابان الحرب العالمية الثانية</td> </tr> <tr> <td>٢</td> <td>وضع دستور جديد لليابان</td> </tr> <tr> <td>٣</td> <td>توقيع معاهدة السلام مع دول الحلفاء</td> </tr> </table>	١	دخول اليابان الحرب العالمية الثانية	٢	وضع دستور جديد لليابان	٣	توقيع معاهدة السلام مع دول الحلفاء	ج	٤
١	دخول اليابان الحرب العالمية الثانية										
٢	وضع دستور جديد لليابان										
٣	توقيع معاهدة السلام مع دول الحلفاء										
قدرات عليا	٥٠-٥١	١	<table border="1" style="width: 100%;"> <tr> <td>ب-</td> <td>خانفو ← ديو ← ظفار ← ممباسا</td> </tr> </table>	ب-	خانفو ← ديو ← ظفار ← ممباسا	ب	٥				
ب-	خانفو ← ديو ← ظفار ← ممباسا										
فهم وتطبيق	٥٥	١	■	د	٦						
معرفة	٧٣	١	المصري	ج	٧						
معرفة	٤٨	١	أحمد بن النعمان	أ	٨						
قدرات عليا	١٧-١٦	١	المدينة (ج)	ج	٩						
معرفة	٩٢	١	هونج كونج	ج	١٠						
فهم وتطبيق	٧٢	١		د	١١						
فهم وتطبيق	٨٥	١	الجنوب الغربي	ب	١٢						
١٢		المجموع									

(٢)

تابع نموذج إجابة امتحان الصف التاسع الأساسي (الفترة المسائية)  
الدور الأول - الفصل الدراسي الثاني  
المادة: الدراسات الاجتماعية

ثانيا: إجابة الأسئلة المقالية:

إجابة السؤال الثاني					
المستوى المعرفي	الصفحة	الدرجة	الإجابة الصحيحة	المفردة	الجزئية
معرفة	٤١-٤٠	٢ لكل مفردة درجة	<ul style="list-style-type: none"> <li>• بعد السواحل العمانية عن الصراعات والاضطرابات التي تحدث في غيرها من المناطق.</li> <li>• حرص الدولة العمانية على تأمين الملاحة البحرية وحمايتها من القرصنة.</li> </ul>	أ	١
	١٧-١٣	٢ لكل مفردة درجة	<ul style="list-style-type: none"> <li>• نقص الغذاء وسوء التغذية.</li> <li>• انخفاض المستوى المعيشي.</li> <li>• قلة فرص العمل</li> <li>• الضغط على الخدمات.</li> <li>• الضغط على مصادر الطاقة.</li> </ul>	ب	
فهم وتطبيق	١٣	١	- نقص الغذاء وسوء التغذية	أ	٢
	١٣	١	- موت العديد من البشر يوميا، حيث بلغ متوسط الذين يموتون جوعا يوميا على المستوى العالمي نحو ٢٠ ألف نسمة.	ب	
قدرات عليا	٧٤	٢ لكل مفردة نصف درجة	<p>١ تعرضت إيران لغزو الاسكندر المقدوني.</p> <p>٢ قيام الدولة الساسانية.</p> <p>٣ أصبحت إيران جزء من الدولة الإسلامية.</p> <p>٤ تعرضت إيران لغزو المغول.</p>	٣	٣

(٣)

تابع نموذج إجابة امتحان الصف التاسع الأساسي (الفترة المسائية)  
 للعام الدراسي ١٤٤٥ هـ - ٢٠٢٣/٢٠٢٤ م  
 الدور الأول - الفصل الدراسي الثاني  
 المادة: دراسات الاجتماعية

إجابة السؤال الثالث													
المستوى المعرفي	الصفحة	الدرجة	الإجابة الصحيحة	المفردة	الجزئية								
معرفة	٩٥	٤ لكل مفردة درجة	<table border="1" style="width: 100%; text-align: center;"> <tr> <td>نظام الحكم</td> <td>اللغة</td> <td>العملة</td> <td>العاصمة</td> </tr> <tr> <td>د- إمبراطوري</td> <td>ج- اليابانية</td> <td>ب- الين الياباني</td> <td>أ- طوكيو</td> </tr> </table>	نظام الحكم	اللغة	العملة	العاصمة	د- إمبراطوري	ج- اليابانية	ب- الين الياباني	أ- طوكيو		١
نظام الحكم	اللغة	العملة	العاصمة										
د- إمبراطوري	ج- اليابانية	ب- الين الياباني	أ- طوكيو										
فهم وتطبيق	١٦	١ نصف للقانون ونصف للناتج	<p>حجم الباحثين عن عمل = مجموع قوة العمل - مجموع العاملين فعلاً</p> <p>حجم الباحثين عن عمل = ٢٣٠٠٠٠٠ - ٨٢٠٠٠٠ = ١٤٨٠٠٠٠ نسمة</p>		٢								
فهم وتطبيق	٩٠	١	<ul style="list-style-type: none"> <li>ازدياد عدد المسلمين الذين وفدوا إلى الصين من الشمال الغربي واستقروا فيها.</li> <li>تكوين إمبراطورية كبيرة كانت بكين (مدينة الخان) عاصمة لها.</li> </ul>	أ	٣								
	٩٧	١	<ul style="list-style-type: none"> <li>سكنت بلاده طريق الثورة الصناعية.</li> <li>ألغى الحكومة العسكرية.</li> <li>وضع دستور جديد للبلاد.</li> <li>أنشأ مجلساً نيابياً.</li> <li>نقل العاصمة من كوتو إلى إيدو.</li> </ul>	ب									
	٨٩	١	<ul style="list-style-type: none"> <li>تطور الجهاز الإداري</li> <li>انتشار التعليم</li> </ul>	ج									

(٤)

تابع نموذج إجابة امتحان الصف التاسع (الفترة المسائية)

للعام الدراسي ١٤٤٥ هـ - ٢٠٢٣/٢٠٢٤ م

الدور الأول - الفصل الدراسي الثاني

المادة: دراسات اجتماعية

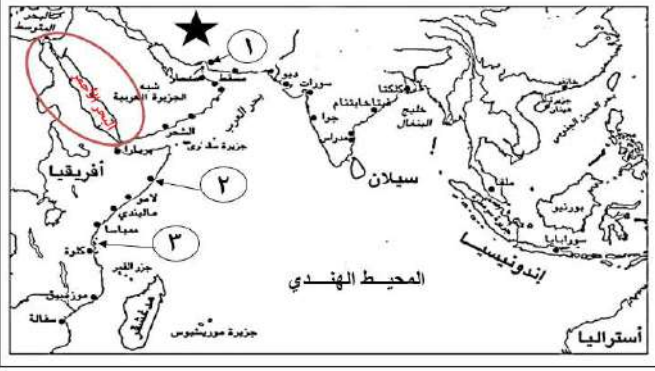
تابع ثانيا: إجابة الأسئلة المقالية:

إجابة السؤال الرابع					
المستوى المعرفي	الصفحة	الدرجة	الإجابة الصحيحة	المفردة	الجزئية
قدرات عليا	٤١	١ يكتفى بذكر عامل واحد	صلاحية الساحل العماني في كثير من المناطق لإقامة الموانئ . حركة الرياح الموسمية والتيارات البحرية	أ	١
	٥٣	١ لكل مفردة نصف درجة	ماليندي لأنه يعتبر من أجمل موانئ شرقي أفريقيا في العصور الحديثة، وأقرب لسلطنة عمان مقارنة بمباسا . ( ما يفيد المعنى)	ب	
فهم وتطبيق	٥١	١	بسبب كثرة ثروات المحيط الهندي وتنوعها.	أ	٢
	٧٤	١	بسبب توسعه في إدخال الحضارة الغربية من وجهة نظرهم.	ب	
قدرات عليا	٨	١	الانفجار السكاني	أ	٣
	٩٢	١ يكتفى بذكر انجاز واحد فقط	<ul style="list-style-type: none"> <li>إطلاق سفينة فضائية عام ٢٠٠٣ م.</li> <li>أصبحت البلد الثالث في هذا المجال بعد روسيا والولايات المتحدة.</li> </ul>	ب	

(٥)

تابع نموذج إجابة امتحان الصف التاسع (الفترة المسائية)  
للعام الدراسي ١٤٤٥ هـ - ٢٠٢٣/٢٠٢٤ م  
الدور الأول - الفصل الدراسي الثاني  
المادة: دراسات اجتماعية

تابع ثانيا: إجابة الأسئلة المقالية:

إجابة السؤال الخامس						
المستوى المعرفي	الصفحة	الدرجة	الإجابة الصحيحة	المفردة	الجزئية	
معرفة	٩	١	التربية السكانية	أ	١	
	٤٩	١	الفرقطة	ب		
فهم وتطبيق	٥١	١		أ	٢	
			كتابة البحر الأحمر في مكانه الصحيح			
		٥٣	١	٣		ب
		٥٥	١	١		ب
	٧٣	١	ملكي وراثي	د		

نهاية نموذج الإجابة



امتحان مادة: الدراسات الاجتماعية  
للسف: التاسع الأساسي  
للعام الدراسي: ١٤٤٥هـ - ٢٠٢٣ / ٢٠٢٤م  
الدور الثاني - الفصل الدراسي الثاني

- زمن الامتحان : ساعة ونصف
- الإجابة في الدفتر نفسه .
- عدد صفحات أسئلة الامتحان ( ٧ ) صفحات.

اسم الطالب	
الصف	المدرسة

السؤال	الدرجة		التوقيع بالاسم	
	بالأرقام	بالحروف	المصحح الأول	المصحح الثاني
١				
٢				
٣				
٤				
٥				
المجموع			جمعه	مراجعة الجمع
المجموع الكلي				

## أجب عن جميع الأسئلة الآتية

السؤال الأول: ضع دائرة حول رمز الإجابة الصحيحة لكل مفردة من المفردات الآتية :

١- الصورة التي تُشير إلى المَعْلَم المعماري الذي يوجد في دولة الصين :



( د )



( ج )



( ب )



( أ )

٢- اسم الشخصية العُمانية التي قادت السفينة (سلطانة) إلى ميناء نيويورك عام ١٨٤٠ م :

( أ ) أحمد الكعبي ( ب ) حسن الفارسي ( ج ) حمد البوسعيدي ( د ) سليمان البوسعيدي

٣- الجدول الصحيح الذي يُمثل أسباب انخفاض معدل الوفيات كأحد العوامل المؤدية للانفجار السكاني :

م	أسباب انخفاض معدل الوفيات
١	تقديم الخدمات الصحية
٢	توافر الغذاء السليم
٣	ارتفاع المستوى المعيشي

( ب )

م	أسباب انخفاض معدل الوفيات
١	ارتفاع المستوى المعيشي
٢	توافر الغذاء السليم
٣	الزواج المبكر

( أ )

م	أسباب انخفاض معدل الوفيات
١	انخفاض الوعي السكاني
٢	الزواج المبكر
٣	ارتفاع المستوى المعيشي

( د )

م	أسباب انخفاض معدل الوفيات
١	انخفاض المستوى التعليمي
٢	انخفاض مستوى الدخل
٣	توافر الخدمات الصحية

( ج )

٤- العام الميلادي الذي انتهى فيه دور ميناء هرمز كمملكة بحرية :

١٦٢٣ ( د )

١٦٢٢ ( ج )

١٦٢١ ( ب )

١٦٢٠ ( أ )

٥- العملة المتداولة في اليابان :

( د ) الروبية

( ج ) الريال

( ب ) يوان

( أ ) الين

## تابع- السؤال الأول :

(يعد الفينيقيين هم أقدم من اهتم بالملاحة البحرية أكثر من غيرهم حتى لقبوا بأبناء البحر وتنقلوا بين الدول لزيادة خبراتهم البحرية حيث أن أول دولة اخذوا منها الخبرات هي التي تقع في جنوب شرق شبه الجزيرة العربية، وانتقلوا إلى جزيرة قامت فيها حضارة دلمون، وبعدها رجعوا إلى دولتهم الأصلية ) .

٦- الرمز الصحيح الذي يُشير إلى الترتيب الصحيح لمناطق انتقال الخبرات البحرية الفينيقية حسب تسلسلها في النص السابق :

←			
أ )	عُمان	بلاد الشام	البحرين
ب )	عُمان	البحرين	بلاد الشام
ج )	البحرين	عُمان	بلاد الشام
د )	بلاد الشام	البحرين	عُمان

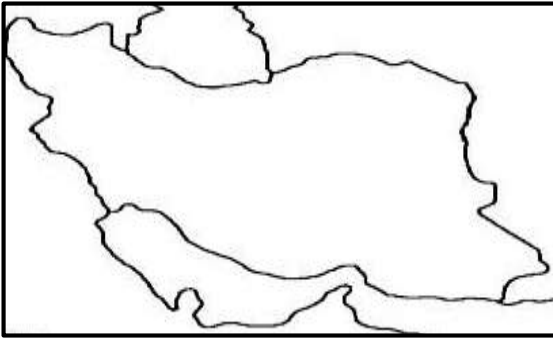
٧- تبلغ النسبة المئوية للمساحة التي تغطيها السهول في اليابان من المساحة الكلية للبلاد :

١٧ (د)

١٦ (ج)

١٥ (ب)

١٤ (أ)



٨- عاصمة الدولة التي توضحها الخريطة المقابلة :

ب) نيودلهي

أ) طوكيو

د) طهران

ج) بكين



٩- يبلغ حجم الباحثين عن عمل (بالنسمة) وفق المعطيات

الواردة في الشكل المقابل :

ب) ١,٦٠٠,٠٠٠

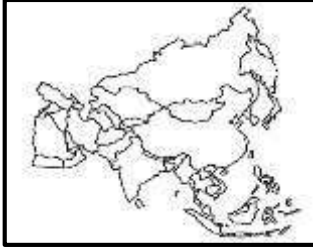
أ) ٤٠٠,٠٠٠

د) ٤,٤٠٠,٠٠٠

ج) ٢,٠٠٠,٠٠٠

## تابع - السؤال الأول:

١٠- القارة التي يتركز فيها ( ٢٠ % ) من الطلب العالمي الحالي على الوقود والغاز :



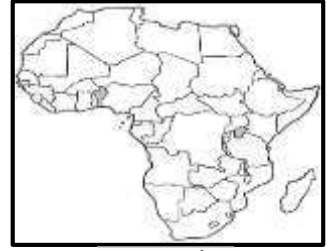
(د)



(ج)

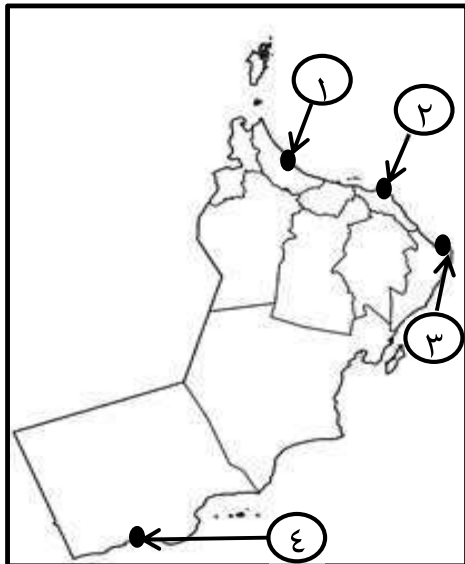
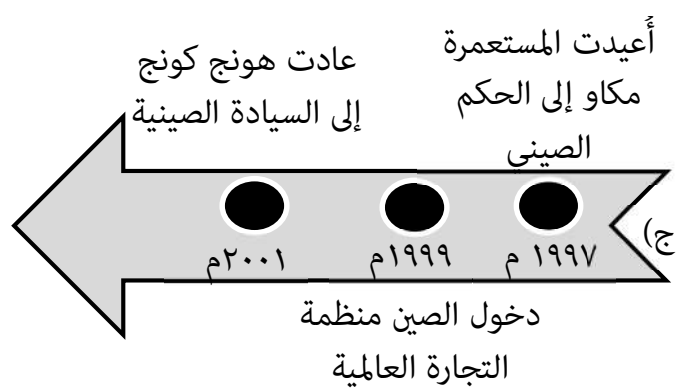
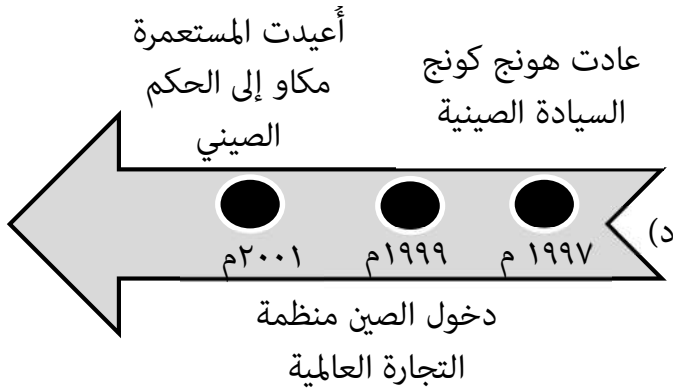
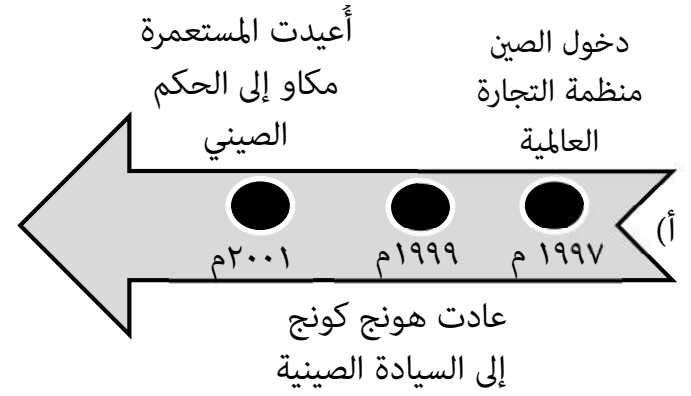
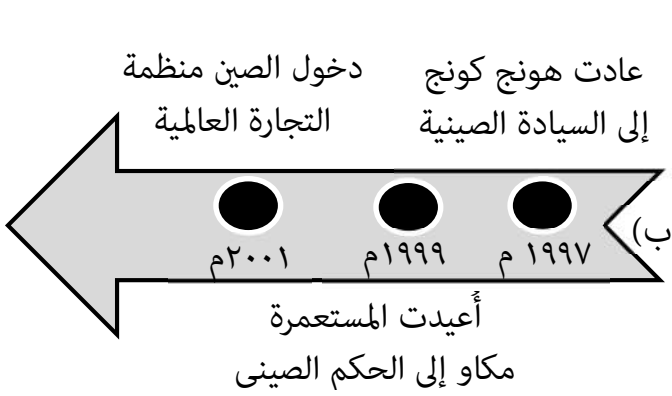


(ب)



(أ)

١١ - المسطرة الزمنية التي تُشير إلى التسلسل الصحيح للأحداث البارزة في تاريخ الصين المعاصر من الأقدم إلى الأحدث :



١٢- الرقم الذي يُشير إلى موقع الميناء العُماني الذي وصفه الرحالة الجغرافيون بأنه أعمر مكان في دار الإسلام في الخريطة المقابلة :

(أ) ١

(ب) ٢

(ج) ٣

(د) ٤

١٢

السؤال الثاني: أجب عن الأسئلة الآتية :

أولاً: اكتب المصطلح / المفهوم مقابل العبارتين في الجدول الآتي :

م	العبارة	المصطلح / المفهوم
١	طبقة المحاربين والإقطاعيين .	.....
٢	العلم الذي يهدف إلى التعريف بالسكان والظواهر السكانية من حيث أسبابها والعوامل والآثار المترتبة عليها .	.....

ثانياً :

أ- اذكر نتيجة واحدة ترتبت على كلا من :

١- حرص الدولة العُمانية على تأمين الملاحة العمانية وحمايتها من القرصنة .

.....

٢- صناعة الصين العربات ذات العجلات التي تجرها الخيول .

.....

ب- اقرأ النص الآتي ، ثم أجب عن السؤال الذي يليه :

( وضع دستور جديد لليابان عام ١٩٤٧م ، فقد فيه الإمبراطور كل السلطات العسكرية والسياسية وجُعل فقط رمزاً للدولة ، ونص الدستور على التعاون بين المواطن والدولة وأن يتولى مجلس الوزراء السلطات التنفيذية بالبلاد ) .

- اذكر اثنين من الحقوق التي نص عليها الدستور الجديد في اليابان لم يرد ذكرها في النص.

.....

.....

ثالثاً: ادرس الجدول الآتي ، ثم أجب عن الأسئلة التي تليه :

وضع الطرق	عدد المستشفيات	عدد المدارس	عدد السكان	
معبدة	٣	٢٠	٥٠٠٠٠	المدينة ( ك )
معبدة	٤	٢٢	١٠٠٠٠٠	المدينة ( ع )

أ- المدينة التي تقدم حياة أفضل لمواطنيها :  المدينة ( ك )  المدينة ( ع ) ( ظلل الإجابة )

ب- فسر إجابتك :

٨

.....

**السؤال الثالث : أجب عن الأسئلة الآتية :**

أولاً: عدد اثنين لكلا من :

أ- الصناعات التي ازدهرت في بلاد فارس قديماً .

.....  
.....

ب- الآثار الاقتصادية والاجتماعية للانفجار السكاني.

.....  
.....

ثانياً :

دولة يبلغ عدد سكانها حوالي (٢٠٠٠٠٠٠) نسمة وتبلغ قوة العمل ( القادرين على العمل ) بها حوالي (١٢٠٠٠٠٠) نسمة، إلا أن عدد العاملين فعلاً منهم حوالي (١٠٠٠٠٠٠)، حيث تم حساب حجم الباحثين عن عمل وبلغ حوالي (٢٠٠٠٠) نسمة ، أحسب نسبة الباحثين عن عمل.

القانون :

التطبيق :

النتائج :

ثالثاً :

أ- علل : قيام المظاهرات ضد الشاه محمد رضا بهلوي عام ١٩٧٨ م .

.....

ب- دلل: تطور الأسطول العماني في عهد السيد سعيد بن سلطان .

.....

**السؤال الرابع : أجب عن الأسئلة الآتية :**

أولاً :

ما رأيك : ( أن الدور الحيوي للملاحة العُمانية بدأ منذ العصور القديمة واستمر بكل نشاطه في العصور الإسلامية إلا أن هذا الدور للملاحة البحرية لم يتجدد في عهد النهضة المباركة ) ؟

أ-  أوافق  لا أوافق " ظلل الإجابة "

ب- أثبت إجابتك :

.....

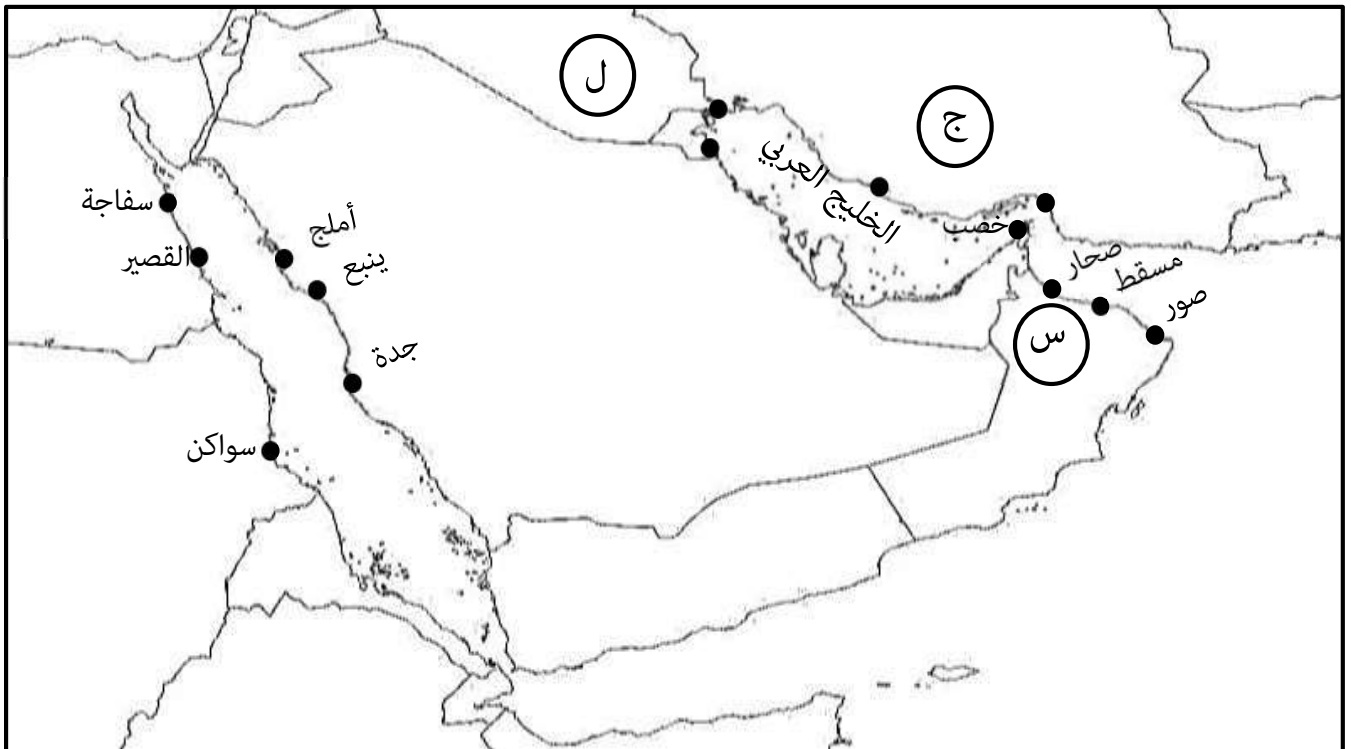
## تابع - السؤال الرابع

ثانياً :

(تعاني الصين نتيجة فيضان النهر الأصفر الكثير من الآثار التدميرية التي يحدثها فيضان النهر فكثيراً ما تضررت الأراضي الزراعية وتهدمت القرى والمدن ) .

في ضوء العبارة السابقة ، اقترح حلاً واحداً لدفع خطر فيضان النهر الأصفر في الصين .

ثالثاً: أدرس خريطة موانئ الخليج العربي والبحر الأحمر جيداً ، ثم أجب عن الأسئلة التي تليها :



أ- استخراج من الخريطة كلا من :

١- الرمز الذي يُشير إلى الدولة التي يوجد بها الميناء الذي ازدهر بصورة خاصة في العصر العباسي . (.....)

٢- ميناء يقع على الساحل المصري . (.....)

ب- ضع دائرة حول الميناء العُماني الذي كان محطة تجارية للتزود بالمياه وراحة المسافرين وتبادل السلع .

ج- وقع على الخريطة الموقع الصحيح للمسطح المائي ( البحر الأحمر ) .

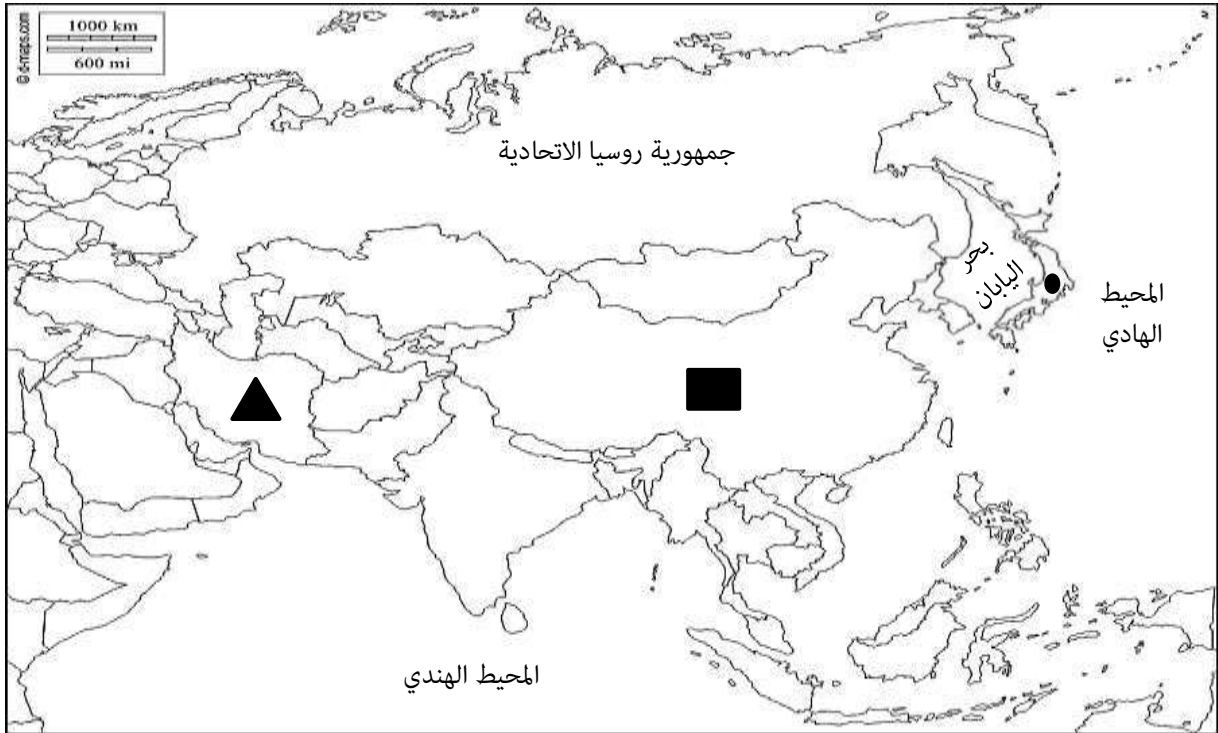
٦

**السؤال الخامس : أجب عن الأسئلة الآتية :**

أولاً: قارن بين ميناءي ظفار و ماليندي من حيث موقع الميناء و الأهمية .

م	اسم الميناء	موقع الميناء	الأهمية
١	ظفار	.....	.....
٢	ماليندي	.....	.....

ثانياً: ادرس خريطة آسيا السياسية جيداً ، ثم أجب عن الأسئلة التي تليها :



أ- استخراج من الخريطة كلا من :

١- الرمز الذي يُشير إلى الدولة التي يوجد بها نظام الحكم الجمهوري الإسلامي . ( ..... )

٢- المسطح المائي الذي تقع فيه اليابان . (.....)

ب- وقع على الخريطة الموقع الصحيح للدولة التي استوردت منها بلاد فارس التوابل والبهارات .

ج- ظلل الدولة التي قامت شركة النفط الصينية الوطنية باستثمارات ضخمة معها للحصول على امتيازات نفطية .

٦

انتهت الأسئلة، مع الدعاء للجميع بالتوفيق والنجاح



نموذج إجابة امتحان الصف التاسع / الأساسي  
للعام الدراسي ١٤٤٥ هـ - ٢٠٢٣/٢٠٢٤ م  
الدور الثاني- الفصل الدراسي : الثاني  
المادة : الدراسات الاجتماعية

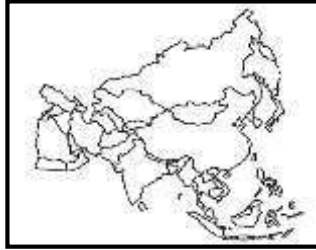

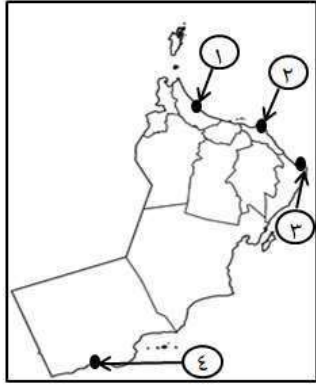
المادة: الدراسات الاجتماعية الدرجة الكلية: ( ٤٠ ) درجة.  
تنبيه: نموذج الإجابة في ( ٦ ) صفحات.

أولاً: إجابة السؤال الموضوعي:

إجابة السؤال الأول														
المستوى المعرفي	المخرج التعليمي	الصفحة	الدرجة	الإجابة	البديل الصحيح	المفردة								
فهم وتطبيق		٨٨	١		د	١								
معرفة		٤٨	١	أحمد الكعبي	أ	٢								
معرفة		١١	١	<table border="1"><tr><td>م</td><td>أسباب انخفاض معدل الوفيات</td></tr><tr><td>١</td><td>تقديم الخدمات الصحية</td></tr><tr><td>٢</td><td>توافر الغذاء السليم</td></tr><tr><td>٣</td><td>ارتفاع المستوى المعيشي</td></tr></table>	م	أسباب انخفاض معدل الوفيات	١	تقديم الخدمات الصحية	٢	توافر الغذاء السليم	٣	ارتفاع المستوى المعيشي	ب	٣
م	أسباب انخفاض معدل الوفيات													
١	تقديم الخدمات الصحية													
٢	توافر الغذاء السليم													
٣	ارتفاع المستوى المعيشي													
معرفة		٥٥	١	١٦٢٢	ج	٤								
معرفة		٩٥	١	الين	أ	٥								
قدرات عليا		٩٤	١	عُمان - البحرين - بلاد الشام	ب	٦								
معرفة		٩٦	١	١٦	ج	٧								

(٢)

تابع نموذج إجابة امتحان الصف التاسع الأساسي  
للعام الدراسي ١٤٤٥ هـ - ٢٠٢٣/٢٠٢٤ م  
الدور الثاني - الفصل الدراسي الثاني  
المادة : الدراسات الاجتماعية  
أولاً: تابع/ إجابة السؤال الموضوعي

تابع/ إجابة السؤال الأول						
المستوى المعرفي	المخرج التعليمي	الصفحة	الدرجة	الإجابة	البديل الصحيح	المفردة
فهم وتطبيق		٧٢	١	طهران	د	٨
فهم وتطبيق		١٦	١	٤٠٠,٠٠٠	أ	٩
فهم وتطبيق		١٨	١		د	١٠
معرفة		٩٢	١	<p>عادت هونغ كونج إلى السيادة الصينية</p> <p>دخول الصين منظمة التجارة العالمية</p> <p>أعيدت المستعمرة</p> <p>مكاو إلى الحكم الصيني</p> <p>١٩٩٧ م ١٩٩٩ م ٢٠٠١ م</p> <p>(ب)</p> 	ب	١١
فهم وتطبيق		٥٢	١		أ	١٢
		١٢ درجة		المجموع		

( ٣ )

تابع نموذج إجابة امتحان الصف التاسع الأساسي  
للعام الدراسي ١٤٤٥ هـ - ٢٠٢٣/٢٠٢٤ م  
الدور الثاني - الفصل الدراسي الثاني  
المادة : الدراسات الاجتماعية  
ثانيا: إجابة الأسئلة المقالية

ثانيا: إجابة الأسئلة المقالية

الدرجة الكلية: ( ٨ ) درجة				إجابة السؤال الثاني		
المستوى المعرفي	المخرج التعليمي	الصفحة	الدرجة	الإجابة الصحيحة	المفردة	الجزئية
معرفة		٩٧	١	الساموراي	١	أولا
معرفة		٩	١	التربية السكانية	٢	
معرفة		٤٣	١	- زيادة ثقة المتعاملين والتجار من مختلف الدول - سهل رحلاتهم الملاحية . - زيادة موارد الدولة من هذا القطاع المهم. <u>يكتفى بذكر نتيجة واحدة فقط</u>	١	ثانيا ( أ )
معرفة		٨٩	١	اتصال الصين بالعالم الخارجي	٢	
قدرات عليا		٩٨	٢	١- حق الانتخاب العام ٢- حقوق الإنسان .		ثانيا ( ب )
قدرات عليا		١٧	١	المدينة ( ك )	أ	ثالثا
		١٧	١	بسبب تناسب السكان مع الخدمات المقدمة	ب	

(٤)

تابع نموذج إجابة امتحان الصف التاسع الأساسي  
للعام الدراسي ١٤٤٥ هـ - ٢٠٢٣/٢٠٢٤ م  
الدور الثاني - الفصل الدراسي الثاني  
المادة : الدراسات الاجتماعية  
تابع ثانيا: إجابة الأسئلة المقالية

إجابة السؤال الثالث					الدرجة الكلية: ( ٨ ) درجة	
الجزئية	المفردة	الإجابة الصحيحة	الدرجة	الصفحة	المخرج التعليمي	المستوى المعرفي
أولا	أ	- صناعة الاسلحة - صناعة الاقمشة الحريرية والصوفية - صناعة السجاد - صناعة المعادن - صناعة السفن - صناعة الأواني الفخارية . <u>يكتفى بذكر اثنين فقط</u>	٢ درجة لكل جزئية درجة	٧٣		معرفة
	ب	نقص الغذاء وسوء التغذية - انخفاض المستوى المعيشي - قلة فرص العمل -الضغط على الخدمات - الضغط على مصادر الطاقة . <u>يكتفى بذكر اثنين فقط</u>	٢ درجة لكل جزئية درجة	١٧ - ١٣		معرفة
ثانيا		القانون : نسبة الباحثين عن العمل = <u>حجم الباحثين عن العمل × ١٠٠</u> إجمالي قوة العمل  التطبيق : ٢٠٠٠٠ × ١٠٠ ١٢٠٠٠٠٠ الناتج : ١,٦٦ %	٢ درجة القانون: درجة التطبيق: نصف الناتج: نصف	١٦		فهم وتطبيق
ثالثا	( أ )	بسبب توسعه في إدخال الحضارة الغربية من وجهة نظرهم	١	٧٤		فهم وتطبيق
	ب	- احتل المرتبة الثانية بعد الاسطول البريطاني في منطقة المحيط الهندي. - له قواعد رئيسية في الساحل العماني والساحل الشرقي للخليج العربي والساحل الافريقي. <u>يكتفى بذكر دليل واحد فقط</u>	١	٤٨		فهم وتطبيق

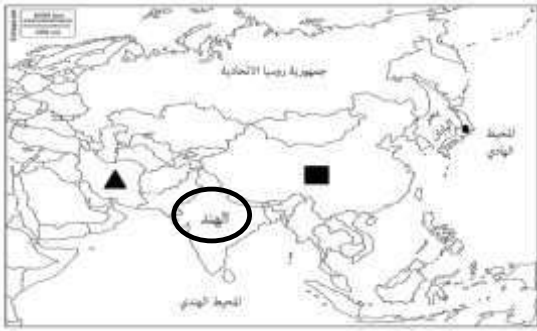
(٥)

تابع نموذج إجابة امتحان الصف التاسع الأساسي  
للعام الدراسي ١٤٤٥ هـ - ٢٠٢٣/٢٠٢٤ م  
الدور الثاني - الفصل الدراسي الثاني  
المادة : الدراسات الاجتماعية  
تابع ثانيا: إجابة الأسئلة المقالية

الدرجة الكلية: ( ٦ ) درجة				إجابة السؤال الرابع		
المستوى المعرفي	المخرج التعليمي	الصفحة	الدرجة	الإجابة الصحيحة	المفردة	الجزئية
قدرات عليا		٤٠	١	لا أوافق	أ	أولا
		٤٠	١	اصبحت الملاحة العمانية تمتلك شتى أنواع السفن التجارية والمتخصصة منها للدفاع عن شواطئ عُمان .	ب	
قدرات عليا		٨٦	١	- تعاون الناس فيما بينهم للحد من الفيضان . - بناء السدود للحد من خطر الفيضان. ( كل ما يراه المعلم مناسب من اقتراحات الطلبة )		ثانيا
فهم وتطبيق		٥٥	نصف درجة	ل	١ / أ	ثالثا
فهم وتطبيق		٥٥	نصف درجة	سفاجة - القصير يكتفى بذكر ميناء واحد فقط	٢ / أ	
فهم وتطبيق		٥٢	١	يضع دائرة حول ( مسقط )	ب	
فهم وتطبيق		٥٦	١	 <p>يكتب موقع البحر الأحمر في مكانه الصحيح كما هو موضح في الخريطة.</p>	ج	

(٦)

تابع نموذج إجابة امتحان الصف التاسع الأساسي  
للعام الدراسي ١٤٤٥ هـ - ٢٠٢٣/٢٠٢٤ م  
الدور الثاني- الفصل الدراسي الثاني  
المادة : الدراسات الاجتماعية  
تابع ثانيا: إجابة الأسئلة المقالية

الدرجة الكلية: ( ٦ ) درجة				إجابة السؤال الخامس														
المستوى المعرفي	المخرج التعليمي	الصفحة	الدرجة	الإجابة الصحيحة	المفردة	الجزئية												
معرفة		٥٣ و ٥١	٢ درجة لكل جزئية نصف درجة	<table border="1"> <thead> <tr> <th>م</th> <th>اسم الميناء</th> <th>موقع الميناء</th> <th>الأهمية</th> </tr> </thead> <tbody> <tr> <td>١</td> <td>ظفار</td> <td>الساحل العماني</td> <td>-ارتبطت بتجارة الذهب واللبان والبخور -ارتبطت به كافة الطرق الملاحية البرية (داخل شبة الجزيرة) والبحرية ( المحيط الهندي) - أصبح قبه التجار . ( يكتفى بذكر أهمية واحدة فقط )</td> </tr> <tr> <td>٢</td> <td>ماليندي</td> <td>ساحل الإفريقي الشرقي</td> <td>اشتهر بتجارة اللسوجات والذهب والتاج اجعل نوانى شرق إفريقيا في العصور الحديثة ( يكتفى بذكر أهمية واحدة فقط )</td> </tr> </tbody> </table>	م	اسم الميناء	موقع الميناء	الأهمية	١	ظفار	الساحل العماني	-ارتبطت بتجارة الذهب واللبان والبخور -ارتبطت به كافة الطرق الملاحية البرية (داخل شبة الجزيرة) والبحرية ( المحيط الهندي) - أصبح قبه التجار . ( يكتفى بذكر أهمية واحدة فقط )	٢	ماليندي	ساحل الإفريقي الشرقي	اشتهر بتجارة اللسوجات والذهب والتاج اجعل نوانى شرق إفريقيا في العصور الحديثة ( يكتفى بذكر أهمية واحدة فقط )		أولا
م	اسم الميناء	موقع الميناء	الأهمية															
١	ظفار	الساحل العماني	-ارتبطت بتجارة الذهب واللبان والبخور -ارتبطت به كافة الطرق الملاحية البرية (داخل شبة الجزيرة) والبحرية ( المحيط الهندي) - أصبح قبه التجار . ( يكتفى بذكر أهمية واحدة فقط )															
٢	ماليندي	ساحل الإفريقي الشرقي	اشتهر بتجارة اللسوجات والذهب والتاج اجعل نوانى شرق إفريقيا في العصور الحديثة ( يكتفى بذكر أهمية واحدة فقط )															
فهم وتطبيق		٨٦	١	▲	( أ ) ( ١ )													
فهم وتطبيق		٨٦	١	المحيط الهادي	( أ ) ( ٢ )													
فهم وتطبيق		٨٦	١	 <p>يكتب (الهند) في مكانها الصحيح على الخريطة</p>	ب	ثانيا												
فهم وتطبيق		٨٦	١	يظلل الطالب ( سلطنة عُمان )	ج													

نهاية نموذج الإجابة