

شكراً لتحميلك هذا الملف من موقع المناهج العمانية



سؤال قصير ثاني

[موقع المناهج](#) ← [المناهج العمانية](#) ← [الصف التاسع](#) ← [الدوام](#) ← [الفصل الأول](#) ← [الملف](#)

تاريخ نشر الملف على موقع المناهج: 17:34:23 2023-11-10

التواصل الاجتماعي بحسب الصف التاسع



روابط مواد الصف التاسع على تلغرام

[الرياضيات](#)

[اللغة الانجليزية](#)

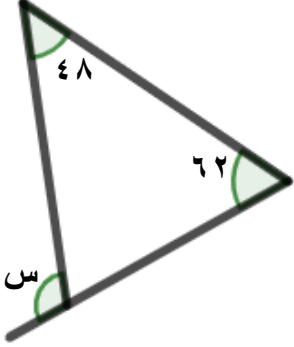
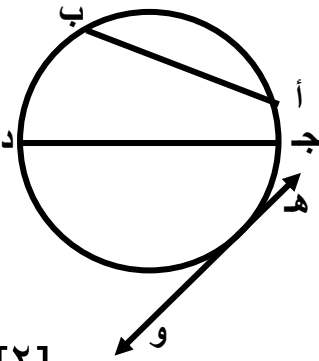
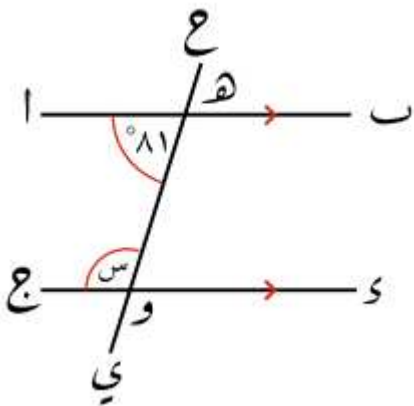
[اللغة العربية](#)

[التربية الاسلامية](#)

المزيد من الملفات بحسب الصف التاسع والمادة الدوام في الفصل الأول

السؤال القصير (٢) للصف التاسع في مادة الرياضيات

الاسم: الصف: ٩ / الدرجة: / ٥

المفردة	السؤال	الدرجة
١	حوظ قيمة س في الشكل المقابل : 	[١]
٢	تأمل الشكل المقابل ثم صل ما في العمود الأول بما يناسبه في العمود الثاني: 	[٢]
٣	أوجد مجموع الزوايا الداخلية لمضلع عدد أضلاعه يساوي ٩	[١]
٤	أوجد قياس الزاوية المشار إليها بالحرف (س). برر إجابتك. 	[١]