

تم تحميل هذا الملف من موقع المناهج العُمانية



*للحصول على أوراق عمل لجميع الصفوف وجميع المواد اضغط هنا

<https://almanahj.com/om>

* للحصول على أوراق عمل لجميع مواد الصف التاسع اضغط هنا

<https://almanahj.com/om/9>

* للحصول على جميع أوراق الصف التاسع في مادة اجتماعيات ولجميع الفصول, اضغط هنا

<https://almanahj.com/om/9social>

* للحصول على أوراق عمل لجميع مواد الصف التاسع في مادة اجتماعيات الخاصة بـ الفصل الأول اضغط هنا

<https://almanahj.com/om/9social1>

* لتحميل كتب جميع المواد في جميع الفصول للـ الصف التاسع اضغط هنا

<https://almanahj.com/om/grade9>

للتحدث إلى بوت على تلغرام: اضغط هنا

https://t.me/omcourse_bot



**اختبار نهاية الفصل الدراسي الأول- الدور الثاني للصفوف من (٥-٩)
للعام الدراسي ١٤٣٦ / ١٤٣٧ هـ - ٢٠١٥ / ٢٠١٦ م**

• المادة: الدراسات الاجتماعية الصف التاسع • عدد صفحات أسئلة الاختبار: (٦).

• زمن الإجابة: ساعة ونصف • الإجابة في الورقة نفسها.

		اسم الطالب
	الصف	المدرسة

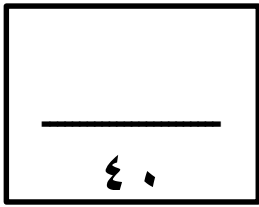
درجة السؤال		السؤال
عشرات	آحاد	
		١
		٢
		٣
		٤
		المجموع
	٤٠	المجموع الكلي

التوقيع /

اسم المصحح /

التوقيع /

اسم المراجع /



الإجابة في الورقة نفسها

المديرية العامة للتربية والتعليم لمحافظة شمال الباطنة

الامتحان النهائي للصف التاسع للفصل الدراسي الأول/الدور الثاني للعام الدراسي ٢٠١٥-٢٠١٦ م

المادة: الدراسات الاجتماعية	الزمن:
الدرجة الكلية: (٤٠) درجة	تنبيه: الأسئلة في (٦) صفحات
اسم الطالب/ة:	الشعبة:

أجب عن جميع الأسئلة الآتية

السؤال الأول: ضع دائرة حول رمز الإجابة الصحيحة من بين البدائل المعطاة.

١- الدولة التي احتلت المرتبة الثانية عالميا من حيث عدد السكان عام ٢٠٠٥ م:
 أ- الصين ب- أمريكا ج- الهند د- اندونيسيا

٢- تعتبر سلطنة عمان نموذجا متقدما للانتقال السكاني من حيث:

- أ- ارتفاع معدلات المواليد والوفيات
 ب- ارتفاع معدلات المواليد وانخفاض معدلات الوفيات
 ج- انخفاض معدلات المواليد والوفيات
 د- انخفاض سريع في معدلات المواليد والوفيات

٣- المدينة التي يوجد بها مقر المنظمة الاسلامية للتربية والعلوم والثقافة (إيسيسكو):

- أ- الرباط ب- الخرطوم ج- تونس د- القاهرة

٤- يصنف المجتمع بأنه فتي إذا زادت فيه نسبة صغار السن من مجمل السكان لنحو:

- أ- ٢٠% ب- ٣٠% ج- ٤٠% د- ٥٠%

٥- انضمت سلطنة عمان إلى منظمة الأمم المتحدة في العام الميلادي:

- أ- ١٩٧١ ب- ١٩٧٢ ج- ١٩٧٣ د- ١٩٧٤

تابع/ السؤال الأول: أجب عن الأسئلة التالية

٦- تقع جزيرة بمبا بالنسبة لجزيرة زنجبار حسب الخريطة التي أمامك في جهة:



- أ- الشمال
- ب- الجنوب
- ج- الشرق
- د- الغرب

٧- ازدادت أهمية الطريق الأوسط الذي يبدأ من الموانئ المواجهة لزنجبار في القرن ١٩م بسبب ارتفاع

اسعار:

- أ- الذهب
- ب- العاج
- ج- القرنفل
- د - الجلود

٨- الإمام العماني الذي طلب منه سكان شرق أفريقيا تحرير مناطقهم من الإحتلال البرتغالي:

- أ- سيف بن سلطان الأول
- ب- سيف بن سلطان الثاني
- ج- سلطان بن سيف الثاني
- د- سلطان بن سيف الأول

	١٦

السؤال الثاني: أجب عن الأسئلة التالية.

(أ) عدد اثنين مما يلي:

١- مميزات نظام الحكم والإدارة العمانية لشرق أفريقيا في عهد سلاطين البوسعيد.

.....

.....

٢- المؤثرات الثقافية العربية الاسلامية في مجال التربية والتعليم في شرق أفريقيا.

.....

.....

(٣)

المادة: الدراسات الاجتماعية الصف: التاسع الفصل الدراسي: الأول - الدور: الثاني العام الدراسي: ٢٠١٥-٢٠١٦ م

تابع السؤال الثاني: أجب عن الاسئلة التالية.

(ب) اعط نتيجة واحدة لكل مما يلي:

١- ظهور الصحافة في شرق افريقيا.

١- امتزاج الدم العربي بالدم الأفريقي.

(ج) صنف مصادر البيانات السكانية التالية حسب الجدول التالي:

(التعداد - سجلات المدارس - الأحوال المدنية - سجلات المؤسسات الحكومية)

مصادر أساسية	مصادر ثانوية

(٤)

المادة: الدراسات الاجتماعية الصف: التاسع الفصل الدراسي: الأول - الدور: الثاني العام الدراسي: ٢٠١٥-٢٠١٦ م

السؤال الثالث: أجب عن الأسئلة التالية.

١- ما المقصود بكل من:

أ- بنية السكان:

.....

ب- النمو السكاني:

.....

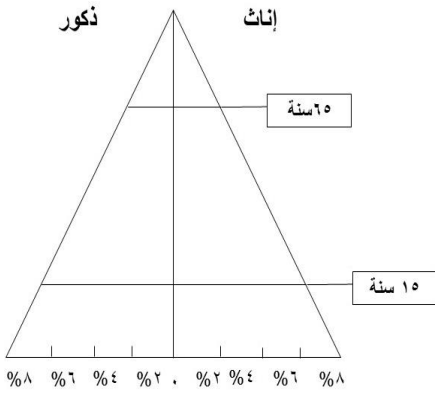
.....

٢- كيف يتم قياس نسبة النوع.

.....

.....

ب- أمامك شكل يمثل نوع من أنواع الأهرام السكانية ادرسه جيدا ثم أجب عن الأسئلة التالية:



١- ما نوع الهرم السكاني الذي أمامك.

.....

٢- ظلل على الهرم السكاني الفئة المنتجة في المجتمع.

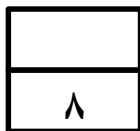
٣- قدم وصفا واحدا للهرم السكاني الذي أمامك.

.....

ج) دلل بمثالين على دول العالم الإسلامي التي قدمت لها السلطنة مساعدات إنسانية.

.....

.....



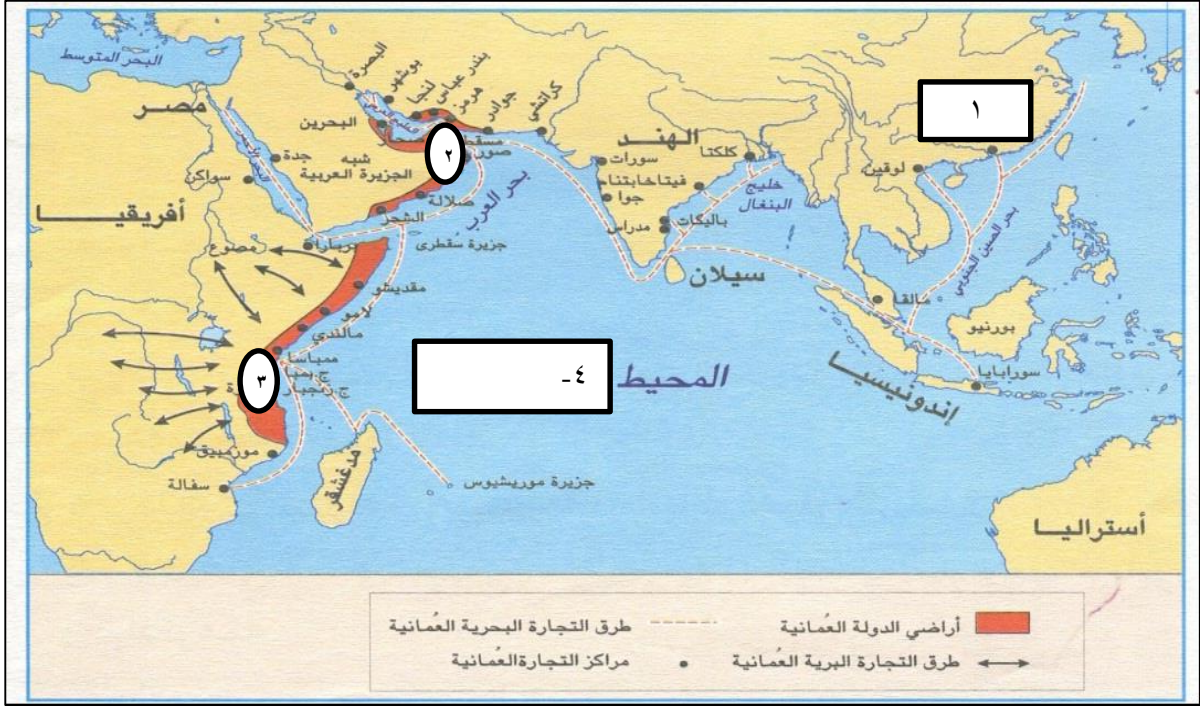
يتبع / ٥

(٥)

المادة: الدراسات الاجتماعية الصف: التاسع الفصل الدراسي: الأول – الدور: الثاني العام الدراسي ٢٠١٥-٢٠١٦ م

السؤال الرابع: أجب عن الأسئلة التالية.

أ- أمامك خريطة الطرق التجارية العمانية في عهد السيد سعيد بن سلطان. ادرسها جيدا ثم أجب عن الأسئلة التالية:



- ١- سم الدولة المشار إليها بالرقم (١)
- ٢- اكتب على الخريطة اسم المسطح المائي المشار إليه بالرقم (٤).
- ٣- عدد اثنين من السلع التي كانت تصدرها المنطقة المشار إليها بالرقم (٣) الى المنطقة المشار إليها بالرقم (٢). (.....) (.....)

ب) فسر ما يلي:

- ١- انتهاء السلطنة منذ مسيرة النهضة العمانية المباركة استراتيجية السلام والتعاون الدوليين.

- ٢- ارتفاع أمد الحياة في سلطنة عمان في الوقت الحالي.

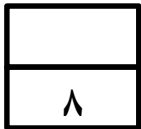
(٦)

المادة: الدراسات الاجتماعية الصف: التاسع الفصل الدراسي: الأول – الدور: الثاني العام الدراسي ٢٠١٥-٢٠١٦م

تابع: السؤال الرابع: أجب عن الأسئلة التالية.

ج) حدد الوزارات التي تمثل سلطنة عمان لدى المجالس واللجان التابعة لمنظمة الأمم المتحدة حسب الجدول التالي:

الوزارة التي تمثله في السلطنة	أسم المجلس / اللجنة
.....	لجنة التراث العالمي.
.....	المجلس الدولي الحكومي لبرنامج إدارة التحولات الاجتماعية (موست).
.....	المجلس الدولي الحكومي للبرنامج الدولي لتنمية الاتصال (بدتا).



انتهت الأسئلة ، مع الامنيات لكم بالنجاح والتفوق،،،



عدد أوراق الإجابة (٤)

المديرية العامة للتربية والتعليم لمحافظة شمال الباطنة
[نموذج إجابة امتحان الصف التاسع الاساسي لمادة الدراسات الاجتماعية]
العام الدراسي ٢٠١٥ / ٢٠١٦ م - الفصل الدراسي الأول / الدور الثاني

الدرجة الكلية ٤٠ درجة

إجابة السؤال الأول: ١٦ درجة $١٦ = ٢ \times ٨$ (/) تعني إجابة أخرى

رقم المفردة	١	٢	٣	٤	٥	٦	٧	٨
رمز الإجابة	ج	ب	أ	د	أ	أ	ب	د
الإجابة	الهند	ارتفاع معدلات المواليد وانخفاض معدلات الوفيات.	الرباط	٥٠%	١٩٧١	الشمال	العاج	سلطان بن سيف الأول
الوحدة	الأولى	الأولى	الثالثة	الأولى	الثالثة	الثانية	الثانية	الثانية
الصفحة	٣١	٢٥	٧٥	٢٣	٨٢	٤٩	٥٢	٤١
الدرجة	٢	٢	٢	٢	٢	٢	٢	٢

إجابة السؤال الثاني: ٨ درجات

الوحدة	الصفحة	الدرجة	الإجابة	الجزئية
الثانية	٤٧	درجة لكل نصف	(١) - العدالة في إدارة البلاد واختيارهم أكفأ العناصر في الجهاز الإداري. - الاستعانة بعدد كبير من المستشارين والعلماء - مظاهر الشورى التي تجلت فيما عرف بالمجالس السلطانية. - القيم الحضارية التي سادت شرق أفريقيا بفضل هجرات كثير من العلماء والفقهاء. (يكتفي باثنين فقط)	أ
الثانية	٥٥	درجة لكل نصف	(٢) - ازالت الأمية بين المجموعات الافريقية المختلفة. - مهدت الطريق لارتباط هذه المجموعات بالعالم العربي الإسلامي. - أصبحت المجموعات الافريقية المسلمة تعبر عن رغبتها في الانتماء والارتباط بالعنصر العربي. (يكتفي باثنين فقط)	

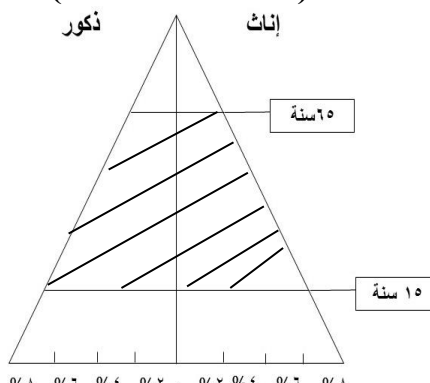
تابع إجابة السؤال الثاني:

الوحدة	الصفحة	الدرجة	الإجابة	الجزئية				
الثانية	٥٦	١	(١) قامت هذه الصحف بدور ملحوظ في النهضة الأدبية والعلمية / توعية المسلمين بأمور دينهم وديانهم. (يكتفى بواحد فقط)	ب				
الثانية	٥٥	١	(٢) نشأت ثقافة عربية أفريقية/ انتشرت اللغة العربية بين قطاعات مختلفة من السكان/ أصبحت اللغة العربية لغة الصفوة المستنيرة والمتعلمة/ أصبحت اللغة العربية لغة التجارة والإدارة والحكم والأدب. (يكتفى بواحد فقط)	ب				
الأولى	١١	٤ لكل درجة	<table border="1"> <thead> <tr> <th>مصادر أساسية</th> <th>مصادر ثانوية</th> </tr> </thead> <tbody> <tr> <td>- التعداد. - الأحوال المدنية.</td> <td>- سجلات المدارس - سجلات المؤسسات الحكومية</td> </tr> </tbody> </table>	مصادر أساسية	مصادر ثانوية	- التعداد. - الأحوال المدنية.	- سجلات المدارس - سجلات المؤسسات الحكومية	ج
مصادر أساسية	مصادر ثانوية							
- التعداد. - الأحوال المدنية.	- سجلات المدارس - سجلات المؤسسات الحكومية							

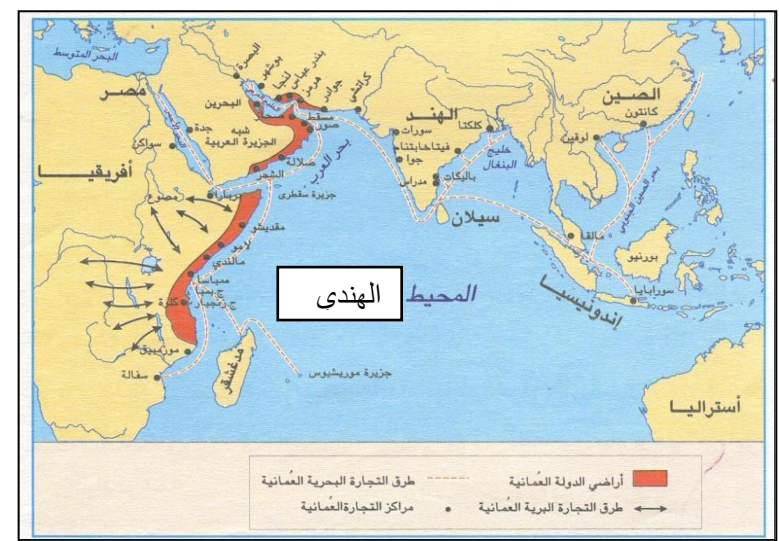
إجابة السؤال الثالث : ٨ درجات

الوحدة	الصفحة	الدرجة	الإجابة	الجزئية
الأولى	١٥	١	(١) أ- بنية السكان : دراسة السكان من حيث التركيب العمري والنوعي والاقتصادي والاجتماعي.	أ
الأولى	٢٧	١	ب-النمو السكاني: زيادة أعداد السكان من سنة لأخرى نتيجة زيادة عدد المواليد وانخفاض عدد الوفيات والهجرة.	
الأولى	١٦	١	(٢) - تقاس نسبة النوع من خلال نسبة عدد الذكور إلى عدد الإناث في المجتمع/ عدد الذكور - نسبة النوع = ————— × ١٠٠ عدد الإناث (يكتفى بواحد فقط)	

تابع: إجابة السؤال الثالث : ٨ درجات

الوحدة	الصفحة	الدرجة	الإجابة	الجزئية
الأولى	٢٣	١	١- الهرم ذو القاعدة العريضة.	ب
الأولى	٢٠	١	٢* تظليل الجزء بين (١٥ سنة و ٦٥ سنة) 	
الأولى	٢٣	١	٣- يمثل المجتمع الفتى/ تزيد فيه نسبة صغار السن بنحو ٥٠% من مجمل السكان. (يكتفى بواحد فقط)	
الثالثة	٧٦	٢	دولة فلسطين / البوسنة / كوسوفو / أفغانستان / شرق أفريقيا / ايران / تركيا / جنوب شرق اسيا. (يكتفى بواحد فقط)	ج

إجابة السؤال الرابع : ٨ درجات

الوحدة	الصفحة	الدرجة	الإجابة	الجزئية
الثانية	٤٤	١	١- الصين	أ
الثانية	٤٤	١	٢ 	
الثانية	٥٤-٥٣	١	٣) معدن الذهب/ العاج / الجلود / معدن الحديد/ مواد عطرية/ الأخشاب الثمينة. (يكتفى باثنين فقط)	

تابع: إجابة السؤال الرابع : ٨ درجات

الوحدة	الصفحة	الدرجة	الإجابة	الجزئية								
الثالثة	٨٧	١	١) لأن السلام هو جوهر الممارسة السياسية لجلالة السلطان قابوس المعظم / وكونه جزءاً لا يتجزأ من السياسة العمانية على المستويات المختلفة دون تفريط أو إفراط. (يكتفى بواحد فقط)	ب								
الأولى	٢١	١	٢) بسبب توفر الرعاية الصحية / مكافحة الأوبئة والأمراض / وجود الوعي الصحي بين الناس. (يكتفى بواحد فقط)									
الثالثة	٨٣	٣ لكل درجة	<table border="1"> <thead> <tr> <th>الوزارة التي تمثله في السلطنة</th> <th>اسم المجلس / اللجنة</th> </tr> </thead> <tbody> <tr> <td>وزارة التراث والثقافة</td> <td>لجنة التراث العالمي.</td> </tr> <tr> <td>وزارة التنمية الاجتماعية</td> <td>المجلس الدولي الحكومي لبرنامج إدارة التحولات الاجتماعية (موست).</td> </tr> <tr> <td>وزارة الاعلام</td> <td>المجلس الدولي الحكومي للبرنامج الدولي لتنمية الاتصال (بدتا).</td> </tr> </tbody> </table>	الوزارة التي تمثله في السلطنة	اسم المجلس / اللجنة	وزارة التراث والثقافة	لجنة التراث العالمي.	وزارة التنمية الاجتماعية	المجلس الدولي الحكومي لبرنامج إدارة التحولات الاجتماعية (موست).	وزارة الاعلام	المجلس الدولي الحكومي للبرنامج الدولي لتنمية الاتصال (بدتا).	ج
الوزارة التي تمثله في السلطنة	اسم المجلس / اللجنة											
وزارة التراث والثقافة	لجنة التراث العالمي.											
وزارة التنمية الاجتماعية	المجلس الدولي الحكومي لبرنامج إدارة التحولات الاجتماعية (موست).											
وزارة الاعلام	المجلس الدولي الحكومي للبرنامج الدولي لتنمية الاتصال (بدتا).											

*** انتهى نموذج الإجابة ***