

شكراً لتحميلك هذا الملف من موقع المناهج العمانية



اختبار نهائي رسمي في محافظة شمال الباطنة

[موقع المناهج](#) ← [المناهج العمانية](#) ← [الصف التاسع](#) ← [اجتماعيات](#) ← [الفصل الأول](#) ← [الملف](#)

تاريخ نشر الملف على موقع المناهج: 08:12:44 2023-12-31

التواصل الاجتماعي بحسب الصف التاسع



روابط مواد الصف التاسع على تلغرام

[الرياضيات](#)

[اللغة الانجليزية](#)

[اللغة العربية](#)

[التربية الاسلامية](#)

المزيد من الملفات بحسب الصف التاسع والمادة اجتماعيات في الفصل الأول

[الامتحان النهائي الدور الأول الفترة الصباحية لمحافظة مسقط](#)

1

[مواصفات الورقة الامتحانية](#)

2

[اختبار قصير ثاني](#)

3

[أنشطة فردية في الوحدة الثانية](#)

4

[أسئلة موضوعية على الوحدة الثانية التواجد العماني في شرق إفريقيا](#)

5

السؤال الثاني: أجب عن الأسئلة الآتية :

أولاً : اكتب أمام كل عبارة من العبارات التالية اسم المصطلح / المفهوم الدال عليه :

المصطلح / المفهوم	العبارة	م
.....	الدول التي ترتبط فيما بينها بالموقع والقرب المكاني والامتداد الجغرافي حيث تتقاسم الموقع الفلكي والحدود السياسية .	١
.....	زيادة عدد السكان من سنة لأخرى نتيجة زيادة عدد المواليد وانخفاض عدد الوفيات والهجرة .	٣

ب- اذكر مثالاً واحداً لكل مما يأتي :

١- الصحف التي ظهرت في شرقي افريقيا زمن الحكم العماني لها .

٢- الوثائق الرسمية التي تسجل في سجل الأحوال المدنية .

٣- المساعدات الإنسانية التي قدمتها سلطنة عمان للشعب الفلسطيني .

ثانياً: قارن بين التعداد السكاني والمسوحات بالعينة من خلال الجدول الآتي :

المسوحات بالعينة	التعداد السكاني	وجه المقارنة
.....	دقة البيانات
.....	النفقات

ثالثاً: صف التركيب السكاني في جزيرة زنجبار زمن الوجود العماني بها .

السؤال الثالث : أجب عن الأسئلة الآتية :

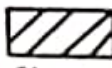
أولاً: اقرأ النص التالي ثم أجب عن الأسئلة التي تليه :

بعد انتهاء الحرب العالمية الثانية اجتمعت وفود خمسين دولة في مدينة سان فرانسيسكو لتأسيس منظمة جديدة تحل محل عصبة الأمم .

١- نوع منظمة الأمم المتحدة :

○ إقليمية ○ دولية (ظلل الإجابة الصحيحة)

٢- عطل : تأسيس منظمة جديدة تحل محل عصبة الأمم .

٣- ظلل باستخدام الرمز  الدولة التي اجتمعت فيها وفود (خمسين) دولة في الخريطة المقابلة.



لأنه صنف اختصاصات المنظمات التابعة للأمم المتحدة بوضع علامة (√) في المكان المناسب في الجدول الآتي

م	الاختصاصات	اسم المنظمات		
		اليونسكو	الصحة	الفاو
١	مراقبة تفشي الأمراض السارية كالجدري والطاعون.			
٢	تنشيط التربية ونشر الثقافة العالمية .			
٣	زيادة مصادر الإنتاج لمسايرة زيادة الاستهلاك.			

ثالثاً:

احسب معدل المواليد الخام في سلطنة عمان للعام ٢٠٢٢ م، حيث بلغ عدد المواليد الأحياء حوالي (٦٩٦٥٣)، بينما كان إجمالي عدد السكان حوالي (٤,٩٢٣,٨٥٠) نسمة.

القانون :

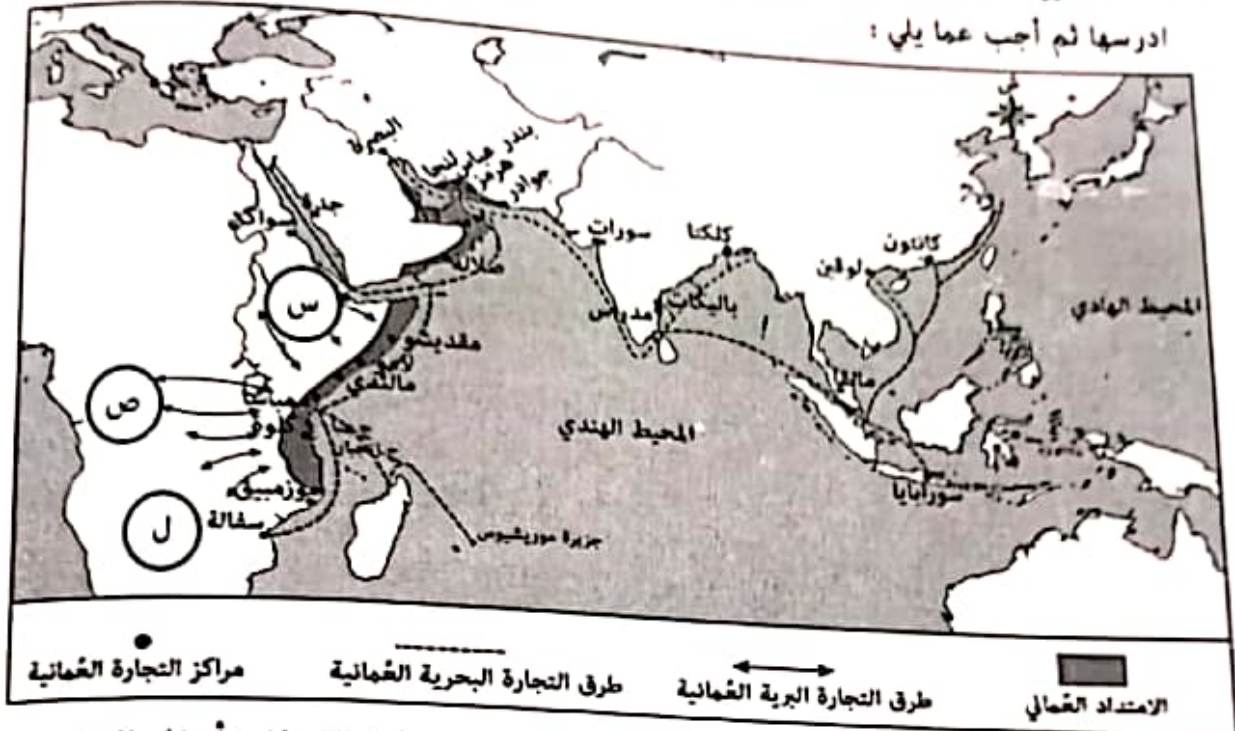
التطبيق:

الناتج :

السؤال الرابع :

٦ درجات

١- أمامك خريطة الطرق والمراكز التجارية العمانية في عهد السيد سعيد بن سلطان ادرسها ثم أجب عما يلي :



- ضع دائرة حول الجزيرة التي استورد منها السيد سعيد بن سلطان القرنفل وأدخله إلى زنجبار .
- استخرج أحد أهم مراكز إنتاج الأخشاب في شرقي أفريقيا .
- فسر : كان الطريق التجاري المشار له بالرمز (س) محفوقا بالمخاطر .

٢- أعط مثالين على العملات الأجنبية التي كانت تتداول في زنجبار قبل استحداث السيد سعيد بن سلطان نظاما نقديا جديدا .

-
-

٣- اذكر أحد أجناس المجتمع في زنجبار في عهد السيد سعيد بن سلطان .

-

تابع السؤال الأول:

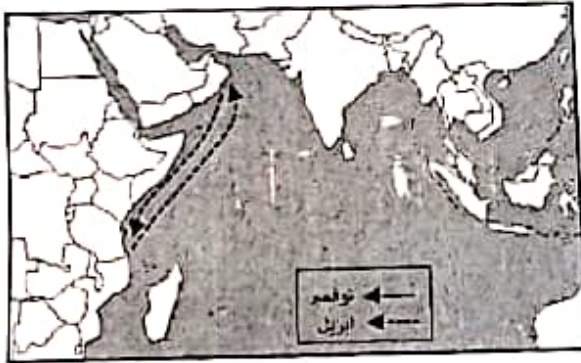
٩- العام الميلادي الذي انضمت فيه السلطنة لمشروع شبكة المدارس المنتسبة لليونسكو (ASP net) :
أ. ١٩٩٥ ب. ١٩٩٦ ج. ١٩٩٧ د. ١٩٩٨

١٠- المصطلح الذي يشير إلى زيادة أعداد السكان من سنة إلى أخرى نتيجة زيادة أعداد المواليد وانخفاض عدد الوفيات والهجرة :
أ. الكثافة السكانية ب. النمو السكاني ج. الزيادة الطبيعية د. التعداد السكاني

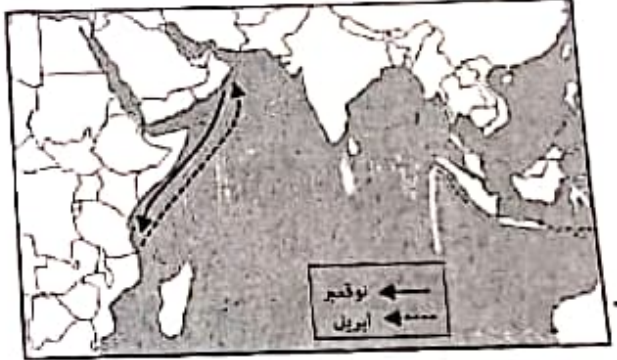


١١- تشير الصورة المقابلة إلى جائزة منحت
للسلطان قابوس (طيب الله ثراه) في عام
١٩٩٨ م وهي :
أ. قمة الأرض
ب. السلام الدولية
ج. البيئة العالمية
د. نوبل

١٢- الخريطة التي تمثل رحلات العمانيين في المحيط الهندي خلال السنة :



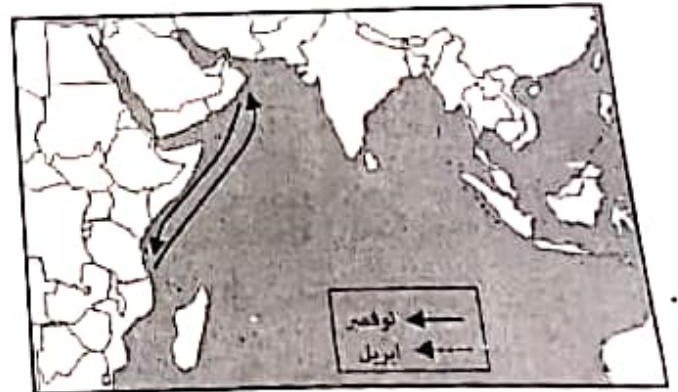
ب.



أ.



د.



ج.

السؤال الثاني:

٨ درجات

١- اكتب المصطلح أمام العبارة التي تعبر عنه في الجدول التالي :

الرمز	العبارة	المصطلح
أ	حركة الأفراد من مكان لآخر سواء مؤقتاً أو بشكل دائم أو قسرية .	
ب	الدول التي ترتبط فيما بينها بالموقع والقرب المكاني والامتداد الجغرافي وتتقاسم الموقع الفلكي والحدود السياسية .	
ج	مجموعة الدول التي يشكل المسلمون فيها أكثر من ٥٠% من جملة عدد السكان .	

٢- اذكر اثنين لكل مما يلي :

أ. فوائد المسح بالعينة .

-
-

ب. وثائق التسجيل الحيوي التي يستفاد منها كمصادر للبيانات السكانية .

-
-

٣- صنف المنجزات الحضارية للعمانيين في شرقي أفريقيا في الجدول التالي وفقاً للمجال الذي تنتمي إليه :

الأسطول البحري	المجالس السلطانية	إدخال محصول القرنفل إلى زنجبار

م	المجال	المنجزات
أ	السياسي	
ب	اقتصادي	
ج	عسكري	

تابع - السؤال الأول:

٩ العامل الطبيعي الذي يؤثر في توزيع السكان على سطح الكرة الأرضية :
 أ) المناخ ب) الهجرة ج) الأنشطة الاقتصادية

د) وسائل النقل



١٠ الرقم الذي يشير إلى الجزيرة التي يوجد بها نهر مويرا في الخريطة المقابلة :

- ١ (أ)
 ٢ (ب)
 ٣ (ج)
 ٤ (د)

١١- مصدر البيانات السكانية الذي يتناول كل الأحداث الحيوية التي تطرأ على الإنسان منذ ولادته وحتى وفا

أ) التعداد السكاني ب) المسوحات بالعينة ج) سجلات المدارس د) التسجيل الح

١٢- المظرة الزمنية التي تشير إلى التسلسل الصحيح للأحداث التاريخية :

١٨٤٠ م	١٨٣٢ م	١٨٠٦ م
تولى السيد سعيد بن سلطان الحكم	رحلة السفينة سلطنة إلى ميناء نيويورك	اتخاذ زنجبار عاصمة للإمبراطورية العمانية في قارة افريقيا
١٨٤٠ م	١٨٣٢ م	١٨٠٦ م
رحلة السفينة سلطنة إلى ميناء نيويورك	اتخاذ زنجبار عاصمة للإمبراطورية العمانية في قارة افريقيا	تولى السيد سعيد بن سلطان الحكم
١٨٤٠ م	١٨٣٢ م	١٨٠٦ م
تولى السيد سعيد بن سلطان الحكم	اتخاذ زنجبار عاصمة للإمبراطورية العمانية في قارة افريقيا	رحلة السفينة سلطنة إلى ميناء نيويورك
١٨٤٠ م	١٨٣٢ م	١٨٠٦ م
اتخاذ زنجبار عاصمة للإمبراطورية العمانية في قارة افريقيا	رحلة السفينة سلطنة إلى ميناء نيويورك	تولى السيد سعيد بن سلطان الحكم

تابع - السؤال الخامس :

ثانياً: فسّر العبارة التالية (يمثل النمو السكاني تحدياً مهماً للعالم ولاسيما في الدول النامية).

ثالثاً: أمامك خريطة الطرق والمراكز التجارية في عهد السيد سعيد بن سلطان ، ادرسها جيداً ثم أجب عن الأسئلة التي

تليها :



- ظل الجزيرة التي اقام السيد سعيد بن سلطان مع ملوكها علاقات واسعة جداً.
- ضع دائرة حول إحدى أهم مراكز إنتاج الأخشاب في شرقي أفريقيا .
- وضح الدلالات التي تشير إليها الرموز الموضحة في خريطة أفريقيا وفق الجدول التالي :

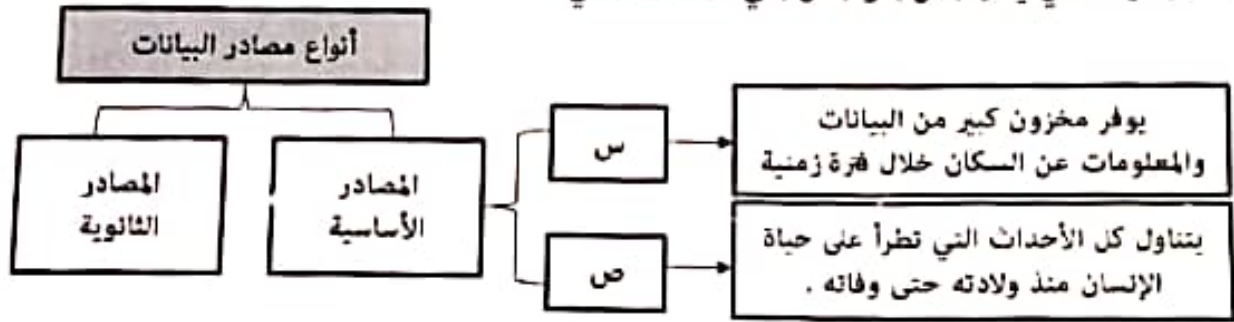
م	شكل الرمز في الخريطة	دلالة الرمز
١	← →
٢	●

٦

انتهت الأسئلة، مع الدعاء للجميع بالتوفيق والنجاح

تابع السؤال الأول:

٥- الجدول الذي يمثل (س) و (ص) في المخطط التالي :



التسجيل الحيوي	س
التعداد السكاني	ص

ب .

التسجيل الحيوي	س
المسوحات بالعينة	ص

أ .

التعداد السكاني	س
التسجيل الحيوي	ص

د .

التعداد السكاني	س
المسوحات بالعينة	ص

ج .

٦- يوجد مقر مجمع الفقه الإسلامي في مدينة :

د. الرباط

ج. مكة المكرمة

ب. الرياض

أ. جدة

٧- جميع الأشكال التالية تعبر عن حقوق الطفل حسب بنود اتفاقية حقوق الطفل ما عدا :



الصحة

د



التعليم

ج



العمل

ب



التغذية

أ

٨- المستشار الذي عينه السيد سعيد بن سلطان رئيساً للوزراء عند وصوله لزنبار :

ب. حميد بن محمد المرجبي

د. أحمد بن النعمان الكعبي

أ. محي الدين القحطاني الوائلي

ج. سليمان بن حمد البوسعيدي

١٢ درجة

أجب عن جميع الأسئلة الآتية

السؤال الأول: ضع دائرة حول رمز الإجابة الصحيحة لكل مفردة من المفردات الآتية:

- ١- بلغت الهجرة الخارجية لإحدى الدول ١٧٥٠ نسمة والهجرة الداخلية لنفس الدولة ٤٥٠ نسمة ، فإن صافي الهجرة لهذه الدولة يساوي بالنسبة :
- أ. ١٣٠٠ ب. ١٥٠٠ ج. ٢٢٠٠ د. ٢٤٠٠

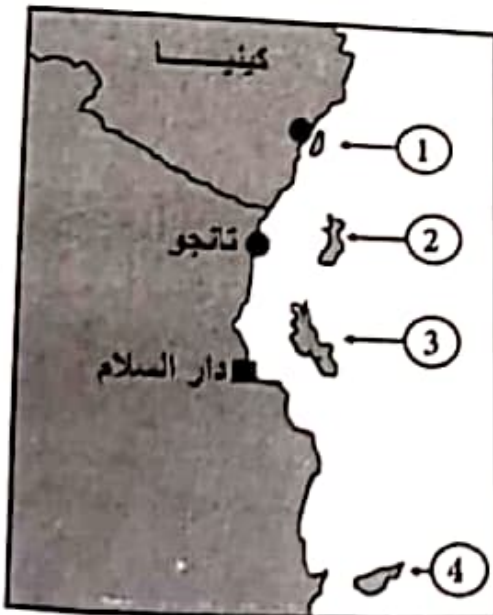
٢- المجال الذي تشير إليه الصورة المقابلة والذي حققت فيه زنجبار انجازات كبيرة في عهد السلطان بوغش بن سعيد :



- أ. الاقتصادي
ب. الاجتماعي
ج. السياسي
د. الثقافي

٣- بلغت النسبة المئوية للضريبة المفروضة على الواردات التي تأتي إلى الموانئ الأفريقية في عهد السيد سعيد بن سلطان حوالي :


أ. ٥ ب. ١٠ ج. ١٥ د. ٢٠



١- الرقم الذي يشير إلى الجزيرة التي عرفت باسم (الجزيرة الخضراء) في الخريطة المقابلة :

- أ. ١
ب. ٢
ج. ٣
د. ٤

١- استنتج من الصورة التالية أحد مجالات العلاقات الطيبة بين سلطنة عمان ودول العالم الإسلامي .



.....

٢- صف الأعمال التالية حسب اختصاص كل منظمة بكتابة الرمز مقابل كل منظمة :

A تراقب تفشي الأمراض والأوبئة مثل الجدري والطاعون .

B نشر معلومات التغذية الصحية ووسائل حفظ المنتجات الغذائية .

C بناء مجتمعات تعلم مشتركة في مجال التعليم والثقافة .

D تخفيض نسبة وفيات الأمهات والأطفال دون الخامسة .



الدراج : أجب عن الأسئلة الآتية :

أ- الخصائص التي تميزت بها نظم الحكم والإدارة في شرقي أفريقيا .

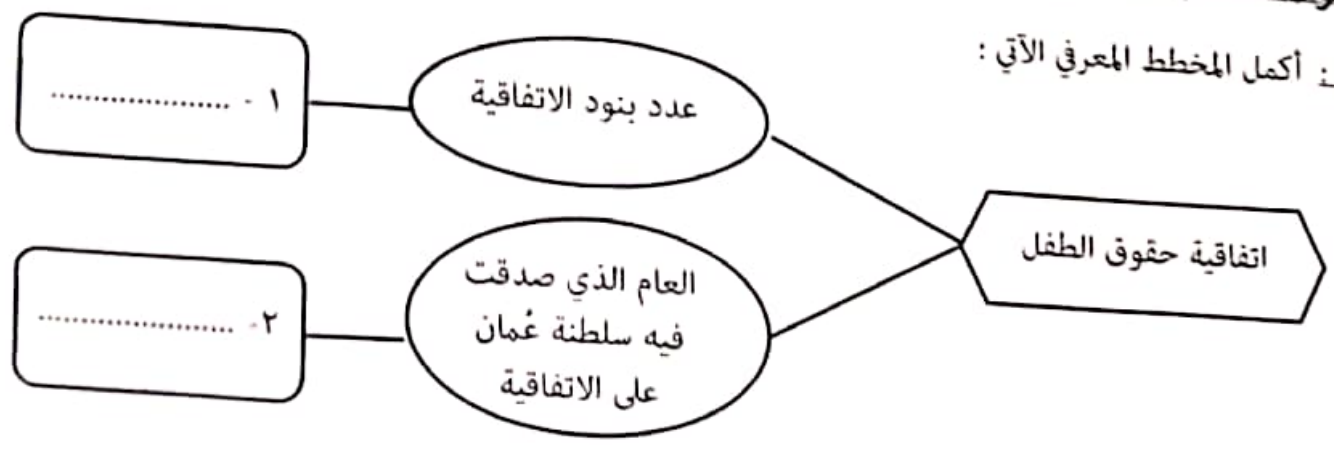
ب- الدول التي انضمت إلى رابطة الدول المطلة على المحيط الهندي للتعاون الإقليمي .

ثانياً: بين السبب والنتيجة فيما يأتي :

م	السبب	النتيجة
٣	ربط الشواطئ العمانية بالشواطئ الأفريقية
١	وقت هبوب الرياح الموسمية .
٢	امتزاج الدم العربي بالدم الأفريقي .

السؤال الخامس : أجب عن الأسئلة الآتية :

أولاً : أكمل المخطط المعرفي الآتي :



مادة: الدراسات الاجتماعية - الصف: التاسع - الدور الأول - الفصل الدراسي الأول - العام الدراسي: ٢٠٢٣/ ٢٠٢٤ م
تابع - السؤال الأول:

٥- الجدول الصحيح الذي يمثل مصدر السلع التجارية المتبادلة بين شرق أفريقيا والدول الأخرى :

الدول المصدرة	السلع التجارية
شرق افريقيا	الذهب والعاج
عُمان	التمور والليمون
الهند والصين	المنسوجات والتوابل

(ب)

الدول المصدرة	السلع التجارية
شرق افريقيا	المنسوجات والتوابل
عُمان	الذهب والعاج
الهند والصين	التمور والليمون

(ا)

الدول المصدرة	السلع التجارية
شرق افريقيا	التمور والليمون
عُمان	المنسوجات والتوابل
الهند والصين	الذهب والعاج

(د)

الدول المصدرة	السلع التجارية
شرق افريقيا	الذهب والعاج
عُمان	المنسوجات والتوابل
الهند والصين	التمور والليمون

(ج)

٦- النسبة المئوية للضريبة المفروضة على الواردات للموانئ الأفريقية في عهد السيد سعيد بن سلطان لا تتجاوز :

(د) ٥٠ %

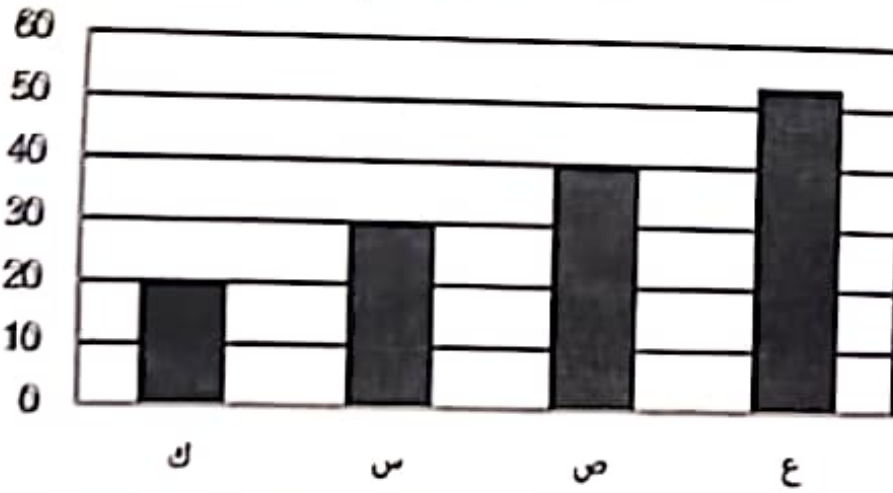
(ج) ٢٥ %

(ب) ١٥ %

(ا) ٥ %

٧- الحرف الدال على العمود الصحيح الذي يوضح نسبة المسلمين في الدولة التي تدرج تحت مصطلح العالم الإسلامي :

نسبة المسلمين في دول العالم الاسلامي من جملة عدد السكان



الإسلامي :

(ا) ك

(ب) س

(ج) ص

(د) ع

٨- العام الميلادي الذي انضمت فيه سلطنة عمان لمشروع شبكة المدارس المنتسبة لليونسكو :

(د) ١٩٩٩

(ج) ١٩٩٨

(ب) ١٩٩٧

(ا) ١٩٩٦

١٢ درجة

أجب عن جميع الأسئلة الآتية

السؤال الأول: ضع دائرة حول رمز الإجابة الصحيحة لكل مفردة من المفردات الآتية:

- ١- بلغت الهجرة الخارجية لإحدى الدول ١٧٥٠ نسمة والهجرة الداخلية لنفس الدولة ٤٥٠ نسمة ، فإن صافي الهجرة لهذه الدولة يساوي بالنسبة :
- أ. ١٣٠٠ ب. ١٥٠٠ ج. ٢٢٠٠ د. ٢٤٠٠

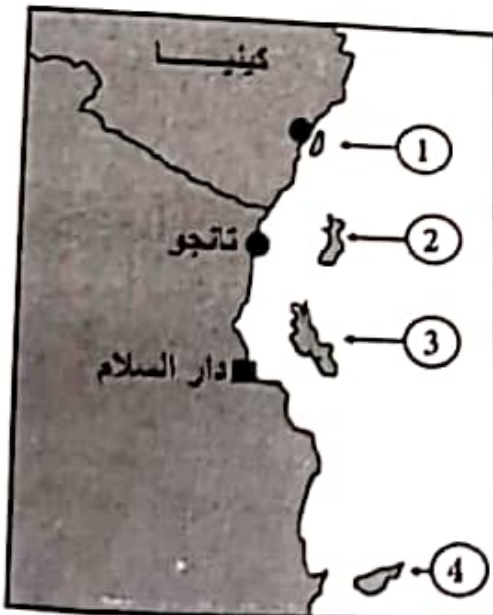
٢- المجال الذي تشير إليه الصورة المقابلة والذي حققت فيه زنجبار انجازات كبيرة في عهد السلطان بوغش بن سعيد :



- أ. الاقتصادي
ب. الاجتماعي
ج. السياسي
د. الثقافي

٣- بلغت النسبة المئوية للضريبة المفروضة على الواردات التي تأتي إلى الموانئ الأفريقية في عهد السيد سعيد بن سلطان حوالي :

أ. ٥ ب. ١٠ ج. ١٥ د. ٢٠

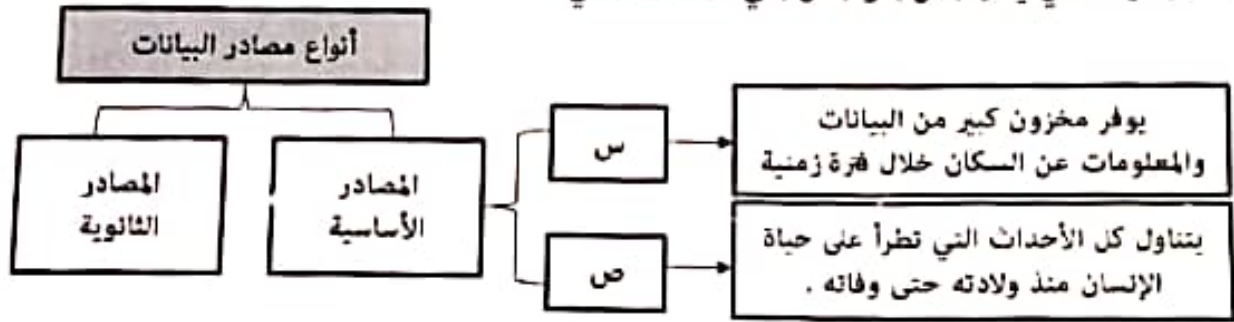


١- الرقم الذي يشير إلى الجزيرة التي عرفت باسم (الجزيرة الخضراء) في الخريطة المقابلة :

- أ. ١
ب. ٢
ج. ٣
د. ٤

تابع السؤال الأول:

٥- الجدول الذي يمثل (س) و (ص) في المخطط التالي :



س	التسجيل الحيوي
ص	التعداد السكاني

ب .

س	التسجيل الحيوي
ص	المسوحات بالعينة

أ .

س	التعداد السكاني
ص	التسجيل الحيوي

د .

س	التعداد السكاني
ص	المسوحات بالعينة

ج .

٦- يوجد مقر مجمع الفقه الإسلامي في مدينة :

د. الرباط

ج. مكة المكرمة

ب. الرياض

أ. جدة

٧- جميع الأشكال التالية تعبر عن حقوق الطفل حسب بنود اتفاقية حقوق الطفل ما عدا :



الصحة

د



التعليم

ج



العمل

ب



التغذية

أ

٨- المستشار الذي عينه السيد سعيد بن سلطان رئيساً للوزراء عند وصوله لزنبار :

ب. حميد بن محمد المرجبي

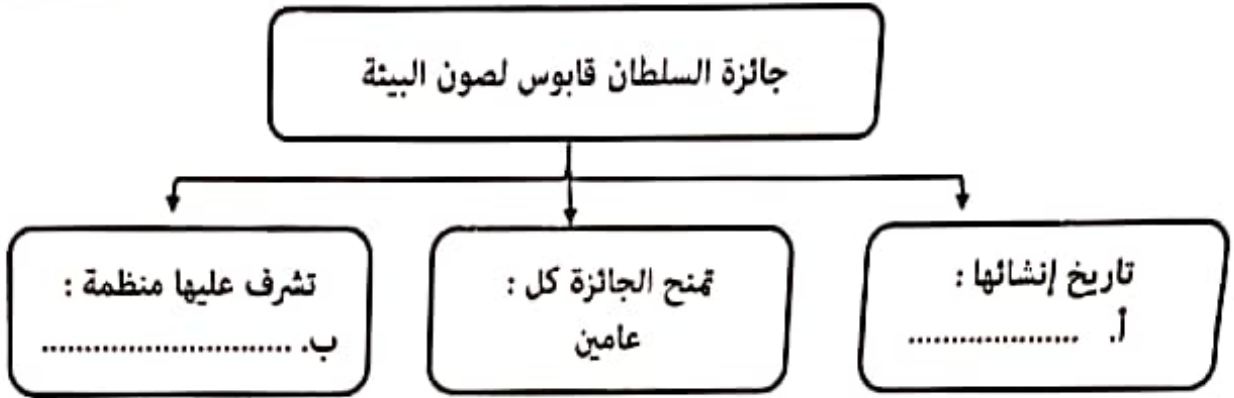
د. أحمد بن النعمان الكعبي

أ. محي الدين القحطاني الوائلي

ج. سليمان بن حمد البوسعيدي

٦ درجات

١- أكمل المخطط التالي :



٢- بلغ عدد سكان أحد المجتمعات (٣٥٠٠٠ نسمة) بحسب آخر تعداد سكاني ، وكان عدد المواليد الأحياء في ذلك المجتمع من نفس العام (٣٥٠ مولود) ، وعدد الوفيات لنفس الفترة (١٧٥ شخص) . في ضوء ذلك أجب عن الأسئلة التالية :

أ. احسب معدل المواليد .

.....
.....
.....

ب. احسب معدل الوفيات .

.....
.....
.....

ج. الزيادة الطبيعية .

.....
.....
.....

د. برأيك ما أسباب ارتفاع معدل الوفيات في هذا المجتمع .

.....

انتهت الأسئلة مع الدعاء للجميع بالتوفيق والنجاح.

السؤال الثالث :

٨ درجات

١- في ضوء الفقرة التالية أجب عما يليها من أسئلة :

(للسلطنة علاقات سياسية وثقافية واقتصادية مع العالم الإسلامي ، وقد قامت هذه السياسة منذ أن تولى السلطان قابوس - طيب الله ثراه - الحكم في البلاد على أساس العمل من أجل دعم العلاقات مع الدول الشقيقة والصديقة ومن أوجه هذه العلاقات الطيبة انضمامها إلى منظمة التعاون الإسلامي) .

أ. عدد إثنين من الأسس التي قامت عليها سياسة السلطنة في علاقاتها مع الدول الأخرى .

-
-

ب. برهن بدليل واحد على ارتباط السلطنة سياسياً بعلاقات طيبة مع دول العالم الإسلامي .

.....

ج- في أي عام انضمت السلطنة للمنظمة المذكورة في الفقرة ؟

د- حدد على الخريطة المقابلة الدولة الإسلامية التي يقع فيها مقر المنظمة الواردة في الفقرة.

(بوضع رمز ★ في موقعها الصحيح) .



المادة: الدراسات الاجتماعية - التاريخ

تابع- السؤال الأول:

- ٩- العامل الطبيعي الذي يؤثر في توزيع السكان على سطح الكرة الأرضية :
 أ) المناخ
 ب) الهجرة
 ج) الأنشطة الاقتصادية
 د) وسائل النقل

١٠- الرقم الذي يشير إلى الجزيرة التي يوجد بها نهر مويرا في الخريطة المقابلة :



- ١١
 ٢
 ٣
 ٤

١١- مصدر البيانات السكانية الذي يتناول كل الأحداث الحيوية التي نظراً على الإنسان منذ ولادته وحتى وفاته :
 أ) التعداد السكاني
 ب) المسوحات بالعينة
 ج) سجلات المدارس
 د) التسجيل الحيوي

١٢- المسطرة الزمنية التي تشير إلى التسلسل الصحيح للأحداث التاريخية :

١٨٠٦ م	١٨٣٢ م	١٨٤٠ م
اتحاد زنجبار عاصمة للإمبراطورية العمانية في قارة افريقيا	رحلة السفينة سلطنة إلى ميناء نيويورك	تولى السيد سعيد بن سلطان الحكم
١٨٠٦ م	١٨٣٢ م	١٨٤٠ م
تولى السيد سعيد بن سلطان الحكم	اتخاذ زنجبار عاصمة للإمبراطورية العمانية في قارة افريقيا	رحلة السفينة سلطنة إلى ميناء نيويورك
١٨٠٦ م	١٨٣٢ م	١٨٤٠ م
رحلة السفينة سلطنة إلى ميناء نيويورك	اتخاذ زنجبار عاصمة للإمبراطورية العمانية في قارة افريقيا	تولى السيد سعيد بن سلطان الحكم
١٨٠٦ م	١٨٣٢ م	١٨٤٠ م
تولى السيد سعيد بن سلطان الحكم	رحلة السفينة سلطنة إلى ميناء نيويورك	اتخاذ زنجبار عاصمة للإمبراطورية العمانية في قارة افريقيا

سؤال الأول:

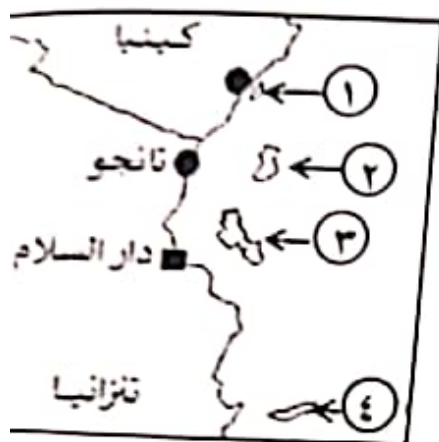
مل الطبيعي الذي يؤثر في توزيع السكان على سطح الكرة الأرضية :

(د) وسائل النقل

(ج) الأنشطة الاقتصادية

(ب) الهجرة

اخ



قم الذي يشير إلى الجزيرة التي يوجد بها نهر مويرا في الخريطة المقابلة :

ر البيانات السكانية الذي يتناول كل الأحداث الحيوية التي تطرأ على الإنسان منذ ولادته وحتى وفاته
 ا.اد السكاني (ب) المسوحات بالعينة (ج) سجلات المدارس (د) التسجيل الحيوي

رة الزمنية التي تشير إلى التسلسل الصحيح للأحداث التاريخية :

١٨٤٠ م تولى السيد سعيد بن سلطان الحكم	١٨٣٢ م رحلة السفينة سلطنة إلى ميناء نيويورك	١٨٠٦ م اتخاذ زنجبار عاصمة للإمبراطورية العمانية في قارة افريقيا
١٨٤٠ م رحلة السفينة سلطنة إلى ميناء نيويورك	١٨٣٢ م اتخاذ زنجبار عاصمة للإمبراطورية العمانية في قارة افريقيا	١٨٠٦ م تولى السيد سعيد بن سلطان الحكم
١٨٤٠ م تولى السيد سعيد بن سلطان الحكم	١٨٣٢ م اتخاذ زنجبار عاصمة للإمبراطورية العمانية في قارة افريقيا	١٨٠٦ م رحلة السفينة سلطنة إلى ميناء نيويورك
١٨٤٠ م اتخاذ زنجبار عاصمة للإمبراطورية العمانية في قارة افريقيا	١٨٣٢ م رحلة السفينة سلطنة إلى ميناء نيويورك	١٨٠٦ م تولى السيد سعيد بن سلطان الحكم

ثلاثية الترويض الاجتماعية - الصف التاسع - الدور الأول الفصل الدراسي الأول
 اجاب عن جميع الأسئلة الآتية



- السؤال الأول: ضع دائرة حول رمز الإجابة الصحيحة لكل مفردة من المفردات الآتية:
- ١. الشخصية العنصرية التي في الصورة للفتاة وبعد من مستشاري السيد
 - أ) محمد بن سلطان و زهير
 - ب) أحمد بن محمد الكعبي
 - ج) أحمد بن محمد المرعشي
 - د) أحمد بن حنبل الروالي

الشعب الذي قدمت له سلطنة عمان المساعدة نتيجة تعرضهم لموجات الاضطهاد والتطهير العرقي :
 (أ) البوسني (ب) الإيراني (ج) الأفغاني (د) التركي

مر الدال على الدولة التي يوجد بها مقر مجمع الفقه الإسلامي في الخريطة التي أمامك :



- (أ) ▲
- (ب) ●
- (ج) ★
- (د) ■

يبلغ معدل الوفيات بالآلاف في سلطنة عمان عام ٢٠٢٢م وفقا لمعطيات
 دول المقابل :

عدد السكان	عد
------------	----

١,٣١
 ٢,٤١
 ب) ٢,٢٢