

شكراً لتحميلك هذا الملف من موقع المناهج العمانية



أسئلة موضوعية في الوحدة الثانية

[موقع المناهج](#) ← [المناهج العمانية](#) ← [الصف التاسع](#) ← [اجتماعيات](#) ← [الفصل الأول](#) ← [الملف](#)

تاريخ نشر الملف على موقع المناهج: 2022-12-07 16:56:59 | اسم المدرس: وفاء العلوية

التواصل الاجتماعي بحسب الصف التاسع



روابط مواد الصف التاسع على تلغرام

[الرياضيات](#)

[اللغة الانجليزية](#)

[اللغة العربية](#)

[التربية الاسلامية](#)

المزيد من الملفات بحسب الصف التاسع والمادة اجتماعيات في الفصل الأول

[ملخص شرح درس العمانيون في شرقي أفريقيا](#)

1

[مذكرة دراستي في كراستي](#)

2

[سلسلة من الملخصات والأنشطة والاختبارات](#)

3

[أسئلة الاختبار الرسمي مسقط](#)

4

[أسئلة اختبارات قصيرة ونهائية للوحدة الأولى مع الإجابة](#)

5

المديرية العامة للتربية والتعليم محافظة جنوب الشرقية

مدرسة العيجة للتعليم الاساسي

الصف التاسع الأساسي



الصف التاسع

المديرية العامة للتربية والتعليم بمحافظة جنوب الشرقية

مدرسة العجبة للتعليم الأساسي

الوحدة الثانية (التواجد العماني في شرقي إفريقيا)

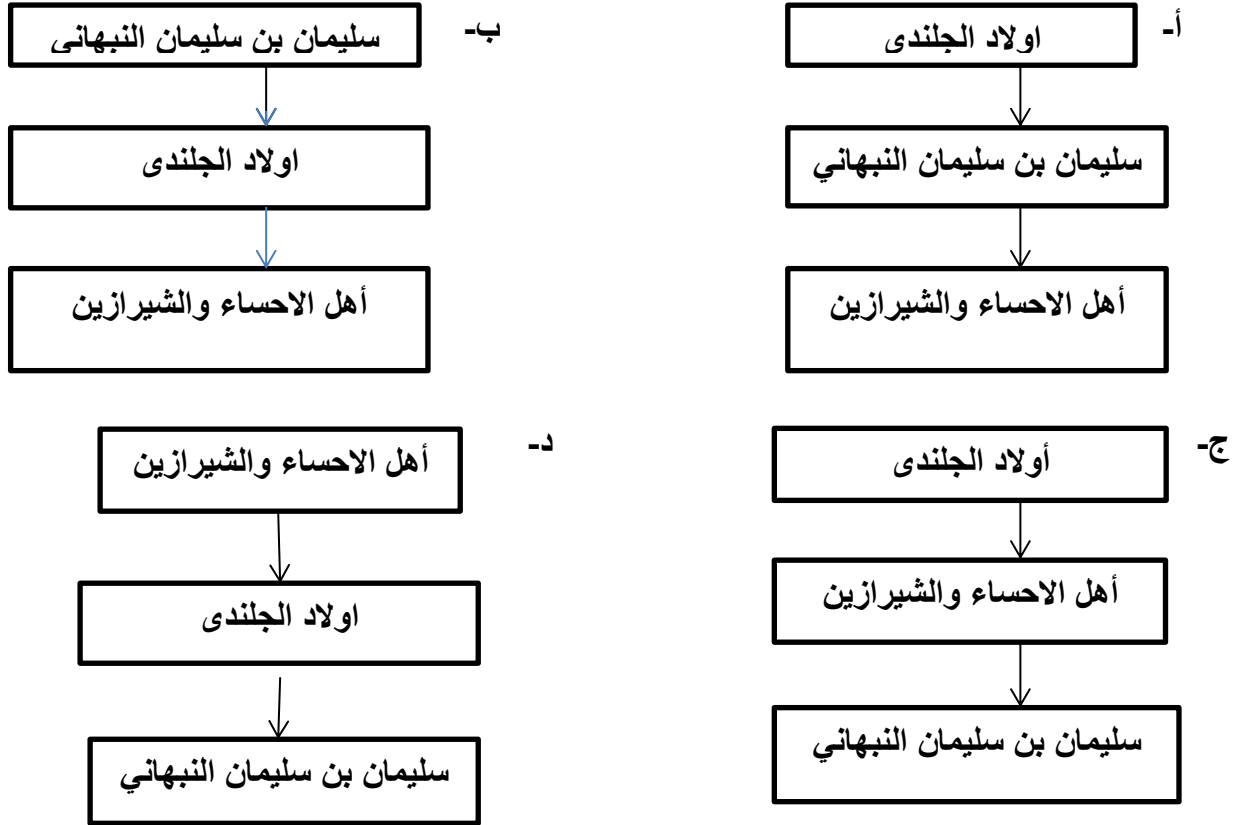
إعداد وتجميع الاستاذة : وفاء العلوية

اختار الاجابة الصحيحة من بين البدائل المعطاة :

١-القائد البرتغالي الذي خضع شرقي إفريقيا للسيطرة البرتغالية عام ١٥٠١م /

أ- فاسكو دي جاما ب- هنري الملاح ج- البوكيرك د-ماجلان

٢- المخطط الذي يشير الى الترتيب الصحيح للهجرات العربية من شبة الجزيرة العربية وبلاد فارس إلى شرقي إفريقيا /



٣- تعرف الدول التي ترتبط فيما بينها بالموقع والقرب المكاني والامتداد الجغرافي بـ /

أ-الجوار الجغرافي ب-الموقع الفلكي ج- الموقع الاقليمي د- الموقع الاستراتيجي

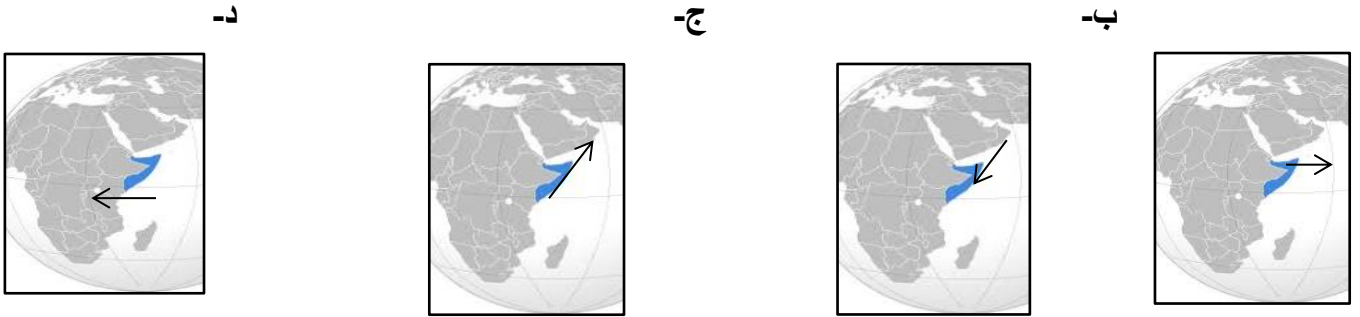
٤- الاسباب التي تشير إليها الصورة التي أمامك والتي منعت المهاجرين من التوغل الى المناطق الداخلية أثناء هجرتهم /



أ-الطبيعة الجغرافية وقسوة المناخ ب- الغابات الاستوائية والحيوانات المفترسة
ج- الجبال الشاهقة والحيوانات المفترسة د- قسوة المناخ والجبال الشاهقة

٥- الخريطة الصحيحة التي توضح اتجاه السفن في شهر نوفمبر وذلك

خلال رحلات العمانيين من والى شرقي إفريقيا /



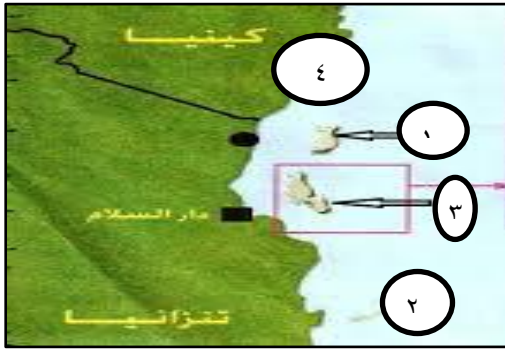
٦-تعود السفن من شرقي إفريقيا مع هبوب الرياح من الجنوب الغربي خلال شهر /

أ-مارس ب- ابريل ج-مايو د- يونيو

٧-الامام الذي حرر مناطق شرقي إفريقيا من البرتغاليين /

أ-سلطان بن سيف الأول ب- سيف بن سلطان الثاني ج- سلطان بن سيف الثاني د- ناصر بن مرشد

**-ادرس الخريطة التي امامك ثم اجب عن المفردات(٨ ، ٩ ، ١٠ ، ١١، ١٢)



٨-الرقم الذي يشير الى الجزيرة الخضراء في الخريطة التي أمامك الرقم /

أ-(١) ب-(٢) ج-(٣) د-(٤)

٩- تقع جزيرة بمبا بالنسبة لجزيرة زنجبار في الجهة /

أ- الشرقية ب-الجنوبية ج- الشمالية د-الغربية

١٠-الرقم الصحيح الذي يشير الى موقع جزيرة مافيا /

أ- (١) ب- (٢) ج- (٣) د- (٤)

١١-الارقام التي تشير الى الجزر التي تتكون منها زنجبار في الخريطة المقابلة /

أ-(١ ، ٢) ب-(٣ ، ٤) ج-(١ ، ٣) د- (٢ ، ٣)

١٢-بالاستعانة بالخريطة التي أمامك الجزيرة المشار إليها بالرقم (١) وتشتهر بزراعة القرنفل والنارجيل /

أ- مافيا ب- توهياتو ج- ممباسه د- بمبا



١٣- الصورة التي أمامك تشير الى مدينة /

أ- كلوة ب- لاموه ج- زنجبار د- بمبا

١٢- الدافع الاكبر لاستقرار السيد سعيد بن سلطان في زنجبار كان بسبب /

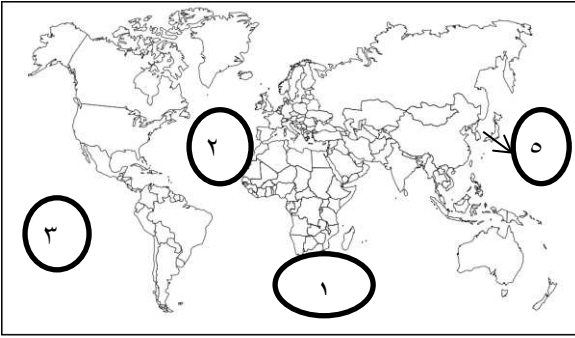
أ-المناخ ب-المياه العذبة ج- الاقتصاد د-اجتماعي

١٣- استقر السيد سعيد بن سلطان في زنجبار منذ عام /

أ- (١٨٤٠م) ب- (١٨٣٥م) ج- (١٨٣٢م) د- (١٨٣٠م)

١٤- اعتبر اسطول السيد سعيد بن سلطان أقوى اسطول على امتداد السواحل من المنطقة المشار إليها بالرقم (١) في

الخريطة الى المنطقة المشار إليها بالرقم /



أ- (٢) ب- (٣) ج- (٤) د- (٥)

١٥- من اشهر الشخصيات_العمانية_ قادت السفن الحربية في عهد السيد سعيد بن سلطان /

أ-السيد حمد بن سلمان ب- حميد بن محمد المرجبي ج- احمد بن نعمان الكعبي د- الشيخ حسن الفارسي

١٦- توجه على ظهر السفينة سلطنة الى نيويورك عام ١٨٤٠م /

أ-الشيخ حسن الفارسي ب-احمد بن نعمان الكعبي ج- حمد بن سليمان البوسعيدي د- حمد بن سليمان البوسعيدي

١٧- توفي السيد سعيد بن سلطان على ظهر السفينة /

أ-سلطنة ب- فكتوريا ج- شاه علم د- الرحماني

١٨- توفي السيد سعيد بن سلطان عام /

أ- ١٨٠٦ م ب- ١٨٤٠ م ج- ١٨٥٦ م د- ١٨٦٠ م

١٩- الامتداد الصحيح لتواجد العماني في شرقي إفريقيا تشير اليه الخريطة /



ب



أ



د



ج

٢٠- (الاول في الحرب والاول في السلم) ذكر هذا الوصف على لسان الكاتب ريتشارد في كتاب (أقاليم البحيرات) يصف السلطان /

أ- احمد بن سعيد ب- سلطان بن أحمد ج- سعيد بن سلطان د- برغش بن سعيد

٢١- عين رئيسا للوزراء في عهد السيد سعيد بن سلطان /

أ- احمد بن نعمان الكعبي ب- السيد سليمان بن حمد البوسعيدي ج- برغش بن سعيد د- ماجد بن سعيد

٢٢- من مظاهر الشورى في إفريقيا خلال عهد السيد سعيد بن سلطان /

أ- المجالس السلطانية ب- توزيع الأراضي الزراعية ج- تعيين ولاة أفرقة د- مجالس المستشارين

٢٣- يعتبر من ابرز القضاة في عهد السيد سعيد بن سلطان /

أ- احمد بن نعمان الكعبي ب- محي الدين القحطاني الوائلي ج- سليمان بن حمد البوسعيدي د- هلال بن سعيد

٢٤- يبلغ طول سواحل زنجبار حوالي /

أ- ٤٠٠ كم ب- ٥٠٠ كم ج- ٦٠٠ كم د- ٧٠٠ كم

٢٥- تتكون زنجبار من جزيرتين هما /

أ- زنجبار وكلوة ب- زنجبار وبمبا ج- زنجبار و ماليندي د- زنجبار ولاموه

٢٦- عرفت زنجبار باسم /

أ- الجزيرة الخضراء ب- أرض الحياة ج- بستان إفريقيا الشرقية د- إمارة إفريقيا

٢٧- النهر الذي يقطع جزيرة زنجبار نهر /

أ- النيل ب- مويرا ج- ام الربيع د- العاصي

٢٨- الجدول الصحيح الموضح لطول وعرض جزيرة بمبا وزنجبار /

أ- ب-

قارن	زنجبار	بمبا
الطول	٦٥	٦٠
العرض	٣٠	٢١

قارن	زنجبار	بمبا
الطول	٣٥	٥٠
العرض	٢٠	١٩

ج- د-

قارن	زنجبار	بمبا
الطول	٨٥	٧٨
العرض	٤٠	٢٣

قارن	زنجبار	بمبا
الطول	٤٥	٧٠
العرض	٢٥	٢٢

٢٩- الحرف السائدة في شرقي إفريقيا /

أ- الصناعة ب- الزراعة ج- تربية الحيوانات د- الحرف اليدوية

٣٠- الصورة التي تشير إلى المحصول الأكثر انتشارا في زنجبار وبمبا /

أ- ب- ج- د-



٣١- الضريبة التي فرضت من قبل النظام الجمركي على الواردات التي ترد الى الموانئ

الأفريقية لم تتجاوز /

د- ٦%

ج- ٥%

ب- ٤%

أ- ٣%

٣٢- (سوف يكون لرعايا صاحب السمو سلطان مسقط حرية الوصول والاقامة والمتاجرة والمرور بالبضائع من خلال جميع أجزاء ممتلكات صاحبة الجلالة) هذا النص من معاهدة التجارة بين عمان و.. /

أ- فرنسا ب- هولندا ج- المانيا د- بريطانيا

٣٣- اعتبر الطريق الشمالي الممتد من ممباسه وما ليندي الى هضبة البحيرات من أخطر الطرق بسبب هجوم /

أ- قبائل الماساي ب- قراصنة الميد ج- قبائل الزولو د- قبائل المينفري

٣٤- يعرف الطريق الممتد من من كلوة عبر جنوب تنجانيقا وشمال موزمبيق إلى بحيرة ناسا بالطريق /

أ- الشمالي ب- الاوسط ج- الجنوبي د- الغربي


٣٥- يعتبر الطريق الأوسط من أهم الطرق في القرن ١٩ م بسبب تجارة /

أ- الذهب ب- الجلود ج- العاج د- القرنفل

٣٦- الشخصية التي أسست إمارة عربية إسلامية واسعة في /




د



ج



ب



أ

٣٧- أهم السلع التي حرص العمانيين على جلبها من شرقي إفريقيا /

أ- العاج ب- الذهب ج- القرنفل د- الجلود

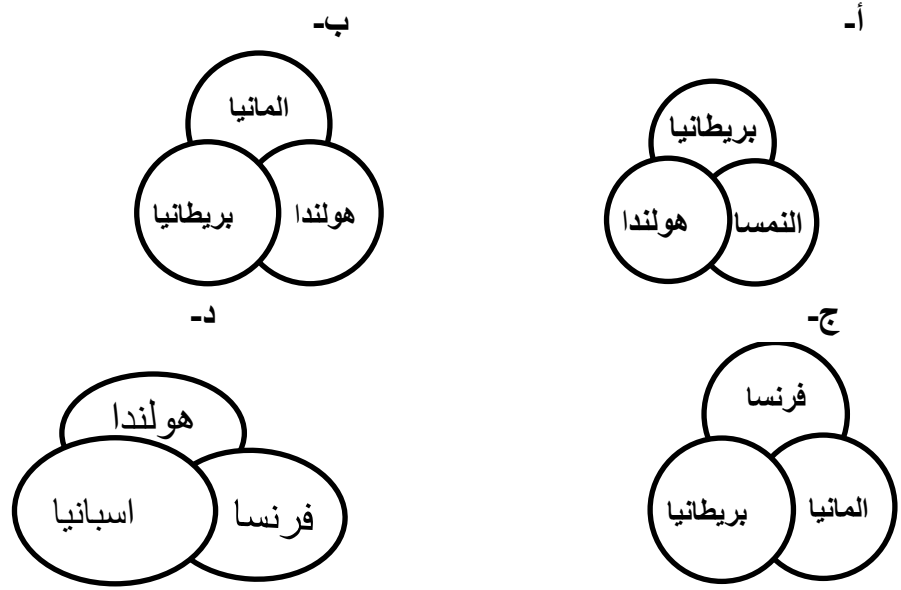
٣٨- أكثر أنواع الجلود استيراد من شرقي إفريقيا الى عمان جلد /

أ- الاسد ب- الفهد ج- النمر د- الفيل

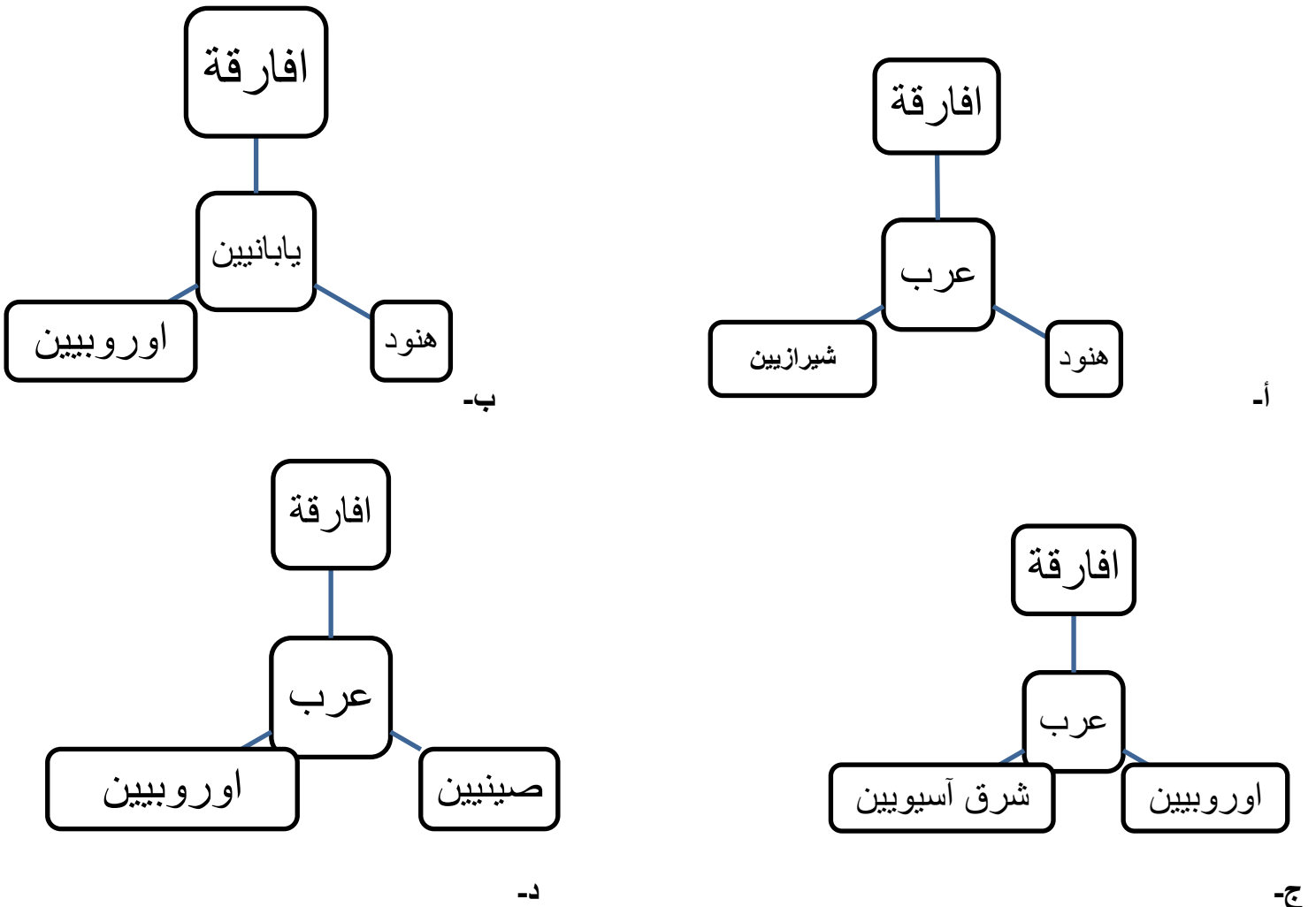
٣٩- تأسست المطبعة السلطانية في عهد السلطان /

أ- سعيد بن سلطان ب- ماجد بن سعيد ج- برغش بن سعيد د- جمشيد بن سعيد

٤٠- الدول التي تخصصت في صناعة العاج في أوروبا يشير إليها الشكل /



٤١- المخطط الذي يشير الى التركيبة السكانية الصحيحة للمجتمع الافريقي هو /



٤٢- جميع الصحف التالية ظهرت في شرقي إفريقيا ما عدا /

أ- الفلق ب- الوطن ج- النهضة د- الاصلاح

٤٣- منحت مسقط بعد وفاة السيد سعيد بن سلطان الى السيد /

أ- برغش بن سعيد ب- ثويني بن سعيد ج- ماجد بن سعيد د- هلال بن سعيد

٤٤- تولى حكم زنجبار بعد وفاة السيد سعيد بن سلطان السيد /

أ- جمشيد بن سعيد ب- خالد بن سعيد ج- ماجد بن سعيد د- برغش بن سعيد

٤٥- عقد اتفاقية زنجبار مع المانيا عام /

أ- ١٨٩٠ م ب- ١٨٩١ م ج- ١٨٩٢ م د- ١٨٩٣ م

٤٦- اعلن عن قيام اتحاد زنجبار مع تنجانيقا عام /

أ- ١٩٦٠ م ب- ١٩٦٢ م ج- ١٩٦٤ م د- ١٩٦٦ م

٤٧- العام الذي زار فيه رئيس حكومة زنجبار السلطنة /

أ- ١٩٩٠ م ب- ١٩٩١ م ج- ١٩٩٢ م د- ١٩٩٣ م

٤٨- السيد الذي شجع على إدخال الزراعة القرنفل على المستورد الى زنجبار /

أ- برغش بن سعيد ب- ثويني بن سعيد ج- سعيد بن سلطان د- ماجد بن سعيد

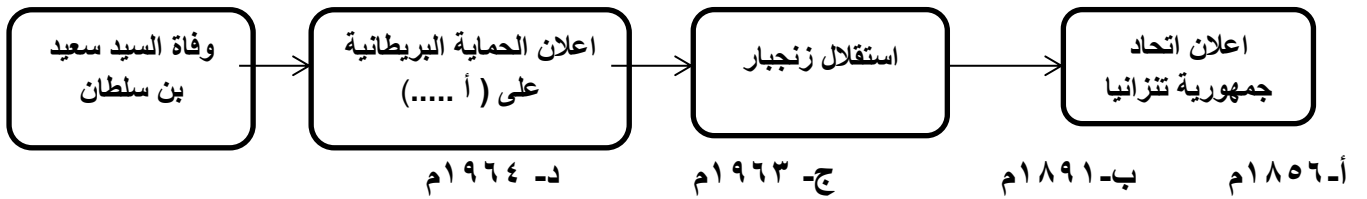
٤٩- خضعت منطقة شرق إفريقيا عام ١٥٠١ م للسيطرة من قبل القوات /

أ- البريطانية ب- الفرنسية ج- الالمانية د- البرتغالية

٥٠- كانت الدولة العمانية في عهد السيد سعيد بن سلطان دولة ملاحية كبيرة يمتد نفوذها من سواحل عمان الى الساحل الشرقي لأفريقيا عند جزيرة زنجبار و .. /

أ- ممباسا ب- مويرا ج- بمبا د- ما هوندا

٥١- توضح المسطرة الزمنية أهم الأحداث التاريخية في شرقي إفريقيا (١٨٥٦- ١٩٦٤) فإن الرمز (أ) يشير الى



٥٢- جميع الهجرات التالية خرجت الى شرقي إفريقيا من شبه الجزيرة العربية ما عدا /

أ- أولاد الجلندی ب- أهل الإحساء ج- أهل الحجاز د- سليمان بن سليمان بن مظفر النبهاني

٥٣- تمكن الشيخ حميد بن محمد المرجبي من تأسيس إمارة عربية إسلامية في أعالي /

أ-رواند ب- أوغندا ج- زامبيا د- الكونغو

٥٤- توفي السيد سعيد بن سلطان عام ١٨٥٦م بالقرب من جزيرة /

أ-سومطرة ب- سقطرى ج- سيشل د- موريشيوس

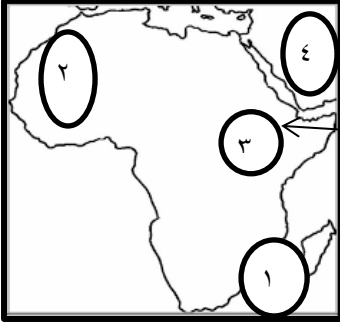
٥٥- تقع سلطنة عمان بالنسبة لشبه الجزيرة العربية في جهة /

أ- الشمال الشرقي ب- الجنوب الغربي ج- الشمال الغربي د- الجنوب الشرقي

٥٦- تعتبر من البضائع التي حملتها المراكب العمانية من عمان إلى شرقي إفريقيا /

أ- الذهب ب- الزعفران ج- العاج د- العنبر

٥٧- الرقم الذي يشير إلى موقع مقديشو والتي كانت أحد مراكز انتاج الأخشاب في شرقي إفريقيا /



أ- (١) ب- (٢) ج- (٣) د- (٤)

٥٨- يشير الرقم (١) إلى أحد المراكز التجارية العمانية في عهد السيد سعيد بن سلطان /



أ- كلكتا ب-جوا

ج-مدراس د- كراتشي

٥٩- من اوجه الترابط بين عمان وزنجبار في الوقت المعاصر /

أ- تجارة القرنفل ب- رحلات الطيران العماني ج- تجارة الجلود د- النقل البري

٦٠- الشخصية التي تشير اليها الصورة المقابلة /

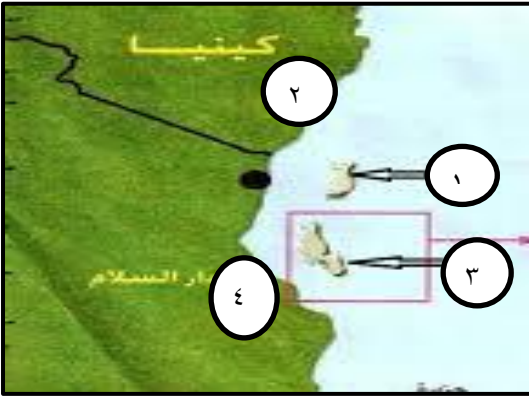


- أ- الشيخ احمد بن نعمان الكعبي
ب- السيد سليمان بن حمد البوسعيدي
ج- الشيخ محي الدين القحطاني
د- السيد حمد بن سليمان البوسعيدي

٦١- أحمد تاجر عماني يقوم بنقل البضائع على سفينة من عمان الى شرق إفريقيا التقى مع تاجر من زنجبار قبالة سواحلها وقاما بعملية تبادل البضائع الطريقة الصحيحة لتبادل البضائع بينهما /

- أ-منتجات حديدية مع زجاجية ب- التمور مع التوابل ج-التمور مع اللبان د- الورد المجفف مع الليمون

٦٢-الرقم الذي يشير في الخريطة على الجزيرة التي اتخذها سعيد بن سلطان عاصمة له في إفريقيا /



- أ- (١)
ب- (٢)
ج- (٣)
د- (٤)

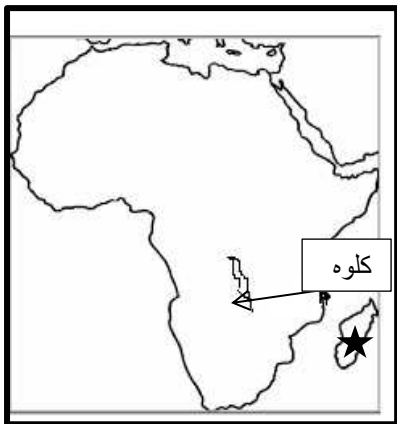
*درس الشكل المقابل وواجب عن المفردتين (٦٣ ، ٦٤)

٦٣- طريق القوافل التجارية في قارة إفريقيا الذي توضحه الخريطة التي امامك /

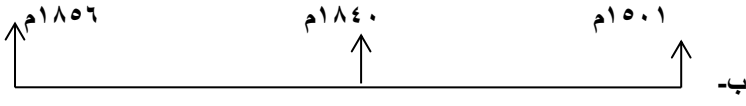
- أ- الشمالي
ب- الاوسط الشمالي
ج- الاسط الجنوبي
د- الجنوبي

٦٤- شكل (★) في الخريطة يشير الى جزيرة /

- أ- سيشل ب- سيلان ج- مدغشقر د- موريشيوس



٦٥- المسطرة الزمنية التي تشير الى التسلسل الصحيح للأحداث التاريخية /



رحلة احمد بن النعمان الى نيويورك
وفاة السيد سعيد بن سلطان
سيطرة البوكيرك على زنجبار



سيطرة البوكيرك على الى نيويورك
رحلة احمد بن النعمان بن سلطان
وفاة السيد سعيد زنجبار

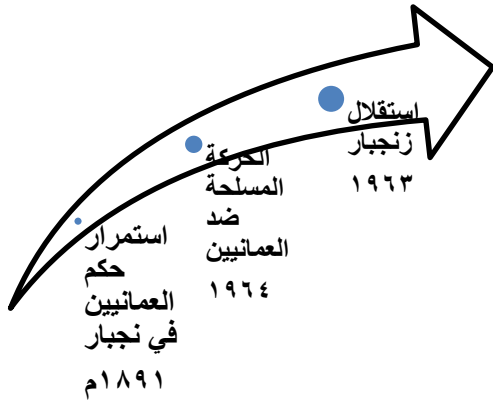


وفاة السيد سعيد بن سلطان
سيطرة البوكيرك على زنجبار
رحلة احمد بن نعمان الى نيويورك

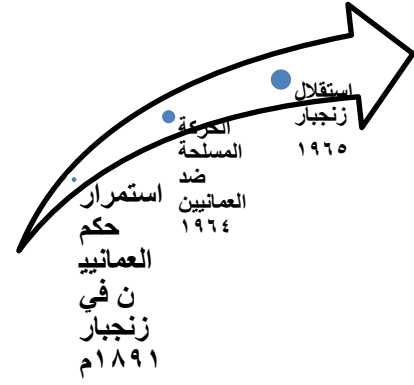


وفاة السيد سعيد بن سلطان
رحلة احمد بن نعمان الى نيويورك
سيطرة البوكيرك على زنجبار

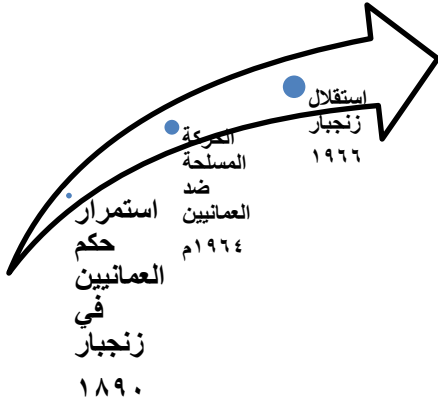
٦٦- الخط الزمني الصحيح للأحداث التاريخية في زنجبار /



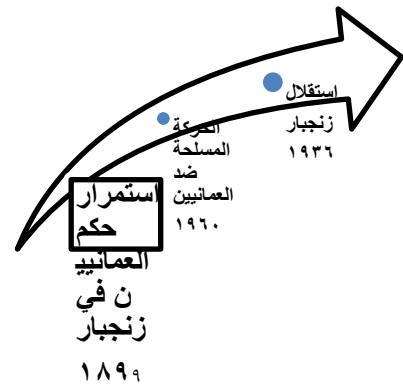
استمرار حكم العمانيين في زنجبار
الحركة المسلحة ضد العمانيين
استقلال زنجبار



استمرار حكم العمانيين في زنجبار
الحركة المسلحة ضد العمانيين
استقلال زنجبار



استمرار حكم العمانيين في زنجبار
الحركة المسلحة ضد العمانيين
استقلال زنجبار



استمرار حكم العمانيين في زنجبار
الحركة المسلحة ضد العمانيين
استقلال زنجبار

د-

* انتهت الاسئلة *

ج-

