

## شكراً لتحميلك هذا الملف من موقع المناهج العمانية



## مراجعة عامة للوحدة الثانية أسئلة امتحانات نهائية مع الإجابات

[موقع المناهج](#) ⇨ [المناهج العمانية](#) ⇨ [الصف التاسع](#) ⇨ [مهارات حياتية](#) ⇨ [الفصل الأول](#) ⇨ [الملف](#)

تاريخ نشر الملف على موقع المناهج: 08:56:15 2023-11-15

## التواصل الاجتماعي بحسب الصف التاسع



## روابط مواد الصف التاسع على تلغرام

[الرياضيات](#)

[اللغة الانجليزية](#)

[اللغة العربية](#)

[التربية الاسلامية](#)

## المزيد من الملفات بحسب الصف التاسع والمادة مهارات حياتية في الفصل الأول

<a href="#">اختبار قصير ثاني حديث</a>	1
<a href="#">بنك أسئلة المادة</a>	2
<a href="#">اختبار قصير ثاني</a>	3
<a href="#">مراجعة عامة للوحدة الثانية أسئلة امتحانات نهائية مع الإجابات</a>	4
<a href="#">خطة المحتوى التدريسي للمنهج</a>	5

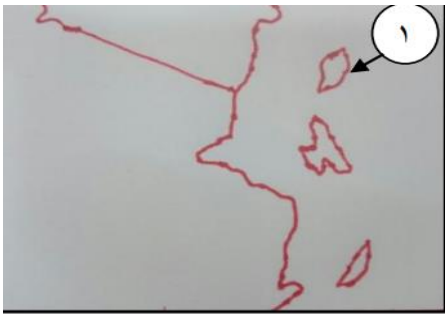
## مراجعة عامة للوحدة الثانية للفصل الاول للصف التاسع ( اسئلة امتحانات نهائية )

١- اسس امارة عربية واسعة في اعالي الكونغو :

- أ) حميد المرجي.  
ب) السيد سليمان بن حمد.  
ج) احمد النزواني.  
د) حسن الفارسي.

٢- من أهم السلع التي كانت السفن العمانية تسعى الى جلبها من شرقي افريقيا:

- أ) العاج.  
ب) العنبر.  
ج) الذهب.  
د) الزعفران.



٣- بالاستعانة بالخريطة التي أمامك الجزيرة المشار إليه بالرقم (1) تشتهر بزراعة القرنفل والنارجيل:

- أ) مافيا.  
ب) بمبا.  
ج) ممباسا.  
د) زنجبار.

٤- الامام العماني الذي طلب منه سكان شرقي افريقيا تحرير مناطقهم من الاحتلال البرتغالي:

- أ) سيف بن سلطان الاول.  
ب) سلطان بن سيف الاول.  
ج) سيف بن سلطان الثاني.  
د) سلطان بن سيف الثاني.

٥- زادت أهمية الطريق الاوسط الذي يبدأ من المؤاني المواجهة لزنجبار في القرن 19 بسبب ارتفاع اسعار:

- أ) الذهب.  
ب) العاج.  
ج) القرنفل.  
د) الجلود.



٦- الرقم الذي يشير الى موقع مقديشو والتي كانت احد مراكز انتاج الاخشاب في شرقي افريقيا:

- أ) 1.  
ب) 2.  
ج) 3.  
د) 4.

٧- الجزيرة التي استورد منها السيد سعيد بن سلطان القرنفل الى زنجبارهي:

- أ) سيشل.  
ب) مدغشقر.  
ج) سقطرة.  
د) موريشيوس.

٨- تم تأسيس المطبعة السلطانية في زنجبار في عهد السلطان:  
أ) برغش بن سعيد. ب) سلطان بن احمد. ج) سعيد بن سلطان. د) ماجد بن سعيد.

٩- توفي السيد سعيد بن سلطان عام ميلادي:  
أ) 1855. ب) 1856. ج) 1857. د) 1858.

١٠- من المحاصيل الزراعية في زنجبار واصبح الثروة الرئيسية لها:

أ) المانجو. ب) القرنفل.  
ج) السكر. د) الذرة.

١١- الشخصية المقابلة مستشار السيد سعيد بن سلطان عينه رئيسا

للوزراء عند وصوله زنجبار:

أ) احمد بن نعمان. ب) محي الدين القحطاني.  
ج) حمد البوسعيد. د) سليمان البوسعيدي.



١٢- "الاول في الحرب ، الاول في السلم والاول في قلوب أهل بلده، فهو نموذج للحاكم الذي تفخر به اي دولة في العالم..سلام على روحه" هذا النص مأخوذ من كتاب الاقاليم البحرية للكاتب ريتشارد بيرتون " الحاكم الذي يقصده الكاتب:

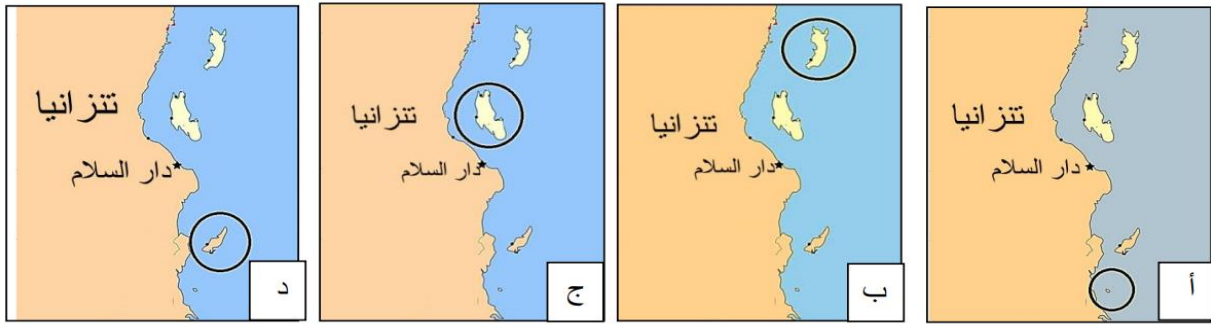
أ) ماجد بن سعيد. ب) تركي بن سعيد.  
ج) أحمد بن سعيد. د) سعيد بن سلطان.

١٣- الجزيرة المشار إليها بالرقم ( 1 ) في الخريطة التي أمامك:

أ) سيشل. ب) زنجبار.  
ج) موريشيوس. د) بمبا.



١٤- الخريطة الصحيحة لموقع الجزيرة الخضراء:



١٥- السفينة العمانية التي ذهبت الى نيويورك عام 1840م:

- أ) الرحماني.  
ب) سلطانة.  
ج) الفلك.  
د) فكتوريا.



١٦- الرقم الذي يشير إلى المدينة التي كانت مع زنجبار

من أهم مراكز إنتاج الأخشاب في شرقي أفريقيا:

- أ) 1.  
ب) 2.  
ج) 3.  
د) 4.



١٧- الشكل المقابل يوضح أحد الطرق الرئيسية لتجارة القوافل

العربية في قارة افريقيا:

- أ) الشمالي.  
ب) الأوسط.  
ج) الجنوبي.  
د) الأعلى.

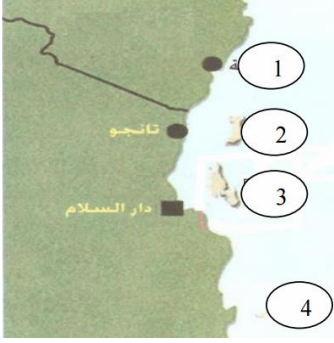
١٨- جميع الصحف التالية ظهرت في شرقي افريقيا ما عدا:

- أ) الفلق.  
ب) الإصلاح.  
ج) النهضة.  
د) الإمجاد.

١٩- أقصى أمتداد ناحية الجنوب للنفوذ العماني في الساحل الافريقي

الشرقي لافريقيا:

- أ) مقديشوا.  
ب) زنجبار.  
ج) راس دلجادو.  
د) اعالي الكونغو.



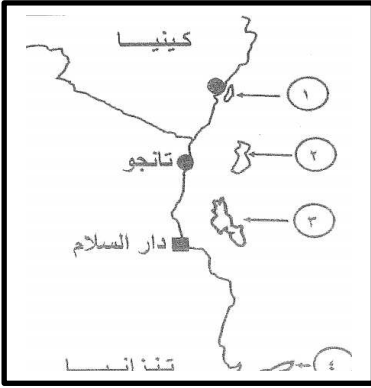
٢٠- الرقم الصحيح الذي يشير الى جزيرة مافيا:

- أ) 1.  
ب) 2.  
ج) 3.  
د) 4.

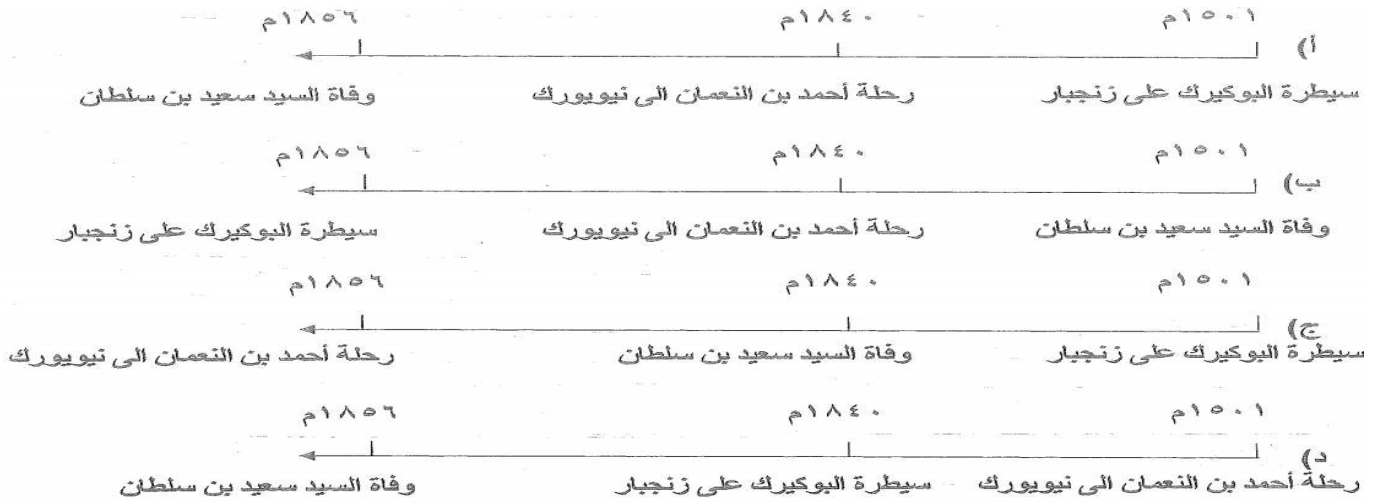
٢١- الرقم الذي يشير في الخريطة على الجزيرة التي اتخذها

سعيد بن سلطان عاصمه له في شرقي افريقيا.

- أ) 1.  
ب) 2.  
ج) 3.  
د) 4.



٢٢- المسطرة الزمنية التي تشير للتسلسل الصحيح للاحداث التاريخية:



اولا: رتب الاحداث التاريخية التالية من الاقدم الى الاحداث في الجدول التالي:

الترتيب	الاحداث
2	رحلة احمد بن النعمان الكعبي الى نيويورك على سفينة سلطانه
1	اتخذ السيد سعيد بن سلطان زنجبار عاصمة ثانية لدولته
3	تأسيس المطبعة السلطانية في زنجبار في عهد السيد برغش بن سعيد

## ثانيا: عدد اثنين مما يلي:

- ١- مميزات نظام الحكم والادارة العمانية لشرق افريقيا في عهد سلاطين البوسعيد:
  - العدالة في ادارة البلاد .
  - الشورى ( المجالس السلطانية )
  - الاستعانة بعدد كبير من المستشارين
  - زرع القيم الحضارية والمساواة بين العرب والافارقة وسيادة الشرعية الاسلامية.
- ٢- المؤثرات الثقافية العربية الاسلامية في مجال التربية والتعليم في شرق افريقيا.
  - أزالّت الأمية بين المجموعات الافريقية - مهدت الطريق لارتباط هذه المجموعات بالعالم العربي الإسلامي - أصبحت المجموعات الافريقية تعبر عن رغبتها في الانتماء والارتباط بالعنصر العربي.
- ٣- المميزات التي ميزت جزيرة زنجبار عن غيرها من مناطق شرقي افريقيا.
  - موقعها المتوسط
  - كونها جزيرة اكثر امنا من غيرها
  - ذات طقس معتدل وارضها خصبة
  - لها ميناء كبير صالح للملاحة
  - بها مياه عذبة.
- ٤- العوامل المؤثرة لتوجه العمانيون نحو شرقي افريقيا.
  - الموقع والجوار - خبرة العمانيين الملاحية - الرياح الموسمية.

ثانيا: اعط نتيجة واحدة لكل مما يلي:

  - ١- ظهور الصحافة في شرقي افريقيا.
  - أدت الى النهضة العلمية والادبية في شرقي افريقيا.
  - ٢- امتزاج الدم العربي بالدم الافريقي.
  - انتشار اللغة العربية في شرقي افريقيا
  - ٣- اعتناء العمانيون ببناء السفن الشراعية القادرة على الابحار في المحيط الهندي
  - استطاعوا بسفنهم العملاقة ان يربطوا الشواطئ العمانية بالشواطئ الافريقية.
  - ٤- اتساع الامبرطورية العمانية في عهد السيد سعيد بن سلطان وتعدد ثغورها وحصونها.
  - تعيين وال بقيادة الجيش في ولايته - بناء حاميات وحصون - بناء اسطول عسكري.

### ثالثا: علل ما يلي:

- ١- عدم توغل التجار والمهاجرين في بداية هجراتهم لشرق افريقيا للمناطق الداخلية.  
بسبب طبيعتها الجغرافية مثل : قسوة المناخ - والحيوانات المفترسة -  
والغابات الاستوائية - والجبال الشاهقة
- ٢- يعد الطريق الشمالي من اخطر طرق القوافل العربية في شرق افريقيا.  
تعرض القوافل لهجمات قبائل الماساي

### رابعا : دلل ما يلي:

- ١- قدرة أحمد بن النعمان الكعبي على تولي المهام الدولية.  
لأنه يجيد اللغتين الإنجليزية والفرنسية – وملم بعلم البحار

حميد بن محمد المرجبي	الشيخ محي الدين القحطاني الوائلي
تجارة العاج. اسس امارة عربية في الكونغو	عمل قاضي في زنجبار مستشارا عند السيد سعيد بن سلطان عمل

### خامسا : صنف الاعمال التالية في الجدول حسب الشخصية التي اشتهرت بها:

- (١) (عمل قاضي في زنجبار – تجارة العاج – عمل مستشارا عند السيد سعيد بن سلطان-  
اسس امارة عربية في الكونغو)
- (٢) صنف منجزات السيد سعيد بن سلطان في الجدول ادناه:  
(تعيين رئيسا للوزراء –وضع النظام الجمركي- إنشاء المجالس السلطانية –إستحداث  
نظام نقدي جديد- ادخال زراعة القرنفل – اختيار زنجبار عاصمة لدولته)

المجال الاقتصادي	المجال السياسي / الاداري
استحدث نظام نقدي جديد	تعيين رئيسا للوزراء
وضع النظام الجمركي	اختيار زنجبار عاصمة لدولته
ادخال زراعة القرنفل	إنشاء المجالس السلطانية

ج) صنف السلع الآتية ( الاخشاب - العاج - التوابل - العنبر ) التي جلبها التجار العمانيون الى أسواقهم من حيث مصدرها:

المصدر	السلع
شرقي افريقيا	الاششاب - العاج - العنبر
الصين والهند	التوابل

سادسا: أ) بين أهمية تحول المراكز التجارية العربية المؤقتة الى مراكز استقرار دائم في سواحل افريقيا الشرقية. **تخدم التبادل التجاري والمصالح السياسية للعمانيين**

ب) اكتب ما يدل على العبارة التالية **بين القوسين**: تسمى بالجزيرة الخضراء يبلغ طولها قرابة 78 كم وعرضها 23 كم وتشتهر بزراعة القرنفل والنارجيل ( **بمبا** )

سابعا: أمامك مجموعة من الشخصيات العمانية ساهمت في ترسيخ الوجود العماني في شرقي افريقيا ، ضع الشخصية المناسبة في الجدول التالي في مكانها الصحيح:

( **محي الدين القحطاني - حسن الفارسي - سليمان البوسعيدي - حميد المرجبي** )

اسم الشخصية	أهم اعماله
<b>محي الدين القحطاني</b>	أحد ابرز قضاة زنجبار
<b>حميد المرجبي</b>	اسس امارة اسلامية عربية في اعالي الكونغو
<b>سليمان البوسعيدي</b>	عينه السيد سعيد بن سلطان رئيسا للوزراء
<b>حسن الفارسي</b>	أسند إليه إدارة مجموعة من السفن الحربية



د) صنف المناطق الجغرافية التالية وفق ما تراه مناسباً في الجدول :

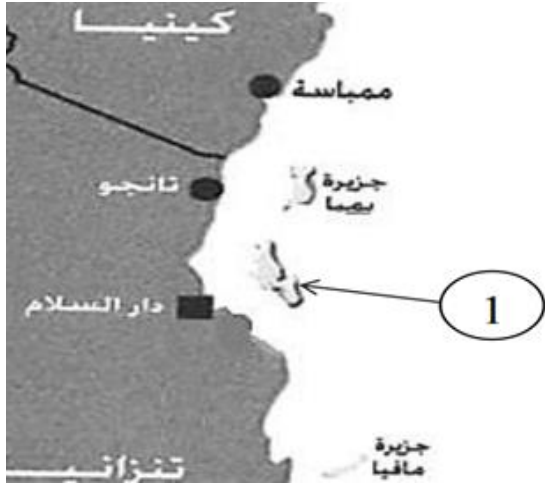
(نيويورك - موريشيوس - الكونغو - سيشل - بمبا).

بمبا	تسمى الجزيرة الخضراء، ارضها خصبة جدا وتشتهر بزراعة القرنفل والنارجيل
نيويورك	المدينة التي قصدها السفينة سلطنة في رحلتها عبر المحيط الاطلسي سنة 1840م
موريشيوس	يستور منها القرنفل الى زنجبار قبل ان يقر السيد سعيد زراعته في زنجبار
سيشل	توفي بالقرب منها السيد سعيد بن سلطان على ظهر سفينة فكتوريا.



ثامنا : ادرس الخريطة اعلاه ثم اجب عما يلي :

- ١) ظلل على الخريطة امتداد الإمبراطورية العمانية في عهد السيد سعيد بن سلطان.
- ٢) ارسم خط سير السفينة سلطانه الى نيويورك.
- ٣) وقع على الخريطة المحيط الهندي.



تاسعا: ادرس الخريطة التي أمامك ثم اجب عما يلي :

- ١- يشير الرقم ( 1 ) الى جزيرة....**زنجبار**
- ٢- تقع هذه الجزيرة المشار اليها بالرقم ( 1 ) بالنسبة لشرق افريقيا جهة ...**الشرق**
- ٣- اسم المسطح المائي الموجود في هذه المنطقة .... **المحيط الهندي.....**

عاشرا: استعن بالشكل المقابل ( احدى صحف شرقي أفريقيا ) ثم اجب عن الأسئلة التي تليها :



- ١- ما العوامل التي ساعدت على ازدهار هذه الصحف؟ (يكتفي بواحد )

**تأسيس المطبعة السلطانية**

- ٢- سم صحف أخرى ظهرت في نفس الفترة.

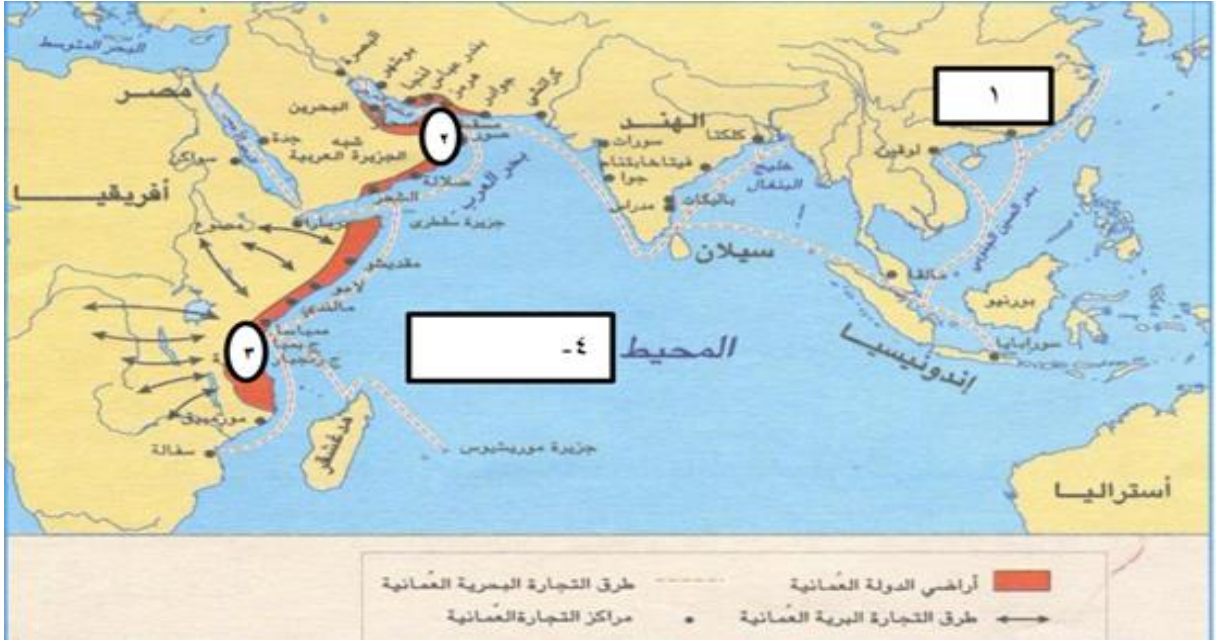
**النهضة والاصلاح**

- ٣- ما المواضيع التي تناولتها هذه الصحف؟

**توعية الناس في أمور دينهم وديناهم - المبادئ والقيم - الأوضاع السائدة في تلك الفترة**

الحادي عشر: اكمل الجدول التالي :

م	السبب	النتيجة
1	ظهور مراكز تجارية اوروبية تخصصت في صناعة العاج في كل من المانيا وهولندا وبريطانيا	<b>زيادة الطلب على العاج.</b>
2	<b>استحداث نظام نقدي جديد حل محل العملات الاجنبية</b>	لم يكن ينتهي عهد السيد سعيد بن سلطان في زنجبار حتى اختفت إلى حد كبير العملات الأجنبية ( الريالات الألمانية والنمساوية والاسبانية)



- ١ - سم الدولة المشار إليها بالرقم (1) . **الصين**
- ٢ - عدد اثنين من السلع التي كانت تصدرها المنطقة المشار إليها بالرقم (3) الى المنطقة المشار إليها بالرقم (2) . **(الجلود) (الاشخاب)**

