

تم تحميل هذا الملف من موقع المناهج العُمانية



\* للحصول على أوراق عمل لجميع الصفوف وجميع المواد اضغط هنا

<https://almanahj.com/om>

\* للحصول على أوراق عمل لجميع مواد الصف التاسع اضغط هنا

<https://almanahj.com/om/9>

\* للحصول على جميع أوراق الصف التاسع في مادة اجتماعيات ولجميع الفصول, اضغط هنا

<https://almanahj.com/om/9social>

\* للحصول على أوراق عمل لجميع مواد الصف التاسع في مادة اجتماعيات الخاصة بـ الفصل الثاني اضغط هنا

<https://almanahj.com/om/9social2>


\* لتحميل كتب جميع المواد في جميع الفصول للـ الصف التاسع اضغط هنا

<https://almanahj.com/om/grade9>

\* لتحميل جميع ملفات المدرس علي بن محمد الحسان اضغط هنا

للتحدث إلى بوت على تلغرام: اضغط هنا

[https://t.me/omcourse\\_bot](https://t.me/omcourse_bot)



**مذكرة إثرائية لمادة  
الدراسات الاجتماعية**

**2020-2021**

**الصف الثامن**

**الفصل الدراسي الثاني  
الوحدة الرابعة  
( التربية السكانية )**

**سؤال وجواب**

**إعداد :**

**علي بن محمد الحسان**

**للتواصل :**

**99493923**

**Ali 47536@moe.om**

درس ( الانفجار السكاني )**السؤال الأول : ضع علامة ( ✓ ) أو ( X ) أمام العبارة المناسبة مع تصحيح ما تحته خط إذا كانت العبارة خطأ :**

- ١- ( X ) تميزت مراحل النمو السكاني في العالم بفترات نمو متساوية السرعة . متباينة
- ٢- ( ✓ ) شهد الثلث الأخير من القرن العشرين نمواً لامثيل له في عدد سكان العالم .
- ٣- ( X ) عندما يزيد عدد السكان عن إمكانية الدول فإن ذلك يعني زيادة فرص العمل . قلة

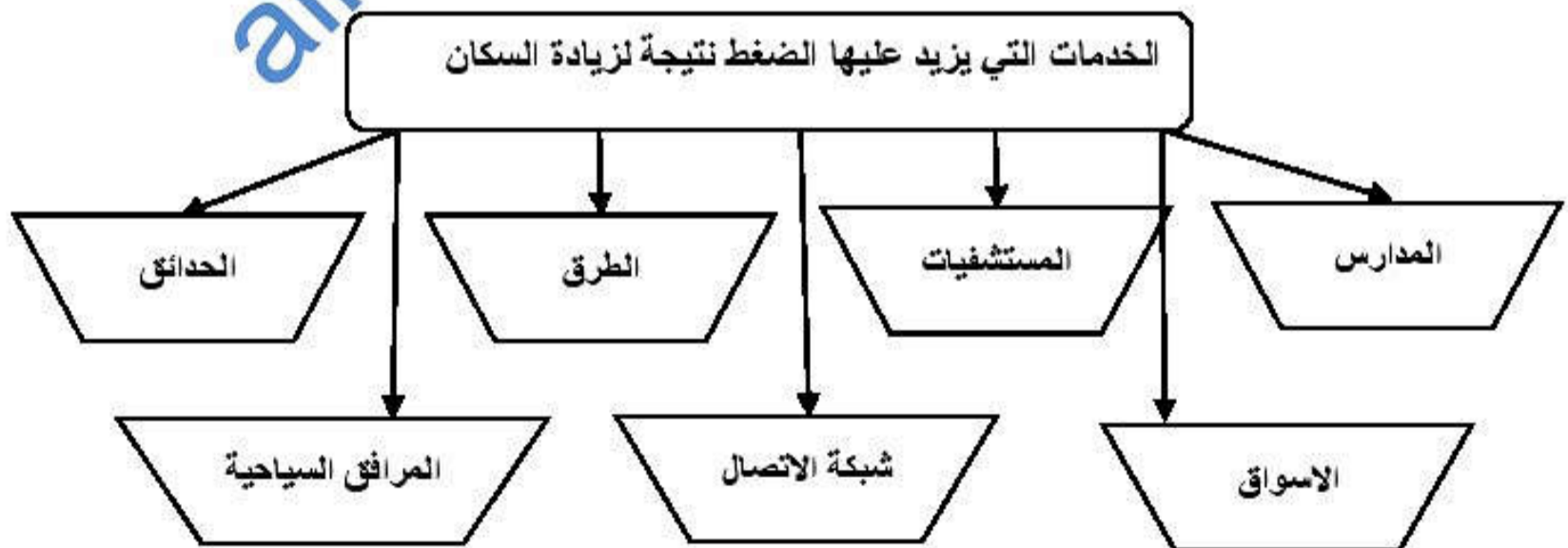
**السؤال الثاني : ضع امام كل عبارة المصطلح الدال عليها .**

- ١- ( سوء التغذية ) عدم احتواء غذاء الانسان على سرعات حرارية كافية لبقائه على قيد الحياة.
- ٢- ( التريية السكانية ) العلم الذي يهدف الى التعريف بالسكان والظواهر السكانية من حيث اسبابها والعوامل التي تتحكم فيها
- ٣- ( الانفجار السكاني ) الزيادات الكبيرة في أعداد السكان بالمقارنة مع الموارد المتاحة .

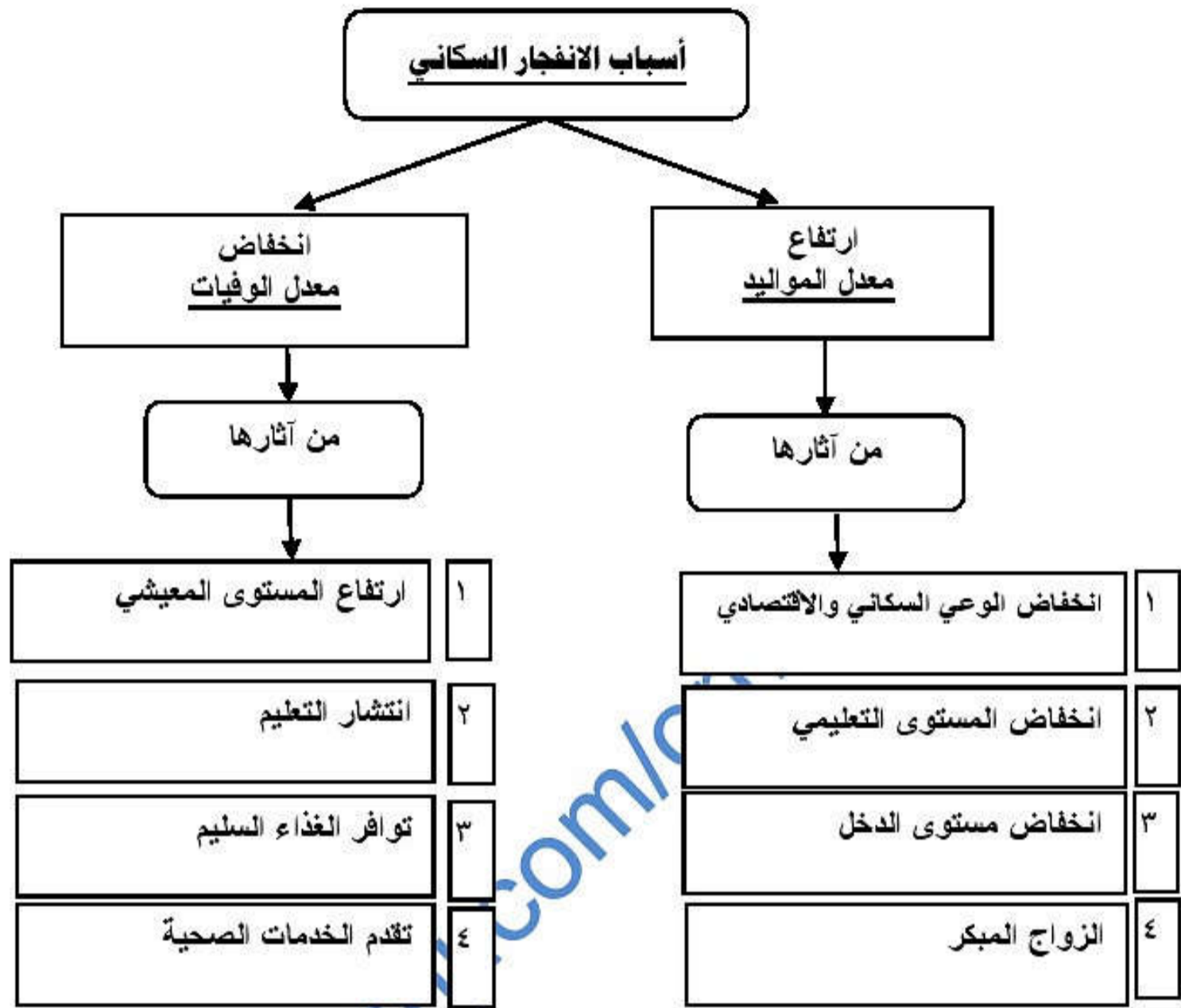
**السؤال الثالث : ضع دائرة حول الإجابة الصحيحة من بين البدائل المعطاة :**

- ١- بلغ متوسط الذين يموتون جوعاً يومياً على المستوى العالمي نحو ..... ألف نسمة  
( ٢٠ - ٣٠ - ٤٠ )

- ٢- يسعى الإنسان للحصول على الطاقة غير القابلة للنفاد وغير مكلفه تأتي في مقدمتها الطاقة  
( المائية - الحيوية - الشمسية )

**السؤال الرابع : تؤدي الزيادة السكانية لاسيما في المدن الى الضغط على الخدمات والمرافق العامة أكمل الشكل بأربعة من هذه الخدمات**

**السؤال الخامس : الشكل التالي يوضح " أسباب الانفجار السكاني " أكمل الفراغات فيما يلي :**



**السؤال السادس : أكمل الشكل بكتابة ثلاثة من الآثار الاقتصادية والاجتماعية للانفجار السكاني**



**السؤال السابع : أجب عن الأسئلة التالية :**

س ١ : عرف مفهوم الانفجار السكاني ؟

ج ١ : هو الزيادات الكبيرة في أعداد السكان بالمقارنة مع الموارد المتاحة .

س ٢ : " يتحدد النمو السكاني بعاملين أساسيين " ما هما ؟

ج ٢ : ١- الزيادة الطبيعية . ٢- الهجرة .

س ٣ : ماذا يقصد بالتربية السكانية ؟

ج ٣ : هو العلم الذي يهدف الى التعريف بالسكان والظواهر السكانية من حيث اسبابها والعوامل التي تتحكم فيها والآثار المترتبة عليها والعلاقات التي تربطها وتوجه هذه المعرفة نحو تكوين اتجاهات ومواقف تؤثر في سلوك الافراد لتحسين نوعية الحياة للفرد والاسرة والمجتمع .

س ٤ : " للانفجار السكاني آثار اقتصادية واجتماعية " أذكر ثلاثة من هذه الآثار مع شرح واحدة منها بإيجاز ؟

- ١- نقص الغذاء وسوء التغذية : نقص الغذاء يؤدي الى ظهور المجاعات وبالتالي إلى موت العديد من البشر يوميا ( ٢٠ ألف نسمة يوميا ) ويقصد بسوء التغذية هو عدم احتواء غذاء الانسان على سرعات حرارية كافية لبقائهم على قيد الحياة
- ٢- انخفاض المستوى المعيشي : يعد انخفاض المستوى المعيشي نتيجة طبيعية لضعف الاقتصاد وغياب فرص العمل وقلة امكانيات الدول من الموارد فعندما يزيد عدد السكان عن إمكانية الدول فإن ذلك يعني قلة فرص العمل وانخفاض الأجور وبالتالي انخفاض المستوى المعيشي .
- ٣- قلة فرص العمل : مشكلة عالمية يرجع سببها الاساسي الى الزيادة السكانية بما يفوق عدد فرص العمل المتوافرة
- ٤- الضغط على الخدمات : الضغط على الخدمات والمرافق العامة ( المستشفيات والمدارس والاسواق والحدائق و.....
- ٥- الضغط على مصادر الطاقة : تزداد الحاجة الى الطاقة يوميا نتيجة لزيادة عدد السكان والتقدم الاقتصادي والاجتماعي ويؤدي الضغط المتزايد على مصادر الطاقة المختلفة إلى تعرضها للاستنزاف لاسيما وأن معظمها قابلة للنفاذ .