

تم تحميل هذا الملف من موقع المناهج العمانية



الامتحان النهائي الرسمي الدور الأول الفترة الصباحية

موقع فايلاتي ⇨ المناهج العمانية ⇨ الصف التاسع ⇨ اجتماعيات ⇨ الفصل الأول ⇨ الامتحان النهائي ⇨ الملف

تاريخ إضافة الملف على موقع المناهج: 12:27:46 2025-01-19

ملفات اكتب للمعلم اكتب للطالب | اختبارات الكترونية | اختبارات | حلول | عروض بوربوينت | أوراق عمل
منهج انجليزي | ملخصات وتقارير | مذكرات وبنوك | الامتحان النهائي للمدرس

المزيد من مادة
اجتماعيات:

التواصل الاجتماعي بحسب الصف التاسع



صفحة المناهج
العمانية على
فيسبوك

الرياضيات

اللغة الانجليزية

اللغة العربية

التربية الاسلامية

المواد على تلغرام

المزيد من الملفات بحسب الصف التاسع والمادة اجتماعيات في الفصل الأول

امتحان تجريبي بمحافظة ظفار مع نموذج الإجابة

1

تقرير عن الهرم السكاني

2

بوربوينت ملخص شرح درس عمان في محيطها العالمي

3

الملف الشامل للمادة

4

مذكرة إثرائية سؤال وجواب في الوحدة الأولى (جغرافية السكان)

5

المادة: الدراسات الاجتماعية - الصف: التاسع - الفصل الدراسي الأول - الدور الأول - الفترة الصباحية -
العام الدراسي ٢٠٢٤/٢٠٢٥ م

أجب عن جميع الأسئلة الآتية

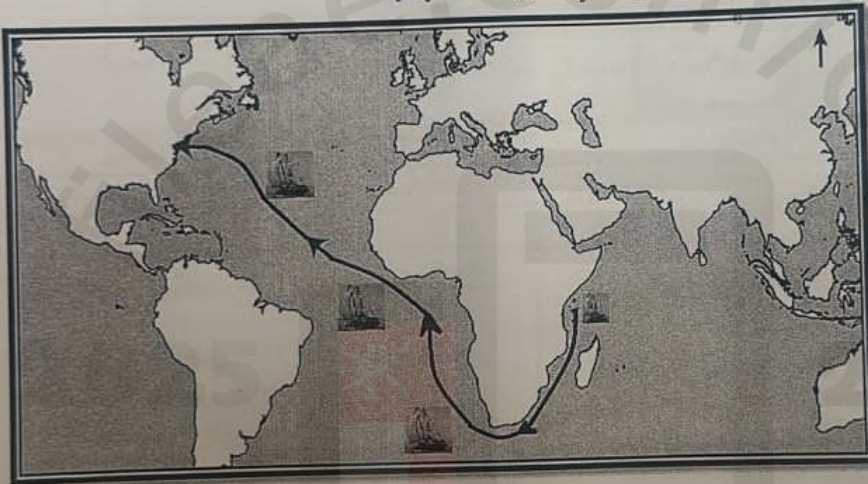
أولاً: الأسئلة الموضوعية:

ضع دائرة حول رمز الإجابة الصحيحة لكل مفردة من المفردات الآتية:

١. استقادت سلطنة عمان من نتائج التعداد السكاني لعام ١٩٩٣ م في وضع برامج الخطتين الخمسيتين:

- (أ) الثانية والثالثة.
(ب) الثالثة والرابعة.
(ج) الرابعة والخامسة.
(د) الخامسة والسادسة.

٢. اسم السفينة العمانية الواضح خط سيرها في الخريطة المقابلة:




- (أ) سلطنة.
(ب) فكتوريا.
(ج) شاه علم.
(د) ليفر بول.

٣. تم الإعلان عن جائزة السلطان قابوس - طيب الله ثراه - لصون البيئة في القرن الميلادي:

- (أ) الثامن عشر. (ب) التاسع عشر. (ج) العشرون. (د) الحادي والعشرون.

٤. الشكل البياني الصحيح الذي يمثل دول العالم الإسلامي من حيث جملة عدد السكان المسلمين:



المادة: الدراسات الاجتماعية - الصف: التاسع - الفصل الدراسي الأول - الدور الأول - الفترة الصباحية -
العام الدراسي ٢٠٢٤/٢٠٢٥ م

تابع أولاً: الأسئلة الموضوعية:



٥. الترتيب الصحيح لمواقع الجزر من الشمال إلى الجنوب في الخريطة المقابلة:

أ	زنجبار، ميبا، مافيا.
ب	ميبا، زنجبار، مافيا.
ج	زنجبار، مافيا، ميبا.
د	مافيا، زنجبار، ميبا.

٦. العام الميلادي لبداية حكم أسرة اليوسعيد لعمان:

- (أ) ١٧٤١ (ب) ١٧٤٢ (ج) ١٧٤٣ (د) ١٧٤٤

٧. الشخصية التي يشير إليها النص المقابل:

جاء في المادة (١) من معاهدة التجارة بين بريطانيا والسيد ... (سوف يكون لرعايا صاحب السمو سلطان مسقط حرية الدخول والإقامة والمتاجرة والمرور بالبضائع من خلال جميع أجزاء ممتلكات صاحبة الجلالة البريطانية)

- (أ) سعيد بن سلطان. (ب) ماجد بن سعيد.
(ج) برغش بن سعيد. (د) خليفة بن سعيد.

٨. الترتيب التصاعدي الصحيح للدول من حيث الزيادة الطبيعية وفقاً للجدول المقابل:

الدولة	معدل المواليد الخام بالألف	معدل الوفيات الخام بالألف	الزيادة الطبيعية
الإمارات	٢٤	٢	٢٢
مصر	٢٦	٦	٢٠
سوريا	٣٣	٦	٢٧
الجزائر	٢٩	٦	٢٣

- (أ) الامارات - مصر - سوريا - الجزائر.
(ب) مصر - الامارات - الجزائر - سوريا.
(ج) الجزائر - سوريا - مصر - الامارات.
(د) سوريا - الجزائر - الامارات - مصر.

المادة: الدراسات الاجتماعية - الصف: التاسع - الفصل الدراسي الأول - الدور الأول - الفترة الصباحية -
العام الدراسي ٢٠٢٤/٢٠٢٥ م

تابع أولاً: الأسئلة الموضوعية:

٩. الجائزة التي توضحها الصورة المقابلة:



(أ) السلام الدولية.

(ب) ملك السلام.

(ج) التفاهم الدولي.

(د) الإنسان العربي.

١٠. المراكز التجارية الأوروبية التي تخصصت في صناعة العاج:

أ	أسبانيا.	هولندا.	بريطانيا.
ب	ألمانيا.	بريطانيا.	فرنسا.
ج	ألمانيا.	هولندا.	بريطانيا.
د	أسبانيا.	فرنسا.	بريطانيا.

١١. البطاقة التعريفية المقابلة تنسب إلى:

(أ) لجنة التراث العالمي.

(ب) مجلس إدارة معهد اليونسكو للإحصاء.

(ج) مشروع شبكة المدارس المنتسبة لليونسكو.

(د) منظمة الأمم المتحدة للتربية والعلوم والثقافة.

البطاقة التعريفية

- دعم التعاون الدولي.
- زيادة المعرفة بمشكلات العالم.
- تنمية التفاهم بين شعوب العالم.
- تنمية القدرة على الاتصال بالآخرين والتحاور معهم.

يتبع ٤

المادة: الدراسات الاجتماعية - الصف: التاسع - الفصل الدراسي الأول - الدور الأول - الفترة الصباحية -
العام الدراسي ٢٠٢٤/٢٠٢٥ م

تابع أولاً: الأسئلة الموضوعية:

١٢. الخريطة الصحيحة للمحافظة للأقل كثافة سكانية في سلطنة عُمان حسب بيانات تعداد عام ٢٠١٠ م:



(أ)



(ب)



(ج)



(د)

١٢

نتيجه

المادة: الدراسات الاجتماعية - الصف: التاسع - الفصل الدراسي الأول - الدور الأول - الفترة الصباحية -
العام الدراسي ٢٠٢٤/٢٠٢٥ م

تابع ثانياً: الأسئلة المقالية:

١٣ ج. اكتب أمام كل بطاقة تعريفية اسم الشخصية التي تنتمي إليها:
(حميد بن محمد المرجبي - الشيخ محيي الدين القحطاني الوائلي - السيد سعيد بن سلطان - السيد سليمان بن حمد).

ذاع صيته وسيرته في
المصادر الأجنبية، ولعب دوراً
عالمياً في تجارة العاج،
وأسس إمارة عربية إسلامية
في أعالي الكونغو.

.....(٣)

يعد أبرز قضاة زنجبار،
ويعتبر أحد مستشاري السيد
ماجد، وكان موضع احترام
وتقدير من كافة الناس في
نواحي شرقي أفريقيا.

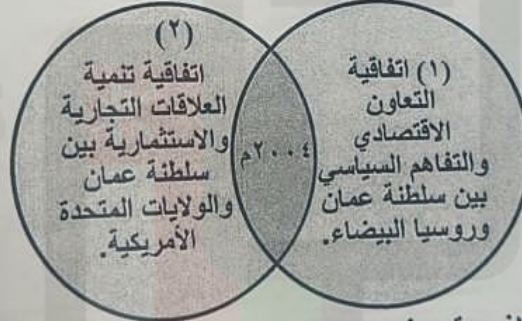
.....(٢)

الأول في الحرب والأول في
السلم، والأول في قلوب أهل
بلده، فهو نموذج للحاكم الذي
تفخر به أي دولة في العالم ...
سلام على روحه.

.....(١)

٧

١٤ أ. ادرس الشكل جيداً، ثم أجب عن الأسئلة الآتية:



١. حدد القرن الميلادي الذي وقعت فيه الاتفاقيتين.

٢. عدد المجالات التي تضمنتها الاتفاقية التي تحمل رقم (١).

٣. القارة التي تقع فيها الدولة التي وقعت الاتفاقية مع سلطنة عمان والتي تحمل رقم (٢).

يتبع ٧

المادة: الدراسات الاجتماعية - الصف: التاسع - الفصل الدراسي الأول - الدور الأول - الفترة الصباحية -
العام الدراسي ٢٠٢٤/٢٠٢٥ م

تابع ثانياً: الأسئلة المقالية:

١٤) ب. أذكر اثنين من النتائج التي ترتبت على الآتي:

١. ارتباط العمانيين بالملاحة البحرية منذ القدم.

.....*

.....*

٢. تمكن السيد سعيد بن سلطان من جعل زنجبار سوقاً تجارياً ضخماً.

.....*

.....*

٧

١٥) أ. ادرس النص جيداً، ثم أجب عن الأسئلة الآتية:

" وقد عملت الرابطة، من أجل تحقيق هذه الغاية، على صياغة وتنفيذ مشروعات التعاون الاقتصادي ذات الصلة بتسهيل التجارة، وتشجيع الاستثمار الأجنبي، والتبادل العلمي والتكنولوجي، والسياحة، وتطوير البنية الأساسية، وتنمية الموارد البشرية."

١. سم الرابطة التي أشار إليها النص.

.....

٢. ظلل على الخريطة احدى الدول التي دعت إلى قيام هذه الرابطة.



يتبع ٨

المادة: الدراسات الاجتماعية - الصف: التاسع - الفصل الدراسي الأول - الدور الأول - الفترة الصباحية -
العام الدراسي ٢٠٢٤/٢٠٢٥ م

تابع ثانيًا: الأسئلة المقالية:

(١٦) أ. فسر الآتي:

١. عقدت سلطنة عمان العديد من الاتفاقيات الاقتصادية والتجارية مع الدول الإسلامية.

٢. أنشاء منظمة الأمم المتحدة للتربية والعلم والثقافة (اليونسكو).

ب) اكتب أرقام العبارات الصحيحة التي تنطبق على المنظمة الواضح شعارها في الشكل المقابل، في الجدول الذي يلي العبارات:



١. تحديد ساعات العمل.

٢. رفع مستوى التغذية.

٣. حفظ المنتجات الغذائية.

٤. الاسم المختصر لها (I.L.O).

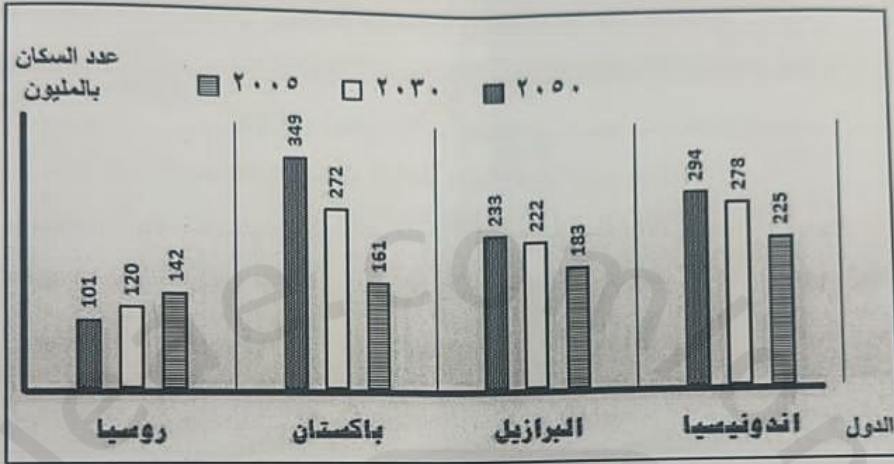
أرقام العبارات الصحيحة

يتبع ١٠

المادة: الدراسات الاجتماعية - الصف: التاسع - الفصل الدراسي الأول - الدور الأول - الفترة الصباحية -
العام الدراسي ٢٠٢٤/٢٠٢٥ م

تابع ثانياً: الأسئلة المقالية:

١٦ ج. ادرس الشكل الذي يوضح بعض دول العالم من حيث عدد السكان جيداً، ثم أجب عن الأسئلة الآتية:



١. ضع دائرة في الشكل البياني حول الدولة التي تأتي في المرتبة الثالثة من حيث عدد السكان في عام ٢٠٣٠ م.

٢. في أي عام ميلادي من المتوقع أن يصل فيه عدد سكان باكستان إلى ٣٤٩ مليون نسمة؟

٣. أحسب الفارق السكاني بين اندونيسيا وروسيا في عام ٢٠٥٠ م.

٧

انتهت الأسئلة مع الدعاء للجميع بالتوفيق والنجاح

المادة: الدراسات الاجتماعية - الصف: التاسع - الفصل الدراسي الأول - الدور الأول - الفترة الصباحية -
العام الدراسي ٢٠٢٤/٢٠٢٥ م

ثانياً: الأسئلة المقالية:

١٣) أ. اكتب (المفهوم/ المصطلح) الدال على المعلومات الموجودة في المخططات الآتية:



ب. أكمل الشكل الآتي بما يناسبه:



تابع ثانياً: الأسئلة المقالية:

١٥ ب. أمامك خريطة الطرق والمراكز التجارية العمانية في عهد السيد سعيد بن سلطان درسها جيداً، ثم أجب عن الأسئلة الآتية:



١. ظل المربع الذي يشير إلى الدولة التي كانت من مراكز إنتاج الأخشاب في شرقي أفريقيا.
٢. اكتب على الخريطة (جزيرة مدغشقر، الهند).
- ج. اقرأ النصين جيداً، ثم أجب عن الأسئلة الآتية:

٢ أقدمت شركة بعد طرح منتجها بإجراء استطلاع على عينة من العملاء إذا كانوا سعداء باستخدام المنتج المعروف في السوق.

١ محمد موظف في المركز الوطني للإحصاء والمعلومات أوكل إليه القيام بمهمة حصر عدد السكان في سلطنة عمان في عام ٢٠٢٠ م.

١. استخرج من النص الأول المصدر الذي من خلاله تم الحصول على البيانات السكانية.

٢. لماذا يعد المصدر الثاني أقل دقة في بياناته السكانية عن المصدر الأول؟

٧