

تم تحميل هذا الملف من موقع المناهج العُمانية



\*للحصول على أوراق عمل لجميع الصفوف وجميع المواد اضغط هنا

<https://almanahj.com/om>

\* للحصول على أوراق عمل لجميع مواد الصف التاسع اضغط هنا

<https://almanahj.com/om/9>

\* للحصول على جميع أوراق الصف التاسع في مادة اجتماعيات ولجميع الفصول, اضغط هنا

<https://almanahj.com/om/9social>

\* للحصول على أوراق عمل لجميع مواد الصف التاسع في مادة اجتماعيات الخاصة بـ الفصل الأول اضغط هنا

<https://almanahj.com/om/9social1>

\* لتحميل كتب جميع المواد في جميع الفصول للـ الصف التاسع اضغط هنا

<https://almanahj.com/om/grade9>

للتحدث إلى بوت على تلغرام: اضغط هنا

[https://t.me/omcourse\\_bot](https://t.me/omcourse_bot)



امتحان مادة: الدراسات الاجتماعية  
للفص: التاسع  
للعام الدراسي ١٤٤٠/١٤٤١هـ - ٢٠١٩/٢٠٢٠م  
الدور الأول - الفصل الدراسي الأول

موقع المناهج العُمانية [almanahj.com/om](http://almanahj.com/om)

- زمن الامتحان: (ساعة ونصف)
- عدد صفحات أسئلة الامتحان (٨)
- الإجابة في الدفتر نفسه

		اسم الطالب
الصف		المدرسة

التوقيع بالاسم		الدرجة		السؤال
المصحح الثاني	المصحح الأول	بالحروف	بالأرقام	
				١
				٢
				٣
				٤
				٥
مراجعة الجمع	جمعه			المجموع
				المجموع الكلي

أجب عن جميع الأسئلة الآتية

السؤال الأول: ضع دائرة حول رمز الإجابة الصحيحة لكل مفردة من المفردات الآتية:

١- منظمة تابعة للأمم المتحدة تهدف إلى توسيع دائرة الضمان الاجتماعي والرعاية الصحية:

- (أ) العمل الدولية. (ب) الأمم المتحدة للأغذية والزراعة.  
(ج) الصحة العالمية. (د) صندوق الأمم المتحدة الدولي لرعاية الطفولة.

٢- مصدر من المصادر الأساسية للحصول على البيانات السكانية:

- (أ) سجل المؤسسات الحكومية. (ب) سجلات المدارس. موقع المناهج العمانية [almanahj.com/om](http://almanahj.com/om)  
(ج) سجل الأحوال المدنية. (د) سجلات المؤسسات الأهلية.

٣- يبلغ معدل الوفيات الخام وفق معطيات الجدول المقابل:

عدد السكان في سنة معينة	عدد الوفيات في نفس السنة
١٥٠٠٠٠	٣٠٠٠

(أ) ١٠ (ب) ٢٠

(ج) ٣٠ (د) ٤٠

٤- تُصنف الدول التي تتجاوز كثافتها السكانية ٨٠٠ نسمة / كم<sup>٢</sup> بأنها ذات كثافة سكانية:

- (أ) منخفضة. (ب) منخفضة جدا. (ج) مرتفعة. (د) مرتفعة جدا.

٥- المدينة التي تم اختيارها مقرا لمنظمة التعاون الإسلامي منظمة المؤتمر الإسلامي سابقا:

- (أ) الرباط. (ب) القاهرة. (ج) جدة. (د) بغداد.

٦- لعب دورا عالميا في تجارة العاج وأسس إمارة عربية إسلامية في أعالي الكونغو:

- (أ) محي الدين القحطاني الوائلي. (ب) سليمان بن حمد البوسعيدي.  
(ج) احمد بن النعمان الكعبي. (د) حميد بن محمد المرجبي.

(٢)  
المادة: الدراسات الاجتماعية الصف: التاسع  
الدور الأول - الفصل الدراسي الأول - العام الدراسي ٢٠١٩ / ٢٠٢٠ م

تابع السؤال الاول:

٧ - الترتيب الصحيح للهجرات العربية من شبه الجزيرة العربية إلى شرقي أفريقيا:

م	الهجرات العربية
١	هجرة أولاد الجلندي.
٢	هجرة أهل الاحساء.
٣	هجرة سليمان بن سليمان بن مظفر النبهاني.

(ب)

م	الهجرات العربية
١	هجرة أهل الاحساء.
٢	هجرة أولاد الجلندي.
٣	هجرة سليمان بن سليمان بن مظفر النبهاني.

(أ)

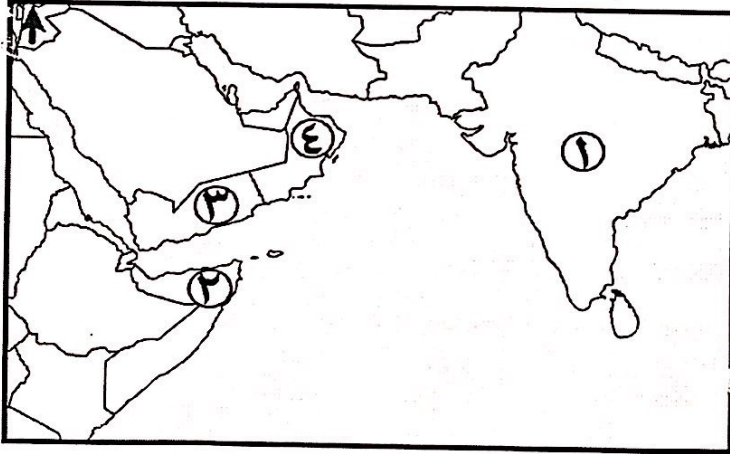
م	الهجرات العربية
١	هجرة أولاد الجلندي.
٢	هجرة سليمان بن سليمان بن مظفر النبهاني.
٣	هجرة أهل الاحساء.

(د)

م	الهجرات العربية
١	هجرة أهل الاحساء.
٢	هجرة سليمان بن سليمان بن مظفر النبهاني.
٣	هجرة أولاد الجلندي.

(ج)

٨ - الرقم الذي يشير إلى الدولة التي تولت رئاسة رابطة الدول المطلة على المحيط الهندي للتعاون الإقليمي عامي ٢٠٠١-٢٠٠٣ م:



- (أ) ١  
(ب) ٢  
(ج) ٣  
(د) ٤

٩ - الجزيرة التي توفي السيد سعيد بن سلطان بالقرب منها على ظهر سفينته فكتوريا:

- (أ) سيشل. (ب) بمبا. (ج) زنجبار. (د) سقطرى.

(٣)

المادة: الدراسات الاجتماعية الصف: التاسع  
الدور الأول - الفصل الدراسي الأول - العام الدراسي ٢٠١٩ / ٢٠٢٠ م

تابع السؤال الاول:

١٠ - الترتيب الصحيح للمحافظات في الجدول المقابل حسب تعداد عام ٢٠١٠ م اعتمادا على نسبة النوع العامة من الأقل إلى الأكثر:

المحافظة	نسبة النوع العامة
البريمي	١٤٥,٤
الداخلية	١٢٥,٧
مسقط	١٧٥,٩
الشرقية	١١٨

(أ) الشرقية - البريمي - مسقط - الداخلية.

(ب) البريمي - الداخلية - الشرقية - مسقط.

(ج) الشرقية - الداخلية - البريمي - مسقط.

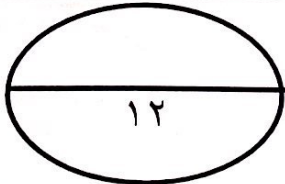
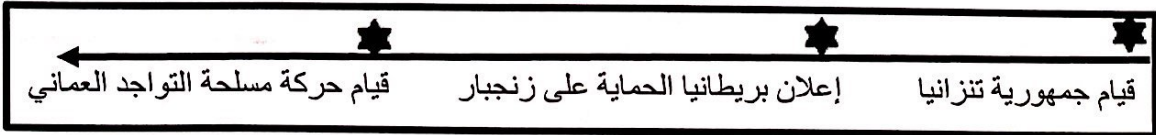
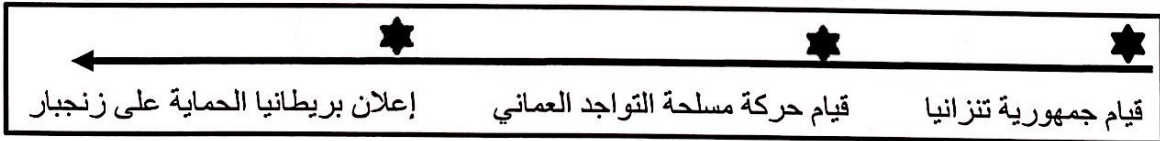

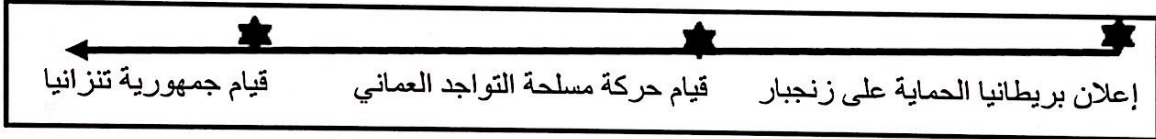
(د) البريمي - الشرقية - مسقط - الداخلية.

موقع المناهج العمانية [almanahj.com/om](http://almanahj.com/om)

١١ - الدولة التي تمثل المرحلة الرابعة من مراحل الانتقال السكاني:

(أ) البرازيل. (ب) اليابان. (ج) الهند. (د) الصين.

١٢ - المسطرة الزمنية التي تشير إلى التسلسل الصحيح للأحداث بعد نهاية حكم العمانيين لزنبار:



يتبع / ٤

السؤال الثاني:

أولاً: أكمل الجدول الآتي بكتابة السبب أو النتيجة:

م	السبب	النتيجة
أ	ظهور مراكز تجارية أوروبية تخصصت في صناعة العاج.	..... .....
ب	..... .....	اختفاء الكثير من العملات الأجنبية بزنجبار في عهد السيد سعيد بن سلطان .

ثانياً: ادرس الشكل الذي أمامك جيداً ثم أجب عن الأسئلة الآتية:

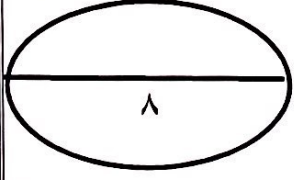
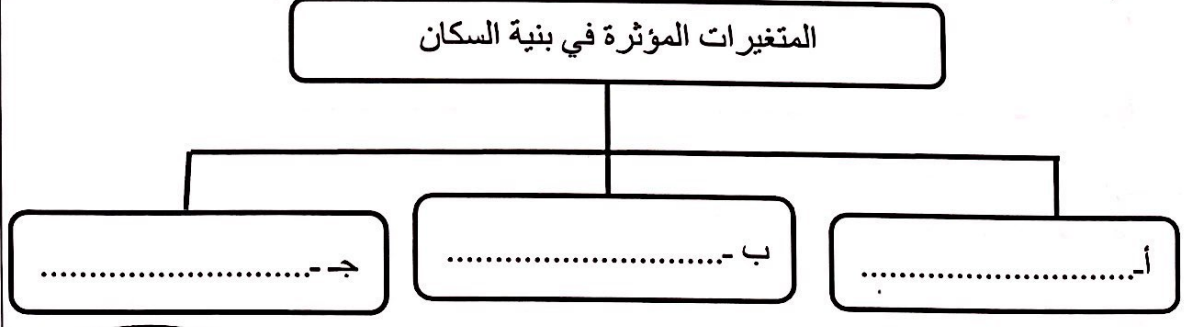


أ) ضع عنواناً مناسباً يعبر عن المشكلة في الصورة المقابلة.

ب) ما اسم المنظمة العالمية التي تعالج المشكلة التي تعبر عنها الصورة؟

ج) أعط حللاً من عندك يعالج هذه المشكلة.

ثالثاً: أكتب في خريطة المفاهيم التي أمامك:



يتبع/٥

(٥)  
المادة: الدراسات الاجتماعية الصف: التاسع  
الدور الأول - الفصل الدراسي الأول - العام الدراسي ٢٠١٩ / ٢٠٢٠ م

السؤال الثالث:

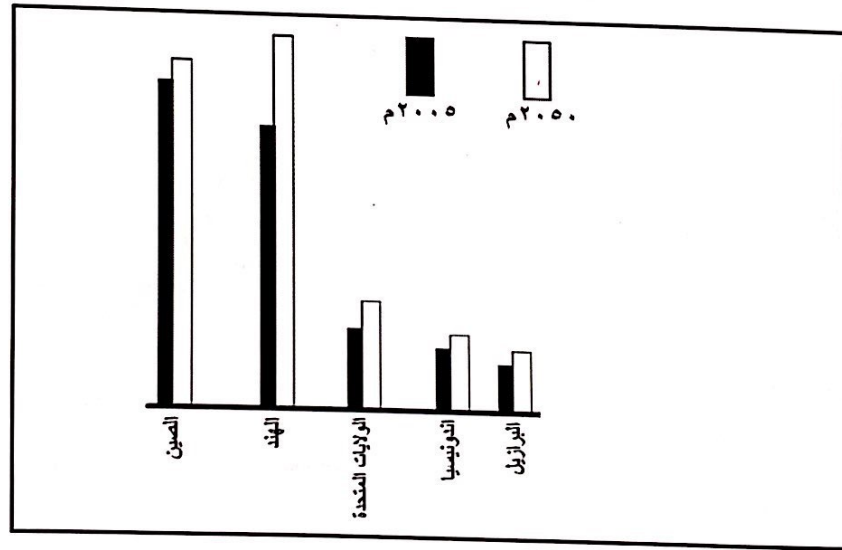
أولاً:

أ- احسب نسبة الزيادة الطبيعية إذا علمت أن عدد المواليد الاحياء في مدينة ما (١٢٠٠) وعدد الوفيات (٢٠٠).

.....  
.....  
.....  
.....

موقع المناهج العمانية [almanahj.com/om](http://almanahj.com/om)

ب- ادرس الشكل البياني الذي يوضح تباين أعداد السكان في عدد من الدول، ثم أجب عن الأسئلة التي تليه:



اكتب ما يلي:

١ - الدولة التي تحتل المرتبة الثالثة عام ٢٠٠٥ م.

٢ - الدولة المتوقع أن تحتل المرتبة الأولى عام ٢٠٥٠ م.

يتبع / ٦

(٦)  
المادة: الدراسات الاجتماعية الصف: التاسع  
الدور الأول - الفصل الدراسي الأول - العام الدراسي ٢٠١٩ / ٢٠٢٠ م

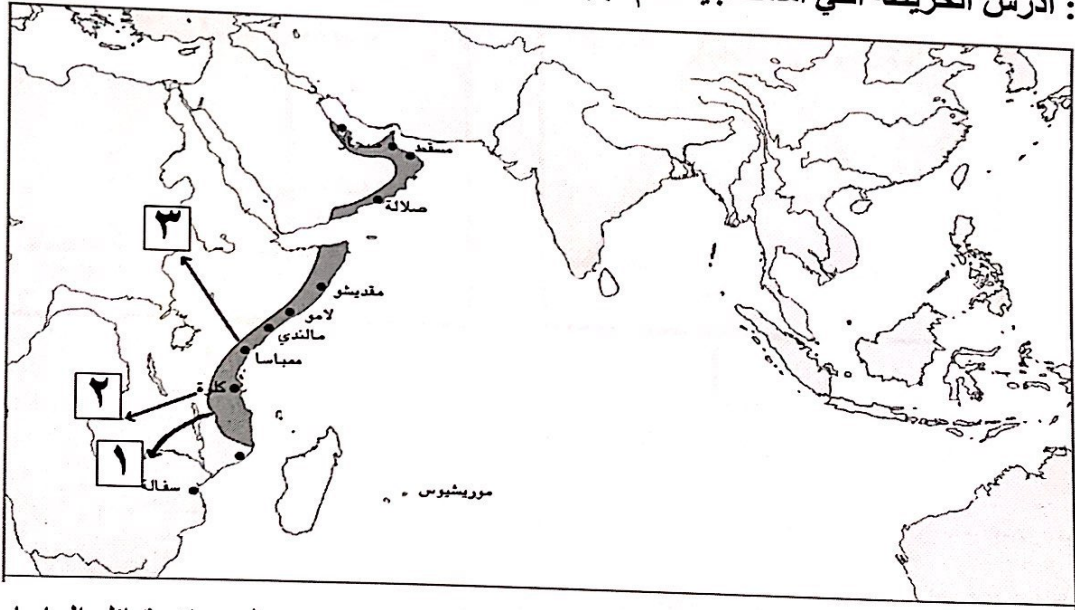
تابع السؤال الثالث:

ثانياً:  
(سلطنة عمان علاقات سياسية وثقافية واقتصادية مع العالم الإسلامي، وقد قامت هذه السياسة منذ أن تولى حضرة صاحب الجلالة الحكم في البلاد).  
في ضوء العبارة السابقة أجب عن الأسئلة الآتية:  
أ - أذكر أساساً واحداً من الأسس التي اعتمدت عليها السلطنة في دعم علاقاتها مع الدول الشقيقة والصديقة؟

ب - ما الهدف من حرص السلطنة على إقامة علاقات سياسية طيبة مع دول العالم الإسلامي؟

موقع المناهج العمانية . almanahj.com

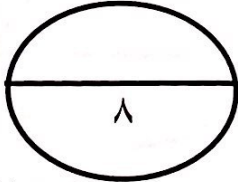
ثالثاً: ادرس الخريطة التي أمامك جيداً، ثم أجب عن الأسئلة التي تليها:



أ - اكتب الرقم الذي يشير إلى الطريق التجاري البري الذي كان يتعرض لهجمات قبائل الماساي.

ب - تخيل أنك قبطانا لسفينة تقوم برحلة من مسقط إلى جزيرة موريشيوس، ارسم خط سيرك على الخريطة.

ج - ظلل جزيرة مدغشقر.



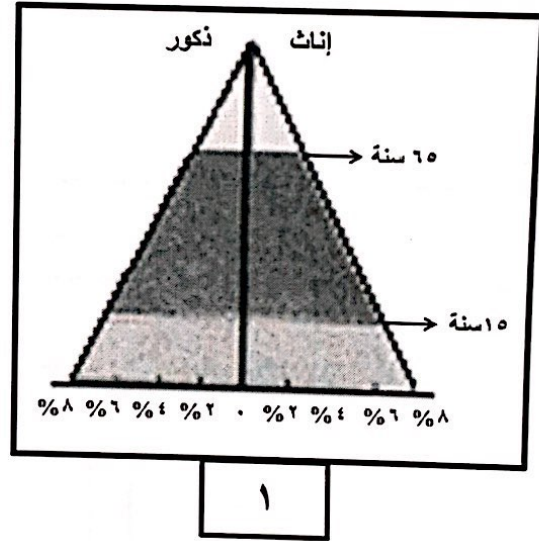
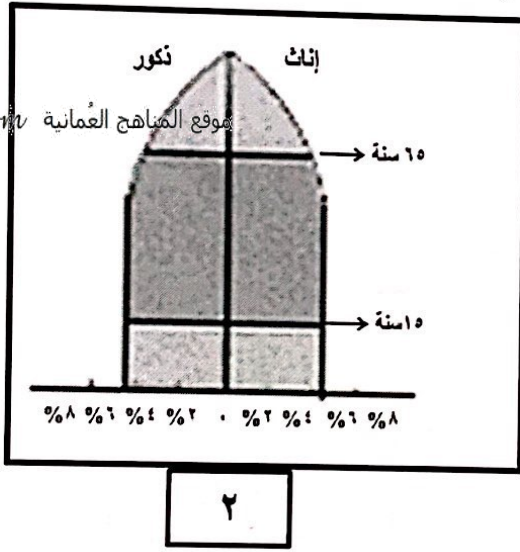
يتبع / ٧



أولاً: صنف السلع من حيث مصدرها (اللبان - جلود النمر - التوابل) في الجدول الآتي:

السلع	المصدر
	عمان
	الهند
	شرقي أفريقيا

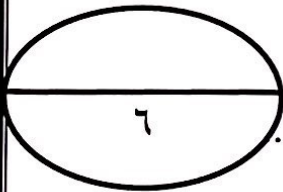
ثانياً: أمامك نوعين من الأهرام السكانية، أدرسهما جيداً ثم أجب عن الأسئلة التالية:



أ- ما نوع الهرم السكاني المشار إليه بالرقم (١)؟

ب- اذكر خاصية واحدة للهرم المشار إليه بالرقم (٢).

ج- ما رقم الهرم الذي تمثله دولة المكسيك؟



(٨)

المادة: الدراسات الاجتماعية الصف: التاسع  
الدور الأول - الفصل الدراسي الأول - العام الدراسي ٢٠١٩ / ٢٠٢٠ م

السؤال الخامس:

أولاً: اكتب أمام كل عبارة من العبارات الآتية اسم المصطلح الدال عليها:

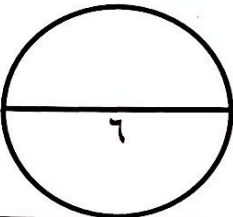
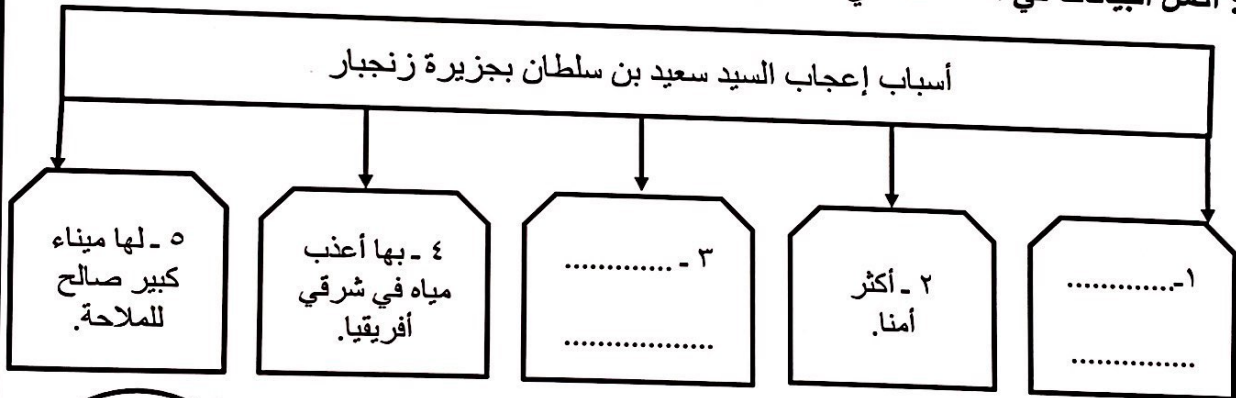
- أ - عملية جمع البيانات عن عينة ممثلة للمجتمع. { ..... }
- ب - عدد السنوات المتوقع أن يعيشها الانسان. { ..... }

ثانياً: أذكر هدفين من أهداف رابطة الدول المطلة على المحيط الهندي للتعاون الإقليمي؟

١ - ..... موقع المناخ العماني [almanaty.com/om](http://almanaty.com/om)

٢ - .....

ثالثاً: اكمل البيانات في المخطط الذي أمامك:



انتهت الأسئلة مع الدعاء للجميع بالتوفيق والنجاح