

تم تحميل هذا الملف من موقع المناهج العُمانية



*للحصول على أوراق عمل لجميع الصفوف وجميع المواد اضغط هنا

<https://almanahj.com/om>

* للحصول على أوراق عمل لجميع مواد الصف التاسع اضغط هنا

<https://almanahj.com/om/9>

* للحصول على جميع أوراق الصف التاسع في مادة اجتماعيات ولجميع الفصول, اضغط هنا

<https://almanahj.com/om/9social>

* للحصول على أوراق عمل لجميع مواد الصف التاسع في مادة اجتماعيات الخاصة بـ الفصل الثاني اضغط هنا

<https://almanahj.com/om/9social2>


* لتحميل كتب جميع المواد في جميع الفصول للـ الصف التاسع اضغط هنا

<https://almanahj.com/om/grade9>

* لتحميل جميع ملفات المدرس علي بن محمد الحسان اضغط هنا

للتحدث إلى بوت على تلغرام: اضغط هنا

https://t.me/omcourse_bot



**مذكرة إثرائية لمادة
الدراسات الاجتماعية**

الصف التاسع

2021-2022

**الدروس المقررة في الاختبار النهائي
للفصلين**

سؤال وجواب

إعداد :

علي بن محمد الحسان

للتواصل :

99493923

Ali 47536@moe.om

درس (الملامح الحضارية للتواجد العماني في شرقي أفريقيا)

السؤال الأول : ضع علامة (✓) أو (X) أمام العبارة الصحيحة مع تصحيح ماتحته خط إذا كانت العبارة خطأ :

- ١- (X) تتكون زنجبار من جزيرتي زنجبار وبمبا إضافة إلى ٣٧ جزيرة أخرى . ٢٧
- ٢- (X) أهم المحاصيل الزراعية في زنجبار هو زراعة المانجو . القرنفل
- ٣- (✓) عرف عن السيد سعيد بن سلطان شغفه بالتجارة وحبه لممارستها .
- ٤- (X) من أهم مراكز إنتاج الأخشاب في شرقي إفريقيا كانت مقديشو و بمبا . زنجبار
- ٥- (✓) أصبحت زنجبار زمن السيد سعيد بن سلطان مركز إشعاع إسلامي للمناطق الساحلية .

السؤال الثاني : أكمل مايلي بكلمات مناسبة من عندك :

- ١- تتكون زنجبار من جزيرتين كبيرتين هما زنجبار و بمبا بالإضافة لبعض الجزر الصغيرة .
- ٢- يطلق على زنجبار اسم بستان إفريقيا الشرقي .
- ٣- ساعدت المطبعة السلطانية في زنجبار في عهد السلطان برغش على النهضة العلمية في شرقي أفريقيا .
- ٤- ارتبط التعليم في مرحلة الأولى في شرقي أفريقيا بتدريس الدين الإسلامي .
- ٥- من أهم السلع التي كانت تجلبها السفن العمانية من شرقي إفريقيا الذهب و العاج .

السؤال الثالث : علل " أذكر السبب " :

- س ١ : نجاح زراعة القرنفل في زنجبار .
- ج ١ : بسبب الظروف المناخية الملائمة وخصوبة التربة ووفرة المياه .
- س ٢ : أعفى السيد سعيد بن سلطان الصادرات من الضرائب
- ج ٢ : بهدف تنشيط حركة التجارة الخارجية .
- س ٣ : يعتبر طريق الشمالي الممتد من ممباسا إلى هضبة البحيرات من أخطر الطرق التجارية .
- ج ٣ : بسبب تعرض القوافل التي ترتاده لهجمات قبائل الماساي .
- س ٤ : حمل العمانيون الأخشاب من شرقي أفريقيا إلى بلادهم .
- ج ٤ : من أجل صناعة السفن التي اشتهر بها العمانيون .
- س ٥ : تعد جلود النمر من السلع الأساسية في تجارة العمانيين مع شرقي أفريقيا .
- ج ٥ : بسبب جودتها العالية وزيادة الطلب عليها .

السؤال الرابع : ضع دائرة حول الإجابة الصحيحة من بين البدائل المعطاه :

- ١- تقع منطقة زنجبار في قارة (آسيا - إفريقيا - أوروبا)
- ٢- يطلق على جزيرة بمبا اسم ... (الجزيرة الخضراء - الجزيرة السوداء - الجزيرة الصفراء)
- ٣- يعيش في زنجبار قرابة ألف نسمة (٣٠٠ - ٤٠٠ - ٥٠٠)
- ٤- كانت الحرفة السائدة في زنجبار هي . (التجارة - الزراعة - الصناعة)
- ٥- كانت الضريبة المفروضة على الواردات زمن السيد سعيد بن سلطان لا تتجاوز . (٥% - ١٠% - ١٥%)
- ٦- من أهم السلع التي كانت السفن العمانية تسعى إلى جلبها من شرقي إفريقيا هو معدن ... (النحاس - الفضة - الذهب)
- ٧- ظهرت مراكز تجارية كثيرة تخصصت في صناعة العاج في كل من ألمانيا وهولندا و (بريطانيا - أمريكا - فرنسا)
- ٨- أصبحت مركز إشعاع إسلامي منذ أن أتخذها السيد سعيد بن سلطان عاصمة ثانية له في أفريقيا . (بمبا - ممباسا - زنجبار)
- ٩- وفد كثير من المجموعات الأفريقية إلى جزيرتي زنجبار وبمبا للعمل في مزارع . (النخيل - القرنفل - الهيل)


السؤال الخامس : أكمل الشكل التالي بعمل مقارنة بين جزيرة زنجبار وبمبا في المجالات التالية

جزيرة بمبا	جزيرة زنجبار	مجال المقارنة
الجزيرة الخضراء	بستان إفريقيا	معنى التسمية
٧٨ كم	٨٥ كم	طولها
٢٣ كم	٤٠ كم	عرضها
- أراضيها صالحة للزراعة - تشتهر بزراعة القرنفل والنارجيل	- أراضيها صالحة للزراعة - تشتهر بزراعة القرنفل - بها نهر كبير يسمى "مويرا"	مميزاتها

السؤال السادس : أكمل الشكل بكتابة الريالات النقدية السائدة في زنجبار زمن السيد سعيد بن سلطان .



السؤال السابع : اكمل الشكل بكتابة الصحف العمانية التي ظهرت في شرقي افريقيا :



السؤال الثامن : أكمل الشكل بكتابة التركيب السكاني في جزيرة زنجبار :



السؤال التاسع : أكمل الجدول التالي بثلاث من الصادرات وثلاث من الواردات بين عمان وشرقي أفريقيا :

البضائع التي كانت عمان تستوردها من شرقي أفريقيا	البضائع التي كانت عمان تصدرها لشرقي أفريقيا
الذهب	التمور
العاج	الحنطة
الجلود	الشعير
الحديد	الليمون المجفف
العنبر	اللبن
الأخشاب	الورد

السؤال العاشر: أختار الإجابة الصحيحة بوضع علامة (✓) من بين البدائل المعطاه على ماتدل عليه الصور التالية :



سليمان بن أحمد

برغش بن سعيد

حميد بن محمد المرجبي



ميناء ممباسا

ميناء زنجبار

ميناء بمبا

السؤال الحادي عشر : أجب عن الأسئلة التالية :

س ١ : أذكر أهم المزروعات التي كانت تزرع في زنجبار ؟

ج ١ : - القرنفل - جوز الهند - الأرز - الذرة - قصب السكر - المانجو - البرتقال .

س ٢ : " أحدث التواجد العماني في شرقي إفريقيا تغيرات في صلة عمان بتلك المنطقة " وضح ذلك ؟

ج ٢ : نظرا لتحول المراكز التجارية العربية المؤقتة إلى مراكز استقرار دائم جعلت من الأسر العمانية التي وفدت إلى شرقي إفريقيا تحقق نجاحاً كبيراً في ربط المصالح التجارية للعمانيين مع الشعوب الأفريقية .

س ٣ : " كان للسيد سعيد بن سلطان الفضل الأول في تأسيس الدولة العمانية الكبيرة وله منجزات كبيرة " أذكر أهم هذه المنجزات ؟

ج ٣ : ١- شجع إدخال زراعة القرنفل المستورد من جزيرة موريشيوس إلى زنجبار .
٢- وضع نظاماً ضرائبياً كان معمولاً به في مسقط وخصوصاً فيما يتعلق بالنظام الجمركي .
٣- استحدث نظاماً نقدياً جديداً يحل محل العملات السائدة في زنجبار .

س ٤ : " أدى التوسع التجاري زمن السيد سعيد بن سلطان إلى نشأة ثلاثة طرق رئيسية لتجارة القوافل العربية " أذكر هذه الطرق ؟

ج ٤ : ١- الطريق الشمالي ويمتد من ممباسا وماليندي إلى هضبة البحيرات أو المناطق الشرقية لدولة أوغندا الحالية .
٢- الطريق الأوسط ويبدأ من المواني المواجهة لزنجبار مثل تانغه وبنغالي وبنغمايو ويتجه إلى تابورا وسط تنجانيقا .
٣- الطريق الجنوبي ويمتد من كلوة عبر جنوبي تنجانيقا وشمال موزمبيق إلى بحيرة نياسا .

س ٥ : أذكر ثلاثة من استخدامات العاج " أنياب الفيلة " ؟

ج ٥ : - للتزيين - صناعة أدوات الشطرنج - صناعة الآلات الموسيقية - عمل التحف - الهدايا .

س ٦ : كيف أنتشر الإسلام واللغة العربية في شرقي أفريقيا ؟

ج ٦ : عن طريق قوافل التجار العمانيين القادمين من زنجبار والمدن الساحلية الأخرى .

س ٧ : " نشأت من امتزاج الدم العربي بالدم الأفريقي ثقافة عربية أفريقية " وضح ذلك .

ج ٧ : نتيجة للعلاقات العمانية الأفريقية انتشرت اللغة العربية بين قطاعات مختلفة من السكان في شرقي أفريقيا وكانت لغة الصفوة المتعلمة والمستنيرة كما كانت لغة التجارة والإدارة والحكم والأدب .

س ٨ : " كان للمؤثرات العربية الإسلامية في شرقي أفريقيا نتائج إيجابية " أذكر أهم هذه الإيجابيات .

ج ٨ : ١- أزال التأمية بين المجموعات الأفريقية المختلفة .
٢- مهدت الطريق لارتباط هذه المجموعات بالعالم العربي الإسلامي .
٣- أصبحت المجموعات الأفريقية المسلمة تعبر عن رغبتها في الانتماء والارتباط بالعنصر العربي .

س ٩ : " اشتملت المناهج الدراسية في زنجبار على عدة تخصصات دراسية " أذكر هذه التخصصات ؟

ج ٩ : - علوم القرآن - علوم التفسير - علوم الفقه - العلوم الشرعية - علوم النحو - البيان - الشعر

س ١٠ : " كان للعلماء في زنجبار وشرقي أفريقيا دور كبير في نشر العلم " أذكر الأعمال التي كانوا يقومون بها ؟

ج ١٠ : - الإشراف على النظام التعليمي .

- نشر القيم الإسلامية .

- نشر الوعي والثقافة الإسلامية .

- الاتجاه للتأليف ووضع المصنفات والشروح في شتى فروع العلوم الإسلامية .

س ١١ : " شاركت عدة عوامل في جعل العامل الحضاري العماني عاملاً مؤثراً في شرقي أفريقيا " أذكر أهم هذه العوامل ؟

ج ١١ : ١- جهود العمانيين في مجالات الحضارة وخبرتهم الحضارية الممتدة والمتواصلة في مجال البحر والتجارة

محلياً ودولياً .

٢- القيم الإنسانية التي تمتع بها العمانيون خلال معاملاتهم التجارية وعلاقاتهم الإنسانية مع السكان .

٣- تشجيع السلاطين للتجار العمانيين والحركة التجارية العمانية التي جابت أساطيلها التجارية ساحل المحيط الهندي

والسواحل الشرقية للقارة الأفريقية .

almanahj.com/om

درس (الانفجار السكاني)

السؤال الأول : ضع علامة (✓) أو (X) أمام العبارة المناسبة مع تصحيح ما تحته خط إذا كانت العبارة خطأ :

- ١- (X) تميزت مراحل النمو السكاني في العالم بفترات نمو متساوية السرعة . متباينة
- ٢- (✓) شهد الثلث الأخير من القرن العشرين نمواً لامثيل له في عدد سكان العالم .
- ٣- (X) عندما يزيد عدد السكان عن إمكانية الدول فإن ذلك يعني زيادة فرص العمل . قلة

السؤال الثاني : ضع امام كل عبارة المصطلح الدال عليها .

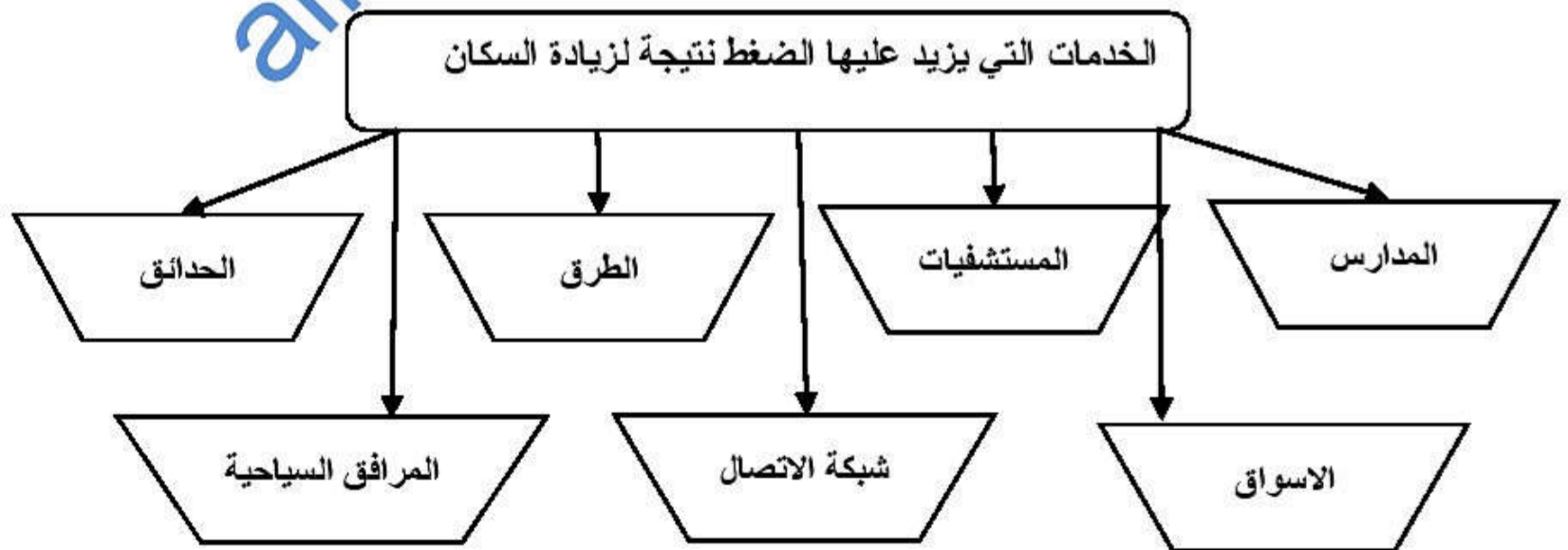
- ١- (سوء التغذية) عدم احتواء غذاء الانسان على سرعات حرارية كافية لبقائه على قيد الحياة.
- ٢- (التربية السكانية) العلم الذي يهدف الى التعريف بالسكان والظواهر السكانية من حيث اسبابها والعوامل التي تتحكم فيها
- ٣- (الانفجار السكاني) الزيادات الكبيرة في أعداد السكان بالمقارنة مع الموارد المتاحة .

السؤال الثالث : ضع دائرة حول الإجابة الصحيحة من بين البدائل المعطاة :

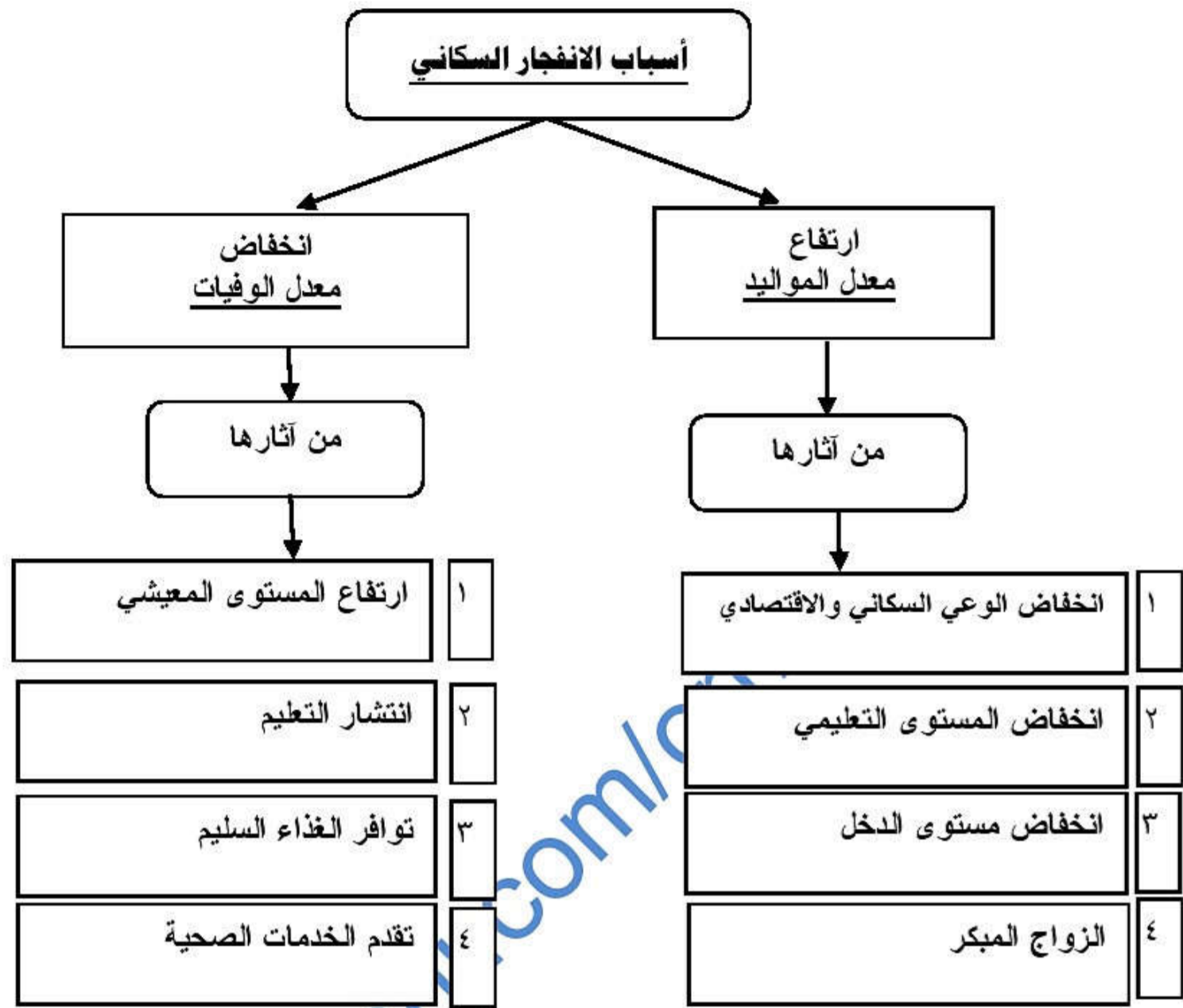
١- بلغ متوسط الذين يموتون جوعاً يومياً على المستوى العالمي نحو ألف نسمة
(٢٠ - ٣٠ - ٤٠)

٢- يسعى الإنسان للحصول على الطاقة غير القابلة للنفاد وغير مكلفه تأتي في مقدمتها الطاقة
(المائية - الحيوية - الشمسية)

السؤال الرابع : تؤدي الزيادة السكانية لاسيما في المدن الى الضغط على الخدمات والمرافق العامة أكمل الشكل بأربعة من هذه الخدمات



السؤال الخامس : الشكل التالي يوضح " أسباب الانفجار السكاني " أكمل الفراغات فيما يلي :



السؤال السادس : أكمل الشكل بكتابة ثلاثة من الآثار الاقتصادية والاجتماعية للانفجار السكاني



السؤال السابع : أجب عن الأسئلة التالية :

س ١ : عرف مفهوم الانفجار السكاني ؟

ج ١ : هو الزيادات الكبيرة في أعداد السكان بالمقارنة مع الموارد المتاحة .

س ٢ : " يتحدد النمو السكاني بعاملين اساسين " ما هما ؟

ج ٢ : ١- الزيادة الطبيعية . ٢- الهجرة .

س ٣ : ماذا يقصد بالتربية السكانية ؟

ج ٣ : هو العلم الذي يهدف الى التعريف بالسكان والظواهر السكانية من حيث اسبابها والعوامل التي تتحكم فيها والآثار المترتبة عليها والعلاقات التي تربطها وتوجه هذه المعرفة نحو تكوين اتجاهات ومواقف تؤثر في سلوك الافراد لتحسين نوعية الحياة للفرد والاسرة والمجتمع .

س ٤ : " للانفجار السكاني آثار اقتصادية واجتماعية " أذكر ثلاثة من هذه الآثار مع شرح واحدة منها بإيجاز ؟

- ١- نقص الغذاء وسوء التغذية : نقص الغذاء يؤدي الى ظهور المجاعات وبالتالي إلى موت العديد من البشر يوميا (٢٠ ألف نسمة يوميا) ويقصد بسوء التغذية هو عدم احتواء غذاء الانسان على سرعات حرارية كافية لبقيتهم على قيد الحياة
- ٢- انخفاض المستوى المعيشي : يعد انخفاض المستوى المعيشي نتيجة طبيعية لضعف الاقتصاد وغياب فرص العمل وقلة امكانيات الدول من الموارد فعندما يزيد عدد السكان عن إمكانية الدول فإن ذلك يعني قلة فرص العمل وانخفاض الأجور وبالتالي انخفاض المستوى المعيشي .
- ٣- قلة فرص العمل : مشكلة عالمية يرجع سببها الاساسي الى الزيادة السكانية بما يفوق عدد فرص العمل المتوافرة
- ٤- الضغط على الخدمات : الضغط على الخدمات والمرافق العامة (المستشفيات والمدارس والاسواق والحدائق و.....
- ٥- الضغط على مصادر الطاقة : تزداد الحاجة الى الطاقة يوميا نتيجة لزيادة عدد السكان والتقدم الاقتصادي والاجتماعي ويؤدي الضغط المتزايد على مصادر الطاقة المختلفة إلى تعرضها للاستنزاف لاسيما وأن معظمها قابلة للنفاذ .

درس (التطور التاريخي والتميز العماني)**السؤال الأول : ضع علامة (✓) أو (X) أمام العبارة المناسبة مع تصحيح ما تحته خط إذا كانت العبارة خطأ :**

- ١- (✓) يسود المناخ الجفاف معظم أراضي سلطنة عمان .
- ٢- (✓) يؤكد بعض المؤرخين ان الساحل العماني كان المهد الأول الذي ظهرت فيه الخبرات الملاحية الفينيقية .
- ٣- (✓) استخدم العمانيون قديماً في الإبحار الصواري والأشرعة .
- ٤- (X) أستطاع اليعاربة من إعداد قوة بحرية استطاعت تعقب الهولنديين في الخليج العربي والمحيط الهندي . البرتغاليين

السؤال الثاني : أكمل ما يلي بكلمات مناسبة من عندك :

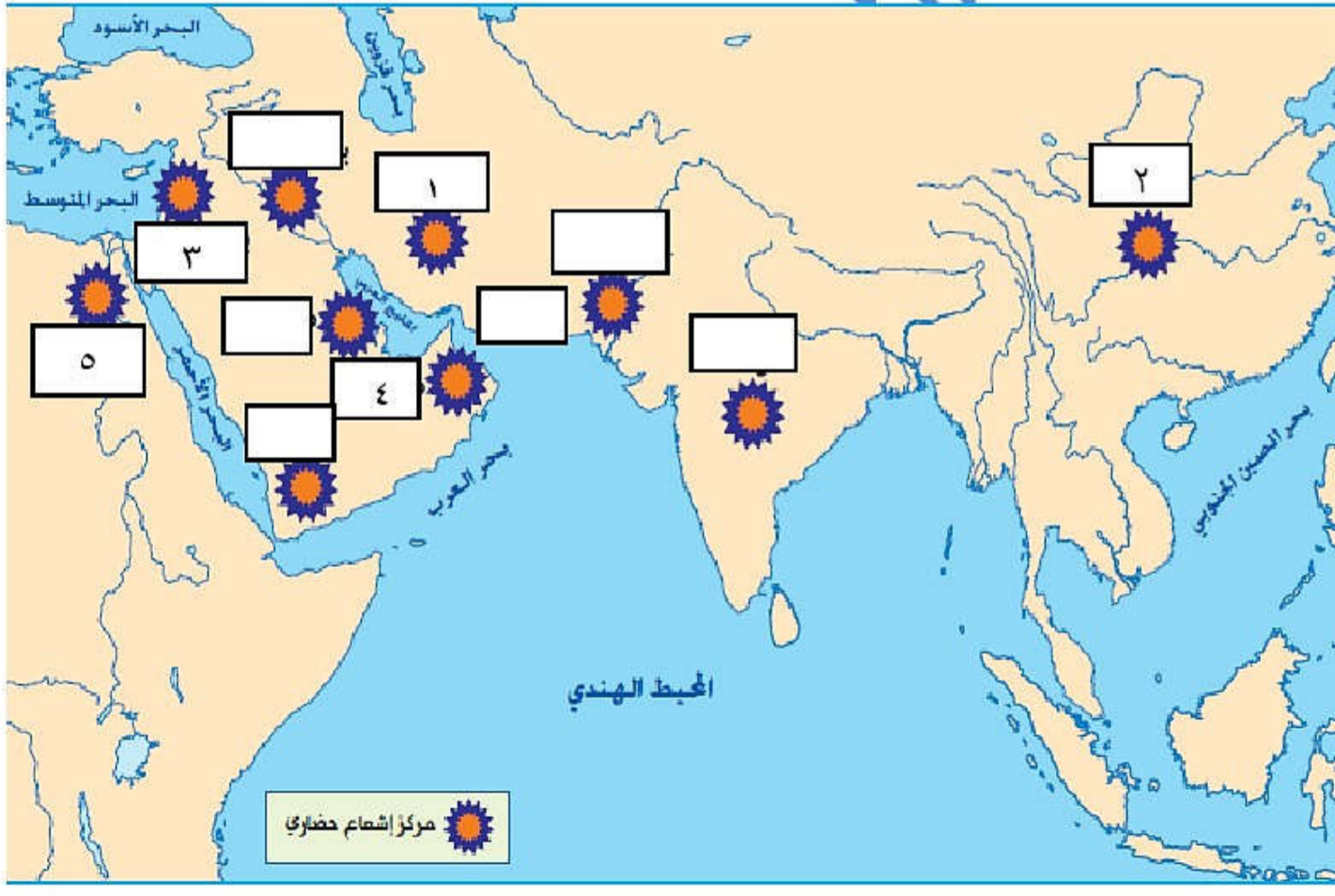
- ١- بدأت عمان دورها الحضاري منذ ظهور الحضارات الأولى في الهند وبلاد الرافدين .
- ٢- تحيط المياه بسلطنة عمان من ثلاث جهات وتحيط بها الرمال من الجهة الرابعة .
- ٣- نجح اليعاربة في اعداد قوة بحرية استطاعت تعقب البرتغاليين في الخليج العربي والمحيط الهندي .
- ٤- كان الأسطول العماني زمن السيد سعيد بن سلطان يأتي في المرتبة الثانية بعد الأسطول البريطاني من حيث القوة والعتاد .
- ٥- تعتبر السفينة سلطنة من أهم قطع الأسطول العماني والتي أرسلت لميناء نيويورك عام ١٨٤٠ بقيادة أحمد بن النعمان .

السؤال الثالث : ضع دائرة حول الإجابة الصحيحة من بين البدائل المعطاه :

- ١- تطل سواحل عمان لمسافات طويلة على مياه المحيط ...
(الهادي - الهندي - الأطلسي)
- ٢- عاصمة عمان قديماً في عصر الدولة الإسلامية كانت مدينة ...
(مسقط - نزوى - صحار)
- ٣- كان الأسطول العماني في عهد السيد سلطان بن أحمد يضم ... سفينة كبيرة .
(١٥ - ١٦ - ١٧)
- ٤- تعتبر السفينة من أهم قطع الأسطول العماني والتي أرسلت لميناء نيويورك عام ١٨٤٠
(المنوني - سلطنة - الرحماني)
- ٥- سفينة حربية صغيرة الحجم سريعة تستخدم للمناورة تسمى ...
(قارب - زورق - فرقاطة)

السؤال الرابع : تحدث باختصار عن تطور الملاحة العمانية في العصور التالية :

العصر	دور العمانيين فيه
العصر القديم	استخدم العمانيون قديما في الإبحار الصاري والشراع سعيا وراء التبادل التجاري مع الشعوب المجاورة وكانوا في طليعة رواد البحار والمحيطات منذ العصور التاريخية القديمة وتشير الدراسات إلى ان العمانيين امتلكوا أسطولا بحريا قويا .
عصر الدولة الإسلامية	تعتبر عمان من الدول التي اعتنقت الإسلام طوعا وأصبحت إحدى قلاع الحصينة حيث كان لهم دور كبير في نشر الإسلام في مناطق شتى من خلال التجار العمانيين وخاصة في أفريقيا والهند والصين
عصر اليعاربة	استطاع اليعاربة من تكوين قوة بحرية استطاعت من تعقب البرتغاليين في الخليج العربي والمحيط الهندي كذلك طوروا سفنهم من التقدم في صناعة السفن الأوربية الأمر الذي أفلق الإنجليز والهولنديين في نشاطهم البحري
عصر الدولة البوسعيدية	وصلت الدولة أوج قوتها ونفوذها في المناطق البحرية وخاصة في عهد السيد سلطان بن أحمد الذي كان لديه أسطول تجاري يضم خمسة عشر سفينة كبيرة ومئات السفن الصغيرة كذلك كان السطول العماني في المرتبة الثانية بعد الأسطول البريطاني في المحيط الهندي من حيث القوة والعتاد زمن السيد سعيد بن سلطان

السؤال الخامس : ضع أرقام الحضارات القديمة التالية في أماكنها الصحيحة في الخريطة

- ١- حضارة بلاد فارس
- ٢- حضارة الصين
- ٣- حضارة بلاد الشام
- ٤- حضارة مجان
- ٥- الحضارة المصرية

السؤال السادس : أجب عن الأسئلة التالية :

س ١ : " هناك عدة عوامل ومقومات طبيعية جعلت عمان تشتهر بالملاحة البحرية " أذكر أربعة من هذه العوامل ؟

- ج ١ : ١- يسود الجفاف معظم أراضي سلطنة عمان الأمر الذي يتعذر معه الاعتماد الكلي على النشاط الزراعي .
 ٢- تحيط المياه بالسلطنة من ثلاث جهات وتحيط بها الرمال من الجهة الرابعة .
 ٣- تقع السلطنة بين مناطق مناخية متباينة وذات إنتاج حضاري مختلف .
 ٤- صلاحية الساحل العماني في كثير من المناطق لإقامة الموانئ التي شكلت شبكة طرق بحرية مع موانئ الساحل الهندي والساحل الشرقي لإفريقيا .
 ٥- ساعدت حركة التيارات البحرية والرياح الموسمية العمانيين على ركوب البحر .

س ٢ : " يعتبر تاريخ الملاحة العمانية من بين أقدم التواريخ وموضع فخر واعتزاز للمواطن العماني "

في ضوء هذه العبارة أذكر أهم الأعمال التي عرفها العمانيون منذ القدم في ارتياد البحر ؟

- ج ٢ : ١- عرفوا مواعيد الإبحار .
 ٢- عرفوا موافيت هبوب الرياح الموسمية .
 ٣- عرفوا حركات التيارات البحرية .
 ٤- كونوا لهم خبرات طويلة في هذا المجال .

س ٣ : " أسهمت العوامل السياسية في تطور الملاحة البحرية العمانية " وضح ذلك ؟

ج ٣ : وذلك من خلال حرص الدولة العمانية عبر تاريخها على إقامة علاقات حضارية جيدة مع الحضارات المجاورة مثل الهند وبلاد الرافدين ومصر والسواحل الشرقية لإفريقيا .

س ٤ : " ساعدت الجوانب الأمنية التي تميزت بها السواحل العمانية على تطور الملاحة العمانية " وضح ذلك ؟

ج ٤ : ١- كانت السواحل العمانية بعيدة عن الصراعات والاضطرابات التي تحدث في غيرها من المناطق
 ٢- حرص الدولة على تأمين الملاحة البحرية وحمايتها من القرصنة .

س ٥ : " شهدت الفترة بين عامي ١٦٥٠ و١٦٥٢ نشاطا بحريا ألقى الإنجليز والهولنديين " وضح ذلك ؟

ج ٥ : ١- تمكن الإمام سلطان بن سيف من الاعتماد على السفن الحديثة التي بنى بعضها في الهند وأخرى تم شراؤها من الهولنديين .
 ٢- الاستفادة من السفن التي وقعت بأيدي العمانيين بعد طردهم البرتغاليين .
 ٣- استخدم المدافع المتطورة التي كانت بكفاءة المدافع الأوربية نفسها .

درس (شبكة الطرق والموانئ والسلع)**السؤال الأول : ضع علامة (✓) أو (X) أمام العبارة المناسبة مع تصحيح ما تحته خط إذا كانت العبارة خطأ :**

- ١- (✓) أصبح ميناء هرمز مملكة بحرية مع نهاية العصر العباسي وبداية العصور الحديثة .
- ٢- (✓) كان للعمانيين دور بارز في نشر اللغة العربية والدين الإسلامي في الساحل الأفريقي والهندي .
- ٣- (X) من أهم موانئ إقليم السند بالساحل الهندي أصبح محطة مهمة لاستيراد الخيول العربية ميناء جوادر . الديبل

السؤال الثاني : أكمل مايلي بكلمات مناسبة من عندك :

- ١- الميناء العماني الذي اشتهر بالتعدين وصهر النحاس هو ميناء صحار .
- ٢- أصبح ميناء زنجبار من أهم مراكز تجارة المحيط الهندي والعالم زمن الدولة البوسعيدية .

السؤال الثالث : ضع دائرة حول الإجابة الصحيحة من بين البدائل المعطاه :

- ١- ميناء ارتبط بتجارة الذهب واللبن والبخور هو ميناء
(صحار - ظفار - صور)
- ٢- ميناء وصفها الرحالة والجغرافيون بأنها أعمر مكان في دار الإسلام وقصبة عمان كما أصبحت مركز لعمليات التعدين .
(صور - مسقط - صحار)
- ٣- من الموانئ التي اشتهرت بتجارة المنسوجات والذهب والعاج في شرقي أفريقيا في العصور الحديثة .
(ماليندي - ممباسا - زنجبار)
- ٤- ساحل هندي مواجه لساحل عمان الشرقي ارتبط بالتجارة العربية واصبح مركزا لتجارة عمان .
(جوادر - كجرات - الديبل)

السؤال الرابع : علل " أذكر السبب "

س ١ : كثر وتعددت الطرق والموانئ التجارية البحرية على سواحل المحيط الهندي وجزره .

ج ١ : بسبب كثرة ثروات المحيط الهندي وتنوعها وشدة الطلب عليها .

س ٢ : ندرة المعلومات عن مسقط كمحطة تجارية بحرية في المصادر التاريخية القديمة

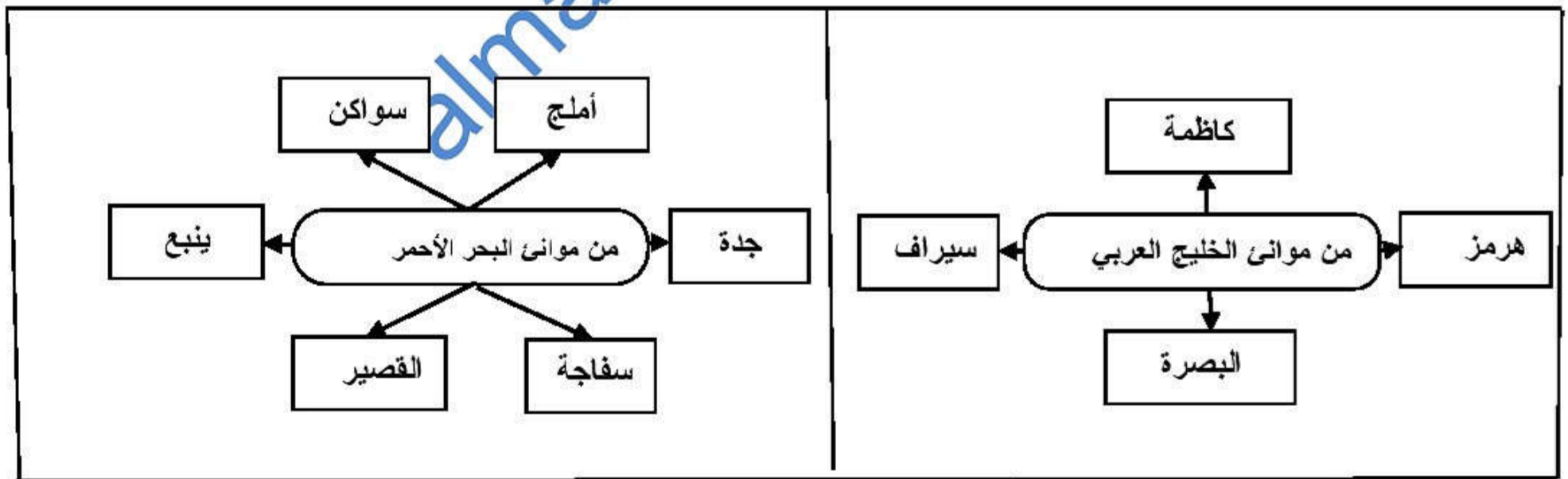
ج ٢ : بسبب إحاطتها بالجبال مما جعلها في عزلة عن داخلية عمان .

السؤال الخامس أكمل الجدول التالي بكتابة ثلاثة موانئ في الأماكن التالية :

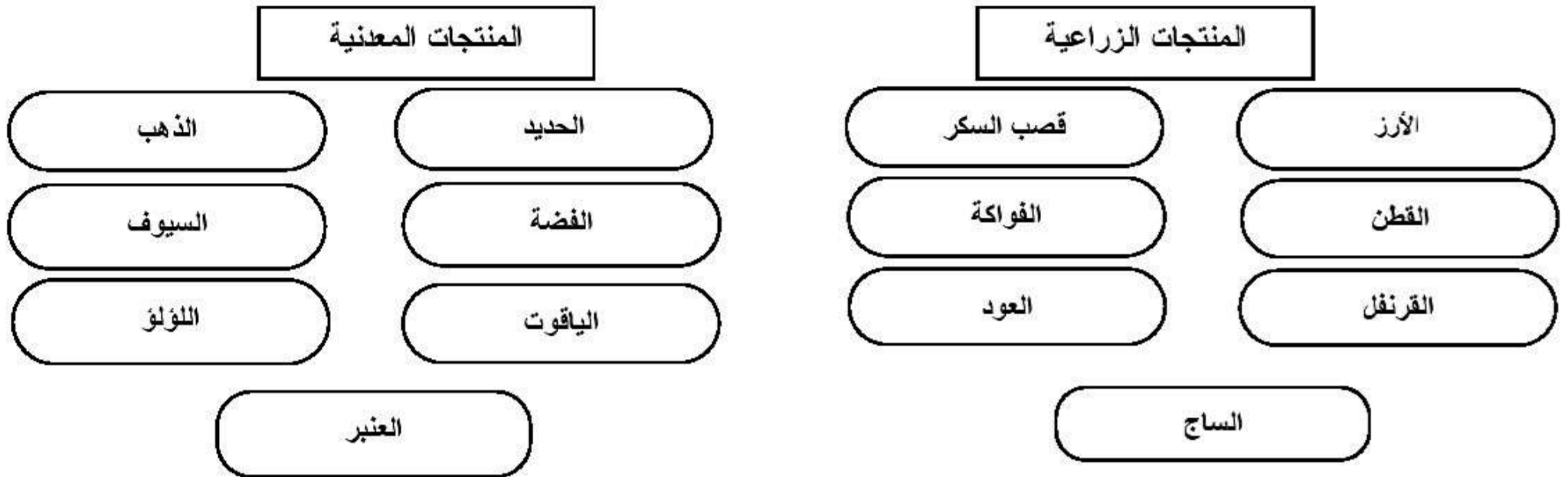
موانئ ساحل عمان	موانئ الساحل الأفريقي الشرقي	موانئ الساحل الهندي	موانئ جنوب شرق اسيا والصين
ظفار	ماليندي	جوانر	سومطره
صور	ممباسا	الديبل	ملقا
مسقط	زنجبار	كجرات	الزيتون
صحار	مقديشو	ديو	خانفو
	كلوه		هينان
	موزمبيق		

السؤال السادس : أكتب نبذة مختصرة عن أهمية الموانئ التالية في سلطنة عمان :

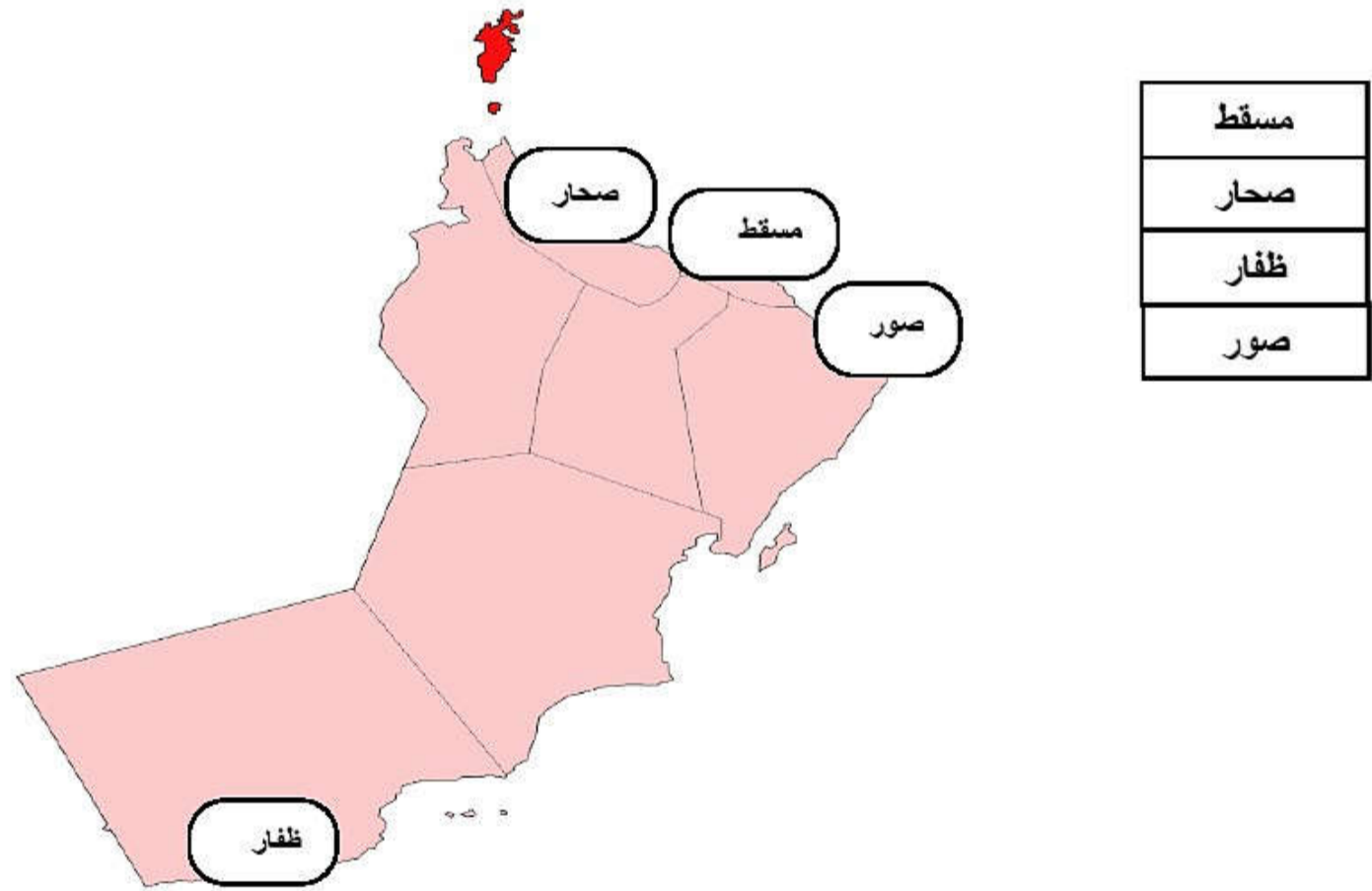
الميناء	أهميته
ظفار	يقع جنوب السلطنة وارتبط بتجارة الذهب واللبان والبخور منذ القدم كما ارتبط به كافة الطرق الملاحية عبر مياه المحيط الهندي والطرق البرية داخل شبه الجزيرة العربية
صور	من أشهر المحطات والموانئ التجارية على سواحل عمان والخليج العربي والمحيط الهندي ويمثل عقدة المواصلات البحرية في العصور القديمة والإسلامية وارتبط به كل من ميناءي مصيرة وقلهات
مسقط	على الرغم من ندرة المعلومات عن مسقط كمحطة تجارية بحرية في المصادر التاريخية الا انها كانت محطة تجارية للتزود بالمياه وراحة المسافرين وتبادل السلع وظهرت أهميتها منذ العصور الحديثة
صحار	من الموانئ المهمة على ساحل عمان منذ العصور القديمة وزادت شهرتها في العصور الإسلامية حتى وصفت من الرحالة والجغرافيون بأنها اعمر مكان في دار الإسلام وقصبة عمان حيث أصبحت مقر للعديد من الأثرياء وأصبحت مركز لعمليات التعدين وصهر النحاس وأصبحت خزانة تجارة المحيط والخليج العربي

السؤال السابع : أكمل الشكل التالي :

السؤال الثامن : أكمل الشكل التالي بكتابة أهم السلع التي حملتها السفن العمانية من المحيط الهندي والاقاليم الأخرى



السؤال التاسع : ضع أسماء الموانئ العمانية التالية في أماكنها الصحيحة في الخريطة



السؤال العاشر : أجب عن السؤال التالي :

س ١ : كان للعمانيين دور في نشر اللغة العربية في شرقي افريقيا والساحل الهندي " وضح ذلك ؟

- ج ١ : - وجود مصطلحات عربية في اللغتين السواحلية والاوردية .
 - دخلت مفردات عربية عديدة إلى لغات شعوب المحيط الهندي .
 - كان للعمانيين دور بارز في نشر الدعوة الإسلامية في مناطق المحيط الهندي .
 - حملت السفن أنواعاً من السلع والمنتجات بأسمائها المحلية .

درس (جمهورية الصين الشعبية)

السؤال الأول : ضع علامة (✓) أو (X) أمام العبارة المناسبة مع تصحيح ما تحته خط إذا كانت العبارة خطأ :

- ١- (✓) كان الصينيون القدماء يتعاونون فيما بينهم للحد من الفيضانات وآثارها على حياتهم .
- ٢- (X) الصين بلاد واسعة تقع في شرقي أوروبا . آسيا
- ٣- (✓) تخترق الصين ثلاثة أنهار عظيمة .
- ٤- (✓) تركز معظم سكان الصين في وديان الأنهار الكبرى .
- ٥- (X) كان سور الصين العظيم في بداية بناءه عبارة عن سور كامل متصل ببعض . قطع منفصلة عن بعض

السؤال الثاني : أكمل ما يلي بكلمات مناسبة من عندك :

- ١- وصل الإسلام إلى الصين عن طريق التجار والدعاة وكان معظمهم من العمانيين .
- ٢- قامت السلطنة بإصدار طابع بريدي في ذكرى زيارة السفينة صحار لمدينة قوانتشو عام ١٩٨١ .
- ٣- تتابعت على حكم الإمبراطورية الصينية عدد أربع عائلات إمبراطورية مشهورة .
- ٤- بعد الحرب العالمية الثانية ١٩٤٥ دخلت الصين في صراع سياسي بين حزبين هما الحزب الشيوعي والحزب الوطني .

السؤال الثالث : ضع دائرة حول الإجابة الصحيحة من بين الخيارات التالية :

- ١- من الأنهار الكبرى التي تمر بالصين نهر هوانج هو ومعناه (النهر الأبيض - النهر الأصفر - النهر الأسود)
- ٢- اعتمد الصينيون القدماء في حياتهم على (الزراعة - الرعي - التجارة)
- ٣- يعتبر من أشهر حكماء الصين في الفترة من ٥٥١-٤٧٩ ق.م (بطليموس - كونفوشيوس - شيه هوانج)
- ٤- أشترك في بناء سور الصين العظيم أكثر من ألف شخص (٣٠٠ - ٤٠٠ - ٥٠٠)
- ٥- كان للتجار العرب جالية كبيرة في الصين في القرن ٨ م وكان مقرها مدينة (بكين - شانج هو - كانتون)
- ٦- أعلن قيام جمهورية الصين الشعبية في أكتوبر عام (١٩٤٨ - ١٩٤٩ - ١٩٥٠)

السؤال الرابع : علل " أذكر السبب "

س ١: اعتماد الصينيون القدماء في حياتهم على الزراعة على أطراف النهر الأصفر .

ج ١: بسبب التربة الغنية التي كان يرسبها النهر عند فيضانه .

س ٢: كانت الأراضي الزراعية تتضرر كثيرا عند الصينيين القدماء وتتهدم مدنهم وقراهم .

ج ٢: بسبب الآثار التدميرية التي كان يحدثها فيضان النهر .

السؤال الخامس : أذكر نتيجة واحدة ترتبت على الأحداث الآتية :

الحدث	النتيجة / السبب
أخترع الصينيون الورق	ساعد على تطور الجهاز الإداري وانتشار التعليم
صنع الصينيون العربات ذات العجلات	بسبب توفر المعادن الصلبة المختلفة
ازدهار صناعة الأطباق والمزهريات والتحف الجميلة	وجود التراب الصيني الأبيض
وفرة التربة الغنية التي ترسبها الأنهار	استغلت في الزراعة وتربية الحيوانات واستقرار السكان حول اطراف تلك الأنهار
دخل المغول المسلمون الصين في القرن ١٤ م	دخول كثير من الصينيين الإسلام

السؤال السادس : أكتب تحت الصورة ما تدل عليه


سفينة صحار



سور الصين العظيم



معبد صيني



النهر الاصفر

السؤال السابع : أجب عن الأسئلة التالية :

س ١: " تطورت الحضارة الصينية من الناحية التقنية والثقافية " وضح ذلك ؟

ج ١: - استخدم الصينيون السلاح الناري والبوصلة والساعات

- توصلوا إلى طبع الورق .

- أهتم أباطرتهم بإصلاح المدن وبناء المعابد .

- اهتموا بالفنون والآداب .

- طوروا صناعة الخزف الصيني .

س ٢ : "حقق الصينيون إنجازات حضارية كان لها الأثر الكبير في الحضارة الإنسانية" اذكر أربع من هذه الإنجازات ؟

ج ٢ : - اختراع الورق .

- صناعة الأطباق والمزهريات والتحف الجميلة من التراب الصيني الأبيض وزخرفتها .
- صناعة الأدوات الحربية والزراعية من المعادن الصلبة .
- اختراع البوصلة .
- تطوير أساليب الري .
- صناعة العربات ذات العجلات التي تجرها الخيول .
- صناعة الحرير والاحتفاظ بسر صناعته لسنوات طويلة .

س ٣ : " تطورت الصين في السنوات الأخيرة من القرن العشرين ولازالت تتقدم في المجالات المختلفة " وضح ذلك .

ج ٣ : - دخلت الصين مرحلة عرفت بمرحلة الإصلاح والانفتاح .

- ازداد حجم منتجاتها الصناعية .
- عملت على تطوير الزراعة على الرغم من قلة الأراضي الزراعية .
- توجهت نحو تحرير اقتصاد الدولة .
- الإفادة من التقدم التكنولوجي .

س ٤ : اذكر ثلاث من مظاهر التعاون بين سلطنة عمان والصين ؟

- ج ٤ : - توقيع اتفاقية تعاون إعلامي بين وكالة الأنباء العمانية ونظيرتها الصينية .
- قيام شركة النفط الصينية الوطنية باستثمارات ضخمة في السلطنة للحصول على امتيازات نفطية .
- تبادل المنتجات التجارية بين البلدين .
- قيام شركات صينية متخصصة بالماء والكهرباء بتنفيذ بعض مشاريع البنية التحتية بالسلطنة .
- التعاون بين البلدين في مجال التعاون السياحي .

احداث مهمة وبارزة في تاريخ الصين المعاصر

التاريخ	الحدث
يوليو ١٩٩٧	عادت هونج كونج الى السيادة الصينية بعد انتهاء عقد الإيجار مع بريطانيا
١٩٩٩	أعيدت المستعمرة البرتغالية " مكاو " إلى الحكم الصيني
نوفمبر ٢٠٠١	الصين أدخلت إلى منظمة التجارة العالمية
أكتوبر ٢٠٠٣	دخلت الصين عالم الفضاء وأصبحت البلد الثالث في مجال الفضاء بعد روسيا والولايات المتحدة