

تم تحميل هذا الملف من موقع المناهج العُمانية



*للحصول على أوراق عمل لجميع الصفوف وجميع المواد اضغط هنا

<https://almanahj.com/om>

* للحصول على أوراق عمل لجميع مواد الصف التاسع اضغط هنا

<https://almanahj.com/om/9>

* للحصول على جميع أوراق الصف التاسع في مادة اجتماعيات ولجميع الفصول, اضغط هنا

<https://almanahj.com/om/9social>

* للحصول على أوراق عمل لجميع مواد الصف التاسع في مادة اجتماعيات الخاصة بـ الفصل الأول اضغط هنا

<https://almanahj.com/om/9social1>

* لتحميل كتب جميع المواد في جميع الفصول للـ الصف التاسع اضغط هنا

<https://almanahj.com/om/grade9>

للتحدث إلى بوت على تلغرام: اضغط هنا

https://t.me/omcourse_bot



امتحان الصف التاسع
للعام الدراسي ١٤٣٦/١٤٣٧ هـ - ٢٠١٥/٢٠١٦ م
الفصل الدراسي الأول - الدور الأول

- عدد صفحات أسئلة الامتحان: (٧).
- الإجابة في الورقة نفسها.

- المادة: الدراسات الاجتماعية.
- زمن الإجابة: ساعة ونصف.

		اسم الطالب
الصف		المدرسة

(التوقيع بالاسم)		الدرجة بالحروف (بالأحمر)	الدرجة بالأرقام (بالأحمر)		السؤال
المدقق (بالأخضر)	المصحح (بالأحمر)		عشرات	آحاد	
					١
					٢
					٣
					٤
	مراجعة الجمع والتشطيب (بالأزرق)	جمعه (بالأحمر)			المجموع
					المجموع الكلي

امتحان الصف التاسع
للعام الدراسي ١٤٣٦/١٤٣٧ هـ - ٢٠١٥/٢٠١٦ م
الفصل الدراسي الأول - الدور الأول
المادة: الدراسات الاجتماعية

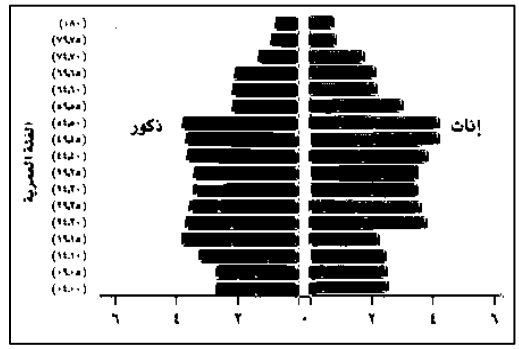

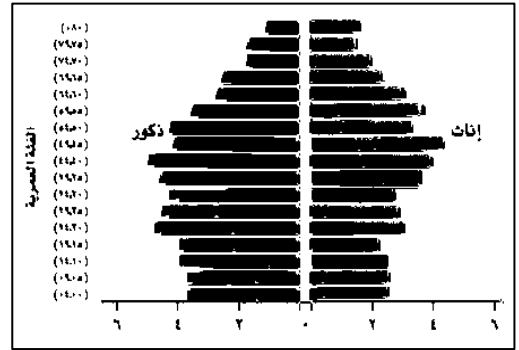
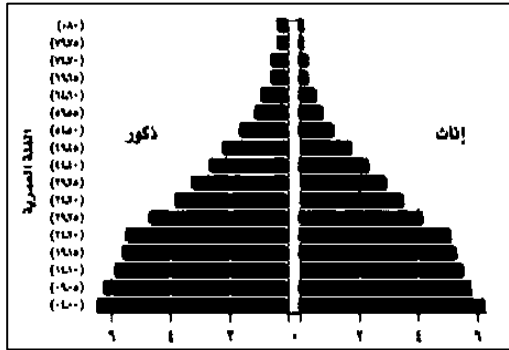
أجب عن جميع الأسئلة الآتية:

السؤال الأول: ضع دائرة حول رمز الإجابة الصحيحة لكل مفردة من المفردات الآتية:

١- الحالة الزواجية والتعليمية للسكان يقصد بها البنية:

أ- العمرية ب- النوعية ج- الاقتصادية د- الاجتماعية

٢- أي شكل من أشكال الأهرامات السكانية الآتية يمثل المجتمع الفتى؟



٣- المناطق التي تتجاوز الكثافة السكانية فيها ٨٠٠ نسمة/كم^٢ تم تصنيفها على انها مناطق ذات كثافة سكانية:

أ- منخفضة جدا ب- متوسطة ج- مرتفعة د- شديدة الارتفاع

٤- قام بطلب من أهالي شرقي أفريقيا بتحرير مناطقهم من البرتغاليين:

أ- سلطان بن سيف الأول ب- سلطان بن سيف الثاني ج- أحمد بن سعيد د- سعيد بن سلطان

٥- القرنفل الذي شجع السيد سعيد بن سلطان على إدخال زراعته إلى زنجبار مستورد من جزيرة:

أ- مدغشقر ب- سيشل ج- موريشيوس د- سقطرى

(٢)

امتحان الصف التاسع

للعام الدراسي ١٤٣٦/١٤٣٧ هـ - ٢٠١٥/٢٠١٦ م

الفصل الدراسي الأول - الدور الأول

المادة: الدراسات الاجتماعية

تابع: السؤال الأول:

٦- الدولة الأوروبية التي أعلنت الحماية على زنجبار عام ١٨٩١م:

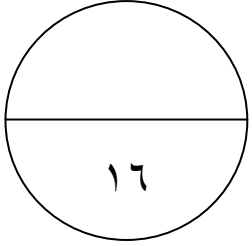
أ- هولندا ب- بريطانيا ج- ألمانيا د- البرتغال

٧- في أواخر عام ٢٠٠٤م قدمت سلطنة عمان مساعدات للمتضررين في دول جنوب شرق آسيا جراء:

أ- التطهير العرقي ب- الحروب الطائفية ج- تسونامي د- الاضطهاد

٨- المصطلح الذي يطلق على منظمة التجارة العالمية:

أ- الجات ب- ابسيسكو ج- اليونسيف د- موست



الدرجة :

١٦

السؤال الثاني:

أ) اعط مثالين لكل مما يأتي:

١- المسوحات التي تقوم به المؤسسات الحكومية والأهلية في معرفة بعض الخصائص السكانية.

.....

.....

٢- الوثائق الرسمية التي يتم إصدارها من سجل الأحوال المدنية.

.....

.....

٣- تم افتراض عدد المواليد الأحياء في دولة ما (٣١,٠٠٠) ، وكانت تقديرات السكان في العام نفسه

نحو (٣,١٠٠,٠٠٠) نسمة .

أحسب معدل المواليد الخام.

.....

.....

.....

(٣)

امتحان الصف التاسع

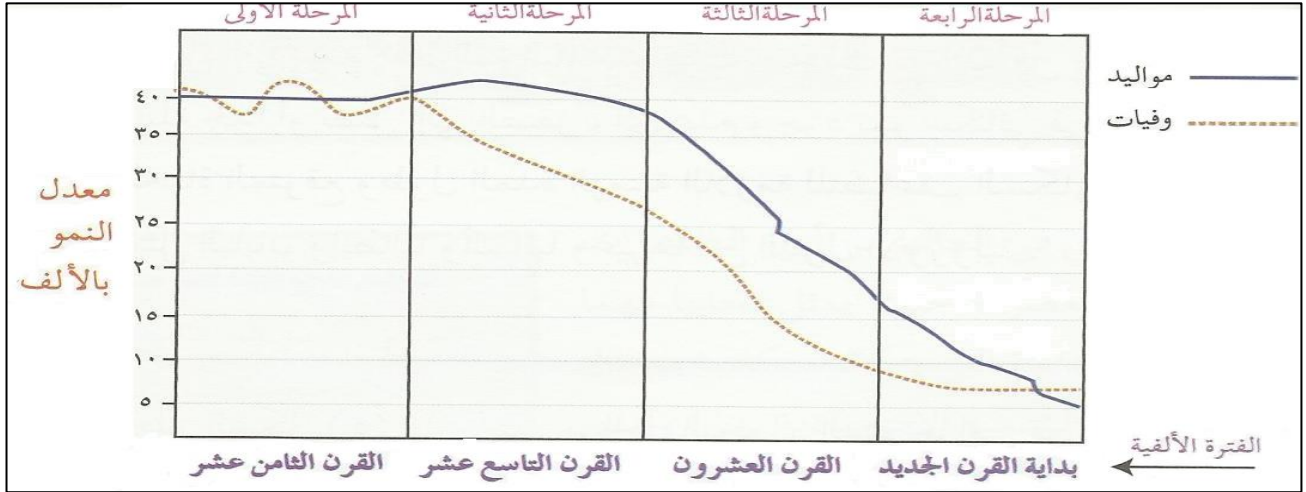
للعام الدراسي ١٤٣٦/١٤٣٧ هـ - ٢٠١٥/٢٠١٦ م

الفصل الدراسي الأول - الدور الأول

المادة: الدراسات الاجتماعية

تابع: السؤال الثاني:

ب) ادرس الشكل الذي أمامك ثم أجب عن الأسئلة التي تليه.



١- أي مرحلة من مراحل الانتقال السكاني الموضحة في الشكل السابق تمثلها الصين؟

٢- ما المرحلة التي تتميز بانخفاض في معدلات المواليد والوفيات بحيث تقترب من بعضها البعض؟

٣- استنتج مميزات المرحلة الثانية.

ج) اجب عما يلي:

١- استخرج من الجدول الذي أمامك استخرج دولة تقترب من المعدل الطبيعي لنسبة النوع.

م	الدولة	نسبة النوع
١	غانا	٩٩
٢	قطر	١٩١
٣	روسيا	١٠٥
٤	الكويت	١٥٢

(٤)

امتحان الصف التاسع

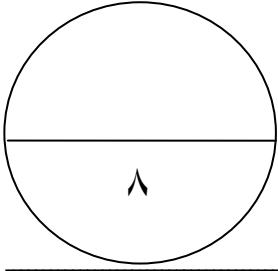
للعام الدراسي ١٤٣٦/١٤٣٧ هـ - ٢٠١٥/٢٠١٦ م

الفصل الدراسي الأول - الدور الأول

المادة: الدراسات الاجتماعية

تابع السؤال الثاني:

٢- تتأثر نسبة النوع في المجتمعات بعدة عوامل. أذكر اثنين منها.



الدرجة :

السؤال الثالث:

أ) حسب معطيات الجدول الذي امامك .
ارسم اعمدة بيانية توضح عدد السكان
في كلا من (نيجيريا- بنجلاديش).

الدولة	عدد السكان عام ٢٠٠٥
نيجيريا	١٣٠ مليون
روسيا	١٤٢ مليون
باكستان	١٦١ مليون
بنجلاديش	١٥٣ مليون



(ب)

١- بين السبب والنتيجة فيما يأتي :

م	السبب	النتيجة
١	ظهور مراكز تجارية أوروبية تخصصت في صناعة العاج في كل من المانيا وهولندا وبريطانيا.
٢	لم يكن ينتهي عهد السيد سعيد بن سلطان في زنجبار حتى اختفت إلى حد كبير العملات الاجنبية (الريالات الألمانية والنمساوية والإسبانية).

(٥)

امتحان الصف التاسع

للعام الدراسي ١٤٣٦/١٤٣٧ هـ - ٢٠١٥/٢٠١٦ م

الفصل الدراسي الأول - الدور الأول

المادة: الدراسات الاجتماعية

تابع السؤال الثالث:

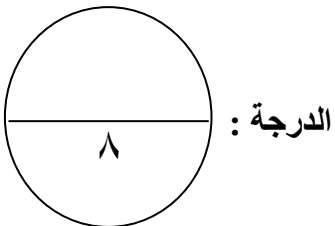
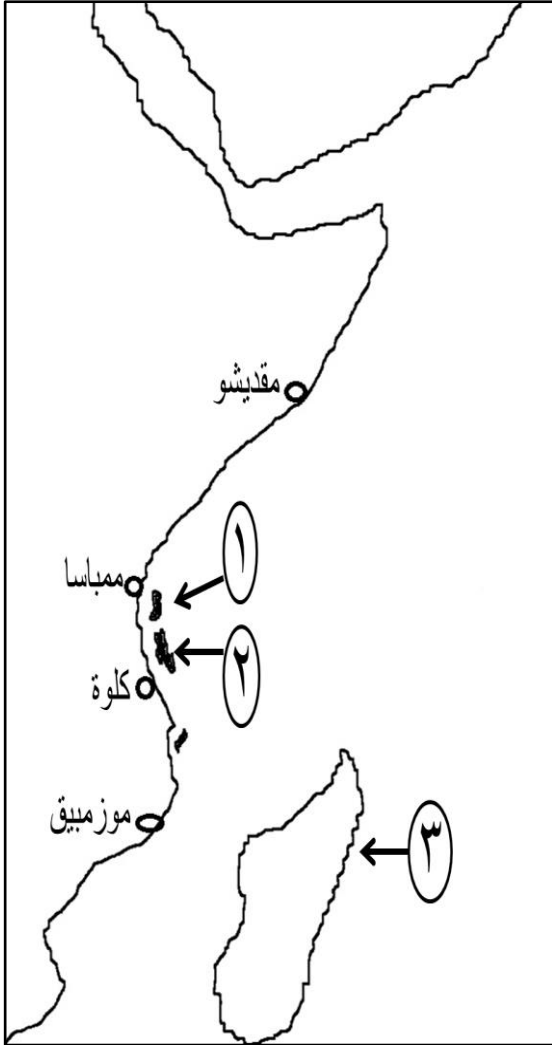
٢- أذكر أهم الأسس التي قامت عليها علاقات عمان السياسية مع العالم الإسلامي منذ تولي حضرة صاحب الجلالة السلطان قابوس الحكم في البلاد.

ج) أدرس الخريطة التي امامك جيدا، ثم اجب عن الاسئلة الآتية:

١- ما الرقم الذي يشير إلى الجزيرة التي يطلق عليها بستان افريقيا الشرقية؟

٢- وقع على الخريطة بحر العرب.

٣- ظلل على الخريطة الامتداد العماني في عهد السيد سعيد بن سلطان من الشمال الى الجنوب على الساحل الشرقي لإفريقيا.



(٦)

امتحان الصف التاسع

للعام الدراسي ١٤٣٦/١٤٣٧ هـ - ٢٠١٥/٢٠١٦ م

الفصل الدراسي الأول - الدور الأول

المادة: الدراسات الاجتماعية

السؤال الرابع :

(أ)

١- علل ما يلي:

أ- عدم توغل التجار والمهاجرين العرب في بداية هجراتهم لشرقي أفريقيا للمناطق الداخلية.

ب- يعد الطريق الشمالي من اخطر طرق القوافل العربية في شرقي أفريقيا.

٢- وضح موقف سلطنة عمان من الاحتلال الإسرائيلي للأراضي الفلسطينية والعربية الأخرى.

(ب)

((توافقا مع ما يشهده عصرنا الحاضر من تطورات، وما أصبح للتجمعات الاقتصادية والإقليمية من أهمية بالغة ، قامت سلطنة عمان بدور نشط في إنشاء رابطة ما، حيث استضافت الاجتماع الوزاري لتلك الرابطة في مسقط في أبريل عام ٢٠٠١ م ، وتولت رئاستها لمدة عامين ٢٠٠١ م – ٢٠٠٣ م)).

في ضوء هذه العبارة أجب عن الأسئلة الآتية.

١- ما اسم الرابطة؟

٢- وضح أهم المزايا التي توفرها الرابطة لسلطنة عمان.

(٧)

امتحان الصف التاسع

للعام الدراسي ١٤٣٦/١٤٣٧ هـ - ٢٠١٥/٢٠١٦ م

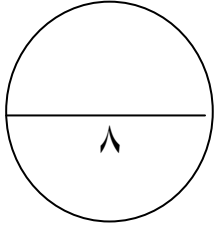
الفصل الدراسي الأول - الدور الأول

المادة: الدراسات الاجتماعية

تابع السؤال الرابع :

(ج) صنف في الجدول الآتي امام كل منظمة من المنظمات التابعة للأمم المتحدة، المجالات التي تختص بها (تعميم حماية الأمومة - العمل على رفع مستوى التغذية - نشر الثقافة العالمية)

م	المنظمة التابعة للأمم المتحدة	اختصاصها
١	اليونسكو	
٢	العمل الدولية	
٣	الفاو	



الدرجة :

انتهت الأسئلة مع الدعاء للجميع بالتوفيق والنجاح



سَلْطَنَةُ عُضْمَانِ
وَزَارَةُ الْعُلُومِ وَالتَّعْلِيمِ

المديرية العامة للتربية والتعليم بمحافظة مسقط
دائرة التقويم التربوي
قسم الاختبارات والمقاييس

نموذج إجابة امتحان الصف التاسع
للعام الدراسي ١٤٣٦/١٤٣٧ هـ - ٢٠١٥/٢٠١٦ م
الفصل الدراسي الأول - الدور الأول

المادة: الدراسات الاجتماعية
تنبيه: نموذج الإجابة في (٤) صفحات
الدرجة الكلية: (٤٠) درجة

أولاً: إجابة السؤال الموضوعي:-

الدرجة الكلية: (١٦) درجة				إجابة السؤال الأول	
المخرج التعليمي	الصفحة	الدرجة	الإجابة	البديل الصحيح	المفردة
	٢١	٢	الاجتماعية	د	١
	٢٣	٢		ب	٢
	٣٢	٢	شديدة الارتفاع	د	٣
	٤١	٢	سلطان بن سيف الأول	أ	٤
	٥١	٢	موريشيوس	ج	٥
	٦٣	٢	بريطانيا	ب	٦
	٧٦	٢	تسونامي	ج	٧
	٩١	٢	الجات	أ	٨
١٦			المجموع		

(٢)

تابع نموذج إجابة امتحان الصف التاسع
للعام الدراسي ١٤٣٦/١٤٣٧ هـ - ٢٠١٥/٢٠١٦ م
الفصل الدراسي الأول - الدور الأول
المادة: الدراسات الاجتماعية

ثانياً: إجابة الأسئلة المقالية:

الدرجة الكلية : (٨) درجة				إجابة السؤال الثاني	
المخرج التعليمي	الصفحة	الدرجة	الإجابة الصحيحة	المفردة	الجزئية
	١٣	١ لكل نصف درجة	مسح الخصوبة/مسح العمالة/مسح الباحثين عن عمل/التركيب النوعي.	١	أ
	١٣	١ لكل نصف درجة	شهادة الميلاد/شهادة الوفاة/عقد الزواج/وثيقة الطلاق.	٢	
	٢٨	١	معدل المواليد الخام = $\frac{31000}{310000} \times 100 = 10$ لكل ألف	٣	
	٢٥	١	المرحلة الثالثة	١	ب
	٢٦	١	المرحلة الرابعة.	٢	
	٢٥	١	ارتفاع في معدلات المواليد يرافقه انخفاض في معدلات الوفيات.	٣	
	١٦	١	روسيا.	١	ج
	١٦	١ لكل نصف درجة	اختلاف نوعية المهاجرين فالغالبية تكون من الذكور/عدم الدقة في تسجيل الإناث/اغفال التبليغ عن بعض الولادات/التبليغ الخاطيء لنوع المولود/اختلاف معدلات الوفيات بين الذكور والإناث/الحروب.	٢	

(٣)

تابع نموذج إجابة امتحان الصف التاسع
للعام الدراسي ١٤٣٦/١٤٣٧ هـ - ٢٠١٥/٢٠١٦ م
الفصل الدراسي الأول - الدور الأول
المادة: الدراسات الاجتماعية

ثانياً: إجابة الأسئلة المقالية:-

الدرجة الكلية : (٨) درجة			إجابة السؤال الثالث											
المخرج التعليمي	الصفحة	الدرجة	الإجابة الصحيحة	المفردة	الجزئية									
	٣١	٢ لكل عمود درجة			أ									
	٥٣	١	<table border="1"> <thead> <tr> <th>م</th> <th>السبب</th> <th>النتيجة</th> </tr> </thead> <tbody> <tr> <td>١</td> <td>ظهور مركز تجارية أوروبية تخصصت في صناعة العاج في كل من ألمانيا وهولندا وبريطانيا.</td> <td>ادى إلى زيادة الطلب على العاج</td> </tr> <tr> <td>٢</td> <td>استحداث السيد سعيد بن سلطان نظاما نقديا جديدا.</td> <td>لم يكن ينتهي عهد السيد سعيد بن سلطان في زنجبار حتى اختفت إلى حد كبير العملات الأجنبية (الريالات الألمانية والنمساوية والإسبانية) ..</td> </tr> </tbody> </table>	م	السبب	النتيجة	١	ظهور مركز تجارية أوروبية تخصصت في صناعة العاج في كل من ألمانيا وهولندا وبريطانيا.	ادى إلى زيادة الطلب على العاج	٢	استحداث السيد سعيد بن سلطان نظاما نقديا جديدا.	لم يكن ينتهي عهد السيد سعيد بن سلطان في زنجبار حتى اختفت إلى حد كبير العملات الأجنبية (الريالات الألمانية والنمساوية والإسبانية) ..	١	ب
م	السبب	النتيجة												
١	ظهور مركز تجارية أوروبية تخصصت في صناعة العاج في كل من ألمانيا وهولندا وبريطانيا.	ادى إلى زيادة الطلب على العاج												
٢	استحداث السيد سعيد بن سلطان نظاما نقديا جديدا.	لم يكن ينتهي عهد السيد سعيد بن سلطان في زنجبار حتى اختفت إلى حد كبير العملات الأجنبية (الريالات الألمانية والنمساوية والإسبانية) ..												
	٧٢	١ لكل نصف درجة	العمل من اجل دعم العلاقات مع الدول الشقيقة /حسن الجوار/عدم التدخل في الشؤون الداخلية /انتهاج سياسة عدم الانحياز. (يكتفى بذكر اثنين)	٢										
	٤٩ ٤٤ ٤٦-٤٤	١ ١ ١		١ ٢ ٣	ج									

(٤)

تابع نموذج إجابة امتحان الصف التاسع
للعام الدراسي ١٤٣٦/١٤٣٧ هـ - ٢٠١٥/٢٠١٦ م
الفصل الدراسي الأول - الدور الأول
المادة: الدراسات الاجتماعية

تابع ثانياً: إجابة الأسئلة المقالية:-

الدرجة الكلية: (٨) درجة			إجابة السؤال الرابع		
المخرج التعليمي	الصفحة	الدرجة	الإجابة الصحيحة	المفردة	الجزئية
	٤٠	١	أ- طبيعة الجغرافية/قسوة المناخ/الغابات الاستوائية/الحيوانات المفترسة/الجبال الشاهقة.	١	أ
	٥٢	١	ب- بسبب تعرض القوافل التي ترتاده لهجمات قبائل الماساي.		
	٧٣	١	تدين استمرار الاحتلال الاسرائيلي للأراضي الفلسطينية والعربية الأخرى/تدعو إلى تحرير جميع الأراضي العربية المحتلة/استعادة حقوق الشعب الفلسطيني.	٢	
	٧٩	١	رابطة الدول المطلة على المحيط الهندي	١	ب
	٨٠	١	حجم السوق/وجود اسواق واسعة للمنتجات العمانية/الافادة من خبرات بعض الدول في المجالات العلمية والتقنية/ جعل السلطنة مركزا للخدمات المالية /خدمات الصيانة. (يكتفى بواحد)	٢	
	٨٢	١	اختصاصها	م المنظمة التابعة للأمم المتحدة	ج
	٨٤	١	نشر الثقافة العالمية	١ اليونسكو	
	٨٤	١	تعميم حماية الأمومة	٢ العمل الدولية	
	٨٤	١	العمل على رفع مستوى التغذية	٣ الفاو	

نهاية نموذج الإجابة