

تم تحميل هذا الملف من موقع المناهج العمانية



أسئلة خذ بيدي على الوحدة الرابعة الدوائر والخطوط المستقيمة والزوايا والأشكال الهندسية

موقع فايلاتي ← المناهج العمانية ← الصف التاسع ← رياضيات ← الفصل الأول ← ملفات متنوعة ← الملف

تاريخ إضافة الملف على موقع المناهج: 2024-12-28 13:03:25

ملفات اكتب للمعلم اكتب للطالب | اختبارات الكترونية | اختبارات | حلول | عروض بوربوينت | أوراق عمل | منهج انجليزي | ملخصات وتقارير | مذكرات وبنوك | الامتحان النهائي للمدرس

المزيد من مادة رياضيات:

التواصل الاجتماعي بحسب الصف التاسع



صفحة المناهج العمانية على فيسبوك

الرياضيات

اللغة الانجليزية

اللغة العربية

التربية الاسلامية

المواد على تلغرام

المزيد من الملفات بحسب الصف التاسع والمادة رياضيات في الفصل الأول

أسئلة خذ بيدي على الوحدة الثانية الكسور والنسب المئوية

1

أسئلة خذ بيدي في الوحدة الأولى أنواع الأعداد والعمليات عليها

2

مراجعة الوحدة التاسعة المتتاليات والمجموعات مع الحل

3

مراجعة الوحدة الثامنة التماثل والتحويلات الهندسية مع الحل

4

مراجعة الوحدة السابعة المستقيمات مع الحل

5



" خذ بيدي " ٤

٩

الدوائر والخطوط المستقيمة والزوايا والأشكال الهندسية

ارسم الانشاءات الهندسية التالية (خلف الورق)

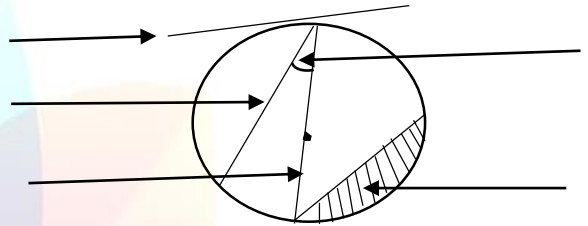
* باستخدام المسطرة والفرجار ارسم المثلث أ ب ج ، حيث
أ ب = ٣ سم ، ب ج = ٢ سم ، ج أ = ٤ سم

* ارسم منصفا عموديا للقطعة المستقيمة د هـ

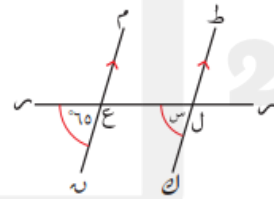
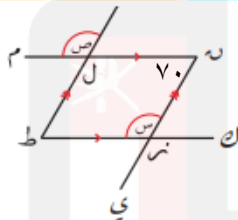
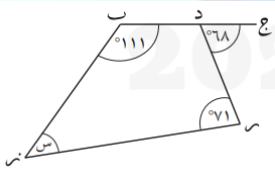
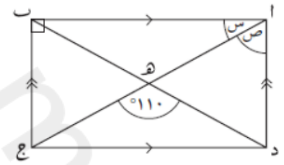
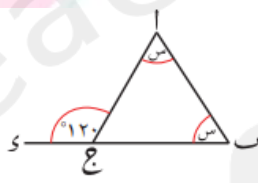
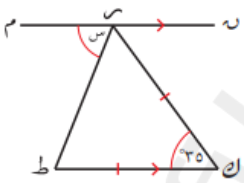
* ارسم شكل سداسي منتظم داخل دائرة نصف قطرها ٣ سم

* ارسم منصفا للزاوية ٧٠ باستخدام الفرجار والمسطرة

سم عناصر الدائرة المشار إليها بالسهم :



أوجد قياس الزوايا المجهولة المشار إليها بالحروف س ، ص ، ع



* مجموع قياس الزوايا الداخلية للمضلع

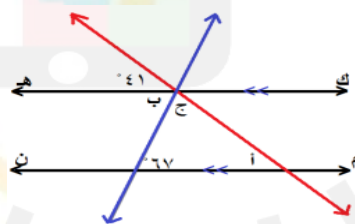
السباعي.....

* الزاوية العكسية للزاوية ٥٠

* قياس الزاوية المتكاملة مع الزاوية ٦٥
يساوي

* مضلع خماسي منتظم أوجد قياس كل
زاوية داخلية من زواياه

* مضلع قياس احدى زواياه الداخلية ٦٥
أوجد قياس الزاوية الخارجية المجاورة له
.....



أوجد قياس كلا من :

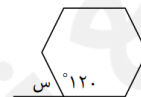
الزاوية (أ) =

الزاوية (ب) =

الزاوية (ج) =

* قياس الزاوية الخارجية في الشكل

السداسي المنتظم



* زاويتان متتامتان، قياس الزاوية
الأولى ضعف الزاوية الثانية، ما
قياس كل منهما؟

* اذا كان مجموع قياسات الزوايا
الداخلية لمضلع ما ١٤٤٠ ما عدد
أضلاعه؟