


تم تحميل هذا الملف من موقع المناهج العمانية



الملف أجوبة المذكرة الإثرائية والأسئلة الاختبارية في الوحدة السادسة (تاريخ آسيا الحديث والمعاصر)

[موقع المناهج](#) ← [المناهج العمانية](#) ← [الصف التاسع](#) ← [اجتماعيات](#) ← [الفصل الثاني](#)

روابط مواقع التواصل الاجتماعي بحسب الصف التاسع



روابط مواد الصف التاسع على تلغرام

[الرياضيات](#)

[اللغة الانجليزية](#)

[اللغة العربية](#)

[التربية الاسلامية](#)

المزيد من الملفات بحسب الصف التاسع والمادة اجتماعيات في الفصل الثاني

امتحان وإجابة الأسئلة الرسمية للفصل الدراسي الثاني الدور الأول 20162017	1
كتاب الطالب	2
ملخص من أهلك مع اختبارات قصيرة	3
مذكرة بنك الأسئلة (سؤال وجواب)	4
خطة المحتوى التدريسي (تحديث فبراير) لمدارس التعليم المباشر	5

الصف التاسع

الدراسات الاجتماعية

2021-2022

الفصل الدراسي الثاني

الوحدة السادسة

(سؤال وجواب)

(تاريخ آسيا الحديث والمعاصر)

محتوى الوحدة السادسة

٢- جمهورية الصين الشعبية

١- الجمهورية الإسلامية الإيرانية

٣- اليابان


للتواصل :

99493923

اعداد :

علي بن محمد الحسان

Ali_47536@moe.om



درس (الجمهورية الإسلامية الإيرانية)

السؤال الأول : ضع علامة (✓) أو (X) أمام العبارة المناسبة مع تصحيح ما تحته خط إذا كانت العبارة خطأ :

- ١- (X) تحل إيران اليوم المركز الثالث من حيث إنتاج البترول في منظمة الأوبك . الثاني
- ٢- (✓) تقع إيران إلى الشرق من العراق وتطل على الخليج العربي .
- ٣- (X) كان للفرس علاقات تجارية مع الدول المجاورة حيث استوردوا الحرير من الهند . الصين

السؤال الثاني : أكمل ما يلي بكلمات مناسبة من عندك :

- ١- إيران بلاد قديمة في تمدنها وتاريخها عرفت عبر التاريخ ببلاد الفرس أو فارس وسماها العرب ببلاد العجم .
- ٢- تقع إيران إلى الشرق من العراق وتطل على الخليج العربي ويفصل مضيق هرمز بينها وبين سلطنة عمان .
- ٣- كان نظام الحكم في إيران قديماً ملكياً وراثياً وكان الملك هو الزعيم السياسي والروحي .

السؤال الثالث : اختر الكلمة المناسبة من بين القوسين وضعها في مكانها الصحيح في الفراغ :

(الصين - المصريين - الفينيقيين - الرافدين - اليونانيون - الهند)

أخذ ملوك الفرس الكتابة من بلاد الرافدين واقتبسوا فن العمارة عن المصريين وأخذوا النقود عن اليونانيون وتعلموا بناء السفن من الفينيقيين ، كما استوردوا الحرير من الصين والبهارات والتوابل من الهند .

السؤال الرابع : ظلل الإجابة الصحيحة من بين البدائل المعطاه :

١- يعود ظهور إيران كقوة سياسية حوالى ٥٤٩ ق.م عندما استطاع من توحيد القبائل الفارسية .

○ قورش ● كورش ○ قوعش

٢- تعرضت إيران في القرن الرابع قبل الميلاد لغزو ...

● الاسكندر المقدوني ○ الاسكندر الأكبر ○ الاسكندر الثاني

٣- الذي كان يسن القوانين ويجبون الضرائب في نظام الحكم الفارسي القديم هم ...

● الأشراف ○ الساسانيين ○ المزارعون

٤- أعلن قيام الجمهورية الإسلامية الإيرانية في ١١ فبراير عام

○ ١٩٧٧ ○ ١٩٧٨ ● ١٩٧٩

السؤال الخامس : علل " أذكر السبب "

١- أقيمت مظاهرات عام ١٩٧٨ ضد الشاه محمد رضا بهلوي مما أطيح بنظامه .

بسبب توسعه في إدخال الحضارة الغربية من وجهة نظر الشعب

٢- لم يسمح الساسانيين للناس العاديين بالتمثيل بين يدي لملك .

لأن الساسانيين حرصوا على إظهار العظمة والأبهة للملك .

السؤال السادس : اكمل الشكل بكتابة أربعة من الصناعات التي ازدهرت في بلاد فارس

صناعة السجاد	صناعة الأقمشة الحريرية والصوفية	صناعة الأسلحة
صناعة السفن	صناعة الأواني الفخارية	صناعة المعادن

السؤال السابع : أجب عن الأسئلة التالية :

س ١ : " كانت الأراضي في بلاد فارس مقسمة إلى إقطاعات كبيرة " من كان يمتلك هذه الإقطاعات ؟
ج ١ : كان يمتلكها النبلاء وكبار الأغنياء والمزارعين .

س ٢ : " اهتم الفرس بالزراعة " ماهي الاعمال التي قاموا بها لتنشيط هذا المجال ؟

- ج ٢ : - اقاموا مشاريع الري .
- جلبوا المياه من الجبال .
- بنوا الخزانات والسدود .

س ٣ : كيف كان نظام الحكم قديماً في بلاد فارس ؟ وماهي سلطات الملك في الحكم ؟

ج ٣ : كان نظام الحكم ملكياً وراثياً وقد استحوذ الملك على السلطات فكان هو الزعيم السياسي والروحي وسلطاته مقدسة ومطلقة و كان كبار الموظفين والوزراء يسجدون أمامه تعظيماً له .

س ٤ : ما دور الساسانيون في نظام الحكم القديم في بلاد فارس ؟

ج ٤ : كان الساسانيون يحرصون على إظهار العظمة والأبهة للملك حيث لم يسمحوا للناس العاديين من الرعية المثول بين يديه إلا من وراء حجاب .

س ٥ : ماذا تعرف عن مجلس الأشراف في نظام الحكم الفارسي ؟ ومداور الملك إتجاهه " ؟

ج ٥ : هو مجلس خصصه الملك يجتمع في القصر الملكي لتقديم المشورة للملك بالمقابل كان الملك يقطع للأشراف إقطاعات من الأراضي الزراعية مقابل أن يمدوه بالرجال والسلاح وقت الحرب وأن يدفعوا له الضرائب السنوية.

س ٦ : ماهي الأعمال التي كان يقوم بها الأشراف في إقطاعاتهم " ؟

ج ٦ : كان للأشراف سلطة كبيرة في إقطاعاتهم فكانوا يسنون القوانين ويجبون الضرائب وينفذون الأحكام القضائية .

س ٧ : " نتيجة للعلاقات الجيدة بين السلطنة وايران فقد قامت بينهما عدة اتفاقيات " أذكر أهم هذه الاتفاقيات ؟

- ج ٧ : ١- اتفاقية التشجيع والحماية المتبادلة للاستثمارات واتفاقية تجنب الازدواج الضريبي .
 ٢- اتفاقية التعاون العلمي والفني والبحثي .
 ٣- الاتفاقية التجارية حيث تعمل على إزالة المعوقات التجارية وتنظيم المعارض

س ٨ : تحدث عن أهم الأحداث التي مرت بها إيران عبر التاريخ ؟

- ج ٨ : - تعرضت في الرابع قبل الميلاد لغزو الإسكندر المقدوني .
 - قامت فيها الدولة الساسانية مطلع القرن الثالث الميلادي .
 - أصبحت جزءاً من الدولة العربية الإسلامية في القرن السابع الميلادي .
 - تعرضت لغزو المغول في القرن الثالث عشر الميلادي .
 - في عام ١٩٢١ وصل رضا شاه بهلوي إلى السلطة وعمل على تحديث البلاد .
 - في عام ١٩٤١ تولى السلطة الشاه محمد رضا بهلوي .
 - في عام ١٩٧٨ قامت مظاهرات ضد الشاه من معارضيه بسبب توسعه في إدخال الحضارة الغربية حيث أطيح بنظامه .
 - في ١١ فبراير ١٩٧٨ أعلن قيام الجمهورية الإسلامية الإيرانية .

درس (جمهورية الصين الشعبية)

السؤال الأول : ضع علامة (✓) أو (X) أمام العبارة المناسبة مع تصحيح ما تحته خط إذا كانت العبارة خطأ :

- ١- (✓) كان الصينيون القدماء يتعاونون فيما بينهم للحد من الفيضانات وآثارها على حياتهم .
- ٢- (X) الصين بلاد واسعة تقع في شرقي أوروبا . آسيا
- ٣- (✓) تخترق الصين ثلاثة أنهار عظيمة .
- ٤- (✓) تركز معظم سكان الصين في وديان الأنهار الكبرى .
- ٥- (X) كان سور الصين العظيم في بداية بناءه عبارة عن سور كامل متصل ببعض . قطع منفصلة عن بعض
- ٦- (X) تمتلك الصين جدودا طويلة مع ١٦ دولة . ١٤

السؤال الثاني : أكمل ما يلي بكلمات مناسبة من عندك :

- ١- وصل الإسلام إلى الصين عن طريق التجار والدعاة وكان معظمهم من العمانيين .
- ٢- قامت السلطنة بإصدار طابع بريدي في ذكرى زيارة السفينة صحار لمدينة قوانتشو عام ١٩٨١ .
- ٣- تتابعت على حكم الإمبراطورية الصينية عدد أربع عائلات إمبراطورية مشهورة .
- ٤- بعد الحرب العالمية الثانية ١٩٤٥ دخلت الصين في صراع سياسي بين حزبين هما الحزب الشيوعي والحزب الوطني .
- ٥- اشتهر الصينيون بزخرفة الاطباق والمزهريات برسوم واشكال جميلة تعرف باسم الصيني حتى الان .

السؤال الثالث : ظلل الإجابة الصحيحة من بين الخيارات التالية :

- ١- من الأنهار الكبرى التي تمر بالصين نهر هوانج هو ومعناه ...
 النهر الأبيض النهر الأصفر النهر الأسود
- ٢- اعتمد الصينيون القدماء في حياتهم على
 الزراعة الرعي التجارة
- ٣- يعتبر من أشهر حكماء الصين في الفترة من ٥٥١-٤٧٩ ق.م.
 بطليموس كونفوشيوس شيه هوانج
- ٤- اشترك في بناء سور الصين العظيم أكثر من ألف شخص
 ٣٠٠ ٤٠٠ ٥٠٠
- ٥- كان للتجار العرب جالية كبيرة في الصين في القرن ٨ م وكان مقرها مدينة
 بكين شانج هو كانتون
- ٦- أعلن قيام جمهورية الصين الشعبية في أكتوبر عام
 ١٩٤٨ ١٩٤٩ ١٩٥٠
- ٧- استمر حكم المغول للصين حتى تمكنت سلالة ... من اخراجهم .
 مينغ كينغ فينغ

السؤال الرابع : علل " أذكر السبب "

س ١: اعتماد الصينيون القدماء في حياتهم على الزراعة على أطراف النهر الأصفر .

ج ١: بسبب التربة الغنية التي كان يرسبها النهر عند فيضانه .

س ٢: كانت الأراضي الزراعية تتضرر كثيرا عند الصينيين القدماء وتتهدم مدنهم وقراهم .


ج ٢: بسبب الآثار التدميرية التي كان يحدثها فيضان النهر .

السؤال الخامس : أذكر نتيجة واحدة ترتبت على الأحداث الآتية :


الحدث	النتيجة / السبب
أخترع الصينيون الورق	ساعد على تطور الجهاز الإداري وانتشار التعليم
صنع الصينيون العربات ذات العجلات	بسبب توفر المعادن الصلبة المختلفة
ازدهار صناعة الأطباق والمزهريات والتحف الجميلة	وجود التراب الصيني الأبيض
وفرة التربة الغنية التي ترسبها الأنهار	استغلت في الزراعة وتربية الحيوانات واستقرار السكان حول اطراف تلك الأنهار
دخل المغول المسلمون الصين في القرن ١٤ م	دخول كثير من الصينيين الإسلام

السؤال السادس : أكتب تحت الصورة ما تدل عليه

سفينة صحار



سور الصين العظيم



معبد صيني



النهر الاصفر

السؤال السابع : أجب عن الأسئلة التالية :

س ١ : " تطورت الحضارة الصينية من الناحية التقنية والثقافية " وضح ذلك ؟

ج ١ : - استخدم الصينيون السلاح الناري والبوصلة والساعات

- توصلوا إلى طبع الورق .

- أهتم أباطرتهم بإصلاح المدن وبناء المعابد .

- اهتموا بالفنون والآداب .

- طوروا صناعة الخزف الصيني .

س ٢ : " حقق الصينيون إنجازات حضارية كان لها الأثر الكبير في الحضارة الإنسانية " اذكر أربع من هذه الإنجازات ؟

ج ٢ : - اختراع الورق .

- صناعة الأطباق والمزهريات والتحف الجميلة من التراب الصيني الأبيض وزخرفتها .

- صناعة الأدوات الحربية والزراعية من المعادن الصلبة .

- اختراع البوصلة .

- تطوير أساليب الري .

- صناعة العربات ذات العجلات التي تجرها الخيول .

- صناعة الحرير والاحتفاظ بسر صناعته لسنوات طويلة .

س ٣ : " تطورت الصين في السنوات الأخيرة من القرن العشرين ولا زالت تتقدم في المجالات المختلفة " وضح ذلك .

ج ٣ : - دخلت الصين مرحلة عرفت بمرحلة الإصلاح والانفتاح .

- ازداد حجم منتجاتها الصناعية .

- عملت على تطوير الزراعة على الرغم من قلة الأراضي الزراعية .

- توجهت نحو تحرير اقتصاد الدولة .

- الاستفادة من التقدم التكنولوجي .

س ٤ : أذكر ثلاث من مظاهر التعاون بين سلطنة عمان والصين ؟

ج ٤ : - توقيع اتفاقية تعاون إعلامي بين وكالة الأنباء العمانية ونظيرتها الصينية .

- قيام شركة النفط الصينية الوطنية باستثمارات ضخمة في السلطنة للحصول على امتيازات نفطية .

- تبادل المنتجات التجارية بين البلدين .

- قيام شركات صينية متخصصة بالماء والكهرباء بتنفيذ بعض مشاريع البنية التحتية بالسلطنة .

- التعاون بين البلدين في مجال التعاون السياحي .

درس (اليابان)

السؤال الأول : ضع علامة (✓) أو (X) أمام العبارة المناسبة مع تصحيح ما تحته خط إذا كانت العبارة خطأ :

- ١- (X) في مطلع القرن الثامن الميلادي اختار الامبراطور الياباني عاصمته الجديدة بـ كيوتو .
- ٢- (✓) المناطق الوسطى والجنوبية لليابان تتعرض للأعاصير في نهاية فصل الصيف .
- ٣- (✓) في عام ١٨٦٧ تسلم العرش الامبراطور هينو حيث بدأت اليابان عصر جديد عرف بعصر الحكومة المستتيرة .
- ٤- (✓) في عام ١٩٤٧ وضع دستور جديد لليابان فقد فيه الامبراطور كل السلطات العسكرية والسياسية .
- ٥- (X) استطاعت اليابان من الصمود امام غزوات المغول بفضل مقاتلي الكاوباي . الساموراي

السؤال الثاني : أكمل ما يلي بكلمات مناسبة من عندك :

- ١- المناطق الوسطى والجنوبية تتعرض للأعاصير في فصل الصيف أما الأجزاء الشمالية فتتعرض للعواصف الثلجية في الشتاء .
- ٢- استطاعت اليابان أن تحقق تقدم اقتصادي حيث أصبحت القوة الاقتصادية الثانية في العالم بعد الولايات المتحدة الأمريكية .
- ٣- بدأت اليابان بعد سنوات الحرب من إعادة البناء والتحديث حيث عرفت بالأعجوبة اليابانية .
- ٤- نتيجة للحروب المتواصلة بين الأسر اليابانية توزعت السلطة بين الإمبراطور والشوغون رئيس أقوى القبائل .
- ٥- في عام ١٩٤٢ تعرضت الأراضي اليابانية إلى الدمار والقبت القتابل النووية على مدينتي هيروشيما وناجازاكي .

السؤال الثالث : ظلل الإجابة الصحيحة من بين الخيارات التالية :

- ١- اليابان عبارة عن أرخبيل من الجزر وتتكون من جزر كبيرة .
- ٤ ● ٦ ○ ٨ ○
- ٢- تتعرض اليابان لظروف طبيعية قاسية فسهولها الزراعية ضيقة وتشكل من المساحة الكلية للبلاد .
- ١٤ % ○ ١٦ % ● ١٨ % ○
- ٣- الامبراطور الذي قرر أن تسلك بلاده طريق الثورة الصناعية هو
- كينو ○ مينو ○ هينو ●
- ٤- استطاعت اليابان من استرداد سيادتها الكاملة على أراضيها عام
- ١٩٦٢ ○ ١٩٧٢ ● ١٩٨٢ ○

السؤال الرابع : علل " أذكر السبب "

- س ١: يختلف المناخ في اليابان من منطقة إلى أخرى .
- ج ١: بسبب امتدادها من الشمال إلى الجنوب .
- س ٢: اضطرت اليابان للاستسلام للحلفاء في ٢ سبتمبر ١٩٤٥ م .
- ج ٢: بسبب تعرض أراضيها للدمار من خلال القاء القنابل النووية على مدينتي هيروشيما وناجازاكي اليابانيتين .

السؤال الخامس : أجب عن الأسئلة التالية :

س ١ : " نظمت اليابان شؤونها وفقاً للنموذج الصيني " وضع ذلك ؟

- ج ١ : - التأثير الصيني واضحاً في الجوانب الدينية والأدبية والسياسية .
- استخدموا الحروف الصينية في الكتابة .
- بنوا عاصمتهم القديمة " نارا " وفقاً لنماذج الأباطرة الصينيين .
- كتبوا قوانين مأخوذة كلياً عن القوانين الصينية .

س ٢ : " عندما تسلم الحكم الامبراطور الياباني هينو ١٨٦٧ بدأت اليابان بعصر جديد عرف بعصر الحكومة المستتيرة "

ماهي الاعمال التي قام بها ؟

- ج ٢ : - الغى الحكومة العسكرية .
- أنشأ مجلساً نيابياً للدولة .
- وضع دستوراً خاصاً للبلاد .
- نقل العاصمة من كوتو إلى ايدو . " طوكيو "

س ٣ : ماهي التأثيرات التي تعرضت لها اليابان بعد الحرب وتدمير معظم أراضيها وخاصة مدينتي هيروشيما وناجازاكي ؟

- ج ٣ : - أنفقت شبكات المواصلات ولم تعد البنية التحتية صالحة للصناعة وإعادة الإعمار .
- تعرضت البلاد لنقص شديد في الغذاء لسنوات عدة .
- دمرت أسلحتها حيث تم تقليص عدد جنودها .
- خضعت بصورة مباشرة لسيطرة الحلفاء بقيادة الولايات المتحدة الأمريكية .
- فقدت اليابان كل الأراضي التي استولت عليها بعد ١٨٩٤ .