

تم تحميل هذا الملف من موقع المناهج العمانية



## أسئلة قواعد grammar

موقع فايلاتي ← المناهج العمانية ← الصف الخامس ← لغة انجليزية ← الفصل الأول ← ملفات متنوعة ← الملف

تاريخ إضافة الملف على موقع المناهج: 2024-12-27 12:50:21

ملفات اكتب للمعلم اكتب للطالب | اختبارات الكترونية | اختبارات | حلول | عروض بوربوينت | أوراق عمل  
منهج انجليزي | ملخصات وتقارير | مذكرات وبنوك | الامتحان النهائي للمدرس

المزيد من مادة  
لغة انجليزية:

## التواصل الاجتماعي بحسب الصف الخامس



صفحة المناهج  
العمانية على  
فيسبوك

الرياضيات

اللغة الانجليزية

اللغة العربية

التربية الاسلامية

المواد على تلغرام

## المزيد من الملفات بحسب الصف الخامس والمادة لغة انجليزية في الفصل الأول

اختبار قصير ثاني في محافظة مسندم

1

كتيب علاجي Booklet Remedial

2

اختبار قصير ثاني test mock 2 مع نموذج الإجابة

3

اختبار قصير ثاني test2 class مع نموذج الإجابة

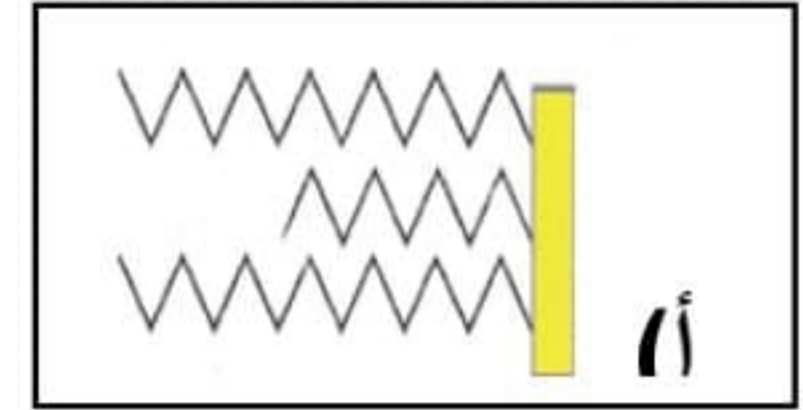
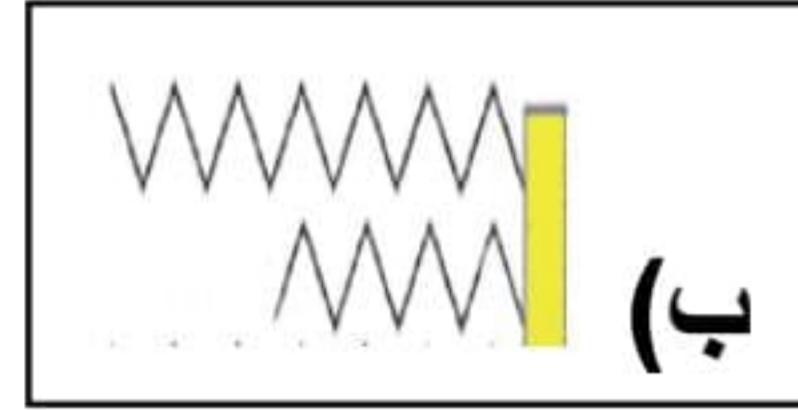
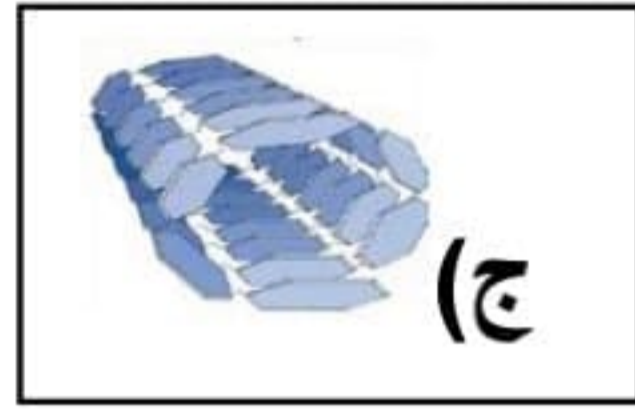
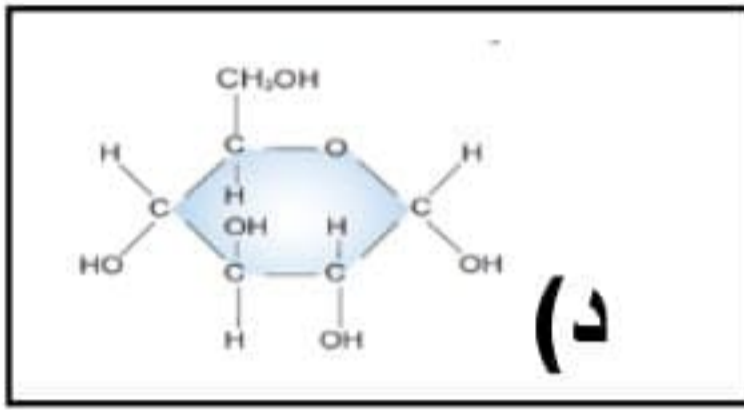
4

اختبار تشخيصي في وحدة الأشراف Diagnostic Unti Supervision

5

السؤال الأول: اختر الإجابة الصحيحة من بين البدائل المعطاة

- (١) تشبه الدهون الكربوهيدرات في :  
 (أ) الذوبان في الماء (ب) الوحدات البنائية (ج) احتوائها على ذرات : O,C,H  
 (٢) الكاشف المستخدم في الكشف عن الدهون هو  
 (أ) محلول بندكت (ب) محلول البيوريت  
 (ج) مستحلب الإيثانول (د) محلول اليود  
 (٣) أي مما يلي يدل على شكل جزيء الدهن :



- (٤) ما يجعل الدهون مفيدة جداً هو :  
 (أ) مصدر مباشر للطاقة  
 (ب) ذوبانها في الإيثانول  
 (ج) قدرتها على تخزين الطاقة الزائدة  
 (د) لا تذوب في الماء

- (٥) لديها خلايا خاصة تحت الجلد تمتلئ بقطرات كبيرة من الدهون او الزيوت :  
 (أ) شحوم الحوت (ب) ثمار الزيتون  
 (ج) الثدييات (د) درنات البطاطا

٦: اختر الإجابة الصحيحة من بين البدائل المعطاة:

- (١) لديك ملعقة تحتوي على ٧ جرام من الزبدة كم مقدار الطاقة التي تحتويها :  
 (أ) 17kJ/g (ب) 39kJ/g (ج) 119kJ/g (د) 273kJ/g

٧- تناول إبراهيم كمية من الدهون تقدر بـ 5 جرامات. كم تساوي كمية الطاقة الناتجة في جسمه؟

.....

.....

## السؤال الثاني: (١)

- أعطي أحمد نوعين من الطعام فأراد أن يكشف أيهما يحتوي على الدهون صف له تجربة يقوم بها لمعرفة أي النوعين يحتوي على الدهون :

Afedne.com

[٢] المستطيل التالي يحتوي أسماء مجموعة من الكائنات الحية تتبع الجدول لوضع كل كائن في مكانه الصحيح :

الكائنات : حيوان الفظ - الجمل - جوز الهند - الزيتون

انتقل إلى الرقم 3	1-يقوم بعملية التمثيل الضوئي
انتقل للرقم 4	2-يحصل على الغذاء من كائن حي آخر
انتقل للرقم 5 و6	3-يخزن الدهون على شكل زيوت
انتقل للرقم 7 و8	4-يخزن الدهون على شكل شحوم
انتقل للرقم 9	5-يخزن الزيت في البذور
انتقل للرقم 10	6-يخزن الزيت في الثمار
انتقل للرقم 11	7-يستخدم الشحوم كعازل حراري في المناطق ذات البرودة الشديدة.
انتقل للرقم 12	8-يستخدم الشحوم كعازل عن حرارة الشمس الحارقة
انتقل للرقم 13	9-يستخدم طاقة الزيوت في عملية إنبات البذور
A	10-رمز هذا الكائن هو
B	11-رمز هذا الكائن هو
C	12-رمز هذا الكائن هو
D	13- رمز هذا الكائن هو

حدد الرمز المناسب لكل كائن حي :

D	C	B	A	
				حيوان الفظ
				جوز الهند
				الزيتون
				الجمل


٣- انظر إلى الصور التالية ثم أجب :



M



S



T



A

- أي الأشكال السابقة يمثل :

- ١- استخدام الدهون كعازل حراري في المناطق القطبية

- ( )

- ٢- تخزين الدهون داخل الثمار

- ( )

- ٣- طبقة سميكة تحمي الجسم من الحرارة الشديدة

- ( )

- ٤- بذور تحتوي على زيوت مخزونة كطاقة لإتمام عملية الإنبات

- ( )