

شكراً لتحميلك هذا الملف من موقع المناهج العمانية



اختبار قصير ثاني

[موقع المناهج](#) ⇨ [المناهج العمانية](#) ⇨ [الصف التاسع](#) ⇨ [اجتماعيات](#) ⇨ [الفصل الأول](#) ⇨ [الملف](#)

تاريخ نشر الملف على موقع المناهج: 17:00:29 2023-12-14

التواصل الاجتماعي بحسب الصف التاسع



روابط مواد الصف التاسع على تلغرام

[الرياضيات](#)

[اللغة الانجليزية](#)

[اللغة العربية](#)

[التربية الاسلامية](#)

المزيد من الملفات بحسب الصف التاسع والمادة اجتماعيات في الفصل الأول

| | |
|---|---|
| أنشطة فردية في الوحدة الثانية | 1 |
| أسئلة موضوعية على الوحدة الثانية التواجد العماني في شرق إفريقيا | 2 |
| اختبار قصير ثاني نموذج ثاني | 3 |
| اختبار قصير ثاني | 4 |
| نموذج امتحان تجريبي | 5 |

اسمي الجميل صفني الرائع تاسع (....)

السؤال الأول: اختر الاجابه الصحيحة من بين البدائل المعطاة :- "معرفة وفهم"

1- توفي السيد سعيد بن سلطان عام 1856م على ظهر السفينة:

(أ) سلطنة (ب) الرحماني (ج) فكتوريا (د) ليفربول

2- القائد البرتغالي الذي أخضع المراكز التجارية في شرقي افريقيا عام 1501م هو :

(أ) ماجلان (ب) البوكيرك (ج) كريستوفر (د) فاسكوديجاما


3- وفد كثير من المجموعات الافريقية الى جزيرتي زنجبار وبمبا للعمل في مزارع:

(أ) الهيل (ب) النارجيل (ج) القرنفل (د) النخيل

4- الحرفة السائدة في جزيرة زنجبار هي: -

(أ) الصناعة (ب) الزراعة (ج) التجارة (د) الرعي

5- توضح الصورة أمامك أحد الشخصيات العمانية التي لعبت دورا عالميا في تجارة العاج وأسس أمارة عربية اسلامية في أعالي الكونغو هو الشيخ:



(أ) محي الدين الوائلي (ب) حميد المرجبي (ج) احمد الكعبي (د) محمد البرواني

السؤال الثاني : أجب عن الأسئلة التالية:

أولاً: (أ) فسر : (عدم توغل التجار العرب والعمانيون الى المناطق الداخلية من شرقي افريقيا).

ثانياً: (أ) صنف المنجزات الحضارية للعمانيين في شرقي افريقيا وفق المجال الذي تنتمي اليه في الجدول التالي:

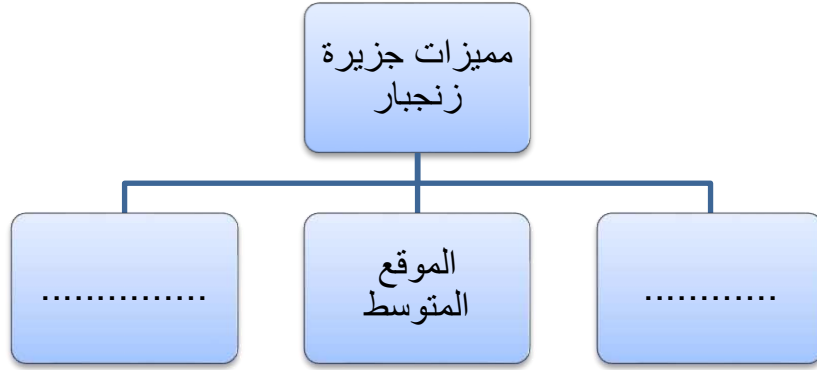
(ادخال محصول القرنفل الى زنجبار - الاسطول العسكري - اختيار زنجبار عاصمة لشرقي افريقيا)

| المنجزات | المجال |
|----------|-----------|
| | العسكري |
| | الاقتصادي |
| | السياسي |

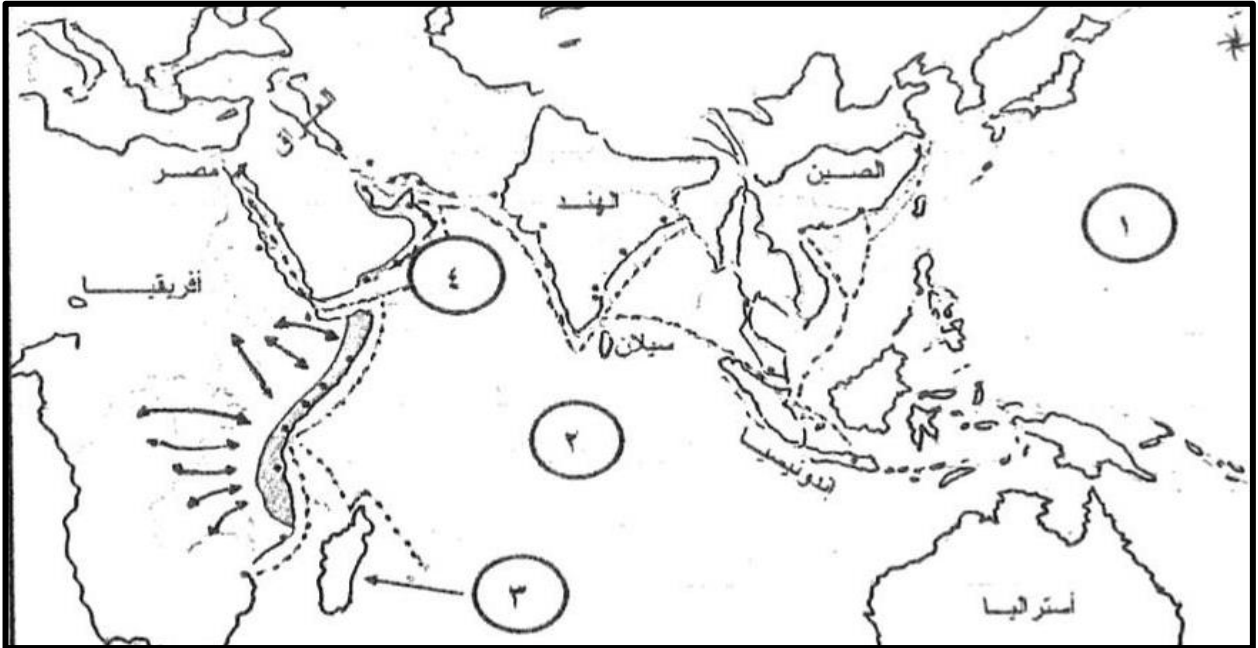
السؤال الثالث : أجب عن الأسئلة التالية :

اولا: (أ) تخيل نفسك تاجرا عمانيا في القرن 19 الميلادي برفقة عددا من اصحابك من مسقط الى زنجبار..ما هي السلع الزراعية التي ستحملها من مسقط الى زنجبار؟

(ب) اكمل المخطط التالي:



ثانيا: أمامك خريطة توضح الطرق والمراكز التجارية العمانية في عهد السيد سعيد بن سلطان ، أدرسها جيدا ثم عن أجب عن الأسئلة التي تليها:



أ - ما الرقم الذي يشير الى كلا من:

المحيط الهندي. بحر العرب

ب- ما اسم الجزيرة المشار إليها بالرقم (3) والتي كانت لها علاقة واسعة مع السيد سعيد بن سلطان.....

وتحت الأسئلة تمنياتي للجميع بالتوفيق

وتحت الاسئلة تمنياتي للجميع بالتوفيق