

تم تحميل هذا الملف من موقع المناهج العُمانية



* للحصول على أوراق عمل لجميع الصفوف وجميع المواد اضغط هنا

<https://almanahj.com/om>

* للحصول على أوراق عمل لجميع مواد الصف التاسع اضغط هنا

<https://almanahj.com/om/9>

* للحصول على جميع أوراق الصف التاسع في مادة اجتماعيات ولجميع الفصول, اضغط هنا

<https://almanahj.com/om/9social>

* للحصول على أوراق عمل لجميع مواد الصف التاسع في مادة اجتماعيات الخاصة بـ الفصل الأول اضغط هنا

<https://almanahj.com/om/9social1>

* لتحميل كتب جميع المواد في جميع الفصول للـ الصف التاسع اضغط هنا

<https://almanahj.com/om/grade9>

* لتحميل جميع ملفات المدرس سمراء الزدجالي اضغط هنا

للتحدث إلى بوت على تلغرام: اضغط هنا

https://t.me/omcourse_bot

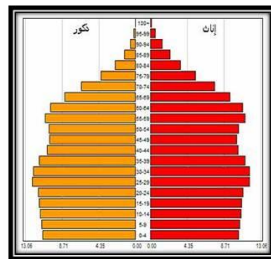


سلطنة عمان
وزارة التربية والتعليم
مدرسة الوجة للتعليم الأساسي (5-9)

من أجلك "طالبتي"



سلسلة من الملخصات والأنشطة
والاختبارات لكتاب الدراسات الاجتماعية
للفص التاسع / الفصل الدراسي الأول

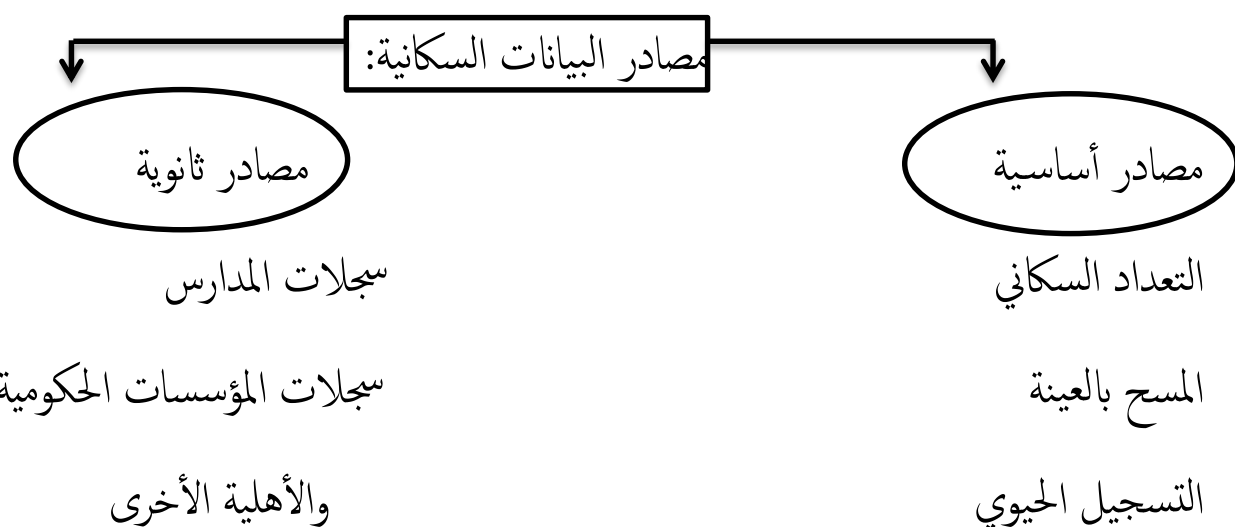
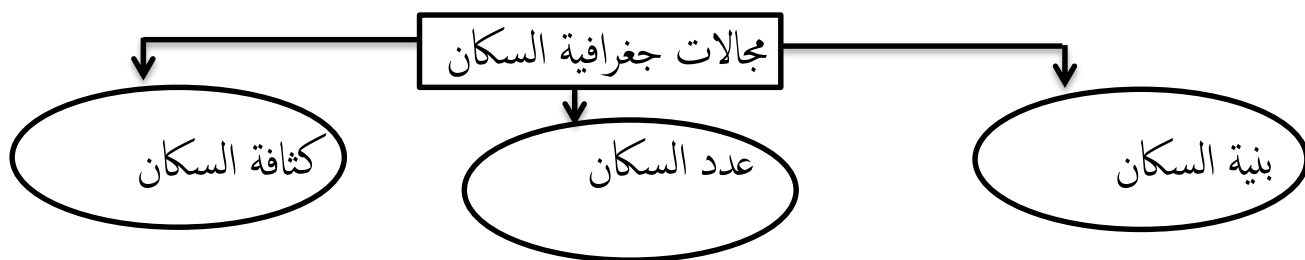


اعداد الأستاذة:
سمراء الزدجالي

ليس مهم ان تترك بصمات كثيرة في الحياة
ولكن الأهم ان تكون تلك البصمات «متميزة»

الوحدة الأولى : الدرس الأول : البيانات السكانية ومصادرها

مفهوم جغرافية السكان : أحد فروع علم الجغرافيا وهو العلم الذي يهتم بدراسة حجم السكان وخصائصهم من حيث البنى العمرية والنوعية والاقتصادية والاجتماعية ونمو السكان وتوزيعهم




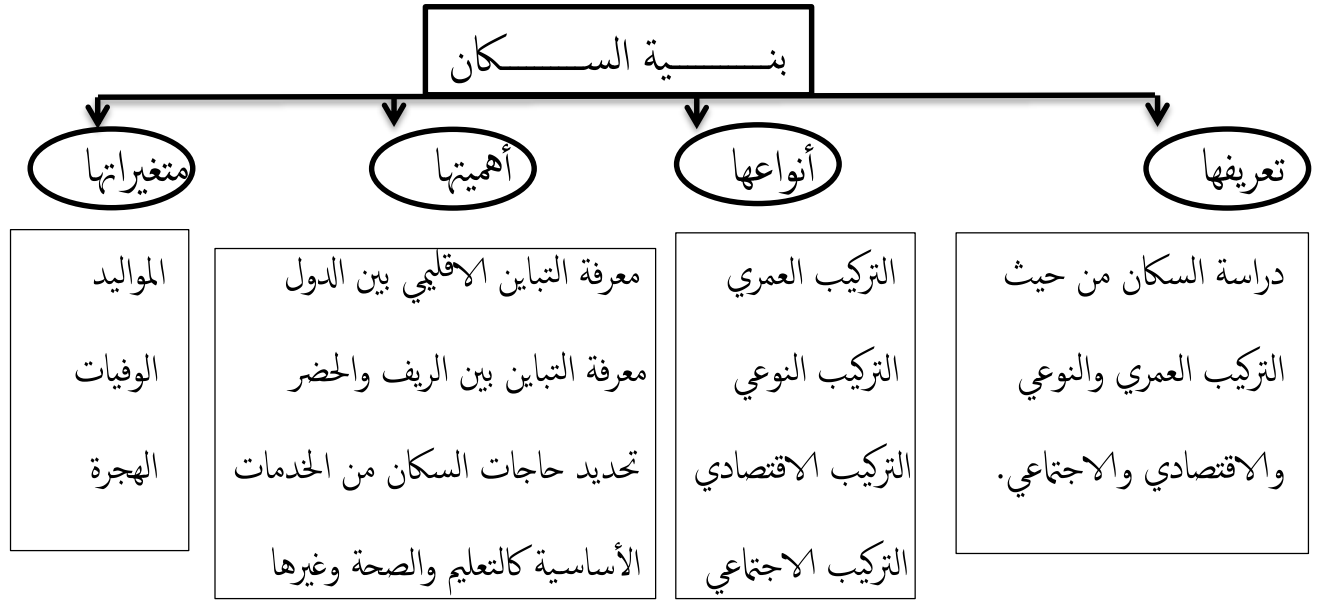
المصدر	تعريفه	أمثلة عليه	فوائده (مميزاته)	سلبياته (عيوبه)
التعداد السكاني	العد/الأحصاء عملية جمع البيانات والمعلومات بكل تفاصيلها المتعلقة بجميع مفردات مجتمع معين في وقت محدد (الاسناد الزمني)	يتم كل خمس او عشر سنوات 1- عام 1993م اول تعداد 2- 2003م ثاني تعداد 3- 2010م ثالث تعداد	1- يوفر مخزونا كبيراً عن السكان في فترة زمنية معينة 2- يساعد أصحاب القرار في الدولة على وضع الخطط التنموية . 3- يساعد الباحثين وطلبة العلم في معالجة البيانات ودراستها	1- يستغرق وقتاً وجهداً طويلاً 2- يحتاج الى تكاليف ونفقات عالية
المسح بالعينة	عملية جمع البيانات عن عينة ممثلة للمجتمع وما ينطبق عليها ينطبق على مجموع السكان	1- مسح الخصوبة 2- مسح العمالة 3- مسح الباحثين عن عمل 4- التركيب النوعي	1- يوفر الوقت والجد والنفقات	لا يعطي بيانات دقيقة عن المجتمع
التسجيل الحيوي	تناول كل الأحداث التي تطرأ على الانسان منذ ولادته وحتى وفاته	1- شهادة الطلاق 2- شهادة الزواج 3- شهادة الميلاد 4- شهادة الوفاة	يستفاد منه في توفير الوثائق الرسمية (الشهادات) للانسان طوال حياته منذ الولادة وحتى الوفاة	التسجيل الخاطيء أحيانا للجنس (ذكر / أنثى)

حل نشاط (5) صفحة 14:

(1) يزيد مستوى استهلاك خدمات الماء والكهرباء

(2) سيكون ضغط على المستشفيات ومراكز الصحة والمدارس والطرق وسيتم وضع الخطط لمواجهة
الزيادة

(3) سجلات المستشفيات والمدارس .



بنية السكان	البنية العمرية	البنية النوعية	البنية لاقتصادية	البنية الاجتماعية
تعريفها	دراسة السكان من حيث العمر	دراسة السكان من حيث النوع (ذكر/أنثى)	تركيب السكان حسب ممارستهم للأنشطة الاقتصادية المختلفة	الحالة الاجتماعية للسكان من حيث الحالة الزوجية والتعليمية واللغوية
أقسامها	فئة صغار السن (-15) فئة الشباب (15-64) فئة كبار السن (+65)	أنثى ذكر	فئة منتجة (الشباب) فئة غير منتجة: كبار السن + صغار السن	الحالة الزوجية الحالة التعليمية الحالة اللغوية
طريقة حسابها	قانون الاعالة = عدد السكان المعالين $100 \times \frac{\text{عدد السكان المعالين}}{\text{عدد العاملين المنتجين}}$	نسبة النوع = عدد الذكور $100 \times \frac{\text{عدد الذكور}}{\text{عدد الاناث}}$		

الحالة الزوجية

توزع السكان الذين لم يسبق لهم الزواج والسكان المتزوجين ثم السكان المطلقين والمترملين

أمد الحياة

عدد السنوات المتوقع أن يعيشها الانسان

السكان النشيطون اقتصاديا

جميع الأفراد الذين يؤدون عملا منتجا لحسابهم الخاص أو عند الغير أو لدى الأسرة بدون أجر.

تمارين على نسبة الإعالة الحقيقية :

1) احسبي نسبة الإعالة في مجتمع ما مع كتابة المعادلة إذا علمت أن عدد سكان المجتمع بلغ (2740660 نسمة) حيث توزعت أعداد السكان كآتي: عدد صغار السن (72590 نسمة) وعدد متوسطي السن بلغ (1785060 نسمة) في حين كان عدد كبار السن (230310 نسمة) .

2) احسبي نسبة الإعالة لسلطنة عمان إذا علمت أنه حسب تعداد عام 2003م بلغ عدد صغار السن (790013 نسمة) في حين بلغ عدد متوسطي السن (1487344 نسمة) وكان عدد كبار السن (61458 نسمة) .

3) إذا كان عدد السكان الغير عاملين في ولاية الخابورة (3007 نسمة) وكان عدد السكان العاملين (4751 نسمة) احسبي نسبة الاعالة الحقيقية للولاية.

4) بلغ عدد الفئة المنتجة في ولاية الرستاق (1819 نسمة) وعدد الفئة الغير منتجة (1446 نسمة) احسبي نسبة الاعالة لهذه الولاية .

- (5) في السودان كان عدد السكان في فئة أقل من 15 سنة (4320 نسمة) وعدد السكان في فئة (15-64) يبلغ (29713 نسمة) وفئة (+65) يبلغ (138 نسمة) ، إحسبي نسبة الاعالة الحقيقية لهذه الدولة .
- (6) اذا بلغت نسبة الاعالة (150 نسمة) في مجتمع ما وكان عدد الفئة المنتجة (400 نسمة) احسبي كم يبلغ عدد الفئة الغير منتجة .

$$100 \times \frac{\text{Image of a girl thinking} + \text{Image of a man sitting at a desk}}{\text{Image of a man in a suit}}$$

تمارين على نسبة النوع:

- (1) اذا كان عدد الذكور يبلغ في دولة ما (990590 نسمة) وعدد الاناث (966746 نسمة) احسبي نسبة النوع لهذه الدولة .

- (2) بلغ عدد الاناث العمانيات في محافظة الداخلية (134621 نسمة) وبلغ عدد الذكور العمانيين (134448 نسمة) حسب تعداد عام 2010 م فكم نسبة النوع لهذه المحافظة ؟

(3) عندما تم حساب عدد النساء العاملات في ولاية المزينة بلغ (320 نسمة) وبلغ عدد الرجال العاملين (640 نسمة) احسبي نسبة النوع للنساء والرجال العاملين في هذه الولاية .

(4) أمامك جدول لعدد الذكور والاناث في محافظات السلطنة احسبي نسبة النوع لكل محافظة .


المحافظة	عدد الذكور	عدد الاناث	نسبة النوع
الباطنة جنوب	313404	307546
مسندم	11408	10490
الظاهرة	59716	59161
الوسطى	146363	147031
ظفار	9753	9290
البريمي	22415	20611




ارتفاع امد الحياة في الدول المتقدمة:



الأسباب



الوعي الصحي بين الناس



مكافحة الأمراض والأوبئة



توافر الرعاية الصحية بين الناس

حل نشاط (1) صفحة 17 :

أ) ترتفع نسبة النوع في جميع محافظات السلطنة بشكل عام

ب) – ترتفع نسبة النوع في المنطقة الوسطى: بسبب زيادة عدد الذكور العاملين في قطاع النفط

– تنخفض نسبة الذكور في محافظات الداخلية وشمال الشرقية وجنوب الشرقية:

بسبب ارتفاع معدلات الهجرة من تلك المحافظات الى محافظة مسقط

ج) تسهم سياسة التعمين في تخفيض نسبة النوع في السلطنة حيث تعمل على التقليل من عدد الوافدين الذكور.

حل نشاط (2) صفحة 18:

أ) – ترتفع نسبة النوع في بعض المحافظات مثل :

مسقط: بسبب الهجرة من المحافظات الأخرى

الوسطى : بسبب ارتفاع عدد العاملين في قطاع النفط وقلة هجرة السكان.

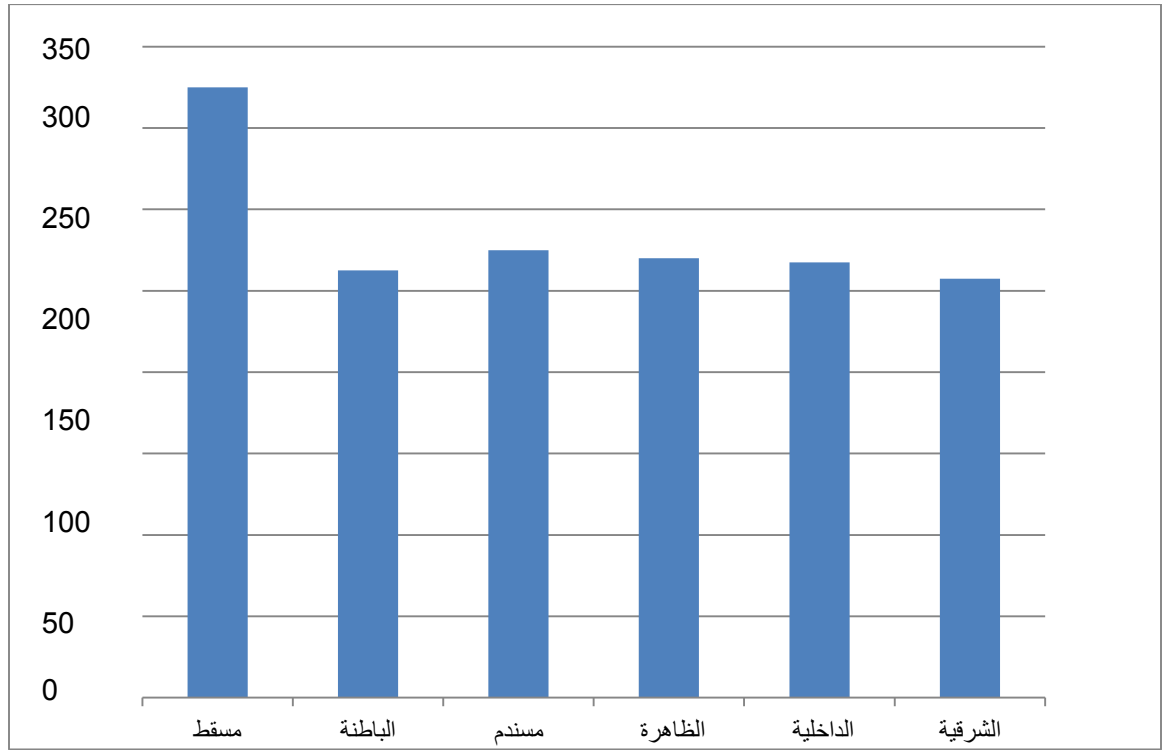
– تنخفض في بعض المحافظات بسبب الهجرة من تلك المحافظات الى محافظة مسقط مثل: (الداخلية –

شمال الباطنة – وجنوب الباطنة – شمال الشرقية – جنوب الشرقية)

ب) الآثار المترتبة على التباين في زيادة أو انخفاض نسبة كل الذكور أو الإناث:

– اختلاف معدلات النمو الاقتصادي في تلك المحافظات.

– اختلاف القوى العاملة من محافظة لمحافظة .



نسبة النوع للعُمانيين والوافدين حسب تعداد 2010

حل نشاط (4) صفحة 21:

أ) الإدارة والتعليم والنقل: بسبب ارتفاع الأجور ومستوى المعيشة

ب) الانشاءات وتجارة الجملة والتجزئة واصلاح المركبات: لأنها ذات أجور قليلة ولا يعمل بها العمانيون
ج) يمكن زيادة اقبال العمانيين على القطاعات الأخرى الأقل من خلال رفع الرواتب وتحسين مستويات المعيشة بكل منها مع تطبيق سياسة التعمين.

حل نشاط (5) صفحة 21:

*السبب يعود للعوامل التالية :

أ) تحسن مستوى المعيشة ب) انتشار الوعي الصحي بين الناس ج) التقدم في مكافحة الأمراض والأوبئة
د) تحسن ظروف الرعاية الصحية والاجتماعية .

حل نشاط (6) صفحة 22:

أ) معدلات أمد الحياة في الدول الأفريقية جنوب الصحراء الأفريقية

ب) ينخفض أمد الحياة في الدول الأفريقية بصورة عامة .

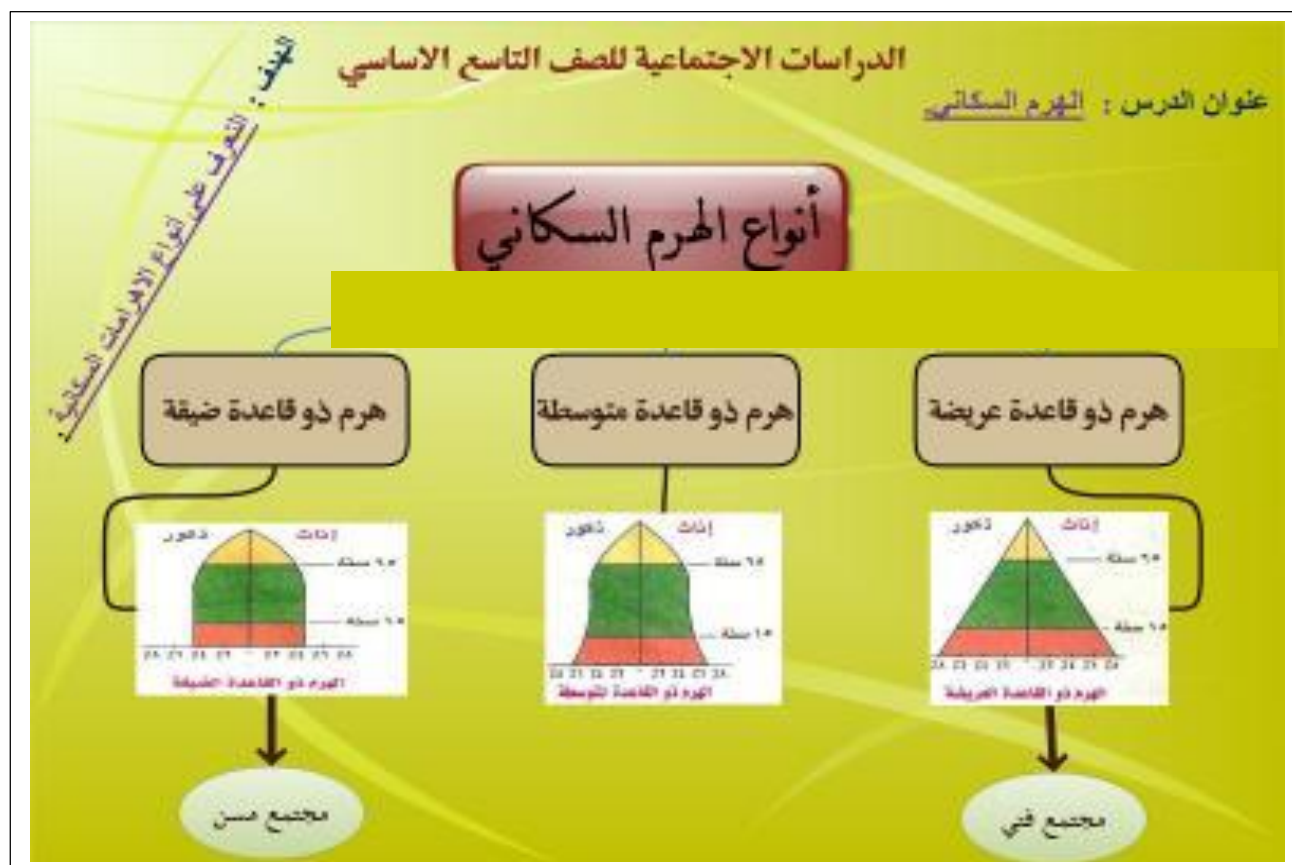
ج) يشير الشكل المظلل باللون الأزرق الغامق الى انخفاض أمد الحياة بصورة كبيرة ليتراوح بين (35-44 سنة) وذلك بسبب ضعف الخدمات الصحية _ العمل في الأعمال الشاقة مثل التعدين وقطاع النفط _ انخفاض الوعي الصحي بين السكان.

د) الأمد المتوقع في موريتانيا: (50-54 سنة) ، الأمد المتوقع في أنجولا: (45-49 سنة)



الدرس الثالث: الهرم السكاني

متغيراته	أهميته	أنواعه	تعريفه	الهرم السكاني
(1)المواليد (2)الوفيات (3)الهجرة: (الداخلية- الخارجية).	يعكس صورة ملخصة لخصائص المجتمع من حيث النوع والعمر.	1)هرم ذو قاعدة عريضة. 2)هرم ذو قاعدة ضيقة. 3)هرم ذو قاعدة متوسطة.	رسم بياني يبين توزيع السكان حسب فئاتهم العمرية والنوعية	



أنواع الاهرام السكانية :

مميزاته	شكله	الهـرم
<p>تزيد نسبة صغار السن 50%.</p> <p>كلما كانت قاعدة الهرم عريضة دل على فنة المجتمع.</p> <p>يسمى مجتمع فتى</p>		<p>الهـرم ذو القاعدة العريضة</p>
<p>تزيد فيه نسبة كبار السن.</p> <p>تنخفض نسبة صغار السن</p> <p>يسمى المجتمع المسن</p>		<p>الهـرم ذو القاعدة الضيقة</p>
<p>اعداد السكان متساوية في معظم فئات العمر</p> <p>تتناقص بالتدرج في الأعمار الكبيرة.</p>		<p>الهـرم ذو القاعدة المتوسطة</p>

الانتقال السكاني ومراحله:

نتيجة حتمية للتغيرات التي تطرأ على حالة السكان من حيث المواليد والوفيات والهجرة وتمر هذه التغيرات بأربع مراحل هي :

الدول	أهم المميزات	المرحلة
معظم دول العالم القرنين الثامن والتاسع عشر الميلادي	_ ارتفاع معدلات المواليد _ ارتفاع معدلات الوفيات _ انخفاض نسبي للسكان	الأولى
الدول النامية :الهند وبعض الدول الأفريقية والأمريكية اللاتينية واسيا وسلطنة عمان	_ انخفاض معدلات الوفيات _ ارتفاع معدلات المواليد	الثانية
الصين _ البرازيل _ مصر _ تونس	_ انخفاض سريع في معدلات المواليد _ انخفاض معدلات الوفيات _ زيادة في أعداد السكان في فئات الأعمار العليا	الثالثة
الدول المتقدمة مثل : اليابان _ وايطاليا _ المانيا	_ انخفاض معدلات المواليد _ ومعدلات الوفيات بصورة متقاربة. _ تصبح الزيادة ضئيلة جدا _ او تصل إلى الصفر أي عدم وجود نمو سكاني في المجتمعات	الرابعة

حل نشاط (1) صفحة 24:

- أ) _ ألمانيا: هرم ذو قاعدة ضيقة حيث ترتفع نسبة كبار السن وتقل نسبة صغار السن .
_ الولايات المتحدة: هرم ذو قاعدة متوسطة حيث ترتفع نسبة متوسطي السن.
_ هرم المكسيك: هرم ذو قاعدة كبيرة حيث ترتفع نسبة صغار السن .
ب) المكسيك : بسبب زيادة معدلات المواليد.
ج) في الفئات المتوسطة من (30-45) بسبب زيادة معدلات الهجرة .
د) ألمانيا : بسبب انخفاض معدلات المواليد بصورة كبيرة بين سكانها.

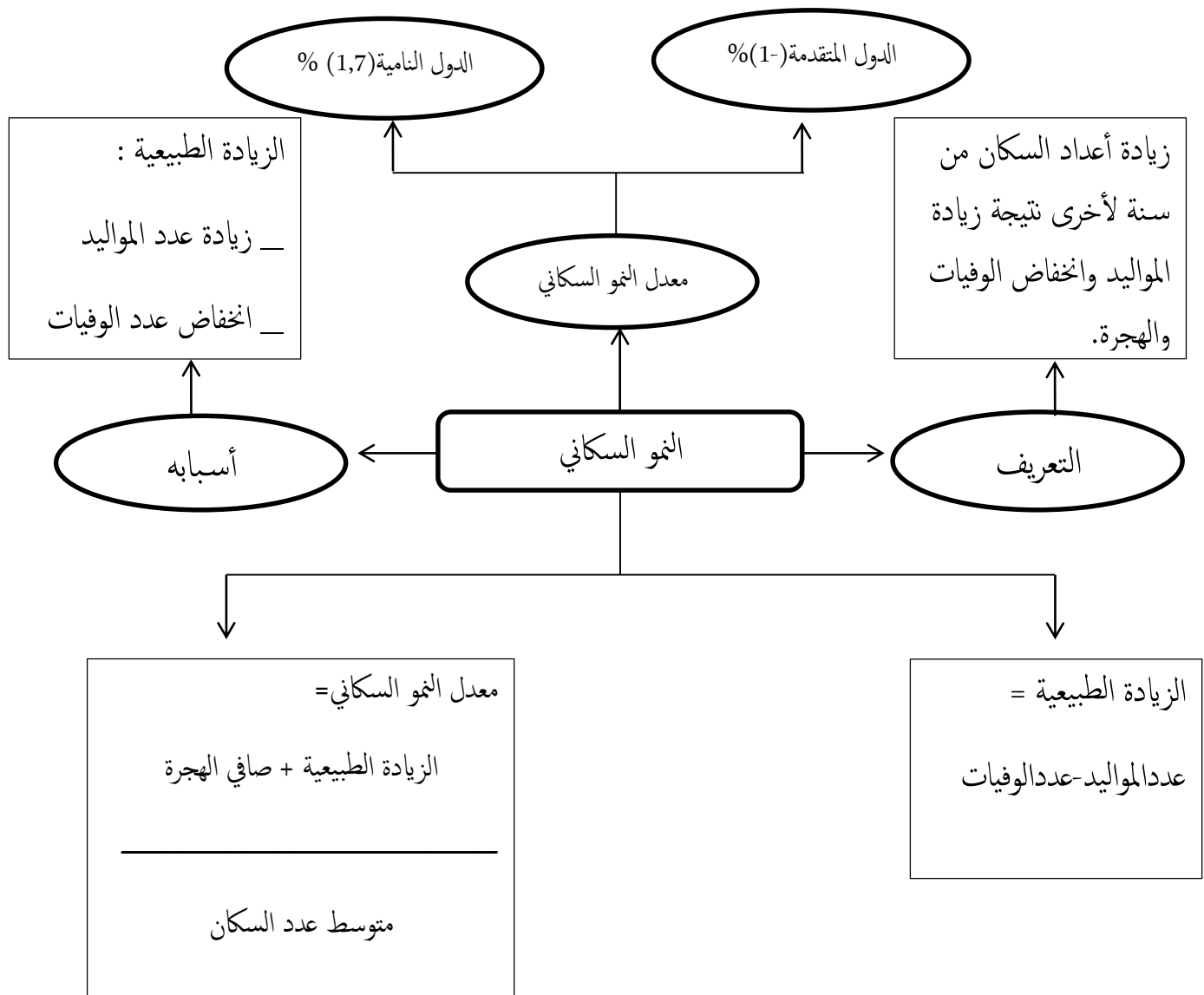
حل

نشاط (2) صفحة 26:

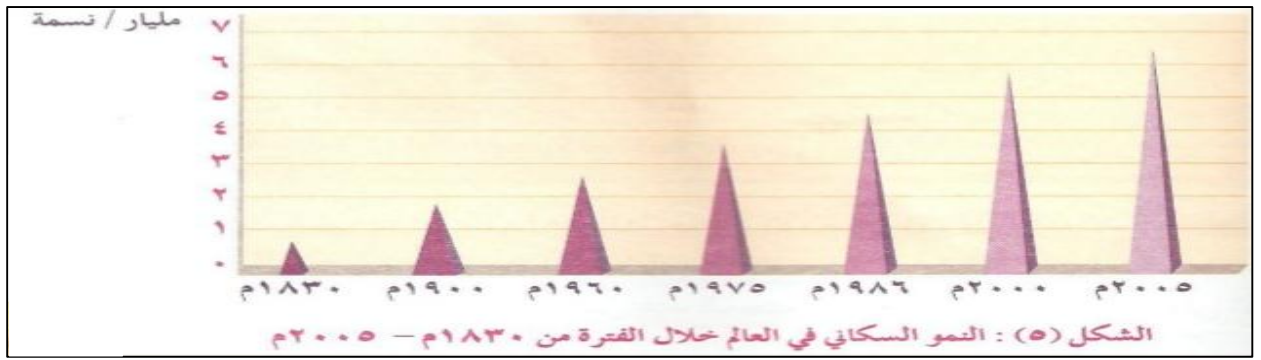
ج) لأن العالم يتطور والمجتمعات دائماً التقدم والزمن لا يتوقف لهذا كان لزاماً عليها مواكبة التطور والتقدم المستمر.



الدرس الرابع: النمو السكاني والكثافة السكانية.



ملاحظة : لا تدخل الهجرة في حساب النمو السكاني العالمي لأنها لا تؤثر في المجموع الكلي للسكان



عللي : يمثل النمو السكاني تحديا مهما للعالم خاصة للدول النامية.

__زيادة النمو السكاني في تلك الدول بصورة تفوق معدلات التنمية الاقتصادية بها .

__صعوبة توفير الخدمات والاحتياجات الضرورية لسكان تلك الدول خاصة الغذاء.

صافي الهجرة:

الفرق بين الهجرة الخارجية
والهجرة الداخلية للدولة.

الهجرة :

حركة الأفراد من مكان لآخر
سواء كانت الهجرة مؤقتة أم
دائمة أم قسرية.

سنة الأساس :

السنة التي جرى فيها
تعداد سابق للتعداد الأخير
1993م سنة الأساس
لتعداد 2003م.

قانون النمو السكاني :



القانون	أمثلة	عوامل واسباب اختلافها من مجتمع لآخر	التعريف	مقاييس النمو السكاني
معدل المواليد الخام = عدد المواليد الأحياء في سنة معينة $1000 \times \frac{\text{عدد السكان}}{\text{عدد السكان}}$	_ ترتفع في المجتمعات الزراعية بسبب حاجتها للأيدي العاملة _ تنخفض في المجتمعات الصناعية بسبب اعتمادها على الآلة	(1) الأوضاع الاقتصادية والاجتماعية (2) حسب الثقافة السائدة في المجتمعات	عدد المواليد الأحياء لكل 1000 من السكان في سنة معينة	معدل المواليد الخام
معدل الوفيات = عدد الوفيات في سنة معينة $1000 \times \frac{\text{عدد السكان}}{\text{عدد السكان}}$	_ بسبب الأمراض _ الحروب _ الكوارث _ الحوادث _ تزايد في الدول الفقيرة _ تزايد في فئة الذكور _ تزايد في فئات الاعمار الكبيرة والصغيرة		عدد الأشخاص المتوفين لكل 1000 من السكان في سنة معينة	معدل الوفيات

تمارين على النمو السكاني :

1) بلغت الزيادة الطبيعية لقرية الحوقين (269 نسمة) وبلغ صافي الهجرة (740 نسمة) وكان عدد متوسط عدد السكان لهذه القرية (952 نسمة) احسبي النمو السكاني لهذه القرية .

2) اذا كان عدد المواليد لولاية شناص عام 1992 م (2000 نسمة) وكان عدد الوفيات (1000 نسمة) ، وكان عدد العمال الوافدين فيها (300 نسمة) في حين كان عدد العمال العمانيين (1500 نسمة) وكان متوسط عدد السكان في نفس العام (5500 نسمة) ، احسبي معدل النمو السكاني لهذه الولاية .

تمارين على معدل المواليد الخام ومعدل الوفيات:

1) بلغ عدد المواليد في دولة ما (32809 نسمة) وبلغ عدد الوفيات (28649 نسمة) احسبي الزيادة الطبيعية لهذه الدولة علما بأن قانون الزيادة الطبيعية يساوي الفرق بين عدد المواليد وعدد الوفيات.

2) تم افتراض عدد المواليد الأصحاء في مستشفى خولة (24000) مولودا وعدد المواليد المعاقين (20005 مولودا) وكانت تقديرات السكان نحو (2400000 نسمة) احسبي معدل المواليد الخام ؟

3) بلغ عدد حوادث المرور في السلطنة (9460 حادثاً مرورياً) توفي نتيجة ذلك (637 شخص) وأصيب (6636 شخص) بجروح إضافة الى ذلك اجمالي الوفيات نتيجة عوامل أخرى في السلطنة (11597 شخص) حيث بلغ متوسط عدد السكان (1980000) نسمة ، احسبي معدل الوفيات .

4) في ولاية ابراء توفي (3000 شخص) عام 1996م وولد في نفس العام (6000 مولود) حيث بلغ عدد السكان في الولاية حينها (9000 نسمة) احسبي كلا من :
أ_ معدل المواليد للولاية .
ب_ معدل الوفيات للولاية .

5) سجلت الاحصاءات (95902) حالة وفاة في المملكة العربية السعودية عام 2000م البالغ عدد سكانها (22009535) نسمة ، احسبي معدل الوفيات .

6) اذا كان عدد المواليد الأحياء في دولة قطر (11250) مولود وكان اجمالي السكان منتصف (2004م) ، (579000 نسمة) فكم يبلغ معدل المواليد الخام .

الكثافة السكانية

تعريفها: العلاقة بين عدد السكان والمساحة الأرضية التي يعيشون عليها

العوامل المؤثرة بها

أنواعها

أساليب حسابها

العوامل	تصنيفها
الطبيعية	(1) التضاريس (2) المناخ (3) المسطحات المائية (4) الموارد الطبيعية
البشرية	(1) الأنشطة الاقتصادية (2) الهجرة (3) وسائل النقل

نسبتها	نوع الكثافة
أكثر من 800	كثافة مرتفعة جدا
(100-60)	كثافة مرتفعة
(60-40)	كثافة متوسطة
(40-20)	كثافة منخفضة
أقل من 20	كثافة منخفضة جدا

طريقة حسابه	الأسلوب
قسمة عدد سكان الدولة أو الإقليم على المساحة الكلية للدولة أو الإقليم	الحسابية / العامة
قسمة عدد السكان على مساحة المنطقة التي يعيشون عليها	الوظيفية / الفيزيولوجية

أولاً العوامل الطبيعية :

المناخ: يفضل السكان العيش في المناطق المعتدلة المناخ ويتعدون عن المناطق الحارة والباردة كما يميلون للمناطق التي ترتفع فيها معدلات الأمطاروي يقل عدد السكان في المناطق الجليدية مثل شمال روسيا (سيبيريا).

التضاريس: يفضل السكان العيش في المناطق السهلية والبعد عن المناطق الجبلية والصحراوية لسهولة البناء والزراعة ومد الطرق (الكثافة السكانية تقل في استراليا لأنها من المناطق الصحراوية .

المسطحات المائية: يميل السكان للتركز في المناطق القريبة من المسطحات المائية بسبب اعتدال المناخ وتوافر الثروات البحرية.

الموارد الطبيعية: يزداد السكان في المناطق الغنية بالموارد الطبيعية كالنفط والغاز الطبيعي والمعادن.

ثانياً: العوامل البشرية :

الأنشطة الاقتصادية: يزداد السكان في المناطق الصناعية مثل (الولايات المتحدة الأمريكية)

الهجرة: تساهم الهجرة في زيادة السكان المهاجر اليها

وسائل النقل: توفرها في منطقة ما يزيد من تركيز السكان

أماكن مكتظة بالسكان: الهند- الصين - شرق اسيا - أوروبا

أماكن تفتقر للسكان : كندا- استراليا

حل نشاط (1) صفحة 28:

$$(أ) \text{ معدل المواليد الخام} = \frac{2400}{1000} \times 10 = 24 \text{ في الالف نسمة}$$
$$24000$$

(ب) لا تؤثر الهجرة في النمو السكاني العالمي، لأن الهجرة تكون في نفس العالم فلا يزيد عدد سكان العالم بل عملية انتقال فقط.

حل نشاط (2) صفحة 29:

$$(أ) \text{ معدل الوفيات} = \frac{1159}{1000} \times 0.5 = 0.5 \text{ في الأف}$$
$$1980000$$

(ب) نسبة الوفيات الناتجة عن الحوادث =

$$\text{عدد الحوادث} = 9460$$

$$\text{المتوفين نتيجة الحوادث} = 673$$

$$\text{معدل الوفيات الخام} = 0.5 \text{ في الألف}$$

$$\text{عدد الحوادث} \times 1000 = 1000 \times \frac{9460}{1980000} = 4.7 \text{ في الأف}$$
$$\text{متوسط عدد السكان}$$

(ج) أسباب الحوادث :

السرعة_ الهاتف_ تخطي الإشارة الحمراء- عدم ربط حزام الأمان - الإهمال - تعاطي المسكرات
- التجاوز - ظروف الطقس - التوقف المفاجيء - خلل في المركبة - عيوب الطريق .

(د) بالتقيد بقواعد المرور- الحرص على سلامة المركبة وصيانتها

حل نشاط (4) صفحة 30:

(أ) سلطنة عمان-السودان - سوريا - الجزائر - مصر: بسبب زيادة معدلات المواليد في هذه الدول
بسبب الظروف الاجتماعية والاقتصادية والثقافية والزواج المبكر لزيادة معدلات الانجاب نظرا للحاجة
للأيدي العاملة .

(ب)السويد -ألمانيا -فرنسا - الصين : بسبب ارتفاع معدلات كبار السن وزيادة معدلات الحوادث.

(ج) تحسب الزيادة الطبيعية بهذا القانون (المواليد-الوفيات)

(د)زيادة الضغط على الخدمات- انخفاض مستوى المعيشة - قلة فرص العمل

(هـ)ارتفاع نسبة كبار السن - انخفاض نسبة صغار السن - زيادة الحاجة للأيدي العاملة .

حل نشاط 5 صفحة 31:

(1)الصين

(2)الهند : بسبب زيادة معدلات المواليد

(3)اليابان -روسيا :بسبب ارتفاع معدلات كبار السن وانخفاض معدلات الخصوبة

(4) الاجابة في الجدول التالي :

رقم الدولة	2005م	2030م	2050م
1	الصين	الصين	الهند
2	الهند	الهند	الصين
3	الولايات المتحدة	الولايات المتحدة	الولايات المتحدة
4	اندونيسيا	اندونيسيا	باكستان
5	البرازيل	باكستان	اندونيسيا
6	باكستان	البرازيل	نيجيريا
7	بنجلاديش	نيجيريا	بنجلاديش
8	روسيا	بنجلاديش	البرازيل
9	اليابان	اليابان	اليابان
10	نيجيريا	روسيا	روسيا

حل نشاط (6) صفحة 32:

أ) بسبب زيادة أعداد السكان في كلا الدولتين

ب) المناطق التي توجد بها كثافة متوسطة: غرب أوروبا – الولايات المتحدة الأمريكية- أمريكا الجنوبية

ج) طبيعة سطح الأرض والمناخ في المناطق التي تنخفض فيها الكثافة السكانية بصورة كبيرة

كندا: انخفاض شديد في درجات الحرارة نظرا لوقوعها في المنطقة الباردة الشمالية

أستراليا: تنخفض فيها معدلات الكثافة السكانية بصورة كبيرة بسبب زيادة مساحة الصحاري بها.

حل

نشاط (7) صفحة 34:

أولا : الحل باستخدام الخريطة صفحة 33 في الكتاب

أ) بسبب صغر مساحة البحرين

ب) بسبب تباين واختلاف اشكال السطح فيها وكبر مساحة مصر

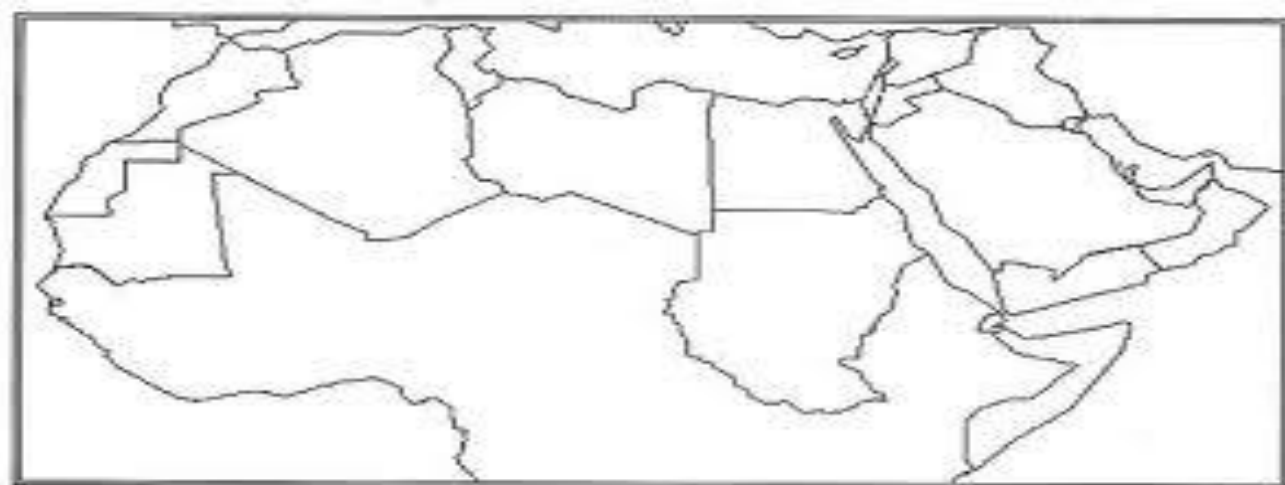


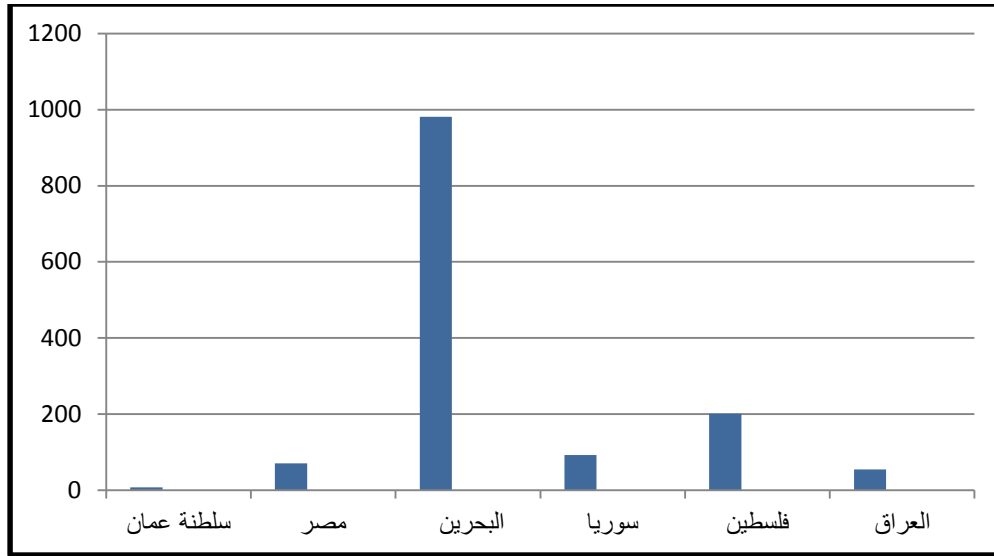
حل نشاط (8) صفحة 34:

الكثافة السكانية للدول تبعا لبيانات الأطلس المدرسي 2004 /

الدولة	المساحة /كم ²	عدد السكان	الكثافة السكانية	نوع الكثافة
سلطنة عمان	309500	2331391	7.5	منخفضة جدا
مصر	1000000	70712345	70.7	مرتفعة
البحرين	669	656379	981	مرتفعة جدا
سوريا	185180	17155814	92.6	مرتفعة
فلسطين	27000	5421995	200.8	مرتفعة جدا
العراق	438317	24001816	54.7	متوسطة
تونس	156150	9815644	62.8	مرتفعة
الكويت	17818	2111561	118.5	مرتفعة جدا
لبنان	10400	3677780	363	مرتفعة جدا

حددي الدول المذكورة في الجدول على خريطة الوطن العربي الصماء التي أمامك





الكثافة السكانية لبعض الدول العربية

تمرين:

بنفس الطريقة السابقة ارسلي شكلاً بيانياً للدول التالية باستخدام البيانات في الجدول السابق:

(تونس - الكويت - لبنان)

حل نشاط (9) صفحة 35:

(أ) بشكل غير متساو وغير منتظم

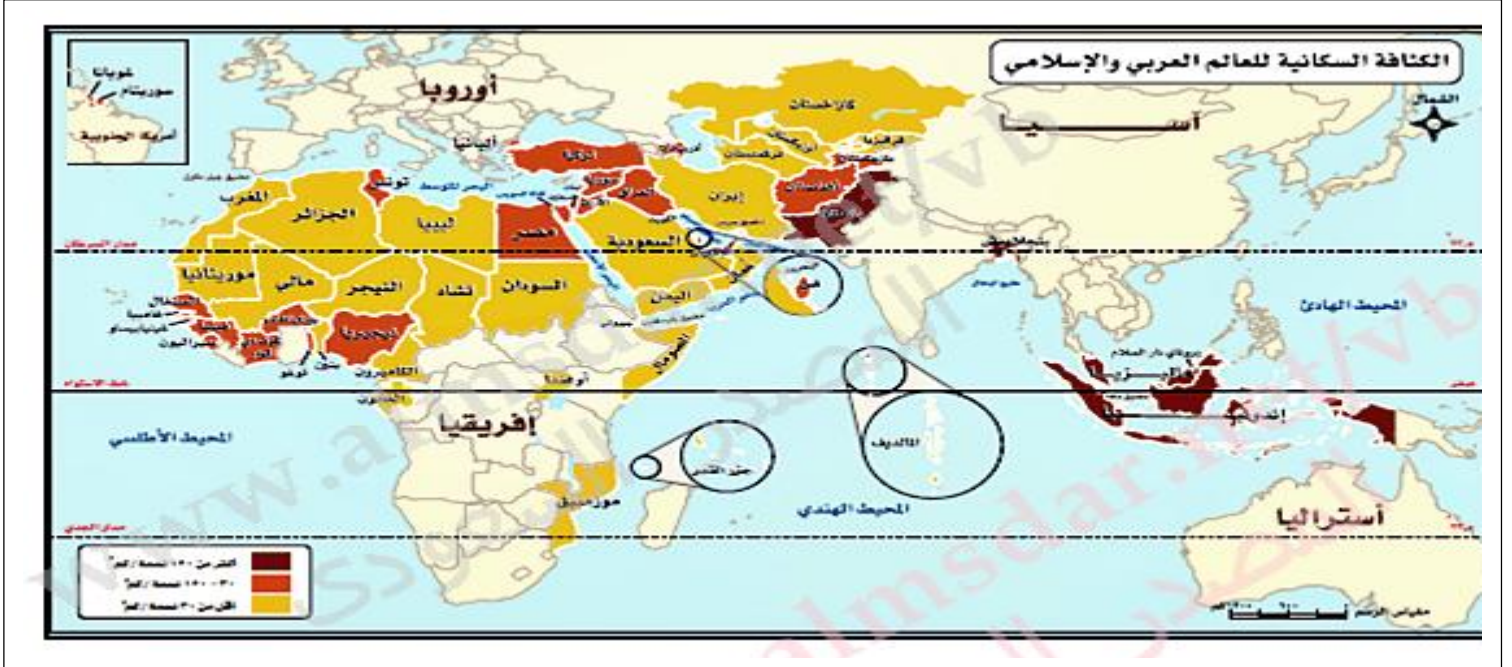
(ب) تزيد الكثافة السكانية في محافظات الباطنة (شمال وجنوب): بسبب زيادة عدد السكان

محافظه مسقط: بسبب زيادة عدد السكان وصغر المساحة

(ج) الكثافة العامة للسلطنة 7.5 نسمة / كم²

(هـ) الاجابة حسب رأي الطالبة

رأيي: أمر ايجابي : لانه عندما ينخفض عددالسكان لدولة ما فان الحكومة تستطيع توفير خدمات افضل لكافة السكان وكذلك تقديم المشاريع التنموية اللازمة لهم ، فيكون عدد السكان مساويا للموارد الطبيعية والخدمات الموجودة في الدولة .



الوحدة الثانية : الدرس الأول: العمانيون في شرقي أفريقيا

العناصر الأساسية :

- 1) البدايات التاريخية وأهم الهجرات الى شرقي أفريقيا.
- 2) العوامل المؤثرة في التواجد العماني في شرقي أفريقيا.
- 3) جهود العمانيين لتعزيز التواجد العماني في شرقي أفريقيا.
- 4) دور الجيش والأسطول العماني في شرقي أفريقيا.
- 5) البعد السياسي للتواجد العماني في شرقي أفريقيا.

أولاً: البدايات التاريخية :

ترجع إلى جهود التجار العرب وهجرة القبائل العربية الى شرقي أفريقيا:

هجرة سليمان بن سليمان
بن مظفر النهاني 7هـ/13م

هجرة أهل الاحساء والشيرازيين
في القرن 4هـ /10م

هجرة أولاد الجلندی من
عمان في القرن 1هـ/7م

أسباب تركز التجار والمهاجرين في المناطق الساحلية وبعدهم عن المناطق الداخلية:

قسوة المناخ - الحيوانات المفترسة - الغابات الاستوائية - الجبال الشاهقة

ثانياً : العوامل المؤثرة في تواجد العمانيين في شرقي أفريقيا:

حركة الرياح الموسمية

خبرة العمانيين في الملاحة البحرية

الموقع الجغرافي

(أ) الموقع الجغرافي : ساهم الجوار الجغرافي بين عمان وشرقي أفريقيا لتوجيه العمانيين نشاطهم التجاري اليها ونقل سلعهم الثمينة.

(ب) الخبرة الملاحية :هو ارتباط العمانيين بالبحر جعلهم يكتسبون خبرة بحرية وملاحية تؤهلهم للقيام بجولاتهم البحرية ونقل تجارتهم عبر المحيط الهندي.

(ج)الرياح الموسمية :استغل العمانيون حركة الرياح الموسمية في القيام برحلتهم إلى شرقي أفريقيا حيث تتجه الرحلة الى شرقي أفريقيا في شهر (نوفمبر) والعودة من شرقي أفريقيا في شهر (ابريل).

ثالثا : تعزيز التواجد العماني في شرقي أفريقيا :

ساهم اليعاربة والبوسعيد في تعزيز التواجد العماني في شرقي أفريقيا

الامام سلطان بن سيف:

1)قام بتحرير مناطق شرقي أفريقيا من البرتغاليين .

2)أصبحت أفريقيا الشرقية تابعة رسميا لعمان.

3)قام بتعيين الولاة من الشخصيات العمانية لادارة جزر زنجبار ومبا ومباسا.

الامام أحمد بن سعيد:

1)عمل على تعزيز الصلات الحضارية وتوحيدها مع ساحل شرقي أفريقيا

السيد سعيد بن سلطان:

1) كون دولة ملاحية كبيرة تمتد من سواحل عمان الى جزيرة زنجبار زيمبا في شرقي أفريقيا.

2) اتخذ من زنجبار عاصمة لدولته في شرقي أفريقيا .

(أسباب اختياره لزنجبار عاصمة ثانية له) :

"موقعها المتوسط- خصوبة أراضيها- كبر ميناءها- طقسها المعتدل - مياهها العذبة - أكثر الجزرأمنا.)"

(أهداف سعى لتحقيقها في زنجبار) :

"التنمية الاقتصادية - توطيد الأمن والاستقرار - اصبحت مقرلتجارة مزدهرة في شرقي أفريقيا"

دورالجيش والأسطول في تعزيز التواجد العماني في شرقي أفريقيا:

أسباب الاهتمام بالجيش والأسطول:

فرض توسع التواجد العماني في

شرقي أفريقيا العديد من

التحديات كان في مقدمتها

1)توسع الدولة العمانية لتشمل أجزاء من شرقي أفريقيا.

2)العمل على توفير الأمن والاستقرار والحماية.....>

3)الحاجة لجيش قوي قادر على خوض المعارك البحرية والبرية .

القيادة العامة للجيش العماني : من المهام الأساسية للسلطان ،إلا أنه نظرا لاتساع الدولة وتعدد ثغورها وحصونها فقد اختص كل وال بقيادة الجيش في ولايته والاشراف على الحاميات والحصون بها.

مكونات الأسطول البحري العماني :

السفن الشراعية

كانت تستخدم للبحار في المحيط الهندي وتمكنت من ربط الشواطئ العمانية بالشواطئ الأفريقية وقت هبوب الرياح الموسمية .

الأسطول العسكري

كان يعد أقوى أسطول على طول سواحل المحيط الهندي كما كان يستخدم للنقل والتجارة وقت السلم .

الأسطول التجاري

اهتم السيد سعيد بن سلطان ببناء أسطول تجاري ضخم ساعد على نقل البضائع ووصلت سفنه الى مرسيليا وجنوة ولندن .

أهم الشخصيات العمانية التي قادت السفن الحربية :

(1) السيد حمد بن سليمان البوسعيدي

(2) الشيخ حسن الفارسي

(3) الشيخ أحمد بن النعمان الكعبي : زار نيويورك 1840م على ظهر السفينة سلطنة واشتهر باجاده للغتين الانجليزية والفرنسية وكان ملما بالعلوم البحرية الخاصة في المحيطين الأطلسي والهندي .

الأدلة على اهتمام السيد سعيد بن سلطان بشركي أفريقيا:

(1) كان يقضي فترة طويلة على ظهر السفن يتفقد المناطق التي يتواجد فيها العمانيون في شرقي أفريقيا

(2) كانت له علاقات واسعة مع ملوك المقاطعات والجزر العديدة مثل مدغشقر .

توفي السيد سعيد بن سلطان على ظهر سفينه فيكتوريا بالقرب من جزيرة سيشل .

علي :اهتمام العمانيون ببناء السفن الشراعية .

لأنها كانت قادرة على الابحار في المحيط الهندي وبحر العرب حيث أنهم استطعوا بسفنهم العملاقة أن يربطوا الشواطئ العمانية بالشواطئ الأفريقية في أوقات هبوب الرياح الموسمية .

البعد السياسي للتواجد العماني في شرقي افريقيا

الأعمال السياسية التي كان لها دور كبير في تعزيز التواجد العماني بشرقي أفريقيا :

- 1) اتخاذ زنجبار عاصمة ثانية لدولته في شرقي أفريقيا .
- 2) تحويل زنجبار من جزيرة صغيرة لمستودع كبير للسلع الأفريقية والاسيوية .
- 3) اتساع الامبراطورية العمانية لتمتد من (مقديشو الى رأس دجادو جنوب شرق الساحل الأفريقي)
- 4) معاملة أهل البلاد معاملة كريمة قائمة على الاحترام والمساواة .

اهم مميزات نظام الحكم العماني في شرقي أفريقيا :

- 1) العدالة في ادارة البلاد واختيار أكفأ العناصر في الجهاز الاداري .
- 2) الاستعانة بعدد كبير من المستشارين والعلماء
- 3) مظاهر الشورى التي تجلت في المجالس السلطانية : المجالس التي كان يعقدها السلاطين للاطلاع على مشاكل الرعية ولسماع المستشارين فيما يتعلق بمصالح الدولة.
- 4) القيم الحضارية العمانية في شرقي أفريقيا (المساواة بين العرب والأفارقة في المعاملة- سيادة الشريعة الاسلامية).

شخصيات عمانية :



* السيد سليمان بن حمد بن سعيد البوسعيدي (1782-1873):

— من الشخصيات المرموقة في زنجبار وقد عينه السيد

سعيد بن سلطان رئيسا للوزراء ولقد حظي بثقته فكان يعينه

وصيا على الحكم في شرقي افريقيا كلما توجه الى عمان قبل ان يكبر اولاده.

* الشيخ محي الدين القحطاني الوائلي (1790-1869م):

— احد المستشارين المقربين من السيد سعيد بن سلطان وابنه ماجد وقد اعتمد عليه السيد في العديد من المهام الصعبة .

(قالوا عن السيد سعيد بن سلطان : الأول في الحرب والأول في السلم والأول في قلوب أهل بلده فهو نموذج للحاكم الذي تفخر به أي دولة في العالم ... سلام على روحه)

"من كتاب أقاليم البحيرات للكاتب ريتشارد بيرتون"



علي. العديد من الدول ثارت وراحت تترصد بالدولة العمانية الفنية في شرقي أفريقيا .
يهدف اضعافها وتقسيم ممتلكاتها .

حل نشاط(1) صفحة 43:

- الجوار الجغرافي : مصطلح يطلق على الدول التي ترتبط فيما بينها بالموقع والقرب المكاني والامتداد الجغرافي حيث تتقاسم الموقع الجغرافي والحدود السياسية .
- دولة ملاحية : مصطلح يطلق على الدول التي تتمتع وامتداد بحري تستغله في عمليات النقل والتجارة والصيد
- موقع استراتيجي : موقع ذات أهمية كبيرة

حل نشاط (2) صفحة 43:

- أولاد الجلندي : ارتبطت بهم أولى الهجرات العربية الى شرقي أفريقيا في القرن 1هـ /7م.
- القائد البرتغالي البوكيرك : تمكن من اخضاع مناطق سواحل المحيط الهندي للسيطرة البرتغالية سنة 1501م.
- الامام سلطان بن سيف الأول: تمكن من تحرير مناطق شرقي أفريقيا من سيطرة البرتغاليين .

حل نشاط (3) صفحة 43:

(أ) :

1) تمكن من تحرير مناطق شرقي أفريقيا من السيطرة البرتغالية بطلب من أهلها

2) دعم الوجود العماني هناك.

3) غدت واجهة افريقيا الشرقية تابعا رسميا لعمان.

4) عين ولاة من الشخصيات العمانية عهد اليهم ادارة جزر زنجبار ومبا ومباسا.

(ب) :

اكتسب العمانيون خبرتهم البحرية من موقع بلادهم البحري وانعكس ذلك على زيادة علاقات

العمانيين الخارجية عن غيرها من مناطق شرقي أفريقيا .

(ج) :

موقعها المتوسط – تمتعها بالأمن – اعتدال الطقس – خصوبة أرضها – صلاحية مينائها للملاحة –

عذوبة مياهها .

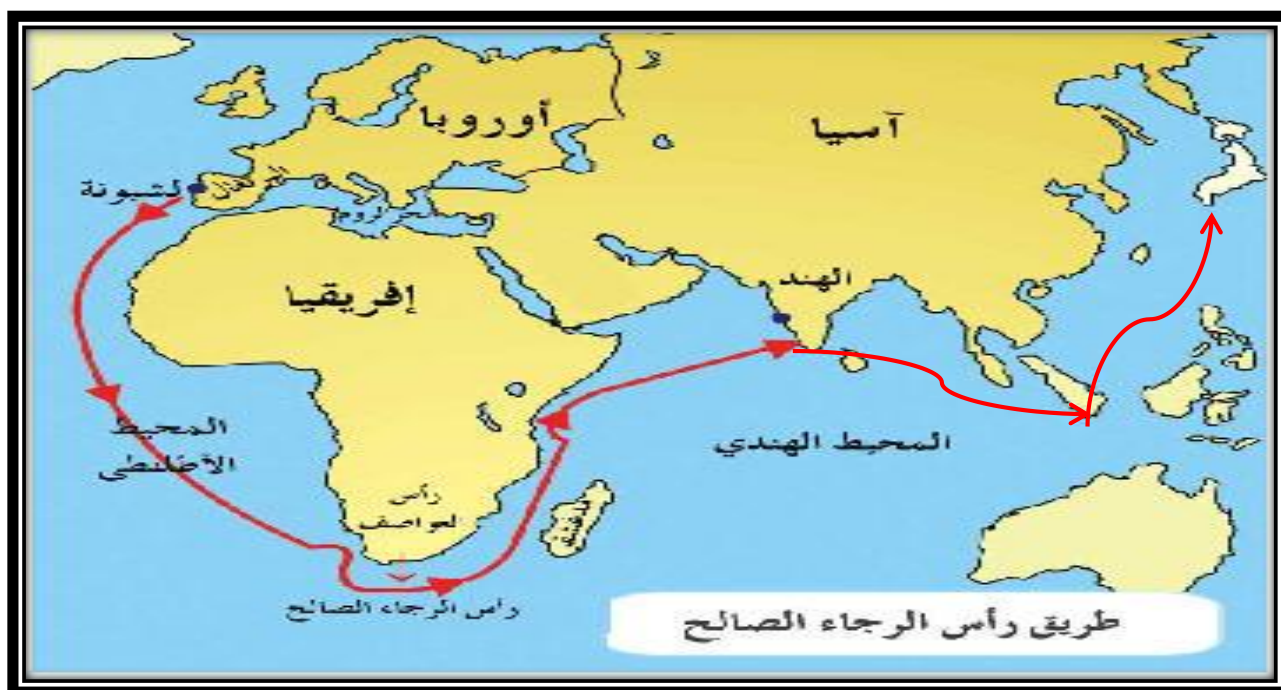
2) توطيد الأمن والاستقرار في شرقي افريقيا

(هـ) : 1) التنمية الاقتصادية

حل نشاط (4) صفحة 45:

(أ) نقل البضائع (أعمال النقل والتجارة) والحرب لأنه كان أقوى اسطول على طول الساحل الممتد من رأس الرجاء الصالح الى اليابان

(خريطة امتداد الأسطول العسكري البحري العماني زمن السيد سعيد بن سلطان)



(ب):

— أنه قام برحله الى فرنسا.

— قام برحلة الى نيويورك 1840م على ظهر السفين سلطنة

— كان يجيد اللغتين الانجليزية والفرنسية.

— ملم بعلوم البحار (المحيط الأطلسي والهندي)

(ج):

— الدليل على ذلك أنه كان يقضي فترة طويلة على ظهر السفن يتفقد المناطق التي يوجد فيها العمانيون في شرقي أفريقيا

— كانت له علاقات واسعة جدا مع زعماء القبائل الأفريقية وملوك المقاطعات والجزر مثل مدغشقر

حل نشاط (5) صفحة 45:

(أ) ربط الشواطئ العمانية بالشواطئ الافريقية في اوقات هبوب الرياح الموسمية.

(ب) تكوين جيش قوي قادر على خوض المعارك البرية والبحرية.

(ج) اخص كل وال بقيادة الجيش في ولايته والاشراف على الحاميات والحصون فيها .

حل نشاط (6) صفحة 48:

دور مجلس الشورى حديثا:

دور مجلس الشورى قديما :

وضع وتعديل والغاء القوانين

كان رأيه استشاريا فقط

المنظمة لشؤون الدولة

للامام.



الموانئ التي وصلت اليها سفن السيد سعيد بن سلطان في أوروبا
(مرسيليا- لندن - جنوة)

الدرس الثاني: الملامح الحضارية للتواجد العماني في شرقي أفريقيا

العناصر الرئيسية :

(1) موقع زنجبار وأهميته

(2) السكان في زنجبار

(3) جهود العمانيين في المجال الاقتصادي

(4) الطرق الرئيسية لتجارة القوافل العربية

(5) السلع التجارية المتبادلة بين عمان وزنجبار وجنوب شرق اسيا.

(6) الاسلام واللغة العربية في شرقي افريقيا

(7) الحياة الثقافية في شرقي افريقيا (العلم والتربية والتعليم)

(8) الحياة الاجتماعية في شرقي افريقيا



أولا موقع زنجبار وأهميته :

تقع زنجبار في قارة أفريقيا على بعد 35 كم من الساحل الشرقي لأفريقيا مقابل تنجانيقا وتشمل جزر ومن ساحلية مثل (زنجبار ومباسا) ويبلغ طول الساحل الشرقي لأفريقيا 1500 كم تقريبا ويسمى (منطقة زنجبار)

زنجبار كلمة عربية محرفة أصلها بر الزنج



ببا

تسمى الجزيرة الخضراء

يبلغ طولها 78 كم وعرضها 23 كم

تتميز بأرض خصبة جدا وتشتهر

بزراعة القرنفل والنارجيل



زنجبار

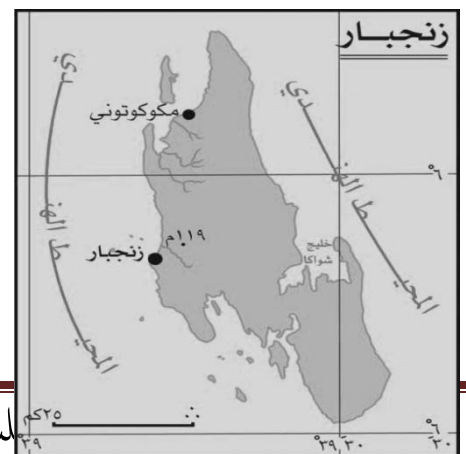
عاصمة دولة زنجبار

تسمى بستان افريقيا الشرقية

يبلغ طولها 85 كم وعرضها 40 كم

تتميز بأرضها الصالحة للزراعة

ويقطعها نهر مويرا (أكبرها)





ثانيا : السكان في زنجبار :

يعيش في زنجبار (500) ألف نسمة

1— المسلمين الشيرازيين

2— العرب

3— الأفارقة (سكان الجزيرة الاصليين)

4— الهنود

5— الجماعات الأفريقية القادمة من سواحل القارة ووسطها.

اهم الحرف والصناعات في زنجبار :

صيد السمك	الصناعة	الزراعة
كان بعض أهل الجزيرة يعملون في هذه الحرفة	ازدهرت صناعات عدة مثل استخراج زيت القرنفل -صناعة الحلويات - صناعة الأدوية	هي الحرفة السائدة في زنجبار والمحاصيل المزروعة هي: الجوز الهند - الذرة - الأرز - قصب السكر- المانجو- البرتقال ** ونجحت زراعة القرنفل المستورد من جزيرة موريشيوس جعلت زنجبار أول مصدر عالمي واصبحت الثروة الرئيسية للمنطقة.

ما الدليل على شغف السيد سعيد بن سلطان بالتجارة وحبه للممارسة؟؟

انه من أجل ذلك كان يستخدم أسطوله ي نقل البضائع بين آونه وأخرى حيث كانت بريطانيا وفرنسا تستقبلان في موانئها حمولات من البضائع الأفريقية حملتها سفن السيد سعيد بن سلطان الذي اعتبرته الدوائر السياسية الخارجية رجلا على درجة عالية من الوعي السياسي .

معاهدة التجارة

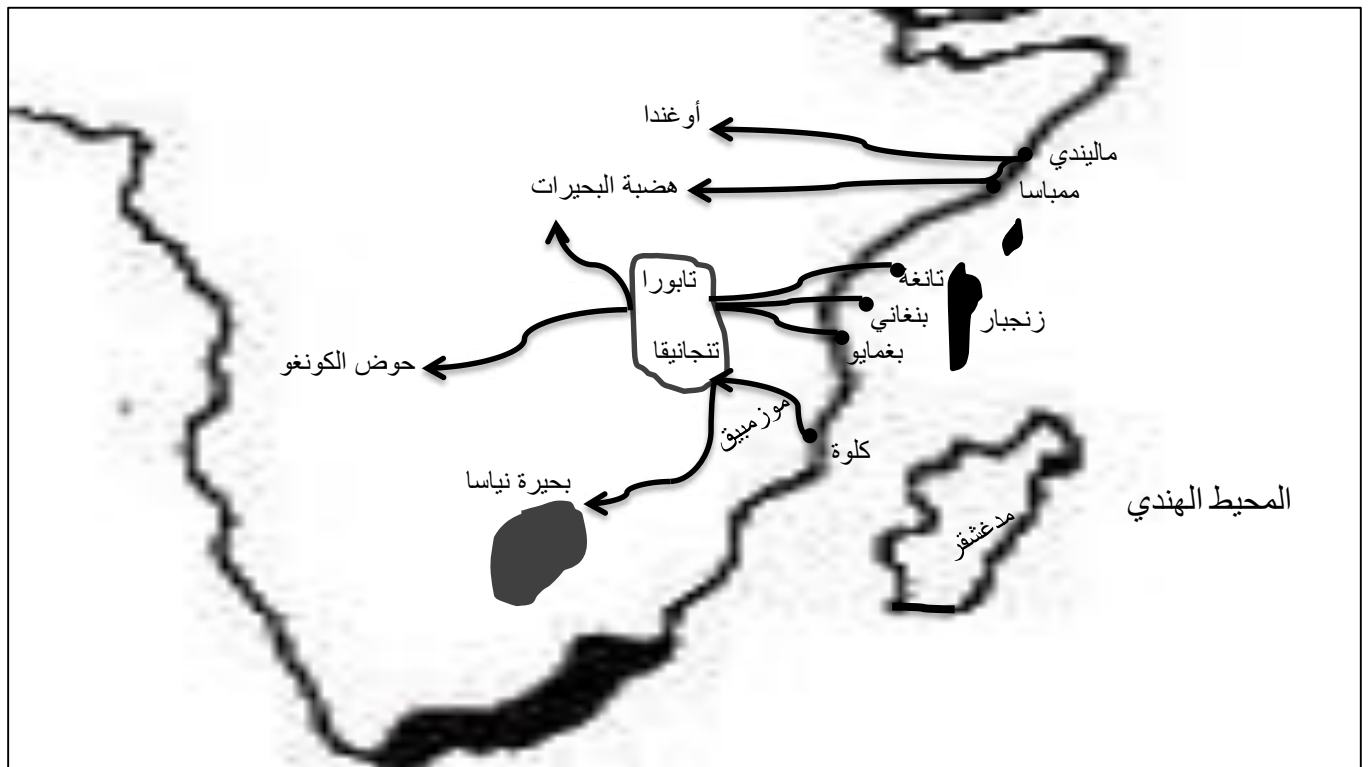
أطرافها: السيد سعيد بن سلطان + بريطانيا

نصها:

((سوف يكون لرعايا صاحب السمو سلطان مسقط حرية الدخول والاقامة والمتاجرة والمرور بالبضائع من خلال جميع أجزاء ممتلكات صاحبة الجلالة البريطانية.))

الطرق الرئيسية لتجارة القوافل العربية:

الطريق	امتداده	مميزاته/عيوبه
الطريق الشمالي	من ممبasa وماليندي الى هضبة البحيرات أو المنطقة الشرقية لدولة اوغندا حاليا	محفوفا بالمخاطر بسبب تعرضه لهجمات قبائل الماساي
الطريق الأوسط	من الموانيء المواجهة لزنجانر مثل تانغة وبنغاني وبنغايو ويتجه الى تابورا وسط تنجانيقا ثم يتفرع الى فرعين شمالا الى هضبة البحيرات الاستوائية وجنوبا الى حوض نهر الكونغو	زادت أهميته منذ القرن 19م بسبب ارتفاع اسعار العاج عالميا ويعد اهم الطرق التجارية على الاطلاق لأنه أكثر امنا بالاضافة الى عوائده (أرباحه) التجارية.
الطريق الجنوبي	من كلوة عبر جنوبي تنجانيقا وشمالى موزمبيق الى بحيرة نياسا.	تحالفت القبائل المسيطرة على هذا الطريق مع العرب (العمايين) وجلبوا العاج والمنتجات الأفريقية الأخرى وقامو ببيعها مع التجار العمايين.



السلع التجارية المتبادلة :

مميزات السلع المتبادلة : (1) الوفرة (2) التنوع في الانتاج

السلع الأفريقية	السلع العمانية	السلع الهندية والصينية
الذهب	التمور	المنسوجات
العاج	ضروب الفواكه	التوابل
الجلود(جلود التمور)	الحنطة	المصنوعات الحديدية
الحديد	الشعير	النحاسية
المواد العطرية(العنبر)	الأرز	الزجاجية
الأخشاب الثمينة(الأبنوس /	الزعفران	
الصندل/الساج)	اللبان	
	الرياحين	
	الورد المجفف	
	الليمون	

مميزات السلع التالية :

الذهب: أهم وأثمن السلع المطلوبة من شرقي أفريقيا

أنياب الفيلة: اهتم بها التجار القادمين من الهند والصين للأسواق العمانية وملوكهم يستخدمونها للتزيين وصناعة أدوات الشطرنج والتحف والهدايا من التماثيل والناذج التي تعبر عن البيئة المحلية . وحظي باهتمام الأوروبيين وظهرت لها مراكز تجارية متخصصة في صناعة العاج في كل من (ألمانيا / هولندا/ بريطانيا) وهذا الأمر أدى لزيادة الطلب على العاج.

الجلود: جلود النمر ذات جودة عالية

الأخشاب : حملها العمانيون من شرقي أفريقيا لصناعة السفن واهم مراكز انتاج الأخشاب

(مقديشو/زنجبار)

المواد العطرية : مثل العنبر الذي يعد من اهم انواع الطيب.

** عددي الأمور التي تقتضي معرفتها من قبل التجار والبحلرة المسافرين من عمان الى شرقي افريقيا رحلات تجارية طويلة :

طبيعة الطريق	مراكز الانتاج	محطات الوقوف	معرفة الطرق التجارية
الرياح الموسمية	الشعب المرجانية	حركة المد والجزر	عمق المياه وضحالتها
	حركة الأمواج	الأمطار	الدوامات البحرية

التطورات التي ساعدت على النهضة العلمية في شرقي أفريقيا:

1-تأسيس المطبعة السلطانية في عهد السلطان برغش بن سعيد(1870-1888م)

2-ظهور الصحافة لأول مرة في شرقي أفريقيا (الفلق/النهضة/الاصلاح)

النتائج المترتبة على ظهور الصحافة	النتائج المترتبة على انشاء المطبعة السلطانية
1-نشر العشرات من الكتب العمانية	1-النهوض بالحياة العلمية والأدبية.
2زيادة الوعي الثقافي	2-توعية المسلمين في شرقي أفريقيا بأمور دينهم
3-نشر الثقافة العربية الاسلامية بأفريقيا	3-زيادة تمسك السكان في شرقي أفريقيا بالعبادات والقيم العمانية والهوية العربية.

مراحل التعليم في شرق أفريقيا:

المرحلة الأولى:

ارتبطت بتدريس الدين الاسلامي

وعلومه (القران الكريم/التفسير/الفقه

مبادئ اللغة العربية/تعليم السلوك

والتقويم)

المرحلة الثانية:

تطورت المناهج وطرق التدريس لتشمل

كافة التخصصات في العلوم القرانية

والتفسير والفقه والعلوم الشرعية وعلوم

النحو والبيان والشعر

نتائج المؤثرات الثقافية العربية الاسلامية:

(1)أزالت الأمية بين المجموعات الأفريقية المختلفة.

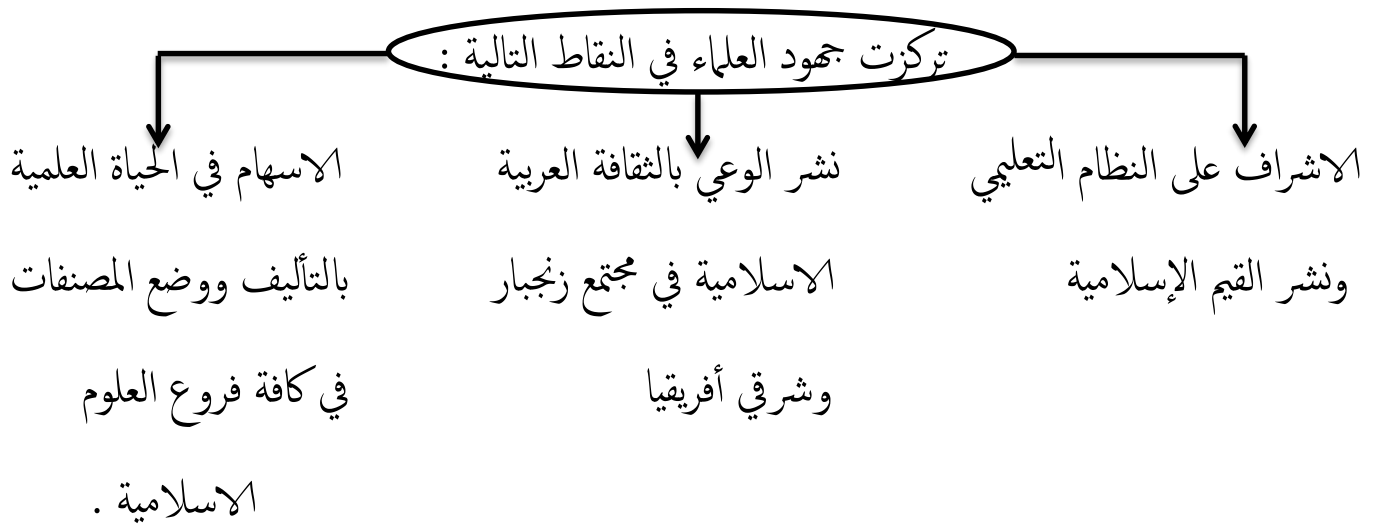
(2)مهدت الطريق لارتباط هذه المجموعات بالعالم العربي الاسلامي.

(3)اصبحت المجموعات الأفريقية المسلمة تعبر عن رغبتها في الانتماء والارتباط بالعنصر العربي .

العلماء في زنجبار وشرقي أفريقيا:

اهتم السيد سعيد بن سلطان بالعلماء من كافة المذاهب وخصهم برعايته واحترامه.

كانت روح التسامح الديني والمذهبي هي السائدة بين العلماء ويدل على ذلك الصلات الطيبة بين علماء المذهب الأباضي وعلماء المذهب الشافعي السائد بأفريقيا).



الحياة الاجتماعية في شرقي أفريقيا :

السمات الاجتماعية التي تميز بها المجتمع في شرقي أفريقيا:

1-التنوع العرقي والتباين في العادات والتقاليد.

2-التجانس الديني والحضاري (الذي ترتب عليه التمازج والانصهار)

3-تميز العلاقات بالمساواة والتسامح واحترام الأعراق والعادات

المهن التي عمل بها سكان زنجبار وشرقي أفريقيا	فئات المجتمع في زنجبار وشرقي أفريقيا
* الزراعة * التجارة * نقل السلع والبضائع	* العرب * الهنود * الشيرازيين * الأفارقة

الأفارقة : هي المجموعات الأفريقية الأخرى الوافدة من سواحل القارة ووسطها كانت تعمل في مزارع القرنفل جاءت من جزيرتي زنجبار ومبا في القرن(19م).

الزراعة : المهنة التي ادت الى استقرار المجموعات الافريقية في زنجبار ومبا نهائيا .

التجار من الأسر المنحدرة من أصول عربية عمانية

1-حملة لمشاغل الحضارة العربية الاسلامية الى

مجاهل القارة الأفريقية .

ضربوا مثلا في الاندماج والاسجام الايجابي حيثما

كانوا يقيمون.

فاموا بالمشاركة الفاعلة في حياتهم الاجتماعية بمن

يتصلون بهم من الجماعات الأفريقية.

حل نشاط (1) صفحة 50:

1-الحرفة السائدة: هي الحرفة الرئيسية التي يمارسها السكان

2-اهمية القرنفل : * مصدر للدخل القومي

* يستخلص منه زيت القرنفل الذي يستخدم في صناعة الحلوى والأدوية

3-لم يزرع العمانيون القرنفل في عمان لعدم تناسب الظروف المناخية لأنه يحتاج الى مناخ حار وممطر.

4-الهدف من اقامة مراكز تجارية دائمة لخدمة التبادل التجاري والمصالح السياسية للعمانيين في سواحل أفريقيا الشرقية وربط المصالح التجارية للعمانيين مع الشعوب الأفريقية.

حل نشاط (3) صفحة (54):

1- حمل العمانيون الاخشاب لصناعة السفن

2- لأنها ذات جودة عالية

حل نشاط (4) صفحة (55):

الأخطار الناجمة عن كل من (الرياح الموسمية-الشعب المرجانية -الدوامات البحرية-المدواجزر):

تحطم السفن غرق البحارة فقدان الاتجاه

نشاط (6) صفحة (56):

1- نشأة ثقافة جديدة عربية أفريقية

2- نشر العديد من الكتب العمانية / نشر الثقافة العربية الاسلامية

3- توعية المسلمين بأمور دينهم وديانهم / ظهور ثلاث صحف (الفلق / الاصلاح / النهضة)

حل نشاط (8) صفحة (58):

الأسباب: (خبرة العمانيين البحرية/علاقات الصداقة بين العمانيين ورؤساء القبائل وحكام شرقي أفريقيا)

النتائج: (زيادة العلاقات الحضارية العمانية مع تلك المناطق / نشر اللغة العربية والاسلام)

حل نشاط 9 صفحة (59):

المهن التي عملت بها التجمعات الأفريقية التي قدمت من داخل القارة إلى زنجبار:

النقل	التجارة	الزراعة
(نقل السلع)	(طرق القوافل التجارية)	(مزارع القرنفل)

حل نشاط (10) صفحة 59:

قامت الحياة الاجتماعية في شرقي أفريقيا على أسس من التسامح الديني بين المذاهب المختلفة (الأباضي والشافعي)

سيادة حالة من الاحترام في ممارسة العادات والتقاليد.

حل نشاط 12 صفحة 60:

1) دلل على تطور التربية والتعليم في زنجبار:

تطورت المناهج التعليمية لتشمل كافة التخصصات في العلوم القرآنية والتفسير والفقہ والعلوم الشرعية وعلوم النحو والبيان والشعر.

2)النتائج الإيجابية للثقافة العربية والاسلامية في شرقي أفريقيا :

أ-أصبحت زنجبار ملتقى للعلم وطلابه في المناطق الساحلية الشرقية بأفريقيا.

ب-أزالت الأمية بين المجموعات الأفريقية المختلفة.

ج-مهدت الطريق لارتباط الجماعات الأفريقية بالعالم العربي الاسلامي .

د-أصبحت المجموعات الأفريقية المسلمة تعبر عن رغبتها في الانتماء والارتباط بالعنصر العربي.

الدرس الثالث: التواصل العماني مع شرقي أفريقيا:

العناصر الأساسية:

- (1) مميزات النصف الأول من القرن التاسع عشر الميلادي.
- (2) أحوال شرقي أفريقيا بعد وفاة السيد سعيد بن سلطان.
- (3) أشكال التواصل العماني المعاصر مع شرقي أفريقيا.

مميزات النصف الأول من القرن 19م:

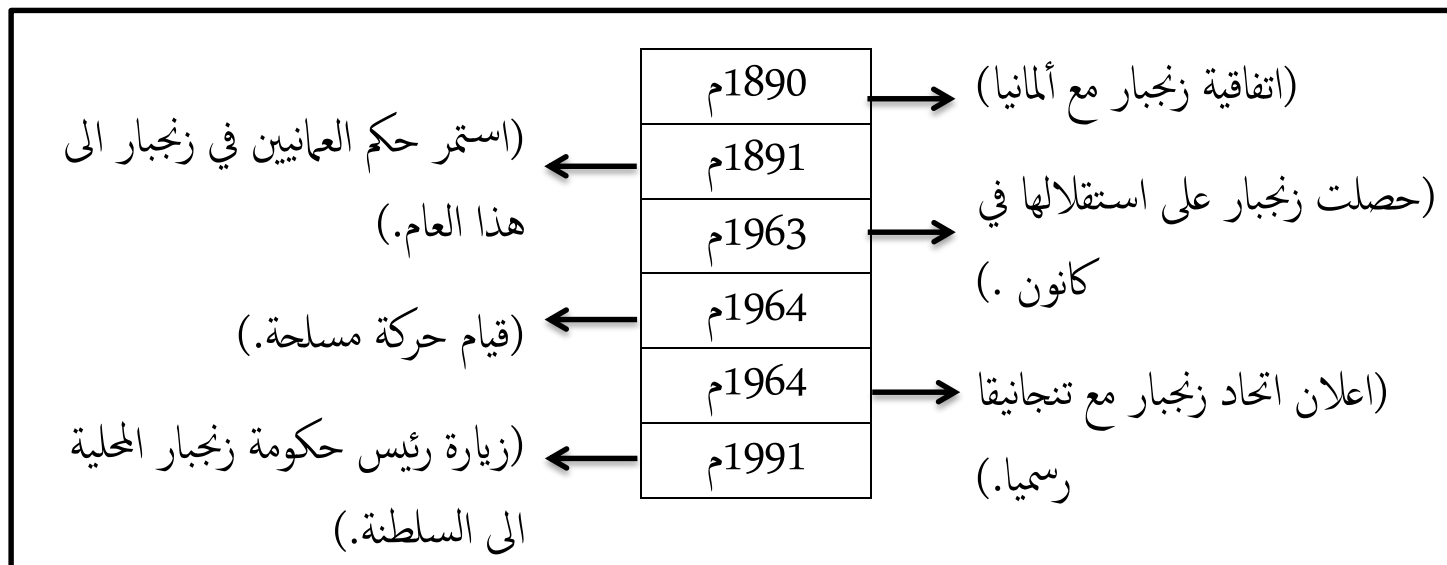


حال الدولة العمانية بعد وفاة السيد سعيد بن سلطان 1856م:

- تم تقسيمها الى: (1) السيد ثويني: اصبح حاكما على عمان وعاصمته مسقط.
- (2) السيد ماجد: أعلن سلطانا على زنجبار وعاصمته زنجبار.

العلاقات بين عمان ونجبار

مخطط سهمي للعلاقات بين عمان ونجبار:



نتائج زيارة رئيس حكومة نجبار المحلية الى السلطنة:

- 1) حركة ترميم واسعة للآثار العمانية في نجبار.
- 2) حصلت نجبار على مساعدات اقتصادية لبناء مطار ومستشفى ومدرسة للتمريض
- 3) فتحت قنصلية عمانية (سفارة) في نجبار بهدف مباشرة العلاقات الثنائية وتطويرها في اطار من المصلحة المشتركة بين الطرفين.

اشكال التواصل العماني المعاصر مع شرقي أفريقيا:

يمارس العمانيون حياتهم
الدينية والاجتماعية كما
تعودوا عليها في وطنهم الام

تمكن العديد من
العمانيين من تولي
مناصب ادارية هناك

لايزال قسم من
العمانيين يعيشون
في زنجبار

لايزال بعض
العمانيين يحتفظون
بمحللاتهم التجارية
ومزارعهم هناك

استمرت عمليات
النقل بخمس رحلات
اسبوعية من مسقط
الى زنجبار (الطيران)

ازدهرت الأنشطة
التجارية بين البلدين

قيام بعض العمانيين
بعمليات استثمار
اقتصادي في زنجبار.





الوحدة الثالثة: عمان في محيطها الاسلامي والعالمي

الدرس الأول: عمان في محيطها الاسلامي:

العناصر الأساسية:

1) موقع سلطنة عمان في العالم الاسلامي.

2) علاقة سلطنة عمان بالعالم الاسلامي.

3) أشكال العلاقات العمانية مع العالم الاسلامي.

4) علاقة سلطنة عمان بمنظمة المؤتمر الاسلامي.

موقع سلطنة عمان الاستراتيجي.

1

في أقصى الجنوب الشرقي لشبه الجزيرة العربية

2

تطل على أهم الطرق التجارية البرية: طريق القوافل عبر الجزيرة العربية البحرية: يربط الخليج العربي بالمحيط الهندي

استفادت السلطنة من موقعها الاستراتيجي وعلاقتها المتميزة مع العديد من دول العالم في التفاعل والتواصل الحضاري الذي يمثل امتدادا للاسهام العماني العريق في بناء الحضارة الانسانية.

تعريف العالم الاسلامي:

مجموعة الدول التي يشكل المسلمون فيها أكثر من 50% من جملة عدد السكان

اسلام أهل عمان ودورهم الحضاري:

-دخلوا الاسلام طواعية

-ساهموا في الفتوحات الاسلامية في (العراق -بلاد السند-فارس)

-ارتبطت بعلاقات سياسية وثقافية واقتصادية مع دول العالم .



أشكال العلاقات العمانية مع العالم الاسلامي :



العلاقات الثقافية :

- الدعوة لأهمية الحوار والتفاعل بين الثقافات .
- عقد العديد من المؤتمرات الثقافية في السلطنة بالتعاون مع منظمة الايسيسيكو وشارك فيها عدد من الدول الاسلامية .



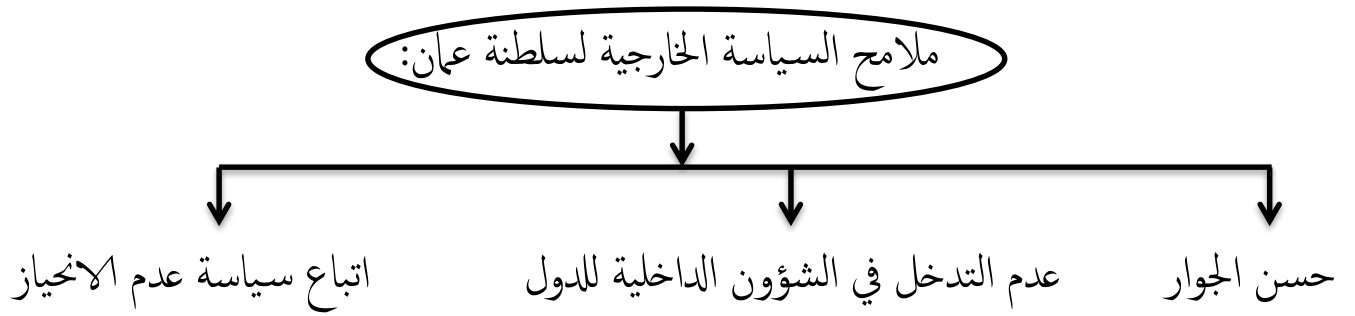
العلاقات الاقتصادية:

- الاعتماد على مبدأ التنمية المستدامة في جميع المجالات الاجتماعية والعلمية والثقافية.
- زيادة فرص الاستثمار بين الدول.
- تطبيق الاتفاقات التجارية تهدف للتوسع في تبادل السلع والخدمات القائمة عليها وزيادة الاستثمار بين الطرفين.
- نقل التكنولوجيا والخبرة الفنية الى البلدان الاسلامية.
- انشاء سوق اسلامية مشتركة تمثل خطوة مهمة نحو التعاون الاسلامي.

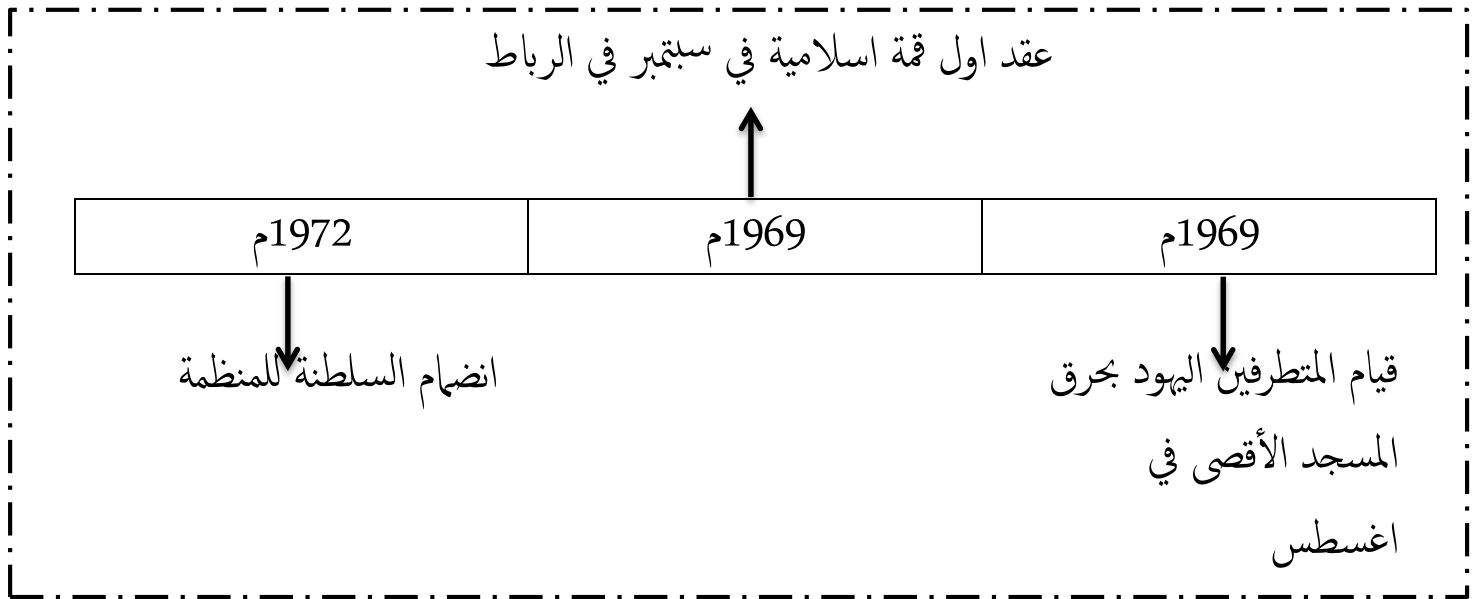


العلاقات السياسية:

- علاقات طيبة وحسنة مع دول العالم الاسلامي .
- التشاور المستمر بشأن التعاون الاقليمي .
- عقد اللقاءات وتبادل الزيارات بين قادة الدول.
- تأييد القضايا السياسية .
- ادانة الاحتلال الاسرائيلي .
- الدعوة لجعل منطقة الشرق الأوسط خالية من أسلحة الدمار الشامل.



مخطط زمني لعلاقة السلطنة بمنظمة المؤتمر الاسلامي:



المنظمة: الايسيسكو
هدفها: التخصص في ميادين العلوم والثقافة والاتصال
مقرها: الرباط في المغرب

أبرز المنظمات التابعة لمنظمة المؤتمر الاسلامي:

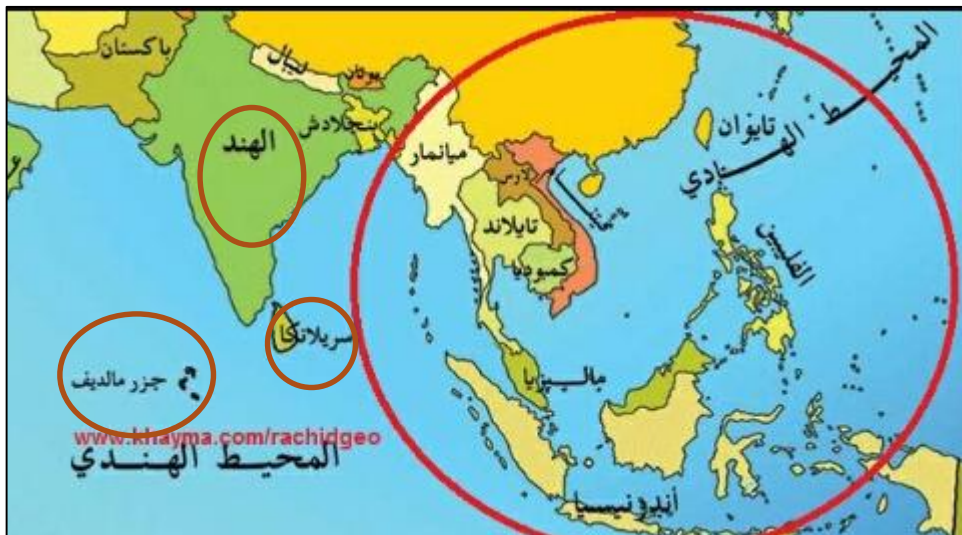
المنظمة: مجمع الفقه الاسلامي
مقرها: مكة المكرمة .

المنظمة: البنك الاسلامي
هدفها: تقديم المساعدات الانسانية للدول الفقيرة من خلال اقامة المشاريع التنموية

المساعدات الانسانية العمانية للعالم الاسلامي:

- 1-مساعدة الشعب الفلسطيني سياسيا وماديا.
(بناء المدارس –تجهيز المستشفيات- تنمية المشاريع الصغيرة – انشاء صوامع الغلال).
- 2-مساعدة الشعب البوسني وشعب كوسوفو المسلمين (اضطهاد وتطهير عرقي).
- 3-تقديم المساعدة للشعب الأفغاني وقت الحرب ضد الاتحاد السوفيتي.
- 4-مساعدة شعوب شرقي أفريقيا المسلمة (تطوير خدماتهم الصحية والاجتماعية).
- 5-مساعدة بعض الدول وقت الأزمات (ايران وتركيا).
- 6-متضرري تسونامي (جنوب شرق اسيا).

المصطلح	تعريفه	سببه	تاريخ حدوثها	الدول التي ضربها	النتائج
تسونامي	مصطلح ياباني يعني موجة الميناء وهي موجة محيطية ضخمة تكون على هيئة سلسلة واسعة من الأمواج والمد البحري	الزلازل والبراكين	2004/12/26م	سواحل كل من: اندونيسيا ماليزيا سيريلانكا الهند المالديف تايلند	تتبع عنها خسائر بشرية ومادية فادحة .



الدول التي ضربتها موجة تسونامي:

اندونيسيا- ماليزيا- سيريلانكا-

الهند- المالديف- تايلند.

حل نشاط (1) صفحة 70:

أثر التنوع المناخي بين دول العالم الاسلامي على التكامل الاقتصادي:

-تميز دول العالم الاسلامي بانتشارها في قارات العالم المختلفة وهو ما ساعد على تنوع المناخات بها
وقد انعكس هذا التنوع المناخي على تنوع الحاصلات الزراعية والمنتجات الحيوانية مما يعطي الفرصة
للدول الاسلامية بإمكانية التبادل الاقتصادي بينها وهو ما يساعد على ازدهارها اقتصاديا.

حل نشاط (2) صفحة 71:

(أ):

1- تقع سلطنة عمان في قلب العالم الاسلامي في جنوب شرق شبه الجزيرة

2- جعلها تطل على أهم الطرق التجارية البحرية في العالم كما انها اتصلت برا بطرق التجارة عبر شبه الجزيرة العربية .

3- أمثلة للدول الإسلامية :

أسيا: ايران المالديف- ماليزيا -دول وسط اسيا -بنجلاديش- أفغانستان -باكستان-اندونيسيا

أفريقيا: تشاد - مالي - السنغال

أوروبا : ألبانيا - تركيا - البوسنة والهرسك

(ب):

خريطة سلطنة عمان :

1-الموقع الفلكي : (16:40 - 26:20شمالا) ، (51:50-59:40شرقا)

2-الممرات التي تطل عليها (بحر عمان- الخليج العربي - بحر العرب - مضيق هرمز)

3-الدول التي تحيط بالسلطنة: (الامارات - السعودية - اليمن).

حل نشاط(3) صفحة 73:

1-الاهداف:بناء الثقة بين الشعوب - تأكيد أواصر العلاقة مع الدول -العمل على تحقيق المصالح المشتركة - مراعاة الشرعية الدولية - الالتزام بالمعاهدات والقوانين .

2-ملامح السياسة:التفاهم الواعي والتعاون البناء من أجل انتصار الأمن والسلام وشيوع الطمأنينة والرخاء.

الدرس الثاني: عمان في محيطها العالمي :

العناصر الأساسية :

1-سياسة السلطنة في التعامل مع دول العالم.

2-رابطة الدول المطلة على المحيط الهندي

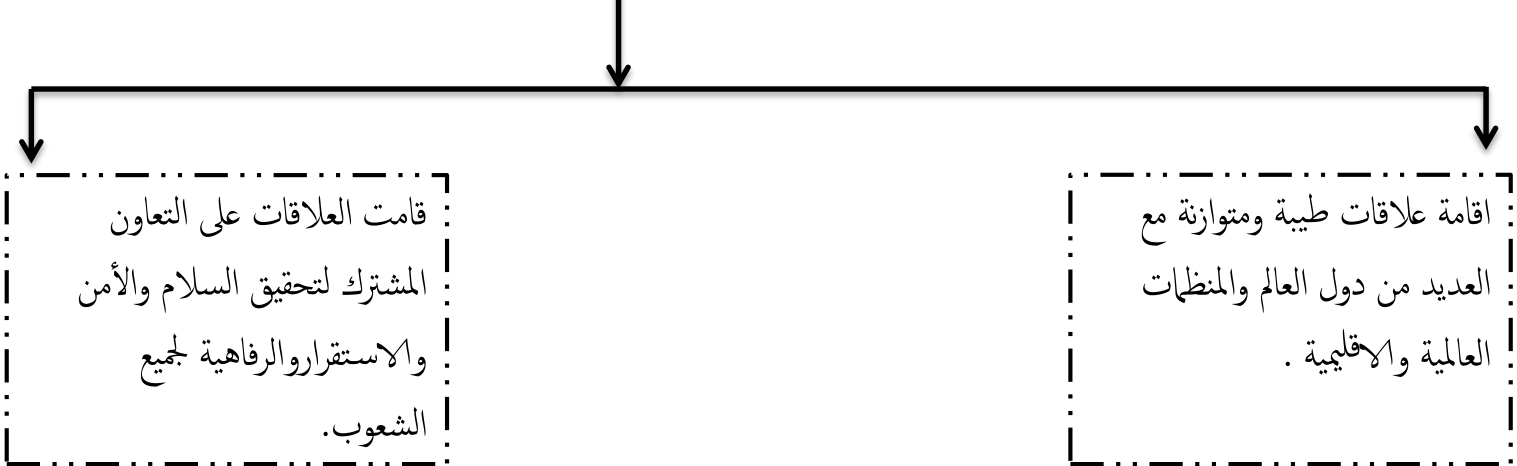
3-منظمة الأمم المتحدة : (أ)المنظمات التابعة لها (ب)تفاعل السلطنة معها .

4-جهود السلطنة في صون البيئة الدولية .

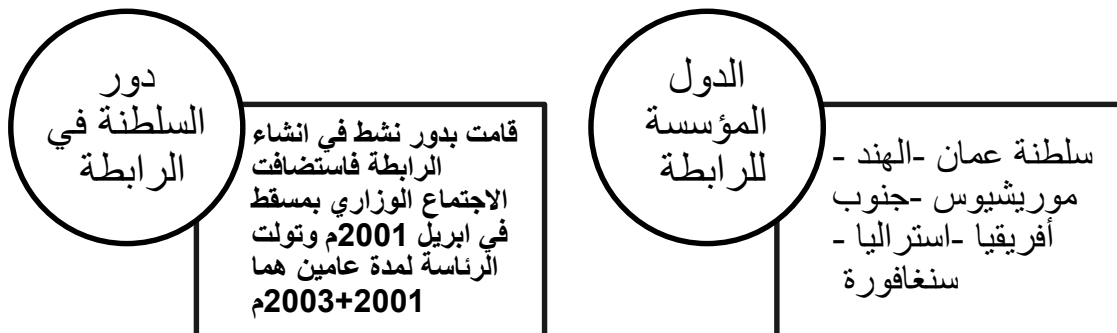
6-عمان والعولمة والاندماج في الاقتصاد العالمي.



سياسة السلطنة في التعامل مع دول العالم



رابطة الدول المطلة على المحيط الهندي للتعاون الإقليمي :

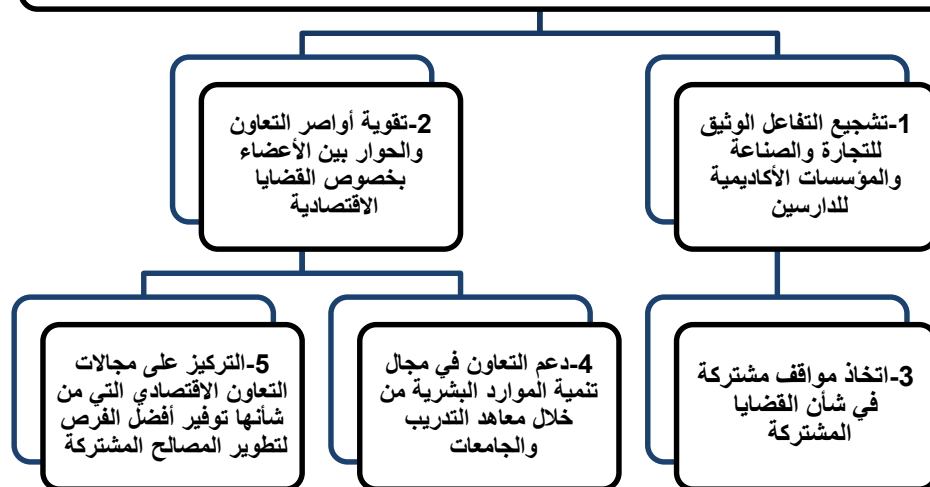


سبب اقامة الرابطة :

لأهمية اقامة رابطة تجمع بين تلك الدول انطلاقا من روابط شعوب المنطقة القديمة والتاريخية والمميزات الاقتصادية التي تجعلها من التجمعات الاقتصادية المهمة في المستقبل القريب.

أهداف الرابطة :


كيفية تنفيذ أهداف الرابطة : تنفيذ مشروعات اقتصادية ذات الصلة بتسهيل التجارة وتشجيع الاستثمار الأجنبي والتبادل العلمي والتكنولوجي والسياحة وتطوير البنية الأساسية وتنمية الموارد البشرية.





الدول المطله على المحيط الهندي

المميزات التي قدمتها الرابطة للسلطنة :



1) وفرت الرابطة للسلطنة سوقا ضخما للمنتجات العمانية 1700 مليون مستهلك

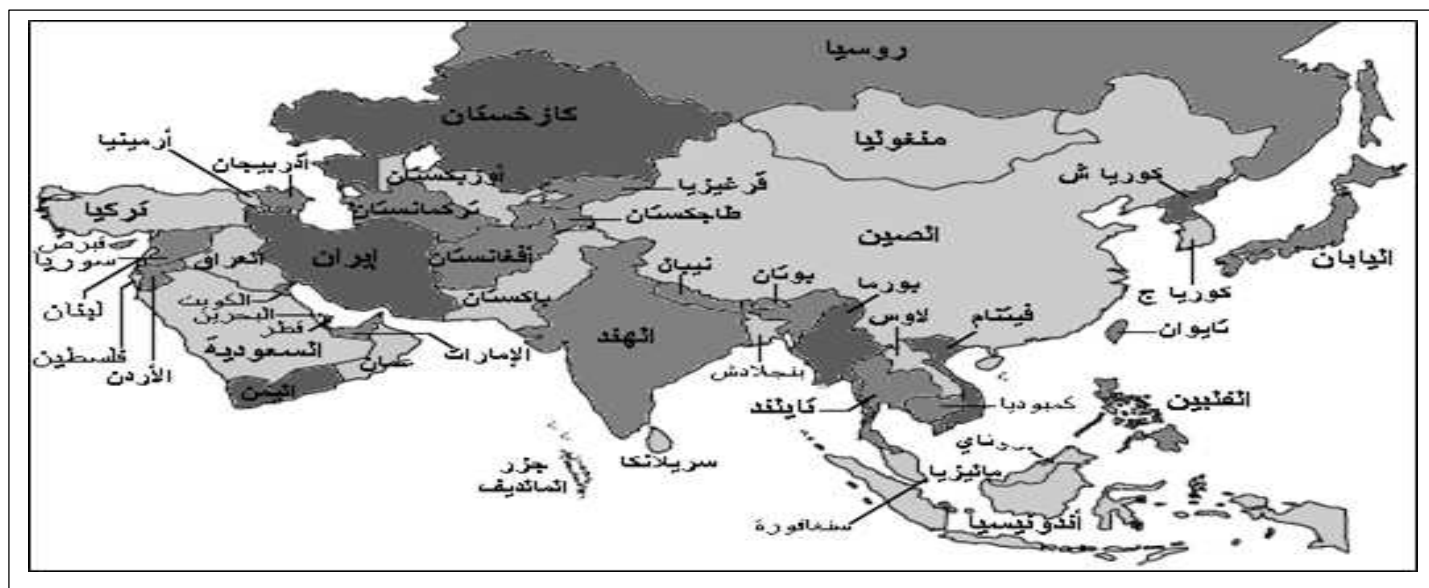
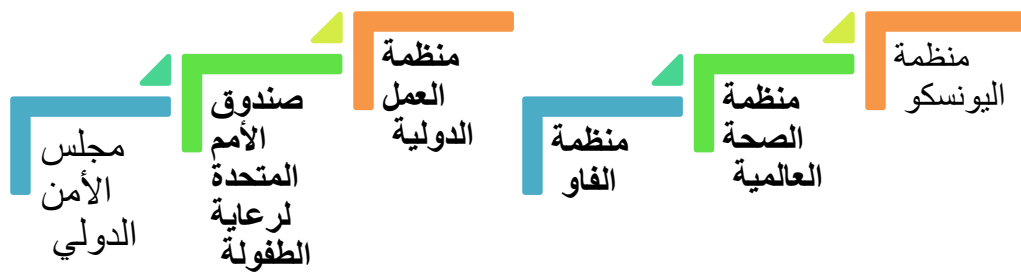
2) الافادة من خبرات بعض الدول في المجال العلمي والتقني

3) جعلت السلطنة مركز للخدمات المالية وخدمات الصيانة.

منظمة الامم المتحدة

نشأتها	هدفها	وقت وكيفية انضمام السلطنة لها
عام 1945 بعد اجتماع وفود 50 دولة للبحث عن منظمة تحل محل عصبة الأمم التي لم تنجح في منع الحربين العالميتين الأولى والثانية وأدت لمقتل الملايين	ارساء الأمن والسلام في العالم	اكتوبر 1971م اختيرت ضمن اللجنة التحضيرية للاحتفال بمرور 50 عام على نشأتها

المنظمات التابعة لمنظمة الأمم المتحدة:



المنظمة	مقرها وتاريخ تأسيسها	أهدافها	تاريخ انضمامها للسلطنة والفوائد التي عادت على السلطنة من انضمامها لها	مجالات تعاون السلطنة معها
منظمة الأمم المتحدة للتربية والعلوم والثقافة (اليونسكو)	باريس/فرنسا 1945م	1- حفظ السلام والأمن الدوليين 2- تعزيز التفاهم بين الأمم. 3- تنشيط التربية ونشر الثقافة. 4- حفظ المعرفة وتقديمها وانتشارها.	1972م 1- تتاح للجهات المعنية بالسلطنة حضور فعاليات تلك المجالس 2- تحصل السلطنة على المعونة الفنية والمالية التي تساعدها في تنفيذ المشاريع المرتبطة بالتربية والعلوم .	1- من خلال مكتب المندوب الدائم للسلطنة لدى منظمة اليونسكو. 2- تقديم خدمات تربية وعلمية . 3- التعاون لمحو الأمية. 4- المشاركة في المؤتمرات والندوات
منظمة الصحة العالمية (WHO)	جنيف بوسيرا		7/ابريل/1948م الأهداف: 1- تشجيع الأبحاث الطبية. 2- عقد الاتفاقيات في شؤون الصحة 3- مراقبة تفشي الأمراض كالجدري 4- توفير الحماية الصحية والعقلية 5- نشر الوعي لحماية مياه الشرب	

المجالس واللجان التي تشارك فيها السلطنة من خلال منظمة اليونسكو :

4-مجلس ادارة معهد اليونسكو للاحصاء

ممثلة في وزارة الاقتصاد الوطني

5-لجنة التراث العالمي

ممثلة في وزارة التراث والثقافة

6-لجنة المقرر

ممثلة في مكتب المندوب الدائم للسلطنة لدى اليونسكو

1-المجلس الدولي لتسيق برنامج الانسان والمحيط الحيوي (الماب)

ممثلة في وزارة البلديات الاقليمية والبيئة وموارد المياه

2-المجلس الدولي الحكومي لبرنامج ادارة التحولات الاجتماعية (موس ت)

ممثلة في وزارة التنمية الاقتصادية

3-المجلس الدولي الحكومي للبرنامج الدولي لتنمية الاتصال (بدتا)

ممثلة في وزارة الاعلام

معلومة :

تعد سلطنة عمان الدولة الخليجية العربية الوحيدة التي انضمت لرابطة الدول المطلة على المحيط الهندي للتعاون الاقليمي .



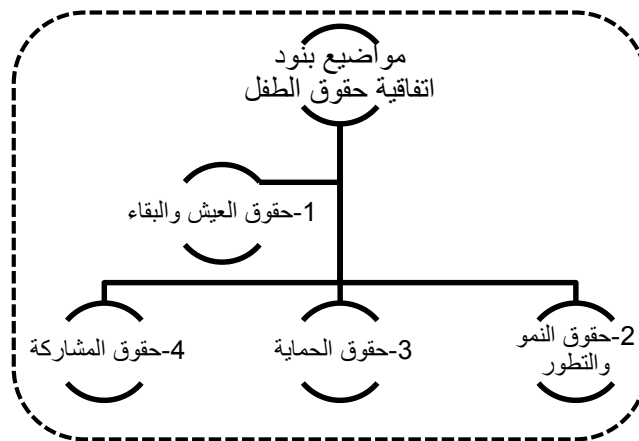
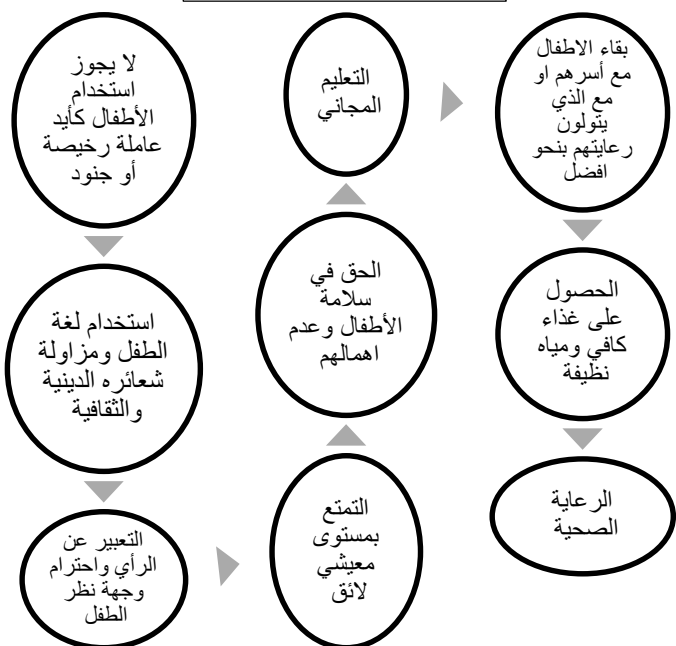
المنظمة	مقرها وتاريخ تأسيسها	أهدافها	تاريخ انضمامها للسلطنة والفوائد التي عادت على السلطنة من انضمامها لها	مجالات تعاون السلطنة معها
منظمة الأمم المتحدة للأغذية والزراعة (الفاو)	روما /إيطاليا 1945/10/16م	1-دراسة ظروف الزراعة والتغذية في العالم 2-زيادة مصادر الانتاج لمسيرة زيادة الاستهلاك 3-نشر معلومات التغذية الصحية ووسائل حفظ الغذاء. 4-الإشراف على المشروعات التي تهدف لتنمية الزراعة والغابات وصيد الأسماك		
منظمة العمل الدولية	جنيف /سويسرا 1919م	1-توفير عمل مناسب بأجر مناسب لكل يد عاملة 2-توسيع دائرة الضمان الاجتماعي 3-تعميم حماية الأمومة 4-توفير تغذية كافية وسكن ملائم 5-تحديد ساعات العمل 6-حماية العمال من الاصابات الناتجة عن العمل 7-الاهتمام بمكافحة عمالة الأطفال خاصة الدول النامية		
مجلس الأمن الدولي	نيويورك	1-حفظ السلام والأمن الدوليين 2-استخدام القوة لاعادة السلم بين الدول	ترأسته السلطنة مرتين : 1994م 1995م الفوائد: منح صاحب الجلالة عام 1998م جائزة السلام الدولية تقديرا لجهوده في ارساء السلام العالمي 2-اختيار السلطنة من بين الدول العشر الأكثر اهتماما بالبيئة على المستوى الدولي	1-تخصيص جائزة دولية لصون البيئة وعمان أول دولة عربية يتم منحها جائزة على المستوى العالمي. 2-جائزة السلطان لحماية وصون البيئة عام 1989م وتمنح كل عامين من خلال برنامج الماب التابع لمنظمة اليونسكو

المنظمة	مقرها وتاريخ تأسيسها	أهدافها	تاريخ انضمامها للسلطنة والفوائد التي عادت على السلطنة من انضمامها لها	مجالات تعاون السلطنة معها
صندوق الأمم المتحدة الدولي لرعاية الطفولة (اليونسيف)	نيويورك 1948/م	1- تخفيض وفيات الأمهات والأطفال دون سن الخامسة 2- الحد من سوء التغذية. 3- تخفيض نسبة أمية الكبار 4- توفير التعليم الأساسي للجميع 5- تحسين حماية الأطفال لاسيما في الظروف الصعبة .	اختيرت السلطنة عضوا للمرة الثالثة في عامي : 1997م 1998م	1- تنفيذ العديد من المشروعات في مجال خدمة الطفولة والأمومة من خلال مكتبها الدائم بالسلطنة .

اتفاقية حقوق الطفل :

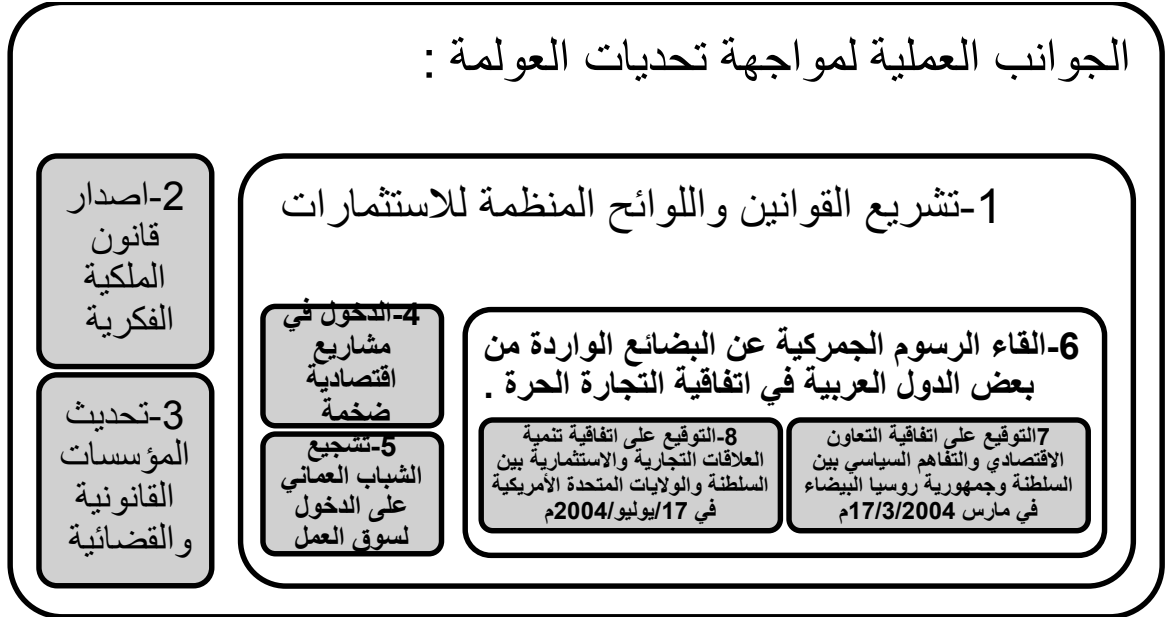
اتفاقية عالمية تم اعلانها عام 1989م تضمن للطفل بقاءه وحمايته ونمائه وتضمن حقوقه المدنية والصحية والاجتماعية والثقافية كما تمنع تشرده واستغلاله

محاور بنود الاتفاقية



الاندماج في الاقتصاد العالمي

الجوانب العملية لمواجهة تحديات العمولة :



حل نشاط (1)صفحة 81:

أهم الدول المطلة على المحيط الهندي : (استراليا - اندونيسيا -ميانمار -بنجلاديش - الهند -
المالديف -سنغافورة- باكستان -ايران - عمان - اليمن - الصومال -كينيا -تنزانيا - مدغشقر
- جزر القمر - موريشيوس- جنوب أفريقيا)

2- الدول المنتسبة للرابطة :

(سلطنة عمان - موريشيوس- الهند- استراليا- كينيا - المالديف -سنغافورة)

حل نشاط 6 صفحة (86) :

الرقم	المجالات	المنظمة المختصة
1	تطعيم الاطفال ضد شلل الأطفال	منظمة الصحة العالمية
2	مراقبة تشغيل الأطفال قبل سن الخامسة عشرة	منظمة العمل الدولية
3	نشر التعليم الأساسي لكافة الأطفال	منظمة اليونيسيف
4	صناعة المنهج المدرسي	منظمة اليونسكو
5	رعاية حقوق الطفل	منظمة اليونيسيف
6	نشر ثقافة السلام في العالم	منظمة اليونسكو
7	توسيع دائرة المستفيدين من خدمات الضمان الاجتماعي	منظمة العمل الدولية
8	استحداث استزراع الأسماك	منظمة الزراعة والأغذية
9	حل النزاعات بين الدول	مجلس الأمن الدولي

حل نشاط (9) صفحة 88 :

1-1988م

2-القرن 21

3-العمل على محاربة الظلم والاستبداد والتصدي لسياسات التطهير العرقي وامتهان كرامة الانسان ومحاربة احتلال أراضي الغير والسعي لاقامة العدل وانصاف المظلومين .

4-تقديرًا لجهوده في دعم السلام العالمي.

حل نشاط 10 صفحة 89 :

- 1- جهود جلالته في نشر السلام العالمي / التقدير العالمي لجلالته على جهوده الدولية
 - 2- حسن الجوار / عدم التدخل في شؤون الآخرين / اتباع سياسة عدم الانحياز.
 - 3- لو كنت في موقع المسؤولية في بلدي الاتجاه الذي اعتمده بالنسبة للسلام العالمي هو نفس اتجاه جلالة السلطان، لانها سياسة حكيمة ودبلوماسية تدل على عظمة وعقلانية جلالته .
-

حل نشاط 12 صفحة 90 :

- 1- العمل على وضع الخطط الاستراتيجية لحماية البيئة / البناء المؤسسي للهيئات والوزارات البيئية.
 - 2- الحفاظ على البيئة المحلية والتنوع البيئي في السلطنة.
 - 3- دليل على حرص جلالته على حماية البيئة العالمية.
 - 4- منظمة الأمم المتحدة للتربية والعلوم والثقافة (اليونسكو) برنامج الانسان والمحيط الحيوي (الماب).
-

