

تم تحميل هذا الملف من موقع المناهج العمانية



## الامتحان النهائي الرسمي الدور الأول بمحافظة مسقط والداخلية

[موقع المناهج](#) ⇨ [المناهج العمانية](#) ⇨ [الصف التاسع](#) ⇨ [اجتماعيات](#) ⇨ [الفصل الثاني](#) ⇨ [الملف](#)

تاريخ إضافة الملف على موقع المناهج: 08:38:32 2024-06-09

## التواصل الاجتماعي بحسب الصف التاسع



اضغط هنا للحصول على جميع روابط "الصف التاسع"

## روابط مواد الصف التاسع على تلغرام

[الرياضيات](#)

[اللغة الانجليزية](#)

[اللغة العربية](#)

[التربية الاسلامية](#)

## المزيد من الملفات بحسب الصف التاسع والمادة اجتماعيات في الفصل الثاني

<a href="#">الامتحان النهائي الرسمي الدور الأول بمحافظة شمال الباطنة</a>	1
<a href="#">الخرائط المقررة في المادة</a>	2
<a href="#">مذكرة دراسية في كراستي</a>	3
<a href="#">مذكرة إثرائية سؤال وجواب في الوحدة الرابعة التربية السكانية نموذج حديث</a>	4
<a href="#">مذكرة إثرائية سؤال وجواب في الوحدة الخامسة التواصل الحضاري البحري العماني نموذج حديث</a>	5

(١)

المادة: الدراسات الاجتماعية - الصف: التاسع - الدور الأول - الفصل الدراسي الثاني - العام الدراسي: ٢٠٢٣

أجب عن جميع الأسئلة الآتية

السؤال الأول: ضع دائرة حول رمز الإجابة الصحيحة لكل مفردة من المفردات الآتية :



١- الدولة التي يوجد بها المعلم المعماري الظاهر في الصورة المقابلة :

( أ ) إيران

( ب ) الهند

( ج ) الصين

( د ) اليابان

٢- اسم السفينة العمانية الحربية التي أرسلت إلى ميناء نيويورك بقيادة أحمد بن النعمان الكعبي عام ٨٤٠

( أ ) سلطنة

( ب ) فكتوريا

( ج ) الفلك

( د ) ليفربول

٣- الرقم الذي يُشير إلى الميناء العماني الذي ارتبط بتجارة الذهب

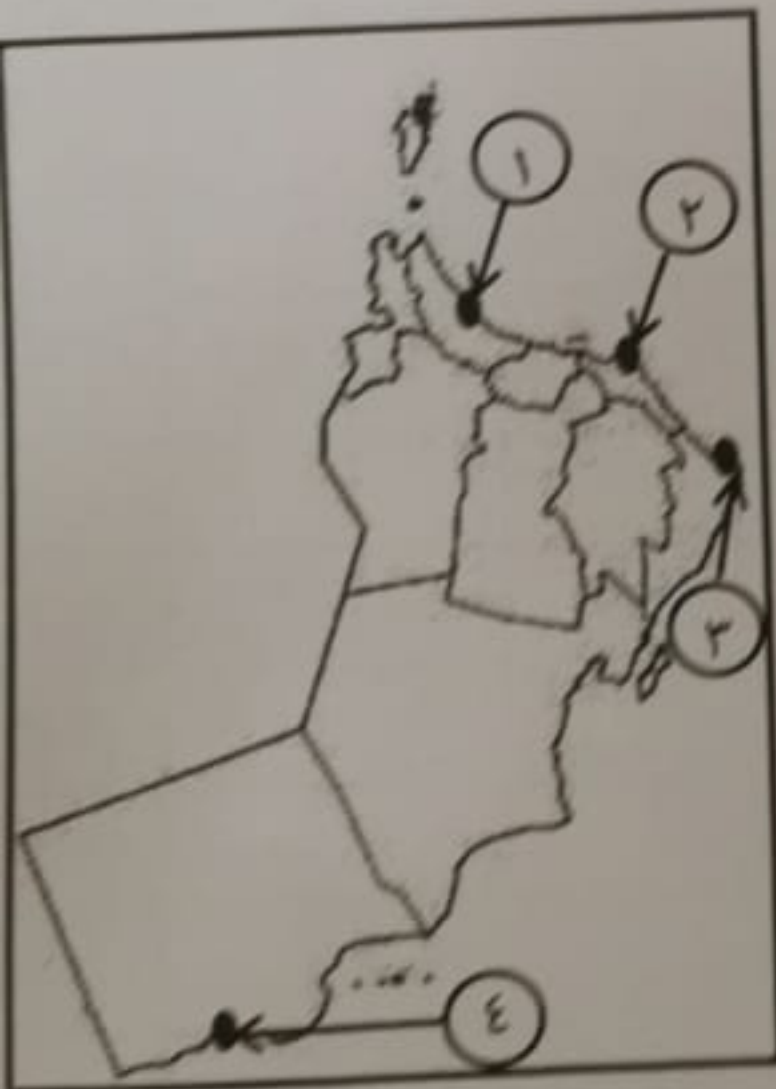
واللبان والبخور منذ القدم في الخريطة المقابلة :

( أ ) ١

( ب ) ٢

( ج ) ٣

( د ) ٤



٤- يبلغ متوسط عدد الذين يموتون جوعاً يومياً على المستوى العالمي بالآلاف نسمة :

( أ ) ١٠

( ب ) ٢٠

( ج ) ٣٠

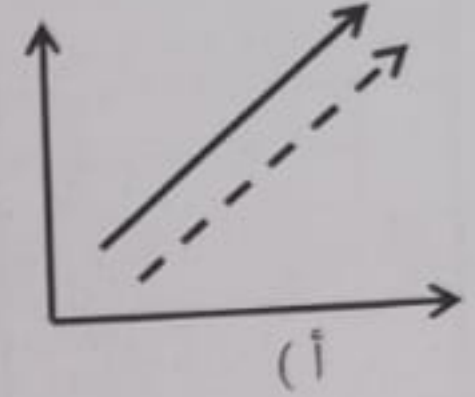
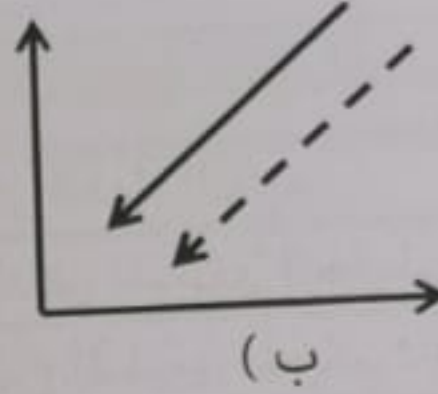
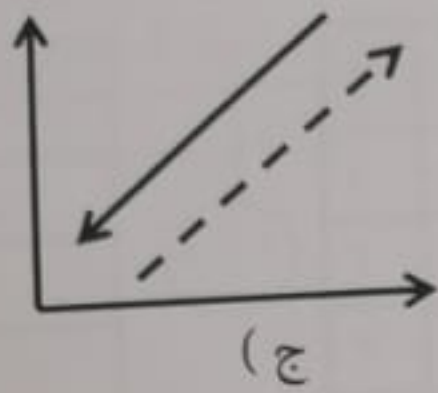
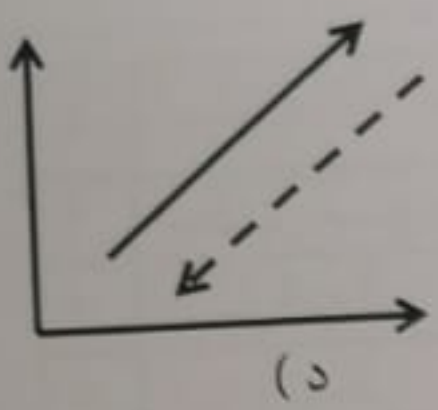
( د ) ٤٠

(٢)

المادة: الدراسات الاجتماعية - الصف: التاسع - الدور الأول - الفصل الدراسي الثاني - العام الدراسي: ٢٠٢٣/ ٢٠٢٤

تابع- السؤال الأول :

٥- التمثيل البياني الصحيح الذي يوضح العلاقة بين الزيادة السكانية المضطردة والدخل الفردي :



الزيادة السكانية —————>  
الدخل الفردي - - - - ->

٦- العام الميلادي الذي زارت فيه السفينة صحار مدينة قوانتشو :


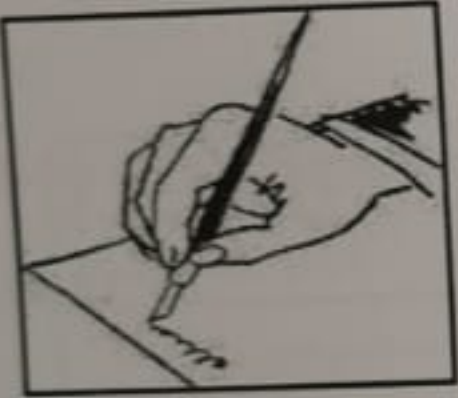
(د) ١٩٨٣

(ج) ١٩٨٢

(ب) ١٩٨١

(أ) ١٩٨٠

٧- الصورة التي تدل على المجال الذي تأثرت به الحضارة الفارسية بالحضارة اليونانية التي عاصرتها :



( تتمتع عُمان بسواحل طويلة مطلة على المحيط الهندي، مما جعلها تعمل على تأمين السواحل من الغزو الخارجي للمحافظة على استقرارها ، فانعكس بشكل إيجابي على تكوين علاقات جيدة مع الدول، وقيام الجماعات البشرية على سواحلها والدليل على ذلك وجود الكثير من المكتشفات على الساحل العماني ).

٨- الرمز الصحيح الذي يُمثل العوامل التي أدت إلى أهمية دور عُمان في مجال الملاحة حسب تسلسلها

في النص السابق :

←				
( أ )	الطبيعية	الأمنية	السياسية	الأثرية
( ب )	الأثرية	السياسية	الطبيعية	الأمنية
( ج )	الأمنية	الطبيعية	الأثرية	السياسية
( د )	السياسية	الأثرية	الأمنية	الطبيعية



(٣)

المادة: الدراسات الاجتماعية - الصف: التاسع - الدور الأول - الفصل الدراسي الثاني - العام الدراسي: ٢٠٢٣/ ٢٠٢٤ م

تابع - السؤال الأول:

٩- الجدول الصحيح الذي يُمثل أسباب ارتفاع معدل المواليد كأحد العوامل المؤدية للانفجار السكاني :

م	أسباب ارتفاع معدل المواليد
١	توافر الغذاء السليم
٢	انخفاض المستوى التعليمي
٣	ارتفاع المستوى المعيشي

( ب )

م	أسباب ارتفاع معدل المواليد
١	انخفاض مستوى الدخل
٢	انتشار التعليم
٣	الزواج المبكر

( أ )

م	أسباب ارتفاع معدل المواليد
١	ارتفاع المستوى المعيشي
٢	انخفاض الوعي السكاني
٣	انتشار التعليم

( د )

م	أسباب ارتفاع معدل المواليد
١	الزواج المبكر
٢	انخفاض المستوى التعليمي
٣	انخفاض مستوى الدخل

( ج )

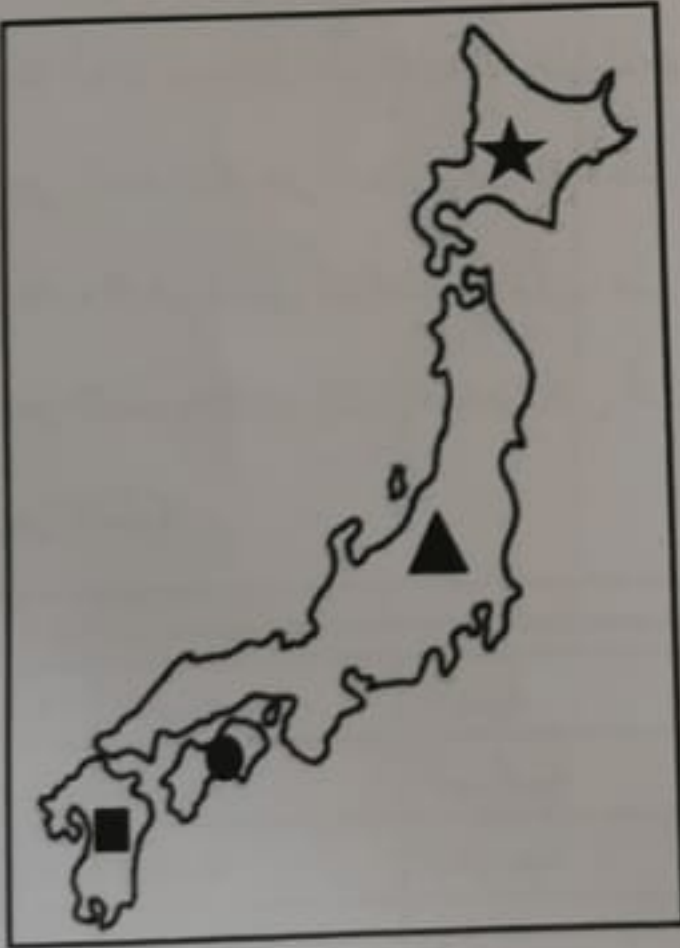
١٠- المنتج الزراعي الذي حملته السفن التجارية العمانية من أقاليم المحيط الهندي إلى مناطق الاستهلاك :

- ( أ ) القرنفل ( ب ) الذهب ( ج ) العنبر ( د ) الياقوت

١١- الرمز الذي يُشير إلى موقع الجزيرة التي توجد بها العاصمة

اليابانية في الخريطة المقابلة :

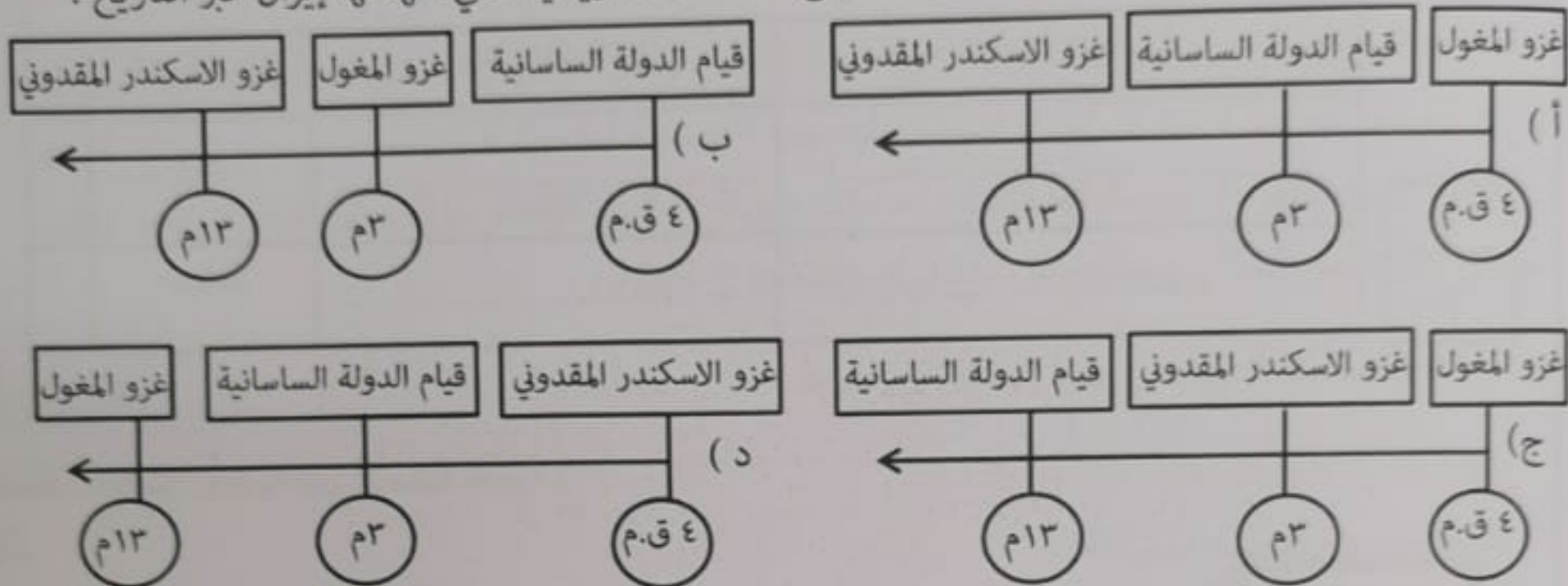
- ( أ ) ★  
( ب ) ▲  
( ج ) ●  
( د ) ■



(٤)

المادة: الدراسات الاجتماعية - الصف: التاسع - الدور الأول - الفصل الدراسي الثاني - العام الدراسي: ٢٠٢٣/ ٢٠٢٤ م  
تابع - السؤال الأول :

١٢- المسطرة الزمنية التي تُشير إلى التسلسل الصحيح للأحداث التاريخية التي شهدتها إيران عبر التاريخ :



١٢

السؤال الثاني: أجب عن الأسئلة الآتية :

أولاً: اكتب المصطلح / المفهوم مقابل العبارتين في الجدول الآتي :

المصطلح / المفهوم	العبرة	م
.....	سفينة حربية صغيرة الحجم سريعة تستخدم للمناورة .	١
.....	الزيادات الكبيرة في أعداد السكان بما يفوق الموارد المتاحة .	٢

ثانياً :

أ- اذكر دليلاً واحداً لكل من :

١- التأثير الصيني على الجوانب السياسية لليابانيين .

.....

٢- كان البلاط الساساني حريصاً على إظهار العظمة والأبهة للملك .

.....

ب- ( تتميز التضاريس في اليابان بأنها وعرة وجبلية إذ تغطي الجبال والتلال نحو ٧٠% من مساحتها الكلية ، وتقع اليابان على جزء مستقر من سطح الكرة الأرضية ) .

١- العبارة التي تحتها خط في الفقرة السابقة :

صحيحة  غير صحيحة  ( ظلل الإجابة )

٢- أثبت صحة إجابتك :



٢٠٢٣/٢٤

(٦)

المادة: الدراسات الاجتماعية - الصف: التاسع - الدور الأول - الفصل الدراسي الثاني - العام الدراسي: ٢٠٢٣

تابع - السؤال الثالث :

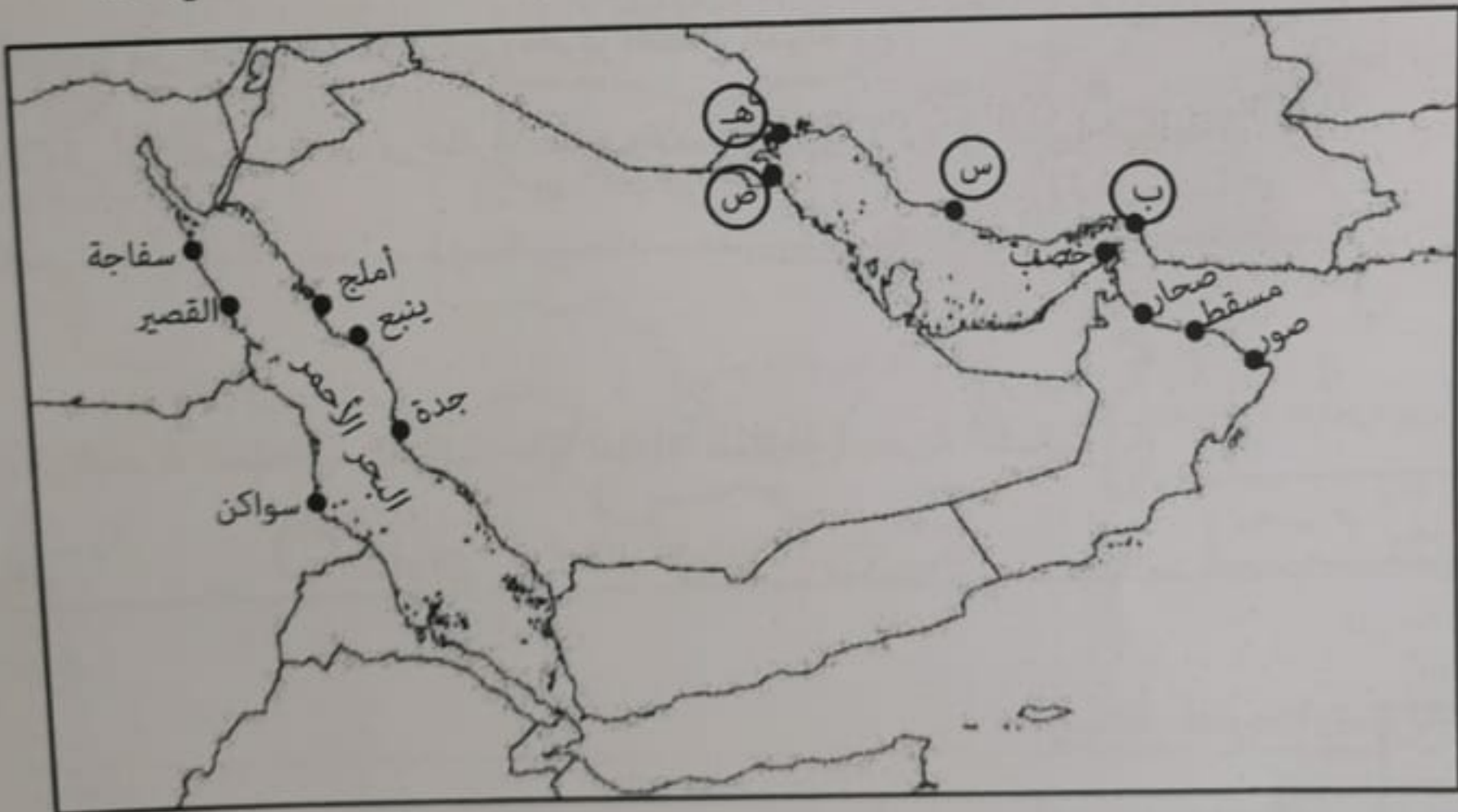
ثانياً: أقرأ النص الآتي ، ثم أجب عن الأسئلة التي تليه :

( زار أحد الباحثين قرية في إحدى الدول النامية لدراسة مدى توفير الحكومة الخدمات الأساسية لمواطنيها في القرية ، وبعد الدراسة لاحظ أن أعداد السكان كبير وأن الخدمات المقدمة لا تتناسب مع عدد السكان لا سيما أن خدمة التيار الكهربائي يحدث لها انقطاع لساعات طويلة في اليوم الواحد ، وفي بعض الأيام لا يوجد تيار كهربائي ، مما جعل السكان يبحثون عن بدائل لاستخدامها في الإنارة ) .

١- استخراج المشكلة التي يعاني منها السكان في القرية .

٢- اقترح حلاً واحداً لهذه المشكلة .

ثالثاً: أدرس خريطة موانئ الخليج العربي والبحر الأحمر جيداً ، ثم أجب عن الأسئلة التي تليها :




أ- استخراج من الخريطة كلا من :

١- الرمز الذي يُشير إلى الميناء الذي أصبح مملكة بحرية نهاية العصر العباسي وبداية العصور الحديثة. (.....)

٢- ميناء يقع على الساحل الشرقي للبحر الأحمر . (.....)

ب- ضع دائرة حول الميناء العُماني الذي يُمثل عقدة المواصلات البحرية في العصور القديمة والإسلامية .

ج- وقع على الخريطة الموقع الصحيح للمسطح المائي ( الخليج العربي ) .



يتبع ٧/

(5)

المادة: الدراسات الاجتماعية - الصف: التاسع - الدور الأول - الفصل الدراسي الثاني - العام الدراسي: ٢٠٢٣/ ٢٠٢٤

تابع - السؤال الثاني:

ثالثاً: قارن بين ميناءي ديو و ممبasa من حيث موقع الميناء والأهمية البحرية .

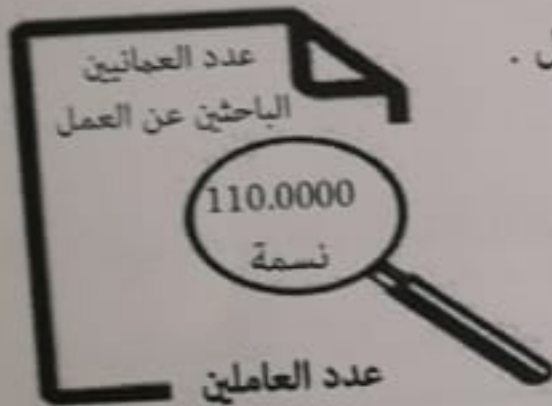
م	اسم الميناء	موقع الميناء	الأهمية البحرية
١	ديو	.....	.....
٢	ممبasa	.....	.....

٨

السؤال الثالث: أجب عن الأسئلة الآتية:

أولاً:


١- أحسب حجم الباحثين عن العمل وفق المعطيات الواردة في الشكل المقابل .



القانون:

التطبيق:

النتيجة:



٢- ادرس الصورة المقابلة جيداً، ثم أجب عن السؤال الآتي:

- استنتج اسم القطاع الاقتصادي الواضح في الصورة المقابلة مع كتابة معدل استهلاكه للطاقة.



(٧)

المادة: الدراسات الاجتماعية - الصف: التاسع - الدور الأول - الفصل الدراسي الثاني - العام الدراسي: ٢٠٢٣ / ٢٤

**السؤال الرابع: أجب عن الأسئلة الآتية:**

أولاً: اذكر نتيجة واحدة ترتبت على كلا من:

١- اختراع الصينيون الورق وابتكار أسلوب الكتابة الخاص بهم .

٢- الزيادة السكانية وتباطؤ عمليات التنمية .

**ثانياً:**

١- دلل: كان للعمانيين دوراً في نشر اللغة العربية في منطقة المحيط الهندي .

٢- ( تطورت الصين في كافة المجالات خلال السنوات الأخيرة من القرن العشرين ودخلت ما عُرف بمرحلة الإصلاح والانفتاح حيث عملت على تطوير الزراعة على الرغم من قلة الأراضي الزراعية مقارنة بعدد السكان ، وتوجهت نحو الإفادة من التقدم التكنولوجي وتحرير اقتصاد الدولة ) .

- اكتب ما يدل على أن الصين دخلت مرحلة الانفتاح والإصلاح لم يرد ذكره في الفقرة السابقة .

**ثالثاً:**

ما رأيك : ( تمثل البحرية السلطانية العمانية حالياً امتداداً للملاحة البحرية العمانية ) ؟

١-  أوافق  لا أوافق " ظلل الإجابة "

٢- وضع إجابتك :

**السؤال الخامس: أجب عن الأسئلة الآتية:**

أولاً: عدد اثنين من الأعمال التي قام بها ( الإمبراطور هينو ) بعد توليه العرش في اليابان عام ١٨٦٧ م .