

شكراً لتحميلك هذا الملف من موقع المناهج العمانية



الامتحان النهائي الدور الأول الفترة الصباحية لمحافظة مسقط

[موقع المناهج](#) ← [المناهج العمانية](#) ← [الصف التاسع](#) ← [اجتماعيات](#) ← [الفصل الأول](#) ← [الملف](#)

تاريخ نشر الملف على موقع المناهج: 2023-12-30 18:27:23

التواصل الاجتماعي بحسب الصف التاسع



روابط مواد الصف التاسع على تلغرام

[الرياضيات](#)

[اللغة الانجليزية](#)

[اللغة العربية](#)

[التربية الاسلامية](#)

المزيد من الملفات بحسب الصف التاسع والمادة اجتماعيات في الفصل الأول

مواصفات الورقة الامتحانية	1
اختبار قصير ثاني	2
أنشطة فردية في الوحدة الثانية	3
أسئلة موضوعية على الوحدة الثانية التواجد العماني في شرق إفريقيا	4
اختبار قصير ثاني نموذج ثاني	5

أجب عن جميع الأسئلة الآتية

١٢ درجة

السؤال الأول: ضع دائرة حول رمز الإجابة الصحيحة لكل مفردة من المفردات الآتية:

١. بلغت الهجرة الخارجية لإحدى الدول ١٧٥٠ نسمة والهجرة الداخلية لنفس الدولة ٤٥٠ نسمة .
فإن صافي الهجرة لهذه الدولة يساوي بالنسبة :
أ. ١٣٠٠ ب. ١٥٠٠ ج. ٢٢٠٠ د. ٢٤٠٠

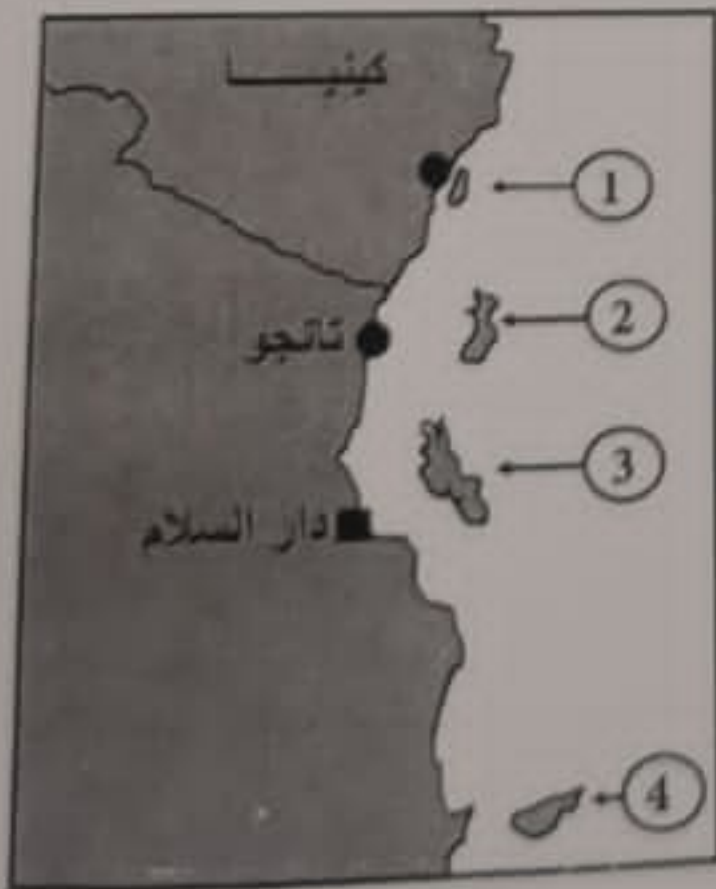
٢. المجال الذي تشير إليه الصورة المقابلة والذي حققت فيه زنجبار انجازات كبيرة في عهد السلطان برغش بن سعيد :



- أ. الاقتصادي
ب. الاجتماعي
ج. السياسي
د. الثقافي

٣. بلغت النسبة المئوية للضريبة المفروضة على الواردات التي تأتي إلى الموانئ الأفريقية في عهد السيد سعيد بن سلطان حوالي :

- أ. ٥ ب. ١٠ ج. ١٥ د. ٢٠



٤. الرقم الذي يشير إلى الجزيرة التي عرفت باسم (الجزيرة الخضراء) في الخريطة المقابلة :

- أ. ١
ب. ٢
ج. ٣
د. ٤

تابع السؤال الأول:

٥- الجدول الذي يمثل (س) و (ص) في المخطط التالي :



التسجيل الحيوي	س
التعداد السكاني	ص

ب .

التسجيل الحيوي	س
المسوحات بالعينة	ص

أ .

التعداد السكاني	س
التسجيل الحيوي	ص

د .

التعداد السكاني	س
المسوحات بالعينة	ص

ج .

٦- يوجد مقر مجمع الفقه الإسلامي في مدينة :

- أ. جدة ب. الرياض ج. مكة المكرمة د. الرباط

٧- جميع الأشكال التالية تعبر عن حقوق الطفل حسب بنود اتفاقية حقوق الطفل ما عدا :



٨- المستشار الذي عينه السيد سعيد بن سلطان رئيساً للوزراء عند وصوله لزنجبار :

- أ. محي الدين القحطاني الوائلي ب. حميد بن محمد المرجبي
ج. سليمان بن حمد البوسعيدي د. أحمد بن النعمان الكعبي

تابع السؤال الأول:

٩- العام الميلادي الذي انضمت فيه السلطنة لمشروع شبكة المدارس المنتسبة لليونسكو (ASP net) :

د. ١٩٩٨

ج. ١٩٩٧

ب. ١٩٩٦

أ. ١٩٩٥

١٠- المصطلح الذي يشير إلى زيادة أعداد السكان من سنة إلى أخرى نتيجة زيادة أعداد المواليد وانخفاض

عدد الوفيات والهجرة :

أ. الكثافة السكانية ب. النمو السكاني ج. الزيادة الطبيعية د. التعداد السكاني



١١- تشير الصورة المقابلة إلى جائزة منحت

للسلطان قابوس (طيب الله ثراه) في عام

١٩٩٨ م وهي :

أ. قمة الأرض

ب. السلام الدولية

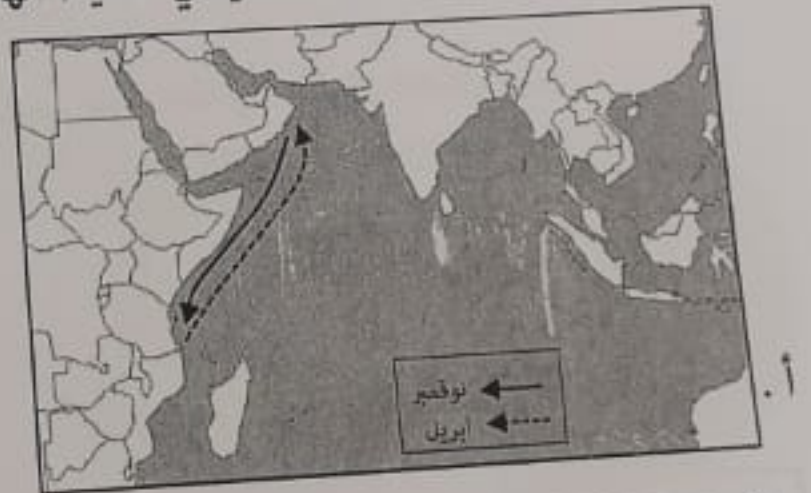
ج. البيئة العالمية

د. نوبل

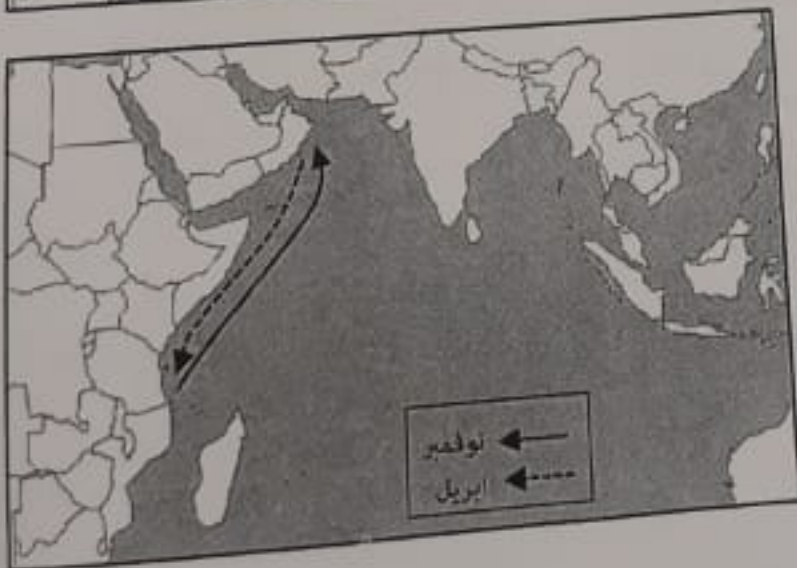
١٢- الخريطة التي تمثل رحلات العمانيين في المحيط الهندي خلال السنة :



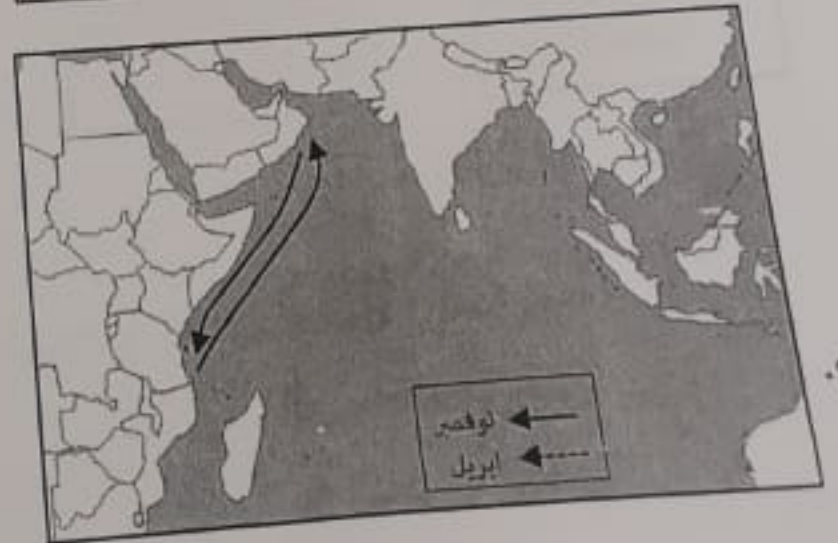
ب.



أ.



د.



ج.

٨ درجات

١- اكتب المصطلح أمام العبارة التي تعبر عنه في الجدول التالي :

الرمز	العبارة	المصطلح
أ	حركة الأفراد من مكان لآخر سواء مؤقتاً أو بشكل دائم أو قسرية .	
ب	الدول التي ترتبط فيما بينها بالموقع والقرب المكاني والامتداد الجغرافي وتتقاسم الموقع الفلكي والحدود السياسية .	
ج	مجموعة الدول التي يشكل المسلمون فيها أكثر من ٥٠% من جملة عدد السكان .	

٢- اذكر اثنين لكل مما يلي :

أ. فوائد المسح بالعينة .

-
-

ب. وثائق التسجيل الحيوي التي يستفاد منها كمصادر للبيانات السكانية .

-
-

٣- صنف المنجزات الحضارية للعمانيين في شرقي أفريقيا في الجدول التالي وفقاً للمجال الذي تنتمي إليه :

الأسطول البحري	المجالس السلطانية	إدخال محصول القرنفل إلى زنجبار

م	المجال	المنجزات
أ	السياسي	
ب	اقتصادي	
ج	عسكري	

السؤال الثالث :

٨ درجات

١- في ضوء الفقرة التالية أجب عما يليها من أسئلة :

(للسلطنة علاقات سياسية وثقافية واقتصادية مع العالم الإسلامي ، وقد قامت هذه السياسة منذ أن تولى السلطان قابوس - طيب الله ثراه - الحكم في البلاد على أساس العمل من أجل دعم العلاقات مع الدول الشقيقة والصديقة ومن أوجه هذه العلاقات الطيبة انضمامها إلى منظمة التعاون الإسلامي) .

أ. عدد اثنين من الأسس التي قامت عليها سياسة السلطنة في علاقاتها مع الدول الأخرى .

-
-

ب. برهن بدليل واحد على ارتباط السلطنة سياسياً بعلاقات طيبة مع دول العالم الإسلامي .

.....

ج - في أي عام انضمت السلطنة للمنظمة المذكورة في الفقرة ؟

د - حدد على الخريطة المقابلة الدولة الإسلامية التي يقع فيها مقر المنظمة الواردة في الفقرة.

(بوضع رمز ★ في موقعها الصحيح) .



(٦)

دراسات الاجتماعية الصف : التاسع الدور الأول - الفصل الدراسي الأول - العام الدراسي ٢٠٢٣/٢٠٢٤ - الفترة الصباحية

السؤال الثالث :

هـ . استنتج من الصورة التالية أحد مجالات العلاقات الطبية بين سلطنة عمان ودول العالم الإسلامي .



.....

٢- صف الأعمال التالية حسب اختصاص كل منظمة بكتابة الرمز مقابل كل منظمة :

A تراقب تفشي الأمراض والأوبئة مثل الجدري والطاعون .

B نشر معلومات التغذية الصحية ووسائل حفظ المنتجات الغذائية .

C بناء مجتمعات تعلم مشتركة في مجال التعليم والثقافة .

D تخفيض نسبة وفيات الأمهات والأطفال دون الخامسة .



منظمة الصحة العالمية



منظمة الأمم المتحدة للتربية
والعلم والثقافة (اليونسكو)



صندوق الأمم المتحدة
لرعاية الطفولة (اليونيسيف)

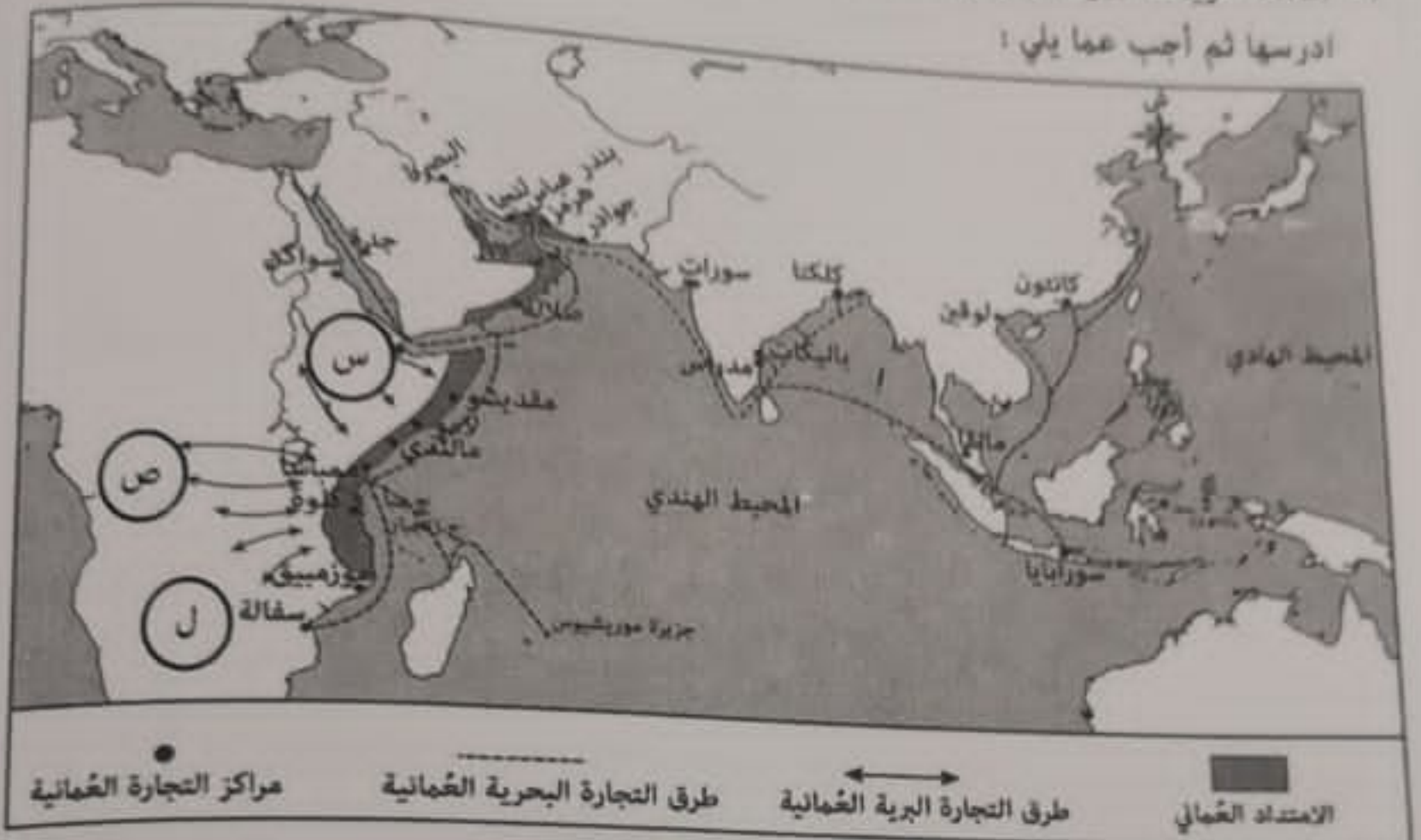


منظمة الأغذية والزراعة

السؤال الرابع :

٦ درجات

١- أمامك خريطة الطرق والمراكز التجارية العمانية في عهد السيد سعيد بن سلطان ادرسها ثم أجب عما يلي :



- أ. ضع دائرة حول الجزيرة التي استورد منها السيد سعيد بن سلطان القرنفل وأدخله إلى زنجبار .
- ب. استخراج أحد أهم مراكز إنتاج الأخشاب في شرقي أفريقيا .
- ج. فسر : كان الطريق التجاري المشار له بالرمز (س) محفوظا بالمخاطر .

٢- أعط مثالين على العملات الأجنبية التي كانت تتداول في زنجبار قبل استحداث السيد سعيد بن سلطان نظاما نقديا جديدا .

٣- اذكر أحد أجناس المجتمع في زنجبار في عهد السيد سعيد بن سلطان .

السؤال الخامس :

١- أكمل المخطط التالي :

درجات



٢- بلغ عدد سكان أحد المجتمعات (٣٥٠٠٠ نسمة) بحسب آخر تعداد سكاني ، وكان عدد المواليد الأحياء في ذلك المجتمع من نفس العام (٣٥٠ مولود) ، وعدد الوفيات لنفس الفترة (١٧٥ شخص) . في ضوء ذلك أجب عن الأسئلة التالية :

أ. احسب معدل المواليد .

.....

.....

.....

ب. احسب معدل الوفيات .

.....

.....

.....

ج. الزيادة الطبيعية .

.....

.....

.....

د. برأيك ما أسباب ارتفاع معدل الوفيات في هذا المجتمع .

.....

انتهت الأسئلة مع الدعاء للجميع بالتوفيق والنجاح.