

شكراً لتحميلك هذا الملف من موقع المناهج العمانية



حل أسئلة الوحدة الأولى البيانات السكانية ومصادرها

موقع المناهج ← المناهج العمانية ← الصف التاسع ← اجتماعيات ← الفصل الأول ← الملف

تاريخ نشر الملف على موقع المناهج: 2023-11-15 06:51:06 | اسم المدرس: علي بن محمد الحسان

التواصل الاجتماعي بحسب الصف التاسع



روابط مواد الصف التاسع على تلغرام

[الرياضيات](#)

[اللغة الانجليزية](#)

[اللغة العربية](#)

[التربية الاسلامية](#)

المزيد من الملفات بحسب الصف التاسع والمادة اجتماعيات في الفصل الأول

اختبار قصير ثاني	1
اختبار قصير أول نموذج ثاني	2
ملخص شرح درس العمانيون في شرقي أفريقيا	3
مذكرة دراستي في كراستي	4
سلسلة من الملخصات والأنشطة والاختبارات	5

درس (البيانات السكانية ومصادرها)**السؤال الأول : ضع علامة (✓) أو (X) أمام العبارة الصحيحة مع تصحيح ماتحته خط إذا كانت العبارة خطأ :**

- ١- (X) من فوائد المسح بالعينة سرعة التنفيذ وكثرة النفقات (قلة) (١٣)
 ٢- (✓) تشكل البيانات السكانية المرجع الأساسي في تعرف الاتجاهات السكانية حاضراً ومستقبلاً . (١١)
 ٣- (X) تعتبر المسوحات بالعينة أدق في البيانات من بالتعداد السكاني (١٣)
 ٤- (✓) من ضمن أهمية التعداد السكاني أنه يساعد الباحثين وطلبة العلم من معالجة البيانات ودراستها . (١١)

السؤال الثاني : أكمل مايلي بكلمات مناسبة من عندك :

- ١- تفيد معرفة العدد الفعلي للسكان حسب فئات الأعمار في التخطيط لبناء المدارس وإقامة المستشفيات وشبكة المواصلات . (١١)
 ٢- يتمثل النمو السكاني في المواليد والوفيات والهجرة (١٠)
 ٣- من المسوحات التي تقوم بها المؤسسات الحكومية والأهلية لمعرفة الخصائص السكانية مسح الخصوبة ومسح العمالة ومسح الباحثين عن العمل والتركيب النوعي . (١٣)
 ٤- يستفاد من سجل الأحوال المدنية في توفير الوثائق الرسمية مثل شهادة الميلاد شهادة الوفاة عقد الزواج وثيقة الطلاق (١٣)

السؤال الثالث : ضع دائرة حول الإجابة الصحيحة من بين البدائل المعطاه :

- ١- تعد جغرافية السكان أحد فروع علم (١٠)
 (الجغرافيا - التاريخ - الديموغرافيا)
 ٢- يعد أهم المصادر الرئيسية لدراسة الخصائص والتغيرات السكانية في أي مجتمع
 (المسوحات بالعينة - التسجيل الحيوي - التعداد السكاني)

السؤال الرابع : صل بخط بين العمود الأول ومايناسبه من العمود الثاني

المصطلح	وظيفته
التعداد السكاني	يتناول كل الأحداث الحيوية التي تطرأ على الإنسان منذ ولادته وحتى وفاته
المسوحات بالعينة	عملية جمع البيانات عن عينة ممثلة للمجتمع
التسجيل الحيوي	جمع البيانات والمعلومات بكل تفاصيلها المتعلقة بجميع مفردات مجتمع معين في وقت محدد

السؤال الخامس : أجب عن الأسئلة التالية :

- س ١ : عرف مفهوم جغرافية السكان مع ذكر أهميتها ؟ (١٠)
 ج ١ : جغرافية السكان أحد فروع علم الجغرافيا وهي تشكل القاعدة الأساسية لمعرفة بنية السكان وخصائصهم أهميتها - أنها تشكل العلم الذي يهتم بدراسة حجم السكان وخصائصهم من حيث (البنى العمرية والنوعية والإقتصادية والإجتماعية) التعرف على النمو السكاني والتمثل في المواليد والوفيات والهجرة .
 - يدرس كثافة السكان وعلاقتهم بالموارد .
 س ٢ : " تقسم المصادر السكانية حسب أغراضها إلى نوعين " ماهما ؟ وماهي المصادر التي تشملها ؟ (١١)
 ج ٢ : ١- المصادر الأساسية وتشمل أ - تعداد السكان والتسجيل الحيوي " سجل الأحوال المدنية " .
 ب - المسوحات بالعينة .
 ٢- المصادر الثانوية وتشمل أ- سجلات المدارس .
 ب- سجلات المؤسسات الحكومية والأهلية الأخرى .

س ٣ : ماذا يقصد بالتعداد السكاني ؟

ج ٣ : ١ التعداد بمعنى العد أو الإحصاء ويقصد به جمع البيانات والمعلومات بكل تفاصيلها المتعلقة بجميع مفردات مجتمع معين في وقت محدد " الإسناد الزمني " .

س ٤ : ما أهمية دراسة التعداد السكاني لأي مجتمع ؟ (١١)

ج ٤ : أنه يوفر مخزوناً كبيراً من البيانات والمعلومات عن السكان خلال فترة زمنية تساعد أصحاب القرار في مؤسسات الدولة على وضع الخطط التنموية المستقبلية اللازمة في ضوء المتغيرات السكانية حسب المناطق التي يتوزع السكان .

درس (بنية السكان)**السؤال الأول : ضع علامة (✓) أو (X) أمام العبارة الصحيحة مع تصحيح ماتمته خط إذا كانت العبارة خطأ :**

- ١- (X) تعتبر فئة كبار السن هي الفئة المنتجة في المجتمع (الشباب) (١٥)
 ٢- (X) يقصد بالسكان النشيطون هم الأفراد الذين يودون عملاً منتجاً مقابل أجر . (بدون أجر) (٢٠)
 ٣- (X) إنخفاض معدل أمد الحياة في سلطنة عمان عام ٢٠٠٣ عما كان عليه عام ١٩٧٠ (إرتفع) (٢١)
 ٤- (✓) تقاس بنية النوع من خلال نسبة عدد الذكور إلى عدد الإناث في المجتمع . (١٦)

السؤال الثاني : أكمل مايلي بكلمات مناسبة من عندك :

- ١- تتأثر بنية السكان بمتغيرات عدة منها المواليد والوفيات والهجرة . (١٥)
 ٢- تؤثر بنية السكان بشكل واضح على نوعية الخدمات الأساسية مثل التعليم والصحة والنقل والمواصلات والماء والكهرباء (١٣)

السؤال الثالث : ضع دائرة حول الإجابة الصحيحة من بين البدائل المعطاه :

- ١- يقصد به نسبة الأفراد العاملين إلى الأفراد غير العاملين (١٥)
 (أمد الحياه - الإعالة - بنية السكان)
 ١- نسبة النوع في أي مجتمع تقريباً ما بين (١٦)
 (١٠٠-١٠٣ - ١٠٠-١٠٤ - ١٠٠-١٠٥)

السؤال الرابع : علل " أذكر السبب " :

- س ١ : زيادة عدد الإناث في بعض المجتمعات (١٦)
 ج١ : نتيجة للحروب التي غالباً ما يكون ضحيتها الذكور
 س ٢ : أمد الحياة في الدول المتقدمة أكثر من الدول النامية (٢١)
 ج٢ : نتيجة تقدم الدول المتقدمة في مكافحة الأوبئة والأمراض ووجود الوعي الصحي بين الناس .

السؤال الخامس : صل بخط بين العمود الأول ومايناسبه من العمود الثاني

المصطلح	وظيفته
بنية السكان	الحالة الإجتماعية للسكان من حيث الحالة الزوجية والتعليمية واللغوية
البنية الإقتصادية	تركيب السكان حسب ممارساتهم للأشطة الإقتصادية المختلفة
البنية الإجتماعية	دراسة السكان من حيث التركيب العمري والنوعي والإقتصادي والإجتماعي

السؤال السادس : أجب عن الأسئلة التالية :

- س ١ : ما المقصود بالبنية العمرية والبنية النوعية ؟ (١٥)
 ج ١ : البنية العمرية : يقصد بها توزيع " تصنيف " السكان حسب العمر
 البنية النوعية : يقصد بها تركيب السكان من حيث النوع " ذكور وإناث "

س ٢ : ما أهمية دراسة البنى السكانية ؟ (١٥)
 ج ٢ : لمعرفة التباين الإقليمي بين الدول والتباين بين الأقاليم في الدولة الواحدة بين الحضر والريف وبين المجتمعات والجماعات العرقية .

س ٣ : ما هي فئات المجتمع التي تشتمل عليها الإعاقة ؟ (١٥)
 ج ٣ : فئة صغار السن وكبار السن

س ٤ : تحدث عن الفئات العمرية لأي مجتمع كان ؟ (١٥)
 ج ٤ : - فئة الأطفال وهم أقل من ١٥ سنة وهي فئة معالة غير منتجة .
 - فئة الشباب وتقع بين ١٥-٦٤ سنة وفي الفئة المنتجة في المجتمع .
 - فئة كبار السن من ٦٥ سنة فأكثر وهي فئة معالة تعتمد في الغالب على الأبناء المنتجين .

س ٥ : " تتأثر نسبة النوع في المجتمعات بعدة عوامل " أذكر إثنان من هذه العوامل ؟ (١٦)
 ج ٥ : - إختلاف نوعية المهاجرين " غالبية المهاجرين تكون من الذكور " .
 - عدم الدقة في تسجيل الإناث " إغفال التبليغ عن بعض ولادات الإناث أو التبليغ الخاطي لنوع المولود " .
 - إختلاف معدات الوفيات بين الذكور والإناث " فالحروب تزيد من عدد وفيات الذكور " .

س ٦ : ماذا يقصد بأمد الحياة ؟ (٢١)
 ج ٦ : هي عدد السنوات المتوقع أن يعيشها الإنسان .

درس (الهرم السكاني)**السؤال الأول : ضع علامة (✓) أو (✗) أمام العبارة الصحيحة مع تصحيح ماتحته خط إذا كانت العبارة خطأ :**

- ١- (✓) يختلف شكل الهرم السكاني من دولة إلى أخرى نتيجة للمتغيرات التي تحدث له . (٢٣)
- ٢- (✓) كلما كانت قاعدة الهرم السكاني عريضة دل ذلك على فتوة المجتمع . (٢٣)
- ٣- (✗) تعد سلطنة عمان نموذجاً متأخراً من حيث ارتفاع معدلات المواليد وإنخفاض الوفيات . متقدماً (٢٥)

السؤال الثاني : أكمل مايلي بكلمات مناسبة من عندك :

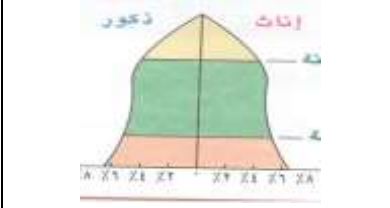
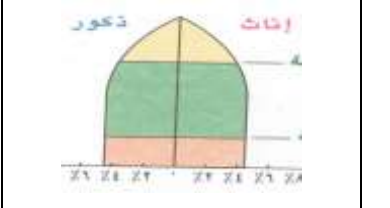
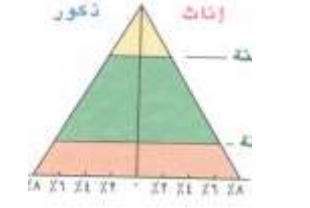
- يتأثر شكل الهرم السكاني بعدة متغيرات منها المواليد والوفيات والهجرة الداخلية والخارجية . (٢٣)
- ٢- من أبرز الدول التي تمثل المرحلة الثالثة للإنتقال السكاني الصين والبرازيل ومصر وتونس . (٢٥)

السؤال الثالث : ضع دائرة حول الإجابة الصحيحة من بين الخيارات التالية :

- ١- يتكون الهرم السكاني من أفقية مدرجة تمثل الفئات العمرية وتتناسب مع نسبة كل فئة . (٢٣)
- (مربعات - مستطيلات - مثلثات)
- ٢- نتيجة لمتغيرات الهرم السكاني ينتج عنه أشكال رئيسية (٢٣)
- (٣ - ٤ - ٥)
- ٣- يتعرض أي مجتمع من المجتمعات لعدة تغيرات تطراً على حالة السكان ويمر هذا التغيرب..... (٢٤)
- (٤ - ٥ - ٦) مراحل

السؤال الرابع : اختر إسم الهرم السكاني من بين القوسين وضعه تحت الشكل المناسب له

(الهرم ذو القاعدة الضيقة - الهرم ذو القاعدة العريضة - الهرم ذو القاعدة المتوسطة)

		
الهرم ذو القاعدة المتوسطة	الهرم ذو القاعدة الضيقة	الهرم ذو القاعدة العريضة

السؤال الخامس : صل بخط المرحلة السكانية في العمود الأول ومايتميز به من العمود الثاني (٢٥-٢٦)

المرحلة	مميزتها
المرحلة الأولى	تتميز بارتفاع في معدلات المواليد يرافقها إنخفاض في معدلات الوفيات
المرحلة الثانية	تتميز بارتفاع معدلات المواليد يرافقها ارتفاع في معدلات الوفيات
المرحلة الثالثة	تتميز بإنخفاض في معدلات المواليد والوفيات
المرحلة الرابعة	تتميز بإنخفاض سريع في معدلات المواليد يرافقها إنخفاض في معدلات الوفيات

السؤال السادس : أجب عن الأسئلة التالية :

س ١ : عرف الهرم السكاني ؟ (٢٣)

ج ١ : عبارة عن رسم بياني يبين توزيع السكان حسب فئاتهم العمرية والنوعية .

س ٢ : " يمكن بناء الهرم السكاني وفق عدة خطوات " أذكر هذه الخطوات ؟ (٢٦)

- ج ٢ : ١- رصد سكان مجتمع الدراسة وتصنيفهم حسب الفئات العمرية والنوعية .
- ٢- حساب نسبة ماتمثلة كل فئة عمرية من مجموع السكان لكل من الذكور والإناث .
- ٣- رسم خط أفقي يمثل النسب وآخر عمودي يمثل الفئات العمرية ثم رسم خط عمودي ينصف الخط الأفقي (المحور الأوسط)
- ٤- رسم الأعمدة البيانية الخاصة بفئات الذكور على يسار المحور الأوسط ثم فئات الإناث على يمينه .

درس (النمو السكاني والكثافة السكانية)**السؤال الأول : ضع علامة (✓) أو (X) أمام العبارة الصحيحة مع تصحيح ماتحته خط إذا كانت العبارة خطأ :**

- ١- (X) يتميز عصرنا الراهن بالنمو السكاني المنخفض . المرتفع (٢٧)
- ٢- (✓) تتميز الدول النامية بتكاثر سكانها بمعدل كبير يزيد عن معدل التنمية الاقتصادية بها . (٢٧)
- ٣- (X) تزيد نسبة الوفيات في فئة الإناث أكثر من الذكور . الذكور (٢٩)

السؤال الثاني : أكمل مايلي بكلمات مناسبة من عندك :

- ١- قسمة عدد سكان الدولة أو الإقليم أو المنطقة على المساحة الكلية يعرف هذا النوع باسم الكثافة الحسابية (العامة) . (٣٢)
- ٢- قسمة عدد السكان على مساحة المنطقة التي يعيشون عليها ويستثمرونها يعرف هذا النوع باسم الكثافة الوظيفية (الفيزيولوجية) . (٣٢)

السؤال الثالث : ضع التعريف من بين القوسين أمام التعريف المناسب له في العمود الثاني**(سنة الأساس - صافي الهجرة - النمو السكاني - الهجرة - الكثافة السكانية)**

المرحلة	مميزتها
النمو السكاني	زيادة اعداد السكان من سنة لأخرى نتيجة زيادة عدد المواليد وإنخفاض عدد الوفيات والهجرة
الكثافة السكانية	العلاقة بين عدد السكان والمساحة الأرضية التي يعيشون عليها
سنة الأساس	هي السنة التي جرى فيها تعداد سابق للتعداد الأخير
الهجرة	حركة الأفراد من مكان إلى آخر سواء كانت الهجرة مؤقتة أم دائمة أم قسرية
صافي الهجرة	الفرق بين الهجرة الخارجية والهجرة الداخلية للدولة

السؤال الرابع : أجب عن الأسئلة التالية :

س ١ : أذكر ثلاث من العوامل التي تحدث الوفيات ؟ (٢٩)

ج ١ : إنتشار الأمراض - الحروب - الكوارث - الحوادث .

س ٢ : كيف تحسب الزيادة الطبيعية ؟ (٢٨)

ج ٢ : الزيادة الطبيعية = عدد المواليد - عدد الوفيات .

س ٣ : كيف يحسب معدل النمو السكاني ؟ (٢٨)

الزيادة الطبيعية + صافي الهجرة

ج ٣ : معدل النمو السكاني $\frac{\text{الزيادة الطبيعية} + \text{صافي الهجرة}}{\text{متوسط عدد السكان}} \times 100$.

س ٤ : كيف يحسب معدل المواليد الخام ؟ (٢٨)

عدد المواليد الأحياء في سنة معينة

ج ٤ : معدل المواليد الخام $\frac{\text{عدد المواليد الأحياء في سنة معينة}}{\text{عدد السكان}} \times 1000$.

س ٥ : كيف يحسب معدل الوفيات ؟ (٢٩)

عدد الوفيات في سنة معينة

ج ٥ : معدل الوفيات $\frac{\text{عدد الوفيات في سنة معينة}}{\text{عدد السكان}} \times 1000$.