

تم تحميل هذا الملف من موقع المناهج العمانية



الملف مذكرة إثرائية وأسئلة اختبارية في الوحدة السادسة (تاريخ آسيا الحديث والمعاصر)

[موقع المناهج](#) ← [المناهج العمانية](#) ← [الصف التاسع](#) ← [اجتماعيات](#) ← [الفصل الثاني](#)

روابط مواقع التواصل الاجتماعي بحسب الصف التاسع



روابط مواد الصف التاسع على تلغرام

[الرياضيات](#)

[اللغة الانجليزية](#)

[اللغة العربية](#)

[التربية الاسلامية](#)

المزيد من الملفات بحسب الصف التاسع والمادة اجتماعيات في الفصل الثاني

[امتحان وإجابة الأسئلة الرسمية للفصل الدراسي الثاني الدور الأول 20162017](#)

1

[كتاب الطالب](#)

2

[ملخص من أهلك مع اختبارات قصيرة](#)

3

[مذكرة بنك الأسئلة \(سؤال وجواب\)](#)

4

[خطة المحتوى التدريسي \(تحديث فبراير\) لمدارس التعليم المباشر](#)

5

الصف التاسع

الدراسات الاجتماعية

2021-2022

الفصل الدراسي الثاني

الوحدة السادسة

( أسئلة )

( تاريخ آسيا الحديث والمعاصر )

محتوى الوحدة السادسة

٢- جمهورية الصين الشعبية

١- الجمهورية الإسلامية الإيرانية

٣- اليابان


للتواصل :

99493923

اعداد :

علي بن محمد الحسان

Ali 47536@moe.om



## درس ( الجمهورية الإسلامية الإيرانية )

**السؤال الأول : ضع علامة ( ✓ ) أو ( X ) أمام العبارة المناسبة مع تصحيح ما تحته خط إذا كانت العبارة خطأ :**

- ١- ( ) تحتل إيران اليوم المركز الثالث من حيث إنتاج البترول في منظمة الأوبك .  
 ٢- ( ) تقع إيران إلى الشرق من العراق وتطل على الخليج العربي .  
 ٣- ( ) كان للفرس علاقات تجارية مع الدول المجاورة حيث استوردوا الحرير من الهند .

**السؤال الثاني : أكمل ما يلي بكلمات مناسبة من عندك :**

- ١- إيران بلاد قديمة في تمدنها وتاريخها عرفت عبر التاريخ ببلاد الفرس أو ..... وسماها العرب ببلاد .....  
 ٢- تقع إيران إلى الشرق من العراق وتطل على الخليج ..... ويفصل مضيق ..... بينها وبين سلطنة عمان .  
 ٣- كان نظام الحكم في إيران قديماً ملكياً ..... وكان الملك هو الزعيم السياسي و .....

**السؤال الثالث : اختر الكلمة المناسبة من بين القوسين وضعها في مكانها الصحيح في الفراغ :**

( الصين - المصريين - الفينيقيين - الرافدين - اليونانيون - الهند )

- أخذ ملوك الفرس الكتابة من بلاد ..... واقتبسوا فن العمارة عن ..... وأخذوا النقود عن .....  
 وتعلموا بناء السفن من ..... ، كما استوردوا الحرير من ..... والبحارات والتوابل من .....

**السؤال الرابع : ظلل الإجابة الصحيحة من بين البدائل المعطاه**

١- يعود ظهور إيران كقوة سياسية حوالي ٥٤٩ ق.م عندما استطاع ..... من توحيد القبائل الفارسية .

- قورش ○ كورش ○ قوعش  
 ٢- تعرضت إيران في القرن الرابع قبل الميلاد لغزو ...  
 ○ الاسكندر المقدوني ○ الاسكندر الأكبر ○ الاسكندر الثاني

٣- الذي كان يسن القوانين ويجبون الضرائب في نظام الحكم الفارسي القديم هم ...  
 ○ الأشراف ○ الساسانيين ○ المزارعون

٤- أعلن قيام الجمهورية الإسلامية الإيرانية في ١١ فبراير عام .....  
 ○ ١٩٧٧ ○ ١٩٧٨ ○ ١٩٧٩

**السؤال الخامس : علل " أذكر السبب "**

١- أقيمت مظاهرات عام ١٩٧٨ ضد الشاه محمد رضا بهلوي مما أطيح بنظامه .

٢- لم يسمح الساسانيين للناس العاديين بالتمثول بين يدي لملك .



**السؤال السادس : اكمل الشكل بكتابة أربعة من الصناعات التي ازدهرت في بلاد فارس**


**السؤال السابع: أجب عن الأسئلة التالية :**

س ١ : " كانت الأراضي في بلاد فارس مقسمة إلى إقطاعات كبيرة " من كان يمتلك هذه الإقطاعات ؟

ج ١ :

س ٢ : " اهتم الفرس بالزراعة " ماهي الاعمال التي قاموا بها لتنشيط هذا المجال ؟

ج ٢ :

س ٣ : كيف كان نظام الحكم قديما في بلاد فارس ؟ وماهي سلطات الملك في الحكم ؟

ج ٣ :

س ٤ : ما دور الساسانيون في نظام الحكم القديم في بلاد فارس ؟

ج ٤ :

س ٥ : ماذا تعرف عن مجلس الأشراف في نظام الحكم الفارسي ؟ ومداور الملك إتجاهه " ؟

ج ٥ :

س ٦ : ماهي الأعمال التي كان يقوم بها الأشراف في إقطاعاتهم " ؟

ج ٦ :

س ٧ : " نتيجة للعلاقات الجيدة بين السلطنة وايران فقد قامت بينهما عدة اتفاقيات " أذكر أهم هذه الاتفاقيات ؟

- ج ٧ : ١- .....  
 ٢- .....  
 ٣- .....

س ٨ : تحدث عن أهم الأحداث التي مرت بها إيران عبر التاريخ ؟ يكتفى بكتابة أربعة احدث

- ج ٨ : - .....  
 - .....  
 - .....  
 - .....

almanahj.com/om



## درس ( جمهورية الصين الشعبية )

## السؤال الأول : ضع علامة ( ✓ ) أو ( X ) أمام العبارة المناسبة مع تصحيح ما تحته خط إذا كانت العبارة خطأ :

- ١- ( ) كان الصينيون القدماء يتعاونون فيما بينهم للحد من الفيضانات وآثارها على حياتهم .
- ٢- ( ) الصين بلاد واسعة تقع في شرقي أوروبا .
- ٣- ( ) تخترق الصين ثلاثة أنهار عظيمة .
- ٤- ( ) تركز معظم سكان الصين في وديان الأنهار الكبرى .
- ٥- ( ) كان سور الصين العظيم في بداية بناءه عبارة عن سور كامل متصل ببعض .
- ٦- ( ) تمتلك الصين جدودا طويلة مع ١٦ دولة .

## السؤال الثاني : أكمل ما يلي بكلمات مناسبة من عندك :

- ١- وصل الإسلام إلى الصين عن طريق التجار و..... وكان معظمهم من .....
- ٢- قامت السلطنة بإصدار طابع بريدي في ذكرى زيارة السفينة صحار لمدينة قوانتشو عام .....
- ٣- تتابعت على حكم الإمبراطورية الصينية عدل..... عائلات إمبراطورية مشهورة .
- ٤- بعد الحرب العالمية الثانية ١٩٤٥ دخلت الصين في صراع سياسي بين حزبين هما الحزب ..... والحزب .....
- ٥- اشتهر الصينيون بزخرفة الاطباق والمزهريات برسوم واشكال جميلة تعرف باسم ..... حتى الان .

## السؤال الثالث : ظلل الإجابة الصحيحة من بين الخيارات التالية :

- ١- من الأنهار الكبرى التي تمر بالصين نهر هوانج هو ومعناه .....  
 النهر الأبيض       النهر الأصفر       النهر الأسود
- ٢- اعتمد الصينيون القدماء في حياتهم على ....  
 الزراعة       الرعي       التجارة
- ٣- يعتبر ..... من أشهر حكماء الصين في الفترة من ٥٥١-٤٧٩ ق.م.  
 بطليموس       كونفوشيوس       شيه هوانج
- ٤- اشترك في بناء سور الصين العظيم أكثر من .... ألف شخص  
 ٣٠٠       ٤٠٠       ٥٠٠
- ٥- كان للتجار العرب جالية كبيرة في الصين في القرن ٨ م وكان مقرها مدينة .....  
 بكين       شانج هو       كانتون
- ٦- أعلن قيام جمهورية الصين الشعبية في أكتوبر عام .....  
 ١٩٤٨       ١٩٤٩       ١٩٥٠
- ٧- استمر حكم المغول للصين حتى تمكنت سلالة ... من اخراجهم .  
 مينغ       كينغ       فينغ

**السؤال الرابع : علل " أذكر السبب "**

س ١ : اعتماد الصينيون القدماء في حياتهم على الزراعة على أطراف النهر الأصفر .

ج ١ : .....


س ٢ : كانت الأراضي الزراعية تتضرر كثيرا عند الصينيين القدماء وتهدم مدنهم وقراهم .

ج ٢ : .....


**السؤال الخامس : أذكر نتيجة واحدة ترتبت على الأحداث الآتية :**

الحدث	النتيجة / السبب
أخترع الصينيون الورق	
صنع الصينيون العربات ذات العجلات	
ازدهار صناعة الأطباق والمزهريات والتحف الجميلة	
وفرة التربة الغنية التي ترسبها الأنهار	
دخل المغول المسلمون الصين في القرن ١٤ م	

**السؤال السادس : أكتب تحت الصورة ما تدل عليه**









**السؤال السابع : أجب عن الأسئلة التالية :**

س ١ : " تطورت الحضارة الصينية من الناحية التقنية والثقافية " وضح ذلك ؟

ج ١ :

.....

.....

.....

.....

س ٢ : " حقق الصينيون إنجازات حضارية كان لها الأثر الكبير في الحضارة الإنسانية " اذكر أربع من هذه الإنجازات ؟

ج ٢ :

-

-

-

-

س ٣ : " تطورت الصين في السنوات الأخيرة من القرن العشرين ولا زالت تتقدم في المجالات المختلفة " وضح ذلك .

ج ٣ :

.....

.....

.....

.....

س ٤ : أذكر ثلاث من مظاهر التعاون بين سلطنة عمان والصين ؟ .

ج ٤ :

-

-

-

-



## درس ( اليابان )

**السؤال الأول : ضع علامة ( ✓ ) أو ( X ) أمام العبارة المناسبة مع تصحيح ما تحته خط إذا كانت العبارة خطأ :**

- ١- ( ) في مطلع القرن الثامن الميلادي اختار الامبراطور الياباني عاصمته الجديدة بـ كيين .
- ٢- ( ) المناطق الوسطى والجنوبية لليابان تتعرض للأعاصير في نهاية فصل الصيف .
- ٣- ( ) في عام ١٨٦٧ تسلم العرش الامبراطور هينو حيث بدأت اليابان عصر جديد عرف بعصر الحكومة المستتيرة .
- ٤- ( ) في عام ١٩٤٧ وضع دستور جديد لليابان فقد فيه الامبراطور كل السلطات العسكرية والسياسية .
- ٥- ( ) استطاعت اليابان من الصمود امام غزوات المغول بفضل مقاتلي الكاوباي .

**السؤال الثاني : أكمل ما يلي بكلمات مناسبة من عندك :**

- ١- المناطق الوسطى والجنوبية تتعرض ..... في فصل الصيف أما الأجزاء الشمالية فتتعرض ..... الثلجية في الشتاء
- ٢- استطاعت اليابان أن تحقق تقدم اقتصادي حيث أصبحت القوة الاقتصادية ..... في العالم بعد الولايات المتحدة الأمريكية .
- ٣- بدأت اليابان بعد سنوات الحرب من إعادة البناء والتحديث حيث عرفت ..... اليابانية .
- ٤- نتيجة للحروب المتواصلة بين الأسر اليابانية توزعت السلطة بين الإمبراطور و ..... رئيس أقوى القبائل .
- ٥- في عام ١٩٤٢ تعرضت الأراضي اليابانية إلى الدمار والقنابل النووية على مدينتي هيروشيما و .....

**السؤال الثالث : ظلل الإجابة الصحيحة من بين الخيارات التالية :**

- ١- اليابان عبارة عن أرخبيل من الجزر وتتكون من ..... جزر كبيرة
 

<input type="radio"/> ٤	<input type="radio"/> ٦	<input type="radio"/> ٨
-------------------------	-------------------------	-------------------------
- ٢- تتعرض اليابان لظروف طبيعية قاسية فسهولها الزراعية ضيقة وتشكل ..... من المساحة الكلية للبلاد .
 

<input type="radio"/> ١٤ %	<input type="radio"/> ١٦ %	<input type="radio"/> ١٨ %
----------------------------	----------------------------	----------------------------
- ٣- الامبراطور الذي قرر أن تسلك بلاده طريق الثورة الصناعية هو ....
 

<input type="radio"/> كينو	<input type="radio"/> مينو	<input type="radio"/> هينو
----------------------------	----------------------------	----------------------------
- ٤- استطاعت اليابان من استرداد سيادتها الكاملة على أراضيها عام .....
 

<input type="radio"/> ١٩٦٢	<input type="radio"/> ١٩٧٢	<input type="radio"/> ١٩٨٢
----------------------------	----------------------------	----------------------------

**السؤال الرابع : علل " أذكر السبب "**

س ١: يختلف المناخ في اليابان من منطقة إلى أخرى .

ج ١: .....

س ٢: اضطرت اليابان للاستسلام للحلفاء في ٢ سبتمبر ١٩٤٥ م .

ج ٢: .....

**السؤال الخامس : أجب عن الأسئلة التالية :**

س ١ : " نظمت اليابان شؤونها وفقاً للنموذج الصيني " وضع ذلك ؟

ج ١ :

.....  
 .....  
 .....

س ٢ : "عندما تسلّم الحكم الامبراطور الياباني هينو ١٨٦٧ بدأت اليابان بعصر جديد عرف بعصر الحكومة المستنيرة "

ماهي الاعمال التي قام بها ؟

ج ٢ :

.....  
 .....  
 .....

س ٣ : ماهي التأثيرات التي تعرضت لها اليابان بعد الحرب وتدمير معظم أراضيها وخاصة مدينتي هيروشيما وناجازاكي ؟

ج ٣ :

.....  
 .....  
 .....

almanahj.com/om