

تم تحميل هذا الملف من موقع المناهج العُمانية



*للحصول على أوراق عمل لجميع الصفوف وجميع المواد اضغط هنا

<https://almanahj.com/om>

* للحصول على أوراق عمل لجميع مواد الصف التاسع اضغط هنا

<https://almanahj.com/om/9>

* للحصول على جميع أوراق الصف التاسع في مادة اجتماعيات ولجميع الفصول, اضغط هنا

<https://almanahj.com/om/9social>

* للحصول على أوراق عمل لجميع مواد الصف التاسع في مادة اجتماعيات الخاصة بـ الفصل الثاني اضغط هنا

<https://almanahj.com/om/9social2>

* لتحميل كتب جميع المواد في جميع الفصول للـ الصف التاسع اضغط هنا

<https://almanahj.com/om/grade9>

للتحدث إلى بوت على تلغرام: اضغط هنا

https://t.me/omcourse_bot

بنك أسئلة للصف التاسع
الفصل الدراسي الثاني
مادة الدراسات الاجتماعية
الجزء الثاني
الأسئلة الموضوعية

م	نوع السؤال	نص السؤال	نموذج الإجابة	الوحدة - الدرس - الصفحة	ملاحظات
1	معرفة	ظهر الانفجار السكاني في العالم في الثلث الأخير من القرن: أ) 18 (ب) 19 (ج) 20 (د) 21	ج (20)	8 - 1 - 5	
2	معرفة	القارة الأولى في معدل الزيادة الطبيعية هي: أ) آسيا (ب) أفريقيا (ج) أمريكا الجنوبية (د) أمريكا الشمالية	ب) أفريقيا	11-1-5	
3	معرفة	القارة الأقل في معدل المواليد بالآلاف هي : أ) آسيا (ب) أفريقيا (ج) أوروبا (د) أمريكا الشمالية	ج) أوروبا	11-1-5	
4	معرفة	حاجة الفرد من السرعات الحرارية حسب دراسات منظمة الأغذية والزراعة (الفاو-FAO) هي : أ) 400 (ب) 1990 (ج) 2500 (د) 3300	ج) 2500	13-1-5	
5	معرفة	 الصورة أعلاه تعبر عن إحدى المشكلات الناتجة عن الانفجار السكاني وهي: أ) قلة فرص العمل (ب) نقص الخدمات (ج) الضغط على مصادر الطاقة (د) نقص الغذاء	د) نقص الغذاء	13-1-5	
6	معرفة	يبلغ متوسط الذين يموتون جوعاً يومياً على المستوى العالمي بالآلاف نسمة	أ) 20	13-1-5	



		حوالي:																													
		20 (أ)	30(ب)	40 (ج)	50 (د)																										
	16-1-5	حساب حجم الباحثين عن عمل في دولة يبلغ عدد سكانها (2,500,000) نسمة وتبلغ قوة العمل بها حوالي (1,500,000) وعدد العاملين فعلا منهم حوالي (1,000,000) نسمة هو:				تطبيق	7																								
		1,000 (أ)	(ب)	500,000 (ج)	750,000 (د)																										
	16-1-5	النسبة المئوية للباحثين عن عمل في دولة يبلغ عدد سكانها (8000000) نسمة وقوة العمل (4000000) نسمة وعدد العاملين فيها فعلا (3000000) هي:				تطبيق	8																								
		20% (أ)	25% (ب)	50% (ج)	55% (د)																										
	18-1-5	يتمركز (20%) من الطلب العالمي الحالي على الوقود والغاز في قارة:				معرفة	9																								
		(أ) أفريقيا	(ب) أوروبا	(ج) أستراليا	(د) آسيا																										
	20-1-5	<table border="1"> <thead> <tr> <th>البيانات</th> <th>السنة</th> <th>المعطيات</th> </tr> </thead> <tbody> <tr> <td>عدد السكان</td> <td>1993م</td> <td>٢,٠١٨,٠٧٤ نسمة</td> </tr> <tr> <td></td> <td>2003م</td> <td>٢,٣٤٠,٨١٥ نسمة</td> </tr> <tr> <td>مساحة السلطنة</td> <td>—</td> <td>٣٠٩,٥٠٠ كم٢</td> </tr> <tr> <td>إجمالي الدخل القومي</td> <td>2003م</td> <td>٧,٩٩٥,٨٠٠,٠٠٠ ر.ع</td> </tr> <tr> <td>نصيب الفرد من إجمالي الدخل القومي</td> <td>2003م</td> <td>٣,٤٣٠ ر.ع</td> </tr> <tr> <td>عدد المؤسسات الصحية</td> <td>2003م</td> <td>١٨٧ مؤسسة صحية</td> </tr> <tr> <td>عدد المدارس</td> <td>2003م</td> <td>١٠٢٢ مدرسة</td> </tr> </tbody> </table>				البيانات	السنة	المعطيات	عدد السكان	1993م	٢,٠١٨,٠٧٤ نسمة		2003م	٢,٣٤٠,٨١٥ نسمة	مساحة السلطنة	—	٣٠٩,٥٠٠ كم٢	إجمالي الدخل القومي	2003م	٧,٩٩٥,٨٠٠,٠٠٠ ر.ع	نصيب الفرد من إجمالي الدخل القومي	2003م	٣,٤٣٠ ر.ع	عدد المؤسسات الصحية	2003م	١٨٧ مؤسسة صحية	عدد المدارس	2003م	١٠٢٢ مدرسة	قدرات - تحليل	10
البيانات	السنة	المعطيات																													
عدد السكان	1993م	٢,٠١٨,٠٧٤ نسمة																													
	2003م	٢,٣٤٠,٨١٥ نسمة																													
مساحة السلطنة	—	٣٠٩,٥٠٠ كم٢																													
إجمالي الدخل القومي	2003م	٧,٩٩٥,٨٠٠,٠٠٠ ر.ع																													
نصيب الفرد من إجمالي الدخل القومي	2003م	٣,٤٣٠ ر.ع																													
عدد المؤسسات الصحية	2003م	١٨٧ مؤسسة صحية																													
عدد المدارس	2003م	١٠٢٢ مدرسة																													
		من خلال الجدول السابق تعتبر سلطنة عمان عام 2003م من الدول ذات الكثافة السكانية:																													
		(أ) المنخفضة	(ب) المتوسطة	(ج) العالية	(د) العالية جدا																										



تطبيق	البيانات	السنة	المعطيات	
			عدد السكان	مساحة السلطنة
	عدد السكان	م 1993	٢,٠١٨,٠٧٤ نسمة	
	مساحة السلطنة	م 2003	٢,٣٤٠,٨١٥ نسمة	
	إجمالي الدخل القومي	م 2003	٣٠٩,٥٠٠ كم ^٢	
	نصيب الفرد من إجمالي الدخل القومي	م 2003	٧,٩٩٥,٨٠٠,٠٠٠ ر.ع	
	عدد المؤسسات الصحية	م 2003	٣,٤٣٠ ر.ع	
	عدد المدارس	م 2003	١٨٧ مؤسسة صحية	
		م 2003	١٠٢٢ مدرسة	


الكثافة السكانية في سلطنة عمان حسب تعداد 1993م هي:

أ) 6.5	ب) 7.5	ج) 8.5	د) 9.5
--------	--------	--------	--------

11	تطبيق	20-1-5	أ) 6.5 نسمة / كيلومتر مربع	الكثافة السكانية في سلطنة عمان حسب تعداد 1993م هي:
12	معرفة	23-2-5	ب) سنتان	تبلغ المدة الشرعية للرضاعة الطبيعية حوالي:
13	معرفة	33-3-5	أ) 1970م - 1995م	تم وضع أول استراتيجية للتنمية في السلطنة خلال الفترة:
14	معرفة	35-3-5	ب) 27.4	تبلغ نسبة مساهمة القطاع الخاص في تشغيل العمانيين عام 2003م حوالي:
15	معرفة	54-2-5	د) جوارر	الميناء الذي يعتبر محطة للسفن والتجار بين الخليج العربي وساحل مليبار هو ميناء:
16	معرفة	54-2-5	أ) الديبل	من أهم موانئ إقليم السند ومحطة مهمة لاستيراد الخيول هو ميناء:
17	معرفة	55-2-5	ج) خانفو	يعد من أهم موانئ الصين حتى العصور الحديثة ميناء:
18	معرفة	60-3-5	ج) قاعدة السفينة	جزء من السفينة يطلق عليه في عمان البيص هو:
19	معرفة	63-3-5	أ - السنبوق	الصورة التالية توضح إحدى أنواع السفن وهي:

								
			أ- السنبوق	ب- البغلة	ج- اليوم	د- البدن		
								
		ج - اليوم	الصورة السابقة توضح إحدى المراكب العمانية وهي:				معرفة	20
	63-3-5		أ- القنجة	ب- البغلة	ج- اليوم	د- العيكار		
			جزء من السفينة يسمى عند البحارة بالتفر ويختلف من مركب لآخر هو:				فهم	21
	60-3-5	ج - العجز	أ- الصدر	ب- الدقل	ج- العجز	د- الغاطس		
			خشبة طويلة تثبت في وسط السفينة ويثبت عليها الشراع هي:				فهم	22
	61-3-5	أ- الدقل	أ- الدقل	ب- الجدار	ج- البذول	د- الحلاقيم		
			أشهر السفن العربية على الاطلاق حتى الحرب العالمية الأولى سفينة:				معرفة	23
	62-3-5	ج- البغلة	أ- البتيل	ب- السنبوق	ج- البغلة	د- البدن		
			الشخص الذي يقوم بقيادة دفة السفينة هو				فهم	24
	65-3-5	ج- السكوتي	أ- الربان	ب- النوخة	ج- السكوتي	د- الطحان		
			استخدم اسم ايران رسميا في عام:				معرفة	25
	72-1-6	د- 1934م	أ- 1931	ب- 1932	ج- 1933	د- 1934		

	81-2-6	ب-1912م	نجحت شركة الهند الشرقية بإنشاء مصنعها الأول في الهند عام:				معرفة	26
			أ- 1911	ب- 1912	ج- 1913	د- 1914		
	81-2-6	ت- تاج محل	الصورة التالية توضح أحد معالم الحضارة الهندية وهي:				معرفة	27
								
			أ- بوابة المدينة	ب- تاج محل	ج- معبد هندي	د- قلعة		
	82-2-6	ب - غاندي	الصورة التالية توضح شخصية تاريخية عالمية وهي:				معرفة	28
								
			أ- بطليموس	ب- غاندي	ج -	د- شاه بهلوي		
	82-2-6	د - الشاي	الصورة التالية توضح أحد المحاصيل التي تشتهر بزراعتها الهند وهي:				معرفة	29


						
			أ- القطن	ب- الأرز	ج - السكر	د - الشاي
	82-2-6	ج - 1923م	أعتقل غاندي ونفي خارج البلاد في عام:			
			أ- 1920	ب - 1921	ج - 1922	ج - 1923
	83-2-6	ب- نيودلهي	الشكل التالي يوضح بوابة إحدى أشهر المدن الهندية وهي:			
						
			أ- مدراس	ب - نيودلهي	ج -	د- موهنجودارو
	86-3-6	أ- الأصفر	النهر الصيني الذي يتضح في الصورة والذي اعتمد عليه الصينيون في الزراعة هو:			

						
			أ- الأصفر	ب- اليانجستي	ج - تاريم	د- بيرل ريفر
33	معرفة	ج - 3000	ظهرت الحضارة الصينية شمال شرقي الصين قبل الميلاد بحوالي:			
		ق.ب	أ- 1000	ب- 2000	ج - 3000	د- 4000
34	معرفة	ب - قوانتشو	المدينة الصينية التي أقيم فيها نصب تذكاري لسفينة صحار في عام 2002م هي:			
			أ- بكين	ب - قوانتشو	ج - كانتون	د- شنغهاي
35	معرفة	ج - السابع عشر	يعود تاريخ اليابان الحديث للقرن الميلادي:			
			أ- الخامس عشر	ب- السادس عشر	ج - السابع عشر	د- الثامن عشر
36	معرفة	أ- 1867	تسلم الامبراطور هينو العرش في اليابان عام:			
			أ- 1867	ب- 1894	ج - 1939	د- 1952
37	معرفة	أ- 1941م	قامت اليابان بالهجوم على ميناء بيرل هاربر الأمريكي في عام:			
			أ- 1941	ب - 1942	ج - 1945	د - 1947
38	معرفة	أ - 1947م	تم وضع دستور جديد لليابان فقد فيه الامبراطور كل السلطات التي كانت ليه عام			
			أ- 1947م	ب- 1945م	ث- 1948م	د- 1943م
39	معرفة	ب- 1952م	انتهى احتلال الحلفاء لليابان بتوقيع معاهدة السلام عام:			
			أ- 1950	أ- 1952	ج- 1955	د- 1951
40	معرفة	ج-أستراليا	تنحصر دول جنوب شرق اسيا (أسيان) بين الصين و			
			أ- الهند	ب-اليابان	ج-أستراليا	ح- سيرلانكا
41	معرفة	ج-التجار	دخل الاسلام الى منطقة جنوب شرق اسيا عن طريق جهود:			
			أ-الحروب	ب-السياحة	ج-التجار	د-الهجرات القسرية
42	معرفة	أ-60%	تصل نسبة المسلمين في ماليزيا الى:			
			أ-60%	ب-70%	ج-80%	د-90%

ملاحظات	الوحدة - الدرس - الصفحة	نموذج الإجابة	نص السؤال	نوع السؤال	م
	8 - 1 - 4	بعاملي الزيادة الطبيعية والهجرة	بماذا يتحدد النمو السكاني؟	معرفة	1.
	8 - 1 - 4	- هو الزيادات الكبيرة في أعداد السكان بالمقارنة مع الموارد المتاحة.	ما المقصود بالانفجار السكاني؟	فهم	2.
	9 - 1 - 4	- العلم الذي يهدف الي التعريف بالسكان والظواهر السكانية من حيث أسبابها والعوامل التي تتحكم فيها والآثار المترتبة عيها	ما المقصود بالتربية السكانية؟	فهم	3.
	9 - 1 - 4	التعريف بالسكان و الظواهر السكانية من حيث أسبابها و العوامل التي تتحكم فيها و الآثار المترتبة عليها و العلاقات التي تربطها و توجيه هذه المعرفة نحو تكوين اتجاهات و مواقف تؤثر في سلوك الأفراد لتحسين نوعية الحياة للفرد والأسرة والمجتمع .	اشرح هدف التربية السكانية؟	فهم	4.

	<p>9-1-4</p>	<p>1 - عام 1999م 2- التسارع الكبير في أعداد السكان 3 - الضغط على الموارد- مشكلة الاسكان- الفقر - الجوع ...</p>	<p>من خلال دراستك للجدول أجب عن الأسئلة التي تليه:</p> <table border="1" data-bbox="1189 480 1823 1002"> <thead> <tr> <th>السنة</th> <th>عدد السكان *</th> </tr> </thead> <tbody> <tr> <td>ما قبل الميلاد - ٢١٠ م</td> <td>٢٥٠ مليون نسمة</td> </tr> <tr> <td>١٦٥٠ م</td> <td>٥٥٠ مليون نسمة</td> </tr> <tr> <td>١٨٣٠ م</td> <td>مليار نسمة</td> </tr> <tr> <td>١٩٣٠ م</td> <td>٢ مليار نسمة</td> </tr> <tr> <td>١٩٦٠ م</td> <td>٣ مليار نسمة</td> </tr> <tr> <td>١٩٨٧ م</td> <td>٥ مليار نسمة</td> </tr> <tr> <td>١٩٩٩ م</td> <td>٦ مليار نسمة</td> </tr> </tbody> </table> <p>1- في أي عام وصل عدد السكان في العالم الي 6 مليار نسمة؟ 2- ماذا تلاحظ في أعداد السكان خلال المراحل المختلفة؟ 3- ما المشكلات المتوقعة من التسارع الكبير في النمو السكاني؟</p>	السنة	عدد السكان *	ما قبل الميلاد - ٢١٠ م	٢٥٠ مليون نسمة	١٦٥٠ م	٥٥٠ مليون نسمة	١٨٣٠ م	مليار نسمة	١٩٣٠ م	٢ مليار نسمة	١٩٦٠ م	٣ مليار نسمة	١٩٨٧ م	٥ مليار نسمة	١٩٩٩ م	٦ مليار نسمة	<p>قدرات - تحليل</p>	<p>5.</p>
السنة	عدد السكان *																				
ما قبل الميلاد - ٢١٠ م	٢٥٠ مليون نسمة																				
١٦٥٠ م	٥٥٠ مليون نسمة																				
١٨٣٠ م	مليار نسمة																				
١٩٣٠ م	٢ مليار نسمة																				
١٩٦٠ م	٣ مليار نسمة																				
١٩٨٧ م	٥ مليار نسمة																				
١٩٩٩ م	٦ مليار نسمة																				

	9-1-4	<p>ا - ارتفاع معدل المواليد</p> <p>ب - انخفاض معدل الوفيات</p>		تطبيق	.6
معرفة	12-1-4 إلى 17	<p>1- نقص الغذاء وسوء التغذية</p> <p>2- انخفاض المستوى المعيشي</p> <p>3- قلة فرص العمل</p> <p>4- الضغط على الخدمات</p> <p>5- الضغط على مصادر الطاقة</p>	<p>أقرأ الشكل السابق ثم حدد ما مثله كل من أ و ب .</p>	معرفة	.7
فهم	13 - 1- 4	<p>بسبب الزيادة الكبيرة في أعداد السكان في الهند مقارنة مع بريطانيا وأيضا زيادة دخل الفرد وتوفر الخدمات والغذاء في بريطانيا</p>	<p>فسر: ارتفاع نصيب الفرد من السرعات الحرارية في بريطانيا وانخفاضه في الهند.</p>	فهم	.8
	13-1- 4	<p>لعدم احتواء غذائهم على السرعات الحرارية الكافية للبقاء على قيد الحياة</p>	<p>علل : المصابين بسوء التغذية يتعرضون للموت يوميا</p>	فهم	.9
تطبيق	13 - 1- 4	<p>نقص الغذاء: هو أن يستهلك الانسان أقل مما يحتاجه جسمه من الغذاء لفترة طويلة.</p> <p>سوء التغذية : عدم احتواء الغذاء على السرعات الحرارية الكافية للبقاء على قيد الحياة .</p>	<p>فرق بين مفهومي نقص الغذاء وسوء التغذية</p>	تطبيق	.10

	<p>1-4-1 12911</p>	<p>4 ، 1</p> <p>2 - أفريقيا - أمريكا الجنوبية والوسطى 3 - الأقيانوسية-أمريكا الشمالية-أمريكا الجنوبية والوسطى-أوروبا-أفريقيا-آسيا</p>	<p>أدرس الجدول التالي واستعن به في حل الأسئلة والرسم على الخريطة:</p> <table border="1"> <thead> <tr> <th>الموقع</th> <th>عدد السكان (بالمليون)</th> <th>معدل المواليد (بالألف)</th> <th>معدل الوفيات (بالألف)</th> <th>الزيادة الطبيعية (بالألف)</th> <th>مدة تضاعف السكان (بالسنوات بالألف)</th> </tr> </thead> <tbody> <tr> <td>أفريقيا</td> <td>٨٢٢</td> <td>٣٨</td> <td>١٤</td> <td>٢٤</td> <td>٢٩</td> </tr> <tr> <td>آسيا</td> <td>*٣,٧٧٦</td> <td>٢٢</td> <td>٨</td> <td>١٤</td> <td>٤٨</td> </tr> <tr> <td>أوروبا</td> <td>٧٢٧</td> <td>١٠</td> <td>١١</td> <td>١</td> <td>١٢٥</td> </tr> <tr> <td>أمريكا الشمالية</td> <td>٣٢٢</td> <td>١٤</td> <td>٩</td> <td>٦</td> <td>١٢٤</td> </tr> <tr> <td>أمريكا الجنوبية والوسطى</td> <td>٥٣٥</td> <td>٢٤</td> <td>٦</td> <td>١٨</td> <td>٣٩</td> </tr> <tr> <td>الأوقيانوسية</td> <td>٣١,٨</td> <td>١٨</td> <td>٧</td> <td>١١</td> <td>٦٥</td> </tr> <tr> <td>العالم</td> <td>*٦,٥٢٠,٨</td> <td>٢٢</td> <td>٩</td> <td>١٣</td> <td>٥١</td> </tr> </tbody> </table>  <p>1- ظلل القارة التي تمثل أعلى قارة من حيث الزيادة الطبيعية. 2- ما القارة التي تمثل أعلى معدل المواليد؟ وما القارة التي تمثل أقل معدل الوفيات؟ 3- رتب قارات العالم ترتيبا تصاعديا من حيث أعداد السكان. 4- أكتب الرقم (1) على الخريطة مكان القارة التي تصل فيها الزيادة الطبيعية 6 ؟</p>	الموقع	عدد السكان (بالمليون)	معدل المواليد (بالألف)	معدل الوفيات (بالألف)	الزيادة الطبيعية (بالألف)	مدة تضاعف السكان (بالسنوات بالألف)	أفريقيا	٨٢٢	٣٨	١٤	٢٤	٢٩	آسيا	*٣,٧٧٦	٢٢	٨	١٤	٤٨	أوروبا	٧٢٧	١٠	١١	١	١٢٥	أمريكا الشمالية	٣٢٢	١٤	٩	٦	١٢٤	أمريكا الجنوبية والوسطى	٥٣٥	٢٤	٦	١٨	٣٩	الأوقيانوسية	٣١,٨	١٨	٧	١١	٦٥	العالم	*٦,٥٢٠,٨	٢٢	٩	١٣	٥١	<p>مهارة تطبيق ، قدرات تحليل ، تركيب مهارة ، تطبيق على التوالي</p>	<p>.11</p>
الموقع	عدد السكان (بالمليون)	معدل المواليد (بالألف)	معدل الوفيات (بالألف)	الزيادة الطبيعية (بالألف)	مدة تضاعف السكان (بالسنوات بالألف)																																																
أفريقيا	٨٢٢	٣٨	١٤	٢٤	٢٩																																																
آسيا	*٣,٧٧٦	٢٢	٨	١٤	٤٨																																																
أوروبا	٧٢٧	١٠	١١	١	١٢٥																																																
أمريكا الشمالية	٣٢٢	١٤	٩	٦	١٢٤																																																
أمريكا الجنوبية والوسطى	٥٣٥	٢٤	٦	١٨	٣٩																																																
الأوقيانوسية	٣١,٨	١٨	٧	١١	٦٥																																																
العالم	*٦,٥٢٠,٨	٢٢	٩	١٣	٥١																																																

12.	معرفة	أذكر سببين لمشكلة انخفاض المستوى المعيشي؟	14 - 1 - 4 ضعف الاقتصاد - غياب فرص العمل - قلة امكانيات الدولة من الموارد - انخفاض الاجور - زيادة أعداد السكان
13.	قدرات - تقويم	من وجهة نظرك. ما الحلول التي تراها مناسبة لمشكلة انخفاض المستوى المعيشي؟	15 - 1 - 4 قوة الاقتصاد ، توفر فرص العمل ، توفر الموارد ، ارتفاع الأجور ، مناسبة أعداد السكان للموارد المتاحة . يقبل ما يفيد المعنى
14.	فهم	أذكر سببان يؤديان الي قلة فرص العمل؟	15 - 1 - 4 1 - الزيادة السكانية بما يفوق عدد فرص العمل المتوافرة 2- تباطؤ عمليات التنمية
15.	قدرات - تركيب	ما العلاقة بين قلة فرص العمل والانفجار السكاني؟	15 - 1 - 4 علاقة عكسية حيث يؤدي الانفجار السكاني إلى زيادة القوة العاملة وبالتالي قلة فرص العمل .
16.	قدرات - تقويم	ما دور الدول للتخلص من مشكلة قلة فرص العمل؟	15 - 1 - 4 توفير الدعم للشباب لعمل مشاريع فردية- رعاية المبادرات الفردية- دعم القطاع الخاص- تنويع التعليم التقني أو - ما يفيد المعنى .
17.	قدرات - تقويم	ماذا تقترح على الشباب الذين لم تتح لهم فرصة القبول في الجامعات؟	15 - 1 - 4 - فتح مشاريع خاصة بهم والعمل الحر. - الالتحاق بالتعليم التقني. - العمل في القطاع الخاص.(ما هو مناسب حسب رؤية الطالب)
18.	تطبيق ، قدرات - تقويم على التوالي	1 - بلغت نسبة السكان الباحثين عن عمل في الارجنتين حوالي(20%) من جملة السكان عام 2002م. 2- بلغت نسبة السكان الباحثين عن عمل في الولايات المتحدة الامريكية حوالي(7%) عام 2002م تمعن في المعلوماتين السابقتين ثم أجب عما يليهما من أسئلة:	15-1-4 أ- 13% ب- قلة فرص العمل في الارجنتين وارتفاعها في الولايات المتحدة - زيادة عدد السكان في الارجنتين مقارنة بالفرص المتاحة للعمل بعكس الولايات المتحدة - يقبل ما يفيد المعنى .

			<p>أ - كم يبلغ الفرق بين الدولتين من حيث نسبة الباحثين عن عمل؟</p> <p>ب- برأيك ما سبب ارتفاع النسبة في الأرجنتين مقارنة بالولايات المتحدة الأمريكية؟</p>																	
	16-2-4	المستشفيات- المدارس- الطرق- شبكات الاتصال- الأسواق- الحدائق- المرافق السياحية وغيرها	أعط أمثلة على الخدمات والمرافق العامة.	معرفة	19.															
	2-4-16 و17	أ - الحاجة للكثير من الأموال لتحسينها وصيانتها- سرعة استهلاكها - ضعف في تقديمها ب - تعرضها للاستنزاف	أعط نتيجة واحدة لكل من : أ- الضغط على الخدمات ب- الضغط على مصادر الطاقة	معرفة	20.															
	16-2-4	يعيشوا معتمدين على الحطب كوقود للطهو والتدفئة والانارة وفي بعض الدول يستخدم روث الحيوانات للتدفئة	كيف تصرف فقراء العالم نتيجة عدم تمكنهم من الحصول على خدمات الطاقة الحديثة؟	معرفة	21.															
	17-2-4	1- تكون مزدحمة بسبب زيادة أعداد السكان وحركة السير بطيئة بسبب زيادة أعداد السيارات. 2- لا- لأن أعداد الطلاب مختلفة نتيجة الاختلاف في أعداد السكان. 3- لا - لأن عدد السكان في المدينة ب كبير بالمقارنة مع عدد المستشفيات وبالتالي سوف يكون هناك ضغط على الخدمات الصحية مقارنة بالمدينة أ التي ستقدم خدمات صحية أفضل. 4- المدينة (أ)	اقرأ الجدول التالي وأجب عن الأسئلة التالية : <table border="1" data-bbox="1205 805 1814 1077"> <thead> <tr> <th>وضع الطرق</th> <th>عدد المستشفيات والمرافق الصحية</th> <th>عدد المدارس</th> <th>عدد السكان</th> <th></th> </tr> </thead> <tbody> <tr> <td>مرصوفة ومعبدة</td> <td>3</td> <td>28</td> <td>100,000</td> <td>المدينة (أ)</td> </tr> <tr> <td>مرصوفة ومعبدة</td> <td>5</td> <td>28</td> <td>300,000</td> <td>المدينة (ب)</td> </tr> </tbody> </table> <p>1 - كيف تتوقع حالة الطرق في المدينة (ب)؟ ولماذا؟ 2 - يتساوى عدد المدارس في المدينتين فهل تتساويان في الخدمات التعليمية التي تقدماتها؟ ولماذا؟ 3 - زيادة عدد المستشفيات في المدينة (ب) عن المدينة (أ) هل يعني هذا توفير خدمات صحية أفضل في المدينة (ب)؟ ولماذا؟ 4 - في رأيك أي المدينتين يمكن أن تقدم حياة أفضل لمواطنيها؟</p>	وضع الطرق	عدد المستشفيات والمرافق الصحية	عدد المدارس	عدد السكان		مرصوفة ومعبدة	3	28	100,000	المدينة (أ)	مرصوفة ومعبدة	5	28	300,000	المدينة (ب)	قدرات عليا	22.
وضع الطرق	عدد المستشفيات والمرافق الصحية	عدد المدارس	عدد السكان																	
مرصوفة ومعبدة	3	28	100,000	المدينة (أ)																
مرصوفة ومعبدة	5	28	300,000	المدينة (ب)																
	18-2-4	42%	ارتفعت معدلات استهلاك الطاقة ارتفاعا ملحوظا منذ	تطبيق	23.															

			<p>عام 1992م ويتوقع أن ترتفع بنسبة (2%) سنويا حتى حلول عام 2020م. في ضوء هذه العبارة . كم تبلغ نسبة الزيادة في الاستهلاك في نهاية العام الحالي منذ عام 1992 م؟</p>																										
	19 - 2 - 4	<p>1- 322741 نسمة 2- لا – لأن حجم الخدمات التي تقدم ومستوى الدخل والغذاء مناسب ومتوفر مقارنة بعدد السكان.</p>	<p>من خلال دراستك للجدول التالي أجب عن الأسئلة التي تليه:</p> <table border="1"> <thead> <tr> <th>البيانات</th> <th>السنة</th> <th>المعطيات</th> </tr> </thead> <tbody> <tr> <td>عدد السكان</td> <td>١٩٩٣ م</td> <td>٢,٠١٨,٠٧٤ نسمة</td> </tr> <tr> <td>مساحة السلطنة</td> <td>٢٠٠٣ م</td> <td>٢,٣٤٠,٨١٥ نسمة</td> </tr> <tr> <td>إجمالي الدخل القومي</td> <td>—</td> <td>٢٣٠٩,٥٠٠ كم٢</td> </tr> <tr> <td>نصيب الفرد من إجمالي الدخل القومي</td> <td>٢٠٠٣ م</td> <td>٧,٩٩٥,٨٠٠,٠٠٠ ر.ع</td> </tr> <tr> <td>عدد المؤسسات الصحية</td> <td>٢٠٠٣ م</td> <td>٣,٤٣٠ ر.ع</td> </tr> <tr> <td>عدد المدارس</td> <td>٢٠٠٣ م</td> <td>١٨٧ مؤسسة صحية</td> </tr> <tr> <td></td> <td>٢٠٢٢ م</td> <td>١٠٢٢ مدرسة</td> </tr> </tbody> </table> <p>1- كم بلغت الزيادة السكانية منذ عام 1993م حتى تعداد 2003م؟ 2- هل يعد هذا انفجارا سكانيًا؟ ولماذا؟</p>	البيانات	السنة	المعطيات	عدد السكان	١٩٩٣ م	٢,٠١٨,٠٧٤ نسمة	مساحة السلطنة	٢٠٠٣ م	٢,٣٤٠,٨١٥ نسمة	إجمالي الدخل القومي	—	٢٣٠٩,٥٠٠ كم٢	نصيب الفرد من إجمالي الدخل القومي	٢٠٠٣ م	٧,٩٩٥,٨٠٠,٠٠٠ ر.ع	عدد المؤسسات الصحية	٢٠٠٣ م	٣,٤٣٠ ر.ع	عدد المدارس	٢٠٠٣ م	١٨٧ مؤسسة صحية		٢٠٢٢ م	١٠٢٢ مدرسة	<p>تطبيق ، قدرات - تحليل .</p>	24.
البيانات	السنة	المعطيات																											
عدد السكان	١٩٩٣ م	٢,٠١٨,٠٧٤ نسمة																											
مساحة السلطنة	٢٠٠٣ م	٢,٣٤٠,٨١٥ نسمة																											
إجمالي الدخل القومي	—	٢٣٠٩,٥٠٠ كم٢																											
نصيب الفرد من إجمالي الدخل القومي	٢٠٠٣ م	٧,٩٩٥,٨٠٠,٠٠٠ ر.ع																											
عدد المؤسسات الصحية	٢٠٠٣ م	٣,٤٣٠ ر.ع																											
عدد المدارس	٢٠٠٣ م	١٨٧ مؤسسة صحية																											
	٢٠٢٢ م	١٠٢٢ مدرسة																											
	21-2-4	<p>- يعني اتباع القواعد والطرق الصحيحة في بناء وتكوين أسرة سليمة تساهم في تحقيق غايات المجتمع وطموحه.</p>	<p>ما المقصود بمفهوم تنظيم الأسرة؟</p>	<p>فهم</p>	25.																								
	21-2-4	<p>- تنظيم الانجاب – الرضاعة الطبيعية- الصحة</p>	<p>ما الركائز المهمة في تنظيم الأسرة؟</p>	<p>معرفة</p>	26.																								

		الغذائية - الفحص قبل الزواج - ترشيد الانفاق - الادخار - تنشئة الاطفال....		
27.	فهم	ما المقصود بتنظيم الانجاب؟	21-2-4	- انجاب الاطفال بعدد معين وفي فترة زمنية مناسبة بما يتلائم مع الحالة الاقتصادية والمعيشية للزوجين وحالتهم النفسية والصحية.
28.	معرفة	أذكر فوائد الرضاعة الطبيعية؟	22-2-4	- غذاء نظيف وآمن - سريع الهضم ويلبي كافة متطلبات الطفل الغذائية - مضاد للجراثيم ويشتمل حماية ووقاية للطفل - يحمي الطفل من السمنة والبدانة ويمنع سوء التغذية - يقوي مناعة الطفل ضد الأمراض والحساسية المفرطة - يقوي فك الطفل ويسرع ظهور الاسنان.
29.	معرفة	ما الآثار السلبية التي يتعرض لها الطفل اذا حرم من الرضاعة الطبيعية؟	22-2-4	- آثار نفسية وعاطفية وغذائية نستخلصها من فوائد الرضاعة الطبيعية في السؤال السابق
30.	مفهوم	عرف الفحص قبل الزواج؟	24-2-4	- هو إجراء الفحص المخبري للشريكين المقبلين على الزواج للتأكد من وجود الامراض الوراثية وصفاتها وإعطاء المشورة ومنح الخيارات والبدائل للزوجين

المرجع	رقم السؤال	نوع المرض	خصائصه	أكثر المناطق انتشارا		نوع المرض	نوع المرض	تطبيق	رقم السؤال
				أكثر المناطق انتشارا	خصائصه				
	25-2-4	نوع 1 مرض	<ul style="list-style-type: none"> - يسبب تكسر كريات الدم الحمراء وتحولها شكل المنجل - جريان الدم بحرية وسهولة في الاوعية الدموية - توريد الغذاء والاكسجين الي خلايا الجسم 	سلطنة عمان	فقر الدم المنجلي	فقر الدم المنجلي	فقر الدم المنجلي	تطبيق	31
	25-2-4	نوع 1 مرض	<ul style="list-style-type: none"> - يؤثر في صنع الدم - تكون مادة الهيموجلوبين في كريات الدم الحمراء غير قادرة على القيام بوظيفتها 	دول البحر المتوسط	الثلاسيميا	الثلاسيميا	الثلاسيميا	تطبيق	31
	25-2-4	- أمراض الدم- الأمراض المعدية- الأمراض الوبائية- أمراض الكبد- الجهاز البولي- المناعة لدى الأم....				أذكر بعض الأمراض التي يعني بها الفحص قبل الزواج؟	معرفة	32	

33.	فهم	عرف الاقتصاد؟	- هو مجموعة من الأنشطة التي يمارسها السكان بهدف الحصول على العائد المادي	28-3-4
34.	معرفة	عدد القطاعات الاقتصادية للدولة؟	الزراعة-الصناعة-التجارة- المواصلات-الخدمات	28-3-4
35.	فهم	علل: تعد الموارد البشرية من أهم الموارد الاقتصادية التي ينبغي الاهتمام بها.	- لكون الانسان هو المنتج والمستهلك وكلما ارتقى بنفسه علميا وفنيا ومهاريا ادى ذلك الي زيادة الدخل.	28-3-4
36.	فهم	ما المقصود بكل من: أ- الموارد البشرية ب- القوى العاملة	أ- هي حجم عدد السكان لبلد ما ويشكل القوى العاملة التي تشكل بدورها مصدر الدخل ب- هي مجموع السكان الذين هم في سن العمل سواء كانوا يعملون أو يبحثون عن عمل	28-3-4
37.	معرفة	ما العوامل التي تتأثر بها الموارد البشرية؟	- مستوى الدخل- التحضر	29-3-4
38.	قدرات - تركيب	ما نوع العلاقة بين مستوى الدخل والنتائج المحلي؟	طردية	29-3-4
39.	فهم	ما المقصود بالتحضر؟	تحول سكان منطقة معينة من الأرياف أو البادية الي حياة المدن والأخذ بجوانب الحياة المدنية	29-3-4
40.	قدرات - تركيب	وضح العلاقة بين تنمية الموارد البشرية ومستوى الدخل؟	علاقة طردية	29-3-4
41.	فهم	وضح المقصود بالتنمية البشرية؟	مساعدة الفرد على تنمية قدراته وإتاحة الفرص والخيارات له لأداء عمله بشكل أفضل وذلك لتطوير الاقتصاد الوطني	38 -4 -4 42،
42.	معرفة	عدد الأهداف التي تسعى من خلالها السلطنة لتنمية مواردها البشرية وتطويرها .	تنمية القدرات الادارية والتقنية والمالية للعُمانيين - زيادة علاقاتهم وكفاءاتهم مع الاقتصاد العالمي - تشجيع وتوجيه اتجاه التوظيف الذاتي - دعم البرامج التي تهدف الي تعزيز ونشر أنشطة الشباب - منح الثقافة والتراث اهتماما خاصا- رفع الذين يتم قبولهم في مؤسسات التعليم العالي والعمل على تطوير ونشر التعليم.	-3-4 29و30

	3-4 30 و31	التعليم - التدريب - الصحة - الغذاء	أذكر الجوانب الواجب مراعاتها في برامج تنمية الموارد البشرية؟	معرفة	.43
	31-3-4	- هو الجهد المنظم والمخطط لتزويد القوى البشرية في المنظمة بمعارف معينة على تطوير وتحسين مهاراتها وقدراتها	ما المقصود بالتدريب؟	فهم	.44
	31-3-4	تحسين وتطوير المهارات والقدرات - تحسين نوعية الحياة لدى الفرد - رفع الكفاءة الانتاجية .	اشرح أهمية التدريب؟	فهم	.45
	31-3-4	من خلال تأثير ذلك على الانتاجية حيث أن الصحة تعطي الفرد المقدرة على بذل مجهود أكبر خلال فترة قصيرة.	كيف تؤثر الصحة في النمو الاقتصادي للدولة؟	فهم	.46
	32-3-4	نظرا لتنوع الانشطة الاقتصادية ودخول صناعات وقطاعات متعددة للمجال الاقتصادي	فسر: ارتفاع معدل النمو السنوي للنتائج المحلي الاجمالي بالسلطنة الي(6.9%) لعام 2003م؟	فهم	.47
	32-3-4	أ- قيمة ما تنتجه مختلف القطاعات الاقتصادية داخل البلد الواحد خلال سنة ب- ما يمكن أن يحصل عليه أو ينتجه الفرد خلال سنة	عرف كل من: أ- الناتج المحلي الاجمالي. ب- دخل الفرد	فهم	.48

	<p>32-3-4</p>	<p>1 - 8.3% 2 - الفنادق والمطاعم 0.7% 3 - المناجم واستغلال المحاجر- تجارة الجملة والتجزئة- الادارة العامة والدفاع- الصناعات التحويلية- النقل والتخزين والاتصالات- الانشطة العقارية- التعليم-الوساطة المالية- الانشاءات- الزراعة والاسماك- الصحة- الفنادق والمطاعم</p>	<p>من خلال دراستك للشكل الآتي الذي يوضح الناتج المحلي الاجمالي حسب النشاط الاقتصادي لعام 2003م بالسلطنة، أجب عن الأسئلة التي تليه:</p>  <p>1 - كم تبلغ مساهمة الصناعات التحويلية في الناتج المحلي؟ 2 - ما أقل الأنشطة الاقتصادية مساهمة في الناتج المحلي؟ 3 - رتب القطاعات ترتيبا تنازليا من حيث نسبة مساهماتها في الناتج المحلي؟</p>	<p>تحليل ، تحليل ، تركيب</p>	<p>.49</p>
	<p>33-3-4</p>	<p>التنوع الاقتصادي وعدم الاعتماد على مصدر واحد غير متجدد وهو النفط</p>	<p>ما هدف الرؤية المستقبلية للاقتصاد العماني 2020م؟</p>	<p>معرفة</p>	<p>.50</p>

	<p>34-3-4</p>	<p>1 -</p>  <p>2- لا مصدر قابل للنفاذ وبالتالي لابد من تقليل الاعتماد عليه</p> <p>3 - الصناعة والتجارة</p>	<p>من خلال دراستك للجدول التالي الذي يوضح مستقبل مساهمة القطاعات الاقتصادية الأساسية في الناتج المحلي، أجب عن الاسئلة التي تليه:</p> <table border="1" data-bbox="1187 359 1825 678"> <thead> <tr> <th>القطاع الاقتصادي</th> <th>١٩٩٩م</th> <th>٢٠٢٠م</th> </tr> </thead> <tbody> <tr> <td>النفط</td> <td>٣٨,٣%</td> <td>٩,٠%</td> </tr> <tr> <td>الغاز</td> <td>١,١%</td> <td>١٠,٠%</td> </tr> <tr> <td>الزراعة والأسماك</td> <td>٢,٦%</td> <td>٥,١%</td> </tr> <tr> <td>الصناعة</td> <td>٤,٢%</td> <td>١٥,٠%</td> </tr> <tr> <td>التجارة</td> <td>١١,٨%</td> <td>١٦,٠%</td> </tr> </tbody> </table> <p>1 - مثل الجدول التالي بيانياً. (جدول أعمدة بيانية)</p> <p>2 - فسر: انخفاض نسبة مساهمة قطاع النفط بشكل كبير.</p> <p>3 - ما القطاعات التي يمكن أن تعوض إسهامات القطاع النفطي؟</p>	القطاع الاقتصادي	١٩٩٩م	٢٠٢٠م	النفط	٣٨,٣%	٩,٠%	الغاز	١,١%	١٠,٠%	الزراعة والأسماك	٢,٦%	٥,١%	الصناعة	٤,٢%	١٥,٠%	التجارة	١١,٨%	١٦,٠%	<p>مهاري / تطبيق</p>	<p>.51</p>
القطاع الاقتصادي	١٩٩٩م	٢٠٢٠م																					
النفط	٣٨,٣%	٩,٠%																					
الغاز	١,١%	١٠,٠%																					
الزراعة والأسماك	٢,٦%	٥,١%																					
الصناعة	٤,٢%	١٥,٠%																					
التجارة	١١,٨%	١٦,٠%																					
	<p>35-3-4</p>	<p>عدد المنشآت ونوعيتها- مساهمة القطاع الخاص في الناتج المحلي الاجمالي- مساهمة القطاع الخاص في الاستثمارات المحلية وتشغيل القوى العاملة</p>	<p>كيف يمكن تتبع تطور القطاع الخاص؟</p>	<p>فهم</p>	<p>.52</p>																		

المحاور	العام	١٩٧٦م	١٩٩٥م	٢٠٠٣م
عدد المنشآت		٤٨١٨	٧٧٠٠٠	١١٤٦٠٩
من العمالة العمانية		٢٥,٣**	٢٨,٣%	٢٧,٤%
من العمالة الوافدة		٦٧,٧%	٨٩%	٩٤%

يوضح الجدول السابق تطور المنشآت ومساهمتها في التشغيل في سلطنة عمان :	قدرات - تقويم ، تحليل	.53	36-3-4	<p>1- تطور النشاط الاقتصادي في السلطنة وتنوعه - التوسع العمراني - زيادة أعداد السكان - الانفتاح لاقتصادي - توسع الخدمات والبنية التحتية... الخ</p> <p>2- يعتبر القطاع الخاص هو المحرك الاساسي لعجلة التنمية في أي بلد وبتطور ه تزداد عدد المنشآت وتتنوع حيث أنها المساهم الرئيس في تشغيل القوى العاملة سواء كانت وطنية أم وافدة، ويوضح الجدول تطور عدد منشآت القطاع الخاص في سلطنة عمان خلال الأعوام: 1976 و 1995 و 2003م ودورها في تشغيل العمالة حيث نجد أن هذه المنشآت في تزايد مستمر فزادت من 4818 عام 1976م الي 114609 منشئة في عام 2003م وساهمت هذه المنشآت في تشغيل 27.4% من العمالة العمانية و 94% من العمالة الوافدة في العام نفسه....</p>
يوضح الجدول السابق تطور المنشآت ومساهمتها في التشغيل في سلطنة عمان :				
1 - ما العوامل التي ساهمت في تطور عدد المنشآت بين عامي 1976م و 2003م؟	معرفة	.54	-1-5 41 و 40	<p>1- سيادة الجفاف في معظم السلطنة مما يتعذر الاعتماد الكلي على الزراعة.</p> <p>2- احاطة البحر بالسلطنة من ثلاث جهات.</p> <p>3- تقع السلطنة بين مناطق مناخية متباينة وذات انتاج حضاري مختلف.</p> <p>4- صلاحية الساحل العماني في كثير من المناطق لإقامة الموانئ</p> <p>5- حركة التيارات البحرية والرياح الموسمية.</p>
2- حول الجدول السابق الي مقال قصير لا يزيد عن ثمان أسطر ولا يقل عن خمسة أسطر.				
ما العوامل الطبيعية التي أدت الي ازدياد أهمية عمان في مجال الملاحة البحرية عبر التاريخ؟	فهم	.55	40-1-5	بسبب سيادة الجفاف في معظم أراضي سلطنة عمان
	فهم	.56	41-1-5	لأن المياه تحيط بالسلطنة من ثلاث جهات وتحيط الرمال بها من الجهة الرابعة.

	41-1-5	ساعدت العمانيين على ركوب البحر وخدمت حركة السفن وعودتها الي الموانئ	ما دور حركة التيارات البحرية والرياح الموسمية في الملاحة البحرية العمانية؟	معرفة	.57												
	41-1-5	<p>1- حركة الرياح والتيارات البحرية في المحيط الهندي.</p> <p>2-</p> <table border="1" data-bbox="510 470 1153 662"> <tr> <td>نوع التيار</td> <td>أمثلة عليه</td> </tr> <tr> <td>دافئ</td> <td>أسترالي الشرقي – اليابان - موزمبيق</td> </tr> <tr> <td>بارد</td> <td>أسترالي الغربي</td> </tr> </table> <p>3 - جنوبية</p>	نوع التيار	أمثلة عليه	دافئ	أسترالي الشرقي – اليابان - موزمبيق	بارد	أسترالي الغربي	<p>من خلال دراستك للخريطة التالية، أجب عن الأسئلة التي تليها:</p>  <p>1 - ضع عنوانا مناسباً للخريطة؟</p> <p>2 - صنف التيارات البحرية التالية الي باردة ودافئة في الجدول أسفله: (الأسترالي الغربي – اليابان – الأسترالي الشرقي – موزمبيق).</p> <table border="1" data-bbox="1164 1236 1825 1388"> <tr> <td>نوع التيار</td> <td>أمثلة عليه</td> </tr> <tr> <td>دافئ</td> <td></td> </tr> <tr> <td>بارد</td> <td></td> </tr> </table> <p>3 - حدد اتجاه الرياح الموسمية في المحيط الهندي</p>	نوع التيار	أمثلة عليه	دافئ		بارد		<p>قدرات - تقويم ، تطبيق ، تطبيق على التوالي</p>	.58
نوع التيار	أمثلة عليه																
دافئ	أسترالي الشرقي – اليابان - موزمبيق																
بارد	أسترالي الغربي																
نوع التيار	أمثلة عليه																
دافئ																	
بارد																	

رقم السؤال	البيان	الهدف	المستوى
59.	بم تفسر : من الناحية الاقتصادية يعد المناخ من العوامل الطبيعية التي طبعت عمان بصبغة حضارية خاصة.	فهم	41-1-5
60.	بما تفسر: الملاحة البحرية العمانية قديمة قدم التاريخ .	فهم	42-1-5
61.	ما الجوانب الأمنية التي ساعدت على تطور الملاحة العمانية؟	معرفة	43-1-5
62.	بم تفسر: أ - المكانة الخاصة لعمان في التاريخ العربي والاسلامي. ب - ازدهار الموانئ العمانية في العصور الاسلامية.	فهم	46-1-5
63.	أذكر اهم انجازات اليعاربة في الملاحة البحرية العمانية؟	معرفة	46-1-5
64.	دل على تطور الاسطول العماني في عهد السيد سعيد بن سلطان؟	معرفة	48-1-5

		<p>العربي في موانئ بوشهر ولنجا وبندر عباس وهرمز.</p> <p>- له قواعد بحرية في الساحل الأفريقي في ممباسا ولاهور وكلوه ومقديشيو وزنجبار.</p> <p>- وصول السفينة الحربية سلطانه الي امريكا بقيادة السفير احمد بن النعمان الي الرئيس الامريكي فان بورين.</p> <p>- الموانئ العمانية مهيأة لاستقبال أكبر السفن من الدول الأخرى.</p>			
معرفة	47-1-5	<p>- يضم 15 سفينة كبيرة تتراوح حمولة الواحدة منها حوالي 470 طن الي جانب المئات من السفن الصغيرة</p> <p>- على جانب كبير من القوة والكفاءة.</p>	<p>ما أهم مميزات الاسطول البحري العماني في عهد السيد سلطان بن أحمد(1792-1804م)؟</p>	معرفة	.65
	49-1-5	<p>من حيث أنها:</p> <p>- تمتلك اسطولا من الفرقاطات والزوارق وسفن المدفعية والاسناد</p> <p>- قيامها بالمسح البحري للشواطئ وتأمينها</p> <p>- يتوفر لها عدد من القواعد البحرية التي تشمل خدمات لوجستية وهندسية وادارية</p> <p>- بها قوى بشرية مؤهلة ومدربة على أكمل وجه</p> <p>- تحظى بتقدير دولي وسمعة طيبة.</p>	<p>كيف تمكنت البحرية السلطانية العمانية من المحافظة على منجزات التاريخ البحري العماني؟</p>	فهم	.66
	49-1-5	<p>سفينة حربية صغيرة الحجم سريعة تستخدم للمناورة</p>	<p>ما المقصود بالفرقاطة؟</p>	فهم	.67
	51-2-5	<p>بسبب كثرة ثروات المحيط الهندي وتنوعها</p>	<p>علل: تعدد الطرق والموانئ التجارية البحرية في المحيط الهندي منذ العصور التاريخية القديمة.</p>	فهم	.68
	51-2-5	<p>1- موانئ المحيط الهندي</p> <p>2- الشرق</p>	<p>أدرس الخريطة التالية ثم أجب عن الأسئلة التي تليها:</p>	تطبيق	.69

		لغات شعوب المحيط الهندي.		
	58-3-5	بتعدد أنواعها وأشكالها	بماذا تميزت السفن العمانية؟	74. معرفة
	59-3-5	بسبب كثافة عمليات النقل والتجارة البحرية	علل: زيادة الحاجة الي تطوير السفن المحيطية؟	75. فهم
	59-3-5	حسب طريقة الصنع ومواد بنائها	ما أسس تقسيم السفن لأنواع مختلفة؟	76. معرفة
	60-3-5	1- خياطة الأضلاع والالواح وربطها بخيوط وحبال عبر ثقوب 2- طلي المركب من الداخل بالقار ومن الخارج بالدهن 3- أخيرا سد ما تبقى من ثقوب وشقوق (عملية القفطة)	اشرح طريقة صنع سفن القنباريات؟	77. فهم
	3-5 61 و60	قاعدة السفينة - الصدر - العجز - السكان - الغاطس - الجدار - الأجزاء الداخلية والملحقة (الحلاقيم - الصواري - البذول - الدقل - الشراع...).	أذكر أهم الأجزاء المكونة للسفينة؟	78. معرفة
	3-5 61 و62 63		أكمل خريطة المفاهيم التالية التي توضح أنواع السفن حسب تقنية الصنع:	79. تطبيق
	61-3-5	لأنه يستغل الرياح العرضية ويتحكم في مسار السفينة في المضائق المائية	فسر: الشراع المثلث هو أجود أنواع الأشرعة؟	80. فهم


رقم السؤال	نوع السؤال	السؤال		الخيارات	الإجابة الصحيحة
		الجزء السفينة	استخداماته		
.81	تطبيق	أكمل الجدول التالي الذي يوضح أجزاء السفينة واستخداماتها:			
		جزء السفينة	استخداماته	يقوم عليها جسم السفينة	قاعدة السفينة
		الحلاقيم			
		الصواري			
.82	معرفة	بماذا يتميز السنبوق الذي يصنع في سلطنة عمان؟			
		ببروز الأطراف الخلفية وسطحه الكامل			
.83	فهم	قارن في جدول بين نظامي الابحار (الديرة البحرية والديرة المطلقة) من حيث: المفهوم وأماكن استخدامه.			
		نظام الابحار	مفهومه	أماكن استخدامه	
		الديرة البحرية	أن يلتزم الملاح بخط الساحل ولا يغيب عن نظره حتى يصل الي الميناء الذي يريد	موانئ عمان والخليج العربي	
الديرة المطلقة	أن ينطلق الملاح من بر الي آخر عبر عرض البحر الفاصل بينهما حيث يستعين البحارة بقياسات النجوم	سواحل المحيط الهندي الشرقية			

65-3-5	أفراد السفينة	العمل الذي يقوم به	أكمل الجدول التالي الذي يوضح أفراد السفينة والعمل الذي يقوم به عليها:	تطبيق	.84
	النوخذة	المسؤول الأول عن السفينة ودخلها وحاصلاتها	أفراد السفينة		
	الوكيل	هو المسؤول عن ميرة السفينة ورأس من عليها	النوخذة		
	الصرنج	يعتبر نائباً للنوخذة	الوكيل		
	المعلم	صاحب المعرفة في شؤون الفلك والخرائط البحرية والقياس والبوصلة وأجزاء السفينة	الصرنج		
	الربان	خبير الموانئ وأعماقها ونظام الدخول والخروج	المعلم		
65-3-5		هو الوقت الذي تسافر فيه المراكب من سواحل عمان الي الهند ومن سواحل شرقي أفريقيا الي عمان. ويعرف أيضا بالمفتاح	ما المقصود بموسم الديماني؟	فهم	.85
65-3-5		لأن البحر يفتح فيه للملاحة الشراعية	علل : يعرف موسم الديماني أيضا بالمفتاح.	فهم	.86
65-3-5		لأن هذه الفترة تشتد بها الرياح الجنوبية الغربية ويكون الابحار فيها خطيرا	فسر: توقف الملاحة من أول يونيو الي أواخر أغسطس من سواحل شرقي أفريقيا الي عمان قديما.	فهم	.87
66-3-5		الرهمانج(دليل الطريق) – البوصلة(الحقة،الديرة) – آلات تحديد ارتفاع النجوم – آلات قياس عمق المياه- الفاتوس(القنديل)	أذكر الأدوات التي لا بد لمعلم السفينة أن يأخذها معه؟	معرفة	.88
66-3-5		كانت تستقبل بالطبول والدفوف وكان حاكم الميناء يرسل الكسوة الكاملة لصاحب المركب أو وكيله وللربان	كيف كان نظام استقبال السفن في ظفار؟	معرفة	.89
67-3-5		أ- الشعب المرجانية والصخور الخفية- الدردور- الرمال المتحركة- التيارات البحرية والمياه	أذكر صعوبات الملاحة قديما في كل من : أ- الخليج العربي	معرفة	.90

		الضحلة- أمواج البحر على ساحل عمان ب- العواصف وشدة الرياح الموسمية الصيفية- الكائنات الغريبة- القموع الهوائية- تغير الرياح عند رأس الحد- الصخور والرمال- الكتبان الرملية	ب- المحيط الهندي		
	68-3-5	1- نقص الاخشاب اللازمة لصناعة السفن 2- انتشار القراصنة	ما الصعوبات الملاحية الخاصة بصناعة السفن وحركتها قديما؟	معرفة	.91
	3-5-68	أماكن تواجدها	أكمل الجدول التالي الذي يمثل الصعوبات الملاحية وأماكن تواجدها قديما:	تطبيق	.92
	67	الصعوبة الملاحية	أماكن تواجدها		
		الدردور	مسنم		
		تغير الرياح	رأس الحد		
		الصخور والرمال	جزر جنوب شرق آسيا وخليج موزمبيق		
		انتشار القراصنة	ساحل الصومال		
		سواحل غربي الهند وساحل جزيرة سقطرى	انتشار القراصنة		
	66-3-5		أمامك خريطة الموانئ في المحيط الهندي قديما، ارسم عليها الطرق الملاحية التالية: 1- طريق الخليج العربي الي ساحل الصين 2- طريق سواحل عمان الي غرب الهند 3- طريق سواحل عمان الي أفريقيا	مهاري - تطبيق	.93

					
73-1-6	<p>تأثيرها فن</p> <p>العمارة</p> <p>بناء السفن</p> <p>النقود</p> <p>بناء الكتابة</p> <p>السدود</p>	<p>الحضارة</p> <p>بلاد الرافدين</p> <p>المصريين</p> <p>الفينقيين</p> <p>اليونانيين</p>	<p>صل بخط بين العمود الأول الذي يمثل أهم الحضارات التي لها علاقة مع الفرس والعمود الثاني الذي يمثل تأثير هذه الحضارات.</p> <p>تأثيرها فن</p> <p>العمارة</p> <p>بناء السفن</p> <p>النقود</p> <p>بناء الكتابة</p> <p>المصريين</p> <p>الفينقيين</p> <p>اليونانيين</p> <p>السدود</p>	<p>معرفة</p>	.94
73-1-6	<p>أقاموا مشاريع الري وجلبوا المياه من الجبال وبنوا الخزانات والسدود وقسموا الأراضي الي إقطاعات يملكها النبلاء وكبار الأغنياء والمزارعين.</p>		<p>وضح كيف اهتم الفرس بالزراعة؟</p>	<p>فهم</p>	.95
73-1-6	<p>الأسلحة - الأقمشة الحريرية والصوفية- السجاد - المعادن - الأواني الفخارية - السفن</p>		<p>عدد أهم الصناعات التي ازدهرت في فارس؟</p>	<p>معرفة</p>	.96
73-1-6	<p>الهند والصين وأواسط آسيا وبلاد العرب وشرقي</p>		<p>ما الدول التي كانت لها علاقات تجارية مع الفرس</p>	<p>معرفة</p>	.97

رقم السؤال	معرفة	قديم؟	أفريقيا
98.	معرفة	عدد أهم البضائع المستوردة للفرس قديما؟	الحرير من الصين – البهارات والتوابل من الهند
99.	معرفة	كيف كان نظام الحكم قديما في الفرس؟	نظاما ملكيا وراثيا وللملك كل السلطات وهو الزعيم السياسي والروحي وسلطاته مقدسة ومطلقة
100.	معرفة	دلل على صحة العبارات التالية: أ- لقد حرص الساسانيون على إظهار العظمة والأبهة للملك. ب- كان للأشراف سلطة كبيرة في إقطاعياتهم.	أ – لم يسمح للناس العاديين من الرعية بالمثل بين يديه إلا من وراء حجاب – كان كبار الموظفين والوزراء يسجدون أمامه تعظيما له ب – كانوا يسنون القوانين – ويجبون الضرائب – وينفذون الأحكام القضائية
101.	فهم	علل: في عام 1978م قامت المظاهرات ضد الشاه في إيران من قبل معارضيه.	بسبب توسعه في إدخال الحضارة الغربية من وجهة نظرهم
102.	قدرات - تركيب	رتب الأحداث التاريخية التالية من الأقدم الى الأحدث: 1- تولى الشاه محمد رضا بهلوي السلطة في إيران 2- الدولة الساسانية 3- إنشاء الجمهورية الاسلامية الإيرانية 4- أصبحت إيران جزءا من الدولة العربية الاسلامية 5- تعرضت إيران لغزو المغول الذين دمروا حضارتها	3- 1- 4- 2- 5
103.	معرفة	أذكر بعض الاتفاقيات التي ابرمت بين عمان وايران في سبيل توطيد العلاقات؟	- اتفاقية التشجيع والحماية المتبادلة للاستثمارات - اتفاقية تجنب الازدواج الضريبي - اتفاقية التعاون العلمي والفني والبحثي - الاتفاقية التجارية
104.	معرفة	تنقسم جمهورية الهند الي ثلاث مناطق جغرافية مختلفة. ما هي؟	منطقة جبال الهمليا في الشمال – والسهول الوسطى ومنطقة الهضبة في الجنوب
105.	معرفة	من خلال الصورة التالية أوصف مدينة موهنجودارو الهندية:	- هي من أبرز المدن الهندية وتقع شمال غربي الهند على نهر السند. - بنيت فوق التلال ويظهر أنها كانت كبيرة وشوارعها مستقيمة وذات نظام لتصريف المياه من البيوت في مجار فخارية وبيوتها ضخمة

		وتضم حمامات كبيرة			
	79-2-6	<ul style="list-style-type: none"> - عملوا على تطوير اللغة الهندية القديمة المعروفة بالسنسكريتية - ادخلوا مفاهيم جديدة على الديانة الهندوسية - أوجدوا نظاما طبقيًا في المجتمع الهندي 	ما أهم التغييرات التي أحدثها الآريون في الحضارة الهندية؟	معرفة	.106
	80-2-6	<ol style="list-style-type: none"> 1- الكهنة والملوك 2- الفرسان والمحاربون 3- المزارعون والصناع 4- العبيد والخدم 5- المنبوذون 	رتب الطبقات الاجتماعية التالية في الهند حسب أهميتها: العبيد والخدم – المنبوذين – الكهنة والملوك – المزارعون والصناع – الفرسان والمحاربون	قدرات تحليل،	.107
	80-2-6	لأن الهنود كانوا يأخذون غبارا خفيفا ويبسطونه على لوح من الخشب ويرسمون عليه الأرقام	فسر العبارة التالية: عرفت الأرقام (1.2.3) بالغبارية.	فهم	.108
	79-2-6	<ol style="list-style-type: none"> 1- هي القبائل التي تربطها رابطة الدم وصلت الي شمال الهند قادمة من وسط آسيا نحو عام 1500 ق.م 2- فئة كبيرة من السكان لم يكن لهم مكان الحياة الاجتماعية الهندية وكانوا يجبرون على القيام بأسوأ الأعمال وأقذرها 	وضح المقصود بالمفاهيم التالية: 1- الآريون 2- المنبوذون	فهم	.109
	82-2-6	حزب المؤتمر الوطني و حزب الرابطة الاسلامية	ما الأحزاب المهمة التي تولت مهمة إخراج الانجليز من الاراضي الهندية؟	معرفة	.110

	<p>82-2-6</p>	<ul style="list-style-type: none"> - قام بجولات في معظم أنحاء الهند وطالب الهنود بعدم تنفيذ القوانين البريطانية - حث على مضاعفة انتاج الملابس الوطنية وعمل بنفسه على غزل الصوف - رضي أن يلقي به في السجن وأضرب عن الطعام عدة مرات - شجع على مقاطعة المنتجات الانجليزية 	<p>اشرح الدور الذي قام به غاندي لاستقلال الهند عن بريطانيا؟</p>	<p>فهم</p>	<p>.111</p>
	<p>85-3-6</p>	<p>1- روسيا-منغوليا-كازاخستان-الهند-تايلاند... 2- هوانج هو(النهر الأصفر)، يانجستي، بيرل ريفر</p>	<p>أدرس خريطة الصين التالية ثم أجب عن الأسئلة التي تليها:</p>  <p>1 - تمتلك الصين حدودا طويلة مع 14 دولة. ا ستخرج من الخريطة أربع من أكبر الدول التي تحيط بها؟ 2 - تخترق الصين ثلاثة أنهار كبرى. عددها ؟</p>	<p>مهاري، تطبيق</p>	<p>.112</p>

	85-3-6	<p>1 - البحر الأصفر. 2 - صحراء جوبي</p>	<p>أدرس الخريطة التالية جيدا ثم أجب عن الأسئلة التي تليها:</p>  <p>1- ما البحر الذي يصب فيه النهر الأصفر؟ 2- ما الظاهرة الجغرافية الطبيعية التي تشمل القسم الأكبر من المناطق الشمالية للصين؟</p>	مهاري، تطبيق معرفة،	.113
	88-3-6	نظرا لتعرض الصين لهجمات القبائل متكرر	علل: أمر الامبراطور هوانج باتمام سور الصين ووصل أجزائه؟	فهم	.114
	89-3-6	<p>1- اختراع الورق 2- صناعة الاطباق والمزهريات والتحف الجميلة من التراب الصيني الأبيض. 3- صناعة الأدوات الحربية والزراعية 4- اختراع البوصلة 5- تطوير أساليب الري</p>	عدد أبرز إنجازات الحضارة الصينية؟	معرفة	.115

		6- صناعة العربات ذات العجلات التي تجرها الخيول 7- صناعة الحرير			
	89-3-6	أ- صناعة الأطباق والمزهريات والتحف الصينية ب- اختراع الورق ت- صناعة الأدوات الحربية والزراعية	أذكر دليلا واحدا على كل من : أ- استغلال التراب الصيني الأبيض في الصناعة. ب- الاهتمام بنشر التعليم. ت- استخدام المعادن الصلبة	معرفة	.116
	3-6- 89و88	1 - اتمام سور الصين العظيم ووصل أجزائه 2 - ازدياد اتصال الصين بالعالم الخارجي	أذكر نتيجة واحدة لكل من : 1 - تعرض الصين لهجوم متكرر من القبائل الشمالية. 2 - صنع الصينيون العربات ذات العجلات.	معرفة	.117
	91-3-6	بسبب مصادرة الصين عام 1938م لكميات الأفيون التي كانت بحوزة التجار البريطانيين	فسر: قيام حرب الأفيون بين بريطانيا والصين.	فهم	.118
	3-6- 94و93	- اتفاقية التعاون الاعلامي بين وكالة الأنباء العمانية ونظيرتها الصينية. - قيام شركة النفط الصينية الوطنية باستثمارات ضخمة في السلطنة. - التعاون السياحي من خلال الفنادق والمنشآت السياحية - زيارة سفينة صحار للصين عام 1981م	ما أبرز مظاهر التعاون بين السلطنة والصين؟	معرفة	.119
	87-3-6	- اعتبر أن الأسرة أهم فئات المجتمع الصيني - أكد على طاعة القوانين والتي يجب أن تكون عادلة للجميع	ما أهم الأفكار التي نادى بها كونفوشيوس؟	معرفة	.120
	87-3-6	- التعاون والأمانة والاحترام المتبادل بين جميع أفراد المجتمع الصيني.	ما الأسس التي تبنى عليها العلاقات الاجتماعية في فكر كونفوشيوس؟	معرفة	.121
	96-4-6	بسبب امتدادها الطولي من الشمال للجنوب.	علل : يختلف مناخ اليابان من منطقة لأخرى.	فهم	.122
	96-4-6	مناخها في معظم المناطق الوسطى والجنوبية معتدل شتاء وحر ورطب صيفا، ويكون الجو مطرا في بداية الصيف، بينما تتعرض للأعاصير سنويا في نهاية فصل الصيف.	صف المناخ في اليابان؟	معرفة	.123

		أما الأجزاء الشمالية من البلاد فيكون مناخها باردا وغالبا ما تتعرض للعواصف الثلجية في فصل الشتاء.		
124.	96-4-6	<ul style="list-style-type: none"> - استخدام الحروف الصينية في الكتابة - بنوا عاصمتهم القديمة (نارا) وفقا لنماذج الأباطرة الصينيين - كتبوا قوانين مأخوذة كليا عن القوانين الصينية 	ما مظاهر التأثير الصيني في اليابان؟	معرفة
125.	97-4-6	<ul style="list-style-type: none"> - ألغى الحكومة العسكرية - وضع دستوراً للبلاد - أنشأ م مجلساً نيابياً - نقل العاصمة من كوتو الي إيدو (طوكيو حالياً) 	أذكر أهم الاصلاحات التي قام بها الامبراطور هينو؟	معرفة
126.	97-4-6	<ul style="list-style-type: none"> أ- هم طبقة المحاربين والأقطاعيين. ب- هو رئيس أقوى القبائل 	وضح المقصود بكل من : أ- الساموري ب- الشوغون	فهم
127.	93-4-6	هونشو - هو كايدو - كيوشو - وشيكوكو	سمي أكبر أربع جزر في اليابان؟	معرفة
128.	4-6 97 و 98 96	<ol style="list-style-type: none"> 1- يجعلها بصورة دائمة بالكوارث والازمات 2- استخدامهم الحروف الصينية في الكتابة 3- نهاية وحدة اليابان 4- تطور اليابان وجعها قوة صناعية وعسكرية 5- للحلفاء في 2 سبتمبر عام 1945م 	<p>أذكر نتيجة واحدة للأحداث التالية:</p> <ol style="list-style-type: none"> 1- تتعرض اليابان الي الكثير من البراكين والهزات الارضية. 2- نظمت اليابان شؤونها وفقا للنموذج الصيني 3- الحروب المتواصلة بين الاسر الحاكمة اليابانية 4- تسلم امبراطور هينو العرش في اليابان 5- إلقاء القنابل النووية على هيروشيما وناجازاكي اليابانيتين. 	معرفة
129.	103-5-6	اندونيسيا بسبب كبر مساحتها وكثر عدد سكانها وموقعها الاستراتيجي المهم	ما الدولة التي تشكل مركز الثقل في منظمة الآسيان؟ وما السبب في ذلك؟	معرفة ، فهم

104-5-6	التجار العرب والمسلمين - الدعاة والعلماء من عرب وهنود	أذكر الفئات التي أسهمت في نشر الاسلام في جنوب شرق آسيا؟	معرفة	.130
103-5-6	بسبب سيطرة البرتغال وهولندا وبريطانيا واليابان على هذه المناطق بعد تلك الفترة	بم تفسر: تراجع الدور التجاري للعرب في الشرق بعد القرن الخامس الميلادي؟	فهم	.131
105-5-6	1- جزيرة ماليزيا (ملقا) 2- ولايتي صباح وسراواك	تنقسم ماليزيا الي منطقتين متميزتين. أذكرهما؟	معرفة	.132
106-5-6	عمل سلاطينها على تسهيل التجارة لكل السفن القادمة اليها من خلال الخدمات التي تقدم اليهم عن طريق هيئة تجارية ومستودعات للتخزين والامن وحاية السفن من القرصنة	علل: تعد ملقا المينا الأكثر تأثيرا في جنوب شرق اسيا	معرفة	.133
109-5-6	الحرص على اقامة المهرجانات السياحية للتسوق، تخفيض الاسعار في شتى انحاء ماليزيا دعوة أكبر عدد من السائحين خلال المهرجانات	ما اهم السياسات المتبعة لنمو السياحة في ماليزيا، مع ذكر أمثلة من المعالم السياحية؟	تذكر	.134
110-5-6	التعليم والتدريب وتقنية المعلومات ونظم الاتصالات والسياحة والطيران والصحة والنفط والغاز والخدمات الملاحية. اقامة المعارض التجارية بين البلدين والاستثمار التجاري	أذكر مظاهر العلاقة بين السلطنة وماليزيا؟	تذكر	.135