

شكراً لتحميلك هذا الملف من موقع المناهج العمانية



الامتحان الرسمي النهائي للمحافظات مسقط والداخلية والشرقية

[موقع المناهج](#) ← [المناهج العمانية](#) ← [الصف التاسع](#) ← [اجتماعيات](#) ← [الفصل الثاني](#) ← [الملف](#)

تاريخ نشر الملف على موقع المناهج: 2023-05-22 05:32:54

التواصل الاجتماعي بحسب الصف التاسع



روابط مواد الصف التاسع على تلغرام

[الرياضيات](#)

[اللغة الانجليزية](#)

[اللغة العربية](#)

[التربية الاسلامية](#)

المزيد من الملفات بحسب الصف التاسع والمادة اجتماعيات في الفصل الثاني

| | |
|---|---|
| نموذج إجابة الامتحان النهائي الرسمي للمحافظات مسقط والداخلية والشرقية | 1 |
| الامتحان الرسمي النهائي للمحافظات مسقط والداخلية والشرقية | 2 |
| اختبار قصير أول حول درس الانفجار السكاني | 3 |
| ملخص شرح درس اليابان | 4 |
| أسئلة اختبارات قصيرة ونهائية للوحدة السادسة مع الإجابة | 5 |

(1)
المادة: الدراسات الاجتماعية
الصف: التاسع
الدور الأول - الفصل الدراسي الثاني-العام الدراسي 2023/2022م

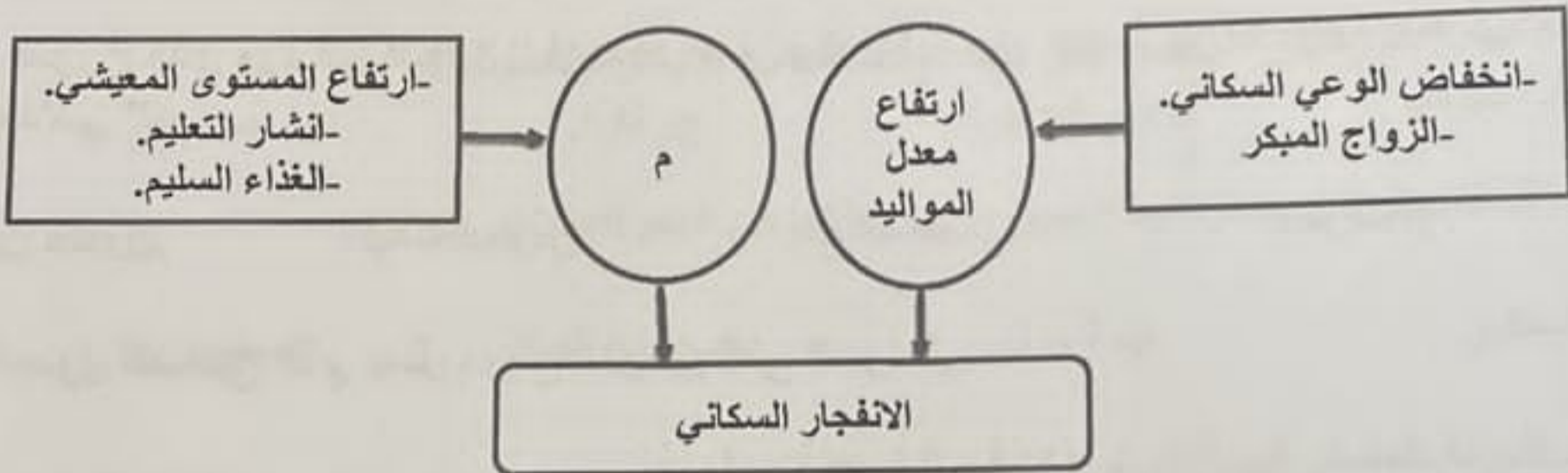
أجب عن جميع الأسئلة الآتية

السؤال الأول: ضع دائرة حول رمز الإجابة الصحيحة لكل مفردة من المفردات الآتية:

1- العلم الذي يهدف إلى التعريف بالسكان والظواهر السكانية من حيث أسبابها وعواملها وآثارها:

أ- التربية السكانية. ب- الانفجار السكاني. ج- الكثافة السكانية. د- النمو السكاني.

2- السبب الصحيح الذي يشير إليه الرمز (م) في الشكل الذي أمامك:



أ- انخفاض معدل الوفيات.
ب- ارتفاع معدل الهجرة.
ج- انخفاض معدل المواليد.
د- ارتفاع معدلات الوفيات.

3- حجم الباحثين عن عمل في دولة يصل عدد القادرين على العمل (300000) نسمة، والعاملين فيها فعلا (150000) نسمة:

أ- 450000 ب- 350000 ج- 250000 د- 150000

4- ميناء في الجنوب العماني ارتبط بتجارة اللبان والبخور والذهب منذ القدم:
أ- صور. ب- صحار. ج- ظفار. د- مسقط.

(2)
 المادة: الدراسات الاجتماعية
 الدور الأول - الفصل الدراسي الثاني العام الدراسي 2023/2022م
 الصف: التاسع

تابع السؤال الأول:

5- التيار البحري الدافئ الموضح في الخريطة المقابلة بالرمز (←):



- أ- بنجويلا.
- ب- اليابان.
- ج- البيرو.
- د- موزمبيق.

6- المؤرخ الذي ورد في كتاباته " أن مجد عمان وشهرتها جاء عن طريق نشاطها البحري والملاحي ":

- أ- ابن خلدون.
- ب- بطليموس.
- ج- المقدسي.
- د- أرسطو.

7- الجدول الصحيح الذي يمثل مواقع الموانئ على السواحل:

| الميناء | الموقع |
|---------|------------------------|
| ديو | الساحل الأفريقي الشرقي |
| سيراف | الساحل الهندي |
| ماليندي | ساحل الخليج العربي |

(ب)

| الميناء | الموقع |
|---------|------------------------|
| ديو | الساحل الهندي |
| سيراف | ساحل الخليج العربي |
| ماليندي | الساحل الأفريقي الشرقي |

(أ)

| الميناء | الموقع |
|---------|------------------------|
| ديو | ساحل الخليج العربي |
| سيراف | الساحل الهندي |
| ماليندي | الساحل الأفريقي الشرقي |

(د)

| الميناء | الموقع |
|---------|----------------------|
| ديو | الساحل الهندي |
| سيراف | ساحل الأفريقي الشرقي |
| ماليندي | ساحل الخليج العربي |

(ج)

(3)
المادة: الدراسات الاجتماعية
الدور الأول - الفصل الدراسي الثاني - العام الدراسي 2023/2022م
الصف: التاسع

تابع السؤال الأول:

8- نوع الحكم في الدولة المشار إليها بالرقم (1) على الخريطة المقابلة:



- أ- ديموقراطي.
- ب- ملكي.
- ج- سلطاني.
- د- جمهوري.

9- عاصمة اليابانيين القديمة التي بنيت وفقا لنماذج الأباطرة الصينيين:

- أ- طوكيو.
- ب- كيوتو.
- ج- نارا.
- د- ايدو.

10- المقاطعة التي استردتها الصين من بريطانيا في العام الميلادي 1997:

- أ- أمكاو.
- ب- تايوان.
- ج- هونج كونج.
- د- منشوريا.

11- الدولة المشار إليها بالرقم (1) في الخريطة المقابلة:



- أ- الهند.
- ب- اليابان.
- ج- ماليزيا.
- د- الفلبين.

12- العام الميلادي الذي تولى فيه محمد رضا بهلوي السلطة في إيران:

- أ- 1941
- ب- 1942
- ج- 1943
- د- 1944

(4)
المادة : الدراسات الاجتماعية
الدور الأول - الفصل الدراسي الثاني - العام الدراسي 2023/2022م
الصف : التاسع

السؤال الثاني:

1- ادرس الجدول الآتي، ثم أجب عن الأسئلة التي تليه:

| وجه المقارنة | عدد السكان | عدد المدارس | المستشفيات | وضع الطرق |
|--------------|------------|-------------|------------|-----------|
| المدينة (1) | 50000 | 20 | 3 | معبدة |
| المدينة (2) | 100000 | 22 | 4 | معبدة |
| المدينة (3) | 200000 | 25 | 4 | معبدة |

- أي المدن الثلاث يمكن أن تقدم حياة أفضل لمواطنيها؟

- المدينة (1)
 المدينة (2)
 المدينة (3)

(ظلل الإجابة الصحيحة)

- فسر اجابتك.

2- ادرس الجدول الذي أمامك جيدا ثم أجب عن الأسئلة التي تليه:

| الموقع | عدد السكان (بالمليون) | معدل المواليد (بالألف) | معدل الوفيات (بالألف) | الزيادة الطبيعية (بالألف) |
|-------------------------|-----------------------|------------------------|-----------------------|---------------------------|
| أفريقيا | 832 | 38 | 14 | 24 |
| آسيا | *3,776 | 22 | 8 | 14 |
| أوروبا | 727 | 10 | 11 | 1 |
| أمريكا الشمالية | 322 | 14 | 9 | 6 |
| أمريكا الجنوبية والوسطى | 535 | 24 | 6 | 18 |
| الأوقيانوسية | 31,8 | 18 | 7 | 11 |
| العالم | *6,520,8 | 22 | 9 | 13 |

*اقرأ بالمليار

أ- استنتج اسم القارة الأعلى من حيث معدل الوفيات في العالم.

ب- دلل من الجدول السابق على أن قارة آسيا تعاني من انفجار سكاني كبير.

3- عدد اثنين من كل مما يلي:

أ- الآثار الاقتصادية والاجتماعية للانفجار السكاني.

ب- المنتجات الزراعية التي حملتها السفن التجارية العمانية إلى موانئ المحيط الهندي.

المادة: الدراسات الاجتماعية (5)
الدور الأول - الفصل الدراسي الثاني - العام الدراسي 2023/2022م
الصف: التاسع

السؤال الثالث:
1- عرف المفاهيم الآتية:
أ- الانفجار السكاني:

ب- الفرقاطة:

2- أمامك خريطة موانئ المحيط الهندي وشرقي أفريقيا، ادرسها جيدا، ثم أجب عن الأسئلة التي تليها:



أ- ضع دائرة حول الميناء العماني الذي كان محطة تجارية للتزود بالمياه وراحة للمسافرين.
ب- أكتب على الخريطة (المحيط الهندي / البحر الأحمر) في مكانهما الصحيح.

ج- الرقم الذي يشير الى الميناء الذي اشتهر قديما كمحطة لاستيراد الخيول العربية

برأيك كيف ساعدت الرياح الموسمية (الصيفية والشتوية) العمانيين على ركوب البحر.

(6)
المادة: الدراسات الاجتماعية
الدور الأول - الفصل الدراسي الثاني - العام الدراسي 2023/2022م
الصف: التاسع

السؤال الرابع:

1- أكتب نتيجة واحدة تركتها الحرب العالمية الثانية على اليابان في الجوانب الآتية:



أ- المواصلات:

ب- الغذاء:

ج- الأراضي التابعة لها:

د- القوات العسكرية:

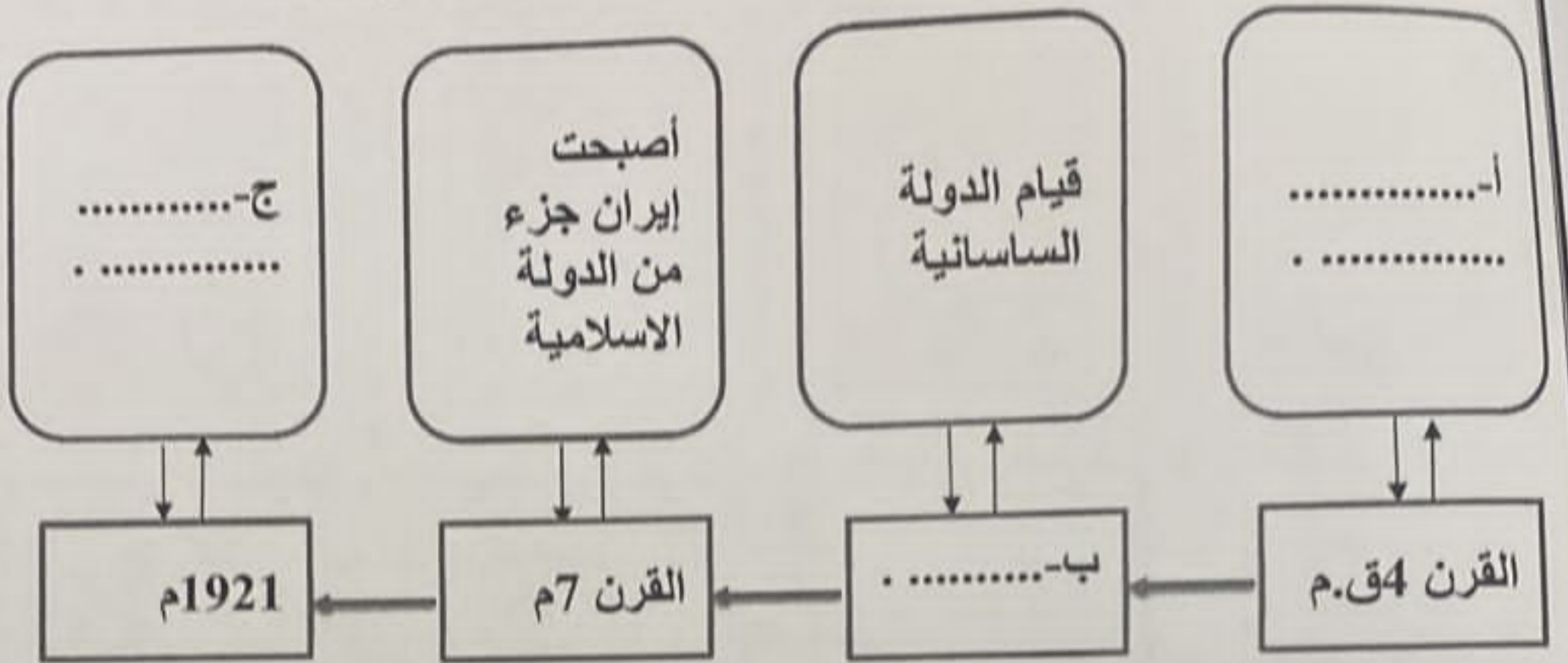
2- اكتب اسم الدول التي تنتمي إليها المعالم الحضارية الآتية:

| الدولة | المعلم الحضاري |
|----------|---|
| أ- |  |
| ب- |  |

(7)
 المادة: الدراسات الاجتماعية
 الدور الأول - الفصل الدراسي الثاني - العام الدراسي 2023/2022 م
 الصف: التاسع

السؤال الخامس:

1- أكمل المسطرة الزمنية الآتية التي توضح أهم الأحداث التاريخية في إيران.



2- أمامك خريطة الصين القديمة، ادرسها جيدا ثم أجب عن الأسئلة التي تليها:



أ- في أي جهة يقع السور الموضح في الخريطة بالنسبة لجمهورية الصين؟

.....

ب- اكتب اسم النهر المشار إليه بالرقم (1)

ج- ضع دائرة على عاصمة جمهورية الصين في الخريطة.

انتهت الأسئلة مع الدعاء للجميع بالتوفيق والنجاح.