

تم تحميل هذا الملف من موقع المناهج العُمانية



\*للحصول على أوراق عمل لجميع الصفوف وجميع المواد اضغط هنا

<https://almanahj.com/om>

\* للحصول على أوراق عمل لجميع مواد الصف التاسع اضغط هنا

<https://almanahj.com/om/9>

\* للحصول على جميع أوراق الصف التاسع في مادة اجتماعيات ولجميع الفصول, اضغط هنا

<https://almanahj.com/om/9social>

\* للحصول على أوراق عمل لجميع مواد الصف التاسع في مادة اجتماعيات الخاصة بـ الفصل الأول اضغط هنا

<https://almanahj.com/om./9social1>

\* لتحميل كتب جميع المواد في جميع الفصول للـ الصف التاسع اضغط هنا

<https://almanahj.com/om./grade9>

للتحدث إلى بوت المناهج العمانية على تلغرام: اضغط هنا

[https://t.me/omcourse\\_bot](https://t.me/omcourse_bot)



امتحان الصف : التاسع  
للعام الدراسي ١٤٣٧/١٤٣٨ هـ - ٢٠١٦/٢٠١٧ م  
الدور الاول - الفصل الدراسي الاول

- المادة: الدراسات الاجتماعية
- زمن الإجابة: ساعة و نصف
- عدد صفحات أسئلة الامتحان: ( ٦ ) صفحات.
- الإجابة في الورقة نفسها.

		اسم الطالب
الصف		المدرسة

التوقيع بالاسم		الدرجة		السؤال
المصحح الثاني	المصحح الأول	بالحروف	بالأرقام	
				١
				٢
				٣
				٤
مراجعة الجمع	جمعه			المجموع
				المجموع الكلي

(١)

امتحان الصف التاسع

للعام الدراسي ١٤٣٧/١٤٣٨ هـ - ٢٠١٦/٢٠١٧ م

الدور الاول - الفصل الدراسي الاول

المادة: الدراسات الاجتماعية

أجب عن جميع الأسئلة الآتية

السؤال الأول: ضع دائرة حول رمز الإجابة الصحيحة لكل مفردة من المفردات الآتية:

١- بلغت نسبة النوع في مجتمع من المجتمعات ١٠٥-١٠٠ تدل هذه النسبة على:

أ- يولد ١٠٥ من الذكور مقابل ١٠٠ من الإناث.

ب- يولد ٢٠٥ من الذكور مقابل ١٠٠ من الإناث.

ج- يولد ١٠٠ من الذكور مقابل ١٠٥ من الإناث.

د- يولد ١٠٠ من الذكور مقابل ١٠٠ من الإناث.

٢- السنة التي تعتبر سنة الأساس لتعداد ٢٠٠٣م في سلطنة عمان:

أ- ١٩٩٠م ب- ١٩٩١م ج- ١٩٩٢م د- ١٩٩٣م

٣- يطلق على زيادة أعداد السكان من سنة لأخرى نتيجة زيادة عدد المواليد و انخفاض عدد الوفيات و الهجرة :

أ- النمو السكاني ب- الكثافة السكانية ج- معدل المواليد د- الزيادة الطبيعية

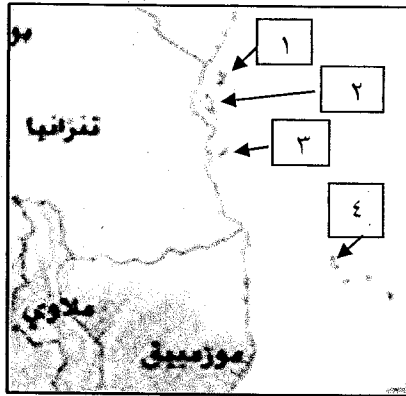
٤- الشخصية العمانية التي قامت بالرحلة المشهورة على ظهر السفينة سلطنة الى ميناء

نيويورك عام ١٨٤٠م:

أ- السيد حمد بن سليمان البوسعيدي ب- الشيخ أحمد بن نعمان الكعبي

ج- الشيخ حسن الفارسي د- السيد سليمان بن حمد البوسعيدي

٥- الرقم الذي يشير الى موقع الجزيرة التي يوجد بها نهر مويرا في الخريطة التي امامك:



أ- (١)

ب- (٢)

ج- (٣)

د- (٤)

٦- كانت أولى الهجرات العربية الى شرقي افريقيا هجرة اولاد الجندي في القرن الميلادي:

أ- الخامس ب- السادس ج- السابع د- الثامن

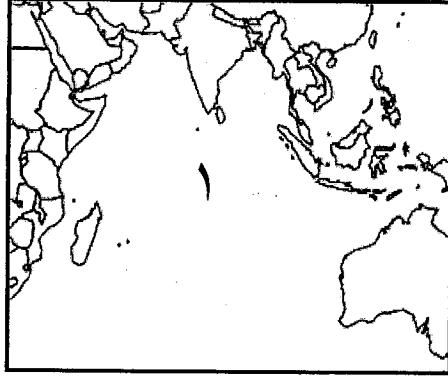
(٢)

تابع امتحان الصف التاسع  
للعام الدراسي ١٤٣٧/١٤٣٨ هـ - ٢٠١٦/٢٠١٧ م  
الدور الاول - الفصل الدراسي الاول  
المادة: الدراسات الاجتماعية

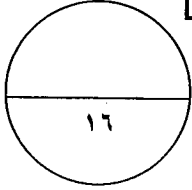
تابع السؤال الأول:

٧- يوجد مقر مجمع الفقه الإسلامي في مدينة:

- أ- المدينة المنورة      ب- مكة المكرمة      ج- الرياض      د- جدة
- ٨- المسطح المائي المشار اليه بالرقم ( ١ ) في الخريطة التي امامك:



- أ- المحيط الهندي  
ب- المحيط الأطلسي  
ج- المحيط الهادئ  
د- البحر المتوسط



السؤال الثاني : اجب عن الأسئلة التالية :

أ) ١ - عرف ما يلي :

أ - أمد الحياة :

.....  
.....

ب - الجوار الجغرافي :

.....  
.....

ب) ١ - علل : ترتفع معدلات المواليد في المجتمعات الزراعية.

.....  
.....

(٣)

تابع امتحان الصف التاسع  
للعام الدراسي ١٤٣٧/١٤٣٨ هـ - ٢٠١٦/٢٠١٧ م  
الدور الأول - الفصل الدراسي الأول  
المادة: الدراسات الاجتماعية

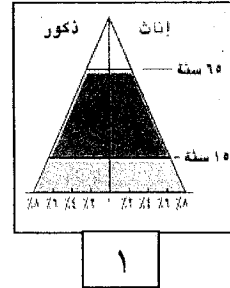
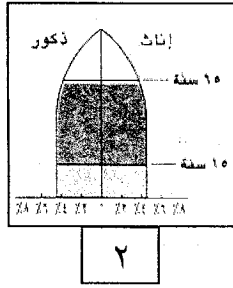
تابع السؤال الثاني :

تابع ب)

٢- صنف مصادر الحصول على البيانات السكانية التي بين القوسين في الجدول التالي :  
( التعداد السكاني - سجلات المدارس - التسجيل الحيوي - سجلات المؤسسات الحكومية و الأهلية )

المصادر الثانوية	المصادر الأساسية

ج - ١- امامك نوعين من الاهرام السكانية ادرسهما جيدا ثم اجب عن الأسئلة التي تليهما:



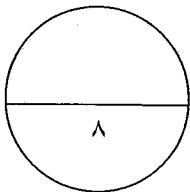
أ- ما نوع الهرم السكاني المشار بالرقم ( ١ ) .

ب- ضع امام كل خاصية من الخصائص التالية رقم الهرم المناسب لها.

١ - انخفاض نسبة صغار السن و زيادة نسبة كبار السن

٢- زيادة نسبة صغار السن بنحو ٥٠% من مجمل السكان

ج- أي من الدولتين التاليتين ينطبق عليها الهرم رقم ( ١ ) .  
 الولايات المتحدة.  المكسيك. - ضع علامة (√) امام الإجابة الصحيحة.



(٤)

تابع امتحان الصف التاسع

للعام الدراسي ١٤٣٧/١٤٣٨ هـ - ٢٠١٦/٢٠١٧ م

الدور الاول - الفصل الدراسي الاول

المادة : الدراسات الاجتماعية

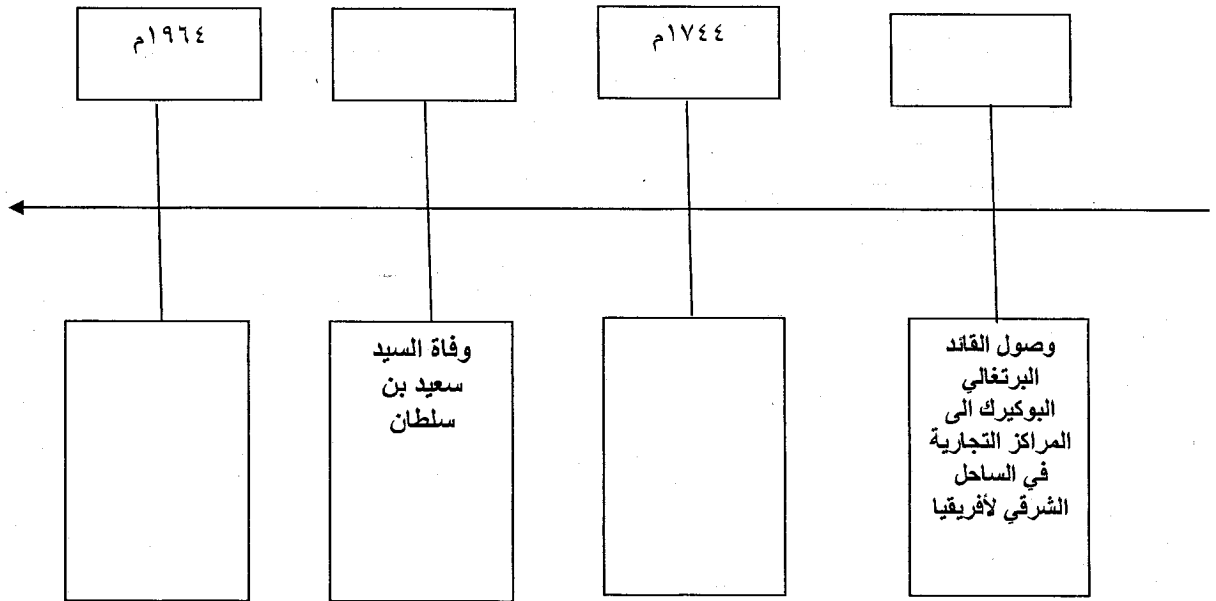
السؤال الثالث : أجب عن الأسئلة التالية.

أ - أنكر سببين لكل من:

١ - الوفيات حول العالم.

٢- تفوق جزيرة زنجبار على غيرها من المراكز الأخرى في شرقي أفريقيا.

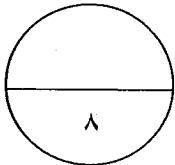
ب ١- رتب الاحداث و الاعوام التاريخية الموجودة بين القوسين في المسطرة الزمنية التالية.  
(١٨٥٦م - الاعلان الرسمي عن اتحاد زنجبار مع تنجانيقا - ١٥٠١م - تولى الامام احمد بن سعيد الحكم في عمان ) .



ج- فسر ما يلي :

١ - عقدت السلطنة العديد من الاتفاقيات الاقتصادية والتجارية مع الدول الإسلامية .

٢ - حصول جلالة السلطان على جائزة السلام الدولية من قبل عشر جامعات أمريكية عام ١٩٩٨ م .

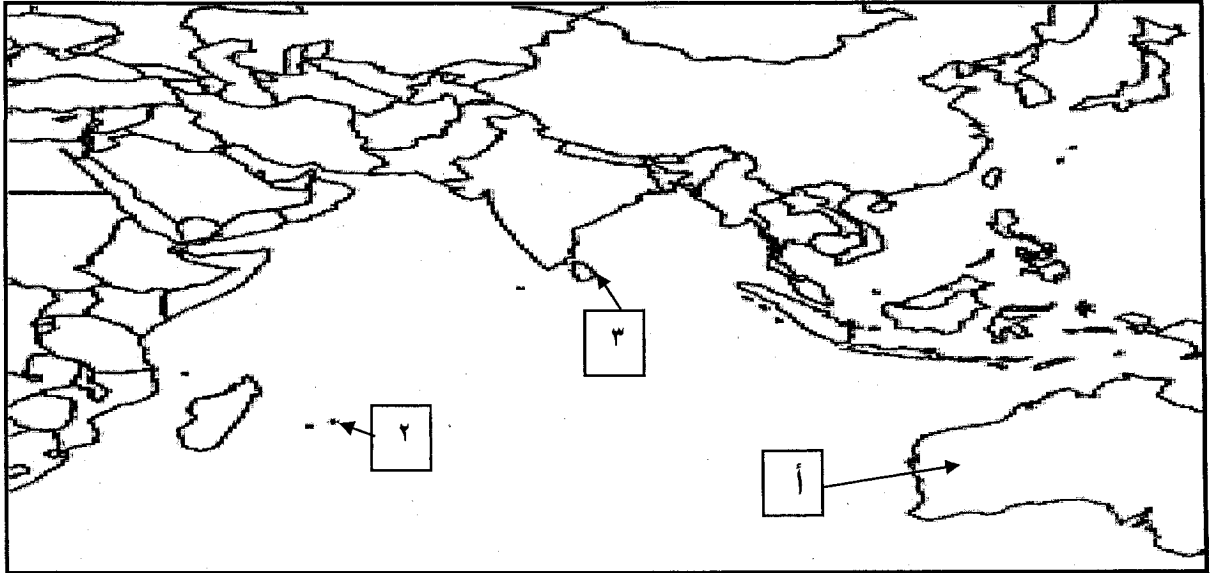


(٥)

تابع امتحان الصف التاسع  
للعام الدراسي ١٤٣٧/١٤٣٨ هـ - ٢٠١٦/٢٠١٧ م  
الدور الاول - الفصل الدراسي الاول  
المادة: الدراسات الاجتماعية

السؤال الرابع :

أ - امامك خريطة العالم ادرسها جيدا ثم اجب عن الأسئلة التي تليها:



١- ضع الرقم ( ١ ) على موقع الدولة التي يتوقع ان تحتل المرتبة الأولى عالميا من حيث عدد السكان عام ٢٠٥٠ م.

٢- سالم بحار عماني يمتلك سفينة تجارية شراعية خرج من مسقط للتجارة عام ١٨٥٠ م الى جزيرة مدغشقر. ارسم على الخريطة خط سير هذه الرحلة البحرية.

٣ - رقم الجزيرة التي استورد منها السيد سعيد بن سلطان محصول القرنفل.....

٤ - اسم الدولة المشار اليها بالرمز ( أ ) .....

ب - حدد في الجدول التالي وزارات السلطنة التي تتعاون مع المجالس و اللجان التابعة للأمم المتحدة:

الوزارات	المجالس و اللجان
	مجلس إدارة معهد اليونسكو للإحصاء
	المجلس الدولي الحكومي للبرنامج الدولي لتنمية الاتصال ( بدتا )
	لجنة التراث العالمي
	المجلس الدولي الحكومي لبرنامج إدارة التحولات الاجتماعية ( موست )

(٦)

تابع امتحان الصف التاسع

للعام الدراسي ١٤٣٧/١٤٣٨ هـ - ٢٠١٦/٢٠١٧ م

الدور الاول - الفصل الدراسي الاول

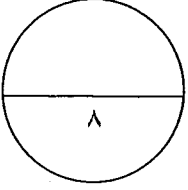
المادة: الدراسات الاجتماعية

تابع السؤال الرابع:

ج - اذكر هدفا واحدا لكل من :

١ - البنك الإسلامي للتنمية.

٢ - منظمة الأمم المتحدة للأغذية و الزراعة ( الفاو ).



انتهت الأسئلة مع الدعاء للجميع بالتوفيق والنجاح.





نموذج إجابة امتحان الصف التاسع  
للعام الدراسي ١٤٣٧/١٤٣٨ هـ - ٢٠١٦/٢٠١٧ م  
الدور الأول - الفصل الدراسي الأول

المادة: الدراسات الاجتماعية. الدرجة الكلية: ( ٤٠ ) درجة.  
تنبيه: نموذج الإجابة في ( ٥ ) صفحات.

أولاً: إجابة السؤال الموضوعي:

إجابة السؤال الأول ( ١٦ درجات لكل مفردة درجتان )				
المفردة	البديل الصحيح	الإجابة	الدرجة	الصفحة
١	أ	يولد ١٠٥ من الذكور مقابل ١٠٠ من الإناث.	درجتان	١٦
٢	د	١٩٩٣ م	درجتان	٢٨
٣	أ	النمو السكاني	درجتان	٢٧
٤	ب	الشيخ أحمد بن نعمان الكعبي	درجتان	٤٤
٥	ب	( ٢ )	درجتان	٤٩
٦	ج	السابع	درجتان	٤٠
٧	ب	مكة المكرمة	درجتان	٧٥
٨	أ	المحيط الهندي	درجتان	٨١

(٢)  
تابع نموذج إجابة امتحان الصف التاسع  
للعام الدراسي ١٤٣٧/١٤٣٨ هـ - ٢٠١٦/٢٠١٧ م  
الدور الاول- الفصل الدراسي الاول  
المادة : الدراسات الاجتماعية

ثانيا: إجابة الأسئلة المقالية:

الدرجة الكلية: (٨) درجات		إجابة السؤال الثاني							
الصفحة	الدرجة	الإجابة الصحيحة	المفردة						
٢١	درجة	أ - امد الحياة : عدد السنوات المتوقع ان يعيشها الإنسان	-١						
٤١	درجة	ب- الجوار الجغرافي: الدول التي ترتبط فيما بينها بالموقع و القرب المكاني و الامتداد الجغرافي حيث تتقاسم الموقع الفلكي و الحدود السياسية							
٢٨	درجتان	لاحتياجها الى الايدي العاملة ( مع مراعاة إجابة الطالب )	-١						
١١	درجتان لكل إجابة نصف درجة	<table border="1" style="width: 100%;"> <tr> <td>المصادر الثانوية</td> <td>المصادر الأساسية</td> </tr> <tr> <td>سجلات المدارس</td> <td>التعداد السكاني</td> </tr> <tr> <td>سجلات المؤسسات الحكومية و الأهلية</td> <td>التسجيل الحيوي</td> </tr> </table>	المصادر الثانوية	المصادر الأساسية	سجلات المدارس	التعداد السكاني	سجلات المؤسسات الحكومية و الأهلية	التسجيل الحيوي	-٢
المصادر الثانوية	المصادر الأساسية								
سجلات المدارس	التعداد السكاني								
سجلات المؤسسات الحكومية و الأهلية	التسجيل الحيوي								
٢٣	نصف درجة	أ - الهرم ذو القاعدة العريضة	-١						
٢٣	درجة لكل إجابة نصف درجة	<p>ب- ١ - <input type="checkbox"/> ٢</p> <p>٢ - <input type="checkbox"/> ١</p>							
٢٤	نصف درجة	ج- <input type="checkbox"/> ٧ المكسيك							

(٣)  
تابع نموذج إجابة امتحان الصف التاسع  
للعام الدراسي ١٤٣٧/١٤٣٨ هـ - ٢٠١٦/٢٠١٧ م  
الدور الاول- الفصل الدراسي الاول  
المادة : الدراسات الاجتماعية

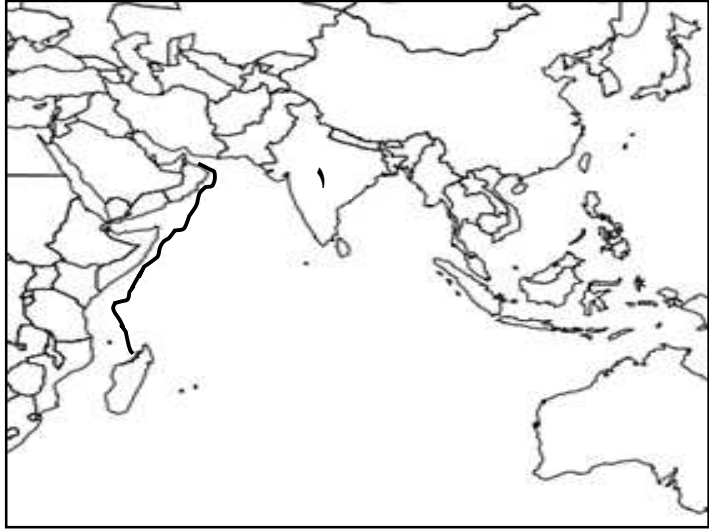
تابع : إجابة الأسئلة المقالية:

إجابة السؤال الثالث :		الدرجة الكلية: (٨) درجات	
الجزئية	المفردة	الإجابة الصحيحة	الدرجة
أ	١-	شروع الامراض و الحروب و الكوارث الطبيعية و البيئية و حوادث السير ( يكتفى بإجابتين )	درجتان ٢٩
	٢-	١- موقعها المتوسط بين موانئ شرقي أفريقيا. ٢- كونها جزيرة كانت اكثر امانا. ٣- انها ذات طقس معتدل و أراضيها خصبة. ٤- لها ميناء كبير صالح للملاحة. ٥- بها أعذب مياه في شرقي أفريقيا. ( يكتفى بإجابتين )	درجتان ٤٢
ب.		<div style="display: flex; flex-direction: column; align-items: center;"> <div style="border: 1px solid black; padding: 5px; margin-bottom: 10px;">١٥٠١ م</div> <div style="border: 1px solid black; padding: 5px; margin-bottom: 10px;">١٧٤٤ م</div> <div style="border: 1px solid black; padding: 5px; margin-bottom: 10px;">١٨٥٦ م</div> <div style="border: 1px solid black; padding: 5px;">١٩٦٤ م</div> </div>	درجتان لكل إجابة نصف درجة
		<div style="border: 1px solid black; padding: 5px; margin-bottom: 10px;">وصول القائد البرتغالي البوكيرك الى المراكز التجارية في الساحل الشرقي</div> <div style="border: 1px solid black; padding: 5px; margin-bottom: 10px;">عمان الحكم في سعيد احمد بن تولى الامام</div> <div style="border: 1px solid black; padding: 5px; margin-bottom: 10px;">وفاة السيد سعيد بن سلطان</div> <div style="border: 1px solid black; padding: 5px;">مع تنجانيقا اتحاد زنجبار الرسمي عن الاعلان</div>	

(٤)

تابع نموذج إجابة امتحان الصف التاسع  
للعام الدراسي ١٤٣٧/١٤٣٨ هـ - ٢٠١٦/٢٠١٧ م  
الدور الاول- الفصل الدراسي الاول  
المادة : الدراسات الاجتماعية

تابع : إجابة الأسئلة المقالية:

الدرجة الكلية: (٨) درجات		تابع إجابة السؤال الثالث :		
الصفحة	الدرجة	الإجابة الصحيحة	المفردة	الجزئية
٧٤	درجة	بهدف زيادة الاستثمار بين الطرفين.	١	ج
٨٨	درجة	تقديرًا لدور جلالتة في إرساء السلام العالمي. ( مع مراعاة إجابة الطالب )	٢	
الدرجة الكلية: (٨) درجة		إجابة السؤال الرابع:		
الصفحة	الدرجة	الإجابة الصحيحة	المفردة	الجزئية
٣١	درجة	(٢+١) الإجابة في الخريطة.	١	أ
٤٤	درجة		٢	
٥١ و ٤٤	درجة	٢	٣	ب
٨١	درجة	استراليا	٤	
٨٣	درجتان لكل إجابة نصف درجة	الوزارات	المجالس و اللجان	
		وزارة الاقتصاد الوطني	مجلس إدارة معهد اليونسكو للاحصاء	
		وزارة الاعلام	المجلس الدولي الحكومي للبرنامج الدولي لتنمية الاتصال ( بدتا )	
		وزارة التراث و الثقافة	لجنة التراث العالمي	
		وزارة التنمية الاجتماعية	المجلس الدولي الحكومي لبرنامج إدارة التحولات الاجتماعية ( موست )	

(٥)

تابع نموذج إجابة امتحان الصف التاسع  
للعام الدراسي ١٤٣٧/١٤٣٨ هـ - ٢٠١٦/٢٠١٧ م  
الدور الاول- الفصل الدراسي الاول  
المادة : الدراسات الاجتماعية

الدرجة الكلية: (٨) درجات		تابع إجابة السؤال الرابع :		
الصفحة	الدرجة	الإجابة الصحيحة	المفردة	الجزئية
٧٥	درجة	مساعدة الدول الفقيرة ليقوم بتنفيذ المشاريع التنموية في تلك البلدان.	١	ج
٨٤	درجة	١ - دراسة ظروف الزراعة و التغذية في العالم. ٢ - العمل على رفع مستوى التغذية. ٣- زيادة مصادر الإنتاج لمسايرة زيادة الاستهلاك. ٤- نشر معلومات التغذية الصحية ووسائل حفظ المنتجات الغذائية. ٥ - تشرف على بعض المشروعات التي تهدف الى تنمية الزراعة والغابات وصيد الأسماك. ( يكتفى بإجابة واحدة فقط )	٢	

نهاية نموذج الإجابة