

تم تحميل هذا الملف من موقع المناهج العمانية



الامتحان النهائي الرسمي الدور الأول بمحافظة شمال الباطنة

[موقع المناهج](#) ⇨ [المناهج العمانية](#) ⇨ [الصف التاسع](#) ⇨ [اجتماعيات](#) ⇨ [الفصل الثاني](#) ⇨ [الملف](#)

تاريخ إضافة الملف على موقع المناهج: 08:28:54 2024-06-09

التواصل الاجتماعي بحسب الصف التاسع



اضغط هنا للحصول على جميع روابط "الصف التاسع"

روابط مواد الصف التاسع على تلغرام

[الرياضيات](#)

[اللغة الانجليزية](#)

[اللغة العربية](#)

[التربية الاسلامية](#)

المزيد من الملفات بحسب الصف التاسع والمادة اجتماعيات في الفصل الثاني

الخرائط المقررة في المادة	1
مذكرة دراستي في كراستي	2
مذكرة إثرائية سؤال وجواب في الوحدة الرابعة التربية السكانية نموذج حديث	3
مذكرة إثرائية سؤال وجواب في الوحدة الخامسة التواصل الحضاري البحري العماني نموذج حديث	4

المزيد من الملفات بحسب الصف التاسع والمادة اجتماعيات في الفصل الثاني

[مذكرة إثرائية سؤال وجواب في الوحدة السادسة تاريخ آسيا
الحديث والمعاصر نموذج حديث](#)

5

أجب عن جميع الأسئلة الآتية

١٢ درجة

السؤال الأول: ضع دائرة حول رمز الإجابة الصحيحة لكل مفردة من المفردات الآتية:

١- العامل المسبب لارتفاع معدلات المواليد :

ب. توافر الغذاء السليم

أ. ارتفاع المستوى المعيشي

د. الزواج المبكر

ج. ارتفاع المستوى التعليمي

٢- عاصمة الدولة المظلمة في الخريطة المقابلة :

أ. بكين

ب. طوكيو

ج. طهران

د. نيودلهي



٣- المرتبة التي يحتلها اقتصاد الجمهورية الإسلامية الإيرانية في منطقة الشرق الأوسط وشمال أفريقيا:

د. الرابعة

ج. الثالثة

ب. الثانية

أ. الأولى

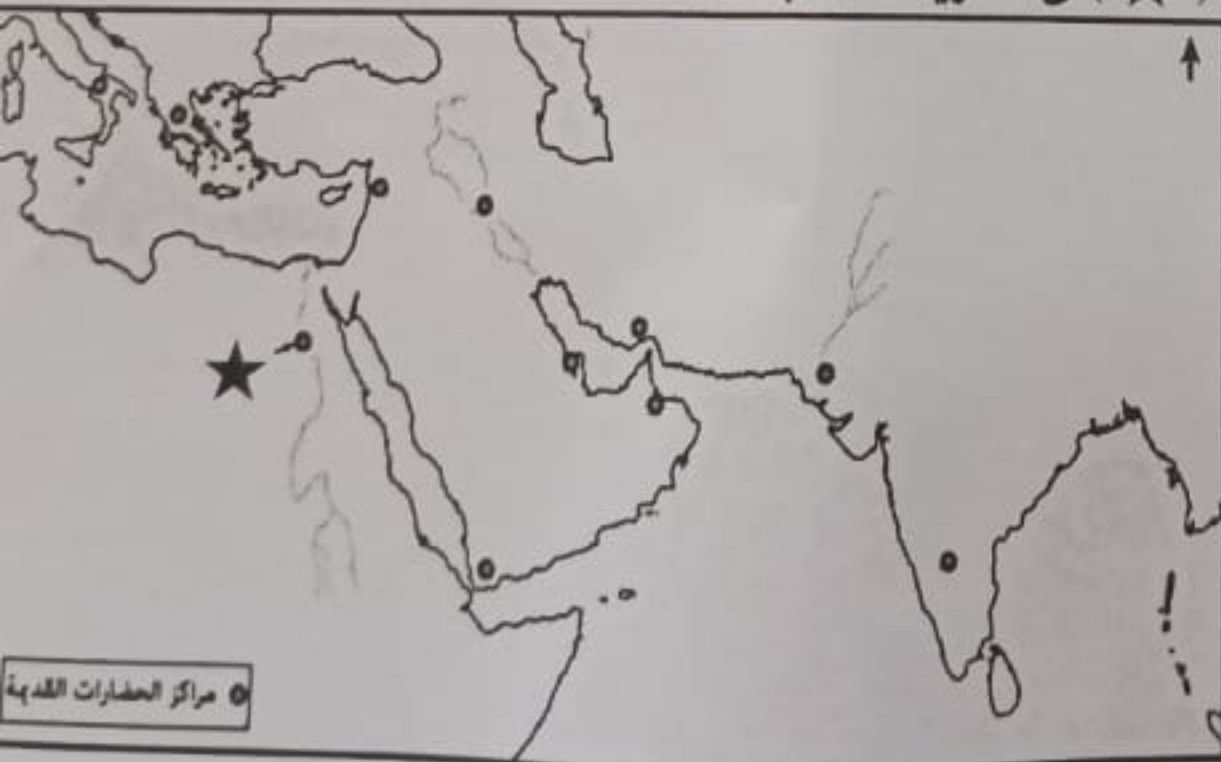
٤- اسم الحضارة المشار لها بالرمز (★) في الخريطة المقابلة :

أ. بلاد الشام

ب. دلمون

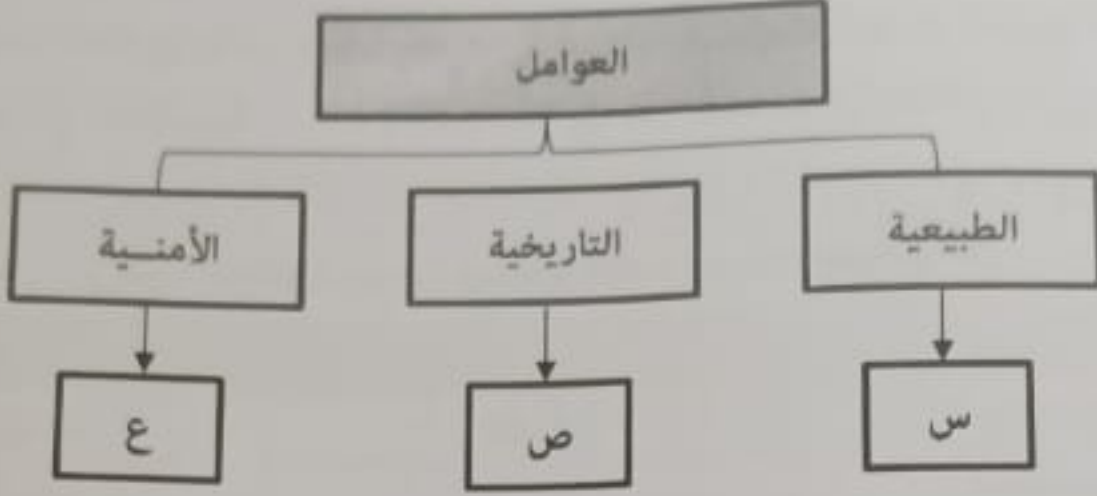
ج. المصرية

د. بلاد الرافدين



تابع السؤال الأول:

٥- الجدول الذي يمثل العوامل والمقومات التي أدت إلى أهمية دور عمان في مجال الملاحة والتجارة:



س	بعيدة عن الصراعات والاضطرابات
ص	المهد الأول للخبرات الملاحية الفينيقية
ع	يسود الجفاف معظم الأراضي

ب

س	يسود الجفاف معظم الأراضي
ص	المهد الأول للخبرات الملاحية الفينيقية
ع	بعيدة عن الصراعات والاضطرابات

أ

س	المهد الأول للخبرات الملاحية الفينيقية
ص	يسود الجفاف معظم الأراضي
ع	بعيدة عن الصراعات والاضطرابات

د

س	يسود الجفاف معظم الأراضي
ص	بعيدة عن الصراعات والاضطرابات
ع	المهد الأول للخبرات الملاحية الفينيقية

ج

٦- الدولة التي يقل فيها نصيب الفرد من السرعات الحرارية في اليوم الواحد حسب دراسات منظمة الفا

د. ألمانيا

ج. الهند

ب. اليابان

أ. بريطانيا

٧- الشكل الذي يعبر عن انجازات الحضارة الصينية:



د



ج



ب



أ

تابع السؤال الأول:

- ٨- العبارة التي تصف الملاحة العمانية في العصر القديم:
- أ. الإبحار باستخدام الصاري والشرع
- ب. تعقب البرتغاليين في الخليج العربي
- ج. استخدام المدافع المتطورة
- د. نشر الإسلام في المناطق التي وصلوا إليها

٩- العلاقة الصحيحة بين الزيادة السكانية وفرص العمل والمستوى المعيشي :

الزيادة السكانية	فرص العمل	المستوى المعيشي
أ. تزيد	تقل	يرتفع
ب. تقل	تزيد	ينخفض
ج. تزيد	تقل	ينخفض
د. تقل	تقل	يرتفع

- ١٠- السفير العماني الذي قاد السفينة (سلطانة) ووصل بها إلى ميناء نيويورك عام ١٨٤٠ م :
- أ. سلطان بن أحمد
- ب. أحمد بن سعيد
- ج. سلطان بن سيف
- د. أحمد بن النعمان

١١- الجدول الذي يمثل السلع التي استوردها الفرس من خلال العلاقات التجارية مع الحضارات الأخرى:

الهند	التوابل والبهارات
الصين	الحرير

ب.

الهند	الحرير
الصين	التوابل والبهارات

أ.

الهند	الحرير
الصين	السجاد والأسلحة

د.

الهند	السجاد
الصين	الحرير والأسلحة

ج.

١٢- العام الميلادي الذي زارت فيه السفينة الموضحة في الصورة المقابلة ميناء قوانتشو الصيني:



أ. ١٩٨٠

ب. ١٩٨١

ج. ١٩٨٢

د. ١٩٨٣

(٤)

المادة: الدراسات الاجتماعية الصف: التاسع الدور الأول - الفصل الدراسي الثاني - العام الدراسي ٢٠٢٣/٢٠٢٤م - الفترة الصباحية

السؤال الثاني:

٨ درجات

١- اكتب المصطلح أمام العبارة التي تعبر عنه في الجدول التالي:

الرمز	العبارة	المصطلح
أ	الزيادة الكبيرة في أعداد السكان بالمقارنة مع الموارد المتاحة.
ب	سفينة حربية صغيرة الحجم تستخدم للمناورة.

٢- اذكر واحدا لكل مما يلي :

أ. موانئ الساحل الهندي التي كانت مراكز رئيسية لتواجد السفن العمانية.

.....

ب. التحديات التي واجهت اليابان في بناء اقتصادها.

.....

٣- انسب الأعمال في الجدول إلى الشخصيات التاريخية الآتية بتظليل العمود المناسب:

م	الأعمال	هينو	كورش	الشاه	كونفو
أ	استطاع توحيد القبائل الفارسية وتأسيس امبراطورية واسعة.	<input type="checkbox"/>	<input type="checkbox"/>	<input type="checkbox"/>	<input type="checkbox"/>
ب	قامت ضده مظاهرات بسبب توسعه في إدخال الحضارة الغربية بعد توليه السلطة في إيران .	<input type="checkbox"/>	<input type="checkbox"/>	<input type="checkbox"/>	<input type="checkbox"/>
ج	امبراطور بدأت اليابان في عهده عصر جديد عرف بعصر الحكومة المستنيرة .	<input type="checkbox"/>	<input type="checkbox"/>	<input type="checkbox"/>	<input type="checkbox"/>
د	أشهر حكماء الصين اعتبر الأسرة أهم فئات المجتمع وأكد على طاعة القوانين .	<input type="checkbox"/>	<input type="checkbox"/>	<input type="checkbox"/>	<input type="checkbox"/>

السؤال الثالث:

٨ درجات

١- في ضوء الفقرة التالية أجب عما يليها من أسئلة:

(ترداد الحاجة إلى الطاقة يوما بعد يوم ، نتيجة زيادة عدد السكان والتقدم الاقتصادي والاجتماعي، مما يؤدي إلى تعرضها للاستنزاف لاسيما أن معظمها قابلة للنفاذ ...).

- أ. استنتج المشكلة التي تحدثت عنها الفقرة
- ب. استخرج من الفقرة واحدا لكل مما يلي :
١. سببا لهذه المشكلة
٢. نتيجة مرتبة على هذه المشكلة
- ج. اقترح حلا لهذه المشكلة
- د. حدد على الخريطة المقابلة القارة التي يتمركز فيها ٢٠% من الطلب العالمي للوقود والغاز .
(بوضع رمز ▲ في موقعها الصحيح) .

٢- اذكر نتيجة سلبية واحدة لكل مما يلي :

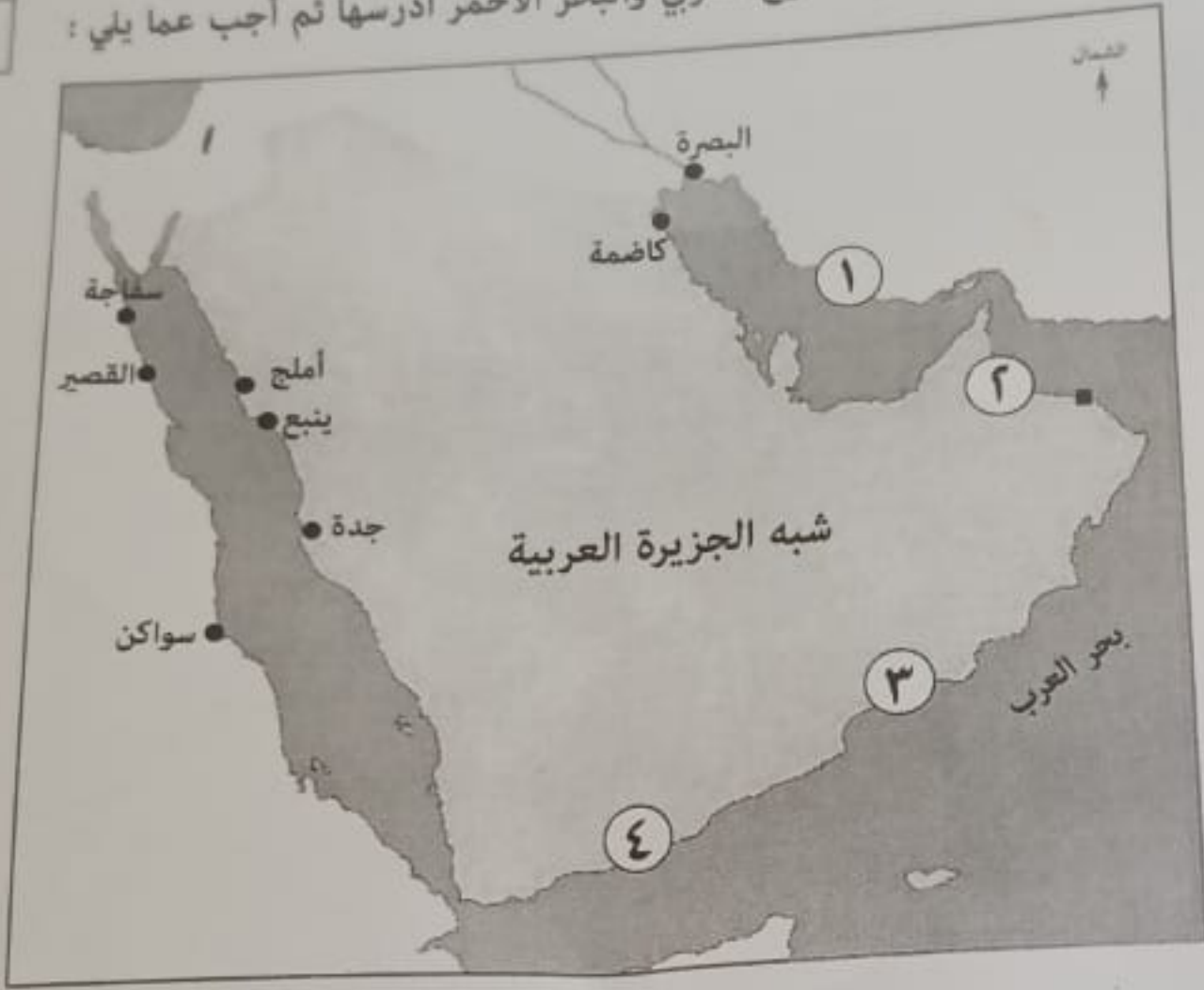
أ. مشكلة الضغط على الخدمات .

ب. دخول اليابان الحرب العالمية الثانية .

أعط مثلا واحدا على المنتجات الزراعية التي حملتها السفن العمانية في رحلاتها التجارية بين موانئ المحيط الهندي.

السؤال الرابع :

١- أمامك خريطة توضح موانئ الخليج العربي والبحر الأحمر ادرسها ثم أجب عما يلي :



أ. ضع دائرة على الميناء الذي يعتبر منفذا بحريا للعراق .

ب. استخراج أحد موانئ الساحل الشرقي للبحر الأحمر .

ج . ما الرقم الذي يشير إلى الميناء الذي وصفه الرحالة والجغرافيون بأنه قصبة عمان .

د. اذكر أحد السلع التي اشتهر بتجارها الميناء المشار له بالرقم (٣) .

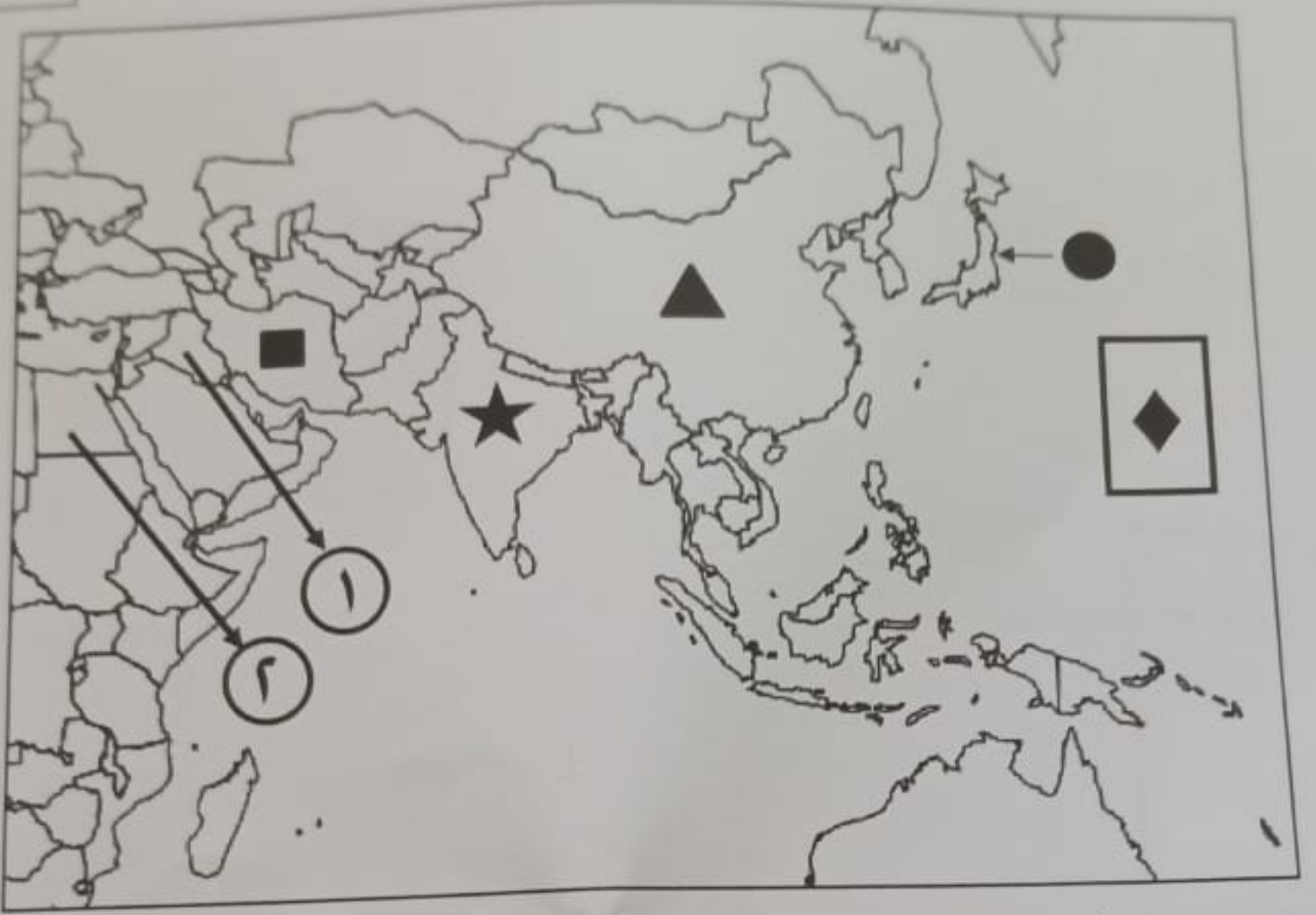
٢- برهن بدليل واحد على كل مما يلي :

أ. تطور الأسطول العماني في عهد السيد سعيد بن سلطان.

ب. كان للعمانيين دور في نشر اللغة العربية في المناطق التي وصلوا لها.

السؤال الخامس:

١- من خلال الخريطة المقابلة أجب عما يلي:



أ. ارسم بين الأقواس الرموز التي تشير للدول التالية:

- ١- () دخلت عالم الفضاء بإطلاق سفينة فضائية عام ٢٠٠٣ م .
 ٢- () تمتلك ثاني أكبر احتياطي غاز في العالم .
 ٣- () صمدت أمام عزوات المغول بفضل مقاتلي الساموراي .

ب. سم المسطح المائي المشار له بالرمز (◆)

٢- دلل على تأثير الحضارة الفارسية بالحضارات المشار لها بالرقمين (١،٢) في الخريطة :

أخذت عنها	الحضارة (١)	الحضارة (٢)
أ.	ب.	