

تم تحميل هذا الملف من موقع المناهج العمانية



الملف العنوان: مشروع بنك الأسئلة المقالية مع الإجابات

[موقع المناهج](#) ⇨ [المناهج العمانية](#) ⇨ [الصف التاسع](#) ⇨ [اجتماعيات](#) ⇨ [الفصل الأول](#)

روابط مواقع التواصل الاجتماعي بحسب الصف التاسع



روابط مواد الصف التاسع على تلغرام

[الرياضيات](#)

[اللغة الانجليزية](#)

[اللغة العربية](#)

[التربية الاسلامية](#)

المزيد من الملفات بحسب الصف التاسع والمادة اجتماعيات في الفصل الأول

[امتحان وإجابة الأسئلة الرسمية للفصل الدراسي الأول الدور الأول 20162017](#)

1

[تحميل كتاب الطالب](#)

2

[تجميع أسئلة سنوات سابقة](#)

3

[أسئلة للمراجعة على الوحدة الثانية](#)

4

[ملخص من أهلك مع اختبارات قصيرة](#)

5

مشروع بنك الأسئلة للصف ،التاسع،

الفصل الدراسي الأول

مادة الدراسات الاجتماعية

بنك أسئلة الصف التاسع / الفصل الدراسي الأول / مادة الدراسات الاجتماعية

ثانيا أسئلة المقالية

رقم الوحدة. الدرس.الصفحة	نموذج الإجابة	نص السؤال	نوع السؤال	م
10-1-1	العلم الذي يدرس السكان من حيث الحجم و خصائصهم (البنية العمرية ، و النوعية ، والاقتصادية ، و الاجتماعية) و نمو السكان (المواليد ، و الوفيات ، والهجرة) و الكثافة السكانية .	- عرف جغرافية السكان ؟	تذكر	1
10-1-1	العد أو الاحصاء ، و يقصد به جمع البيانات و المعلومات بكل تفاصيلها المتعلقة بجميع مفردات مجتمع معين في وقت محدد .	- عرف التعداد ؟	تذكر	2
11 - 1 - 1	لأن التعداد السكاني يوفر مخزونا كبيرا من البيانات و المعلومات عن السكان خلال فترة زمنية تساعد أصحاب القرار في مؤسسات الدولة على وضع الخطط التنموية المستقبلية اللازمة في ضوء المتغيرات السكانية حسب المناطق التي يتوزع فيها السكان .	- بم تفسر : التعداد السكاني يعد من المصادر الرئيسية لدراسة الخصائص و التغيرات السكانية في أي مجتمع .	تذكر	3
11 - 1 - 1	من خلال الاستفادة من البيانات و المعلومات عن سكان كل محافظة حسب آخر تعداد سكاني تم تنفيذه في كل محافظة و التعرف على الفئات العمرية و النوعية لكل محافظة أتمكن من التخطيط لتوفير عدد المدارس حسب عدد الطلاب .	- إذا كنت وزيرا للتربية و التعليم ، وضح كيف يمكنك توفير العدد المناسب من المدارس للطلاب المقيمين في محافظة ما ؟	تطبيق	4
13 - 1 - 1	هي عملية جمع البيانات عن عينة مثلة للمجتمع ، وما ينطبق على هذا الجزء ينطبق على مجموع السكان .	عرف المسوحات بالعينة ؟	تذكر	5
	هو سجل يتناول بيانات دقيقة عن جميع السكان لأغراض التخطيط المختلفة و تتمثل هذه البيانات في (تاريخ الميلاد و الوفاة ، و الزواج و الطلاق ، و الترميل ، مكان الإقامة) ويتم تسجيلها في سجل الأحوال المدنية .	عرف التسجيل الحيوي ؟	تذكر	6

رقم الوحدة. الدرس.الصفحة	نموذج الإجابة	نص السؤال	نوع السؤال	م
	المسوحات بالعينة (الخصوبة ، الباحثين عن عمل) التسجيل الحيوي (عقد الزواج ، شهادة الميلاد)	صنف البيانات التالية حسب المصدر (الخصوبة ، ، عقد الزواج ، ، الباحثين عن عمل ، شهادة الميلاد) <div style="display: flex; justify-content: space-around; align-items: center;"> <div style="text-align: center;"> <div style="background-color: #4a7ebb; color: white; padding: 5px; border-radius: 10px; width: 150px; margin: 0 auto;">التسجيل الحيوي</div> <div style="border: 1px solid #4a7ebb; width: 100px; height: 30px; margin: 5px auto; text-align: center;">.....</div> <div style="border: 1px solid #4a7ebb; width: 100px; height: 30px; margin: 5px auto; text-align: center;">.....</div> </div> <div style="text-align: center;"> <div style="background-color: #4a7ebb; color: white; padding: 5px; border-radius: 10px; width: 150px; margin: 0 auto;">المسوحات بالعينة</div> <div style="border: 1px solid #4a7ebb; width: 100px; height: 30px; margin: 5px auto; text-align: center;">.....</div> <div style="border: 1px solid #4a7ebb; width: 100px; height: 30px; margin: 5px auto; text-align: center;">.....</div> </div> </div>	تطبيق	7
15-2-1	دراسة بنية السكان من حيث التركيب العمري والنوعي والاقتصادي والاجتماعي .	عرف بنية السكان؟	تذكر	8
15-2-1	المواليد والوفيات ، الهجرة بأنواعها الداخلية والخارجية	أذكر أهم المتغيرات التي تؤثر في بنية السكان ؟	تذكر	9
15-2-1	حسب المعادلة التالية : عدد السكان المعالين غير العاملين $100 \times \frac{\text{عدد العاملين المنتجين}}{\text{عدد السكان المعالين غير العاملين}}$	كيف يتم حساب نسبة الإعاقة؟	تذكر	10

15-2-1	لمعرفة التباين الإقليمي بين الدول والتباين بين الأقاليم في الدولة الواحدة بين الحضر والريف وبين المجتمعات والجماعات	فسر الاهتمام بدراسة بنية السكان ؟	11	فهم
15-2-1	يقصد بها توزيع (تصنيف) السكان حسب فئات العمر وتعد من أهم الخصائص المميزة لسكان أي مجتمع	ما المقصود بالبنية العمرية ؟	12	تذكر
16-2-1	1- اختلاف نوعية المهاجرين فالغالبية تكون من الذكور مما يؤدي إلي التباين بين البلد المرسل والمستقبل 2- عدم الدقة في تسجيل الإناث وإغفال التبليغ عن بعض ولادات الإناث أو التبليغ الخاطئ لنوع المولود. 3- اختلاف معدلات الوفيات بين الذكور والإناث فالحراب مثلا تعمل على زيادة الوفيات عند الذكور .	عدد العوامل التي تتأثر بها نسبة النوع؟	13	تذكر
2-1-1 صفحة 20 - 15	-البنية العمرية(1) -البنية النوعية (3) -البنية الاقتصادية(2)	صنف الحالات التالية حسب البنى السكانية التالية (-البنية العمرية -البنية النوعية -البنية الاقتصادية) : 1- يتكلم سكان سلطنة عمان اللغة العربية (.....) 2- أحمد باحث في وزارة الزراعة (.....) 3- يتم توزيع المعلمين والمعلمات علي مدارس السلطنة الذكور و الإناث حسب احتياجات المدارس (.....)	14	تطبيق
21-2-1	نتيجة لتقدم الدول المتقدمة في مكافحة الأوبئة والأمراض - الوعي الصحي بين الناس .	فسر : ارتفاع أمد الحياة في الدول المتقدمة أكثر من النامية .	15	فهم
15-2-1	نسبة الإعاقة = عدد السكان المعالين غير العاملين ÷ عدد العاملين المنتجين × 100 = 100 × 7 ÷ 3 = 42.9 % تقريبا	-أسرة مكونة من 10 أفراد يعمل الأب والأم وخمسة من أبنائهم ، احسب نسبة الإعاقة لهذه الأسرة	16	تطبيق
26-25-3-1	- المرحلة الأولى وتتميز بارتفاع معدلات المواليد يرافقها ارتفاع في معدلات الوفيات مما يؤدي إلي انخفاض السكان مثال الدول في القرنين 18-19 - المرحلة الثانية تتميز بارتفاع المواليد يرافقها انخفاض في معدلات الوفيات مثال الهند وبعض الدول الأفريقية ودول أمريكا اللاتينية - المرحلة الثالثة تتميز بانخفاض سريع في معدلات المواليد يرافقها انخفاض في معدلات الوفيات مثال	عدد مراحل الانتقال السكاني مع ذكر الخصائص لكل مرحلة ومثال عليها؟	17	تذكر

	الصين والبرازيل -المرحلة الرابعة تتميز بانخفاض في معدلات المواليد والوفيات بحيث تقترب من بعضها البعض مثال الدول المتقدمة مثل اليابان وإيطاليا وألمانيا .			
23-3-1	أنه يعطي صورة ملخصة لخصائص مجتمع من المجتمعات من حيث العمر والنوع وغيرهما .	وضح أهمية الهرم السكاني ؟	فهم	18
23-3-1	يتأثر بمتغيرات منها المواليد والوفيات، والهجرة الداخلية والخارجية .	ما هي المتغيرات التي تؤثر في شكل الهرم السكاني ؟	تذكر	19
26-3-1	وفق مجموعة من الخطوات تتمثل في - رصد سكان مجتمع الدراسة وتصنيفهم حسب الفئات العمرية - حساب نسبة ما تمثله كل فئة عمرية من مجموع السكان - رسم خط أفقي يمثل النسب و آخر عمودي يمثل الفئات العمرية ثم رسم خط عمودي ينصف الخط الأفقي (المحور الأوسط) - رسم الأعمدة البيانية الخاصة بفئات الذكور على يسار المحور الأوسط ثم فئات الإناث على يمينه .	عدد خطوات بناء الهرم السكاني ؟	تذكر	20
25-3-1	المرحلة الثانية	تندرج سلطنة عمان ضمن أي مرحلة من مراحل التحول الديموجرافي في العالم ؟	تذكر	21
27-4-1	زيادة أعداد السكان من سنة لأخرى نتيجة زيادة عدد المواليد وانخفاض عدد الوفيات والهجرة)	عرف النمو السكاني ؟	تذكر	22
27-4-1	بسبب الزيادة الطبيعية للسكان (الفرق بين المواليد والوفيات) بدون حساب الهجرة .	أذكر أسباب النمو السكاني العالمي ؟	تذكر	23
28-4-1	بالزيادة الطبيعية المواليد والوفيات	بماذا يرتبط النمو السكاني في العالم ؟	فهم	24
28-4-1	تعداد 2003	إذا علمت أن سلطنة عمان أجرت تعدادات للسكان في الأعوام (1993 ، 2003 ، 2010) فما هي سنة الأساس لتعداد 2010 ؟	فهم	25
28-4-1	هي حركة الأفراد من مكان إلى آخر سواء كانت الهجرة مؤقتة أم دائمة أم قسرية .	عرف المقصود بالهجرة ؟	تذكر	26
28-4-1	هي الفرق بين الهجرة الخارجية والهجرة الداخلية للدولة .	عرف صافي الهجرة ؟	تذكر	27
28-4-1	معدل المواليد الخام = عدد المواليد الأحياء في سنة معينة ÷ عدد السكان $1000 \times$	إذا افترضنا أن عدد المواليد الأحياء في سلطنة عمان 24000 مولودا لسنة 2005 وكانت تقديرات السكان في العام نفسه 2400,000 نسمة أحسب معدل المواليد الخام .	تطبيق	28
	$2,400,000 \div 24000 =$			

	$10=1000 \times$ بالآلاف			
28-4-1	بسبب الأوضاع الاقتصادية والاجتماعية وبحسب الثقافة السائدة في المجتمعات مثال: المجتمعات الزراعية التي تحتاج إلي اليد العاملة ترتفع فيها معدلات المواليد في حين تنخفض في المجتمعات الصناعية التي تعتمد على الآلة .	وضح بالأمثلة اختلاف معدلات المواليد بين الدول .	فهم	29
29-4-1	نتيجة لشيوع الأمراض -الحروب - الكوارث الطبيعية والبيئة -حوادث السير علي الطرقات	أذكر أسباب الوفيات ؟	تذكر	30
29-4-1	معدل الوفيات = عدد الوفيات في سنة معينة ÷ عدد السكان $11597=19,98,000 \div 5,857$ في الألف	إذا علمت أن أجمالي الوفيات في سلطنة عمان نتيجة عوامل مختلفة نحو (11597) شخصا لعام 2004 وقد بلغ عدد السكان في تلك السنة (1,980,000) نسمة . أحسب معدل الوفيات .	تطبيق	31
30-4-1	1 سلطنة عمان - سوريا - السودان -السعودية - المجتمع بسبب الأوضاع الاجتماعية والاقتصادية وثقافة المجتمع 2-الضغط علي الخدمات والموارد زيادة فئات الباحثين عن عمل . 3-الزيادة الطبيعية = عدد المواليد - عدد الوفيات $5 - 43 =$ 38 نسمة	-أدرس الجدول الذي يبين معدلات المواليد والوفيات لدول مختلفة من العالم حسب بيانات (2000) ثم أجب عن الأسئلة التالية : 1-استخرج الدول التي ترتفع فيها معدلات المواليد مع بيان السبب . 2- برايك ما هي المشكلات التي تواجهها الدول التي تلاحظ فيها نموا سكانيا مرتفعا ؟ 3- احسب الزيادة الطبيعية لسلطنة عمان ؟	تحليل تقويم تطبيق على التوالي	32

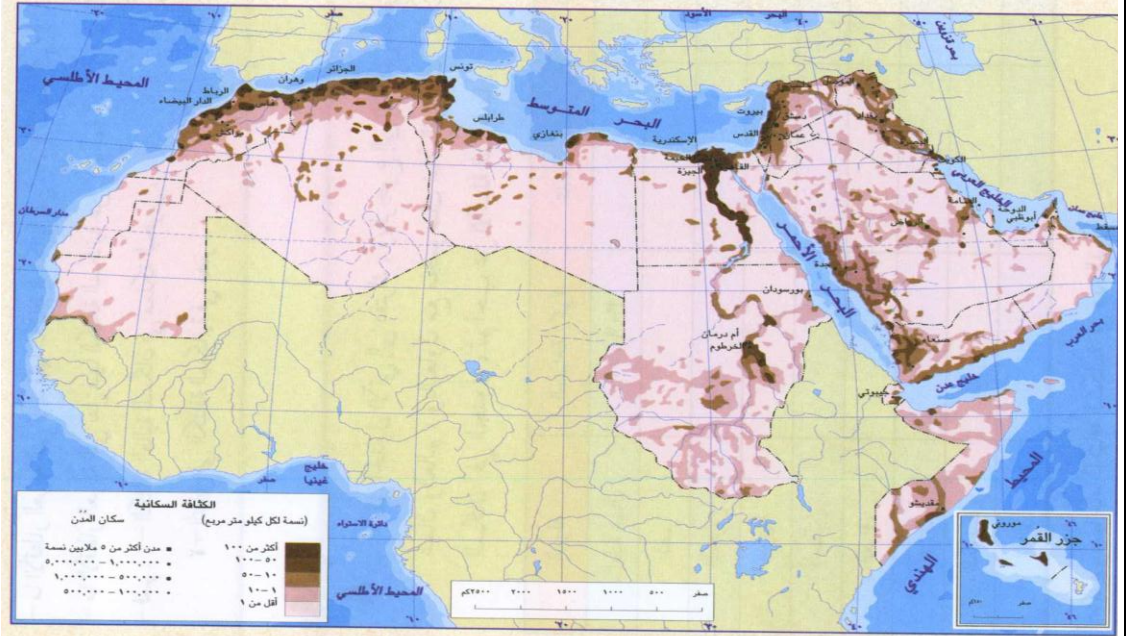
الدولة	معدل المواليد الخام بالآلف	معدل الوفيات الخام بالآلف	الزيادة الطبيعية %
سلطنة عمان	٤٣	٥	؟
الإمارات العربية المتحدة	٢٤	٢	؟
مصر	٢٦	٦	؟
سوريا	٣٣	٦	؟
الجزائر	٢٩	٦	؟
السويد	١٠	١١	؟
فرنسا	١٣	٩	؟
ألمانيا	٩	١٠	؟
السودان	٣٣	١٢	؟
المملكة المتحدة	١٢	١١	؟
الصين	٧	٥	؟
المملكة العربية السعودية	٣٥	٥	؟

<p>31-4-1</p>	<p>1-الهند . 2-اليابان - روسيا. 3-الهند- الصين - أمريكا -باكستان-إندونيسيا - نيجيريا-بنغلاديش-البرازيل -اليابان - روسيا .</p>		<p>أدرس الشكل المقابل ثم أجب عن الأسئلة التالية: 1-ما الدولة التي يتوقع أن تحتل المرتبة الأولى عالميا من حيث عدد السكان 2050؟</p> <p>1- استخراج الدول التي ستخفض معدلات النمو السكاني فيها بالمستقبل؟ 2- رتب الدول تنازليا للسنة 2050؟</p>	<p>تحليل تحليل تركيب على التوالي</p>	<p>33</p>
<p>32-4-1</p>	<p>هي العلاقة بين عدد السكان والمساحة الأرضية التي يعيشون عليها .</p>		<p>ما المقصود بالكثافة السكانية ؟</p>	<p>تذكر</p>	<p>34</p>
<p>32-4-1</p>	<p>1- قسمة عدد سكان الدولة أو الإقليم أو المنطقة على المساحة الكلية للدولة أو الإقليم أو المنطقة ويعرف هذا النوع باسم الكثافة الحسابية (العامة) . 2- قسمة عدد السكان على مساحة المنطقة التي يعيشون عليها ويستثمرونها ويعرف هذا النوع باسم الكثافة الوظيفية (الفيزيولوجية)</p>		<p>ما الطرق المستخدمة لحساب الكثافة السكانية ؟</p>	<p>فهم</p>	<p>35</p>
<p>36-34-4-1</p>	<p>الكثافة السكانية = عدد السكان ÷ المساحة = 2,773,479 ÷ 309,500 = 8,96 نسمة / كم²</p>	<p>احسب الكثافة السكانية للسلطنة عمان إذا كانت مساحة الأرض 309,500 وكان عدد السكان 2,773,479</p>	<p>تطبيق</p>	<p>36</p>	
<p>32-4-1 32-4-1</p>	<p>لعدة أسباب وهي : -المناخ (الحرارة والأمطار -إشكال السطح كالمناطق المرتفعة والمناطق المنخفضة والسهلية . - الموقع . - العوامل البشرية فهناك مناطق مكتظة بالسكان</p>		<p>عدد أسباب توزع سكان الكرة الأرضية بشكل غير متساو ومنتظم ؟</p>	<p>تذكر</p>	<p>37</p>

وأخرى منخفضة السكان

- 1-البحرين - العراق - مصر
- 2-بسبب الظروف المناخية وإشكال سطح الأرض حيث يتركز السكان حول ضفاف نهر النيل .
- 3-بسبب صغر مساحة مملكة البحرين .

33-4-1



- انظر الي خريطة الكثافة السكانية في الوطن العربي ثم اجب عن الأسئلة التالية :
- 1- استخرج 3 دول ذات كثافة سكانية مرتفعة ؟
 - 2- علل تباين التوزيع في الكثافة السكانية لبعض الدول مثل مصر
 - 3- استنتج العامل الرئيسي للارتفاع الكثافة السكانية لمملكة البحرين .

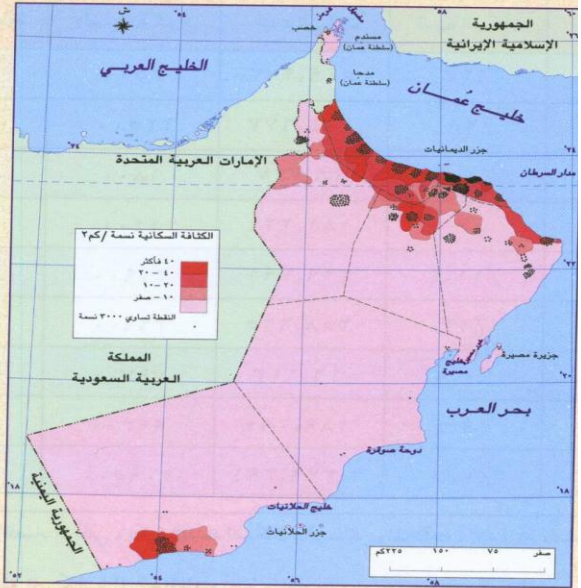
38

- 1- محافظة مسقط -محافظة الباطنة - محافظة ظفار - محافظة الداخلية بسبب توافر الخدمات ووجود أنشطة اقتصادية كالزراعة في الباطنة والداخلية المدن الصناعية والوزارات في مسقط وتوافر الوظائف .

35-4-1


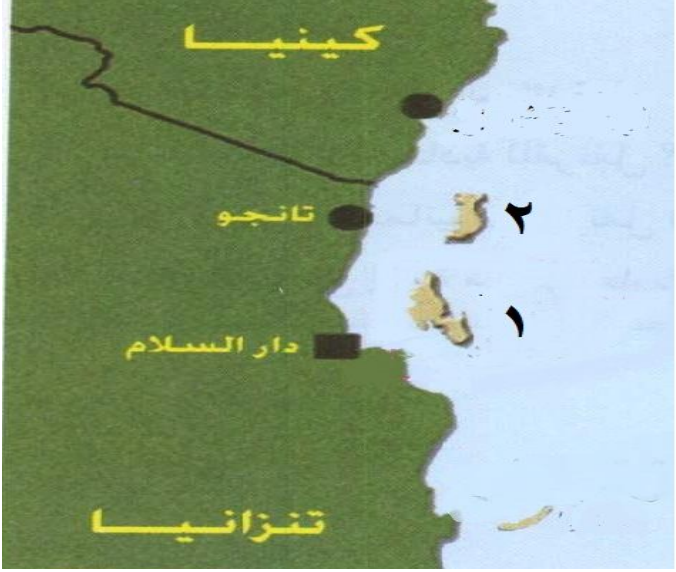
تحليل
تقويم
على



39

<p>2- يعتبر أمرا ايجابيا بحيث لن يكون هناك ضغط علي الموارد أو الخدمات .</p>	<p>التوالي</p>  <p>أنظر إلى خريطة توزيع السكان في سلطنة عمان ثم أجب عن الأسئلة التي تليه :</p> <p>1- في أي المحافظات تزيد الكثافة السكانية ولماذا ؟</p> <p>2- هل يعد انخفاض الكثافة السكانية في السلطنة أمرا ايجابيا أم سلبيا ؟ برر إجابتك .</p>	<p>40</p> <p>تذكر</p> <p>يعلل :</p> <p>عدم توغل التجار والمهاجرون العرب الى المناطق الداخلية في شرقي افريقيا ؟</p>
<p>40.1.2</p> <p>بسبب قسوة مناخها – كثرت غاباتها الاستوائية – انتشار الحيوانات المفترسة – ووجود الجبال الشاهقة .</p>	<p>41</p> <p>تذكر</p> <p>أعط امثلة على ابرز الهجرات المبكرة للتجار والقبائل العربية من شبه الجزيرة العربية وبلاد فارس الى شرقي افريقيا ؟</p>	<p>41</p> <p>تذكر</p>
<p>40.1.2</p> <p>1- هجرة اولاد الجلندي من عمان .</p> <p>2- هجرة بعض اهل الاحساء ثم الشيرازيين .</p> <p>3- هجرة سليمان بن سليمان بن مظفر النبهاني .</p>	<p>42</p> <p>تذكر</p> <p>1- ما المقصود بـ : الجوار الجغرافي ؟</p> <p>2- اعط مثالا على الجوار الجغرافي من الوحدة الثانية للكتاب ؟</p>	<p>42</p> <p>تذكر</p>
<p>41.1.2</p> <p>1- يستخدم هذا المصطلح للدلالة على الدول التي ترتبط فيما بينها بالموقع والقرب المكاني والامتداد الجغرافي ، حيث تتقاسم الموقع الفلكي والحدود السياسية .</p> <p>2- عمان وشرقي افريقيا .</p>	<p>43</p> <p>تذكر</p> <p>ارتبط التوجه العماني نحو شرقي افريقيا بعوامل عدة . أذكرها ؟</p>	<p>43</p> <p>تذكر</p>
<p>41.1.2</p> <p>1- الموقع الجغرافي لعمان .</p> <p>2- دور عمان العريق في الملاحة البحرية .</p> <p>3- حركة الرياح الموسمية التي تهب على منطقة المحيط الهندي .</p>		

41.1.2	كان لعمان دور عريق في الملاحة البحرية فارتباط العمانيين بالبحر جعلهم يكتسبون خبرة بحرية تؤهلهم للقيام بجولاتهم البحرية ونقل تجارتهم عبر المحيط الهندي بين عمان وشرقي افريقيا .	لخص بلغتك الخاصة كيف ارتبط العمانيون بالبحر ؟	فهم	44
42.1.2	1- موقعها المتوسط بين موانئ شرقي افريقيا الاسلامية 2- كونها جزيرة فقط كانت اكثر امانا من اية نقطة اخرى على الساحل ضد اي هجوم تتعرض له . 3- انها ذات طقس معتدل وارضيتها خصبة . 4- بها ميناء كبير صالح للملاحة . 5- بها اعذب مياه بشرقي افريقيا .	اكتب المميزات التي جعلت من جزيرة زنجبار تفوق المراكز الافريقية الاخرى عند السيد سعيد بن سلطان ؟	تذكر	45
42.1.2	التنمية الاقتصادية - توطيد الامن	اهتم السيد سعيد بن سلطان خلال اقامته بزنجبار واستقراره بها بأمرين مهمين . اذكرهما ؟	تذكر	46
من 40-42 1.2	1- قيامهم بالهجرة المبكرة من عمان الى شرقي افريقيا . 2- اخضاعه للجزر الافريقية على طول السواحل الافريقية للسيطرة البرتغالية في عام 1501م . 3- ساعد بطلب من اهالي شرقي افريقيا في تحرير مناطقهم من الاحتلال البرتغالي . 4- جعل عمان دولة ملاحية كبيرة واتخاذها من زنجبار كعاصمة له في افريقيا .	اذكر حدثا واحدا ارتبط بالشخصيات الاتية : 1- اولاد الجندي . 2- البوكيرك . 3- الامام سلطان بن سيف الاول . 4- الامام سعيد بن سلطان .	تذكر	47
45-44 1.2	1- نقل البضائع العمانية والافريقية . 2- كان يجيد اللغتين الانجليزية والفرنسية . والمامه بطوم البحار . 3- اتخاذه من زنجبار عاصمة له بافريقيا وقضاء سنواته الاخيرة من حكمه فيها .	اعط دليلا واحدا على كل مما ياتي : 1- اهمية الاسطول العماني . 2- قدرة الشيخ احمد بن نعمان الكعبي على تولى المهام الدولية . 3- اهتمام السيد سعيد بن سلطان بشرقي افريقيا .	تذكر تركيب تركيب	48
45 -44 1.2	1- ربط الشواطئ العمانية بالشواطئ الافريقية في اوقات هبوب الرياح الموسمية . 2- تكوين جيش قوي قادر على خوض المعارك البحرية والبرية . 3- تعيين ولاة على كل ولاية لقيادة الجيوش والاشراف على الحاميات والحصون فيها .	اكتب مقابل كل حدث من الاحداث التاريخية التالية نتيجة واحدة ترتبت عليها : 1- اعتنى العمانيون ببناء السفن الشراعية القادرة على الابدحار في المحيط الهندي وبحر العرب . 2- حرص العمانيون على توفير اسباب الامن والاستقرار في مناطق تواجدهم . 3- اتساع الدولة وتعدد ثغورها وحصونها .	تذكر	49

47.1.2	<p>1-العدالة في ادارة البلاد .</p> <p>2-الاستعانة بعدد كبير من المستشارين والعلماء</p> <p>3-سيادة مبدأ الشورى في تصريف مصالح الدولة وحل مشاكل الرعية .</p> <p>4-القيم الحضارية المستقاة من مبادئ الشريعة الاسلامية والتي طبقت في المعاملات كافة في شرقي افريقيا .</p>	<p>وضح بنقاط ابرز نظم الحكم والادارة التي اتبعها السلاطين العمانيين في شرقي افريقيا ؟</p>	تذكر	50
--------	---	---	------	----

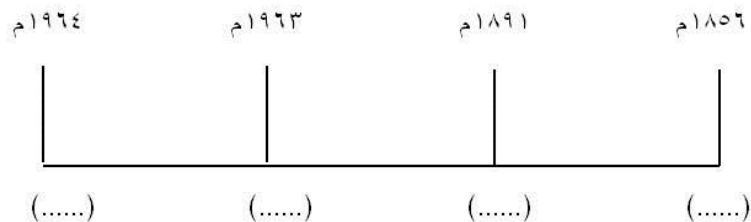
رقم الوحدة. الدرس.الصفحة	نموذج الإجابة	نص السؤال	نوع السؤال	م
<p>2-2-ص49</p> <p>2-3-ص63</p> <p>2-2-ص49</p>	 <p>1- زنجبار.</p> <p>2- جمهورية تنزانيا الاتحادية.</p> <p>3- بمبا - الخضراء</p>	<p>من خلال قراءتك للخريطة التي أمامك أجب عن الأسئلة التالية:-</p>  <p>1- الرقم 1 يشير إلى جزيرة</p> <p>2- الاسم الذي اطلق على الجزيرة رقم1 بعد اتحادها مع تنجانيقا هو.....</p> <p>3- الرقم 2 يشير إلى جزيرة ويطلق عليها الجزيرة</p> <p>4- ضع دائرة حول عاصمة تنزانيا .</p>	<p>تطبيق</p> <p>تذكر</p> <p>تطبيق</p> <p>تطبيق</p>	51

51-2-2-2	أصبحت زراعة القرنفل الثروة الرئيسية لزنجبار وأصبحت المصدر الأول العالمي للقرنفل .	بين أترادخال زراعة القرنفل إلى زنجبار على النشاط الاقتصادي لها؟	فهم	52
52-2-2-2	جذب اهتمام الدول الاجنبية حيث تحولت زنجبار في عهده الى أعظم ميناء في الاطراف الغربية للمحيط الهندي – أصبحت المستودع الرئيسي للتجارة الافريقية الاسيوية.	اعط دليلاً .جعل السيد سعيد بن سلطان من زنجبار سوق تجاري ضخم .	فهم	53
	 <p>2- كينيا. 3-تنزانيا 4-الشرق.</p>	<p>من خلال قراءتك للخريطة التي أمامك أجب عن الأسئلة التالية:-</p>  <p>4</p> <p>1- ضع دائرة حول الجزيرة التي تسمى بالجزيرة الخضراء. 2- استخرج الدولة التي تحد جمهورية تنزانيا الاتحادية من الشمال . 3- أي دولة أفريقية حالياً تتبع زنجبار؟ 4- تقع زنجبار بالنسبة لأفريقيا في اتجاه</p>		54
52-2-2-2	1- الشمالي.	صنف الطرق البحرية التالية حسب الاتجاه :-	تطبيق	55

<p>2- الجنوبي . 3- الأوسط</p>										
	الآتجاه	الطريق								
1-	ممتد من ممباسا إلى المناطق الشرقية لأوغندا								
2-	ممتد من كلوة إلى بحيرة نياسا								
3_	يبدأ من موانئ زنجبار ألى وسط تنجانيقا								
52-2-2ص	بسبب تعرض القوافل التي ترتاده لهجمات قبائل الماساي .		فهم	56						
52-2-2ص	بسبب ارتفاع أسعار العاج عالميا ولأنه أكثر أمنا بالاضافة إلى عوانده التجارية.		فهم	57						
	بسبب ظهور مراكز تجارية أوروبية كثيرة تخصصت في صناعة العاج.		فهم	58						
52-2-2ص 53	اسم السلعة	صادرة من عمان	صادرة من شرق أفريقيا	صادرة من الهند والصين	تطبيق	59				
							الزعفران	√		
							العنبر		√	
							التوابل		√	
							الليمون	√		
							الذهب		√	
							المنسوجات		√	
							الأخشاب		√	
صنف السلع التجارية المتبادلة التي حملها العمانيون ألى شرق أفريقيا حسب المصدر										
اسم السلعة	صادرة من عمان	صادرة من شرق أفريقيا	صادرة من الهند والصين							
الزعفران										
العنبر										
التوابل										
الليمون	√									
الذهب		√								
العاج										
المنسوجات		√								
الأخشاب		√								

55-2-2 ص 55	أصبحت زنجبار مركز للأشعاع الاسلامي بعد أن اتخذها السيد سعيد بن سلطان عاصمة له في شرقي أفريقيا.	فسر: أثر التواجد العماني في زنجبار في نشر الاسلام في شرقي أفريقيا.	فهم	60										
55-2-2 ص 55	عن طريق قوافل التجار العمانيين القادمين من زنجبار والمدن الساحلية الاخرى حيث كان لهم دور في تبادل الآراء والأفكار وهو ما أفسح المجال لانتشار الاسلام في تلك المناطق.	كيف انتشر الاسلام في شرقي أفريقيا؟	تذكر	61										
56-2-2 ص 56	ساعدت على نشر العشرات من الكتب العمانية – لها دور في مجال التوعية ونشر الثقافة العربية الاسلامية – ساعدت على ظهور صحف مثل الفلق والنهضة والإصلاح التي كان لها دور في النهضة الأدبية والعلمية وتوعية المسلمين.	وضح دور تأسيس المطبعة السلطانية في النهضة العلمية في شرق أفريقيا؟	فهم	62										
57-2-2 ص 57	1- محو الأمية بين السكان. 2- التمهيد لارتباط المجموعات الأفريقية بالعالم العربي الاسلامي . 3- تعبير المجموعات الأفريقية عن رغبتها في الانتماء والارتباط بالعنصر العربي.	عدد النتائج الايجابية للمؤثرات الثقافية العربية الاسلامية في أفريقيا؟	تذكر	63										
58-2-2 ص 58	التجارة	المجموعات الأفريقية	الشيرازيين	<p>وزع التركيب السكاني الآتي في جزيرة زنجبار حسب أصولها ومكان توافدها في الجدول الذي أمامك:-</p> <p>(أصول عربية عمانية – أصول إيرانية – مجموعات وافدة من سواحل القارة ووسطها)</p> <table border="1"> <tr> <td>التجارة</td> <td>المجموعات الأفريقية</td> <td>الشيرازيين</td> </tr> <tr> <td>أصول عربية عمانية</td> <td>مجموعات وافدة من سواحل القارة ووسطها</td> <td>أصول إيرانية</td> </tr> <tr> <td></td> <td></td> <td></td> </tr> </table>	التجارة	المجموعات الأفريقية	الشيرازيين	أصول عربية عمانية	مجموعات وافدة من سواحل القارة ووسطها	أصول إيرانية				64
التجارة	المجموعات الأفريقية	الشيرازيين												
أصول عربية عمانية	مجموعات وافدة من سواحل القارة ووسطها	أصول إيرانية												

أنقل أرقام الحوادث التالية في أماكنها الصحيحة على المسطرة الزمنية التالية.



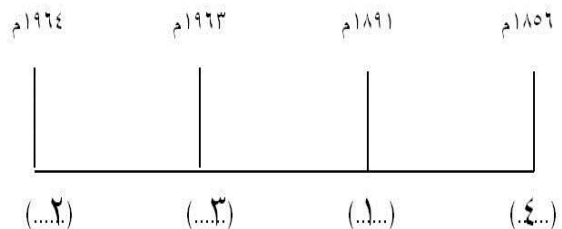
تطبيق

1- اعلان بريطانيا الحماية على زنجبار.

2- اعلان اتحاد زنجبار مع تنجانيقا.

3- حصول زنجبار على استقلالها.

4 - أصبح السيد سعيد بن سلطان أماما على عمان



نتيجة الازدهار النشاط التجاري بين البلدين .

وضح تعززت العلاقات العمانية مع زنجبار في الوقت الحاضر.

64-3-2-2	<ul style="list-style-type: none"> - استمرار عيش بعض العمانيين في زنجبار وتولي بعضهم ادارة مناصب عليا . - محافظة العمانيين على ممتلكاتهم هناك من مزارع ومساكن ومحال تجارية . - نقل العمانيون فنون العمارة العمانية الى شرق افريقيا حيث تبدوا واضحة في القصور والمساكن والمساجد. - استمرار الرحلات البحرية والجوية بين عمان وشرق افريقيا. 	عدد أشكال التواصل العماني مع شرقي أفريقيا في الوقت المعاصر	تذكر	67
63-3-2	<p>من خلال اعلان بريطانيا الحماية علي زنجبار بعد عقد اتفاقية بين زنجبار و ألمانيا</p> <p>ثم أدت التحولات الدولية والتطورات السياسية الى انحسار الوجود الاوروبي فيها مما مكنت زنجبار من الحصول على استقلالها.</p>	كيف تمكنت زنجبار من الحصول على استقلالها في عام 1890م.	تذكر	68
57-2-2	<p>الصلوات الطيبة والوثيقة التي سادت بين علماء المذهب الإباضي والمذهب الشافعي السائد في شرقي أفريقيا.</p>	اعط دليلاً على سياسة التسامح الديني والمذهبي في عهد السيد سعيد بن سلطان.	تذكر	69
70.3.1	<ul style="list-style-type: none"> - إشرافها على الطريق الذي يربط الخليج العربي والمحيط الهندي . - اتصالها قديماً بطرق القوافل عبر الجزيرة العربية 	ما المميزات التي أعطاها الموقع الاستراتيجي لعمان في العالم الإسلامي ؟	تذكر	70
70.3.1	<p>عملية اقتصادية واجتماعية يتم بموجبها إزالة جميع الحواجز بين الوحدات المختلفة وتؤدي إلى تحقيق تكافؤ الفرص أمام جميع عناصر الإنتاج في دول التكامل .</p>	عرف مفهوم التكامل الاقتصادي ؟	استنتاج	71

<p>71.3.1</p>	<p>1- باكستان - أفغانستان - اندونيسيا - ماليزيا - كازاخستان - إيران .</p> <p>2- - تنزانيا - زامبيا - مالي - النيجر - نيجيريا - أثيوبيا - تشاد .</p>	<p>من خلال الخريطة السابقة اجب عما يلي :</p> <p>1- اعط أمثلة لدول إسلامية غير عربية في قارة آسيا ؟</p> <p>2- اعط أمثلة لدول إسلامية غير عربية في قارة أفريقيا ؟</p>	<p>تحليل 72</p>
---------------	---	---	-----------------

<p>72.3.1</p>	<p>- من خلال مشاركتهم في الفتوحات الإسلامية برا مثل العراق وفارس وبلاد السند .</p> <p>- النشاط البحري التجاري في شرقي أفريقيا والصين والموانئ الآسيوية .</p>	<p>73 فهم</p> <p>وضح كيف ساهم العمانيون في نشر الإسلام في أماكن كثيرة ومختلفة.</p>	<p>73</p>
<p>72.3.1</p>	<p>- مبدأ حسن الجوار .</p> <p>- عدم التدخل في الشؤون الداخلية .</p> <p>- انتهاج سياسة عدم الانحياز .</p>	<p>74 تذكر</p> <p>ما المبادئ التي انتهجتها السياسة الحكيمة لحضرة صاحب الجلالة السلطان قابوس من أجل دعم العلاقات مع الدول الشقيقة والصديقة ؟</p>	<p>74</p>
<p>72.3.1</p>	<p>- إيجاد التضامن والسلام والأمن داخل دول العالم الإسلامي .</p>	<p>75 تذكر</p> <p>ما الهدف الأساسي من إقامة العلاقات بين السلطنة ودول العالم الإسلامي ؟</p>	<p>75</p>

72.3.1	<ul style="list-style-type: none"> - تبادل العلاقات الدبلوماسية فيما بينها . - التشاور المستمر بشأن التعاون الأمني الإقليمي والدولي . - عقد اللقاءات التنسيقية فيما بينها . - الزيارات المتبادلة بين قادة الدول الإسلامية . 	دلل كيف عملت عمان والدول الإسلامية على إنجاح تجمعها السياسي ؟	تحليل	76
72.3.1	مجموعة الدول التي يشكل المسلمون فيها أكثر من 50% من جملة عدد السكان .	عرف مفهوم : العالم الإسلامي ؟	تذكر	77
73.3.1	<ul style="list-style-type: none"> - إدانة استمرار الاحتلال الإسرائيلي للأراضي الفلسطينية والعربية . - الدعوة إلى تحرير جميع الأراضي العربية المحتلة واستعادة حقوق الشعب الفلسطيني . - جعل منطقة الشرق الأوسط منطقة أكثر استقراراً وأماناً وخالية من أسلحة الدمار الشامل . 	اعط أمثلة لأهم القضايا التي تؤيدها السلطنة وفقاً للقرارات الصادرة من منظمة المؤتمر الإسلامي ؟	تذكر	78

5

رقم الوحدة. الدرس.الصفحة	نموذج الإجابة	نص السؤال	نوع السؤال	م
74.3.1	إيجاد تفاعل وحوار بين الثقافات بما يتفق مع التعاليم الإسلامية في التسامح والعدل والسلام .	علل : إقامة المؤتمرات الثقافية في السلطنة بين الدول الإسلامية بالتعاون مع منظمة الايسيسكو ؟	فهم	79
74.3.1	<ul style="list-style-type: none"> - زيادة فرص التجارة والاستثمارات بينها . - تطبيق الاتفاقيات التجارية . - الشروع في إنشاء سوق إسلامية مشتركة . - تشجيع المبادلات التجارية والاستثمارات . - التعاون مع الدول الصناعية من أجل الإفادة من نقل التكنولوجيا إلى البلدان الإسلامية . 	ما النتائج المترتبة على الأخذ بالتنمية المستدامة في المجالات الاقتصادية بين السلطنة وبقية الدول الإسلامية ؟	تذكر	80

75.3.1	قامت بعد قيام المتطرفين اليهود بحرق المسجد الأقصى في أغسطس عام 1969 م . حيث عقدت أول قمة للدول الإسلامية في الرباط .	ما هو سبب قيام منظمة المؤتمر الإسلامي وإنشائها عام 1969 م ؟	تذكر	81
75.3.1	1- البنك الإسلامي للتنمية . 2- مجمع الفقه الإسلامي . 3- المنظمة الإسلامية للتربية والعلوم والثقافة .	أذكر أهم المنظمات التابعة لمنظمة المؤتمر الإسلامي ؟	تذكر	82
75.3.1	منظمة البنك الإسلامي : مساعدة الدول الفقيرة وتنفيذ المشاريع التنموية فيها . المنظمة الإسلامية للتربية والعلوم والثقافة : عقد المؤتمرات الثقافية وتفعيل الحوار بين الثقافات في ميادين العلوم والثقافة والاتصال .	قارن في جدول بين منظمة البنك الإسلامي و المنظمة الإسلامية للتربية و الثقافة و العلوم من حيث وظيفة كل منهما .	فهم	83

6

رقم الوحدة. الدرس.الصفحة	نموذج الإجابة	نص السؤال	نوع السؤال	م
76.3.1	1- إعادة بناء المنازل والعقارات المتهدمة . 2-تجهيز المستشفيات والمؤسسات العلاجية . 3-تنمية المشروعات الصغيرة والصناعات المنزلية 4-إنشاء صوامع للغلال الزراعية . 5-تطوير مشاريع التربية والتعليم . 6-إعادة تأهيل المرافق التعليمية والصحية والبنية التحتية . 7- تجهيز مؤسسات ذوي الاحتياجات الخاصة . سياسيا : 1- إدانة استمرار الاحتلال الإسرائيلي للأراضي الفلسطينية . 2-الدعوة إلى تحرير جميع الأراضي العربية المحتلة واستعادة حقوق الشعب الفلسطيني .	لخص في نقاط أهم المساعدات الإنسانية التي قدمتها السلطنة للشعب الفلسطيني ماديا وسياسيا ؟	تذكر	84

76.3.1	<p>1- قامت السلطنة بمساعدة الشعب البوسني المسلم ومسلمي كوسوفو الذين تعرضوا لأشد موجات الاضطهاد والتطهير العرقي حتى نالوا حقهم واستعادوا أرضهم .</p> <p>2- قامت السلطنة بمساعدة الشعب الأفغاني إزاء محنته ضد الاتحاد السوفيتي السابق والحروب الطائفية الأخيرة .</p> <p>3- كما ساندت شعوب شرق إفريقيا المسلمة في تطوير خدماتهم الصحية والاجتماعية .</p> <p>4- المساعدات السخية للدول التي تتعرض دائما للكوارث الطبيعية مثل إيران وتركيا.</p> <p>5- المساعدات لدول جنوب شرق آسيا جراء زلزال آسيا والمد البحري تسو نامي .</p>	  <p>يمثل الشكلان شعاران لهيئة وجمعية عمانية خيرية ؟ اكتب أمثلة عن المساعدات الإنسانية التي تقدمها هذه الهيئات والجمعيات العمومية ؟</p>	تركيب	85
77.3.1	<p>مصطلح ياباني ويعني موجة الميناء وهي موجة محيطية ضخمة تكون على هيئة سلسلة واسعة من الأمواج والمد البحري تسببه الزلازل والبراكين .</p>	<p>عرف مصطلح تسو نامي ؟</p>	تذكر	86

رقم الوحدة. الدرس.الصفحة	نموذج الإجابة	نص السؤال	نوع السؤال	م
78.3.2	1- إقامة علاقات طيبة ومتوازنة . 2- تميزت العلاقة بالنشاط والفعالية والرغبة في التطوير لتحقيق الأمن والسلام والاستقرار والرفاهية لجميع الشعوب .	بماذا تميزت علاقة سلطنة عمان مع بقية دول العالم والمنظمات الإقليمية والعالمية ؟	تذكر	87
79.3.2	نتيجة ما يشهده العالم من تطورات ، وما أصبح للتجمعات الاقتصادية والإقليمية من أهمية بالغة .	بم تفسر رغبة الدول المكونة لرابطة الدول المطلة على المحيط الهندي للتعاون الإقليمي قيام تجمع فيما بينها ؟	فهم	88
79.3.2	- روابط شعوب المنطقة القديمة والتاريخية والمميزات الاقتصادية التي تتمتع بها .	ما العوامل التي ساعدت على قيام رابطة الدول المطلة على المحيط الهندي ؟	تذكر	89
79.3.2	- استضافة السلطنة للاجتماع الوزاري للرابطة في مسقط بأبريل عام 2001م. - تولي السلطنة لرئاسة الرابطة لمدة عامين 2001-2003	اعط أمثلة على الدور النشط الذي تلعبه سلطنة عمان في رابطة الدول المطلة على المحيط الهندي ؟	فهم	90
79.3.2	1- دعم التنمية الشاملة للدول الأعضاء وإيجاد أرضية مشتركة للتعاون الاقتصادي الإقليمي . 2- التركيز على مجالات التعاون الاقتصادي. 3- تشجيع التفاعل الوثيق في مختلف المجالات . 4- تقوية أواصر التعاون والحوار بين الأعضاء في المحافل الدولية . 5- دعم التعاون في مجال تنمية الموارد البشرية .	عدد ابرز أهداف رابطة الدول المطلة على المحيط الهندي ؟	تذكر	91

م	نوع السؤال	نص السؤال	نموذج الإجابة	رقم الوحدة. الدرس.الصفحة
92	تذكر	ما المجال الرئيسي الذي تركز عليه أهداف رابطة الدول المطلة على المحيط الهندي ؟	مجال التعاون الاقتصادي	79.3.2
93	فهم	أفردت الرابطة هدفا كاملا لتنمية الموارد البشرية . اعط أمثلة على ذلك ؟	إقامة روابط وصلات أوثق فيما بين : معاهد التدريب - الجامعات - وغيرها من المؤسسات المتخصصة .	79.3.2
94	تذكر	عدد الأعمال التي قامت بها دول الرابطة لتحقيق التعاون الاقتصادي وتطوير مصالحها المشتركة ؟	1- صياغة وتنفيذ مشروعات التعاون الاقتصادي ذات الصلة بتسهيل التجارة . 2- تشجيع الاستثمار الأجنبي . 3- التبادل العلمي والتكنولوجي . 4- تشجيع السياحة وتطويرها . 5- تطوير البنية الأساسية . 6- تنمية الموارد البشرية .	79.3.2
95	تذكر	جنت السلطنة من انضمامها رابطة الدول المطلة على المحيط الهندي مزايا عدة . أذكرها ؟	1- توسع حجم سوق الاستهلاك والذي يصل إلى 1700 مليون نسمة . 2- الاستفادة من خبرات بعض الدول في المجالات العلمية والتقنية . 3- جعل السلطنة مركزا للخدمات المالية وخدمات الصيانة	80.3.2
96	تذكر	ما العامل الرئيس من وراء تأسيس منظمة الأمم المتحدة خلفا لعصبة الأمم ؟	لتعمل على إرساء الأمن والسلام في العالم بعدما ذاق ويلات الحروب والتي أدت إلى قتل الملايين من البشر وتشريدهم بالإضافة إلى ما لحق بالعالم من خسائر اقتصادية فادحة .	82.3.2
97	تذكر	ما سبب تكريم الأمم المتحدة لسلطنة عمان في ذكرى احتفال المنظمة بعيدها الخمسين ؟	وذلك تقديرا منها لدورها النشط في دعم مسيرتها .	82.3.2
98	تذكر	اذكر نوع التكريم الذي حظيت به سلطنة عمان في احتفالات منظمة الأمم المتحدة بعيدها الخمسين ؟	من خلال اختيار السلطنة نانبا لرئيس اللجنة التحضيرية للاحتفال بمرور خمسين عاما على إنشاء الأمم المتحدة .	82.3.2

م	نوع السؤال	نص السؤال	نموذج الإجابة	رقم الوحدة. الدرس.الصفحة
99	تذكر	اذكر أهم المنظمات التابعة للأمم المتحدة والتي تتعاون معها سلطنة عمان في مختلف المجالات ؟	<p>1- منظمة الأمم المتحدة للتربية والعلم والثقافة (اليونسكو) .</p> <p>2- منظمة الصحة العالمية .</p> <p>3- منظمة الأمم المتحدة للأغذية والزراعة .</p> <p>4- منظمة العمل الدولية .</p> <p>5- صندوق الأمم المتحدة الدولي لرعاية الطفولة .</p> <p>6- مجلس الأمن الدولي .</p>	من 82-86 3.2
100	تذكر	عدد أهداف منظمة الأمم المتحدة للتربية والعلم والثقافة (اليونسكو) ؟	<p>1- المساهمة في صون المن والسلام الدوليين .</p> <p>2- تعزيز التفاهم بين الدول .</p> <p>3- تنشيط التربية .</p> <p>4- نشر الثقافة العالمية .</p> <p>5- حفظ المعرفة وتقديمها وانتشارها .</p>	82.3.2
101	تذكر	عدد المجالس واللجان التي تشارك السلطنة فيها من خلال منظمة اليونسكو ؟	<p>1- المجلس الدولي لتنسيق برنامج الإنسان والمحيط الحيوي.</p> <p>2- المجلس الدولي الحكومي لبرنامج إدارة التحولات الاجتماعية .</p> <p>3- المجلس الدولي الحكومي للبرنامج الدولي لتنمية الاتصال .</p> <p>4- مجلس إدارة معهد اليونسكو للإحصاء.</p> <p>5- لجنة التراث العالمي .</p> <p>6- لجنة المقر .</p>	من 82-83 3.2
102	تذكر	اكتب أهم أسباب انضمام السلطنة لمشروع شبكة المدارس المنتسبة لليونسكو ؟	انضمت السلطنة بمدريستين لمشروع المنظمة بهدف : زيادة المعرفة بمشكلات العالم ودعم التعاون الدولي وتنمية المفاهيم بين شعوب العالم وتنمية القدرة على الاتصال بالآخرين والتحاور معهم .	83.3.2
103	تذكر	عدد أوجه التعاون بين مكتب المندوب الدائم للسلطنة لدى منظمة اليونسكو في مجال التربية و اللجنة الوطنية العمانية للتربية والعلوم والثقافة ؟	<p>عن طريق :</p> <p>- تقديم خدمات تربوية وعلمية</p> <p>- إبداء الاقتراحات البناءة في المجالات التربوية المتعلقة بالتعليم الأساسي والعالي والتكنولوجيا في مجال التعليم ومحو الأمية والمدارس المنتسبة لليونسكو</p> <p>- بناء مجتمعات التعلم والمشاركة في المؤتمرات الدولية والإقليمية التي ترعاها المنظمة .</p>	83.3.2

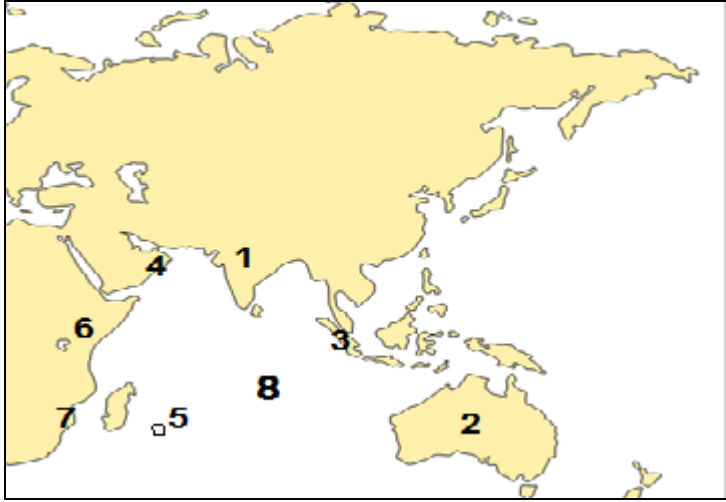
رقم الوحدة. الدرس.الصفحة	نموذج الإجابة	نص السؤال	نوع السؤال	م
84.3.2	<p>أ :</p> <ol style="list-style-type: none"> 1- تشجيع الأبحاث الطبية . 2- عقد الاتفاقيات في شؤون الصحة العالمية . 3- مراقبة تفشي الأمراض السارية مثل الجدري والطاعون والأوبئة الخطيرة ومكافحتها . 4- توفير الحماية الصحية للأمم و الطفولة . 5- رفع مستوى الصحة العقلية والنفسية . 6- نشر الوعي من اجل حماية مياه الشرب من التلوث . <p>ب :</p> <p>أما فيما يتعلق بدور السلطنة فيتلخص في :</p> <p>تبادل الخبرات والقضاء على العديد من الأمراض المزمنة والفتاكة / وعقد الورش والدورات التدريبية التي تهدف إلى تطوير الخدمات الصحية .</p>	<p>اقرأ العبارة التالية وأجب عما يلي</p> <p>" لمنظمة الصحة العالمية العديد من الأعمال النبيلة في خدمة الصحة على المستوى العالمي "</p> <p>أ - اذكر أهم هذه الأعمال ؟</p> <p>ب - وضح دور السلطنة في دعم أعمال منظمة الصحة العالمية ؟</p>	تذكر	104
84.3.2	<ol style="list-style-type: none"> 1- دراسة ظروف التغذية والزراعة في العالم . 2- العمل على رفع مستوى التغذية في العالم . 3- زيادة مصادر الإنتاج لمساييرة زيادة الاستهلاك . 4- نشر معلومات التغذية الصحية ووسائل حفظ المنتجات الغذائية . 5- الإشراف على المشروعات التي تهدف إلى تنمية الزراعة والغابات وصيد الأسماك . 	<p>ما الأدوار التي تقوم بها منظمة الأمم المتحدة للأغذية والزراعة (الفاو) ؟</p>	تذكر	105
84.3.2	<ol style="list-style-type: none"> 1- توفي العمل المناسب والأجر المناسب للأفراد . 2- توسيع دائرة العمل الاجتماعي والرعاية الصحية للعاملين (التأمين الصحي) . 3- تعميم حماية الأمومة . 4- توفير تغذية كافية وسكن ملائم وأوقات للراحة . 5- عقد اتفاقيات جماعية للعمل . 6- تحديد ساعات العمل . 7- حماية العمال من الإصابات الناتجة عن العمل . 8- الاهتمام بمكافحة عمالة الأطفال وخاصة في الدول النامية . 9- إصدار قواعد دولية للعمل وتقديم المعونة . 	<p>عدد مهام منظمة العمل الدولية ؟</p>	تذكر	106

م	نوع السؤال	نص السؤال	نموذج الإجابة	رقم الوحدة. الدرس.الصفحة																						
107	تذكر	عدد وظائف صندوق الأمم المتحدة لرعاية الطفولة (اليونيسيف) ؟	<p>1- العمل على تخفيض نسبة الوفيات للأمهات والأطفال دون الخامسة .</p> <p>2- الحد من سوء التغذية .</p> <p>3- توفير التعليم الأساسي للجميع .</p> <p>4- تخفيض نسبة أمية الكبار .</p> <p>5- تحسين حماية الأطفال لاسيما في الظروف الصعبة .</p>	85.3.2																						
108	تذكر	عدد أهم ما تضمنته بنود الاتفاقية الدولية لحقوق الطفل ؟	<p>1- بقاء الأطفال مع أسرهم .</p> <p>2- الحصول على غذاء كاف ومياه نظيفة .</p> <p>3- التمتع بمستوى معيشي لائق .</p> <p>4- الرعاية الصحية .</p> <p>5- رعاية وتدريب الأطفال ذوي الاحتياجات الخاصة .</p> <p>6- التعليم المجاني .</p> <p>7- الحق في سلامة الأطفال وعدم إهمالهم .</p> <p>8- لا يجوز استخدام الأطفال كأيد عاملة أو جنود .</p> <p>9- استخدام لغة الطفل ومزاولة شعائره الدينية والثقافية.</p> <p>10- التعبير عن الرأي وجهة نظر الطفل .</p>	85.3.2																						
109	تطبيق	<p>أكتب مثال واحد للحقوق المرتبطة لكل قضية من قضايا حقوق الطفل في الجدول التالي حسب اتفاقية حقوق الطفل المعن عنها عام 1989 م :</p> <table border="1"> <thead> <tr> <th>حقوق الطفل</th> <th>قضايا حقوق الطفل</th> </tr> </thead> <tbody> <tr> <td>..... -</td> <td>- حقوق العيش والبقاء</td> </tr> <tr> <td>..... -</td> <td>- حقوق النمو والتطور</td> </tr> <tr> <td>..... -</td> <td>- حقوق الحماية</td> </tr> <tr> <td>..... -</td> <td>- حقوق المشاركة</td> </tr> </tbody> </table>	حقوق الطفل	قضايا حقوق الطفل -	- حقوق العيش والبقاء -	- حقوق النمو والتطور -	- حقوق الحماية -	- حقوق المشاركة	<table border="1"> <thead> <tr> <th>حقوق الطفل</th> <th>قضايا حقوق الطفل</th> </tr> </thead> <tbody> <tr> <td>- بقاء الأطفال مع أسرهم</td> <td>- حقوق العيش والبقاء</td> </tr> <tr> <td>- الحصول على غذاء كاف ومياه نظيفة</td> <td>- حقوق النمو والتطور</td> </tr> <tr> <td>- الحق في سلامة الأطفال وعدم إهمالهم .</td> <td>- حقوق الحماية</td> </tr> <tr> <td>- التعبير عن الرأي وجهة نظر الطفل .</td> <td>- حقوق المشاركة</td> </tr> <tr> <td>.</td> <td>.</td> </tr> </tbody> </table>	حقوق الطفل	قضايا حقوق الطفل	- بقاء الأطفال مع أسرهم	- حقوق العيش والبقاء	- الحصول على غذاء كاف ومياه نظيفة	- حقوق النمو والتطور	- الحق في سلامة الأطفال وعدم إهمالهم .	- حقوق الحماية	- التعبير عن الرأي وجهة نظر الطفل .	- حقوق المشاركة	.	.	85.3.2
حقوق الطفل	قضايا حقوق الطفل																									
..... -	- حقوق العيش والبقاء																									
..... -	- حقوق النمو والتطور																									
..... -	- حقوق الحماية																									
..... -	- حقوق المشاركة																									
حقوق الطفل	قضايا حقوق الطفل																									
- بقاء الأطفال مع أسرهم	- حقوق العيش والبقاء																									
- الحصول على غذاء كاف ومياه نظيفة	- حقوق النمو والتطور																									
- الحق في سلامة الأطفال وعدم إهمالهم .	- حقوق الحماية																									
- التعبير عن الرأي وجهة نظر الطفل .	- حقوق المشاركة																									
.	.																									

رقم الوحدة. الدرس.الصفحة	نموذج الإجابة	نص السؤال	نوع السؤال	م
86.3.2	<p>1- هو السلطة الفعلية للأمم المتحدة .</p> <p>2- حفظ الأمن والسلام الدوليين .</p> <p>3- استخدام القوة لإعادة السلم بين الدول .</p>	عدد مهام واختصاصات مجلس الأمن الدولي ؟	تذكر	110
من 82-86 3.2	<p>1- منظمة الصحة العالمية .</p> <p>2- منظمة العمل الدولية .</p> <p>3- صندوق الأمم المتحدة لرعاية الطفولة .</p> <p>4- منظمة اليونسكو .</p> <p>5- صندوق الأمم المتحدة لرعاية حقوق الطفل .</p> <p>6- منظمة اليونسكو .</p> <p>7- منظمة العمل الدولية .</p> <p>8- منظمة الأمم المتحدة للأغذية والزراعة .</p> <p>9- مجلس الأمن الدولي .</p>	<p>أكمل المخطط الآتي بذكر المنظمة المختصة في المجالات الآتية :</p> <p>1 منظمة..... تطعيم الأطفال ضد شلل الأطفال</p> <p>2 منظمة..... مراقبة تشغيل الأطفال دون سن الخامسة</p> <p>3 منظمة..... نشر التعليم الأساسي لكافة الأطفال</p> <p>4 منظمة..... صناعة المنهج المدرسي</p> <p>5 منظمة..... رعاية حقوق الطفل</p> <p>6 منظمة..... نشر ثقافة السلام في العالم</p> <p>7 منظمة..... توسيع المستفيدين من خدمات الضمان الاجتماعي</p> <p>8 منظمة..... استحداث استزراع الأسماك</p> <p>9 منظمة..... حل النزاعات بين الدول</p>	تطبيق	111

رقم الوحدة. الدرس.الصفحة	نموذج الإجابة	نص السؤال	نوع السؤال	م
88.3.2	تقديرًا لدور جلالتة في إرساء السلام العالمي .	ما سبب منح جلالة السلطان قابوس المعظم جائزة السلام الدولية لعام 1998م ؟	تذكر	112
88.3.2	<p>1- محاربة الظلم والاستبداد .</p> <p>2- التصدي لسياسات التطهير العرقي .</p> <p>3- التصدي لسياسة امتهان كرامة الإنسان .</p> <p>4- التصدي ومحاربة احتلال أراضي الغير .</p> <p>5- السعي إلى إقامة ميزان العدل إنصافًا للمظلومين وترسيخًا للأمن والسلام والطمأنينة في العالم .</p>	اذكر الأعمال الواجب عملها لتحقيق السلام العالمي كما عبر عنها جلالة السلطان في خطابه بالعيد الوطني الثامن والعشرين المجيد ؟	تذكر	113

رقم الوحدة. الدرس.الصفحة	نموذج الإجابة	نص السؤال	نوع السؤال	مم
89.3.2	<p>1- 1989م .</p> <p>2- نظرا لاهتمام جلالة السلطان بالبيئة الدولية وطرق صيانتها وحمايتها .</p> <p>3- تمنح كل عامين .</p> <p>4- للأفراد أو المؤسسات والمنظمات تقديرا لجهودهم في مجال حماية البيئة .</p> <p>5- برنامج الإنسان والمحيط الحيوي (الماب) في منظمة اليونسكو .</p>	<p>" حرص صاحب الجلالة السلطان قابوس بن سعيد على حماية البيئة و صونها و كانت جائزة السلطان قابوس الدولية لحماية و صون البيئة خير مثال على ذلك " في ضوء ذلك أكتب عن هذه الجائزة من حيث :</p> <p>1- متى أنشئت ؟</p> <p>2- سبب إنشائها ؟</p> <p>3- ومتى تمنح ؟</p> <p>4- ولمن تمنح ؟</p> <p>5- اسم المؤسسة أو المنظمة الدولية التي ترعى تلك الجائزة ؟</p>	تذكر	114
90.3.2	<p>1- تطوير القدرات الوطنية .</p> <p>2- تأسيس الاقتصاد على أسس راسخة من التنافسية والإنتاجية العلمية .</p> <p>3- الاهتمام بالعلم والبحث والتقنية الحديثة .</p> <p>4- توفير الظروف الملائمة التي تكفل للقطاع الخاص النماء .</p> <p>5- المشاركة في وضع الخطط التنموية والسياسات الاقتصادية .</p>	<p>اذكر السبل التي حددتها حكومة السلطنة لمواجهة العولمة ؟</p>	تذكر	115
91.3.2	<p>1- تشريع القوانين واللوائح المنظمة للاستثمارات الأجنبية في البلاد .</p> <p>2- إصدار قانون الملكية الفكرية .</p> <p>3- تطوير وتحديث المؤسسات القانونية والقضائية .</p> <p>4- الدخول في المشاريع الاقتصادية العملاقة .</p> <p>5- تشجيع الشباب العماني لدخول سوق العمل والانخراط في مختلف المهن .</p> <p>6- المحافظة على الحرف التقليدية وتطويرها .</p> <p>7- إلغاء الرسوم الجمركية عن بعض البضائع الواردة من الدول العربية .</p> <p>8- التوقيع على اتفاقية التعاون الاقتصادي مع روسيا البيضاء عام 2004 واتفاقية تنمية العلاقات التجارية مع الولايات المتحدة الأمريكية عام 2004م.</p>	<p>ما الجهود التي قامت بها الحكومة الرشيدة في مجال تهيئة الظروف الاقتصادية لمواجهة تحديات العولمة ؟</p>	تذكر	116

رقم الوحدة. الدرس.الصفحة	نموذج الإجابة	نص السؤال	نوع السؤال	م
81.3.2	<p>1- المحيط الهندي .</p> <p>2- 1- الهند . 2-استراليا . 3-سنغافورة . 4-عمان . 5-موريشيوس . 6-كينيا . 7-جنوب أفريقيا .</p> <p>3- رابطة الدول المطلة على المحيط الهندي للتعاون الإقليمي .</p>	<p>تمعن في الخريطة الآتية ثم اجب عما يلي من أسئلة :</p>  <p>1- المسطح المائي المشار إليه بالرقم 8 هو</p> <p>2- اذكر أسماء الدول التي تشير إليها الأرقام (1-2-3-4-5-6-7)</p> <p>3- ما اسم الرابطة التي تجمع بين هذه الدول ؟</p>	تطبيق	117

