

تم تحميل هذا الملف من موقع المناهج العمانية



مذكرة إثرائية سؤال وجواب في الوحدة الرابعة التربية السكانية نموذج حديث

[موقع المناهج](#) ← [المناهج العمانية](#) ← [الصف التاسع](#) ← [اجتماعيات](#) ← [الفصل الثاني](#) ← [الملف](#)

تاريخ إضافة الملف على موقع المناهج: 2024-05-21 17:56:49

إعداد: علي بن محمد الحسان

التواصل الاجتماعي بحسب الصف التاسع



[اضغط هنا للحصول على جميع روابط "الصف التاسع"](#)

روابط مواد الصف التاسع على تلغرام

[الرياضيات](#)

[اللغة الانجليزية](#)

[اللغة العربية](#)

[التربية الاسلامية](#)

المزيد من الملفات بحسب الصف التاسع والمادة اجتماعيات في الفصل الثاني

[مذكرة إثرائية سؤال وجواب في الوحدة الخامسة التواصل الحضاري البحري العماني نموذج حديث](#)

1

[مذكرة إثرائية سؤال وجواب في الوحدة السادسة تاريخ آسيا الحديث والمعاصر نموذج حديث](#)

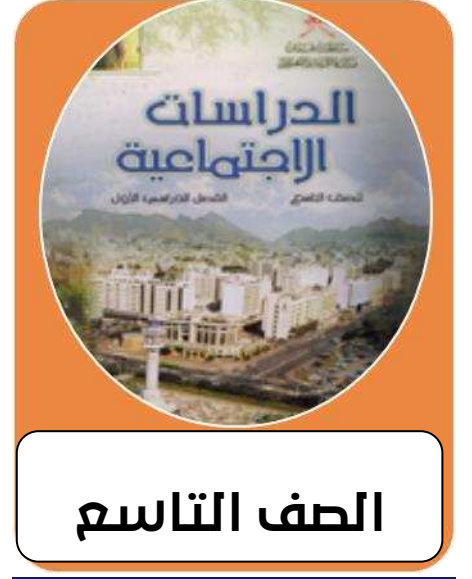
2

المزيد من الملفات بحسب الصف التاسع والمادة اجتماعيات في الفصل الثاني

| | |
|---|---|
| اختبار قصير ثاني نموذج ثاني | 3 |
| اختبار قصير ثاني | 4 |
| الملف الشامل للمادة | 5 |

سؤال
9
جواب

مذكرة
اثرائية



الصف التاسع

دروس الوحدة الرابعة

الانفجار السكاني



تنظيم الاسرة وعلاقته
بتحسين الوضع الاجتماعي

الاقتصاد والموارد البشرية

2023-2024

99493923

علي بن محمد الحسان



الصف التاسع

الوحدة الرابعة

درس : الانفجار السكاني (أجوبة)

٢٠٢٣-٢٠٢٤

٩٩٤٩٣٩٢٣

علي بن محمد الحسان

درس : الانفجار السكاني

السؤال الأول : ضع علامة (✓) أو (X) أمام العبارة المناسبة مع تصحيح ما تحته خط إذا كانت العبارة خطأ :

- ١- (X) تميزت مراحل النمو السكاني في العالم بفترات نمو متساوية السرعة . متباينة
 ٢- (✓) شهد الثلث الأخير من القرن العشرين نمواً لامثيل له في عدد سكان العالم .
 ٣- (X) عندما يزيد عدد السكان عن إمكانية الدول فإن ذلك يعني زيادة فرص العمل .

السؤال الثاني : ضع امام كل عبارة المصطلح الدال عليها .

- ١- (سوء التغذية) عدم احتواء غذاء الانسان على سرعات حرارية كافية لبقائه على قيد الحياة
 ٢- (التريية السكانية) العلم الذي يهدف الى التعريف بالسكان والظواهر السكانية من حيث اسبابها والعوامل التي تتحكم فيها
 ٣- (الانفجار السكاني) الزيادات الكبيرة في أعداد السكان بالمقارنة مع الموارد المتاحة .

السؤال الثالث : ظلل الإجابة الصحيحة من بين البدائل المعطاة :

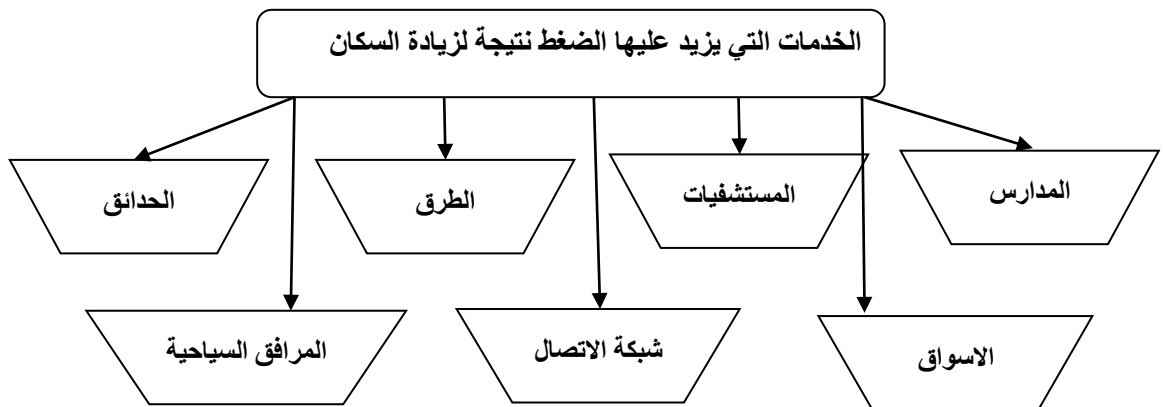
١- بلغ متوسط الذين يموتون جوعاً يومياً على المستوى العالمي نحو ألف نسمة

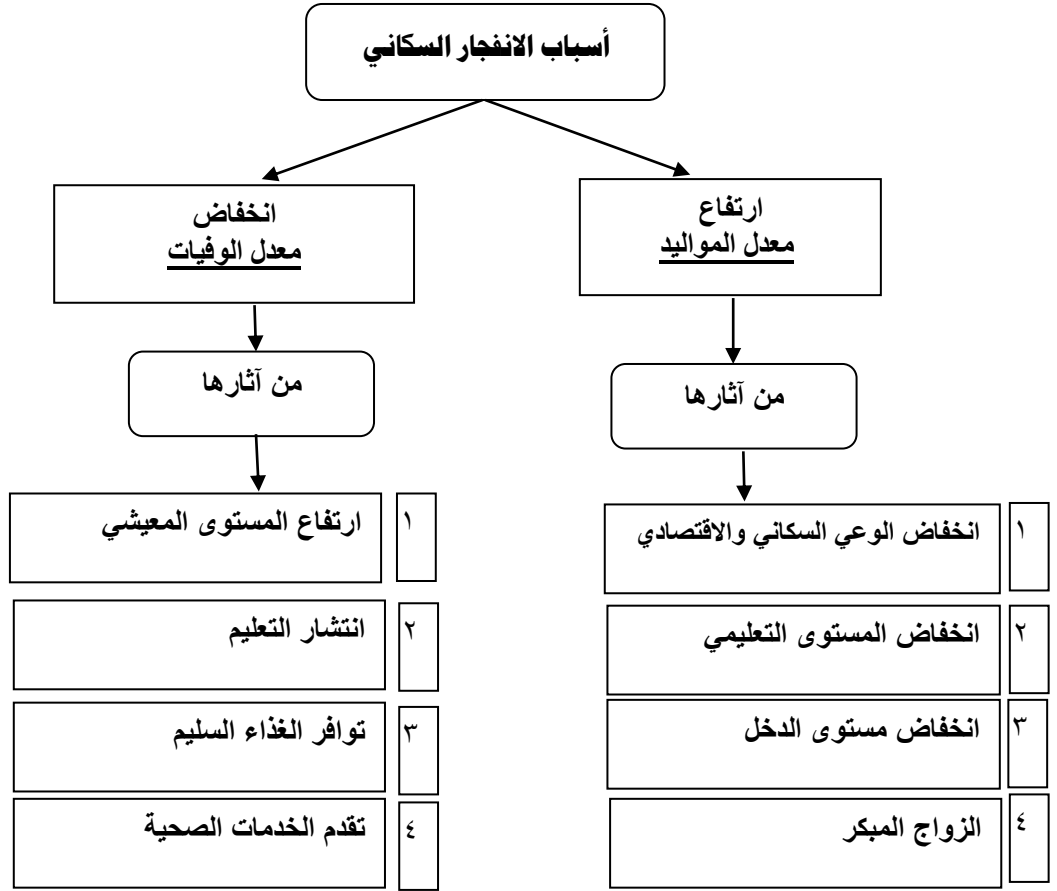
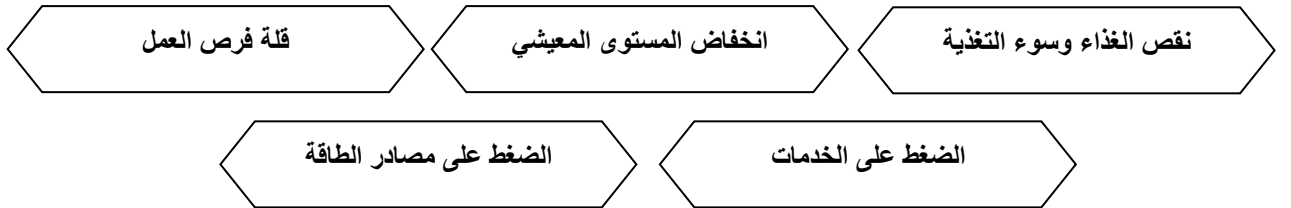
- ٢٠ ● ٣٠ ○ ٤٠ ○

٢- يسعى الإنسان للحصول على الطاقة غير القابلة للنفاذ وغير مكلفه تأتي في مقدمتها الطاقة

- المائية ○ الحيوية ○ الشمسية ●

السؤال الرابع : تؤدي الزيادة السكانية لاسيما في المدن الى الضغط على الخدمات والمرافق العامة أكمل الشكل بأربعة من هذه الخدمات



السؤال الخامس : الشكل التالي يوضح " أسباب الانفجار السكاني " أكمل الفراغات فيما يلي :**السؤال السادس : أكمل الشكل بكتابة ثلاث من الآثار الاقتصادية والاجتماعية للانفجار السكاني**

السؤال السابع : أجب عن الأسئلة التالية :

س ١ : عرف مفهوم الانفجار السكاني ؟

ج ١ : هو الزيادات الكبيرة في أعداد السكان بالمقارنة مع الموارد المتاحة .

س ٢ : " يتحدد النمو السكاني بعاملين اساسين " ما هما ؟ ؟


ج ٢ : ١- الزيادة الطبيعية . ٢- الهجرة .

س ٣ : ماذا يقصد بالتربية السكانية ؟

ج ٣ : هو العلم الذي يهدف الى التعريف بالسكان والظواهر السكانية من حيث اسبابها والعوامل التي تتحكم فيها والآثار المترتبة عليها والعلاقات التي تربطها وتوجه هذه المعرفة نحو تكوين اتجاهات ومواقف تؤثر في سلوك الافراد لتحسين نوعية الحياة للفرد والاسرة والمجتمع .

س ٤ : " للانفجار السكاني آثار اقتصادية واجتماعية " أذكر ثلاث من هذه الآثار مع شرح واحدة منها بإيجاز ؟

- ١- نقص الغذاء وسوء التغذية : نقص الغذاء يؤدي الى ظهور المجاعات وبالتالي إلى موت العديد من البشر يوميا (٢٠ ألف نسمة يوميا) ويقصد بسوء التغذية هو عدم احتواء غذاء الانسان على سرعات حرارية كافية لبقائهم على قيد الحياة
- ٢- انخفاض المستوى المعيشي : يعد انخفاض المستوى المعيشي نتيجة طبيعية لضعف الاقتصاد وغياب فرص العمل وقلة امكانيات الدول من الموارد فعندما يزيد عدد السكان عن إمكانية الدول فإن ذلك يعني قلة فرص العمل وانخفاض الأجور وبالتالي انخفاض المستوى المعيشي .
- ٣- قلة فرص العمل : مشكلة عالمية يرجع سببها الاساسي الى الزيادة السكانية بما يفوق عدد فرص العمل المتوافرة
- ٤- الضغط على الخدمات : الضغط على الخدمات والمرافق العامة (المستشفيات والمدارس والاسواق والحدائق و.....
- ٥- الضغط على مصادر الطاقة : تزداد الحاجة الى الطاقة يوميا نتيجة لزيادة عدد السكان والتقدم الاقتصادي والاجتماعي ويؤدي الضغط المتزايد على مصادر الطاقة المختلفة إلى تعرضها للاستنزاف لاسيما وأن معظمها قابلة للنفاذ .



الصف التاسع

٩

الفصل الدراسي الثاني

الوحدة الرابعة

درس : الانفجار السكاني (أسئلة)

٢٠٢٣-٢٠٢٤

٩٩٤٩٣٩٢٣

علي بن محمد الحسان

درس : الانفجار السكاني

السؤال الأول : ضع علامة (✓) أو (X) أمام العبارة المناسبة مع تصحيح ما تحته خط إذا كانت العبارة خطأ :

- ١- () تميزت مراحل النمو السكاني في العالم بفترات نمو متساوية السرعة .
 ٢- () شهد الثلث الأخير من القرن العشرين نمواً لامثيل له في عدد سكان العالم .
 ٣- () عندما يزيد عدد السكان عن إمكانية الدول فإن ذلك يعني زيادة فرص العمل .

السؤال الثاني : ضع امام كل عبارة المصطلح الدال عليها .

- ١- () عدم احتواء غذاء الانسان على سرعات حرارية كافية لبقائه على قيد الحياة.
 ٢- () العلم الذي يهدف الى التعريف بالسكان والظواهر السكانية من حيث اسبابها والعوامل التي تتحكم فيها
 ٣- () الزيادات الكبيرة في أعداد السكان بالمقارنة مع الموارد المتاحة .

السؤال الثالث : ظلل الإجابة الصحيحة من بين البدائل المعطاة :

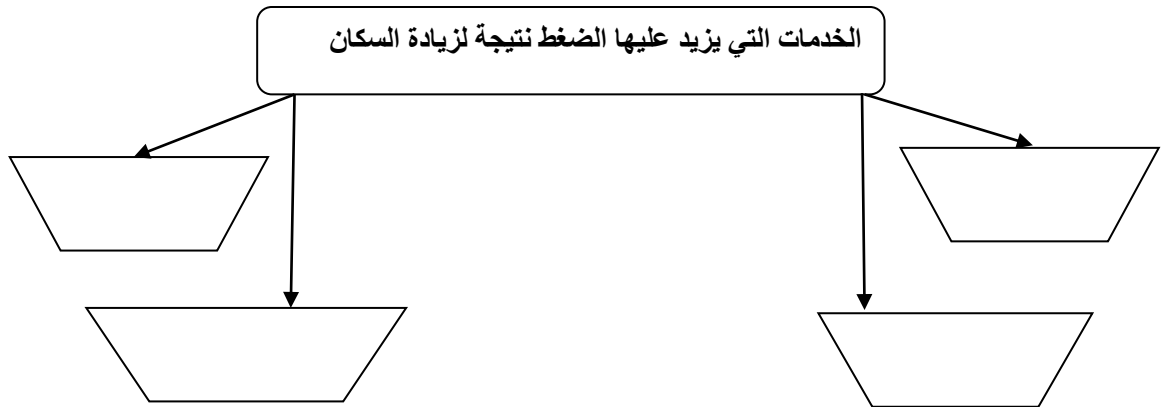
١- بلغ متوسط الذين يموتون جوعاً يومياً على المستوى العالمي نحو ألف نسمة

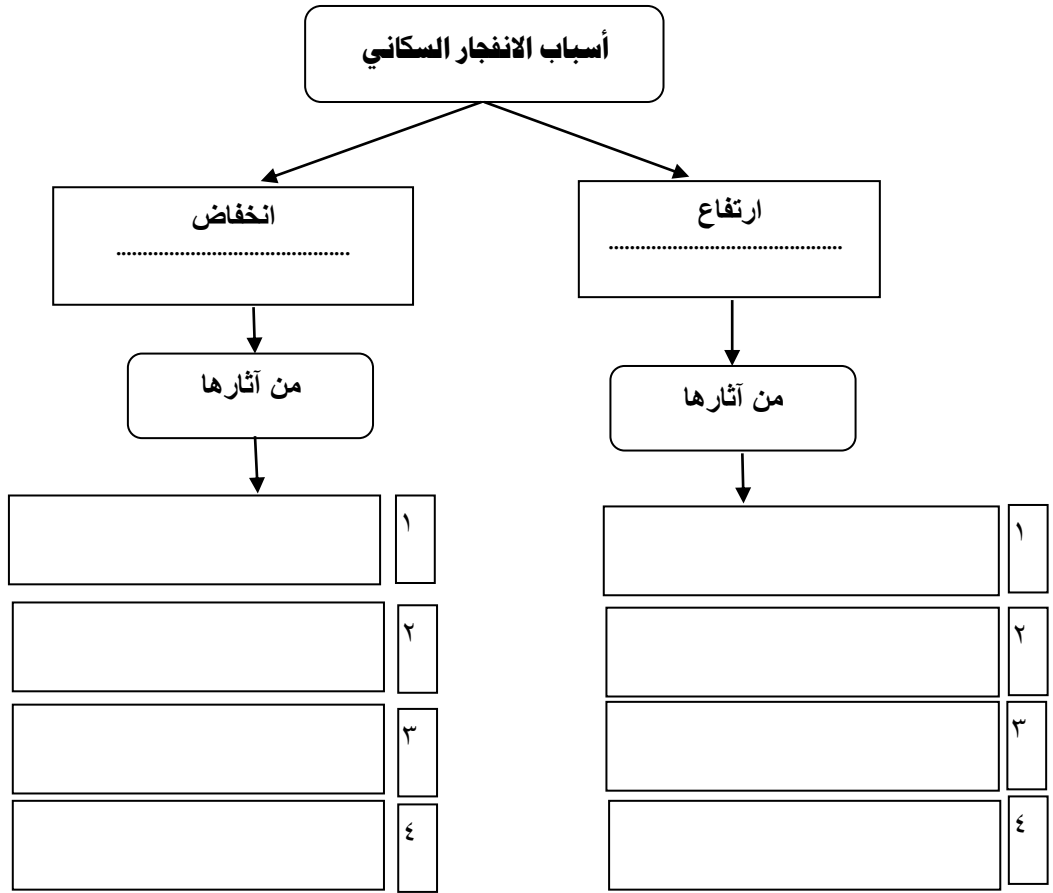
- ٢٠ ○ ٣٠ ○ ٤٠ ○

٢- يسعى الإنسان للحصول على الطاقة غير القابلة للنفاد وغير مكلفه تأتي في مقدمتها الطاقة

- المائية ○ الحيوية ○ الشمسية

السؤال الرابع : تؤدي الزيادة السكانية لاسيما في المدن الى الضغط على الخدمات والمرافق العامة أكمل الشكل بأربعة من هذه الخدمات



السؤال الخامس : الشكل التالي يوضح " أسباب الانفجار السكاني " أكمل الفراغات فيما يلي :**السؤال السادس : أكمل الشكل بكتابة ثلاث من الآثار الاقتصادية والاجتماعية للانفجار السكاني**

السؤال السابع : أجب عن الأسئلة التالية :س ١ : عرف مفهوم الانفجار السكاني ؟

ج ١ :

س ٢ : " يتحدد النمو السكاني بعاملين اساسين " ما هما ؟ ؟

ج ٢ :

س ٣ : ماذا يقصد بالتربية السكانية ؟

ج ٣ :

.....

.....

س ٤ : " للانفجار السكاني آثار اقتصادية واجتماعية " أذكر ثلاث من هذه الآثار مع شرح واحدة منها بإيجاز ؟

.....


.....

.....

.....

.....

.....



الصف التاسع

٩

الفصل الدراسي الثاني

الوحدة الرابعة

درس : تنظيم الاسرة وعلاقته بتحسين الوضع الاجتماعي (أجوبة)

٢٠٢٣-٢٠٢٤

٩٩٤٩٣٩٢٣

علي بن محمد الحسان

درس : تنظيم الاسرة وعلاقته بتحسين الوضع الاجتماعي**السؤال الأول : ضع علامة (✓) أو (X) أمام العبارة المناسبة مع تصحيح ما تحته خط إذا كانت العبارة خطأ :**

- ١- (✓) حليب الأم هو الغذاء المثالي للأطفال حديثو الولادة .
 ٢- (X) توصل العلماء إلى حليب يوازي الآثار النفسية والعاطفية للطفل . لم يتوصل
 ٣- (✓) اصبح الفحص الطبي أمراً مهماً للخطيبين قبل الزواج .

السؤال الثاني : ظلل الإجابة الصحيحة من بين البدائل المعطاة :

- ١- تستمر أهمية الرضاعة الطبيعية للطفل حتى سن
 عامين ● ثلاثا أعوام أربعة أعوام
- ٢- يعتبر فقد الدم أكثر الأمراض الوراثية انتشارا في سلطنة عمان
 المنجلي ● البحر المتوسط (التلاسيميا) المنغولي
- ٣- يعتبر فقر الدم المنجلي وفقر دم البحر المتوسط من أكثر الأمراض الوراثية انتشارا في....
 سلطنة عمان الوطن العربي ● الخليج العربي

السؤال الثالث : أكتب بين القوسين المصطلح المناسب للعبارة التالية

- ١- (تنظيم الأسرة) إتباع القواعد والطرق الصحيحة في بناء وتكوين أسرة سليمة بما يمكنها من تحقيق غايات المجتمع وطموحاته .
 ٢- (تنظيم الإنجاب) إنجاب الأطفال بعدد معين وفي فترة معينة مناسبة بما يتلاءم مع الحالة الاقتصادية والمعيشية للزوجين .

السؤال الرابع : أكمل الجدول التالي بثلاث فوائد لتنظيم الإنجاب لكل من الفئات المذكورة في الجدول:

| الاسرة والمجتمع | الام | الطفل |
|--|--|---|
| - توفير موارد أكثر لكل فرد من الأسرة لاسيما التغذية والملابس والدواء - تكون الفرصة المتاحة لكل فرد في الأسرة من التعليم والخدمات المختلفة أفضل - تنشئة اجتماعية أفضل من خلال تكريس وقت أطول لكل طفل - تكوين أسر أفضل لخدمة المجتمع | - يقلل من احتمالات التعرض لمخاطر الولادة مثل النزيف وتسمم الحمل - يجنبها التعرض لمخاطر الحمل والولادة بسبب تقدم العمر أو تأخره - يقيها من التعرض للضغوط النفسية الشديدة - تستعيد تناسق جسمها ويمنع تراكم السمنة في بعض أجزاءه | * يقلل من احتمالية إصابته بالحالات التالية: - وفاة الجنين - ولادة طفل أقل من الوزن الطبيعي - سوء التغذية - قلة الرعاية الاجتماعية والصحية والنفسية |

السؤال الخامس : أجب عن الأسئلة التالية :

س ١ : " للرضاعة الطبيعية فوائد كثيرة للطفل " أذكر أربع فوائد للرضاعة ؟



- ج ١ :**
- يشكل غذاء نظيف وآمن للطفل
 - سريع الهضم ويلبي كافة متطلبات الطفل الغذائية .
 - يحتوي على عناصر طبيعية مضادة للجراثيم .
 - يحمي الطفل من السمنة والبدانة ويمنع سوء التغذية .
 - يقوي مناعة الطفل ضد الأمراض والحساسية المفرطة .
 - يقوي فك الطفل ويسرع في ظهور أسنانه .
 - تعمق الرضاعة العاطفية بين الطفل وأمه .

س ٢ : ماذا يقصد بالفحص قبل الزواج ؟

ج ٢ : هو إجراء الفحص المخبري للشريكين المقبلين على الزواج للتأكد من وجود أمراض وراثية قد تنتقل للأبناء ومنح الخيارات والبدائل لهما من أجل التخطيط لبناء أسرة سليمة صحياً .

س ٣ : ماهي الأمراض التي نستخلصها من الفحص الطبي قبل الزواج ؟ يكتفى بذكر أربعة منها

- ج ٣ :**
- فحص أمراض الدم .
 - الامراض المعدية والوبائية .
 - امراض الكبد
 - الجهاز البولي
 - المناعة لدى الأم
 - اثبات القدرة على الإنجاب



الفصل الدراسي الثاني

الوحدة الرابعة

درس : تنظيم الاسرة وعلاقته بتحسين الوضع الاجتماعي (أسئلة)

٢٠٢٣-٢٠٢٤

٩٩٤٩٣٩٢٣

علي بن محمد الحسان

درس : تنظيم الاسرة وعلاقته بتحسين الوضع الاجتماعي**السؤال الأول : ضع علامة (✓) أو (X) أمام العبارة المناسبة مع تصحيح ما تحته خط إذا كانت العبارة خطأ :**

- ١- () حليب الأم هو الغذاء المثالي للأطفال حديثي الولادة .
- ٢- () توصل العلماء إلى حليب يوازي الآثار النفسية والعاطفية للطفل .
- ٣- () اصبح الفحص الطبي أمراً مهماً للطبيين قبل الزواج .

السؤال الثاني : ظلل الإجابة الصحيحة من بين البدائل المعطاة :

- ١- تستمر أهمية الرضاعة الطبيعية للطفل حتى سن
- عامين ○ ثلاثة أعوام ○ أربعة أعوام
- ٢- يعتبر فقد الدم أكثر الأمراض الوراثية انتشاراً في سلطنة عمان
- المنجلي ○ البحر المتوسط (التلاسيميا) ○ المنغولي
- ٣- يعتبر فقر الدم المنجلي وفقر دم البحر المتوسط من أكثر الأمراض الوراثية انتشاراً في....
- سلطنة عمان ○ الوطن العربي ○ الخليج العربي

السؤال الثالث : أكتب بين القوسين المصطلح المناسب للعبارة التالية

- ١- () إتباع القواعد والطرق الصحيحة في بناء وتكوين أسرة سليمة بما يمكنها من تحقيق غايات المجتمع وطموحاته .
- ٢- () إنجاب الأطفال بعدد معين وفي فترة معينة مناسبة بما يتلاءم مع الحالة الاقتصادية والمعيشية للزوجين .

السؤال الرابع : أكمل الجدول التالي بثلاث فوائد لتنظيم الإنجاب لكل من الفئات المذكورة في الجدول:

| الاسرة والمجتمع | الام | الطفل |
|-----------------|------|-------|
| | | |

السؤال الخامس : أجب عن الأسئلة التالية :

س ١ : " للرضاعة الطبيعية فوائد كثيرة للطفل " أذكر أربع فوائد للرضاعة ؟



- ج ١ : -
-
-
-

س ٢ : ماذا يقصد بالفحص قبل الزواج ؟

- ج ٢ :
.....

س ٣ : ماهي الأمراض التي نستخلصها من الفحص الطبي قبل الزواج ؟ يكتفى بذكر أربعة منها

- ج ٣ : -
-
-
-



الفصل الدراسي الثاني

الوحدة الرابعة

درس : الاقتصاد والموارد البشرية (أجوبة)

٢٠٢٣-٢٠٢٤

٩٩٤٩٣٩٢٣

علي بن محمد الحسان

درس : الاقتصاد والموارد البشرية**السؤال الأول : ضع علامة (✓) أو (✗) أمام العبارة المناسبة مع تصحيح ما تحته خط إذا كانت العبارة خطأ :**

- ١- (✓) تعد الموارد البشرية من أهم الموارد الاقتصادية التي ينبغي الاهتمام بها .
- ٢- (✗) تبنت السلطنة سياسة تنوع مصادر الدخل للابتعاد عن مصدر واحد فقط وهو الغاز . النفط
- ٣- (✓) تقوم سياسة السلطنة منذ البداية على تشجيع القطاع الخاص والمبادرات الفردية .

السؤال الثاني : أكمل العبارات التالية بكلمات مناسبة من عندك :

- ١- يعتمد النشاط الاقتصادي على نوعين من الموارد هما موارد طبيعية وموارد بشرية .
- ٢- تتأثر الموارد البشرية بعاملين اساسيين هما مستوى التدخل و التحضر .

السؤال الثالث : ظلل الإجابة الصحيحة من بين الخيارات التالية :

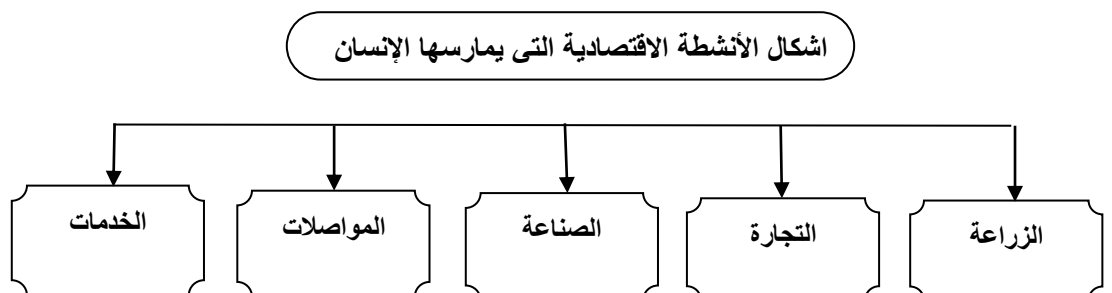
- ١- الجهد المنظم والمخطط لتزويد القوى البشرية لتحسين وتطوير مهاراتها وقدراتها بشكل إيجابي وبناء يقصد به ...
 التعليم التدريب الصحة
- ٢- قيمة ما تنتجه مختلف القطاعات الاقتصادية داخل البلد الواحد خلال سنة يقصد به ...
 الناتج المحلي الإجمالي الناتج الوطني الإجمالي الناتج العالمي الإجمالي

السؤال الرابع : ضع بين القوسين المصطلح الدال على العبارات التالية :

- ١- (الاقتصاد) مجموعة الأنشطة التي يمارسها السكان بهدف الحصول على العائد المادي .
- ٢- (دخل الفرد) قيمة ما يمكن أن يحصل عليه أو ينتجه الفرد خلال سنة .

السؤال الخامس : ضع دائرة حول الإجابة الصحيحة

- ١- كلما ارتقى الانسان بنفسه علميا وفنيا ومهاريا ادى ذلك الى (زيادة - نقص) الدخل .
- ٢- مستوى الدخل بواقع الإنتاج في القطاعات الاقتصادية المختلفة يقصد به مستوى (الدخل - المعيشة)

السؤال السادس : أكمل الشكل بكتابة أربعة من الأنشطة الاقتصادية التي يمارسها الإنسان :

السؤال السابع : اختر العبارة المناسبة من بين القوسين وضعها في التعريف المناسب لها

(التحضر - القوى العاملة - التنمية البشرية - الموارد البشرية)

| المرحلة | ميرتها |
|-----------------|--|
| القوى العاملة | مجموعة السكان الذين هم في سن العمل سواء كانوا يعملون أو يبحثون عن عمل |
| التحضر | تحول سكان منطقة معينة من الأرياف أو البادية إلى حياة المدن |
| الموارد البشرية | حجم عدد السكان لبلد ما ويشكل عدد كبير منهم القوى العاملة التي تشكل بدورها مصدر الدخل |
| التنمية البشرية | مساعدة الفرد على تنمية قدراته وإتاحة الفرص والخيارات لأداء عمله |

السؤال الثامن : أجب عن الأسئلة التالية :

س ١ : ما الفرق بين الموارد الطبيعية والموارد البشرية ؟

ج ١ : الموارد الطبيعية : هي متوفرة في البيئة ويعمل الإنسان على استغلالها .
الموارد البشرية : تتمثل في الإنسان بكل ما يمتلكه من ذكاء وقدرات وخبرات .

س ٢ : " تعد الموارد البشرية من اهم الموارد الاقتصادية التي ينبغي الاهتمام بها " وضح ذلك ؟

ج ٢ : لان النسان يكون هو المنتج والمستهلك معا .

س ٣ : " تعمل سلطنة عمان جاهدة على تنمية مواردها البشرية بغية تحقيق عدة أهداف " أذكر ثلاث من هذه الاهداف ؟

- ج ٣ : ١- تنمية القدرات الإدارية والتقنية والمالية للعُمانيين .
 ٢- زيادة علاقاتهم وكفاءتهم مع الاقتصاد العالمي .
 ٣- تشجيع وتوجيه اتجاه التوظيف الذاتي والمنشآت الفردية من خلال المناهج المدرسية .
 ٤- دعم البرامج التي تهدف إلى تعزيز ونشر أنشطة الشباب .
 ٥- منح الثقافة والتراث اهتماما خاصا .
 ٦- رفع عدد الذين يتم قبولهم في مؤسسات التعليم العالي والعمل على نشر التعليم .

س ٤ : " للرؤية المستقبلية للاقتصاد العماني أهداف عدة " أذكر اربع من هذه الاهداف ؟

- ج ٤ : ١- التنوع الاقتصادي .
 ٢- تنمية القطاع الخاص .
 ٣- رفع معدلات الادخار والاستثمار .
 ٤- تنمية الموارد البشرية .
 ٥- تحسين أداء سوق العمل .
 ٦- تقوية علاقات عمان الاقتصادية مع العالم الخارجي ودمجها مع الاقتصاد الدولي .

س ٥ : ماهي جوانب اهتمام الدول في برامج تنمية الموارد البشرية ؟ مع شرح واحد منها بإيجاز

ج ٥ : ١- التعليم : يعد المستوى التعليمي للسكان بالإضافة الى تقدمهم العلمي والتقني مرتكزا في بناء القوة الاقتصادية للدولة فعدد السكان ليس كافيا فلا بد من توفير الخبرات العلمية والفنية لهؤلاء السكان ولا يأتي ذلك الا بالتعليم .

٢- التدريب : يقصد به الجهد المنظم والمخطط لتزويد القوى البشرية في المنظمة بمعارف معينة على تحسين وتطوير مهاراتها وقدراتها وتغيير سلوكها واتجاهاتها بشكل ايجابي بناء وهذا يساعد على تحسين نوعية حياة الفرد .

٣- الصحة : ان الاهتمام بصحة الإنسان المعيشية والعقلية والجسدية يؤثر على إنتاجه ويعكس الوضع الصحي للفرد على النمو الاقتصادي للدولة حيث أن الصحة تعطي الفرد المقدرة على بذل مجهود أكبر خلال فترة قصيرة .

٤- الغذاء : أن الغذاء الجيد يؤثر على إنجاز الفرد لأعماله وفي الوقت نفسه يعد الجانب الاقتصادي ودرجة تقدم الدولة عاملا مؤثرا على المستوى الغذائي



س ٦ : مم يتكون القطاع الخاص ؟

ج ٦ : ١- من المؤسسات والشركات التي يمتلكها المواطنون ملكية خاصة .
٢- من مؤسسات فردية وشركات تغطي مجالات متعددة مثل (التجارة - الصناعة - الزراعة - الأسماك - الاتصالات - التعدين

.....

س ٧ : " يمكن تتبع تطور القطاع الخاص خلال السنوات الماضية من عدة جوانب " أذكر ثلاث من هذه الجوانب ؟

- ج ٧ : ١- عدد ونوعية المنشآت .
٢- مساهمة القطاع في الناتج المحلي الإجمالي .
٣- مساهمة القطاع في الاستثمارات المحلية .
٤- مساهمة القطاع في تشغيل الأيدي العاملة .



الفصل الدراسي الثاني

الوحدة الرابعة

درس : الاقتصاد والموارد البشرية (أسئلة)

٢٠٢٣-٢٠٢٤

٩٩٤٩٣٩٢٣

علي بن محمد الحسان

درس : الاقتصاد والموارد البشرية**السؤال الأول : ضع علامة (✓) أو (✗) أمام العبارة المناسبة مع تصحيح ما تحته خط إذا كانت العبارة خطأ :**

- ١- () تعد الموارد البشرية من أهم الموارد الاقتصادية التي ينبغي الاهتمام بها .
 ٢- () تبنت السلطنة سياسة تنوع مصادر الدخل للابتعاد عن مصدر واحد فقط وهو الغاز .
 ٣- () تقوم سياسة السلطنة منذ البداية على تشجيع القطاع الخاص والمبادرات الفردية .

السؤال الثاني : أكمل ما يلي بكلمات مناسبة من عندك :

- ١- يعتمد النشاط الاقتصادي على نوعين من الموارد هما موارد وموارد
- ٢- تتأثر الموارد البشرية بعاملين أساسيين هما مستوى و.....

السؤال الثالث : ظلل الإجابة الصحيحة من بين الخيارات التالية :

- ١- الجهد المنظم والمخطط لتزويد القوى البشرية لتحسين وتطوير مهاراتها وقدراتها بشكل إيجابي وبناء يقصد به ...
 التعليم التدريب الصحة
- ٢- قيمة ما تنتجه مختلف القطاعات الاقتصادية داخل البلد الواحد خلال سنة يقصد به ...
 الناتج المحلي الإجمالي الناتج الوطني الإجمالي الناتج العالمي الإجمالي

السؤال الرابع : ضع بين القوسين المصطلح الدال على العبارات التالية :


- ١- () مجموعة الأنشطة التي يمارسها السكان بهدف الحصول على العائد المادي .
 ٢- () قيمة ما يمكن أن يحصل عليه أو ينتجه الفرد خلال سنة .

السؤال الخامس : ضع دائرة حول الإجابة الصحيحة

- ١- كلما ارتقى الإنسان بنفسه علميا وفنيا ومهاريا أدى ذلك الى (زيادة - نقص) الدخل .
 ٢- مستوى الدخل بواقع الإنتاج في القطاعات الاقتصادية المختلفة يقصد به مستوى (الدخل - المعيشة)

السؤال السادس : أكمل الشكل بكتابة أربعة من الأنشطة الاقتصادية التي يمارسها الإنسان :

اشكال الأنشطة الاقتصادية التي يمارسها الإنسان



السؤال السابع : اختر العبارة المناسبة من بين القوسين وضعها في التعريف المناسب لها

(التحضر - القوى العاملة - التنمية البشرية - الموارد البشرية)

| المرحلة | ميرتها |
|---------|--|
| | مجموعة السكان الذين هم في سن العمل سواء كانوا يعملون أو يبحثون عن عمل |
| | تحول سكان منطقة معينة من الأرياف أو البادية إلى حياة المدن |
| | حجم عدد السكان لبلد ما ويشكل عدد كبير منهم القوى العاملة التي تشكل بدورها مصدر الدخل |
| | مساعدة الفرد على تنمية قدراته وإتاحة الفرص والخيارات لأداء عمله |

السؤال الثامن : أجب عن الأسئلة التالية :

س ١ : ما الفرق بين الموارد الطبيعية والموارد البشرية ؟

ج ١ : الموارد الطبيعية :

الموارد البشرية :

س ٢ : " تعد الموارد البشرية من اهم الموارد الاقتصادية التي ينبغي الاهتمام بها " وضح ذلك ؟

ج ٢ :

س ٣ : " تعمل سلطنة عمان جاهدة على تنمية مواردها البشرية بغية تحقيق عدة أهداف " أذكر ثلاث من هذه الاهداف ؟

ج ٣ : ١-

٢-

٣-

س ٤ : " للرؤية المستقبلية للاقتصاد العماني أهداف عدة " أذكر اربع من هذه الاهداف ؟

ج ٤ : ١-

٢-

٣-

٤-

س ٥ : مم يتكون القطاع الخاص ؟

ج ٥ : ١-

٢-

س ٦ : " يمكن تتبع تطور القطاع الخاص خلال السنوات الماضية من عدة جوانب " أذكر ثلاث من هذه الجوانب ؟

- ج ٦ : ١-
٢-
٣-

س ٧ : ماهي جوانب اهتمام الدول في برامج تنمية الموارد البشرية ؟ مع شرح واحد منها بإيجاز

- ج ٧ : ١- التعليم :
.....
٢- التدريب :
.....
٣- الصحة :
.....
٤- الغذاء :
.....