

تم تحميل هذا الملف من موقع المناهج العمانية



الملف أجوبة المذكرة الإثرائية والأسئلة الملخصة في الوحدة الأولى (جغرافية السكان)

[موقع المناهج](#) ⇨ [المناهج العمانية](#) ⇨ [الصف التاسع](#) ⇨ [اجتماعيات](#) ⇨ [الفصل الأول](#)

روابط مواقع التواصل الاجتماعي بحسب الصف التاسع



روابط مواد الصف التاسع على تلغرام

[الرياضيات](#)

[اللغة الانجليزية](#)

[اللغة العربية](#)

[التربية الاسلامية](#)

المزيد من الملفات بحسب الصف التاسع والمادة اجتماعيات في الفصل الأول

[امتحان وإجابة الأسئلة الرسمية للفصل الدراسي الأول الدور الأول 20162017](#)

1

[تحميل كتاب الطالب](#)

2

[تجميع أسئلة سنوات سابقة](#)

3

[أسئلة للمراجعة على الوحدة الثانية](#)

4

[ملخص من أهلك مع اختبارات قصيرة](#)

5

الصف التاسع

الدراسات الاجتماعية

2021-2022

الفصل الدراسي الأول

الوحدة الأولى

(سؤال وجواب)

(جغرافية السكان)

محتوى الوحدة الأولى

٢- بنية السكان

١- البيانات السكانية ومصادرها

٤- النمو السكاني والكثافة السكانية

٣- الهرم السكاني

للتواصل :

99493923

اعداد :

علي بن محمد الحسان
Ali 47536@moe.om

درس (البيانات السكانية ومصادرها)

السؤال الأول : ضع علامة (✓) أو (X) أمام العبارة الصحيحة مع تصحيح ما تحته خط إذا كانت العبارة خطأ

- ١- (X) من فوائد المسح بالعينة سرعة التنفيذ وكثرة النفقات . (قلة)
- ٢- (✓) تشكل البيانات السكانية المرجع الأساسي في التعرف على الاتجاهات السكانية حاضراً ومستقبلاً .
- ٣- (X) تعتبر المسوحات بالعينة أدق في البيانات من التعداد السكاني . أقل دقة
- ٤- (✓) من ضمن أهمية التعداد السكاني أنه يساعد الباحثين وطلبة العلم في معالجة البيانات ودراساتها .

السؤال الثاني : أكمل ما يلي بكلمات مناسبة من عندك :

- ١- تفيد معرفة العدد الفعلي للسكان حسب فئات الأعمار في التخطيط لبناء المدارس وإقامة المستشفيات وشبكة المواصلات .
- ٢- يتمثل النمو السكاني في المواليد والوفيات والهجرة .

السؤال الثالث : أكمل المربعات بكلمات مناسبة من عندك :

- ١- من المسوحات التي تقوم بها المؤسسات الحكومية والأهلية لمعرفة الخصائص السكانية

مسح الخصوبة	مسح العمالة	مسح الباحثين عن العمل	التركيب النوعي
-------------	-------------	-----------------------	----------------

- ٢- يستفاد من سجل الأحوال المدنية في توفير الوثائق الرسمية مثل

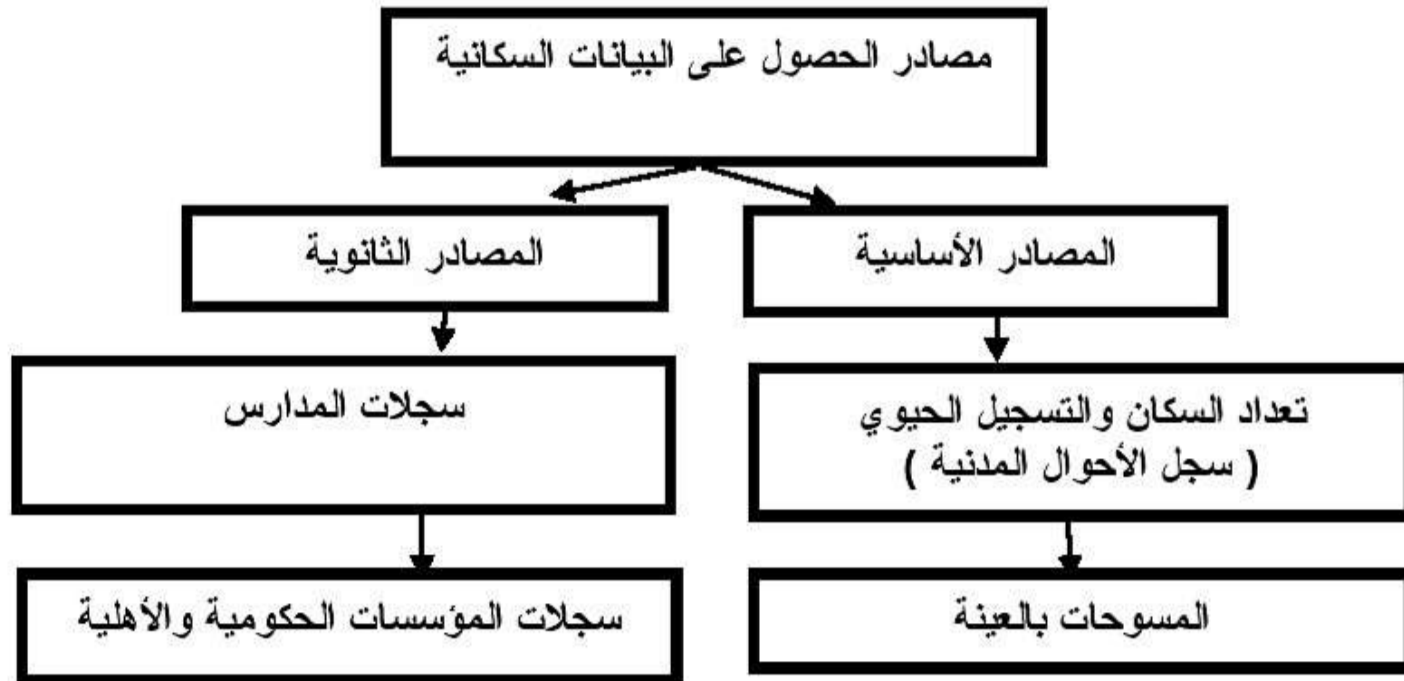
شهادة الميلاد	شهادة الوفاة	عقد الزواج	وثيقة الطلاق
---------------	--------------	------------	--------------

السؤال الرابع : ظلل العبارة الصحيحة من بين البدائل المعطاه :

- ١- علم جغرافية السكان أحد فروع علم
 الجغرافيا الطبيعية التاريخ الجغرافيا البشرية
- ٢- يعد أهم المصادر الرئيسية لدراسة الخصائص والتغيرات السكانية في أي مجتمع .
 المسوحات بالعينة التسجيل الحيوي التعداد السكاني

السؤال الخامس : صل بخط بين العمود الأول وما يناسبه من العمود الثاني

وظيفته	المصطلح
يتناول كل الأحداث الحيوية التي تطرأ على الإنسان منذ ولادته وحتى وفاته	التعداد
عملية جمع البيانات عن عينة ممثلة للمجتمع	المسوحات بالعينة
جمع البيانات والمعلومات بكل تفاصيلها المتعلقة بجميع مفردات مجتمع معين في وقت محدد	التسجيل الحيوي

السؤال السادس : أكمل الجدول التالي**السؤال السابع : أجب عن الأسئلة التالية**

س ١ : عرف مفهوم جغرافية السكان مع ذكر أهميتها ؟

ج ١ : جغرافية السكان أحد فروع علم الجغرافيا البشرية وهي تشكل القاعدة الأساسية لمعرفة بنية السكان وخصائصهم .
أهميتها :

- أنها تشكل العلم الذي يهتم بدراسة حجم السكان وخصائصهم من حيث البنى العمرية والنوعية والاقتصادية والاجتماعية
- التعرف على النمو السكاني والمتمثل في المواليد والوفيات والهجرة .
- يدرس كثافة السكان وعلاقتهم بالموارد .

س ٢ : ماذا يقصد بالتعداد السكاني ؟

ج ٢ : التعداد بمعنى العد أو الإحصاء ويقصد به جمع البيانات والمعلومات بكل تفاصيلها المتعلقة بجميع مفردات مجتمع معين في وقت محدد " الإسناد الزمني " .

س ٣ : ما أهمية دراسة التعداد السكاني لأي مجتمع ؟

ج ٣ : أنه يوفر مخزوناً كبيراً من البيانات والمعلومات عن السكان خلال فترة زمنية تساعد أصحاب القرار في مؤسسات الدولة على وضع الخطط التنموية المستقبلية اللازمة في ضوء المتغيرات السكانية حسب المناطق التي يتوزع فيها السكان .

درس (بنية السكان)

السؤال الأول : ضع علامة (✓) أو (X) أمام العبارة الصحيحة مع تصحيح ما تحته خط إذا كانت العبارة خطأ :

- ١- (X) تعتبر فئة كبار السن هي الفئة المنتجة في المجتمع . (الشباب)
 ٢- (✓) تقاس بنية النوع من خلال نسبة عدد الذكور إلى عدد الإناث في المجتمع .
 ٣- (X) يقصد بالسكان النشيطون هم الأفراد الذين يؤدون عملاً منتجاً مقابل أجر . (بدون أجر)

السؤال الثاني : أكمل ما يلي بكلمات مناسبة من عندك :

- ١- تتأثر بنية السكان بمتغيرات عدة منها المواليد والوفيات والهجرة
 ٢- تؤثر بنية السكان بشكل واضح على نوعية الخدمات الأساسية مثل التعليم والصحة والنقل والمواصلات والماء والكهرباء

السؤال الثالث : ضع دائرة حول الإجابة الصحيحة من بين البدائل المعطاه :

- ١- يقصد به نسبة الأفراد العاملين إلى الأفراد غير العاملين
 أمد الحياه الإعالة بنية السكان
 ٢- نسبة النوع في أي مجتمع تقريباً ما بين
 ١٠٠-١٠٣ ١٠٠-١٠٤ ١٠٠-١٠٥
 ٣- عدد السنوات المتوقع أن يعيشها الإنسان يقصد بها
 أمد الحياه بنية السكان البنية النوعية

السؤال الرابع : علل " أذكر السبب " :

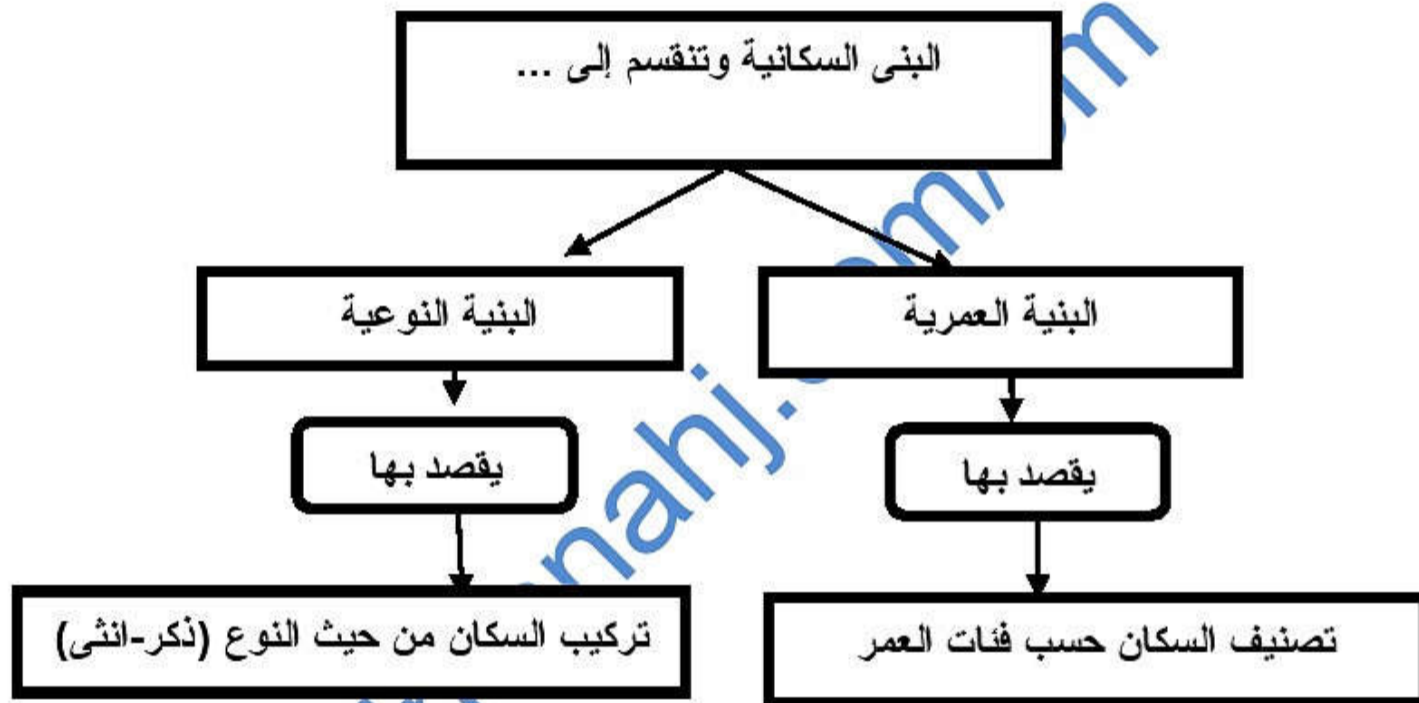
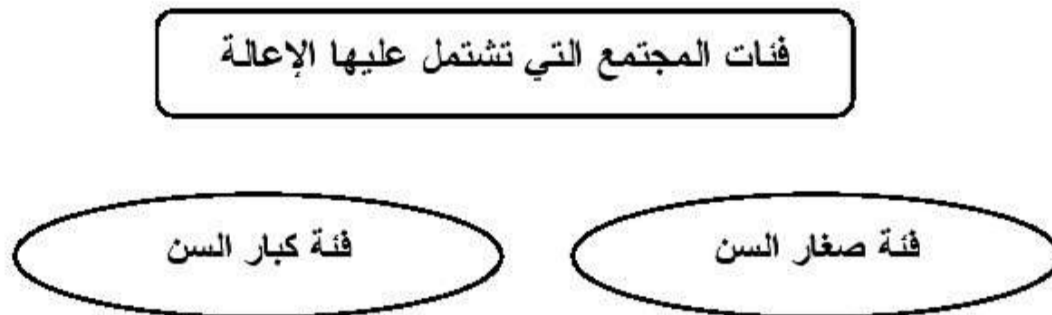
- س ١ : زيادة عدد الإناث في بعض المجتمعات .
 ج ١ : نتيجة للحروب والأعمال الشاقة .
 س ٢ : ارتفاع أمد الحياة في سلطنة عمان عام ٢٠٠٣ عما كان عليه عام ١٩٧٠ .
 ج ٢ : بسبب وجود الرعاية الصحية والوعي الصحي بين الناس .
 س ٣ : أمد الحياة في الدول المتقدمة أكثر من الدول النامية .
 ج ٣- : نتيجة تقدم الدول المتقدمة في مكافحة الأوبئة والأمراض ووجود الوعي الصحي بين الناس .

السؤال الخامس : صل بخط بين العمود الأول وما يناسبه من العمود الثاني

المصطلح	وظيفته
بنية السكان	الحالة الاجتماعية للسكان من حيث الحالة الزوجية والتعليمية واللغوية
البنية الاقتصادية	تركيب السكان حسب ممارساتهم للأنشطة الاقتصادية المختلفة
البنية الاجتماعية	دراسة السكان من حيث التركيب العمري والنوعي والاقتصادي والاجتماعي

السؤال السادس : أكمل الجدول التالي من حيث البنية العمرية لأي مجتمع :

اسم الفئة	السن	مميزاتها
فئة الأطفال	أقل من ١٥ سنة	انها فئة معاله غير منتجة للمجتمع
فئة الشباب	بين ١٥-٦٤	انها فئة منتجة للمجتمع
فئة كبار السن	٦٥ سنة وأكثر	انها فئة معاله غير منتجة كثيرا

السؤال السابع : أكمل الجدول التالي للبنى السكانية**السؤال الثامن : اكمل الشكل التالي :**

السؤال التاسع : أجب عن الأسئلة التالية :

س ١ : ما المقصود بالبنية العمرية والبنية النوعية ؟

ج ١ : البنية العمرية : يقصد بها توزيع " تصنيف " السكان حسب العمر
البنية النوعية : يقصد بها تركيب السكان من حيث النوع " ذكور وإناث "

س ٢ : ما أهمية دراسة البنى السكانية ؟

ج ٢ : لمعرفة التباين الإقليمي بين الدول والتباين بين الأقاليم في الدولة الواحدة بين الحضر والريف وبين المجتمعات والجماعات العرقية .

س ٣ : " تتأثر نسبة النوع في المجتمعات بعدة عوامل " أذكر اثنان من هذه العوامل ؟

ج ٣ : - اختلاف نوعية المهاجرين " غالبية المهاجرين تكون من الذكور " .
- عدم الدقة في تسجيل الإناث " إغفال التبليغ عن بعض ولادات الإناث أو التبليغ الخاطئ لنوع المولود " .
- اختلاف معدات الوفيات بين الذكور والإناث " فالحروب تزيد من عدد وفيات الذكور " .

س ٤ : في ماذا تفيدنا دراسة البنية الاقتصادية بالنسبة لتركيب السكان ؟

ج ٤ : - معرفة نسب القوى العاملة وحجمها وأهميتها .
- معرفة معدلات الباحثين عن عمل وتوزيعها حسب العمر والنوع والمهنة .
- معرفة السكان النشطين اقتصاديا .

درس (الهرم السكاني)

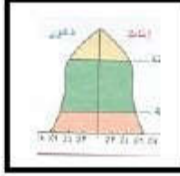
السؤال الأول : ضع علامة (✓) أو (✗) أمام العبارة الصحيحة مع تصحيح ما تحته خط إذا كانت العبارة خطأ :

- ١- (✓) يختلف شكل الهرم السكاني من دولة إلى أخرى نتيجة للمتغيرات التي تحدث له .
 ٢- (✓) كلما كانت قاعدة الهرم السكاني عريضة دل ذلك على فتوة المجتمع .
 ٣- (✗) تعد سلطنة عمان نموذجاً متأخراً من حيث ارتفاع معدلات المواليد وانخفاض الوفيات . متقدماً

السؤال الثاني : أكمل ما يلي بكلمات مناسبة من عندك :

- ١- من أبرز الدول التي تمثل المرحلة الثالثة للانتقال السكاني والمتميزة بانخفاض المواليد الصين والبرازيل ومصر وتونس .
 ٢- من أبرز الدول التي تمثل المرحلة الرابعة للانتقال السكاني والمتميزة بارتفاع أمد الحياة اليابان - إيطاليا - ألمانيا .

السؤال الثالث : ظلل الإجابة الصحيحة من بين الخيارات التالية :

- ١- يتكون الهرم السكاني من أفقية مدرجة تمثل الفئات العمرية وتتناسب مع نسبة كل فئة .
 مربعات مستطيلات مثلثات
- ٢- نتيجة لمتغيرات الهرم السكاني ينتج عنه أشكال رئيسية .
 ٣ ٤ ٥
- ٣- يتعرض أي مجتمع من المجتمعات لعدة تغيرات تطراً على حالة السكان ويمر هذا التغير..... مراحل
 ٤ ٥ ٦
- ٤- الشكل التالي يمثل الهرم

 الهرم ذو القاعدة العريضة الهرم ذو القاعدة الضيقة الهرم ذو القاعدة المتوسطة

السؤال الرابع : تمر مراحل الانتقال السكاني بعدة متغيرات " صل بخط بين المرحلة وميزتها :

المرحلة	ميزتها
المرحلة الأولى	تتميز بارتفاع في معدلات المواليد يرافقها انخفاض في معدلات الوفيات
المرحلة الثانية	تتميز بارتفاع معدلات المواليد يرافقها ارتفاع في معدلات الوفيات
المرحلة الثالثة	تتميز بانخفاض في معدلات المواليد والوفيات
المرحلة الرابعة	تتميز بانخفاض سريع في معدلات المواليد يرافقها انخفاض في معدلات الوفيات

السؤال الخامس : قارن بين الهرمين السكانيين التاليين من حيث :

مجال المقارنة	الهرم ذو القاعدة العريضة	الهرم ذو القاعدة الضيقة
اسم الهرم	الهرم ذو القاعدة العريضة	الهرم ذو القاعدة الضيقة
فئة المجتمع الذي يمثله	الفتي	المسن
نوع فئة السن	صغار السن	كبار السن
ميزته	تزيد فيه نسبة صغار السن بنحو ٥٠٪	تنخفض فيه نسبة الصغار وتزيد نسبة الكبار

السؤال السادس : يتاثر شكل الهرم السكاني بعدة متغيرات " اكمل الشكل بكتابة ثلاثة منها :

المواليد الوفيات الهجرة

السؤال السابع : أجب عن الأسئلة التالية :

س ١ : عرف الهرم السكاني ؟

ج ١ : عبارة عن رسم بياني يبين توزيع السكان حسب فئاتهم العمرية والنوعية .

س ٢ : " يمكن بناء الهرم السكاني وفق عدة خطوات " أذكر هذه الخطوات ؟

ج ٢ : ١- رصد سكان مجتمع الدراسة وتصنيفهم حسب الفئات العمرية والنوعية .

٢- حساب نسبة ماتمثلة كل فئة عمرية من مجموع السكان لكل من الذكور والإناث .

٣- رسم خط أفقي يمثل النسب لكل نوع (ذكور وإناث) وآخر عمودي يمثل الفئات العمرية ثم رسم خط عمودي

ينصف الخط الأفقي (المحور الأوسط)

٤- رسم الأعمدة البيانية الخاصة بفئات الذكور على يسار المحور الأوسط ثم فئات الإناث على يمينه .

درس (النمو السكاني والكثافة السكانية)**السؤال الأول : ضع علامة (✓) أو (X) أمام العبارة الصحيحة مع تصحيح ما تحته خط إذا كانت العبارة خطأ :**

- ١- (X) يتميز عصرنا الراهن بالنمو السكاني المنخفض . المرتفع
- ٢- (✓) تتميز الدول النامية بتكاثر سكانها بمعدل كبير يزيد عن معدل التنمية الاقتصادية بها .
- ٣- (X) تزيد نسبة الوفيات في فئة الإناث أكثر من الذكور . الذكور
- ٤- (✓) نجد أن هناك تفاوت كبير بين معدل النمو السكاني في الدول النامية .

السؤال الثاني : ظلل الإجابة الصحيحة من بين الخيارات التالية :

١- تزايد عدد سكان العالم بحيث وصل الى نحو مليارات نسمة في بداية هذا القرن

- خمسة ○ ستة ● ○ سبعة

٢- معدلات المواليد ترتفع بين المجتمعات ...

- الزراعية ○ الصناعية ○ التجارية

السؤال الثالث : " لحساب الكثافة السكانية اسطويان " أكمل مايلي:

- ١- قسمة عدد سكان الدولة أو الإقليم أو المنطقة على المساحة الكلية يعرف هذا النوع باسم الكثافة الحسابية (العامة) .
- ٢- قسمة عدد السكان على مساحة المنطقة التي يعيشون عليها ويستثمرونها يعرف هذا النوع باسم الكثافة الوظيفية (الفيزيولوجية) .

السؤال الرابع : علل " أذكر السبب " :

- س ١ : تختلف معدلات المواليد بين الدول .
- ج ١ : بسبب الأوضاع الاقتصادية والاجتماعية وبحسب الثقافة السائدة في المجتمعات .
- س ٢ : ارتفاع معدلات المواليد بين المجتمعات الزراعية .
- ج ٢ : لاحتياج تلك المجتمعات لأيدي عاملة كثيرة ولاعتقاد البعض بأن زيادة العدد تعطي قوة ومكانه للأسرة .

السؤال الخامس : ضع المصطلح من بين القوسين أمام التعريف المناسب له في العمود الثاني

(سنة الأساس - صافي الهجرة - النمو السكاني - الهجرة - الكثافة السكانية)

المرحلة	ميزتها
النمو السكاني	زيادة اعداد السكان من سنة لأخرى نتيجة زيادة عدد المواليد وانخفاض عدد الوفيات والهجرة
الكثافة السكانية	العلاقة بين عدد السكان والمساحة الأرضية التي يعيشون عليها
سنة الأساس	هي السنة التي جرى فيها تعداد سابق للتعداد الأخير
الهجرة	حركة الأفراد من مكان إلى آخر سواء كانت الهجرة مؤقتة أم دائمة أم قسرية
صافي الهجرة	الفرق بين الهجرة الخارجية والهجرة الداخلية للدولة

السؤال السادس : اكمل الشكل بكتابة اربعة من العوامل التي تؤدي للوفاة :

الحوادث	الكوارث	الحروب	الامراض
---------	---------	--------	---------

السؤال السابع : أجب عن الأسئلة التالية :

س ١ : كيف تحسب الزيادة الطبيعية ؟

ج ١ : الزيادة الطبيعية = عدد المواليد - عدد الوفيات .

س ٢ : كيف يحسب معدل النمو السكاني ؟

الزيادة الطبيعية + صافي الهجرة

ج ٢ : معدل النمو السكاني $\frac{\text{الزيادة الطبيعية} + \text{صافي الهجرة}}{\text{متوسط عدد السكان}} \times 100$.

س ٣ : كيف يحسب معدل المواليد الخام ؟

عدد المواليد الأحياء في سنة معينة

ج ٣ : معدل المواليد الخام $\frac{\text{عدد المواليد الأحياء في سنة معينة}}{\text{عدد السكان}} \times 1000$.

س ٤ : كيف يحسب معدل الوفيات ؟

عدد الوفيات في سنة معينة

ج ٤ : معدل الوفيات $\frac{\text{عدد الوفيات في سنة معينة}}{\text{عدد السكان}} \times 1000$.

almanahj.com