

تم تحميل هذا الملف من موقع المناهج العمانية



الملف مذكرة إثرائية وأسئلة ملخصة في الوحدة الأولى (جغرافية السكان)

[موقع المناهج](#) ⇨ [المناهج العمانية](#) ⇨ [الصف التاسع](#) ⇨ [اجتماعيات](#) ⇨ [الفصل الأول](#)

روابط مواقع التواصل الاجتماعي بحسب الصف التاسع



روابط مواد الصف التاسع على تلغرام

[الرياضيات](#)

[اللغة الانجليزية](#)

[اللغة العربية](#)

[التربية الاسلامية](#)

المزيد من الملفات بحسب الصف التاسع والمادة اجتماعيات في الفصل الأول

[امتحان وإجابة الأسئلة الرسمية للفصل الدراسي الأول الدور الأول 20162017](#)

1

[تحميل كتاب الطالب](#)

2

[تجميع أسئلة سنوات سابقة](#)

3

[أسئلة للمراجعة على الوحدة الثانية](#)

4


[ملخص من أهلك مع اختبارات قصيرة](#)

5

الصف التاسع

الدراسات الاجتماعية

2021-2022



الفصل الدراسي الأول

الوحدة الأولى

(أسئلة)

(جغرافية السكان)

محتوى الوحدة الأولى

٢- بنية السكان

١- البيانات السكانية ومصادرها

٤- النمو السكاني والكثافة السكانية

٣- الهرم السكاني

للتواصل :

99493923

اعداد :

علي بن محمد الحسان

Ali 47536@moe.om

درس (البيانات السكانية ومصادرها)

السؤال الأول : ضع علامة (✓) أو (X) أمام العبارة الصحيحة مع تصحيح ما تحته خط إذا كانت العبارة خطأ

- ١- () من فوائد المسح بالعينة سرعة التنفيذ وكثرة النفقات .
- ٢- () تشكل البيانات السكانية المرجع الأساسي في التعرف على الاتجاهات السكانية حاضراً ومستقبلاً .
- ٣- () تعتبر المسوحات بالعينة أدق في البيانات من التعداد السكاني .
- ٤- () من ضمن أهمية التعداد السكاني أنه يساعد الباحثين وطلبة العلم في معالجة البيانات ودراساتها .

السؤال الثاني : أكمل ما يلي بكلمات مناسبة من عندك :

- ١- تفيد معرفة العدد الفعلي للسكان حسب فئات الأعمار في التخطيط لبناء المدارس و
- و
- ٢- يتمثل النمو السكاني في المواليد و

السؤال الثالث : أكمل المربعات بكلمات مناسبة من عندك :

- ١- من المسوحات التي تقوم بها المؤسسات الحكومية والأهلية لمعرفة الخصائص السكانية

مسح	مسح	التركيب
-----------	-----------	---------------

- ٢- يستفاد من سجل الأحوال المدنية في توفير الوثائق الرسمية مثل

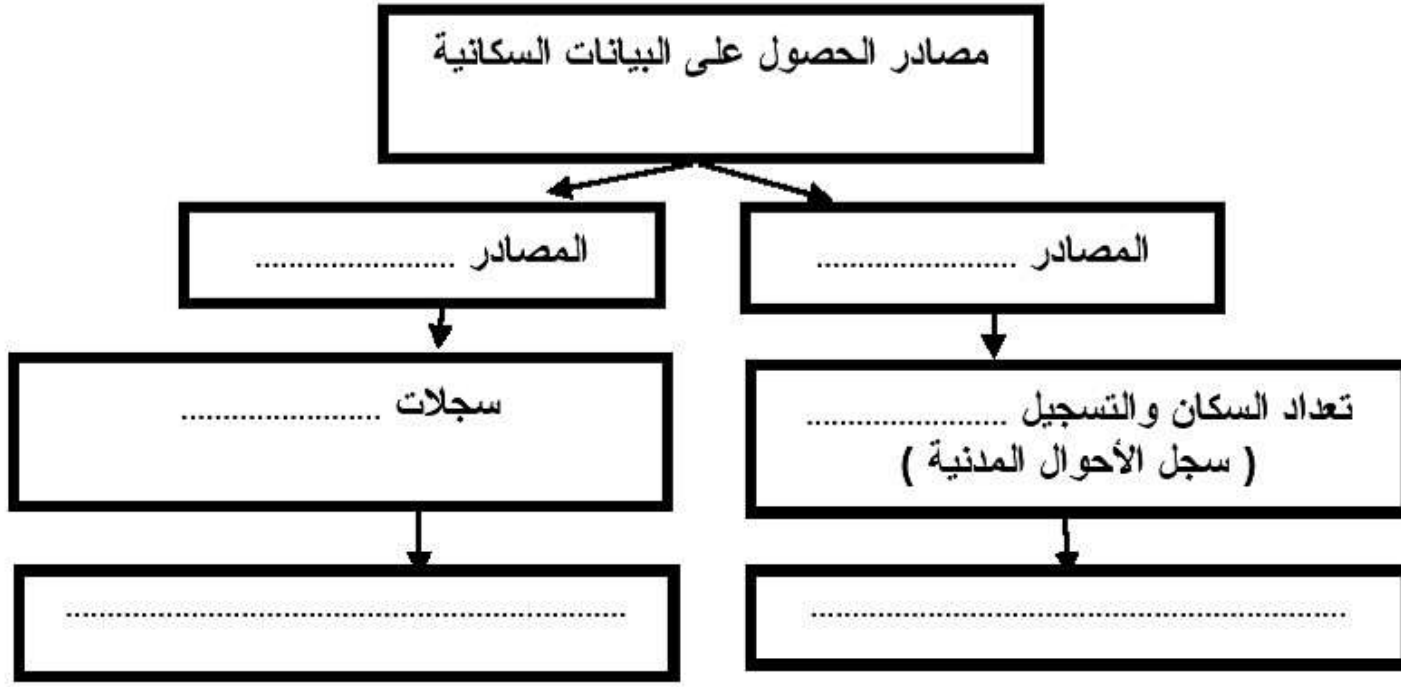
شهادة	شهادة	عقد	وثيقة
-------------	-------------	-----------	-------------

السؤال الرابع : ظلل العبارة الصحيحة من بين البدائل المعطاه :

- ١- علم جغرافية السكان أحد فروع علم
 الجغرافيا الطبيعية التاريخ الجغرافيا البشرية
- ٢- يعد أهم المصادر الرئيسية لدراسة الخصائص والتغيرات السكانية في أي مجتمع .
 المسوحات بالعينة التسجيل الحيوي التعداد السكاني

السؤال الخامس : صل بخط بين العمود الأول وما يناسبه من العمود الثاني

المصطلح	وظيفته
التعداد	يتناول كل الأحداث الحيوية التي تطرأ على الإنسان منذ ولادته وحتى وفاته
المسوحات بالعينة	عملية جمع البيانات عن عينة ممثلة للمجتمع
التسجيل الحيوي	جمع البيانات والمعلومات بكل تفاصيلها المتعلقة بجميع مفردات مجتمع معين في وقت محدد

السؤال السادس : أكمل الجدول التالي**السؤال السابع : أجب عن الأسئلة التالية**

س ١ : عرف مفهوم جغرافية السكان ؟ مع ذكر أهميتها ؟

ج ١ :

س ٢ : ماذا يقصد بالتعداد السكاني ؟

ج ٢ :

س ٣ : ما أهمية دراسة التعداد السكاني لأي مجتمع ؟

ج ٣ :

درس (بنية السكان)**السؤال الأول : ضع علامة (✓) أو (X) أمام العبارة الصحيحة مع تصحيح ما تحته خط إذا كانت العبارة خطأ :**

- ١- () تعتبر فئة كبار السن هي الفئة المنتجة في المجتمع .
 ٢- () تقاس بنية النوع من خلال نسبة عدد الذكور إلى عدد الإناث في المجتمع .
 ٣- () يقصد بالسكان النشيطون هم الأفراد الذين يؤدون عملاً منتجاً مقابل أجر .

السؤال الثاني : أكمل ما يلي بكلمات مناسبة من عندك :

- ١- تتأثر بنية السكان بمتغيرات عدة منها المواليد و..... و.....
 ٢- تؤثر بنية السكان بشكل واضح على نوعية الخدمات الأساسية مثل التعليم و..... و.....

السؤال الثالث : ضع دائرة حول الإجابة الصحيحة من بين البدائل المعطاه :

- ١- يقصد به نسبة الأفراد العاملين إلى الأفراد غير العاملين
 أمد الحياة الإعاقة بنية السكان
 ٢- نسبة النوع في أي مجتمع تقريباً ما بين
 ١٠٠-١٠٣ ١٠٠-١٠٤ ١٠٠-١٠٥
 ٣- عدد السنوات المتوقع أن يعيشها الإنسان يقصد بها
 أمد الحياة بنية السكان البنية النوعية

السؤال الرابع : علل " أذكر السبب " :س ١ : زيادة عدد الإناث في بعض المجتمعات .

ج ١ :

س ٢ : ارتفاع أمد الحياة في سلطنة عمان عام ٢٠٠٣ عما كان عليه عام ١٩٧٠ .

ج ٢ :

س ٣ : أمد الحياة في الدول المتقدمة أكثر من الدول النامية .

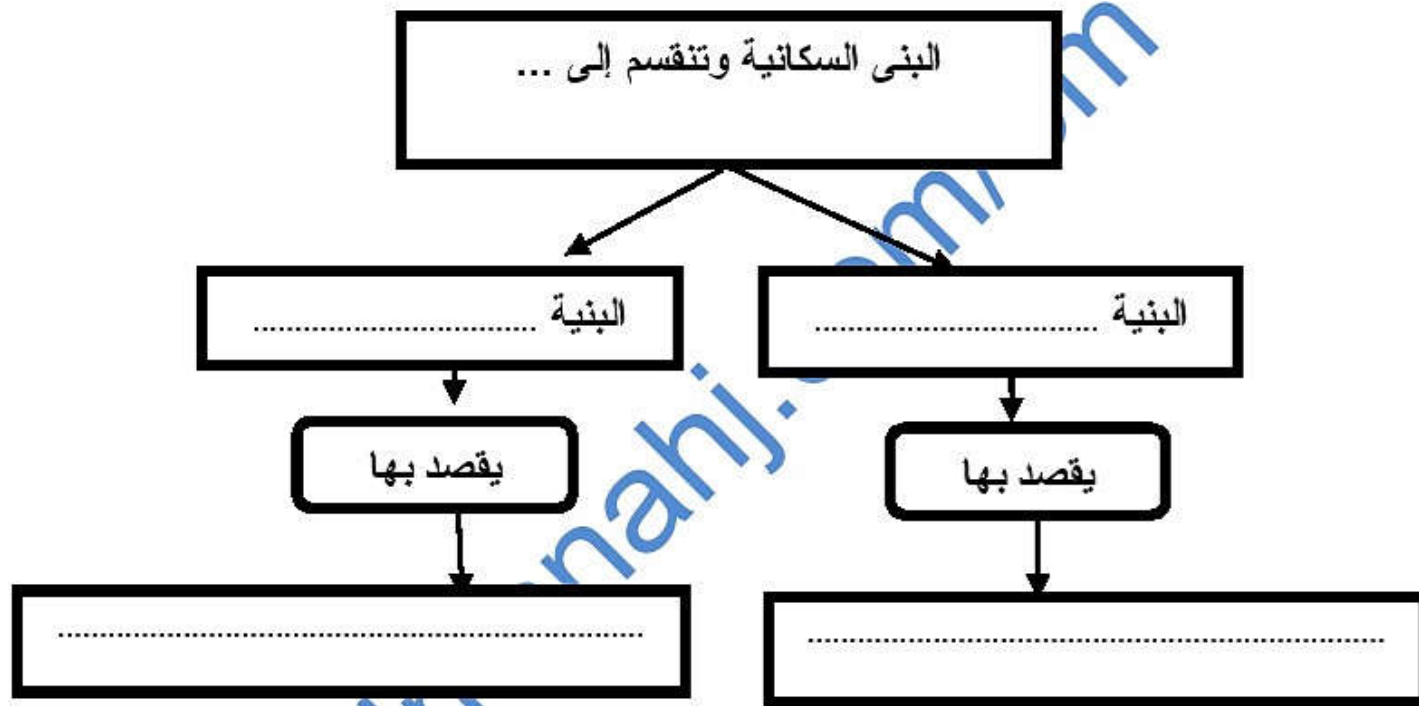
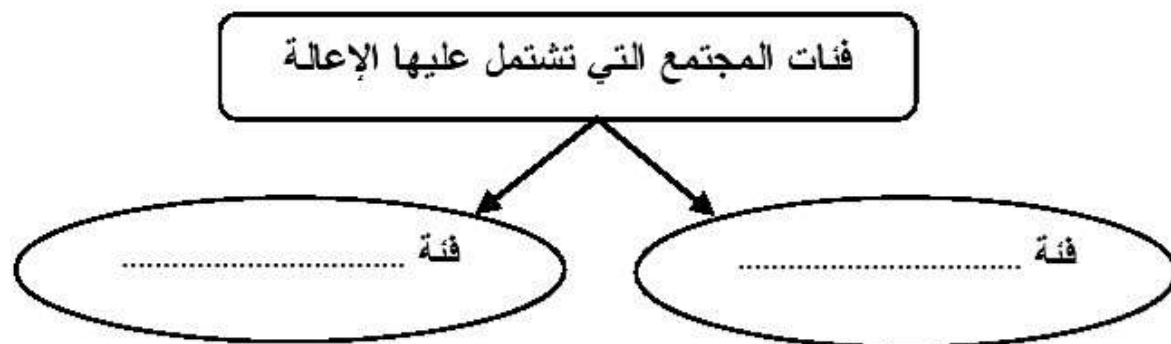
ج ٣- :

السؤال الخامس : صل بخط بين العمود الأول وما يناسبه من العمود الثاني

المصطلح	وظيفته
بنية السكان	الحالة الاجتماعية للسكان من حيث الحالة الزوجية والتعليمية واللغوية
البنية الاقتصادية	تركيب السكان حسب ممارساتهم للأنشطة الاقتصادية المختلفة
البنية الاجتماعية	دراسة السكان من حيث التركيب العمري والنوعي والاقتصادي والاجتماعي

السؤال السادس : أكمل الجدول التالي من حيث البنية العمرية لأي مجتمع :

اسم الفئة	السن	مميزاتها
فئة الأطفال		
فئة الشباب		
فئة كبار السن		

السؤال السابع : أكمل الجدول التالي للبنى السكانية**السؤال الثامن : اكمل الشكل التالي :**

السؤال التاسع : أجب عن الأسئلة التالية :س ١ : ما المقصود بالبنية العمرية والبنية النوعية ؟ج ١ : البنية العمرية :
البنية النوعية :س ٢ : ما أهمية دراسة البنى السكانية ؟

ج ٢ :

.....

س ٣ : " تتأثر نسبة النوع في المجتمعات بعدة عوامل " أذكر اثنان من هذه العوامل ؟

ج ٣ :

.....

س ٤ : في ماذا تفيدنا دراسة البنية الاقتصادية بالنسبة لتركيبه السكان ؟

ج ٤ :

.....

.....

almanahj.com

درس (الهرم السكاني)

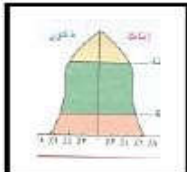
السؤال الأول : ضع علامة (✓) أو (X) أمام العبارة الصحيحة مع تصحيح ما تحته خط إذا كانت العبارة خطأ :

- ١- () يختلف شكل الهرم السكاني من دولة إلى أخرى نتيجة للمتغيرات التي تحدث له .
 ٢- () كلما كانت قاعدة الهرم السكاني عريضة دل ذلك على فتوة المجتمع .
 ٣- () تعد سلطنة عمان نموذجاً متأخراً من حيث ارتفاع معدلات المواليد وانخفاض الوفيات .

السؤال الثاني : أكمل ما يلي بكلمات مناسبة من عندك :

- ١- من أبرز الدول التي تمثل المرحلة الثالثة للانتقال السكاني والمتميزة بانخفاض المواليد والبرازيل و..... وتونس
 ٢- من أبرز الدول التي تمثل المرحلة الرابعة للانتقال السكاني والمتميزة بارتفاع أمد الحياة اليابان و..... و.....

السؤال الثالث : ظلل الإجابة الصحيحة من بين الخيارات التالية :

- ١- يتكون الهرم السكاني من أفقية مدرجة تمثل الفئات العمرية وتتناسب مع نسبة كل فئة .
 مربعات مستطيلات مثلثات
- ٢- نتيجة لمتغيرات الهرم السكاني ينتج عنه أشكال رئيسية .
 ٣ ٤ ٥
- ٣- يتعرض أي مجتمع من المجتمعات لعدة تغيرات تطراً على حالة السكان ويمر هذا التغيير..... مراحل
 ٤ ٥ ٦
- ٤- الشكل التالي يمثل الهرم

 الهرم ذو القاعدة العريضة الهرم ذو القاعدة الضيقة الهرم ذو القاعدة المتوسطة

السؤال الرابع : تمر مراحل الإنتقال السكاني بعدة متغيرات " صل بخط بين المرحلة وميزتها :

المرحلة	ميزتها
المرحلة الأولى	تتميز بارتفاع في معدلات المواليد يرافقها انخفاض في معدلات الوفيات
المرحلة الثانية	تتميز بارتفاع معدلات المواليد يرافقها ارتفاع في معدلات الوفيات
المرحلة الثالثة	تتميز بانخفاض في معدلات المواليد والوفيات
المرحلة الرابعة	تتميز بانخفاض سريع في معدلات المواليد يرافقها انخفاض في معدلات الوفيات

السؤال الخامس : قارن بين الهرمين السكانيين التاليين من حيث :

مجال المقارنة	إناث	ذكور
اسم الهرم	هرم	هرم
فئة المجتمع الذي يمثله	فئة	فئة
نوع فئة السن	فئة	فئة
ميزته		

السؤال السادس : يتأثر شكل الهرم السكاني بعدة متغيرات " اكمل الشكل بكتابة ثلاثة منها :**السؤال السابع : أجب عن الأسئلة التالية :**

س ١ : عرف الهرم السكاني ؟

ج ١ :

س ٢ : " يمكن بناء الهرم السكاني وفق عدة خطوات " أذكر هذه الخطوات ؟

ج ٢ :

.....

.....

.....

درس (النمو السكاني والكثافة السكانية)

السؤال الأول : ضع علامة (✓) أو (X) أمام العبارة الصحيحة مع تصحيح ما تحته خط إذا كانت العبارة خطأ :

- ١- () يتميز عصرنا الراهن بالنمو السكاني المنخفض .
- ٢- () تتميز الدول النامية بتكاثر سكانها بمعدل كبير يزيد عن معدل التنمية الاقتصادية بها .
- ٣- () تزيد نسبة الوفيات في فئة الإناث أكثر من الذكور .
- ٤- () نجد أن هناك تفاوت كبير بين معدل النمو السكاني في الدول النامية .

السؤال الثاني : ظلل الإجابة الصحيحة من بين الخيارات التالية :

١- تزايد عدد سكان العالم بحيث وصل الى نحو مليارات نسمة في بداية هذا القرن

- خمسة ○ ستة ○ سبعة

٢- معدلات المواليد ترتفع بين المجتمعات

- الزراعية ○ الصناعية ○ التجارية

السؤال الثالث : " لحساب الكثافة السكانية اسلوبان " أكمل مايلي:

- ١- قسمة عدد سكان الدولة أو الإقليم أو المنطقة على المساحة الكلية يعرف هذا النوع باسم الكثافة
- ٢- قسمة عدد السكان على مساحة المنطقة التي يعيشون عليها ويستثمرونها يعرف هذا النوع باسم الكثافة

السؤال الرابع : علل " أذكر السبب " :

س ١ : تختلف معدلات المواليد بين الدول .

ج ١ :

س ٢ : ارتفاع معدلات المواليد بين المجتمعات الزراعية .

ج ٢ :

السؤال الخامس : ضع المصطلح من بين القوسين أمام التعريف المناسب له

(سنة الأساس - صافي الهجرة - النمو السكاني - الهجرة - الكثافة السكانية)

المرحلة	ميزتها
	زيادة اعداد السكان من سنة لأخرى نتيجة زيادة عدد المواليد وانخفاض عدد الوفيات والهجرة
	العلاقة بين عدد السكان والمساحة الأرضية التي يعيشون عليها
	هي السنة التي جرى فيها تعداد سابق للتعداد الأخير
	حركة الأفراد من مكان إلى آخر سواء كانت الهجرة مؤقتة أم دائمة أم قسرية
	الفرق بين الهجرة الخارجية والهجرة الداخلية للدولة

السؤال السادس : اكمل الشكل بكتابة اربعة من العوامل التي تؤدي للوفاة :

--	--	--	--

السؤال السابع : أجب عن الأسئلة التالية :

س ١ : كيف تحسب الزيادة الطبيعية ؟

ج ١ :

س ٢ : كيف يحسب معدل النمو السكاني ؟

ج ٢ :

س ٣ : كيف يحسب معدل المواليد الخام ؟

ج ٣ :

س ٤ : كيف يحسب معدل الوفيات ؟

ج ٤ :

almanahj.com/om