

تم تحميل هذا الملف من موقع المناهج العُمانية



\* للحصول على أوراق عمل لجميع الصفوف وجميع المواد اضغط هنا

<https://almanahj.com/om>

\* للحصول على أوراق عمل لجميع مواد الصف التاسع اضغط هنا

<https://almanahj.com/om/9>

\* للحصول على جميع أوراق الصف التاسع في مادة اجتماعيات ولجميع الفصول, اضغط هنا

<https://almanahj.com/om/9social>

\* للحصول على أوراق عمل لجميع مواد الصف التاسع في مادة اجتماعيات الخاصة بـ الفصل الثاني اضغط هنا

<https://almanahj.com/om/9social2>


\* لتحميل كتب جميع المواد في جميع الفصول للـ الصف التاسع اضغط هنا

<https://almanahj.com/om/grade9>

\* لتحميل جميع ملفات المدرس علي بن محمد الحسان اضغط هنا

للتحدث إلى بوت على تلغرام: اضغط هنا

[https://t.me/omcourse\\_bot](https://t.me/omcourse_bot)



**مذكرة إثرائية لمادة  
الدراسات الاجتماعية**

**2020-2021**

**الصف الثامن**

**الفصل الدراسي الثاني  
الوحدة الرابعة  
( التربية السكانية )**

**اسئلة**

**إعداد :**

**علي بن محمد الحسان**

**للتواصل :**

**99493923**

**Ali 47536@moe.om**

درس ( الانفجار السكاني )

**السؤال الأول : ضع علامة ( ✓ ) أو ( X ) أمام العبارة المناسبة مع تصحيح ما تحته خط إذا كانت العبارة خطأ :**

- ١- ( ) تميزت مراحل النمو السكاني في العالم بفترات نمو متساوية السرعة .
- ٢- ( ) شهد الثلث الأخير من القرن العشرين نمواً لامثيل له في عدد سكان العالم .
- ٣- ( ) عندما يزيد عدد السكان عن إمكانية الدول فإن ذلك يعني زيادة فرص العمل .

**السؤال الثاني : ضع امام كل عبارة المصطلح الدال عليها .**

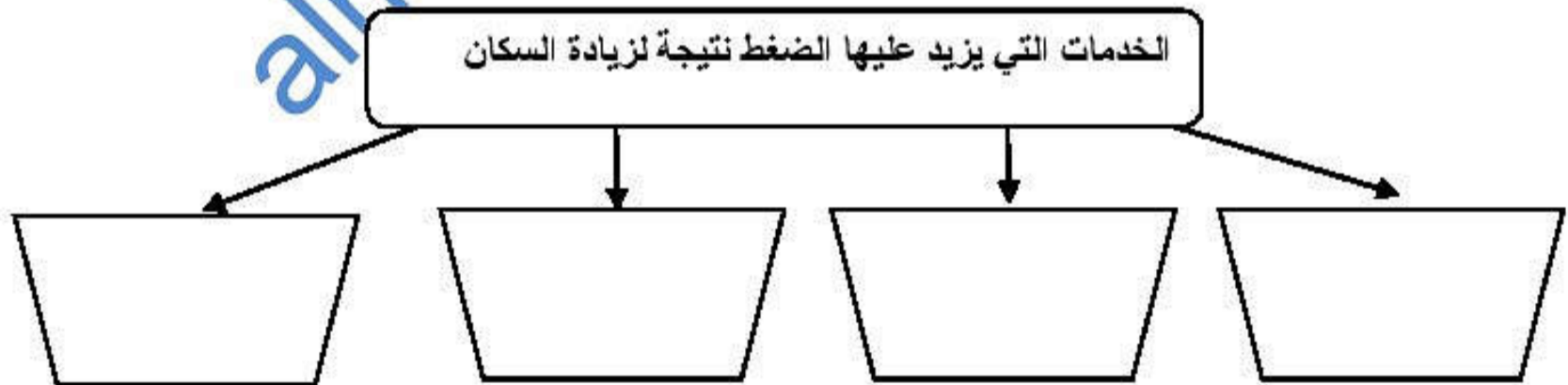
- ١- ( ) عدم احتواء غذاء الانسان على سرعات حرارية كافية لبقائه على قيد الحياة.
- ٢- ( ) العلم الذي يهدف الى التعريف بالسكان والظواهر السكانية من حيث اسبابها والعوامل التي تتحكم فيها
- ٣- ( ) الزيادات الكبيرة في أعداد السكان بالمقارنة مع الموارد المتاحة .

**السؤال الثالث : ضع دائرة حول الإجابة الصحيحة من بين البدائل المعطاة :**

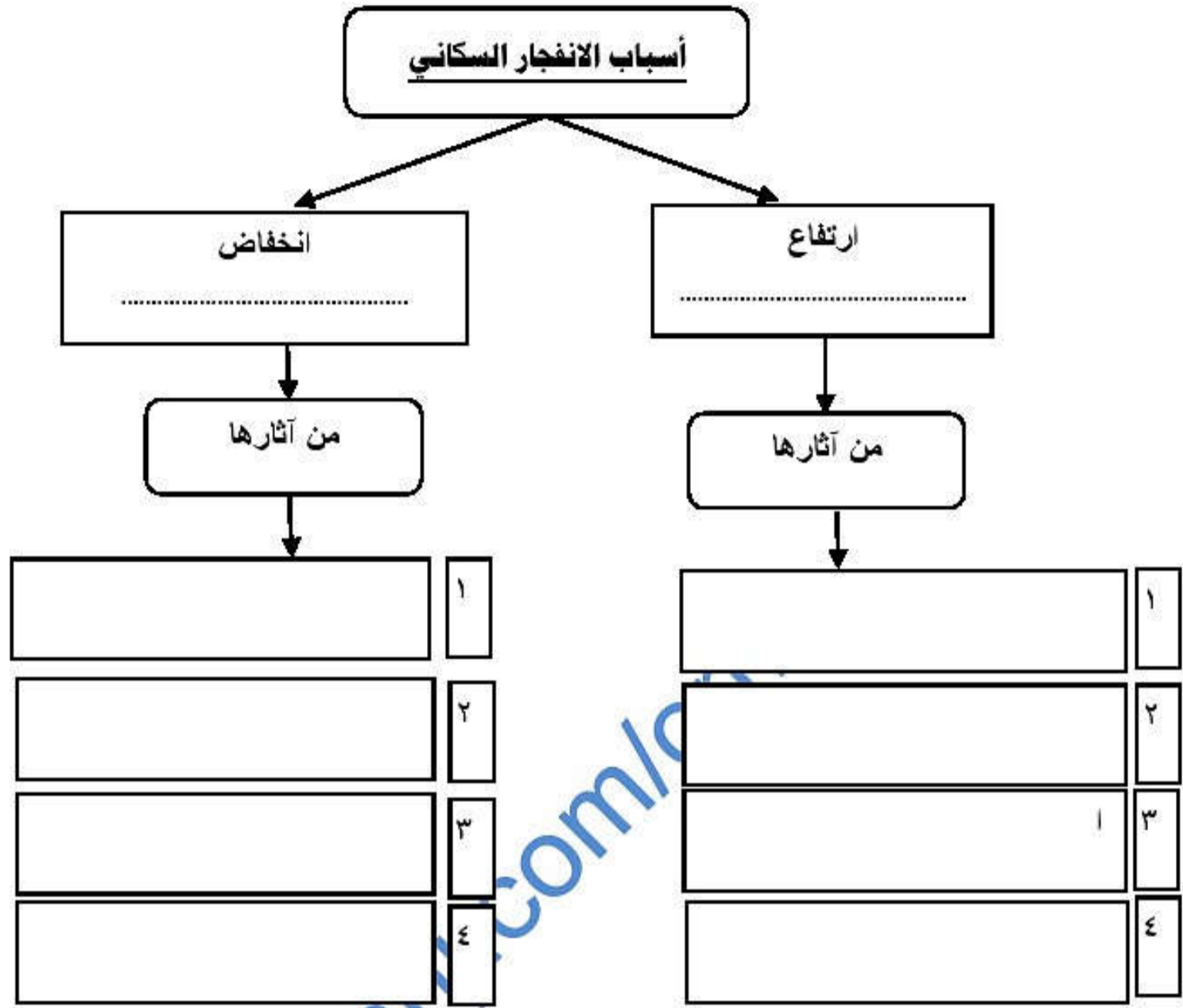
١- بلغ متوسط الذين يموتون جوعاً يومياً على المستوى العالمي نحو ..... ألف نسمة  
( ٢٠ - ٣٠ - ٤٠ )

٢- يسعى الإنسان للحصول على الطاقة غير القابلة للنفاد وغير مكلفه تأتي في مقدمتها الطاقة  
( المائية - الحيوية - الشمسية )

**السؤال الرابع : تؤدي الزيادة السكانية لاسيما في المدن الى الضغط على الخدمات والمرافق العامة أكمل الشكل بكتابة أربعة من هذه الخدمات**



**السؤال الخامس : الشكل التالي يوضح " أسباب الانفجار السكاني " أكمل الفراغات فيما يلي :**



**السؤال السادس : أكمل الشكل بكتابة ثلاثة من الآثار الاقتصادية والاجتماعية للانفجار السكاني**

**السؤال السابع : أجب عن الأسئلة التالية :**

س ١ : عرف مفهوم الانفجار السكاني ؟

ج ١ :

س ٢ : " يتحدد النمو السكاني بعاملين أساسيين " ما هما ؟

ج ٢ :

س ٣ : ماذا يقصد بالتربية السكانية ؟

ج ٣ :

س ٤ : " للانفجار السكاني آثار اقتصادية واجتماعية " أذكر ثلاثة من هذه الآثار مع شرح واحدة منها بإيجاز ؟

almanahj.com/lom