

تم تحميل هذا الملف من موقع المناهج القطرية



*للحصول على أوراق عمل لجميع الصفوف وجميع المواد اضغط هنا

<https://almanahj.com/qa>

* للحصول على أوراق عمل لجميع مواد المستوى الأول اضغط هنا

<https://almanahj.com/qa/1>

* للحصول على جميع أوراق المستوى الأول في مادة علوم ولجميع الفصول, اضغط هنا

<https://almanahj.com/qa/1science>

* للحصول على أوراق عمل لجميع مواد المستوى الأول في مادة علوم الخاصة بـ الفصل الثاني اضغط هنا

<https://almanahj.com/qa/1science2>

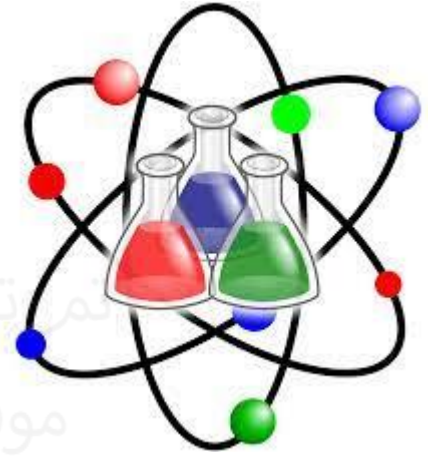
* لتحميل كتب جميع المواد في جميع الفصول لد المستوى الأول اضغط هنا

<https://almanahj.com/qa/grade1>

للتحدث إلى بوت المناهج القطرية على تلغرام: اضغط هنا

https://t.me/qacourse_bot

العام الأكاديمي 2023/2022
منتصف الفصل الدراسي الثاني



حل التدريبات الإثرائية لمنتصف الفصل
الدراسي الثاني
مادة العلوم

الصف الأول الابتدائي

	اسم الطالب
	الصف والشعبة

ورقة عمل الطعام الطازج

اختر الإجابة الصحيحة مما يلي:

1) ما الوصف الصحيح للطعام الذي لم يحافظ على لونه ورائحته ولمسه وأصبح غير صالح للأكل؟

طعام طازج	A ✓
طعام محفوظ	B
طعام متعفن	C

2) ما الوصف الصحيح للطعام غير الطازج، ولكنه صالح للأكل؟

طعام متعفن	A
طعام محفوظ	B ✓
طعام طازج	C

3) ما الخصائص التي تظهر أن الطعام طازج؟

اللون فقط	A
الرائحة فقط	B
اللون و الرائحة	C ✓

4) ما الجهاز الذي يساعد على بقاء الطعام طازجًا لفترة أطول؟

الفرن	A
الثلاجة	B ✓
الميكروويف	C

5) أي أنواع الطماطم التالية تظل طازجة لفترة أطول؟	
A	طماطم مغلقة فقط
B	طماطم غير مغلقة
C ✓	طماطم مغلقة بالثلاجة

6) أي الأعراض التالية ليس لها علاقة بالتسمم الغذائي؟	
A	الإسهال
B	وجع البطن
C ✓	احمرار العين

7) من العادات الصحيحة التي يجب أن أفعلها لأتجنب التسمم الغذائي؟	
A ✓	غسل الطعام قبل أكله
B	أكل الطعام مباشرة بعد شرائه
C	أكل الطعام المطهي نصف طهي

(8) صل ما بين الجملة والصورة الصحيحة التي تُعبر عنها



طعام طازج

طريقة تبقي الطعام
طازج مدة اطول

(1) عفن ينمو على الطعام

9) ضع علامة (✓) أمام العبارة الصحيحة و علامة (x) أمام العبارة الخطأ.

(---✓---)	1) نميز الطعام الطازج من غير الطازج اعتمادًا على اللون والرائحة والملمس.
(---✓---)	2) الإنسان الذي يأكل طعام متعفن قد يُصاب بوجع في البطن والإسهال.
(---✓---)	3) ينمو العفن على الفاكهة الطازجة إذا تركت مدة من الزمن.
(---✓---)	4) من الطرق التي تحميها من التسمم الغذائي غسل الطعام

10) أكمل الفراغات مما بين القوسين: (العفن / فاسد / الطازج / تغليف)

أ) الطعام الطازج هو الذي يكون محافظًا على لونه ورائحته وملمسه.
ب) يجعل العفن الطعام فاسد ولا يصلح للأكل .
ت) ينمو العفن على الفاكهة الطازجة إذا تُركت خارج الثلاجة مدة من الزمن.
ث) تغليف الطعام يبقيه طازجًا لفترة أطول.


(11)


اذكر طريقة واحدة تساعدنا في تجنب التسمم الغذائي.


طهو الطعام غسل اليدين غسل الطعام اختيار الطعام الطازج لا الفاسد

alManahj.com/qa

ورقة عمل استخدام المواد

	1) ما الوصف الصحيح للشيء الموجود أمامك بالصورة؟	
	A	باهت وطري
	B	لامع وطري
	C	باهت وقاسي ✓

	2) ما الوصف الصحيح لقطعة الإسفنج الموجود أمامك بالصورة؟	
	A ✓	طري وخشن
	B	قاسي وخشن
	C	قاسي وناعم

	3) ما الوصف الصحيح للشيء الموجود أمامك بالصورة؟	
	A	يغوص وطري
	B ✓	يطفو وقاسي
	C	يغوص وقاسي


4) ما نوع المادة التي تُصنع منها عدسات النظارة الطبية؟

مادة شفافة	A ✓
مادة معتمة	B
مادة معتمة - طرية	C


تم تحميل هذا الملف من

موقع المناهج القطرية

5) هذه الكرة


	شفافة	A
	معتمة	B ✓
	شبه شفافة	C

6) صل ما بين الجملة والصورة الصحيحة التي تُعبر عنها.



شيء يقوم بعكس الضوء

مصنوع من الخشب



7) ضع علامة (✓) أمام العبارة الصحيحة وعلامة (x) أمام العبارة الخاطئة.

(--- x ---)	1) من الممكن صناعة الوسائد من الخشب أو الحديد.
(-- x --)	2) أفضل مادة يمكن أن نضع منها عدسات النظارة الطبية هي القماش الثقيل.
(--- ✓ ---)	3) تُصنع الأشياء التي ينبغي أن تتحني من مواد طرية.

8) صنّف الأشياء التالية عن طريق كتابة الرقم الموجود أسفل الصورة بالجدول.



شفاف	معتم
1	2

9) أكمل الفراغات مما بين القوسين: (طرية / اللامعة / البصر / تطفو)

(أ) الأشياء **اللامعة** هي التي تعكس الضوء.

(ب) تُصنع المواد التي ينبغي أن تنحني من مواد **طرية**

(ج) الحاسة التي يتم من خلالها معرفة المادة التي صنع منها الشيء هي حاسة **البصر**

(د) عندما تقع قطعة من الخشب في الماء فإنها **تطفو** فوق سطح الماء .