

تم تحميل هذا الملف من موقع المناهج القطرية



* للحصول على أوراق عمل لجميع الصفوف وجميع المواد اضغط هنا

<https://almanahj.com/qa>

* للحصول على أوراق عمل لجميع مواد المستوى الأول اضغط هنا

<https://almanahj.com/qa/1>

* للحصول على جميع أوراق المستوى الأول في مادة علوم ولجميع الفصول, اضغط هنا

<https://almanahj.com/qa/1science>

* للحصول على أوراق عمل لجميع مواد المستوى الأول في مادة علوم الخاصة بـ الفصل الثاني اضغط هنا

<https://almanahj.com/qa/1science2>

* لتحميل كتب جميع المواد في جميع الفصول لد المستوى الأول اضغط هنا

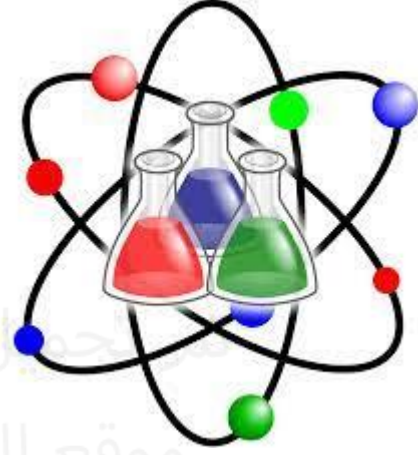
<https://almanahj.com/qa/grade1>

للتحدث إلى بوت المناهج القطرية على تلغرام: اضغط هنا

https://t.me/qacourse_bot

العام الأكاديمي ٢٠٢٢/٢٠٢٣

نهاية الفصل الدراسي الثاني



أوراق العمل الإثرائية

مادة العلوم


الصف الأول الابتدائي

	اسم الطالب
	الصف والشعبتي


السؤال الأول: اختر الإجابة الصحيحة:

		1
أي من الأشياء التالية نحتاجها جميعاً كي نبقى على قيد الحياة؟		
الماء	A	
الهاتف الجوال	B	
ألعاب الحاسوب	C	




		2
أي من الأشياء التالية نحتاجها جميعاً كي نبقى على قيد الحياة؟		
الجري	A	
اللعب	B	
الهواء	C	




		3
ما اسم جزء النبات الظاهر في الصورة؟		
	ساق	A
	جذر	B
	أوراق	C

أي جزء من أجزاء النبات يصنع الغذاء؟		4
الساق	A	
الأوراق	B	
الزهرة	C	

أي من مراحل نمو الإنسان تظهر في الصورة؟		5
	طفل	A
	بالغ	B
	مراهق	C

ما المرحلة القادمة بعد الرضيع على الخط الزمني للإنسان؟		6
	طفل	A
	مراهق	B
	بالغ	C

		7
ما هو أول جزء يبدأ بالظهور من البذرة؟		
	الساق	A
	البرعم	B
	الأوراق	C

		8
ما هي مرحلة النبات العمرية التي تنتج فيها الأزهار؟		
	بذرة	A
	بادرة	B
	نبات بالغ	C

		9
ما المقصود بالمكان الذي يتوافر فيه الطعام؟		
	الموطن	A
	السيارة	B
	البلاستيك	C

10 ماذا يسمى صغير الضفدع ؟

10



فرخ

A

يرقة

B

أبو ذنبية

C

تحميل هذا الملف من

موقع المناهج القطرية

11 ما الكائن الحي الذي يستغرق عدد سنوات أكثر حتى يكتمل نموه؟

11



ذبابة

A



ماعز

B



فيل

C

alManahj.com/qa

12 مادة سامة وتسبب الأذى للكائنات الحية؟

12

الأشجار

A

الزيت

B

الخشب

C

		13
لماذا يلبس مربى النحل ملابس وقاية؟		
	A	النحل يهرب من اليدين المكشوفة
	B	النحل لا يحب الوجوه المكشوفة
	C	ليحمي نفسه من لسعات النحل

تم تحميل هذا الملف من

		14
ما الكائن الحي الذي يجب التعامل معه بحذر؟		
A	النحل	
B	البط	
C	العصفور	

		15
ما الحيوان الذي يتكاثر بالبيض؟		
A	الأسد	
B	الدجاجة	
C	الماعز	

لماذا تطرح الحيوانات الفضلات؟

16

لتصنع الغذاء	A	
لكي تنمو	B	
للتخلص من السموم	C	

تم تحميل هذا الملف من

عند التأثير بقوة كبيرة على كرة فانها؟

17

تبقى ساكنة	A	
تتحرك ببطء مسافة قصيرة	B	
تتحرك بسرعة مسافة كبيرة	C	

ما نوع القوة المستخدمة في الصورة؟


18



دفع	A	
سحب	B	
كلا القوتين	C	

أي مما يلي يتحرك بسرعة؟

19

	A	
الفهد		
	B	
الحلزون		
	C	
الريشة		



أي من السيارات تشكل خطرا اكبر عندما تكون متحركة بنفس السرعة؟

20

	A	
سيارة صغيرة		
	B	
شاحنة		
	C	
سكوتر		

أي مما يلي يمثل سلوك صحيح أثناء قيادة السيارة؟

21

	A	
	B	
	C	

22		ما الملابس التي يجب أن ارتديها عند ركوب الدراجة ليلا ؟
A	زاهية الألوان	
B	معتمة الألوان	
C	لا يهم لونها	

23		اين تنمو أشجار القرم؟
A	الصحراء	
B	شواطئ البحار	
C	الغابات	

24		متى تكون المركبات خطرة عندما تكون ؟
A	عندما تكون ساكنة	
B	عندما تتحرك ببطء	
C	عندما تتحرك بسرعة	

السؤال الثاني :-

صل العبارات من العمود (أ) مع الصور التي تناسبها من العمود (ب).

العمود (ب)



العمود (أ)

١) صغير الضفدع



٢) كائن حي يتكاثر بالولادة



٣) من أشكال التلوث



٤) كائن حي يمكن أن يؤذي

العمود (ب)

العمود (أ)



٢) صغير الفراشة



2) كائن حي يتكاثر بالبيض



3) ينمو من البذرة



4) كائن حي يمكن أن يؤذينا

السؤال الثالث

ضع علامة (√) أمام العبارة الصحيحة، وعلامة (X) أمام العبارة الخاطئة.

(-----)	1) الحيوانات تطرح الفضلات لتتخلص من السموم.
(-----)	2) جزء النبات الذي يزودها بالماء هو الجذور
(-----)	3) موطن السنجاب هو الصحراء.
(-----)	4) يتغذى الفيل على النباتات واللحوم.
(-----)	5) يوفر الموطن الغذاء والماء والمأوى للكائن الحي
(-----)	6) أشجار القرم من الأشجار التي تنمو على شواطئ البحار.
(-----)	7) أستطيع أن أجعل الكرة تتحرك بشكل أسرع عند دفعها بقوة أكبر.
(-----)	8) الأشياء الثقيلة تتحرك بسرعة أكبر من الأشياء الخفيفة عند دفعهما بنفس القوة .
(-----)	9) يجب عدم التقيد بإشارات المرور.
(-----)	10) الأشياء التي تتحرك بسرعة أقل خطر من الأشياء التي تتحرك ببطء .

السؤال الرابع

أكمل الجمل التالية باستخدام الكلمات الموجودة في صندوق الكلمات:

الزيت - أصغر - اللحوم - زاهية - القوة

1- يتغذى الأسد على (.....).

2- صغير الحيوان (.....) حجما من الحيوان البالغ.

3- (.....) في البحر سام ويسبب الأذى للكائنات الحية.

4- السحب والدفع نوعان من (.....).

5- عند ركوبي الدراجة ليلا ارتدي ملابس (.....) الألوان.

أكمل الجمل التالية باستخدام الكلمات الموجودة في صندوق الكلمات:

(البذور / الهواء / خوذة / البرعم)

أ) يحتاج الغطاس الى (-----) كي يبقى على قيد الحياة .

ب) ينمو (-----) من البذرة فوق سطح التربة

ج) تستخدم النباتات (-----) لتتكاثر.

د) أرندي (-----) عند ركوب الدراجة الهوائية.

السؤال الخامس

(أ) صنف الحيوانات الموجودة في الصورة في الجدول الموجود بالأسفل حسب نوع التكاثر (البيض , الولادة) ، وذلك بكتابة رقم الشيء في مكانه الصحيح.

		الولادة	البيض
2	1

(ب) انظر الى صور الكائنات الحية التالية ثم اكتب الإجابة الصحيحة في الفراغ :-

الفراشة	الحصان	الدجاجة	اسم الكائن الحي
			

(ب) الحيوان الذي سيكون أكثر خطرا عندما يتحرك بسرعة هو

ت) صنف القوة الموجودة في الصورة في الجدول الموجود بالأسفل حسب النوع (دفع , سحب)، وذلك بكتابة رقم الشيء في مكانه الصحيح.

		قوة سحب	قوة دفع
2	1

موقع المناهج القطرية

alManahj.com/qa