

تم تحميل هذا الملف من موقع المناهج القطرية



مراجعة شاملة على الوجدتين الرابعة والخامسة

[موقع المناهج](#) ← [المناهج القطرية](#) ← [المستوى الأول](#) ← [علوم](#) ← [الفصل الثاني](#) ← [الملف](#)

تاريخ إضافة الملف على موقع المناهج: 2024-05-28 09:40:39

التواصل الاجتماعي بحسب المستوى الأول



اضغط هنا للحصول على جميع روابط "المستوى الأول"

روابط مواد المستوى الأول على تلغرام

[الرياضيات](#)

[اللغة الانجليزية](#)

[اللغة العربية](#)

[التربية الاسلامية](#)

المزيد من الملفات بحسب المستوى الأول والمادة علوم في الفصل الثاني

[تدريبات دعم واثراء نهاية الفصل مجمع الفرقان غير محابة](#)

1

[أوراق عمل اثرائية منتصف الفصل مدرسة الأندلس مع الإجابة النموذجية](#)

2

[أوراق عمل اثرائية منتصف الفصل مدرسة الأندلس غير محابة](#)

3

[تدريبات دعم واثراء الفرقان منتصف الفصل](#)

4

[اختبار منتصف الفصل محاب مدرسة مريم بنت عمران](#)

5

مراجعة شاملة على الوحدتين الرابعة والخامسة لمادة العلوم
الفصل الثاني للعام الدراسي (2023 – 2024) علوم الصف الأول

اختر الإجابة الصحيحة بوضع ضع دائرة حول الرمز المجاور للإجابة الصحيحة:

الأطعمة المحافضة على لونها ولمسها ورائحتها ولم تفسد تسمى الأطعمة		1
المتعفنة	A	
الطازجة	B	
الغير طازجة	C	

أي مما يلي من خصائص الطعام الطازج ؟		2
رائحته كريهة	A	
رائحته طيبة	B	
غير صالح للأكل	C	

ماذا يحدث للفاولة الطازجة إذا تركت من الزمن؟		3
تتعفن	A	
لا تتغير	B	
تبقى طازجة	C	




أي مما يلي تعتبر فاكهة طازجة؟		4
	A	
	B	
	C	


أي الأطعمة التالية يتعفن أسرع ؟		5
التفاح	A	
الليمون	B	
الفراولة	C	

تبقى الثلاجة الأطعمة		6
حارة	A	
دافئة	B	
باردة	C	

الطعام الطازج يبقى لمدة أطول بتبريده داخل.....		7
الحقبة	A	
الثلاجة	B	
الفرن	C	

يسبب تناول الطعام المتعفن.....		8
التسمم الغذائي	A	
النشاط	B	
القوة	C	

أي مما يلي يجب تخزينه في الثلاجة؟		9
	A	
	B	
	C	

	<p>ما هو ملمس الريش؟</p>	<p>10</p>
<p>خشن</p>	<p>A</p>	
<p>قاسي</p>	<p>B</p>	
<p>ناعم</p>	<p>C</p>	

<p>أي مما يلي يعتبر شياء شفاف ؟</p>	<p>11</p>	
	<p>A</p>	
	<p>B</p>	
	<p>C</p>	

أي مما يلي يعتبر شيء معتم ؟		12
	A	
	B	
	C	

أي مما يلي يعتبر شيء لامع ؟		13
	A	
	B	
	C	



يتم صناعة زجاج النظارة الطبية من مواد

14

شفافة

A

معتمة

B

خشنة

C

أي مما يلي من المواد القاسية ؟

15

الخشب

A

القماش

B

الورق

C

؟



مما صنع هذا الشيء

16

مادة شفافة

A

مادة خشنة




B

مادة شبه شفافة





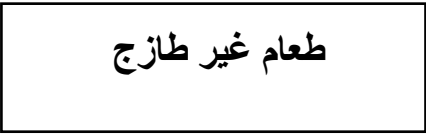

C

	ما المادة المصنوع منها المفتاح ؟	17
قماش	A	
خشب	B	
معدن	C	

	ما المادة المصنوع منها الطاولة ؟	18
قماش	A	
خشب	B	
معدن	C	

أي الأشياء التالية يصنع من القماش ؟		19
	A	
	B	
	C	

أي مما يلي يعتبر شيء باهت ؟		20
	A	
	B	
	C	

		21
صل ما في العمود (1) بما يناسبه من العمود (2)		
العمود (2)		العمود (1)
		
		
		

ضع علامة (√) أمام العبارة الصحيحة و علامة (x) أمام العبارة الخطأ.

- 1- من نتائج تناول الطعام المتعفن وجع في البطن . ()
- 2- الجهاز الكهربائي الذي يبرد الأطعمة يسمى الغسالة . ()
- 3- سبب بقاء الطعام في الثلاجة طازجاً أنها تقوم بتسخينه . ()
- 4- تسمح المواد المعتمدة لكل الضوء بان يمر من خلالها . . ()
- 5- أستخدم حاسة اللمس لأكتشف ملمس الأشياء. ()

صل ما في العمود (1) بما يناسبه من العمود (2)

العمود (2)

العمود (1)

فاكهة طازجة



فاكهة غير طازجة



ضع علامة (✓) أمام العبارة الصحيحة و علامة (x) أمام العبارة الخطأ.

- 1 -أستخدم حاسة اللمس لأكتشف ملمس الأشياء. . (.....)
- 2 - تصنع عدسات النظارة الطبية من مادة معتمة . (.....)
- 3- من نتائج تناول الغذاء الطازج الإصابة بالتسمم . (.....)
- 4 - المعدن مادة قاسية ، لذلك يستخدم في المباني والجسور . (.....)

صل ما في العمود (1) بما يناسبه من العمود (2)

العمود (2)

العمود (1)

اطعمة محفوظة




اطعمة طازجة



صل ما في العمود (1) بما يناسبه من العمود (2)

العمود (2)

العمود (1)



ضع علامة (√) أمام العبارة الصحيحة و علامة (x) أمام العبارة الخاطئة.

- 1- يتم اختيار المواد التي تستخدم لصنع شيء ما بحسب خصائصها . (.....)
- 2- يمكن أن نستخدم المادة نفسها لصنع أشياء مختلفة . (.....)
- 3- نستطيع أن نرى من خلال المواد المعتمة . (.....)
- 4- بعض المواد لامعة وبعضها باهته ()
- 5- الخشب مادة طرية . ()
- 6- الأشياء المعتمة تسمح بمرور الضوء من خلالها . ()
- 7- يمكن للأشياء اللامعة ان تعكس الضوء ()

ضع علامة (✓) أمام العبارة الصحيحة و علامة (x) أمام العبارة الخطأ.


- 1 - يتم صناعة الوسادة من المعدن . (.....)
- 2 - يتم صنع الملابس من القماش (.....)
- 3 يتم صناعة المنزل من الورق . (.....)
- 4 - يتم صناعة المطرقة من مادة قاسية . (.....)

الأسئلة المقالية

اكتب اسم شيء مصنوع من الزجاج .

رتب الصور التالية لتظهر مراحل لتعفن الفاكهة من الأقل تعفنًا إلى الأكثر تعفنًا .

بحيث يظهر 1 الأقل تعفنًا ويظهر 5 الأكثر تعفنًا .



اكتب طريقة إبقاء الطعام طازجاً لمدة أطول والتي تظهر في الصورة ؟

(التغليف ، التبريد ، التنظيف)



- أكمل الفراغ بما هو مناسب من صندوق الكلمات التالي:

تفسد - طيبة - العفن - تسمماً

- (1) ألوان الأطعمة الطازجة زاهية ورائحتها
- (2) ينمو على الفاكهة الطازجة إذا تركت مدة من الزمن .
- (3) الأطعمة الطازجة هي الأطعمة المحافطة على لونها ولمسها ورائحتها
ولم
- (4) يسبب تناول الطعام المتعفن غذائياً

- أكمل الفراغ بما هو مناسب من صندوق الكلمات التالي:

الخشب – القماش – البلاستيك – المعدن

(4) تصنع المفاتيح من

(5) تصنع الطاولة من

(6) تصنع ألعاب الأطفال من

(7) تصنع الملابس من

- أكمل الفراغ بما هو مناسب من صندوق الكلمات التالي:

فاسداً - غير طازجة - العفن

(1) ينمو على الفاكهة الطازجة إذا تركت مدة من الزمن .

(2) يمكن تصنيف الأطعمة إلى أطعمة طازجة و أطعمة

(3) يجعل العفن الطعام ولا يصلح للأكل .

أكمل بكتابة الكلمة المناسبة من صندوق الكلمات .

يَغوصُ

يُطفو



هَذَا الشَّيْءُ

هَذَا الشَّيْءُ

اكتب طريقة حفظ الطعام الظاهرة في كل صورة . أستعن بصندوق الكلمات .

(التجميد - التعليب - التخفيف - التخليل)



.....



.....



.....



.....

اكتب طريقة حفظ الطعام الظاهرة في كل صورة . أستعن بصندوق الكلمات .

(التجميد - التعليب - التخفيف - التخليل)

1- حفظ الطعام في محلول من الماء والملح والخل .

2- حفظ الطعام عبر إزالة بعض السائل منه .

3- يخفض درجة حرارة الطعام .



4- طريقة حفظ الطعام في هذه الصورة

.....

- أكمل الفراغ بما هو مناسب من صندوق الكلمات التالي:

قاس - طرس - طويلة

(1) ملمس الدجاج الطازج

(2) ملمس الدجاج المجمد

(3) يحفظ التعليب الطعام لمدة