

تم تحميل هذا الملف من موقع المناهج القطرية



كراسة نهاية الفصل غير مجانية

موقع المناهج ← المناهج القطرية ← المستوى الأول ← علوم ← الفصل الأول ← ملفات متنوعة ← الملف

تاريخ إضافة الملف على موقع المناهج: 20:44:05 2024-12-15

ملفات اكتب للمعلم اكتب للطالب الاختبارات الكترونية | اختبارات | حلول | عروض بوربوينت | أوراق عمل
منهج انجليزي | ملخصات وتقارير | مذكرات وبنوك | الامتحان النهائي للمدرس

المزيد من مادة
علوم:

التواصل الاجتماعي بحسب المستوى الأول



صفحة المناهج
القطرية على
فيسبوك

الرياضيات

اللغة الانجليزية

اللغة العربية

التربية الاسلامية

المواد على تلغرام

المزيد من الملفات بحسب المستوى الأول والمادة علوم في الفصل الأول

أوراق عمل دعم وإثراء الفرقان نهاية الفصل غير مجانية

1

أوراق عمل نهاية الفصل غير مجانية

2

أوراق عمل الأندلس نهاية الفصل مع الإجابة النموذجية

3

أوراق عمل الأندلس نهاية الفصل غير مجانية

4

تمارين وتطبيقات غير مجانية تحضيرية لاختبار نهاية الفصل

5

كراسة العلوم

الاسم:

الصف:

2024



اعداد: فوزيه الكعبي

صل بين كل صورة في العمود (أ) بالشيء الذي يساعده أن يتحرك في العمود (ب):

| (ب) |
|---------|
| الإنسان |
| الرياح |
| المحرك |

| (أ) |
|---|
|  |
|  |
|  |

صنف صور الأشياء التالية في الجدول أدناه:



1



2



3



4



5

| تحتاج إلى محرك | لا تحتاج إلى محرك |
|----------------|-------------------|
| | |

أي من الأشياء التالية تتحرك بواسطة المحرك:



A



B



C



D

أكمل الفراغات التالية مستعيناً بالكلمات في الجدول التالي:

| | | |
|------|-----|------|
| وقود | كرة | محرك |
|------|-----|------|

1. يساعد المركبات كي تتحرك.

2. يستخدم المحرك

أي من الأشياء التالية تتحرك بواسطة المحرك:

| | |
|-----------------|---|
| الغيوم | A |
| السيارة | B |
| الإنسان | C |
| الطائرة الورقية | D |

ضع دائرة حول الأشياء التي تتحرك بواسطة الريح :



أي من الأشياء التالية تتحرك بواسطة المحرك:



A



B



C



D

أي مما يأتي بحاجة إلى أن يدفعه الإنسان لكي يتحرك :



A



B




C



D

ما الذي يساعد العربة على الحركة ؟

| | | |
|---|---------|---|
|  | المحرك | A |
| | الإنسان | B |
| | الرياح | C |

أي مما يلي يحتاج إلى مساعدة كي يتحرك؟

| | | |
|--|-------|---|
| | أسد | A |
| | حقيبة | B |
| | طائرة | C |

ما الذي يساعد السيارة على الحركة ؟

| | | |
|---|---------|---|
|  | المحرك | A |
| | الكرسي | B |
| | المصباح | C |

أجب على الأسئلة التالية :

1. ضع دائرة حول الأشياء التي تحتاج إلى مساعدة كي تتحرك.



2. سم الكائن الحي الذي يساعد الأشياء التي وضعت عليها دائرة كي تتحرك.

أجب على السؤال التالي:

ماذا يحتاج المحرك لكي يساعد المركبات كي تتحرك.

ضع علامة (✓) أمام العبارة الصحيحة، أو علامة (x) أمام العبارة الخطأ :

1. هناك طريقة واحدة كي أساعد الأشياء كي تتحرك. ()
2. للمركبات محرك يساعدها كي تتحرك. ()
3. تحتاج بعض الأشياء إلى مساعدة كي تتحرك. ()
4. يستخدم المحرك الماء. ()

أكمل الفراغات التالية :

1. يمكنني أن أساعد الأشياء كي

2. هناك طرق لأساعد الأشياء كي تتحرك .

3. يساعد المركبات كي تتحرك.

4. يستخدم المحرك

انسخ المصطلحات

محرك

وقود

أي من الأشياء التالية تتحرك بواسطة العجلات :

| | |
|---------|---|
| البيت | A |
| السيارة | B |
| الطاولة | C |
| الضفدع | D |

هذه الأشياء كلها تتحرك بطريقة متشابهة. ما الأشياء المشتركة بينها ؟



| | |
|---------|---|
| الأبواب | A |
| المقاعد | B |
| الأجنحة | C |
| العجلات | D |

صل بين كل صورة في العمود (أ) بحركتها في العمود (ب):

| (ب) | (أ) |
|--------|--|
| انزلاق |  |
| تدحرج |  |

هذه الأشياء التالية . ما الأشياء المشتركة بينها ؟



| | |
|-------------------------------------|---|
| جميعها له محرك. | A |
| جميعها تتحرك من تلقاء نفسها. | B |
| جميعها لها أجنحة تستعملها كي تتحرك. | C |
| جميعها لها عجلات تساعد على الحركة. | D |

اكتب ما إذا كان الشيء يتحرك إلى الأمام أم إلى الخلف؟



صنف صور الأشياء التالية في الجدول أدناه:



1



2



3

| يتدحرج | ينزلق | يتحرك بعجلات |
|--------|-------|--------------|
| | | |




صل بين كل صورة في العمود (أ) بما يناسبه في العمود (ب):

| (ب) | (أ) |
|---|-------------------------|
|  | <p>يتدحرج</p> |
|  | <p>يتحرك بعجلات</p> |
|  | <p>يتحرك بخط مستقيم</p> |
|  | <p>يتحرك بخط متعرج</p> |

صل بين كل صورة في العمود (أ) بما يناسبه في العمود (ب):

| (ب) | (أ) |
|---|------------------|
|  | يتدحرج |
|  | يتحرك بعجلات |
|  | يتحرك بخط مستقيم |
|  | يتحرك بخط متعرج |

صل بين كل صورة في العمود (أ) بنوع مسارها في العمود (ب):

| (ب) | (أ) |
|--------|---|
| منحنٍ |  |
| متعرج |  |
| مستقيم |  |

كيف تتحرك السيارة التي أمامك؟



إلى الأمام

A

إلى الخلف

B

تندرج

C

صل بين كل صورة في العمود (أ) بما يناسبه في العمود (ب):

| (ب) | (أ) |
|--|-----------------|
|  | مسار مستقيم |
|  | يتحرك بالانزلاق |
|  | يتدحرج |

كيف تتحرك الكرة التي أمامك؟



مسار متعرج

A

تنزلق

B

تندحرج

C

أجب على السؤال التالي:



كيف يتحرك الطفل في الصورة المقابلة؟

ضع علامة (✓) أمام العبارة الصحيحة، أو علامة (x) أمام العبارة الخاطئة:

1. تُصعب العجلات تحريك الأشياء الثقيلة. ()
2. تتحرك الأشياء بمسارات مختلفة. ()

أكمل الفراغات التالية مستعيناً بالكلمات في الجدول التالي:

| | | |
|---------|-------|------|
| العجلات | ينزلق | وقود |
|---------|-------|------|

1. تسهل تحريك الأشياء الكبيرة والثقيلة.

2. بعض الأجسام وبعضها يتدحرج.

أجب على السؤال التالي:

انظر إلى الشكل الآتي . كيف يتحرك كائن حي يمشي على المسار المبين فيه؟



يتحرك الكائن الحي بطريقة

أجب على السؤال التالي:

سم شيئاً واحداً يتحرك بواسطة العجلات.

أكمل الفراغات التالية :

1. بعض الأجسام تتحرك وبعضها
2. تتحرك الأشياء بمسارات مختلفة : ،
3. تسهل تحريك الأشياء الكبيرة و الثقيلة.
4. تتحرك الأشياء بطرق
5. تساعد العجلات الأشياء كي

انسخ المصطلحات

| | | | |
|--------|-------|------------|-----------|
| يتدحرج | ينزلق | إلى الأمام | إلى الخلف |
| | | | |
| | | | |

انسخ المصطلحات

| | | | |
|------|--------|-------|-------|
| مسار | مستقيم | متعرج | منحنٍ |
| | | | |
| | | | |

صل بين كل صورة في العمود (أ) بما يناسبه في العمود (ب):

| (ب) | (أ) |
|---|---------|
|  | قماش |
|  | طين |
|  | خشب |
|  | معدن |
|  | مطاط |
|  | بلاستيك |


صل بين كل صورة في العمود (أ) بما يناسبه في العمود (ب):

| (ب) | (أ) |
|---|---------|
|  | قماش |
|  | طين |
|  | خشب |
|  | معدن |
|  | مطاط |
|  | بلاستيك |
|  | ورق |
|  | زجاج |

طابق بين الجسم في العمود (أ) والجسم المصنوع من نفس المادة في العمود (ب):

| (ب) | (أ) |
|---|---|
|  |  |
|  |  |
|  |  |
|  |  |

مم صنعت هذه الملعقة؟

| | | |
|--|--------|---|
|  | الورق | A |
| | الزجاج | B |
| | المعدن | C |

أي من المواد الآتية ممكن أن تستخدم في صنع الكتاب؟

| | |
|--------|---|
| الطين | A |
| الورق | B |
| المعدن | C |

أي مادة من المواد الآتية تصنع منها النافذة؟

| | |
|--------|---|
| القماش | A |
| الورق | B |
| الزجاج | C |

ما المادة المصنوع منها هذا الشيء؟



الطين

A

المطاط

B

البلاستيك

C

أي من المواد الآتية ممكن أن تستخدم في صنع نماذج الليغو؟

الطين

A

البلاستيك

B

الزجاج

C

أي مادة من المواد الآتية تصنع منها الملابس؟

القماش

A

الورق

B

الزجاج

C

ما المادة المصنوع منها هذا الشيء؟



المطاط

A

الزجاج

B

القماش

C

أي من المواد الآتية ممكن أن تستخدم في صنع الطاولات؟

الورق

A

المطاط

B

الخشب

C

ما المادة المصنوع منها هذا الشيء؟



المعدن

A

الزجاج

B

القماش

C


ما المادة المصنوع منها هذا الشيء؟

| | | |
|---|------|---|
|  | ورق | A |
| | زجاج | B |
| | خشب | C |

ما المادة المصنوع منها هذا الشيء؟

| | | |
|--|------|---|
|  | مطاط | A |
| | ورق | B |
| | معدن | C |


ما المادة المصنوع منها هذا الشيء؟

| | | |
|---|------|---|
|  | طين | A |
| | زجاج | B |
| | قماش | C |

ما المادة المصنوع منها هذا الشيء؟

| | | |
|--|------|---|
|  | ورق | A |
| | مطاط | B |
| | خشب | C |


ما المادة المصنوع منها هذا الشيء؟

| | | |
|--|------|---|
|  | مطاط | A |
| | ورق | B |
| | معدن | C |


ما المادة المصنوع منها هذا الشيء؟

| | | |
|--|---------|---|
|  | بلاستيك | A |
| | زجاج | B |
| | قماش | C |


ما المادة المصنوع منها هذا الشيء؟

| | | |
|---|------|---|
|  | ورق | A |
| | قماش | B |
| | خشب | C |

ما المادة المصنوع منها هذا الشيء؟

| | | |
|---|------|---|
|  | مطاط | A |
| | ورق | B |
| | معدن | C |

ما المادة المصنوع منها هذا الشيء؟

| | | |
|---|---------|---|
|  | بلاستيك | A |
| | زجاج | B |
| | خشب | C |

أي من الأشياء التالية مصنوع من مادة واحدة فقط :



A



B



C

أي من الأشياء التالية مصنوع من أكثر من مادة :



A



B



C

أي من الأشياء التالية مصنوع من مادة واحدة فقط :



A



B



C



D

أجب على السؤال التالي:



سم مادة واحدة استخدمت في صنع هذا النموذج؟

أجب على السؤال التالي:



ما المادة المصنوع منها هذا الشيء؟

أجب على السؤال التالي:



ما المادة المصنوع منها هذا الشيء؟

أجب على السؤال التالي:



ما المادة المصنوع منها هذا الشيء؟

أجب على السؤال التالي:



ما المادة المصنوع منها هذا الشيء؟

أجب على السؤال التالي:



ما المادة المصنوع منها هذا الشيء؟

أجب على السؤال التالي:



ما المادة المصنوع منها هذا الشيء؟

أجب على السؤال التالي:



ما المادة المصنوع منها هذا الشيء؟

أجب على السؤال التالي:



ما المادة المصنوع منها هذا الشيء؟

أجب على السؤال التالي:

اكتب اسم شيء مصنوع من الورق؟

أجب على السؤال التالي:

اكتب اسم شيء مصنوع من المعدن؟

أجب على السؤال التالي:

اكتب اسم شيء مصنوع من الزجاج؟

أجب على السؤال التالي:

اكتب اسم شيء مصنوع من القماش؟

أجب على السؤال التالي:

اكتب اسم شيء مصنوع من البلاستيك؟

أجب على السؤال التالي:

اكتب اسم شيء مصنوع من الخشب؟

أجب على السؤال التالي:

اكتب اسم شيء مصنوع من الطين؟

أجب على السؤال التالي:

اكتب اسم شيء مصنوع من المطاط؟

صنف صور الأشياء التالية في الجدول أدناه:



1



2



3



4

| مصنوع من المعدن | مصنوع من الورق |
|-----------------|----------------|
| | |

صنف صور الأشياء التالية في الجدول أدناه:




1



2



3



4

| مصنوع من المطاط | مصنوع من القماش |
|-----------------|-----------------|
| | |

أجب على الأسئلة التالية :

1. ارسم دائرة حول كل جسم يمكن صنعه من مادتين أو أكثر.



أجب على السؤال التالي:


سم شيئاً يمكن صنعه من المطاط.

ضع علامة (✓) أمام العبارة الصحيحة، أو علامة (x) أمام العبارة الختأ :

1. كل الأشياء مصنوعة من المواد. ()
2. تصنع الأشياء من مادة واحدة فقط. ()
3. يستعمل القماش في صناعة النوافذ. ()
4. يستعمل الورق في صناعة الكتب. ()

أكمل الفراغات التالية للمواد التي صنعت منها النظارة مستعيناً بالكلمات في الجدول:

| | | | |
|------|---------|-----|------|
| معدن | بلاستيك | ورق | زجاج |
|------|---------|-----|------|



ضع علامة (✓) أمام العبارة الصحيحة، أو علامة (x) أمام العبارة الخاطئة:

1. تصنع الأشياء من مواد مختلفة. ()
2. يمكن صنع الملعقة من معدن أو خشب أو بلاستيك. ()
3. يستعمل الزجاج في صناعة عجلات السيارة. ()
4. يستعمل المعدن في مفاتيح الأبواب. ()
5. يمكن صنع الأشياء من أكثر من مادة واحدة. ()
6. تصنع الأشياء من مواد مختلفة. ()
7. يمكن صنع النظارة من زجاج و معدن و بلاستيك. ()

انسخ المصطلحات

| | | | | |
|-----|-----|---------|------|------|
| خشب | ورق | بلاستيك | معدن | مادة |
| | | | | |
| | | | | |

انسخ المصطلحات

| | | | |
|-----|------|------|------|
| طين | مطاط | زجاج | قماش |
| | | | |
| | | | |

كيف يمكن أن تساعدني الحواس في تحديد المواد؟ 2024 / /

طابق بين الحاسة في العمود (أ) و الوصف المناسب لها في العمود (ب):

| (ب) | (أ) |
|------|--------|
| ناعم | التذوق |
| مالح | السمع |
| خافت | اللمس |
| ملون | البصر |

كيف يمكن أن تساعدني الحواس في تحديد المواد؟ 2024 / /

أي مما يلي شيء طري :



A



B



C



D

أكمل الفراغات التالية مستعيناً بالكلمات في الجدول التالي:

| | | |
|------|-------|-------|
| الشم | اللمس | السمع |
|------|-------|-------|

استخدمت حاسة عندما مررت يدي على الغطاء الناعم.

كيف يمكن أن تساعدني الحواس في تحديد المواد؟ 2024 / /

أي مما يلي قاسٍ وخشن :



A



B



C



D

أجب على السؤال التالي:

1. ما الحاسة التي تستخدمها لمعرفة ما إذا كان الشيء خشناً؟

2. ما الحواس التي تستخدمها عندما تلتقط الكرة؟

طابق بين الوصف في العمود (أ) وملمس الشيء في العمود (ب):

| (ب) | (أ) |
|---|-------|
|  | قاسي |
|  | طري |
|  | خشن |
|  | ناعم |

كيف يمكن أن تساعدني الحواس في تحديد المواد؟ 2024 / /

طابق بين الشيء في العمود (أ) والشيء الذي له نفس الملمس في العمود (ب):

(ب)



(أ)



أجب على السؤال التالي:

اكتب كلمتين لوصف ابريق الشاي؟



كيف يمكن أن تساعدني الحواس في تحديد المواد؟ 2024 / /

أي مما يلي يمثل ملمس البالون؟



خشن

A

ناعم

B

قاسٍ

C

أي مما يلي يمثل ملمس ورقة الزجاج؟



خشن

A

ناعم

B

طري

C

ما المادة المصنوع منها هذا الشيء؟



خشن

A

قاسٍ


B

طري

C

كيف يمكن أن تساعدني الحواس في تحديد المواد؟ 2024 / /

أي مما يلي يمثل ملمس الكرة المعدنية؟

| | | |
|---|------|---|
|  | خشنة | A |
| | طري | B |
| | قاسٍ | C |

أي مما يلي يمثل ملمس ورقة الزجاج؟

| | | |
|---|-------|---|
|  | خشنة | A |
| | ناعمة | B |
| | طري | C |

ما المادة المصنوع منها هذا الشيء؟

| | | |
|---|------|---|
|  | خشنة | A |
| | قاسٍ | B |
| | طري | C |

كيف يمكن أن تساعدني الحواس في تحديد المواد؟ / / 2024

أي مما يلي يمثل ملمس البالون؟



ناعم وطري

A

خشن و طري

B

قاسٍ وخشن

C

قاسٍ وناعم

D

أي مما يلي يمثل ملمس قماش الحرير؟



ناعم وطري

A

خشن و طري

B

قاسٍ وخشن

C

قاسٍ وناعم

D

أي كلمتين تصفان هذا الشيء؟



ناعم وطري

A

خشن و طري

B

قاسٍ وخشن

C

قاسٍ وناعم

D

كيف يمكن أن تساعدني الحواس في تحديد المواد؟ 2024 / /

أي مما يلي يمثل ملمس الكرة المعدنية؟



ناعم وطري

A

خشن و طري

B

قاسٍ وخشن

C

قاسٍ وناعم

D

أي مما يلي يمثل ملمس قماش الحرير؟



ناعم وطري

A

خشن و طري

B

قاسٍ وخشن

C

قاسٍ وناعم

D

أي مما يلي يمثل ملمس الكأس الزجاجي؟



ناعم وطري

A

خشن و طري

B


قاسٍ وخشن

C

قاسٍ وناعم

D

ما الوصف المناسب لهذه الكرة؟



- | | |
|---|-------|
| A | صلبة |
| B | ناعمة |
| C | خشنة |
| D | قاسية |

ماذا يمكن أن تقول عند النظر إلى الشيء في الشكل أدناه؟



- | | |
|---|------|
| A | بارد |
| B | ثقيل |
| C | ناعم |
| D | خشن |

إذا كان عندك خوذة لركوب الدراجة الهوائية، فكيف يجب أن تكون؟



- | | |
|---|-------|
| A | ليننة |
| B | طرية |
| C | خشنة |
| D | قاسية |


عندما تضغط الكرة ماذا يمكن أن تصف؟

| | | |
|---|----------------|---|
|  | لونها | A |
| | وزنها | B |
| | طرية أم قاسية | C |
| | ساخنة أم باردة | D |

عندما تمرر يدك على الحجر ماذا يمكن أن تصف؟

| | | |
|--|-------------|---|
|  | لونه | A |
| | وزنه | B |
| | ناعم أم خشن | C |
| | طري أم قاسي | D |

عندما تنظر إلى البالون ماذا يمكن أن تصف؟

| | | |
|---|----------------|---|
|  | لونها | A |
| | وزنها | B |
| | طرية أم قاسية | C |
| | ساخنة أم باردة | D |

أكمل الفراغات التالية مستعيناً بالكلمات في الجدول التالي:

| | | | |
|------|------|------|-----|
| يسهل | ناعم | يصعب | خشن |
|------|------|------|-----|

1. بعض المواد ملمسها وبعضها ملمسها

2. المادة الطرية هي مادة ضغطها أو عصرها.

3. المادة القاسية هي مادة ضغطها أو عصرها.

أكمل الفراغات التالية مستعيناً بالكلمات في الجدول التالي:

| | | | |
|---------|------|--------|-----|
| القاسية | لمسه | الطرية | خشن |
|---------|------|--------|-----|

1. يمكن تحديد الشيء من خلال

2. المادة هي مادة يسهل ضغطها أو عصرها.

3. المادة هي مادة يصعب ضغطها أو عصرها.

أجب على السؤال التالي:

اكتب اسم شيء قاسٍ و خشن؟

ضع علامة (✓) أمام العبارة الصحيحة، أو علامة (x) أمام العبارة الخطأ:

1. يمكن تصنيف المواد بحسب لونها أو شكلها أو حجمها. ()
2. بعض المواد ملمسها خشن وبعضها ملمسها ناعم. ()
3. المادة الطرية هي مادة يسهل ضغطها أو عصرها. ()
4. المادة القاسية هي مادة يسهل ضغطها أو عصرها. ()
5. السكين مصنوع من مادة طرية. ()
6. القماش مصنوع من مادة قاسية. ()
6. البالون مصنوع من مادة ناعمة. ()

أجب على السؤال التالي:



صف ملمس هذا الشيء؟

..... و

أجب على السؤال التالي:



صف ملمس هذا الشيء؟

..... و

أجب على السؤال التالي:



صف ملمس هذا الشيء؟

..... و

أجب على السؤال التالي:



صف ملمس هذا الشيء؟

..... و

أجب على السؤال التالي:

اكتب اسم شيء مصنوع من مادة قاسية؟

أجب على السؤال التالي:

اكتب اسم شيء مصنوع من مادة طرية؟

أجب على السؤال التالي:

اكتب اسم شيء مصنوع من مادة ناعمة؟

أجب على السؤال التالي:

اكتب اسم شيء مصنوع من مادة خشنة؟

انسخ المصطلحات

| | | | | |
|-------|-------|-------|-------|-------|
| ملمس | طري | قاسٍ | ناعم | خشن |
| ----- | ----- | ----- | ----- | ----- |
| ----- | ----- | ----- | ----- | ----- |


انسخ المصطلحات

| | | | | |
|-------|-------|-------|-------|-------|
| ملمس | طري | قاسٍ | ناعم | خشن |
| ----- | ----- | ----- | ----- | ----- |
| ----- | ----- | ----- | ----- | ----- |


لماذا يستخدم القماش في صناعة الملابس؟

| | | |
|---|-----------|---|
|  | لأنه ظري | A |
| | لأنه قاسي | B |
| | لأنه خشن | C |

أي المواد التالية مناسبة لصنع المسامير؟

| | | |
|--|----------------|---|
|  | المواد الظرية | A |
| | المواد القاسية | B |
| | المواد الخشنة | C |

أي المواد التالية مناسبة لصنع المطرقة؟

| | | |
|---|----------------|---|
|  | المواد الظرية | A |
| | المواد القاسية | B |
| | المواد الخشنة | C |

أكمل الفراغات التالية مستعيناً بالكلمات في الجدول التالي:

| | | | |
|---------|-------|--------|-----|
| القاسية | حماية | الظرية | خشن |
|---------|-------|--------|-----|

1. تستخدم المواد في صنع الملابس.
2. تستخدم المواد في صنع المطارق والمسامير.
3. يمكن استخدام المواد النظرية لـ الأشياء.

أكمل الفراغات التالية مستعيناً بالكلمات في الجدول التالي:

| | | | |
|------|--------|-------|--------|
| ظرية | القماش | قاسية | الزجاج |
|------|--------|-------|--------|

1. يستخدم في صناعة القبة ، لأنها مادة
2. يستخدم في صناعة الزجاج ، لأنها مادة

أجب على السؤال التالي:

1. اكتب شيء صنع من مادة طرية؟

2. اكتب شيء صنع من مادة قاسية؟

ضع علامة (✓) أمام العبارة الصحيحة، أو علامة (x) أمام العبارة الخطأ:

1. تستخدم المواد الطرية مثل الأقمشة في صنع الملابس () لأنها مريحة عند ارتدائها.
2. تستخدم المواد القاسية في صنع المطارق والمسامير. ()
3. تستخدم المواد الطرية لحماية الأشياء من الضرر. ()
4. يستخدم الزجاج في صنع ألعاب الأطفال. ()
5. السكين مصنوع من مادة طرية. ()
6. القماش مصنوع من مادة قاسية. ()

طابق بين الشيء في العمود (أ) و وصف المادة المصنوع منها في العمود (ب):

| (ب) |
|-------|
| ظرية |
| قاسية |

| (أ) |
|---|
|  |
|  |

انسخ المصطلحات

| | | | |
|--|--|--|--|
| | | | |
| | | | |
| | | | |

انسخ المصطلحات

| | | | |
|--|--|--|--|
| | | | |
| | | | |
| | | | |

انسخ المصطلحات

| | | | |
|--|--|--|--|
| | | | |
| | | | |
| | | | |

انسخ المصطلحات

| | | | |
|--|--|--|--|
| | | | |
| | | | |
| | | | |

انسخ المصطلحات

| | | | |
|--|--|--|--|
| | | | |
| | | | |
| | | | |

انسخ المصطلحات

| | | | |
|--|--|--|--|
| | | | |
| | | | |
| | | | |

انسخ المصطلحات

| | | | |
|--|--|--|--|
| | | | |
| | | | |
| | | | |

انسخ المصطلحات

| | | | |
|--|--|--|--|
| | | | |
| | | | |
| | | | |

انسخ المصطلحات

| | | | |
|--|--|--|--|
| | | | |
| | | | |
| | | | |