

تم تحميل هذا الملف من موقع المناهج القطرية



الامتحان النهائي لجميع المواد منتصف الفصل بدون إجابة

موقع المناهج ← المناهج القطرية ← المستوى الأول ← الامتحانات ← الفصل الأول ← ملفات متنوعة ← الملف

تاريخ إضافة الملف على موقع المناهج: 2024-10-15 10:43:58

ملفات اكتب للمعلم اكتب للطالب الاختبارات الكترونية | اختبارات | حلول | عروض بوربوينت | أوراق عمل
منهج انجليزي | ملخصات وتقارير | مذكرات وبنوك | الامتحان النهائي للمدرس

المزيد من مادة
الامتحانات:

التواصل الاجتماعي بحسب المستوى الأول



صفحة المناهج
القطرية على
فيسبوك

الرياضيات

اللغة الانجليزية

اللغة العربية

التربية الاسلامية

المواد على تلغرام

المزيد من الملفات بحسب المستوى الأول والمادة الامتحانات في الفصل الأول

1/.....

السؤال الخامس

أي مما يلي من مراحل دورة حياة الطائر؟

شتلة	A
طفل	B
فخ	C




1/.....

السؤال السادس


أي مما يلي يتحرك من تلقاء نفسه؟

Almanahj.com / 2025 2024

موقع المناهج القطرية

	A
	B
	C

صل بخط العمود (أ) بالصورة المناسبة في العمود (ب):

العمود (ب)	العمود (أ)
	شرنقة
	طائر بالغ
	

ضع علامة (✓) أمام العبارة الصحيحة، وعلامة (X) أمام العبارة الخطأ:

1. للإنسان دورة حياة. ()

2. جميع الكائنات الحية تتكاثر بوضع البيض. ()

3. بعض الأشياء تتحرك وبعضها لا يتحرك. ()




أكمل الفراغات التالية مستعيناً بالكلمات في الجدول التالي:

تتنفس	المحرك	بالغة
-------	--------	-------

1- الكائنات الحية تتغذى وتتحرك و-----

2- تنمو جميع الحيوانات لتصبح-----




3- يساعد----- المركبات كي تتحرك.

1/.....	السؤال الثالث
أي مما يلي كائن غير حي؟	
	A
	B
	C

1/.....	السؤال الرابع
أي مما يلي من مراحل دورة حياة النبات؟	
يرقة	A
بذرة	B
حديث الولادة	C

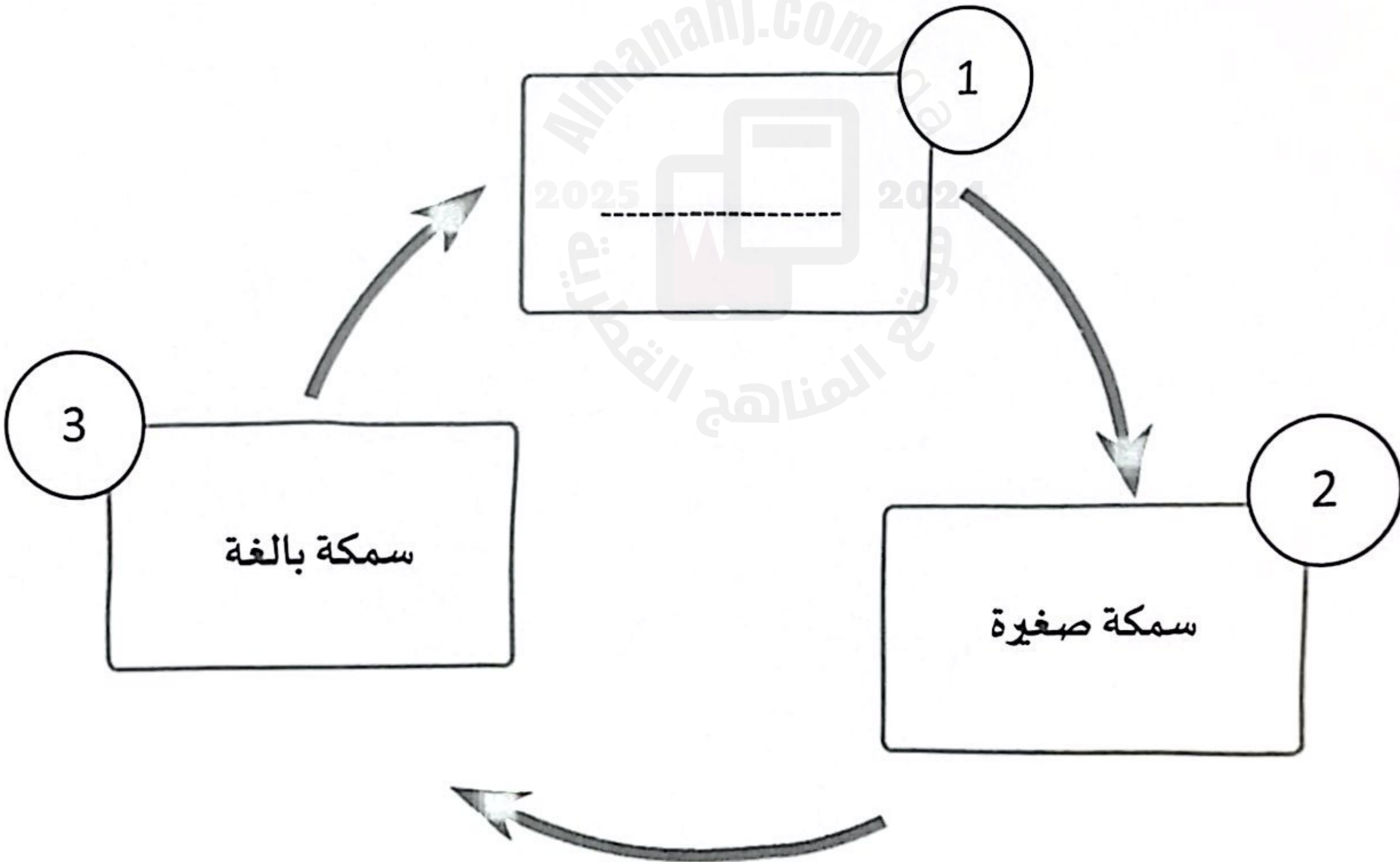
تعليمات
اختر الإجابة الصحيحة لكل من الأسئلة من 1 إلى 6، وذلك بوضع علامة × داخل المربع المجاور للإجابة الصحيحة:

السؤال الأول	1/.....
أي من خصائص الكائنات الحية تدل عليه الصورة؟	
A	يتكاثر
B	يتحرك
C	يتغذى

السؤال الثاني	1/.....
أي من الحيوانات التالية تلد صغاراً؟	
A	
B	
C	

اكتب المرحلة الناقصة في دورة حياة السمكة في المكان المخصص للإجابة، مستعينًا بالكلمات في الجدول التالي:

بيضة	بذرة	طفل
------	------	-----



السؤال الأول:	الدرجة (...../2)
- أكمل الحديث الشريف بالكلمة المناسبة مما بين القوسين:	
(الزكاة ، خمس ، رمضان)	
عن عبد الله بن عمر <small>رضي الله عنه</small> ، قال: قال رسول الله <small>ﷺ</small> :	
(بني الإسلام على، شهادة أن لا إله إلا الله، وأن محمداً رسول الله، وإقام الصلاة، وإيتاء، وصوم رمضان، وحج البيت).	
متفق عليه	

السؤال الثاني:	الدرجة (...../2)	
- ضع <input type="radio"/> حول الإجابة الصحيحة فيما يأتي:		
أ. أول ركن من أركان الإسلام:		
1. الصلاة	2. الصوم	3. الشهادتان
ب. تنشر الزكاة.....بين المسلمين:		
1. الشجاعة	2. المحبة	3. القوة

السؤال الثالث:	الدرجة (2/.....)
- أكْمِلِ الْفَرَاقَاتِ الْآتِيَةَ مِمَّا بَيْنَ الْقَوْسَيْنِ:	
(الْمَطَرُ ، يَزْدُقُ ، الْكَبِيرُ)	
1. اللهُ تَعَالَى..... الْقَوِيُّ وَالضَّعِيفُ.	
2. مِنْ رَحْمَةِ اللهِ تَعَالَى بِعِبَادِهِ يُنَزَّلُ فَيُنْبِثُ الزَّرْعَ.	

السؤال الرابع:	الدرجة (2/.....)
- ضَعِ عِلَامَةً (✓) جَانِبِ الْعِبَارَةِ الصَّحِيحَةِ، وَعِلَامَةً (X) جَانِبِ الْعِبَارَةِ الْخَطَأِ:	
1. الرِّزْقُ كُلُّهُ مِنْ عِنْدِ اللهِ تَعَالَى.	()
2. يَرْحَمُ اللهُ تَعَالَى الْفُقَرَاءَ فَيَزِدُّهُمْ.	()

ثالثاً: مَحَالُ الْفَقْهِ الْإِسْلَامِيِّ:

4

السؤال الخامس:	الدرجة (...../2)
- أكمِلِ الْفَرَاقَاتِ الْآتِيَةَ مِمَّا بَيْنَ الْقَوْسَيْنِ:	
(مِقْصٌ ، يُثَابُ ، السَّوَاكُ)	
1. لِنِظَافَةِ الْأَسْنَانِ نَسْتَعْمَلُ	
2. قَصُّ الْأَظْفَارِ مِنْ سُنَنِ الْفِطْرَةِ الَّتِي فاعِلُهَا.	

السؤال السادس:	الدرجة (...../2)
- ضَعْ عِلَامَةً (✓) جَانِبَ الْعِبَارَةِ الصَّحِيحَةِ، وَعِلَامَةً (X) جَانِبَ الْعِبَارَةِ الْخَطَأِ:	
1. يَسْمَحُ قَصُّ الْأَظْفَارِ بِتَجْمُعِ الْأَقْدَارِ تَحْتَهَا.	()
2. نُنَظِّفُ الْفَمَّ وَالْأَسْنَانَ بِالْفُرْشَاةِ وَالْمَعْجُونِ بَعْدَ الْأَكْلِ.	()

خامساً: مجال الآداب والأخلاق الإسلامية:

السؤال التاسع:	الدرجة (...../2)
- ضع علامة (✓) جانب العبارة الصحيحة، وعلامة (X) جانب العبارة الخطأ:	
1. آكل الطعام بيدي اليسرى.	()
2. أغسل يدي بعد الأكل بالماء والصابون.	()

السؤال العاشر:	الدرجة (...../2)
- ضع ○ حول الإجابة الصحيحة فيما يأتي:	
أ. عند بدء الطعام أقول:	
1. بسم الله	2. الله أكبر
3. الحمد لله	
ب. " بسم الله، توكلت على الله، ولا حول ولا قوة إلا بالله"، دعاء:	
1. دخول المنزل.	2. الخروج من المنزل.
3. عند دخول الحمام.	

رابعًا: مَجَالُ السِّيَرَةِ وَالنُّحُوثِ الْإِسْلَامِيَّةِ:

السَّأَلُ السَّابِعُ:	الدَّرَجَةُ (...../2)
أَكْمِلِ الْفَرَاقَاتِ الْآتِيَةَ مِمَّا بَيْنَ الْقَوْسَيْنِ:	
(التَّجَارَةُ ، ثَمَانِي ، سِتُّ)	
. مَاتَتْ أُمُّ النَّبِيِّ ﷺ وَعُمُرُهُ.....سَنَوَاتٍ.	
. عَمِلَ النَّبِيُّ ﷺ وَهُوَ شَابٌّ فِي.....	

السَّأَلُ الثَّامِنُ:	الدَّرَجَةُ (...../2)
ضَعِ <input type="radio"/> حَوْلَ الْإِجَابَةِ الصَّحِيحَةِ فِيمَا يَأْتِي:	
اسْمُ جَدِّ النَّبِيِّ ﷺ :	
1. عَبْدُ اللَّهِ	2. عَبْدُ الْمُطَّلِبِ
. وِلْدَ النَّبِيِّ ﷺ فِي:	
1. مَكَّةَ الْمُكْرَمَةَ.	2. الْمَدِينَةَ الْمُنَوَّرَةَ.
3. أَبِي طَالِبٍ	
3. بِلَادِ الشَّامِ.	

أولاً: القراءة والمُفردات:

-اقرأ نصَّ "أسرتي" ثمَّ أجب عن الأسئلة من (1- 2).

أنا حمد.

أبي سعد.

أمي دانه.

أخي عمر.

أختي ريم.

أنا أجب أسرتي.

التوثيق: منهج دولة قطر / 2022-2023

سؤال الأول:

الدرجة (...../2)

- أكمل بكتابة الكلمة المناسبة في الفراغ بالاختيار مما يلي:

(أسرتي - ريم - دانه)

1. أمي

2. أنا أجب







- اقرأ الكلمات ثم ضع ○ حول الكلمة المختلفة في كل سطر فيما يأتي:

دائنة	ريخ	دائنة	دائنة	1.
حمد	حمد	سعد	حمد	2.



ثانثا: الأبحءة: أعب عن الأسهة من (3 - 6).

السؤال الثالث:				الدرجة (1/.....)
- اسمع وضع دائرة حول ما تسمع إليه:				
1.	ذ	ذ	ذ	ذ
2.	تي	تو	تا	ثا

السؤال الرابع:				الدرجة (1/.....)
- ضع ○ حول الصورة التي يبدأ اسمها بالحرف المظلل في كل سطر مما يأتي:				
1.	ج			
2.	ب			

السؤال الخامس:


الدرجة (3/.....)

- أكمل الكلمات الآتية بالحرف المناسب لكل صورة مما يأتي:

ن ع ء



حذاء.....



كعبة.....



خلة.....

السؤال السادس:

الدرجة (3/.....)

- أكمل الكلمات الآتية بالمقطع الصوتي المناسب مما يأتي:

يو را دي



طير.....



ك.....

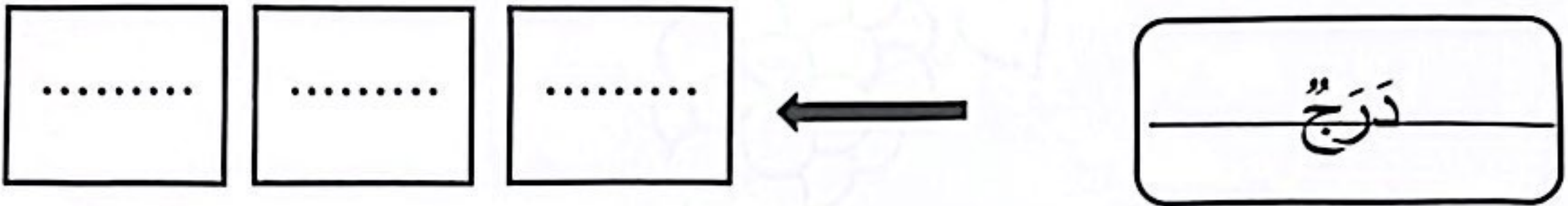


زرافة.....

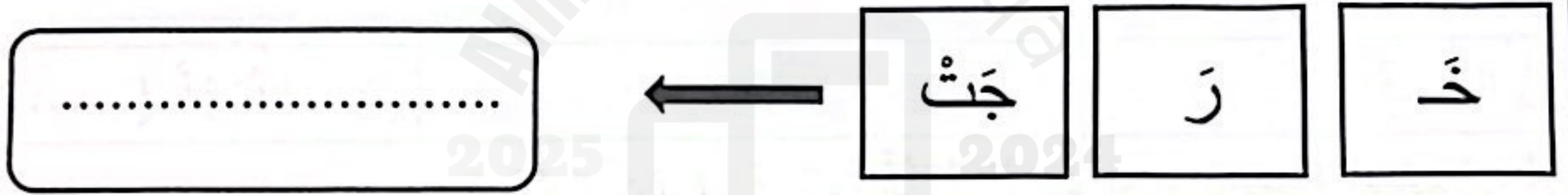
ثالثاً: التَّحْلِيلُ الصَّوْتِيُّ وَالتَّرْكِيبُ:

السُّؤالُ السَّابِعُ: الدَّرَجَةُ (..... / 2)

1. حَلِّ الكَلِمَةَ الآتِيَةَ إلى مَقَاطِعِهَا الصَّوْتِيَةَ فِيمَا يَلِي: (..... / 1)



2. رَكِّبِ المَقَاطِعَ الآتِيَةَ لِتُكَوِّنَ كَلِمَةً ذاتَ مَعْنَى فِيمَا يَلِي: (..... / 1)




رابعاً: التَّغْيِيرُ الْكِتَابِيُّ: أَجِبْ عَنِ الْأَسْئَلَةِ مِنْ (8 - 10).

السُّؤالُ الثَّامِنُ:

الدَّرَجَةُ (1/.....)

- اكتب الأسمم الدال على الصورة التالية:



.....

السُّؤالُ التَّاسِعُ:

الدَّرَجَةُ (1/.....)

- اقرأ الكلمات، وأعد ترتيبها مكوناً جملةً تُعبّرُ فيها عن الصورة:
(أحبُّ - أنا - أسرّتي)

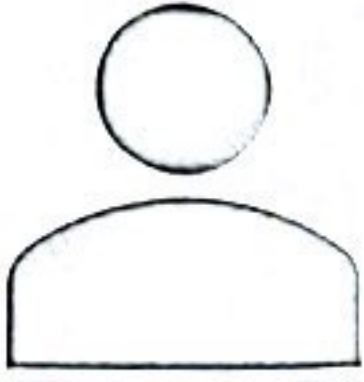


.....

السؤال العاشر:

الدرجة (1/.....)

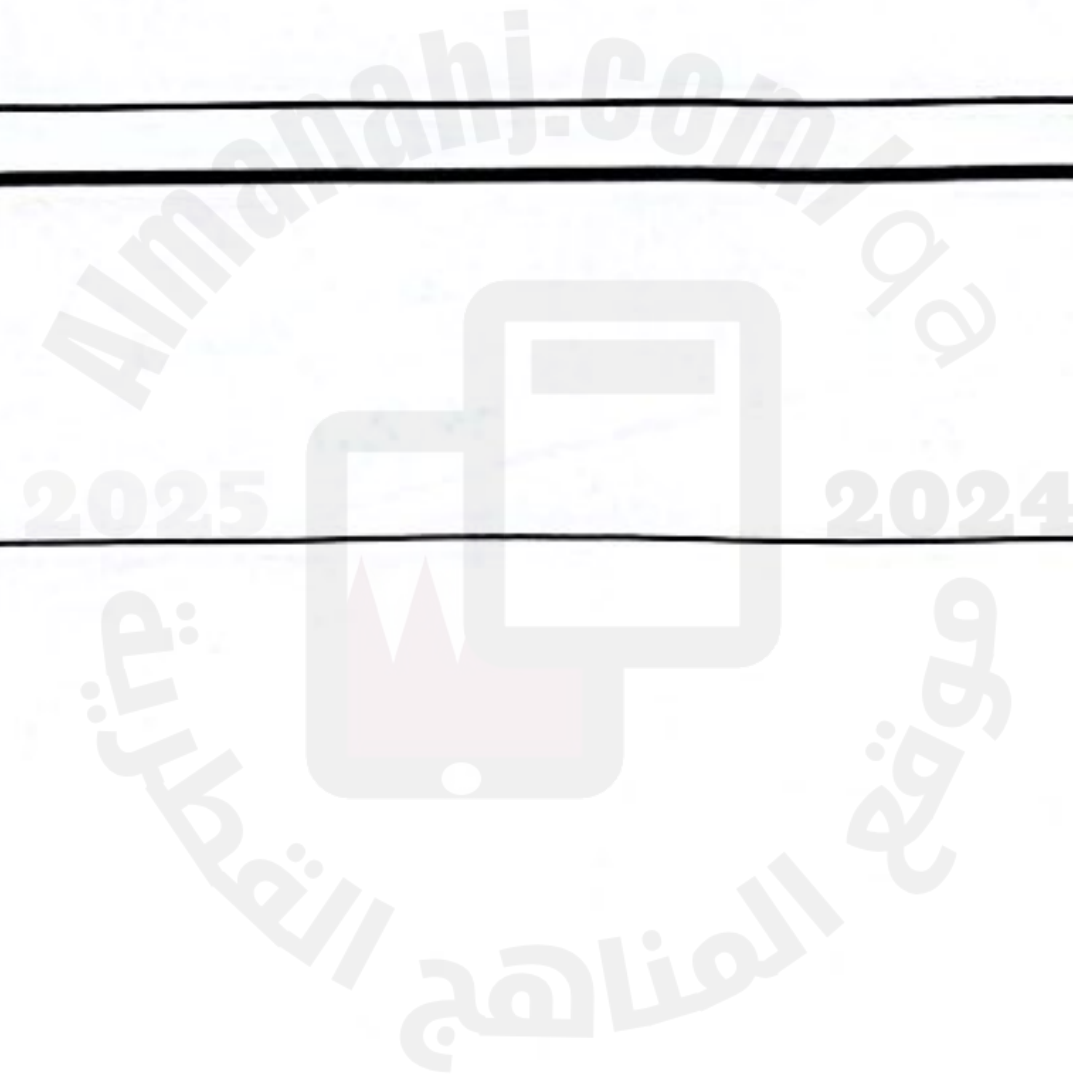
- أكمل بيانات بطاقة الشخصيّة فيما يأتي:




اسمي:

أبي:

عُمري: سنّواتٍ.

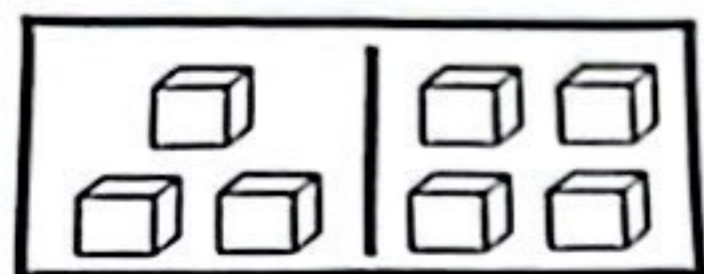




1 /.....		السؤال الثالث:
		<p>في وعاء 6 كرات زجاجية. أأخذ منها 4 كرات.</p> <p>أي مما يلي يمثل العدد الباقي للكرات؟</p>
A	2	
B	4	
C	6	



السؤال السادس:

1/.....



لدى حمد 4  و 3  اخرى.

ما العدد الكلي للورود التي لديه؟

$$\underline{\quad} + \underline{\quad} = \underline{\quad}$$

السؤال السابع:

2/.....

اكتب جملة الجمع المناسبة للكرات أدناه.



$$\underline{\quad} \bigcirc \underline{\quad} = \underline{\quad}$$


صل بخط العمود (أ) بالصورة المناسبة في العمود (ب):

العمود (ب)	العمود (أ)
	شرنقة
	طائر بالغ
	

2 /

السؤال الثامن:

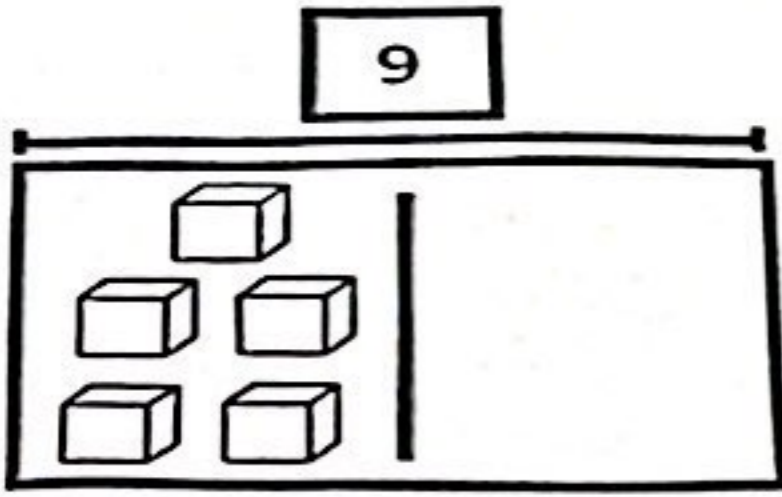
انظر إلى الصورة. اكتب جملة الطرح.



2 /

السؤال التاسع:

أكمل النموذج. ثم اكتب جملة الطرح.



وقفت 9 ضفادع على جذع شجرة.




قفزت 5 ضفادع منها بعيداً.

كم ضفدعاً بقي على الشجرة؟



انتهت الأسئلة

نتمنى لكم التوفيق

1/.....	السؤال الثالث
أي مما يلي كائن غير حي؟	
	A
	B
	C

1/.....	السؤال الرابع
أي مما يلي من مراحل دورة حياة النبات؟	
يرقة	A
بذرة	B
حديث الولادة	C

ضع علامة (✓) أمام العبارة الصحيحة، وعلامة (X) أمام العبارة الخطأ:

()

1. للإنسان دورة حياة.

()

2. جميع الكائنات الحية تتكاثر بوضع البيض.

()

3. بعض الأشياء تتحرك وبعضها لا يتحرك.

أكمل الفراغات التالية مستعيناً بالكلمات في الجدول التالي:

تنفس	المحرك	بالغة
------	--------	-------

1- الكائنات الحية تتغذى وتتحرك و-----

2- تنمو جميع الحيوانات لتصبح-----


3- يساعد----- المركبات كي تتحرك.

تعليمات: عند الإجابة على الأسئلة من 4 إلى 9، اكتب إجاباتك في المساحات المخصصة لذلك.

2/.....

السؤال الرابع:

عدّ الأسماك في كل حوض ثم اكتب العدد في المكان المخصص.

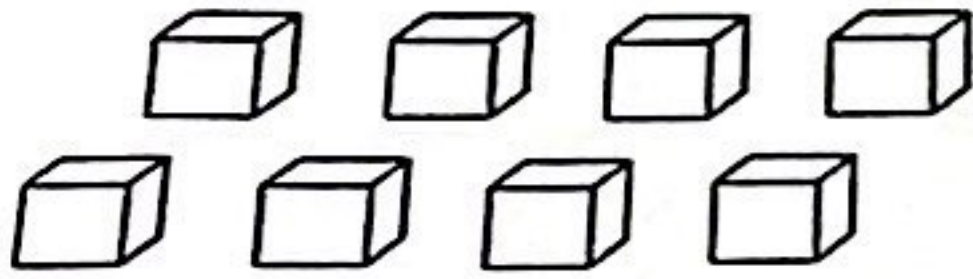


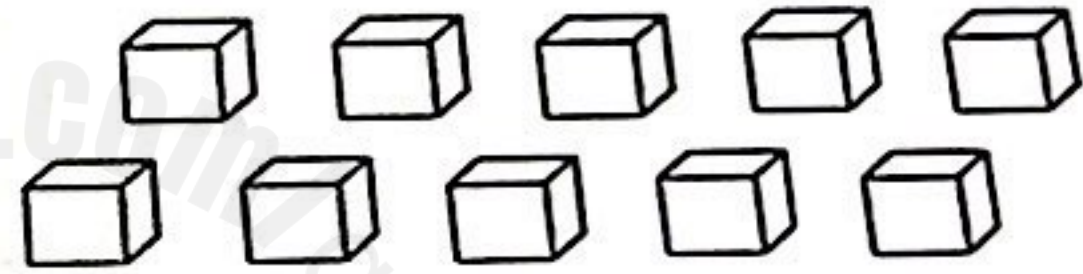


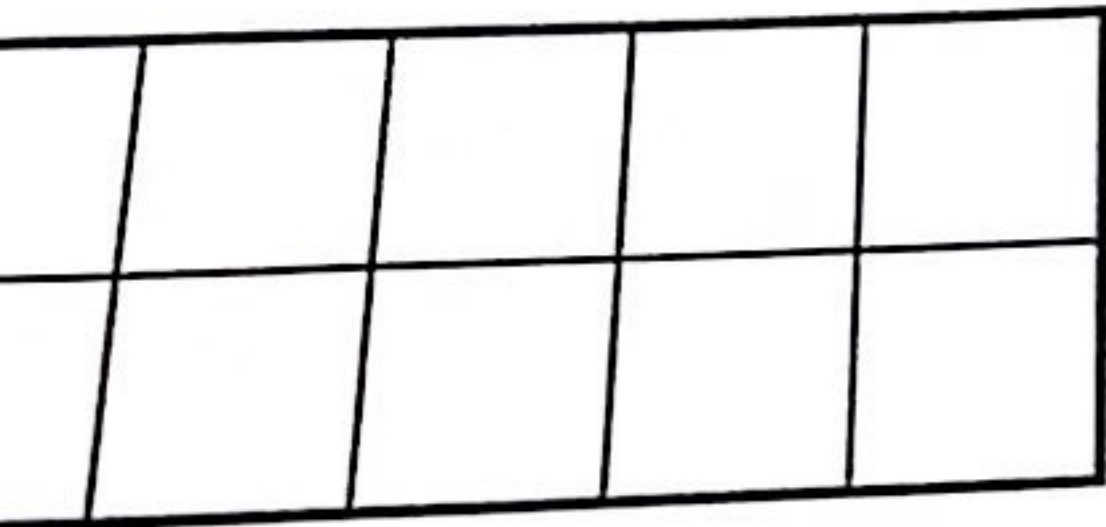
3/.....

السؤال الخامس:

(A) عدّ المكعبات ، ثم اكتب عدد المكعبات في المكان المخصص.









(B) وجد أحمد 5



وّن العدد المناسب من المربعات لتمثيل عدد الـ

تعليمات: اختر الإجابة الصحيحة لكل من الأسئلة من 1 إلى 3، وذلك بوضع علامة * داخل المربع المجاور للإجابة الصحيحة:

1 /	السؤال الأول:
	ما العدد الذي يمثل ما يلي؟ 
A	5
B	6
C	7

1 /	السؤال الثاني:
	أي مما يلي يمثل العدد الكلي للسلاحف؟ 
	1 و 4 يصبح
A	1
B	4
C	5

1/.....

السؤال الخامس

أي مما يلي من مراحل دورة حياة الطائر؟

شتلة	A
طفل	B
فخ	C




1/.....

السؤال السادس

أي مما يلي يتحرك من تلقاء نفسه؟

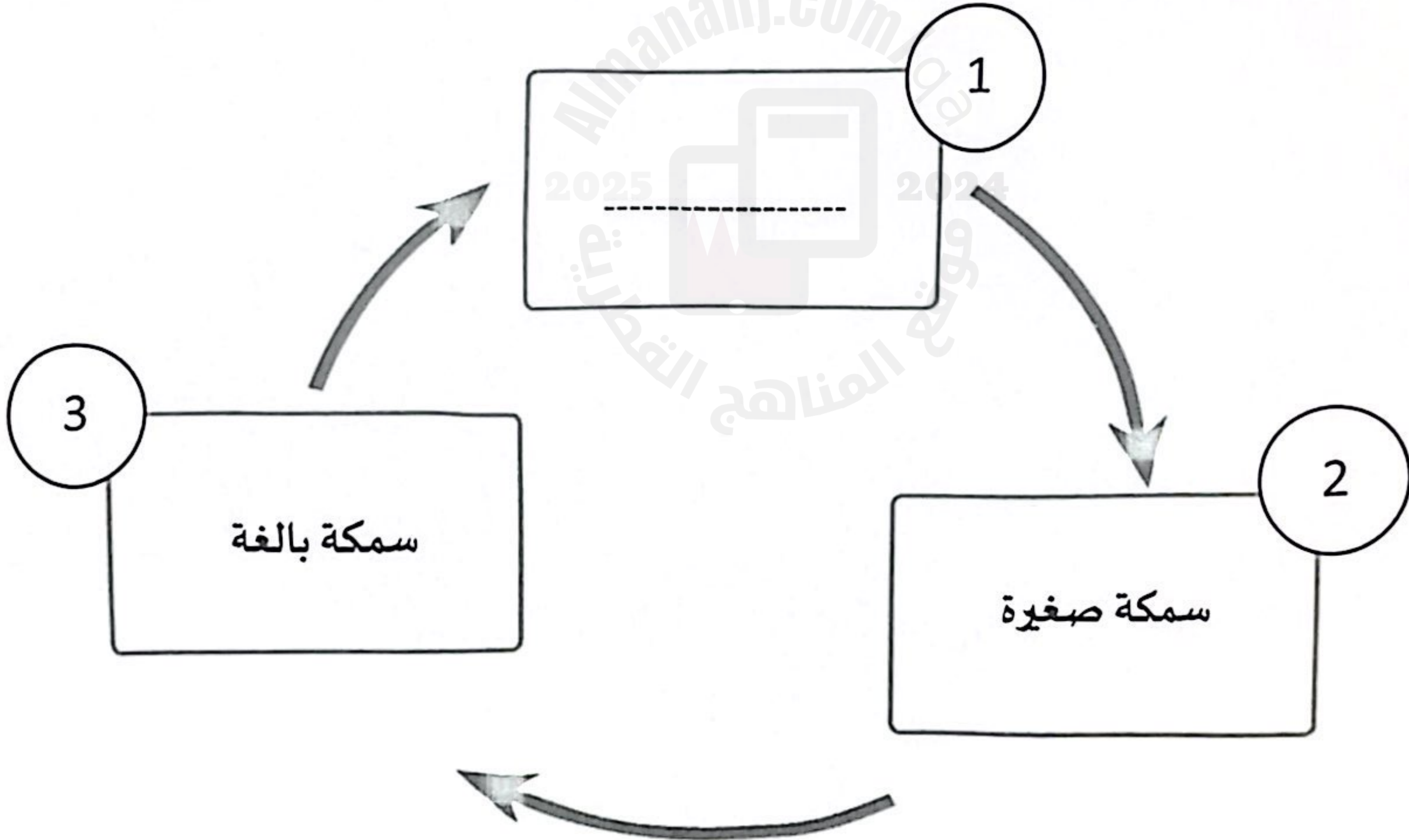
2025 2024

Almanahj.com / موقع المناهج القطرية

	A
	B
	C




اكتب المرحلة الناقصة في دورة حياة السمكة في المكان المخصص للإجابة، مستعينًا بالكلمات في الجدول التالي:

بيضه	بذرة	طفل
------	------	-----



تعليمات
اختر الإجابة الصحيحة لكل من الأسئلة من 1 إلى 6، وذلك بوضع علامة × داخل المربع المجاور للإجابة الصحيحة:

السؤال الأول	1/.....
	
أي من خصائص الكائنات الحية تدل عليه الصورة؟	
A	يتكاثر
B	يتحرك
C	يتغذى

السؤال الثاني	1/.....
أي من الحيوانات التالية تلد صغاراً؟	
A	
B	
C	

Listening 1:




Listen and tick . / 2

1.	I <input type="checkbox"/>	P <input type="checkbox"/>	T <input type="checkbox"/>
----	-------------------------------	-------------------------------	-------------------------------

2.	R <input type="checkbox"/>	N <input type="checkbox"/>	E <input type="checkbox"/>
----	-------------------------------	-------------------------------	-------------------------------

Listening 2:

Listen and number . / 3

		
<input type="checkbox"/>	<input type="checkbox"/>	<input type="checkbox"/>

Reading 1:

Circle the small letter.

/ 2

I

i

n

P

e

p

S

n

s

R

r


t

Listening 3:

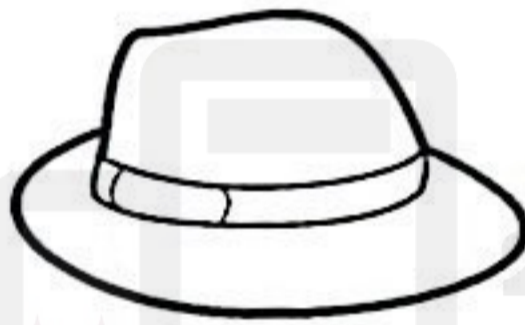
Listen and circle.

/ 3


1.



2.









3.



Reading 2:

Read and tick ✓.


/ 2


1.	teacher	 <input type="checkbox"/>	 <input type="checkbox"/>
2.	nest	 <input type="checkbox"/>	 <input type="checkbox"/>
3.	star	 <input type="checkbox"/>	 <input type="checkbox"/>
4.	five	5 <input type="checkbox"/>	1 <input type="checkbox"/>

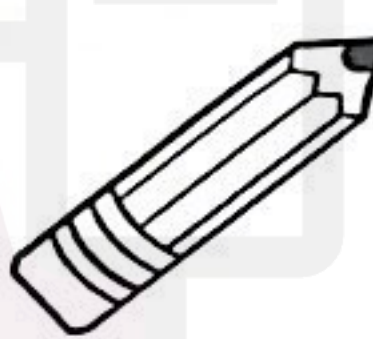
Reading 3:


Read and tick , Yes or No .

/ 2

	sit down		Yes <input type="checkbox"/>	No <input type="checkbox"/>
--	----------	---	---------------------------------	--------------------------------

	my book		Yes <input type="checkbox"/>	No <input type="checkbox"/>
--	---------	---	---------------------------------	--------------------------------

	It is a desk.		Yes <input type="checkbox"/>	No <input type="checkbox"/>
--	---------------	--	---------------------------------	--------------------------------

	This is a chair.		Yes <input type="checkbox"/>	No <input type="checkbox"/>
--	------------------	--	---------------------------------	--------------------------------

Writing 1:

Look and copy . / 1

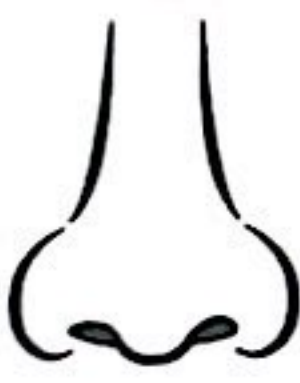


S

red

Writing 2:

Look and write . / 1.5



egg nose table


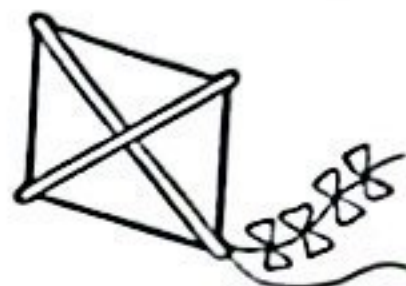
1.	2.	3.
		
_____	_____	_____

Writing 3:

Look and write .

/ 2

1.		2.	
	___ orse		___ ake

3.		4.	
	___ pple		___ ite

Writing 4:

Write your name .

/ 0.5

My name is

Writing 5: Dictation

Listen and write .

1. _____

2. _____

