

تم تحميل هذا الملف من موقع المناهج القطرية



الأوراق الإثرائية الشاملة لاختبار نهاية الفصل مدرسة الأندلس غير مجانية

[موقع المناهج](#) ⇨ [المناهج القطرية](#) ⇨ [المستوى الأول](#) ⇨ [علوم](#) ⇨ [الفصل الثاني](#) ⇨ [الملف](#)

تاريخ إضافة الملف على موقع المناهج: 2024-05-29 11:39:28

إعداد: مدرسة الأندلس

التواصل الاجتماعي بحسب المستوى الأول



اضغط هنا للحصول على جميع روابط "المستوى الأول"

روابط مواد المستوى الأول على تلغرام

[الرياضيات](#)

[اللغة الانجليزية](#)

[اللغة العربية](#)

[التربية الاسلامية](#)

المزيد من الملفات بحسب المستوى الأول والمادة علوم في الفصل الثاني

[بنك اسئلة الوحدة السابعة جعل الأشياء تتحرك مع الإجابة النموذجية](#)

1

[بنك أسئلة الوحدة السادسة الغذاء والنمو مع الإجابة النموذجية](#)

2

[بنك اسئلة الوحدة الخامسة استخدام المواد مع الإجابة النموذجية](#)

3

المزيد من الملفات بحسب المستوى الأول والمادة علوم في الفصل الثاني

بنك أسئلة الوحدة الرابعة مع الإجابة النموذجية	4
بنك اسئلة الوحدة السادسة الغذاء والنمو	5

مدرسة الأندلس الخاصة للبنات

العام الأكاديمي 2024/2023

نهاية الفصل الدراسي الثاني



تحياتنا



الأوراق الإثرائية الشاملة لنهاية الفصل الدراسي الثاني

مادة العلوم




الصف الأول الابتدائي

اسم الطالبة/.....

الصف والشعبة /.....

/1

السؤال الأول ضع دائرة حول الإجابة الصحيحة .

1	أي من الأطعمة التالية طازجة؟
.A	
.B	
.C	

2	أي من التالي يجعل الطعام طازج لفترة أطول؟
.A	أن يكون مغلف
.B	أن يكون مكشوف
.C	أن يكون فاسد

3	أي من الاجهزة الكهربائية التالية تساعد علي إبقاء الطعام مبرد وطازج لفترة طويلة؟
.A	ثلاجة
.B	فرن
.C	خلاط




4	من التالي من أعراض التسمم الغذائي ؟
.A	ارتفاع درجة الحرارة
.B	القوة
.C	الراحة

5	ماذا يسبب تناول الطعام المتعفن؟
.A	النشاط
.B	التسمم الغذائي
.C	السعادة

6	أي مما يلي من طرق حفظ الطعام عبر إزالة السائل منه؟
.A	تجفيف
.B	تجميد
.C	تخليل

7	ما هي الأطعمة المحفوظة على لونها ولمسها ورائحتها ولم تفسد؟
.A	الأطعمة الطازجة
.B	الأطعمة الفاسدة
.C	الأطعمة المطبوخة

8	أي الأشياء التالية أقوم بها لأتجنب التسمم الغذائي؟
.A	أغسل يدي عند تناول الطعام
.B	أتناول الطعام المكشوف
.C	أتناول الطعام المتعفن

9	أي من التالي مادة طرية؟
.A	
.B	
.C	

10	ما هو ملمس الحجارة؟
.A	لين
.B	مرن
.C	خشن

11	أي المواد التالية قاسية ولامعة؟
.A	المعدن
.B	الورق
.C	القماش

16	أي المواد التالية لا يمر الضوء من خلالها؟
.A	الشفافة
.B	الشبه شفافة
.C	المعتمة

17	بأي حاسة أستطيع أن أميز بين الخشن والناعم؟
.A	اللمس
.B	التذوق
.C	الشم

18	عند وضع حجر في كأس من الماء فإنه؟
.A	يطفو
.B	يغوص
.C	لامع

19	ما هو غذاء الأسد؟
.A	اللحوم
.B	النباتات
.C	اللحوم والنباتات

20	ما الذي يحتاج إليه الغواص كي يبقى علي قيد الحياة تحت الماء؟
.A	الغذاء
.B	الخبز
.C	الهواء

21	تنمو النباتات المختلفة بأطوال؟
.A	مختلفة
.B	متشابهة
.C	باهتة

22	تنمو نباتات عديدة عندما اسقي؟
.A	البذور
.B	الثلاجة
.C	القوة

23	أي مما يلي تمثل المرحلة العمرية لإكمال نمو الفيل؟
.A	70 عام
.B	20 عام
.C	50 عام

24	ما الجزء الذي يساعد النبات علي الحصول علي الماء؟
.A	الجذور
.B	الساق
.C	الأوراق

25	أي من التالي في البحر سام ويسبب الأذى للكائنات الحية؟
.A	الزيت
.B	الحبر
.C	الشمس

26	ما هي الأشياء الأكثر خطورة عندما تتحرك؟
.A	النملة
.B	الجمل
.C	العصفور

27	ما هي صفات الملابس التي ينبغي أن ترتديها عند ركوب الدراجة ليلاً؟
.A	ملابس داكنة بدون خوذة
.B	ملابس داكنة و خوذة
.C	ملابس زاهية وخوذة

28	كيف تحافظ على سلامتك أثناء التنقل في السيارة ؟
.A	أجلس في المقعد الأمامي مرتدياً حزام الأمان
.B	أجلس في المقعد الأمامي من دون ارتداء حزام الأمان
.C	أجلس في المقعد الأمامي من دون ارتداء حزام الأمان

29	تتحرك الأشياء بسرعات
.A	متشابهة
.B	مختلفة
.C	لا تتحرك

30	ما هي الأشياء الأكثر خطورة؟
.A	الأشياء المتحركة بسرعة
.B	الأشياء المتحركة ببطء
.C	الأشياء الغير متحركة

/12

السؤال الثاني : ضع إشارة صح امام العبارة الصحيحة واسارة خطأ امام العبارة الخاطئة

- 1- ترك الطعام لمدة طويلة في الخارج قد يؤدي إلى تعفنه. ()
- 2- نغسل الأطعمة الطازجة قبل تناولها لتجنب التسمم الغذائي. ()
- 3- من طرق حفظ الطعام تعليب ()
- 4- يمكن أن تصنع النافذة من الزجاج لأنه شفاف ()
- 5- يستخدم الحديد في بناء المنازل لأنه قاس ()
- 6- يمتلك صغير المها قرونًا كبيرة ()
- 7- مصنع الغذاء في النباتات الورقية ()
- 8- يولد كلاً من الإنسان والحيوان صغيراً ()
- 9- لا يحتاج الإنسان الى توخي الحذر عند التعامل مع الكائنات الحية ()
- 10- تتحرك الأشياء الثقيلة ببطء ()
- 11- يمكن ان تكون المركبات خطيرة عندما تتحرك ()
- 12- يجعل الدفع الاشياء تتوقف ()

/6

السؤال الثالث : املا الفراغ بالإجابة الصحيحة مستعيناً في الجول الكلمة المجاور

زاهي	تتكاثر	محفوظ	السموم	العبور	الموطن
------	--------	-------	--------	--------	--------

- 1- بعض الطعام طازج وبعض الطعام
- 2- التفاحة الطازجة يكون لونها
- 3- تخرج الحيوانات الفضلات لكي تتخلص من
- 4- يوفر الغذاء والماء والمأوى
- 5- جميع الحيوانات
- 6- عندما أعبّر الشارع أستخدم نقاط

/2

السؤال الرابع: صلي العمود (أ) بما يناسبة في العمود (ب)

يرتدي الرجل ملابس ليتجنب لسعات النحل



مرحلة عمرية 25 عام



السؤال الخامس: اجب عن الأسئلة المقالية التالية

1 ما هي القوة التي استخدمها الحصان لتحريك العربة؟



.....

2 ما اسم الحيوان الذي أمامك؟



.....

2 / درجة

3 ارسمي شكل النبات مكتمل الأجزاء الأربعة