

## شكراً لتحميلك هذا الملف من موقع المناهج القطرية



## اختبار في الوحدة الاولى الأعداد

[موقع المناهج](#) ← [المناهج القطرية](#) ← [المستوى الأول](#) ← [رياضيات](#) ← [الفصل الأول](#) ← [الملف](#)

تاريخ نشر الملف على موقع المناهج: 14:51:30 2023-10-07

## التواصل الاجتماعي بحسب المستوى الأول



## روابط مواد المستوى الأول على تلغرام

[الرياضيات](#)

[اللغة الانجليزية](#)









[اللغة العربية](#)

[التربية الاسلامية](#)

## المزيد من الملفات بحسب المستوى الأول والمادة رياضيات في الفصل الأول

<a href="#">تدريبات مجمع الفرقان منتصف الفصل</a>	1
<a href="#">اوراق عمل اثرائية نهاية الفصل في العد والجمع</a>	2
<a href="#">كتاب الطالب الجزء الثاني</a>	3
<a href="#">كتاب الطالب الجزء الأول</a>	4
<a href="#">احباط تدريبات دعم واثراء نهاية الفصل الأو ٢٠٢٢م</a>	5




عد الأشياء في كل مجموعة ثم اكتب العدد.




أعد الأزهار، ثم أكتب العدد.

	
---	---


أي مما يلي يمثل العدد 9 ؟

- A 
- B 
- C 

أي مما يلي يمثل العدد 5 ؟

- A 
- B 
- C 

أي مما يلي يمثل عدد المكعبات ؟

- A 4 
- B 6
- C 8

مدرسة الأندلس الخاصة للبنات  
(روضة-ابتدائي-اعدادي-ثانوي)  
رؤية المدرسة: "تَعَلَّمْ عَصْرِيَّ مُلْهِمَّ بِهَوِيَّةٍ وَطَنِيَّةٍ وَقِيمِ إِسْلَامِيَّةٍ"



	منسقة القسم		معلمة الصف
			الخطوة العلاجية