

## شكراً لتحميلك هذا الملف من موقع المناهج القطرية



## أوراق عمل اثرائية منتصف الفصل مدرسة الأندلس مع الإجابة النموذجية

[موقع المناهج](#) ← [المناهج القطرية](#) ← [المستوى الأول](#) ← [رياضيات](#) ← [الفصل الثاني](#) ← [الملف](#)

تاريخ نشر الملف على موقع المناهج: 2024-02-22 16:12:34 | اسم المدرس: مدرسة الأندلس

## التواصل الاجتماعي بحسب المستوى الأول



## روابط مواد المستوى الأول على تلغرام

[الرياضيات](#)

[اللغة الانجليزية](#)

[اللغة العربية](#)

[التربية الاسلامية](#)

## المزيد من الملفات بحسب المستوى الأول والمادة رياضيات في الفصل الثاني

[أوراق عمل اثرائية منتصف الفصل مدرسة الأندلس غير محابة](#)

1

[تدريبات دعم وإثراء الفرقان منتصف الفصل](#)

2

[تدريبات الفرقان منتصف الفصل محابة](#)

3

[تدريبات دعم وإثراء منتصف الفصل مدرسة مريم بنت عمران غير محابة](#)

4

[تدريبات دعم وإثراء منتصف الفصل مدرسة عبد الحميد الدليل غير محابة](#)

5

مدرسة الأندلس الخاصة للبنات  
العام الأكاديمي 2024/2023  
الفصل الدراسي الثاني



الأوراق الاثرائية الشاملة لاختبار منتصف الفصل الدراسي الثاني

الإجابة النموذجية

مادة الرياضيات

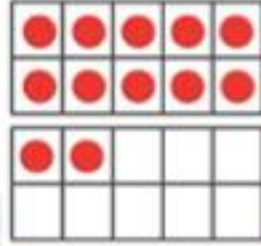
الصف الأول الابتدائي

اسم الطالبة/.....

الصف والشعبة /.....

أجب عن الأسئلة الآتية :

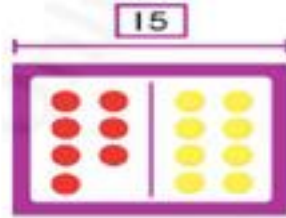
السؤال الأول ضع دائرة حول الإجابة الصحيحة .

1 بتكوين العشرة فإن حقيقة الطرح التالية هي  $12 - 4 = \underline{\quad}$ 

6 .A

8 .B

10 .C

2 أي حقيقة طرح مرتبطة يمكن حلها باستخدام  $7 + 8 = 15$ 

15-8=7 .A

14-7=7 .B

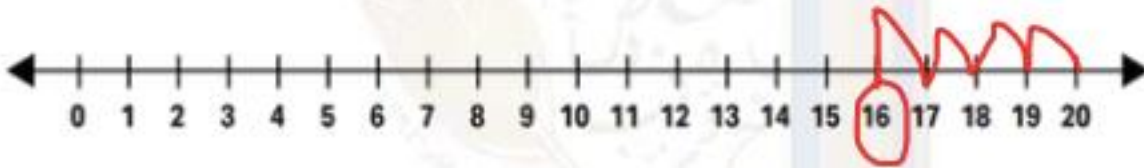
8-7=1 .C

3	باستعمال خط الأعداد بالعد تصاعدياً أو تنازلياً أوجد ناتج الطرح $15-6=$
	
.A	7
.B	8
.C	9

## السؤال الثاني :

باستعمال خط الأعداد بالعد تصاعدياً أو تنازلياً. أوجد ناتج طرح. وضح عملك

$$20 - 4 = 16$$



السؤال الثالث :

باستعمال خط الأعداد بالعد تصاعدياً أو تنازلياً. أوجد ناتج طرح. وضح عملك

$$12 - 5 = \underline{7}$$



السؤال 1

يعرض الأخضر الإشارات ؟

أزرق	أخضر	أخضر

A

3

B

4

C

5

السؤال 2

باستعمال جدول التمثيل بالمصورات ما المشروب المفضل ؟

المشروبات المفضلة			
الخبيب			
العصير			

A

الماء

B

العصير

C

الخبيب

السؤال رقم ( 3 )

أي مجموعة إشارات عد توضح عدد القفازات في التمثيل بالمصورات ؟

فئة				
قفاز				

A

||

B

||||

C

|||



عند الإجابة على السؤال 4 اكتب إجاباتك في المساحات المخصصة  
تعليمات لذلك مع توضيح خطوات الحل :

تعليمات







السؤال رقم (4)

التمثيل بالمصورات

النشاط المفضل						
كرة القدم						
التنس						
الجزئي						

باستعمال البيانات في  
النشاط المفضل أدناه .

A. أنشء جدول الإشارات. مثل إشارات العد.

B. حدد النشاط الأقل تفضيلاً ؟

كرة القدم

C. بكم يزيد عدد الذين يفضلون التنس عن الذين يفضلون الجري؟

2

أجب عن الأسئلة الآتية :

4/0

السؤال الأول ضع دائرة حول الإجابة الصحيحة .

1 عَدِّ بالأحاد وبالعشرات. ثم أكتب العدد الكلي للمكعبات



.A 50

.B 85

.C 58

2 ما رقم الأحاد في كل من الأعداد في المربعات الحمراء .

41	42	43	44	45	46	47	48	49	50
51	52	53	54	55	56	57	58	59	60
61	62	63	64	65	66	67	68	69	70
71	72	73	74	75	76	77	78	79	80
81	82	83	84	85	86	87	88	89	90

.A 4

.B 8

.C 9



عد بالعشرات في كل من الأعداد في المربعات الزرقاء

3

41	42	43	44	45	46	47	48	49	50
51	52	53	54	55	56	57	58	59	60
61	62	63	64	65	66	67	68	69	70
71	72	73	74	75	76	77	78	79	80
81	82	83	84	85	86	87	88	89	90

5 .A

6 .B

7 .C

السؤال الثاني :

ما العدد الذي تمثله المكعبات ؟



60

alux Educational Complex  
Since 1995

47

## السؤال الثالث :


اكتب الأعداد الناقصة في لوحة الأعداد لإكمال النمط.

1	2	3	4	5	6	7	8	9	10
11	12	13	14	15	16	17	18	19	20
21	22	23	24	25	26	27	28	29	30
31	32	33	34	35	36	37	38	39	40
41	42	43	44	45	46	47	48	49	50

1	2	3	4	5	6	7	8	9	10
11	12	13	14	15	16	17	18	19	20
21	22	23	24	25	26	27	28	29	30
31	32	33	34	35	36	37	38	39	40
41	42	43	44	45	46	47	48	49	50

السؤال 1


هو 9 آحاد و 1 عَشْرَات



- A 90  
**B 19**  
 C 91

السؤال 2

- A العدد 33 هو 7 مجموعات من 10 والباقي 2  
 B العدد 60 هو 6 مجموعات من 10 والباقي 0  
**C العدد 33 هو 3 مجموعات من 10 والباقي 3**



تعليمات  
عند الإجابة على الأسئلة من 3 إلى 5 ، اكتب إجاباتك في المساحات المخصصة لذلك  
مع توضيح خطوات الحل :

السؤال 3

اكتب الكلمات أو الأرقام الناقصة. أربعة عشر

.A

هُوَ 4 آحاد و 1 عَشْرَات. 14

تِسْعَةُ عَشْرٍ

.B

هُوَ 9 آحاد و 1 عَشْرَات. 

19

السؤال 4

اكتب العدد وارسم المكعبات داخل المربع.



0 آحاد و 8 عَشْرَات هي 80

مع تحيات قسم المسار العلمي

Andalus Educational Complex  
Since 1995