

تم تحميل هذا الملف من موقع المناهج القطرية



أوراق عمل نهاية الفصل مع الإجابة النموذجية

موقع المناهج ← المناهج القطرية ← المستوى الأول ← علوم الحاسب ← الفصل الأول ← أوراق عمل ← الملف

تاريخ إضافة الملف على موقع المناهج: 12:49:09 2025-01-04

ملفات اكتب للمعلم اكتب للطالب | اختبارات الكترونية | اختبارات | حلول | عروض بوربوينت | أوراق عمل
منهج انجليزي | ملخصات وتقارير | مذكرات وبنوك | الامتحان النهائي للمدرس

المزيد من مادة:
علوم الحاسب:

التواصل الاجتماعي بحسب المستوى الأول



صفحة المناهج
القطرية على
فيسبوك

الرياضيات

اللغة الانجليزية

اللغة العربية

التربية الاسلامية

المواد على تلغرام

المزيد من الملفات بحسب المستوى الأول والمادة علوم الحاسب في الفصل الأول

اختبار نهاية الفصل غير مجاب

1

اختبار نهاية الفصل مع الإجابة النموذجية

2

أوراق عمل مريم بنت عمران نهاية الفصل مع الإجابة النموذجية

3

أوراق عمل مريم بنت عمران نهاية الفصل غير مجابة

4

أوراق عمل مراجعة نهاية الفصل غير مجابة

5

العام الأكاديمي 2025/2024

الفصل الأول



أوراق العمل الإثرائية

نهاية الفصل الدراسي الأول


مادة الحوسبة وتكنولوجيا المعلومات

الصف الأول الابتدائي

.....	اسم الطالب
الأول /	الصف والشعبت

السؤال الأول:

في الصورة أدناه وللمحافظة على بيئة عمل نظيفة وآمنة قم بوضع دائرة حول الأشياء التي لا يجب وجودها بجانب الحاسوب.



السؤال الثاني:

ضع إشارة صح (✓) أسفل الصورة الصحيحة أو خطأ (X) أسفل الصورة الغير صحيحة للحالات

التالية:

1- وضعية الجلوس الصحيحة أمام الحاسوب:

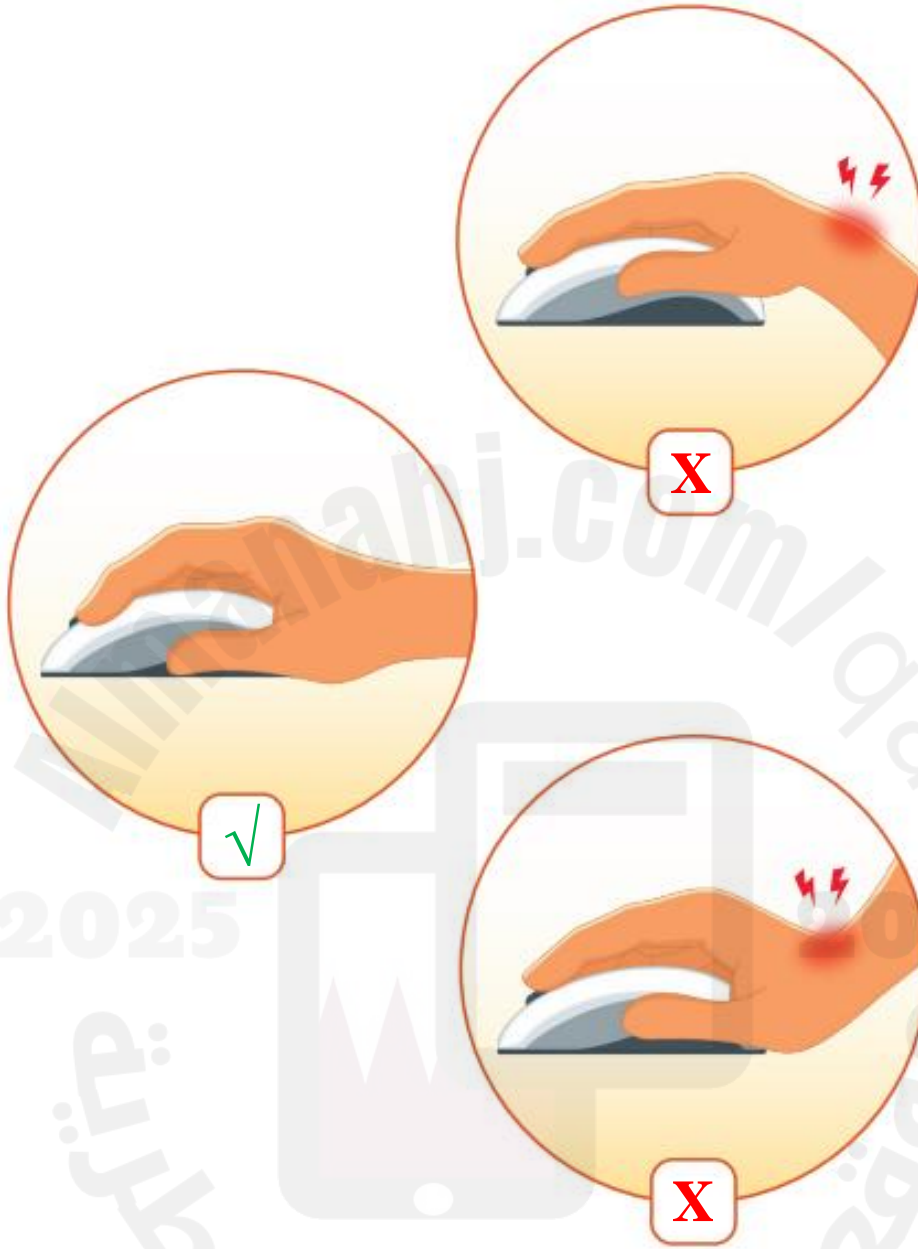


2- وضعية اليد الصحيحة للكتابة باستخدام لوحة المفاتيح:



Almanahi
2024
موقع المناهج
القطري



3- وضعية اليد الصحيحة لإستخدام الفأرة:



السؤال الثالث:

صل اسماء أجزاء سطح المكتب في العمود (أ) بالصورة المناسبة في العمود (ب):

(ب)



(أ)

متصفح الإنترنت

سلة المحذوفات

مجلد


جهاز الحاسوب

السؤال الرابع:

اختر الإجابة الصحيحة بوضع علامة صح (✓) في المربع لكل من الحالات التالية:

1- ملف نصي









2- ملف صورة










3- ملف صوت











4- ملف فيديو









السؤال الخامس:

حدد نوع الملف الذي يتم إنشاؤه وذلك بوضع علامة صح (✓) في المربع لكل من الحالات التالية:

1- تكتب على لوحة المفاتيح



2- تسجل صوت



3- تلتقط صورة بواسطة الهاتف الذكي



4- تسجيل فيديو

السؤال السادس:

اختر الإجابة الصحيحة لكل من الحالات التالية:

1- أحد برامج الحاسوب والذي يستخدم للرسم:



2- الأداة التي يمكن الكتابة بها في برنامج الرسم:



3- أداة التعبئة المستخدمة في تلوين الأشكال في برنامج الرسام:







4- يتم حفظ الرسمة في برنامج الرسام باستخدام الأمر:

Paste

Save as

Open

1- يتم فتح رسمة تم حفظها مسبقاً في برنامج الرسام باستخدام الأمر:

Paste

Open

Save as