

تم تحميل هذا الملف من موقع المناهج القطرية



أوراق عمل دعم وإثراء الفرقان منتصف الفصل غير مجانية

موقع المناهج ← المناهج القطرية ← المستوى الأول ← علوم الحاسب ← الفصل الأول ← أوراق عمل ← الملف

تاريخ إضافة الملف على موقع المناهج: 2024-10-22 12:02:25

ملفات اكتب للمعلم اكتب للطالب الاختبارات الكترونية | اختبارات | حلول | عروض بوربوينت | أوراق عمل
منهج انجليزي | ملخصات وتقارير | مذكرات وبنوك | الامتحان النهائي للمدرس

المزيد من مادة:
علوم الحاسب:

التواصل الاجتماعي بحسب المستوى الأول



صفحة المناهج
القطرية على
فيسبوك

الرياضيات

اللغة الانجليزية

اللغة العربية

التربية الاسلامية

المواد على تلغرام

المزيد من الملفات بحسب المستوى الأول والمادة علوم الحاسب في الفصل الأول

أوراق عمل دعم وإثراء الفرقان منتصف الفصل مع الإجابة النموذجية

1

أوراق عمل اثرائية لاختبار منتصف الفصل غير مجانية

2

أوراق عمل الأندلس الاثرائية منتصف الفصل غير مجانية

3

أوراق عمل الأندلس الاثرائية منتصف الفصل مجانية

4

اختبار الوحدة الأولى غير مجاب

5

الحواسبة

1446 هـ - 24-25 م

1 تدريبات

منتصف ف 1
دعم
وإثراء



يا رب انصر عبادك المؤمنين
وجنك الموحدين في كل مكان

القدس والأقصى ▼ حتماً ستعود

ملحوظة: هذه التدريبات لا تقني عن الكتاب المدرسي

الاسم / الصف / 1-

التميز



السؤال الأول: ضع دائرة حول الإجابة الصحيحة فيما يلي:




(1) يعتبر من أحدث أنواع أجهزة الحاسوب:

	(ج)		(ب)		(أ)
---	-----	---	-----	---	-----




(2) يعتبر من أقدم أنواع أجهزة الحاسوب:

	(ج)		(ب)		(أ)
--	-----	--	-----	--	-----




(3) الصورة التي تمثل الحاسوب في المطار:

	(ج)		(ب)		(أ)
---	-----	---	-----	---	-----




(4) الصورة التي تمثل الحاسوب في السوق:

	(ج)		(ب)		(أ)
---	-----	---	-----	---	-----




(5) الصورة التي تمثل الحاسوب في المدرسة :

	(ج)		(ب)		(أ)
---	-------	---	-------	---	-------

(6) الصورة التي تمثل الحاسوب في البنك :

	(ج)		(ب)		(أ)
--	-------	--	-------	--	-------


(7) صورة الفأرة :

	(ج)		(ب)		(أ)
---	-------	---	-------	---	-------

(8) صورة وحدة النظام :

	(ج)		(ب)		(أ)
---	-------	---	-------	---	-------




(9) صورة لوحة المفاتيح :

	(ج)		(ب)		(أ)
---	-------	---	-------	---	-------


(10) صورة الطابعة :

	(ج)		(ب)		(أ)
--	-------	---	-------	---	-------

(11) صورة مكبر الصوت :

	(ج)		(ب)		(أ)
---	-------	---	-------	---	-------






(12) صورة الشاشة :

	(ج)		(ب)		(أ)
---	-------	---	-------	---	-------

السؤال الثاني:

- صل بين الكلمة في العمود (أ) بالصورة المناسبة في العمود (ب)

وذلك بكتابة الرقم المناسبة في الدائرة أمام الصورة:

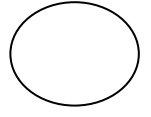
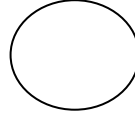
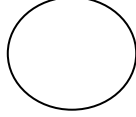
(ب)	
	<input type="radio"/>
	<input type="radio"/>
	<input type="radio"/>
	<input type="radio"/>
	<input type="radio"/>

(أ)	
حاسوب محمول	1
حاسوب لوحي	2
ساعة ذكية	3
الطابعة	4
الشاشة	5




السؤال الثالث:

أولاً - أجب عن الأسئلة الآتية بوضع (✓) أسفل الصورة المناسبة :


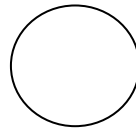

(1) الصورة التي تحتوي على هاتف ذكي :



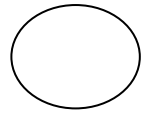
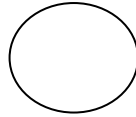
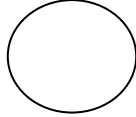
(2) الصورة التي تحتوي على الشاشة :





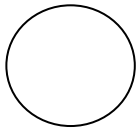
(3) الصورة التي تحتوي على الطابعة :




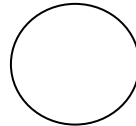
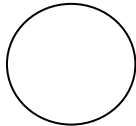
(4) الصورة التي تحتوي على لوحة المفاتيح :






(5) الصورة التي تحتوي على الساعة الذكية :






(6) الصورة التي تحتوي على مكبرات الصوت :



(7) الصورة التي تحتوي على وحدة النظام :



(8) الصورة التي تحتوي على الفأرة :



(9) الصورة التي تحتوي على حاسوب مكتبي :

