


شكراً لتحميلك هذا الملف من موقع المناهج القطرية



## إجابة اختبار منتصف الفصل

[موقع المناهج](#) ← [المناهج القطرية](#) ← [المستوى الأول](#) ← [رياضيات](#) ← [الفصل الأول](#) ← [الملف](#)

تاريخ نشر الملف على موقع المناهج: 06:34:49 2023-10-09

## التواصل الاجتماعي بحسب المستوى الأول



## روابط مواد المستوى الأول على تلغرام

[الرياضيات](#)

[اللغة الانجليزية](#)

[اللغة العربية](#)

[التربية الاسلامية](#)

## المزيد من الملفات بحسب المستوى الأول والمادة رياضيات في الفصل الأول

[اوراق عمل منتصف الفصل](#)

1

[إجابة اختبار الوحدة الثانية](#)

2

[اختبار في الوحدة الثانية](#)

3

[اختبار في الوحدة الاولى الأعداد](#)

4

[تدريبات مجمع الفرقان منتصف الفصل](#)

5

# الرياضيات 1

منتصف ف1

إجابات

1445 هـ  
23-24 م



واصل  
التطبيق



ملحوظة: هذه التدريبات لا تفني عن الكتاب المدرسي

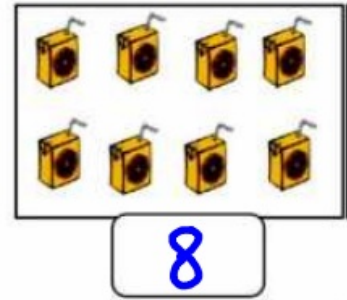
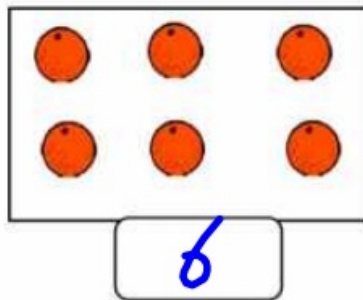
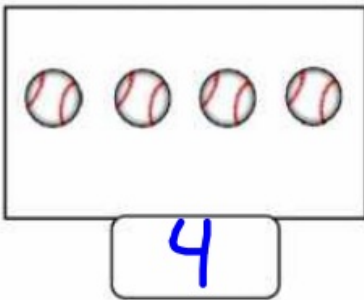

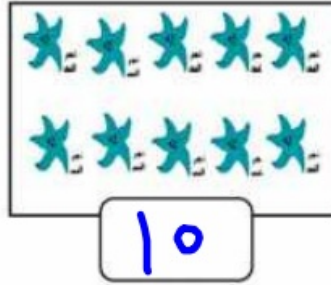
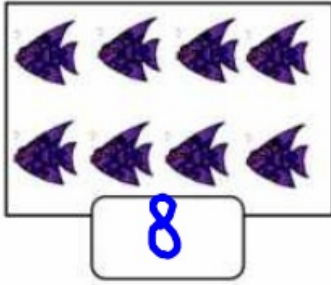
الصف/1-

الاسم/

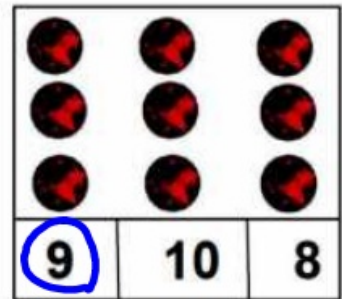
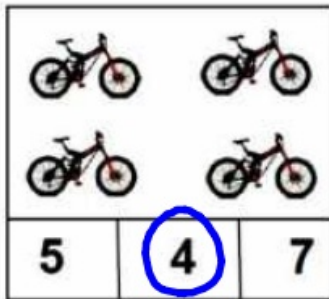
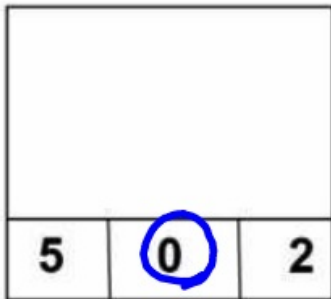
التميز



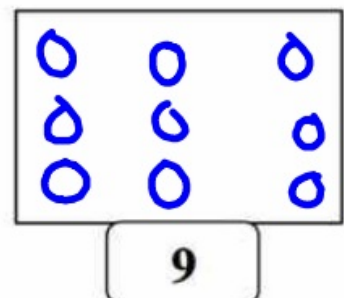
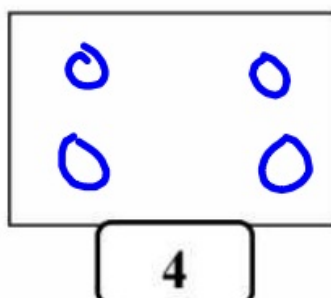
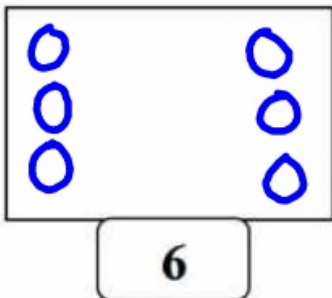
أ : عد و اكتب العدد :



ب : ضع  حول العدد المناسب :



ج : ارسم دوائر حسب العدد



د : عد صاعد و اكتب العدد :

0 1 2 3 4 5 6 7 8 9

د : عد نازلا و اكتب العدد :

10 9 8 7 6 5 4 3 2 1

د : عد صاعد و اكتب العدد :

3 4 5 6 7 8

5 6 7 8 9 10

2 3 4 5 6 7

د : عد نازلا و اكتب العدد :

10 9 8 7 6 5

6 5 4 3 2 1

8 7 6 5 4 3

ر - استكشاف الجمع : ما العدد الكلي ؟



7 3 4  
نضبخ و



4 2 2  
نضبخ و



5 1 4  
نضبخ و



8 2 6  
نضبخ و

ز - تمثيل الجمع بجملة عددية : اكتب جملة الجمع .



$$4 + 3 = 7$$



$$4 + 4 = 8$$



$$2 + 4 = 6$$



$$2 + 2 = 4$$



$$5 + 2 = 7$$



$$3 + 3 = 6$$



$$6 + 3 = 9$$



$$3 + 2 = 5$$



$$1 + 4 = 5$$



$$2 + 2 = 4$$




$$4 + 6 = 10$$



$$3 + 5 = 8$$

في صندوق 3 و 3  
كم كرة في الصندوق؟



$$\begin{array}{r} 3 \\ 3 \end{array} + \begin{array}{r} 3 \\ 3 \end{array} = 6$$

بزي جاسم 1 و 6  
ما العذد الكلي لـلخسرات التي  
بزاها جاسم؟



$$\begin{array}{r} 1 \\ 1 \end{array} + \begin{array}{r} 6 \\ 6 \end{array} = 7$$

لدى خمير 2 و 5  
ما العذد الكلي لقطع العذ لذيها؟



$$\begin{array}{r} 2 \\ 2 \end{array} + \begin{array}{r} 5 \\ 5 \end{array} = 7$$

لدى غابشة 4 و 2  
ما العذد الكلي لقطع العذ لذيها؟



$$\begin{array}{r} 4 \\ 4 \end{array} + \begin{array}{r} 2 \\ 2 \end{array} = 6$$

أنفدج قطف طلان 3  
ثم قطف 5 أخرى.  
كم قطف طلان؟

$$3 + 5 = 8$$

تقويم قطف علي 4 و 5  
كم ثقافة قطف علي؟







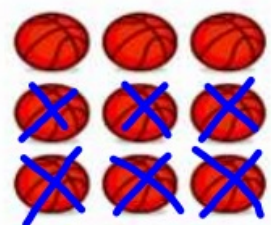

$$4 + 5 = 9$$

لدى زابد 3 و 2  
ما عذد المكعبات التي لدى زابد؟

$$2 + 3 = 5$$


أنفدج لدى ناصر 2  
ولدى سيف 4  
كم لذيها معا؟

$$2 + 4 = 6$$

<p>الكل 8</p>  <p>يبقى 4</p>	<p>الكل 10</p>  <p>يبقى 7</p>
<p>الكل 7</p>  <p>يبقى 4</p>	<p>الكل 9</p>  <p>يبقى 7</p>
<p>الكل 5</p>  <p>يبقى 0</p>	<p>الكل 7</p>  <p>يبقى 4</p>
<p>يوجد 9 كرات سلة أجد منها 6 كرات سلة. اكتب العدد الباقي.</p> <p>الكل 9</p>  <p>يبقى 3</p>	<p>الكل 7</p>  <p>يبقى 5</p>



في سلة 8 كرات. أجد منها 3 من الكرات.



$$8 - 3 = 5$$

أخذت 5 دجاجات.



$$6 - 5 = 1$$



$$8 - 6 = 2$$

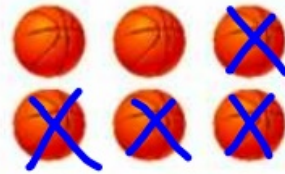


$$6 - 4 = 2$$



$$5 - 3 = 2$$

مغ مضطفي 6 كرات. أعطى لصديقه 4 منها.



$$6 - 4 = 2$$



$$6 - 4 = 2$$



$$7 - 2 = 5$$

9 قِطْطِ تَلْعَبُ. هَزَبْتَ 6 مِنْهَا.  
كَمْ قِطَّةً بَقِيَتْ تَلْعَبُ؟



$$9 - 6 = 3$$

وَقَفْتَ 8 صَفَادِعَ عَلَى جَذَعِ شَجَرَةٍ.  
قَفَرْتَ 4 صَفَادِعَ مِنْهَا بَعِيدًا.  
كَمْ صَفَدَعًا بَقِيَ عَلَى الْجَذَعِ؟



$$8 - 4 = 4$$

فِي غَلْبَةٍ 10 أَقْلَامٍ تَلْوِينِ.  
سَقَطَتْ مِنْهَا 7 أَقْلَامٍ.  
كَمْ قَلَمًا بَقِيَ فِي الْغَلْبَةِ؟



$$10 - 7 = 3$$

عَلَى طَاوِلَةٍ 9 نَفَاحَاتٍ.  
تَذَخَّرْتَ مِنْهَا 7 نَفَاحَاتٍ.  
كَمْ نَفَاحَةً بَقِيَتْ عَلَى الطَّاوِلَةِ؟



$$9 - 7 = 2$$

**أَبْرَزْ مَنْطِقِيًّا** فِي بَزَكَةِ 8 بَطَّابٍ. خَرَجْتَ مِنْهَا  
4 بَطَّابٍ. كَمْ بَطَّةً بَقِيَتْ فِي الْبَزَكَةِ؟


$$8 - 4 = 4$$

**اسْتَعْمِلِ الْأَنْوَابَ** لَدَى سَمَرِ 9 طَوَائِعٍ.  
أَغَطْتَ 4 طَوَائِعَ لِهَنْدٍ.  
كَمْ طَائِعًا بَقِيَ لَدَى سَمَرٍ؟


$$9 - 4 = 5$$

ض: حل المسائل : المقارنة بين الحالات :

اكتب جمل الطرح باستعمال المقارنة بين الحالات




$$6 - 5 = 1$$



$$6 - 3 = 3$$



$$4 - 3 = 1$$



$$7 - 6 = 1$$

بغذُ فَبِضَلْ 7 فِلْزَانِ، خَبْتُ عَدَّ 5 فِلْزَانِ أَكْثَرَ مِنْ قُبْسِ.  
كَمْ فَارَا عَدَّ قُبْسِ؟



$$7 - 5 = 2$$

لَدَى زَيْدٍ 3 كِلَابٍ. لَدَى سَيْفٍ 1 مِنَ الْكِلَابِ.  
كَمْ كِلَابًا أَكْثَرَ لَدَى زَيْدٍ؟



$$3 - 1 = 2$$