

شكراً لتحميلك هذا الملف من موقع المناهج القطرية



أوراق عمل نهاية الفصل مدرسة الأندلس

[موقع المناهج](#) ← [المناهج القطرية](#) ← [المستوى الأول](#) ← [علوم](#) ← [الفصل الأول](#) ← [الملف](#)

تاريخ نشر الملف على موقع المناهج: 07:17:18 2023-12-02

التواصل الاجتماعي بحسب المستوى الأول



روابط مواد المستوى الأول على تلغرام

[الرياضيات](#)

[اللغة الانجليزية](#)

[اللغة العربية](#)

[التربية الاسلامية](#)

المزيد من الملفات بحسب المستوى الأول والمادة علوم في الفصل الأول

[تطبيقات امتحانية نهاية الفصل](#)

1

[الإجابة النموذجية لتدريبات الكتاب](#)

2

[تدريبات دعم وإثراء الفرقان نهاية الفصل](#)

3

[اختبار محاب نهاية الفصل مدرسة الأندلس](#)

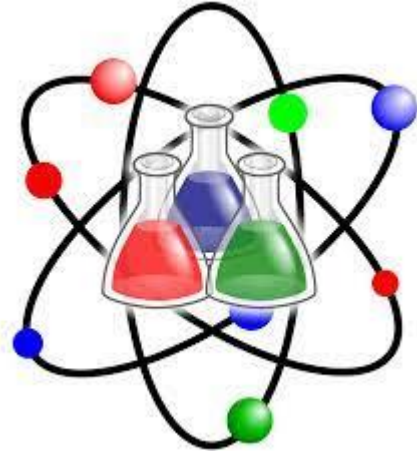
4

[اختبار نهاية الفصل مدرسة الأندلس](#)

5

قسم العلوم

العام الأكاديمي 2023 / 2024



أوراق العمل الإثرائية

نهاية الفصل الدراسي الأول

الصف الأول الابتدائي

اسم الطالب

الصف والشعبة

.....


الأول /

السؤال الأول: اختر الإجابة الصحيحة فيما يلي:




	ماذا يفعل الكائن الحي في الصورة ؟	2
	A ينمو	
	B يتحرك	
	C يتغذى	



	ماذا يفعل الطائر في الصورة؟	1
	A يتغذى	
	B يتنفس	
	C يتحرك	

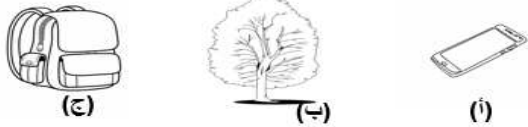
	كيف ينمو النبات ؟	4
	A من البيضة	
	B من البذرة	
	C داخل جسم الأم	

	ماذا يفعل الكائن الحي في الصورة ؟	3
	A يتنفس	
	B يتغذى	
	C يتحرك	

	ما آخر مرحلة من مراحل دورة حياة الطائر؟	6
	A البيضة	
	B طائر صغير	
	C طائر بالغ	

	أي مما يلي يمثل كائن حي؟	5
	A	
	B	
	C	

	كم تبلغ عدد مراحل دورة حياة القط؟		8
	3 مراحل	A	
	4 مراحل	B	
	5 مراحل	C	
	كم مرحلة تتضمن دورة حياة الفراشة؟		7
	3 مراحل	A	
	4 مراحل	B	
	5 مراحل	C	

	ما المرحلة المشتركة بين جميع دورات الحياة للكائنات الحية؟		10
	البيض	A	
	الفرخ	B	
	بالغ	C	
	أي من الأشياء الموجودة بالصورة كائن حي؟		9
	هاتف محمول	A	
	شجرة	B	
	حقيبة مدرسية	C	

	ما أول مرحلة في دورة حياة السمكة؟		12
	السمكة البالغة	A	
	السمكة الصغيرة	B	
	البيض	C	
	ما المرحلة التي تمثلها الصورة على الخط الزمني للإنسان؟		11
	الطفل	A	
	المراهق	B	
	البالغ	C	

السؤال الثاني

ضع علامة (√) أمام العبارة الصحيحة، وعلامة (X) أمام العبارة الخاطئة.

(-----)	1) الكائنات الحية تنمو و تتكاثر وتتغذى .
(-----)	2) تتكاثر الطيور بالولادة.
(-----)	3) بعض الكائنات حي وبعض الكائنات غير حي .
(-----)	4) تتحرك الكائنات الحية بطرق مختلفة

السؤال الثالث

أكمل الجمل التالية باستخدام الكلمات الموجودة في صندوق الكلمات:

النباتات - تتغذى - الولادة - البيضة

1- الكائنات الحية (_____) وتتنفس وتتحرك .
2- اول مرحلة من مراحل حياة الضب هي (_____)
3- الإنسان و الحيوانات و(_____) كائنات حية .
4- يتكاثر القط بـ (_____) .

السؤال الرابع :-

أصل بخط بين الكائن الحي والعبارة المناسبة .

ينمو داخل بيضة

النبات



ينمو من البذرة

القط



ينمو داخل جسم الأم

الطائر



السؤال الخامس : اكتب تحت الصورة الكلمة المناسبة لها من الصندوق .

حي / غير حي



.....



.....

السؤال الأول : اختر الإجابة الصحيحة

1) ما الذي يساعد الحقيبة كي تتحرك؟



A المحرك

B الانسان

C الهواء

2) ما هو الشيء الذي يتحرك من تلقاء نفسه ؟

A الجمل

B العلم

C الحبل

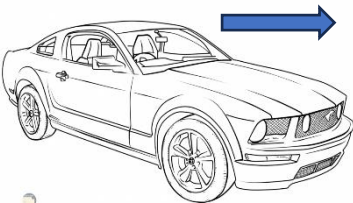
3) ما نوع المسار الموجود في الصورة ؟

A مستقيم

B منحن

C متعرج

4) صف كيف تتحرك السيارة في الصورة ؟



A لا تتحرك

B تتحرك إلى الأمام

C تتحرك إلى الخلف

5) ما الوصف لما يقوم به الطفل في الصورة ؟

A ينزلق

B يتدحرج

C يتحرك إلى الخلف

6) الذي يساعد الطائرة الورقية على الحركة هو ؟

A المحرك

B الماء

C الهواء

السؤال الثاني

أكمل الجمل التالية باستخدام الكلمات الموجودة في صندوق الكلمات:

تتدرج - الوقود - الحركة - العجلات

1. (-----) الكرة نحو الشخص الآخر .

2- تسهل (-----) تحريك الأشياء الكبيرة والثقيلة .

3- (-----) هي الانتقال من مكان الى آخر.

4- يحتاج محرك السيارة إلى (-----) كي يعمل .

السؤال الثالث

ضع علامة (✓) أمام العبارة الصحيحة، وعلامة (X) أمام العبارة الخاطئة.

(-----)	1) هناك طرق متعددة لأساعد الأشياء كي تتحرك
(-----)	2) القطار لا يحتاج الى محرك كي يتحرك .
(-----)	3) من المسارات التي تتحرك فيها الأشياء المسار المنحن.
(-----)	4) يساعد المحرك المركبات كي تتحرك .

السؤال الرابع : (أ) صل بين صورة الأشياء وبين ما يجعلها تتحرك ■

الإنسان



الرياح



المحرك



(ب) أصل الصّورة بنوع المسار المناسب:

■ مُنْحَنٍ

■



■ مُتَعَرِّجٍ

■





■ مُسْتَقِيمٍ

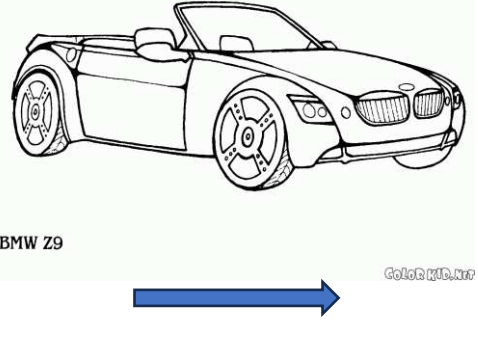

■



السؤال الخامس : أ) صنف الصور التالية بكتابة رقم الصورة تحت الجملة المناسبة :-

 <div style="border: 1px solid black; width: 40px; height: 40px; display: flex; align-items: center; justify-content: center; margin: 10px auto;">2</div>	 <div style="border: 1px solid black; width: 40px; height: 40px; display: flex; align-items: center; justify-content: center; margin: 10px auto;">1</div>	<div style="background-color: #cccccc; padding: 5px; text-align: center;">يتحرك من تلقاء نفسه</div> <hr style="border-top: 1px dashed black;"/>	<div style="background-color: #cccccc; padding: 5px; text-align: center;">يحتاج إلى مساعدة كي يتحرك</div> <hr style="border-top: 1px dashed black;"/>
---	---	---	---

ب) اكتب ما اذا كان الشيء يتحرك **إلى الأمام** أم **إلى الخلف** أسفل الصورة المناسبة :-

 <div style="border: 1px solid black; width: 100%; height: 100%; display: flex; align-items: center; justify-content: center;"> <hr style="border-top: 1px dashed black;"/> </div>	 <div style="border: 1px solid black; width: 100%; height: 100%; display: flex; align-items: center; justify-content: center;"> <hr style="border-top: 1px dashed black;"/> </div>
--	--

السؤال الأول : اختر الإجابة الصحيحة

(1) ما المادة التي يصنع منها الكتاب؟



A البلاستيك

B الورق

C المعدن

(2) ما المادة التي يصنع منها الثوب ؟



A الزجاج

B الخشب

C القماش

(3) ما المواد التي صنع منها الكرسي في الصورة ؟



A البلاستيك والمعدن

B الطين والخشب

C الزجاج والمطاط

(4) صف المادة التي تصنع منها المطرقة ؟



A طرية

B لينة

C قاسية

(5) ما ملمس الدمية في الصورة ؟



A طرية

B قاسية

C خشنة

(6) ما الشيء الذي يسهل ضغطه أو عصره ؟

A الجرة

B الاسفنجة

C الطاولة

السؤال الثاني

أكمل الجمل التالية باستخدام الكلمات الموجودة في صندوق الكلمات:

المطاط - مختلفة - ناعم - القاسية

1. يمكن صنع الملاعق من مواد (-----).

2- للريشة ملمس (-----).

3- المادة (-----) يصعب ضغطها أو عصرها.

4- يصنع البالون من (-----).

السؤال الثالث

ضع علامة (✓) أمام العبارة الصحيحة، وعلامة (X) أمام العبارة الخاطئة.

(-----)	1) تستخدم المواد الطرية لحماية الأشياء
(-----)	2) تصنع نوافذ البيت من الورق .
(-----)	3) يمكن صنع الأشياء من أكثر من مادة واحدة.
(-----)	4) نستخدم القماش في صناعة الملابس لانه طري ومريح .

السؤال الرابع : صل بين صورة الشيء وبين المادة المصنوع منها ■



قُمَاشٌ



طِينٌ



خَشَبٌ



مَعْدَنٌ





مَطَّاطٌ





بِلاَسْتِيك

السؤال الخامس : أ) حدد المادة التي صنع منها الشيء بكتابة الرقم تحت الكلمة المناسبة :-

		زجاج	خشب
2	1	-----	-----

ب) اكتب على النقاط ملمس الشيء أسفل الصورة المناسبة :-

ناعم , خشن

	
-----	-----