

تم تحميل هذا الملف من موقع المناهج القطرية



أوراق عمل نهاية الفصل مدرسة الخور مع الإجابة النموذجية

[موقع المناهج](#) ⇨ [المناهج القطرية](#) ⇨ [المستوى الأول](#) ⇨ [علوم الحاسب](#) ⇨ [الفصل الثاني](#) ⇨ [الملف](#)

تاريخ إضافة الملف على موقع المناهج: 2024-05-31 13:55:48

إعداد: مدرسة الخور

التواصل الاجتماعي بحسب المستوى الأول



اضغط هنا للحصول على جميع روابط "المستوى الأول"

روابط مواد المستوى الأول على تلغرام

[الرياضيات](#)

[اللغة الانجليزية](#)

[اللغة العربية](#)

[التربية الاسلامية](#)

المزيد من الملفات بحسب المستوى الأول والمادة علوم الحاسب في الفصل الثاني

[أوراق عمل نهاية الفصل غير محابة مدرسة الخور](#)

1

[تدريبات دعم واثراء نهاية الفصل مجمع الفرقان غير محابة](#)

2

[أوراق عمل اثرائية منتصف الفصل مدرسة الأندلس مع الإجابة النموذجية](#)

3

[أوراق عمل اثرائية منتصف الفصل مدرسة الأندلس غير محابة](#)

4

المزيد من الملفات بحسب المستوى الأول والمادة علوم الحاسب في الفصل الثاني

[تدريبات دعم وإثراء الفرقان منتصف الفصل](#)

5

العام الأكاديمي 2024/2023

رؤيتنا: " الريادة في توفير فرص تعلم دائمة ومبتكرة وذات جودة عالية للمجتمع القطري "

الصف: الأول

ورقة عمل 1

الأسبوع الحادي والعشرون

الوحدة الأولى والثانية والثالثة: هيا نكتب + أنا أتصفح الإنترنت + هيا بنا نفكر



اسم الطالبة:



السؤال الأول: اختاري الإجابة الصحيحة

1- برنامج يستخدم في كتابة الحروف والأرقام والرموز.



A. برنامج الرسام Paint



B. برنامج الدفتر WordPad



C. برنامج جدول البيانات Excel

2- لكتابة الأرقام والحروف نحتاج إلى جهاز

A. الشاشة

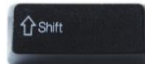
B. وحدة النظام

C. لوحة المفاتيح

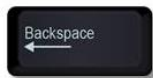
3- لإنشاء سطر جديد نستخدم



A. مفتاح الإدخال Enter



B. المفتاح العالي Shift



C. مفتاح التراجع Backspace

رؤيتنا: " الريادة في توفير فرص تعلم دائمة ومبتكرة وذات جودة عالية للمجتمع القطري "

4- لحذف الحرف السابق لمؤشر الكتابة نستخدم

A. مفتاح المسافة Space

B. مفتاح الحذف Delete

C. مفتاح التراجع Backspace

5- لحذف الحرف التالي لمؤشر الكتابة نستخدم

A. المفتاح العالي Shift

B. مفتاح المسافة Space

C. مفتاح الحذف Delete

6- لترك المسافة بين الكلمات نستخدم

A. مفتاح الإدخال Enter

B. مفتاح المسافة Space

C. المفتاح العالي Shift

7- لكتابة الحروف الإنجليزية الكبيرة والرموز مثل الفاصلة والنقطة والهمزة.

A. مفتاح المسافة Space

B. مفتاح الإدخال Enter

C. المفتاح العالي Shift

رؤيتنا: " الريادة في توفير فرص تعلم دائمة ومبتكرة وذات جودة عالية للمجتمع القطري "

8- هو اتصال جهازك الحاسوب بأجهزة حواسيب أخرى حول العالم بشكل يشبه الشبكة

A. الإنترنت

B. لوحة المفاتيح

C. برنامج الرسام Paint

9- يتم توصيل أجهزة الحواسيب في جميع أنحاء العالم من خلال

A. وحدة النظام

B. برنامج الدفتر WordPad

C. الهوائيات والأقمار الصناعية

10- من طرق الاتصال بالإنترنت

A. الفأرة

B. الاتصال السلكي والاتصال اللاسلكي

C. برنامج الرسام Paint

11- من استخدامات الإنترنت

A. السماعات

B. التواصل مع الآخرين

C. الشاشة

رؤيتنا: " الريادة في توفير فرص تعلم دائمة ومبتكرة وذات جودة عالية للمجتمع القطري "

12- من قواعد أمان الإنترنت

A. لا تشارك معلوماتك الشخصية

B. الفأرة

C. الحاسوب المحمول

13- الصورة التي تدل على الاتصال السلكي هي



14- الصورة التي تدل على الاتصال اللاسلكي هي



رؤيتنا: " الريادة في توفير فرص تعلم دائمة ومبتكرة وذات جودة عالية للمجتمع القطري "

15- هو وضع الأحداث بالترتيب الصحيح لتنفيذ مهمة معينة.

A. الانترنت

B. التسلسل

C. الطابعة

16- هو مجموعة من الأشكال والرسومات يتم ترتيبها وتكرارها بشكل معين.

A. التسلسل

B. الاتصال اللاسلكي

C. النمط

17- نوع النمط التالي هو



A. نمط اللون

B. نمط الشكل

C. نمط اللون والشكل

18- نوع النمط التالي هو



A. نمط اللون

B. نمط الشكل

C. نمط اللون والشكل

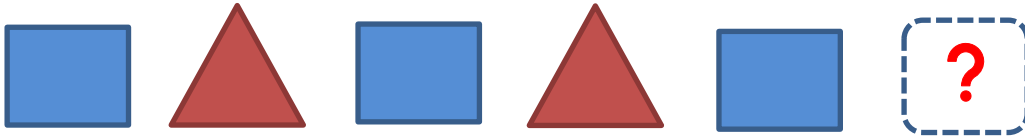
رؤيتنا: " الريادة في توفير فرص تعلم دائمة ومبتكرة وذات جودة عالية للمجتمع القطري "

19- نوع النمط التالي هو




- A. نمط اللون
B. نمط الشكل
C. نمط اللون والشكل

20- الشكل المفقود في الشكل التالي:



- A. .A
B. .B
C. .C

21- الشكل المفقود في الشكل التالي:



- A. .A
B. .B
C. .C



العام الأكاديمي 2024/2023

رؤيتنا: " الريادة في توفير فرص تعلم دائمة ومبتكرة وذات جودة عالية للمجتمع القطري "

22- التسلسل الصحيح لكلمة قلم هو

A. ق، ل، م

B. م، ق، ل

C. ل، ق، م

23- التسلسل الصحيح للأرقام من 1 إلى 6 هو

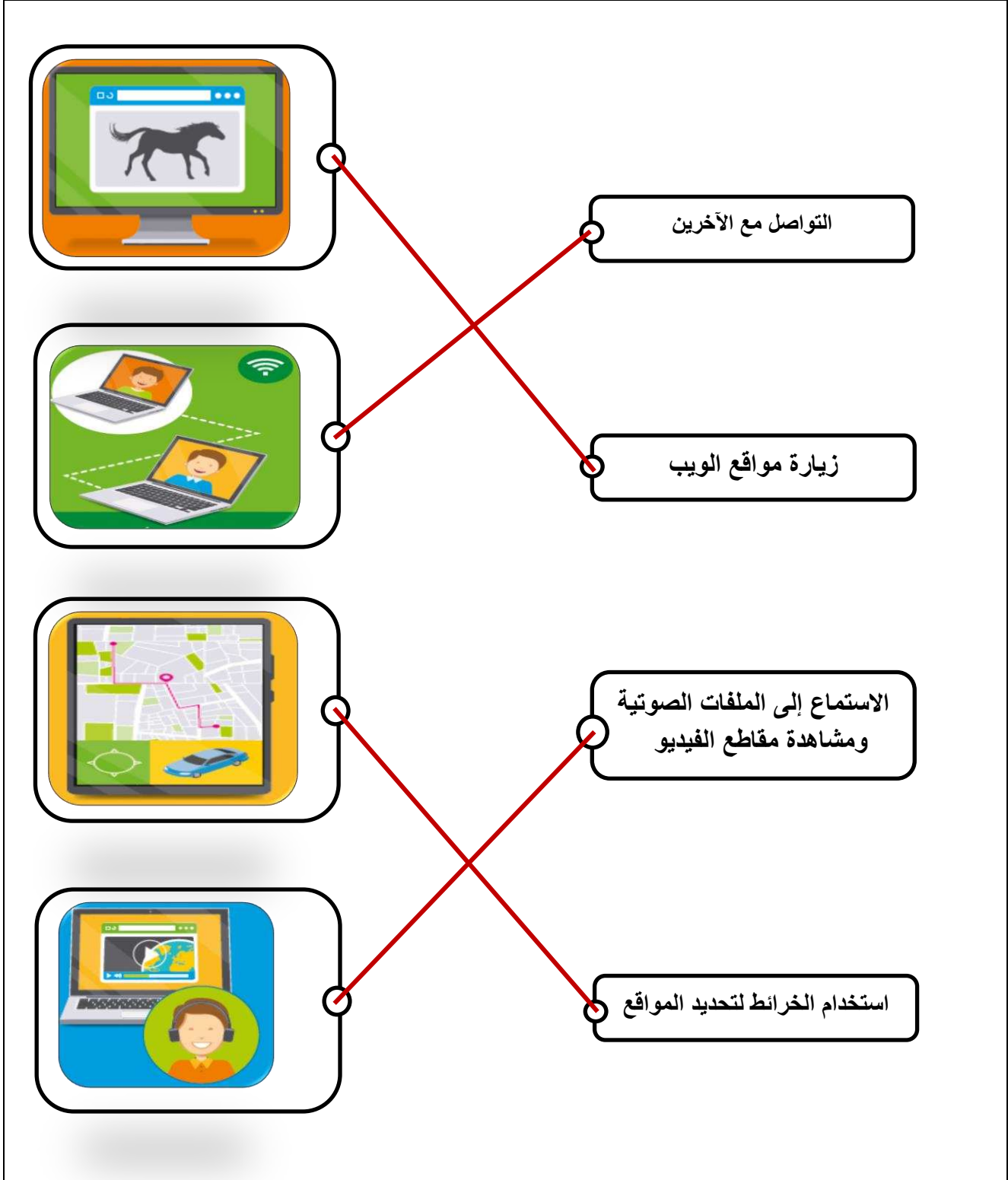
A. 4،5،6،7،8،9

B. 2،1،5،4،3،6

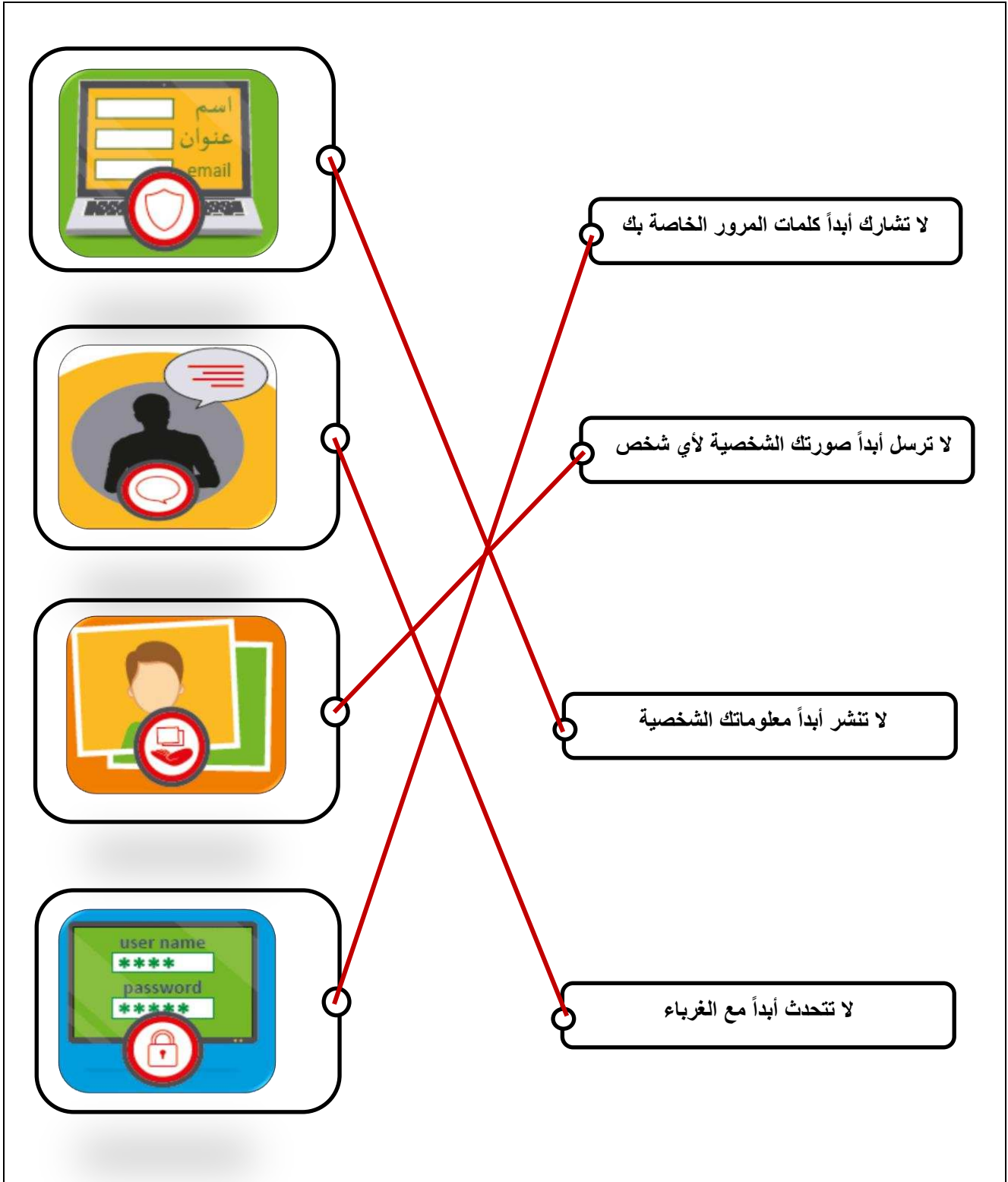
C. 1،2،3،4،5،6

رؤيتنا: " الريادة في توفير فرص تعلم دائمة ومبتكرة وذات جودة عالية للمجتمع القطري "

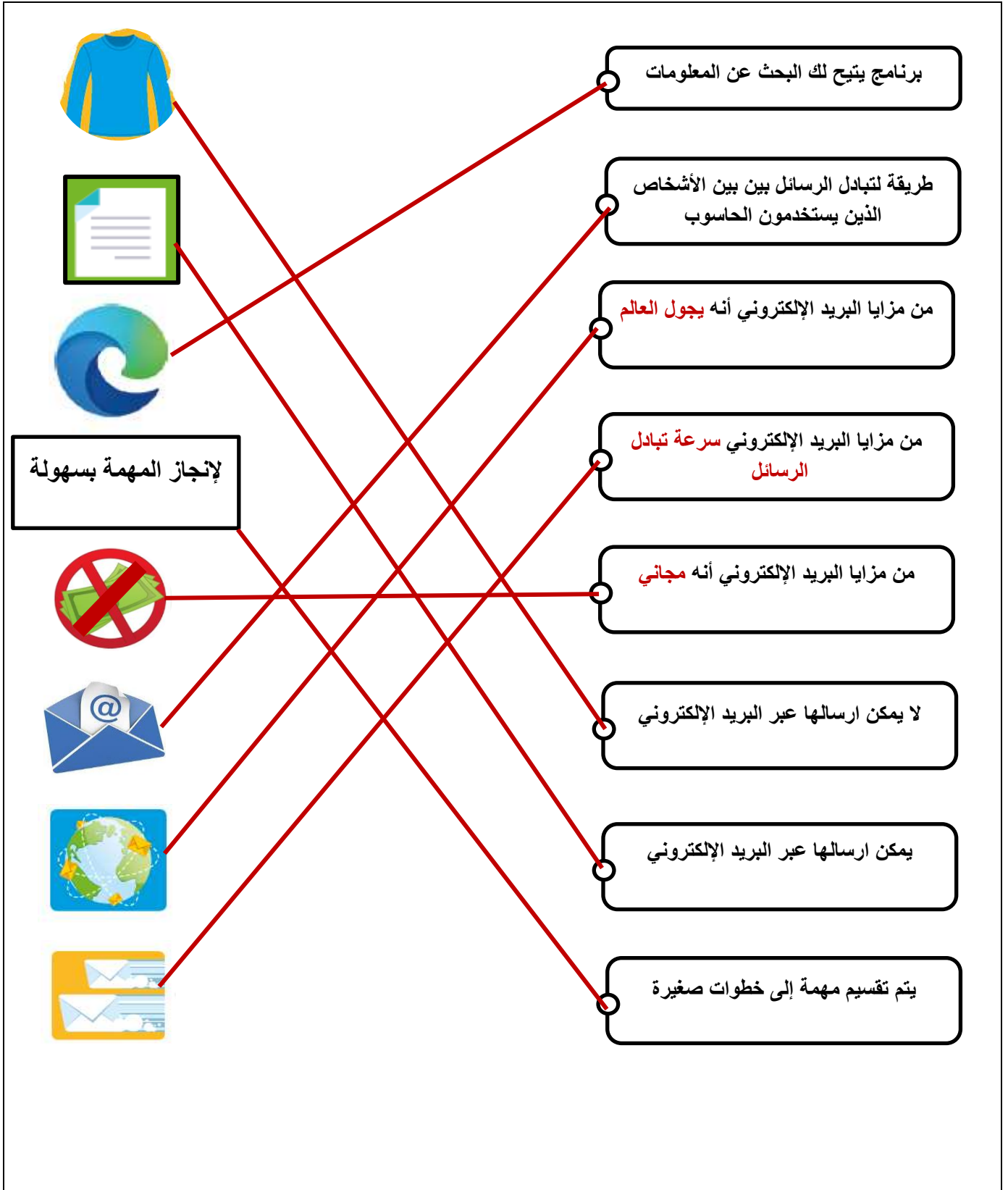
السؤال الثاني: صلي العمود (أ) بما يناسبه من العمود (ب).



رؤيتنا: " الريادة في توفير فرص تعلم دائمة ومبتكرة وذات جودة عالية للمجتمع القطري "



رؤيتنا: " الريادة في توفير فرص تعلم دائمة ومبتكرة وذات جودة عالية للمجتمع القطري "



رؤيتنا: الريادة في توفير فرص تعلم دائمة ومبتكرة وذات جودة عالية للمجتمع القطري"





السؤال الثالث: صنفي أنواع الملفات الرقمية التالية وذلك بكتابة الرقم المناسب أسفل المكان المناسب.

1- نص

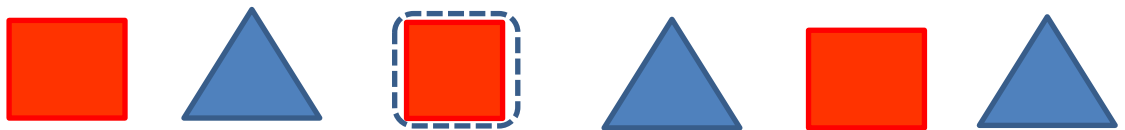
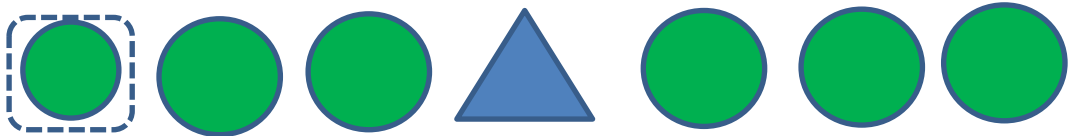

2- صورة

3- فيديو

4- صوت

			
2	1	4	3

السؤال الرابع: أوجد الشكل المفقود وذلك برسمه:



رؤيتنا: " الريادة في توفير فرص تعلم دائمة ومبتكرة وذات جودة عالية للمجتمع القطري "

السؤال الرابع: رتبي خطوات شرب اللبن وذلك بكتابة الأرقام من 1-3 في المكان المناسب



السؤال الخامس: اكتشفي الخطأ وذلك بوضع علامة ✓ أسفل الرقم الذي يوجد به الخطأ

1	2	3	4	5
				✓

1	2	3	4	5
✓				