

تم تحميل هذا الملف من موقع المناهج القطرية



* للحصول على أوراق عمل لجميع الصفوف وجميع المواد اضغط هنا

<https://almanahj.com/qa>

* للحصول على أوراق عمل لجميع مواد المستوى الأول اضغط هنا

<https://almanahj.com/qa/1>

* للحصول على جميع أوراق المستوى الأول في مادة علوم ولجميع الفصول, اضغط هنا

<https://almanahj.com/qa/1science>

* للحصول على أوراق عمل لجميع مواد المستوى الأول في مادة علوم الخاصة بـ الفصل الثاني اضغط هنا

<https://almanahj.com/qa/1science2>




* لتحميل كتب جميع المواد في جميع الفصول لد المستوى الأول اضغط هنا

<https://almanahj.com/qa/grade1>

للتحدث إلى بوت المناهج القطرية على تلغرام: اضغط هنا


https://t.me/qacourse_bot

تعليمات
اخترا الإجابة الصحيحة لكل من الأسئلة من 1 إلى 5، وذلك بوضع علامة x داخل
المربع المجاور للإجابة الصحيحة:

السؤال رقم (1)	1 /.....
أي من الأطعمة التالية غير طازجة؟	
A	
B	
C	

السؤال رقم (2)	1 /.....
أي مما يلي يبقي الطعام طازجًا مدة أطول في الثلاجة؟	
A	التعليب
B	التجفيف
C	التغليف

السؤال رقم (3)	1 /.....
ماذا يحدث عند تناول طعامًا فاسدًا؟	
A	يُساعد على النمو.
B	يُسبب تسمم غذائي.
C	الإحساس بالطاقة والنشاط.

السؤال رقم (4)	1 /.....
 <p>ما الصفة المناسبة للمادة المبينة بالصورة المجاورة؟</p>	
A	لامعة
B	باهتة
C	شفافة



لماذا لا أستطيع أن أرى من خلال الباب الخشبي؟

لأنه مصنوع من مادة شفافة.

A






لأنه مصنوع من مادة معتمة.

B

لأنه مصنوع من مادة طرية.

C

صل ما في العمود (أ) بما يناسبه في العمود (ب).

(ب)	(أ)
	التعليب
	التبريد
	التخليل
	التجفيف
	

ضع علامة (✓) أمام العبارة الصحيحة، وعلامة (x) أمام العبارة الخطأ.

- تحتوي الأطعمة المجففة على كمية كبيرة من السائل. ()

موقع المناهج القطرية

- يستخدم المعدن في بناء المباني والجسور. ()

almanahj.com/qa

- يمكننا استخدام حاسة البصر لتحديد المادة التي صنع منها الشيء. ()

أكمل الفراغات التالية مستعيناً بالكلمات في الجدول التالي:

طرية	الشفافة	الطازجة	المعتمة
------	---------	---------	---------

- تعتبر الأطعمة أطعمة محافظة على لونها ولمسها ورانحتها.

- يمكن أن نرى من خلال المواد

- يستخدم الورق في صنع الكتب لأنه مادة

أنظر إلى الصورة ثم أجب عن السؤال التالي :

ماذا ينمو على الفاكهة الطازجة إذا تركت مدة من الزمن؟



الإجابة:

تم تحميل هذا الملف من

موقع المناهج القطرية

alManahj.com/qa

صنف الصور التالية بحسب خاصيتها .



بطة



حجر

يغوص

يطفو

انتهت الأسئلة

نتمنى لكم التوفيق